

Multi Tasking Non Technical Staff and Havaladar CBIC and CBN Examination 2024

Roll Number	
Candidate Name	
Venue Name	iON Digital Zone iDZ 2 Sector 62
Exam Date	09/10/2024
Exam Time	4:00 PM - 5:30 PM
Subject	MTS Non Tech Havaladar CBIC and CBN Examination 2024

Section : Numerical and Mathematical Ability

Q.1 2 वर्षों के लिए 8% वार्षिक की ब्याज दर पर उधार ली गई राशि ₹2000 पर साधारण ब्याज (₹ में) ज्ञात कीजिए।

- Ans
- 1. 280
 - 2. 360
 - 3. 320
 - 4. 260

Question Type : MCQ

Question ID : 630680591878

Option 1 ID : 6306802315982

Option 2 ID : 6306802315980

Option 3 ID : 6306802315979

Option 4 ID : 6306802315981

Status : Answered

Chosen Option : 3

Q.2 एक विशिष्ट धनराशि साधारण ब्याज दर पर उधार दी जाती है, जो 2 वर्षों में ₹15,000 और 4 वर्षों में ₹20,000 हो जाती है। वार्षिक दर प्रतिशत ज्ञात कीजिए।

- Ans
- 1. 18%
 - 2. 25%
 - 3. 15%
 - 4. 20%

Question Type : MCQ

Question ID : 630680815903

Option 1 ID : 6306803196947

Option 2 ID : 6306803196945

Option 3 ID : 6306803196948

Option 4 ID : 6306803196946

Status : Answered

Chosen Option : 2



Download SSC CGL, CHSL E-BOOKS

[CLICK HERE](#)

Q.3 एक कच्चे माल का मूल्य दो वर्षों में बराबर प्रतिशत में बढ़ा। इसका मूल्य ₹120 से बढ़कर ₹145.20 हो गया। बराबर वार्षिक प्रतिशत वृद्धि कितनी हुई है?

- Ans
- 1. 11.5%
 - 2. 10.5%
 - 3. 11%
 - 4. 10%

Question Type : MCQ
Question ID : 630680464478
Option 1 ID : 6306801813950
Option 2 ID : 6306801813948
Option 3 ID : 6306801813949
Option 4 ID : 6306801813947
Status : Answered
Chosen Option : 2

Q.4 एक व्यापारी एक ग्राहक को कोई सामान 1000 g के बजाय 800 g देता है। व्यापारी का प्रतिशत लाभ ज्ञात करें।

- Ans
- 1. 10%
 - 2. 15%
 - 3. 20%
 - 4. 25%

Question Type : MCQ
Question ID : 630680119645
Option 1 ID : 630680463667
Option 2 ID : 630680463668
Option 3 ID : 630680463669
Option 4 ID : 630680463666
Status : Answered
Chosen Option : 3

Q.5 स्थिर जल में एक नाव की चाल 8 km/h है, जबकि नाव को धारा के अनुकूल 20 km की दूरी तय करने में 2 घंटे लगते हैं। धारा की चाल (km/h में) क्या है?

- Ans
- 1. 1.75
 - 2. 2
 - 3. 1.5
 - 4. 2.5

Question Type : MCQ
Question ID : 630680304458
Option 1 ID : 6306801184386
Option 2 ID : 6306801184388
Option 3 ID : 6306801184385
Option 4 ID : 6306801184387
Status : Answered
Chosen Option : 2



Download SSC CGL, CHSL E-BOOKS

[CLICK HERE](#)

Q.6 21 cm त्रिज्या वाले एक अर्धगोलाकार घड़े में कितनी मात्रा में (लीटर में) द्रव भरा जा सकता है? ($\pi = \frac{22}{7}$ लीजिए)

- Ans 1. 19.404
 2. 22.500
 3. 20.500
 4. 21.404

Question Type : MCQ

Question ID : 630680383470

Option 1 ID : 6306801494775

Option 2 ID : 6306801494778

Option 3 ID : 6306801494776

Option 4 ID : 6306801494777

Status : Answered

Chosen Option : 4

Q.7 एक दर्जन संतरे की कीमत ₹96 है, 2 दर्जन सेब की कीमत ₹240 है और 4 अनन्नास की कीमत ₹180 है। प्रति नग (piece) औसत कीमत (₹ में) कितनी है?

- Ans 1. 19.2
 2. 12.9
 3. 12.6
 4. 16.2

Question Type : MCQ

Question ID : 630680815879

Option 1 ID : 6306803196852

Option 2 ID : 6306803196851

Option 3 ID : 6306803196849

Option 4 ID : 6306803196850

Status : Answered

Chosen Option : 1

Q.8 फिनाइल और पानी का 28 लीटर घोल है, जिसमें फिनाइल और पानी का अनुपात 4 : 3 है। 21 लीटर फिनाइल-पानी के घोल, जिसमें फिनाइल और पानी का अनुपात 2 : 1 है, को 28 लीटर फिनाइल-पानी के घोल में मिलाया जाता है। इसमें फिर से 51 लीटर फिनाइल-पानी का घोल मिलाया जाता है जिसमें फिनाइल और पानी का अनुपात 9 : 8 है। अंतिम मिश्रण में पानी और फिनाइल का अनुपात ज्ञात करें।

- Ans 1. 59 : 41
 2. 41 : 59
 3. 43 : 57
 4. 57 : 43

Question Type : MCQ

Question ID : 630680454420

Option 1 ID : 6306801774582

Option 2 ID : 6306801774581

Option 3 ID : 6306801774584

Option 4 ID : 6306801774583

Status : Answered

Chosen Option : 3



Download SSC CGL, CHSL E-BOOKS

[CLICK HERE](#)

Q.9 6 वर्षों के लिए 9% वार्षिक की ब्याज दर पर उधार ली गई राशि ₹3000 पर साधारण ब्याज (₹ में) ज्ञात कीजिए।

Ans 1. 1620

2. 1560

3. 1580

4. 1660

Question Type : MCQ

Question ID : 630680591957

Option 1 ID : 6306802316295

Option 2 ID : 6306802316297

Option 3 ID : 6306802316298

Option 4 ID : 6306802316296

Status : Answered

Chosen Option : 1

Q.10 निम्नलिखित अनुपातों को अवरोही क्रम में व्यवस्थित कीजिए।

3 : 2, 4 : 3, 5 : 6, 1 : 5

Ans 1. 6 : 5 > 4 : 3 > 3 : 2 > 1 : 5

2. 1 : 5 > 5 : 6 > 4 : 3 > 3 : 2

3. 3 : 2 > 4 : 3 > 5 : 6 > 1 : 5

4. 5 : 6 > 4 : 3 > 3 : 2 > 1 : 5

Question Type : MCQ

Question ID : 630680815866

Option 1 ID : 6306803196800

Option 2 ID : 6306803196798

Option 3 ID : 6306803196797

Option 4 ID : 6306803196799

Status : Answered

Chosen Option : 2



Download SSC CGL, CHSL E-BOOKS

[CLICK HERE](#)

Q.11 निम्नांकित तालिका का अध्ययन कीजिए और उसके नीचे दिए गए प्रश्न का उत्तर दीजिए।

केंद्र एवं पद-वार अभ्यर्थियों की संख्या

केंद्र	क्लर्क	अधिकारी	क्षेत्र अधिकारी	पर्यवेक्षक	क्षेत्र पर्यवेक्षक
दिल्ली	50	20	50	20	70
मुंबई	170	15	25	30	60
कोलकाता	195	17	70	50	80
चेन्नई	200	13	30	60	90
लखनऊ	153	14	40	20	40
पटना	110	11	20	40	30

किस केंद्र में अभ्यर्थियों की संख्या सबसे कम है?

- Ans
- 1. पटना
 - 2. दिल्ली
 - 3. मुंबई
 - 4. लखनऊ

Question Type : MCQ
Question ID : 630680523830
Option 1 ID : 6306802047472
Option 2 ID : 6306802047473
Option 3 ID : 6306802047471
Option 4 ID : 6306802047474
Status : Answered
Chosen Option : 2

Q.12 एक कमरे के आयाम $1650 \text{ cm} \times 1350 \text{ cm} \times 900 \text{ cm}$ है। ऐसे सबसे लंबे टेप का साइज़ क्या होना चाहिए जिससे तीनों आयामों (dimensions) को ठीक तरह से मापा जा सके?

- Ans
- 1. 150 cm
 - 2. 250 cm
 - 3. 200 cm
 - 4. 300 cm

Question Type : MCQ
Question ID : 63068070484
Option 1 ID : 630680272563
Option 2 ID : 630680272562
Option 3 ID : 630680272564
Option 4 ID : 630680272565
Status : Answered
Chosen Option : 1



Download SSC CGL, CHSL E-BOOKS

[CLICK HERE](#)

Q.13 40 kg, 49 kg, 56 kg, 65 kg और 37 kg वज़न वाले पांच सदस्यों के एक परिवार का औसत वजन (kg में) कितना होगा?

- Ans 1. 48.4
 2. 49.4
 3. 51.4
 4. 50.4

Question Type : MCQ
Question ID : 630680551631
Option 1 ID : 6306802156751
Option 2 ID : 6306802156749
Option 3 ID : 6306802156752
Option 4 ID : 6306802156750
Status : Answered
Chosen Option : 3

Q.14 एक दुकानदार ने ₹5 प्रति अंडे की दर से 10 दर्जन अंडे खरीदे। 12 अंडे रास्ते में फूट गए। उसने बाकी बचे अंडे ₹6 प्रति अंडे की दर से बेच दिए। उसका लाभ प्रतिशत ज्ञात कीजिए।

- Ans 1. 8%
 2. 20%
 3. 10%
 4. 15%

Question Type : MCQ
Question ID : 630680233017
Option 1 ID : 630680904189
Option 2 ID : 630680904191
Option 3 ID : 630680904190
Option 4 ID : 630680904192
Status : Answered
Chosen Option : 1

Q.15 8 पारियों में एक क्रिकेटर का औसत 68 रन है। नौवीं पारी में उसने 220 रन बनाए। उसका औसत स्कोर कितना बढ़ा? (निकटतम पूर्ण संख्या में पूर्णांकित करें।)

- Ans 1. 17
 2. 23
 3. 85
 4. 61

Question Type : MCQ
Question ID : 630680460711
Option 1 ID : 6306801799128
Option 2 ID : 6306801799129
Option 3 ID : 6306801799126
Option 4 ID : 6306801799127
Status : Answered
Chosen Option : 1



Download SSC CGL, CHSL E-BOOKS

[CLICK HERE](#)

Q.16 एक शंकाकार तम्बू में 12 व्यक्ति बैठ सकते हैं। प्रत्येक व्यक्ति के पास जमीन पर 5 m^2 का स्थान और सांस लेने के लिए 20 m^3 हवा होनी चाहिए। तम्बू की ऊंचाई कितनी होनी चाहिए?

- Ans 1. 12 m
 2. 13 m
 3. 22 m
 4. 12.5 m

Question Type : MCQ

Question ID : 630680107301

Option 1 ID : 630680416589

Option 2 ID : 630680416588

Option 3 ID : 630680416590

Option 4 ID : 630680416591

Status : Answered

Chosen Option : 1

Q.17 एक रेलगाड़ी उत्तर से दक्षिण दिशा की ओर जा रही है। यह रेलगाड़ी, समान दिशा में क्रमशः 2 km/h और 4 km/h की चाल से चल रहे राज और मधुर से 9 सेकंड और 10 सेकंड में आगे निकल जाती है। यदि रेलगाड़ी की लंबाई x मीटर है, तो x का मान ज्ञात कीजिए।

- Ans 1. 90
 2. 30
 3. 70
 4. 50

Question Type : MCQ

Question ID : 630680239307

Option 1 ID : 630680928236

Option 2 ID : 630680928239

Option 3 ID : 630680928237

Option 4 ID : 630680928238

Status : Not Answered

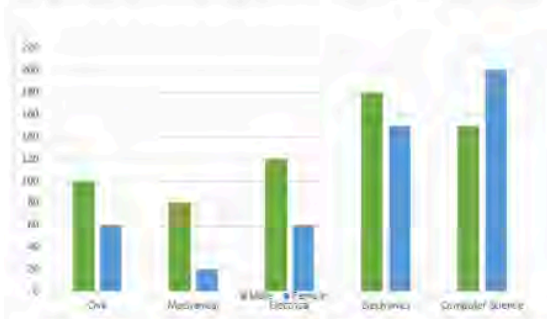
Chosen Option : --



Download SSC CGL, CHSL E-BOOKS

[CLICK HERE](#)

Q.18 दंड आलेख एक इंजीनियरिंग कॉलेज की विभिन्न ब्रांच के विद्यार्थियों की संख्या दर्शाता है। दिए गए दंड-आलेख का अध्ययन कीजिए और निम्नलिखित प्रश्न का उत्तर दीजिए।



Civil = सिविल, Mechanical = मैकेनिकल, Electrical = इलेक्ट्रिकल
Electronics = इलेक्ट्रॉनिक्स, Computer Science = कंप्यूटर साइंस
Male = पुरुष, Female = महिला
किस ब्रांच में पुरुषों और महिलाओं का अनुपात न्यूनतम है?

- Ans
- 1. सिविल
 - 2. इलेक्ट्रिकल
 - 3. कंप्यूटर साइंस
 - 4. मैकेनिकल

Question Type : MCQ

Question ID : 630680523942

Option 1 ID : 6306802047920

Option 2 ID : 6306802047922

Option 3 ID : 6306802047921

Option 4 ID : 6306802047919

Status : Answered

Chosen Option : 4

Q.19 28 cm लंबाई और 16 cm चौड़ाई की एक आयताकार शीट के किनारों को मिलाने के लिए इस प्रकार मोड़ा जाता है कि यह दो संभावित तरीकों - एक लंबाई के अनुदिश और दूसरा चौड़ाई के अनुदिश - से एक बेलनाकार पाइप बन जाए। बड़ा आयतन, छोटे आयतन का कितने प्रतिशत है?

- Ans
- 1. 175%
 - 2. 180%
 - 3. 165%
 - 4. 185%

Question Type : MCQ

Question ID : 630680395248

Option 1 ID : 6306801541201

Option 2 ID : 6306801541202

Option 3 ID : 6306801541200

Option 4 ID : 6306801541203

Status : Answered

Chosen Option : 4



Download SSC CGL, CHSL E-BOOKS

[CLICK HERE](#)

Q.20 दो व्यापारियों में से प्रत्येक एक वस्तु को ₹1,000 में बेचता है। यदि व्यापारी A अपने लाभ की गणना क्रय मूल्य पर करता है, जबकि व्यापारी B अपने लाभ की गणना विक्रय मूल्य पर करता है, तो वे दोनों ही 25% का लाभ अर्जित करते हैं। व्यापारी B द्वारा अर्जित किया गया लाभ, व्यापारी A द्वारा अर्जित किए गए लाभ से कितना अधिक है?

- Ans
- 1. ₹40
 - 2. ₹35
 - 3. ₹50
 - 4. ₹45

Question Type : MCQ

Question ID : 630680426322

Option 1 ID : 6306801663388

Option 2 ID : 6306801663389

Option 3 ID : 6306801663386

Option 4 ID : 6306801663387

Status : Answered

Chosen Option : 3

Section : Reasoning Ability and Problem Solving

Q.1 A, B, C, D, E, F और G एक वृत्ताकार मेज के चारों ओर केंद्र की ओर मुख करके बैठे हैं (परंतु जरूरी नहीं कि वे इसी क्रम में बैठे हों)। F के दाएँ से गिनने पर, F और C के बीच में केवल दो व्यक्ति बैठे हैं। G के दाएँ से गिनने पर, B और G के बीच में केवल तीन व्यक्ति बैठे हैं। C, G के ठीक दाएँ बैठा है। D, A के ठीक दाएँ बैठा है। E के दाएँ से चौथे स्थान पर कौन बैठा है?

- Ans
- 1. D
 - 2. G
 - 3. F
 - 4. A

Question Type : MCQ

Question ID : 630680815682

Option 1 ID : 6306803196029

Option 2 ID : 6306803196032

Option 3 ID : 6306803196031

Option 4 ID : 6306803196030

Status : Answered

Chosen Option : 3



Download SSC CGL, CHSL E-BOOKS

[CLICK HERE](#)

Q.2 अंग्रेजी वर्णमाला क्रम के आधार पर दी गई श्रृंखला में प्रश्न चिह्न (?) के स्थान पर क्या आना चाहिए?

CVF, GTJ, KRN, ?, SNV

- Ans 1. OPS
 2. PRO
 3. OPR
 4. ROQ

Question Type : MCQ

Question ID : 630680815697

Option 1 ID : 6306803196090

Option 2 ID : 6306803196091

Option 3 ID : 6306803196089

Option 4 ID : 6306803196092

Status : Answered

Chosen Option : 3

Q.3 निम्नलिखित समीकरण में यदि '+' और '-' को आपस में बदल दिया जाए तथा 'x' और '÷' को आपस में बदल दिया जाए, तो समीकरण में प्रश्न चिह्न (?) के स्थान पर क्या आएगा?

$$12 \div 2 \times 6 - 11 + 12 = ?$$

- Ans 1. 6
 2. 9
 3. 3
 4. 5

Question Type : MCQ

Question ID : 630680378865

Option 1 ID : 6306801476509

Option 2 ID : 6306801476510

Option 3 ID : 6306801476507

Option 4 ID : 6306801476508

Status : Answered

Chosen Option : 3



Download SSC CGL, CHSL E-BOOKS

[CLICK HERE](#)

Q.4 दिए गए कथन और निष्कर्षों को ध्यान से पढ़िए। यह मानते हुए कि कथन में दी गई जानकारी सत्य है, चाहे वह सामान्य रूप से ज्ञात तथ्यों से भिन्न प्रतीत होती हो, निर्धारित कीजिए कि दिए गए निष्कर्षों में से कौन-सा, कथन (कथनों) का तार्किक रूप से अनुसरण करता है/करते हैं।

कथन:

सभी शार्क, व्हेल हैं।

कोई व्हेल, डॉल्फ़िन नहीं है।

निष्कर्ष:

(I) कोई शार्क, डॉल्फ़िन नहीं है।

(II) कोई डॉल्फ़िन, व्हेल नहीं है।

Ans 1. न तो निष्कर्ष (I) और न ही (II) अनुसरण करता है।

2. निष्कर्ष (I) और (II) दोनों अनुसरण करते हैं।

3. केवल निष्कर्ष (II) अनुसरण करता है।

4. केवल निष्कर्ष (I) अनुसरण करता है।

Question Type : MCQ

Question ID : 630680832782

Option 1 ID : 6306803262108

Option 2 ID : 6306803262105

Option 3 ID : 6306803262107

Option 4 ID : 6306803262106

Status : Answered

Chosen Option : 3

Q.5 A, B, C, D, E, F और G एक वृत्ताकार मेज के चारों ओर केंद्र की ओर पीठ करके बैठे हैं (परंतु जरूरी नहीं कि वे इसी क्रम में बैठे हों)। D के दाईं ओर से गिनती करने पर D और F के बीच में केवल 3 व्यक्ति बैठे हैं। E और G दोनों A के निकटतम पड़ोसी हैं। B, C के ठीक बाईं ओर बैठा है। G के दाईं ओर से गिनती करने पर B और G के बीच में केवल 1 व्यक्ति बैठा है। B के सापेक्ष E का स्थान क्या है?

Ans 1. दाईं ओर से दूसरा

2. बाईं ओर से तीसरा

3. बाईं ओर से दूसरा

4. दाईं ओर से तीसरा

Question Type : MCQ

Question ID : 630680379477

Option 1 ID : 6306801478952

Option 2 ID : 6306801478954

Option 3 ID : 6306801478951

Option 4 ID : 6306801478953

Status : Answered

Chosen Option : 2



Download SSC CGL, CHSL E-BOOKS

[CLICK HERE](#)

Q.6 उस समुच्चय का चयन कीजिए जिसमें संख्याएं ठीक उसी प्रकार संबंधित हैं जिस प्रकार दिए गए समुच्चयों की संख्याएं संबंधित हैं।

(ध्यान दें: संख्याओं को उनके घटक अंकों में अलग-अलग किए बिना पूर्ण संख्याओं पर संक्रियाएं की जानी चाहिए। उदाहरण के लिए संख्या 13 - संख्या 13 पर संक्रियाएं जैसे 13 को जोड़ना/घटाना/गुणा करना आदि किया जा सकता है। 13 को 1 और 3 में अलग-अलग करने की और फिर 1 और 3 पर गणितीय संक्रियाएं करने की अनुमति नहीं है।)

(29, 77)

(24, 62)

Ans 1. (31, 93)

2. (26, 88)

3. (22, 86)

4. (19, 47)

Question Type : MCQ

Question ID : 630680397386

Option 1 ID : 6306801549587

Option 2 ID : 6306801549586

Option 3 ID : 6306801549588

Option 4 ID : 6306801549589

Status : Answered

Chosen Option : 4

Q.7 एक निश्चित कूट भाषा में, 'can you swim' को 'MQ TO LO' के रूप में कूटबद्ध किया जाता है और 'He can drive' को 'LO AB PQ' के रूप में कूटबद्ध किया जाता है। इसी कूट भाषा में 'can' को किस प्रकार कूटबद्ध किया जाएगा?

Ans 1. TO

2. MQ

3. AB

4. LO

Question Type : MCQ

Question ID : 630680380408

Option 1 ID : 6306801482628

Option 2 ID : 6306801482627

Option 3 ID : 6306801482630

Option 4 ID : 6306801482629

Status : Answered

Chosen Option : 4



Download SSC CGL, CHSL E-BOOKS

[CLICK HERE](#)

Q.8 यदि निम्नलिखित समीकरण में '×' और '-' को आपस में बदल दिया जाए तथा '+' और '÷' को आपस में बदल दिया जाए, तो इस समीकरण में '?' के स्थान पर क्या आएगा?
 $16 - 66 + 6 \times 26 \div 36 = ?$

- Ans
- 1. 204
 - 2. 241
 - 3. 166
 - 4. 186

Question Type : MCQ

Question ID : 630680388345

Option 1 ID : 6306801513898

Option 2 ID : 6306801513899

Option 3 ID : 6306801513900

Option 4 ID : 6306801513901

Status : Answered

Chosen Option : 4

Q.9 एक निश्चित कूट भाषा में 'GIRL' को '3618' के रूप में कूटबद्ध किया जाता है और 'ROAD' को '7462' के रूप में कूटबद्ध किया जाता है। दी गई कूट भाषा में 'R' के लिए कूट क्या है?

- Ans
- 1. 1
 - 2. 8
 - 3. 6
 - 4. 3

Question Type : MCQ

Question ID : 630680435928

Option 1 ID : 6306801701662

Option 2 ID : 6306801701664

Option 3 ID : 6306801701661

Option 4 ID : 6306801701663

Status : Answered

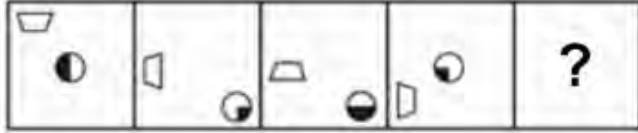
Chosen Option : 3



Download SSC CGL, CHSL E-BOOKS

[CLICK HERE](#)

Q.10 उस आकृति का चयन कीजिए जो निम्न आकृति श्रृंखला में प्रश्नवाचक चिह्न (?) के स्थान पर आएगी।



Ans

✓ 1.



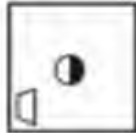
✗ 2.



✗ 3.



✗ 4.



Question Type : MCQ

Question ID : 630680525646

Option 1 ID : 6306802054668

Option 2 ID : 6306802054670

Option 3 ID : 6306802054669

Option 4 ID : 6306802054671

Status : Answered

Chosen Option : 2

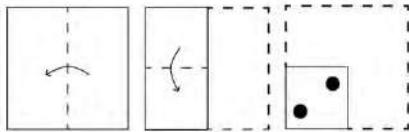


Download SSC CGL, CHSL E-BOOKS

[CLICK HERE](#)


Q.11

कगज की एक वर्गाकार शीट को दर्शाई गई दिशाओं में विद्युत्तर रेखा के जनुदित क्रमशः मोड़ा जाता है और आखिर में उसमें छेद किया जाता है। खोले जाने पर वह कगज कैसा दिखाई देगा?




Ans


✓ 1.




✗ 2.



✗ 3.



✗ 4.



Question Type : MCQ

Question ID : 630680524420

Option 1 ID : 6306802049782

Option 2 ID : 6306802049781

Option 3 ID : 6306802049780

Option 4 ID : 6306802049779

Status : Answered

Chosen Option : 1



Download SSC CGL, CHSL E-BOOKS

CLICK HERE

Q.12 दिए गए कथनों और निष्कर्षों को ध्यानपूर्वक पढ़िए। यह मानते हुए कि कथनों में दी गई जानकारी सत्य है, भले ही वे सामान्यतः ज्ञात तथ्यों से भिन्न प्रतीत होते हों, तय कीजिए कि दिए गए निष्कर्षों में से कौन-सा/से निष्कर्ष कथनों का तार्किक रूप से अनुसरण करता है/करते हैं।

कथन:

कुछ जड़ी-बूटियाँ, पेड़ हैं।
कुछ पेड़, पौधे हैं।

निष्कर्ष:

(I) कुछ जड़ी-बूटियाँ, पौधे हैं।

(II) कम से कम कुछ पेड़, जड़ी-बूटियाँ हैं।

Ans 1. केवल निष्कर्ष II अनुसरण करता है

2. न तो निष्कर्ष I और न ही II अनुसरण करता है

3. निष्कर्ष I और II दोनों अनुसरण करते हैं

4. केवल निष्कर्ष I अनुसरण करता है

Question Type : MCQ

Question ID : 630680419665

Option 1 ID : 6306801637154

Option 2 ID : 6306801637156

Option 3 ID : 6306801637155

Option 4 ID : 6306801637153

Status : Answered

Chosen Option : 1

Q.13 SK -1 एक निश्चित प्रकार से OO 3 से संबंधित है। ठीक उसी प्रकार IA 2, EE 6 से संबंधित है। समान तर्क का अनुसरण करते हुए, EO 5 निम्नलिखित में से किससे संबंधित है?

Ans 1. AS -1

2. AS 9

3. AS 1

4. AT 9

Question Type : MCQ

Question ID : 630680422973

Option 1 ID : 6306801650259

Option 2 ID : 6306801650261

Option 3 ID : 6306801650260

Option 4 ID : 6306801650262

Status : Answered

Chosen Option : 2



Download SSC CGL, CHSL E-BOOKS

[CLICK HERE](#)

Q.14 दी गई श्रृंखला में प्रश्न-चिह्न (?) के स्थान पर क्या आना चाहिए?

1, 2, 5, 12, ?, 58, 121

- Ans 1. 25
 2. 20
 3. 27
 4. 15

Question Type : MCQ

Question ID : 630680405403

Option 1 ID : 6306801580825

Option 2 ID : 6306801580824

Option 3 ID : 6306801580822

Option 4 ID : 6306801580823

Status : Answered

Chosen Option : 3

Q.15 7, किसी निश्चित तर्क का अनुसरण करते हुए 33 से संबंधित है। 9, समान तर्क का अनुसरण करते हुए 41 से संबंधित है। समान तर्क का अनुसरण करते हुए 14, निम्नलिखित में से किससे संबंधित है?

(ध्यान दें: संख्याओं को उनके घटक अंकों में अलग-अलग किए बिना पूर्ण संख्याओं पर संक्रियाएं की जानी चाहिए। उदाहरण के लिए संख्या 13 - संख्या 13 पर संक्रियाएं जैसे 13 को जोड़ना/घटाना/गुणा करना आदि किया जा सकता है। 13 को 1 और 3 में अलग-अलग करने की और फिर 1 और 3 पर गणितीय संक्रियाएं करने की अनुमति नहीं है।)

- Ans 1. 65
 2. 61
 3. 67
 4. 56

Question Type : MCQ

Question ID : 630680450185

Option 1 ID : 6306801757890

Option 2 ID : 6306801757888

Option 3 ID : 6306801757887

Option 4 ID : 6306801757889

Status : Answered

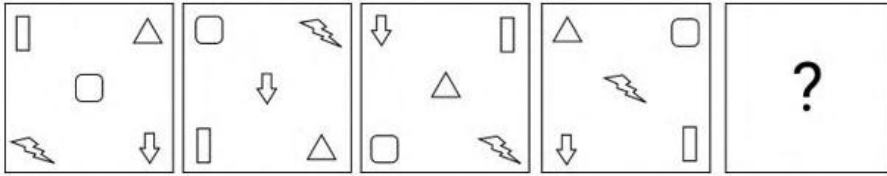
Chosen Option : 2



Download SSC CGL, CHSL E-BOOKS

[CLICK HERE](#)

Q.16 विकल्पों में दी गई उस आकृति की पहचान कीजिए, जिसे प्रश्न-चिह्न (?) के स्थान पर रखने पर श्रृंखला तार्किक रूप से पूर्ण हो जाएगी।



Ans

- ✗ 1.
- ✗ 2.
- ✗ 3.
- ✓ 4.

Question Type : **MCQ**
 Question ID : **630680273251**
 Option 1 ID : **6306801061547**
 Option 2 ID : **6306801061550**
 Option 3 ID : **6306801061549**
 Option 4 ID : **6306801061548**
 Status : **Answered**
 Chosen Option : **4**

Q.17 एक कूट भाषा में, 'RAM' को 'Q14' के रूप में लिखा जाता है और 'CAR' को 'B19' के रूप में लिखा जाता है। इसी कूट भाषा में 'MARK' को कैसे लिखा जाएगा?

- Ans 1. M30
 2. L30
 3. L26
 4. M29

Question Type : MCQ
Question ID : 630680465338
Option 1 ID : 6306801817389
Option 2 ID : 6306801817390
Option 3 ID : 6306801817387
Option 4 ID : 6306801817388
Status : Answered
Chosen Option : 2

Q.18 AB10 एक निश्चित प्रकार से CD29 से संबंधित है। ठीक उसी प्रकार, KL65, MN84 से संबंधित है। समान तर्क का अनुसरण करते हुए, UV25 निम्नलिखित में से किससे संबंधित है?

- Ans 1. WX45
 2. ZX45
 3. ZX44
 4. WX44

Question Type : MCQ
Question ID : 6306801108761
Option 1 ID : 6306804355591
Option 2 ID : 6306804355593
Option 3 ID : 6306804355592
Option 4 ID : 6306804355590
Status : Answered
Chosen Option : 4

Q.19 किसी निश्चित कूट भाषा में 'DEVICE' को 'EDWHDD' के रूप में कूटबद्ध किया जाता है और 'DENIAL' को 'EDOHBK' के रूप में कूटबद्ध किया जाता है। उसी भाषा में 'DEMAND' को किस प्रकार कूटबद्ध किया जाएगा?

- Ans 1. EDNBOC
 2. EDNBMC
 3. EDLZMC
 4. EDNZOC

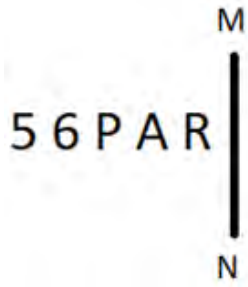
Question Type : MCQ
Question ID : 630680465300
Option 1 ID : 6306801817237
Option 2 ID : 6306801817238
Option 3 ID : 6306801817236
Option 4 ID : 6306801817235
Status : Answered
Chosen Option : 4



Download SSC CGL, CHSL E-BOOKS

[CLICK HERE](#)

Q.20 दी गई आकृति के उस सही दर्पण प्रतिबिंब को चुनिए, जो नीचे दर्शाए गए अनुसार दर्पण को MN पर रखने पर बनेगा।



- Ans
- 1. R A 9 2 7
 - 2. R A d 9 5
 - 3. R A 6 P 7
 - 4. R A 9 2 7

Question Type : MCQ

Question ID : 630680525233

Option 1 ID : 6306802053017

Option 2 ID : 6306802053019

Option 3 ID : 6306802053016

Option 4 ID : 6306802053018

Status : Answered

Chosen Option : 1

Section : General Awareness

Q.1 ऐसे सूक्ष्म मार्ग, जो पादक कोशिकाओं और कुछ शैवाल कोशिकाओं की कोशिका भित्ति को पार करके (traverse), उनके बीच परिवहन और संचार को सक्षम बनाते हैं, _____ कहलाते हैं।

- Ans
- 1. लाइसोसोम (lysosomes)
 - 2. प्लाज्मोडेस्मैटा (plasmodesmata)
 - 3. राइबोसोम (ribosomes)
 - 4. डेस्मोसोम (desmosomes)

Question Type : MCQ

Question ID : 63068089734

Option 1 ID : 630680347712

Option 2 ID : 630680347711

Option 3 ID : 630680347713

Option 4 ID : 630680347710

Status : Answered

Chosen Option : 1



Download SSC CGL, CHSL E-BOOKS

[CLICK HERE](#)

Q.2 गलत कथन का चयन कीजिए।

- Ans 1. गुणसूत्र (क्रोमोसोम) डीएनए (DNA) और कार्बोहाइड्रेट से बने होते हैं।
 2. डीएनए (DNA) के कार्यात्मक खंडों को जीन कहा जाता है।
 3. डीएनए (DNA) अणुओं में कोशिकाओं के निर्माण और संगठक के लिए आवश्यक जानकारी होती है।
 4. क्रोमेटिन पदार्थ छड़ के आकार वाले गुणसूत्रों (क्रोमोसोम) में तभी व्यवस्थित होता है जब कोशिका विभाजित होने वाली होती है।

Question Type : MCQ
Question ID : 630680422164
Option 1 ID : 6306801647092
Option 2 ID : 6306801647093
Option 3 ID : 6306801647095
Option 4 ID : 6306801647094
Status : Answered
Chosen Option : 1

Q.3 यदि कर योग्य आधार के साथ कर की दर बढ़ जाती है, तो इस प्रकार के कराधान को _____ कहा जाता है।

- Ans 1. असंबद्ध (digressive)
 2. प्रगामी (progressive)
 3. अनुपातिक (proportional)
 4. प्रतिगामी (regressive)

Question Type : MCQ
Question ID : 630680512423
Option 1 ID : 6306802002665
Option 2 ID : 6306802002664
Option 3 ID : 6306802002663
Option 4 ID : 6306802002662
Status : Answered
Chosen Option : 4

Q.4 न्यूलैंड के अष्टक नियम के अनुसार प्रत्येक आठवें तत्व के गुण पहले तत्व के समान होते हैं। निम्नलिखित में से किस तत्व के गुण N के गुण के समान हैं?

- Ans 1. B
 2. Al
 3. P
 4. S

Question Type : MCQ
Question ID : 630680470543
Option 1 ID : 6306801837942
Option 2 ID : 6306801837941
Option 3 ID : 6306801837939
Option 4 ID : 6306801837940
Status : Answered
Chosen Option : 2



Download SSC CGL, CHSL E-BOOKS

[CLICK HERE](#)

Q.5 2007 तक गरीबी में 5% की कमी _____ योजना के मुख्य उद्देश्यों में से एक था।

- Ans
- 1. नौवीं पंचवर्षीय योजना (1997-2002)
 - 2. दसवीं पंचवर्षीय योजना (2002-2007)
 - 3. सातवीं पंचवर्षीय योजना (1985-90)
 - 4. चौथी पंचवर्षीय योजना (1966-1974)

Question Type : MCQ
Question ID : 630680394650
Option 1 ID : 6306801538887
Option 2 ID : 6306801538888
Option 3 ID : 6306801538886
Option 4 ID : 6306801538889
Status : Answered
Chosen Option : 1

Q.6 निम्नलिखित में से कौन-सा, भारत का राष्ट्रीय जलमार्ग संख्या 4 (National waterway no. 4) है?

- Ans
- 1. काकीनाडा पुडुचेरी के अनुदिश गोदावरी और कृष्णा नदी
 - 2. महानदी एवं ब्राह्मणी नदी और पूर्वी तट नहर
 - 3. सदिया और धुबरी के बीच ब्रह्मपुत्र नदी
 - 4. इलाहाबाद-हल्दिया के बीच गंगा नदी

Question Type : MCQ
Question ID : 630680798989
Option 1 ID : 6306803130757
Option 2 ID : 6306803130756
Option 3 ID : 6306803130755
Option 4 ID : 6306803130754
Status : Answered
Chosen Option : 1

Q.7 अक्टूबर 2023 में, इंद्र सेना रेड्डी नल्लू (Indrasena Reddy Nallu) को भारत में निम्नलिखित में से किस राज्य का राज्यपाल बनाया गया है?

- Ans
- 1. असम
 - 2. गोवा
 - 3. त्रिपुरा
 - 4. केरल

Question Type : MCQ
Question ID : 630680467192
Option 1 ID : 6306801824714
Option 2 ID : 6306801824713
Option 3 ID : 6306801824715
Option 4 ID : 6306801824716
Status : Answered
Chosen Option : 3



Q.8 बंगाल में इंडियन एसोसिएशन (Indian Association) का संस्थापक निम्नलिखित में से कौन था?

- Ans
- 1. पी. आनंद चारलू
 - 2. चितरंजन दास
 - 3. सुरेंद्र नाथ बनर्जी
 - 4. रास बिहारी बोस

Question Type : MCQ

Question ID : 630680302821

Option 1 ID : 6306801177946

Option 2 ID : 6306801177947

Option 3 ID : 6306801177948

Option 4 ID : 6306801177949

Status : Answered

Chosen Option : 3

Q.9 कौन-सा मौलिक अधिकार अल्पसंख्यकों को उनकी भाषा, लिपि या संस्कृति के मामले में हितों की सुरक्षा की गारंटी प्रदान करता है?

- Ans
- 1. समानता का अधिकार
 - 2. स्वतंत्रता का अधिकार
 - 3. शोषण के विरुद्ध अधिकार
 - 4. सांस्कृतिक और शैक्षिक अधिकार

Question Type : MCQ

Question ID : 630680587170

Option 1 ID : 6306802297213

Option 2 ID : 6306802297212

Option 3 ID : 6306802297214

Option 4 ID : 6306802297215

Status : Answered

Chosen Option : 4

Q.10 _____ को मुख्य रूप से महाराष्ट्र के लोगों द्वारा नव वर्ष दिवस के रूप में मनाया जाता है।

- Ans
- 1. गुड़ी पड़वा (Gudi Padwa)
 - 2. पोंगल (Pongal)
 - 3. उगादी (Ugadi)
 - 4. बिहु (Bihu)

Question Type : MCQ

Question ID : 630680798921

Option 1 ID : 6306803130492

Option 2 ID : 6306803130490

Option 3 ID : 6306803130491

Option 4 ID : 6306803130493

Status : Answered

Chosen Option : 1



Download SSC CGL, CHSL E-BOOKS

[CLICK HERE](#)

Q.11 विनोद मानकारा की डॉक्यूमेंट्री 'मोहिन्याट्टथिंते अम्मा (Mohinyattathinte Amma)' निम्नलिखित में से किस विश्व प्रसिद्ध मोहिनीअट्टम नर्तकी पर आधारित है?

- Ans
- 1. सुनंदा नायर
 - 2. जयाप्रभा मेनन
 - 3. पी माधुरी
 - 4. कलामंडलम कल्याणिकुट्टी

Question Type : MCQ
Question ID : 630680309165
Option 1 ID : 6306801202837
Option 2 ID : 6306801202840
Option 3 ID : 6306801202839
Option 4 ID : 6306801202838
Status : Answered
Chosen Option : 4

Q.12 भारत की 2011 की जनगणना के अनुसार, भारत के किन राज्यों में जनसंख्या घनत्व 1000 व्यक्ति प्रति वर्ग किमी से अधिक है?

- Ans
- 1. बिहार और पश्चिम बंगाल
 - 2. उत्तर प्रदेश और हरियाणा
 - 3. मध्य प्रदेश और महाराष्ट्र
 - 4. केरल और तमिलनाडु

Question Type : MCQ
Question ID : 63068090222
Option 1 ID : 630680349662
Option 2 ID : 630680349664
Option 3 ID : 630680349665
Option 4 ID : 630680349663
Status : Answered
Chosen Option : 1

Q.13 कृष्णराव शंकर पंडित निम्नलिखित में से किस संगीत घराने से संबंधित थे?

- Ans
- 1. मेवाती घराना
 - 2. अतरौली घराना
 - 3. ग्वालियर घराना
 - 4. आगरा घराना

Question Type : MCQ
Question ID : 630680487623
Option 1 ID : 6306801904563
Option 2 ID : 6306801904564
Option 3 ID : 6306801904565
Option 4 ID : 6306801904562
Status : Not Answered
Chosen Option : --



Download SSC CGL, CHSL E-BOOKS

[CLICK HERE](#)

Q.14 फरवरी 2024 तक प्राप्त जानकारी के अनुसार, निम्नलिखित में से कौन राज्यसभा का उपसभापति (Deputy Chairman) है?

- Ans
- 1. प्रकाश जावड़ेकर
 - 2. हरिवंश नारायण सिंह
 - 3. जगत प्रकाश नड्डा
 - 4. धर्मेन्द्र प्रधान

Question Type : MCQ
Question ID : 630680468938
Option 1 ID : 6306801831520
Option 2 ID : 6306801831521
Option 3 ID : 6306801831519
Option 4 ID : 6306801831522
Status : Answered
Chosen Option : 2

Q.15 खेलो इंडिया पैरा गेम्स के पहले संस्करण में कौन-सा राज्य दूसरे स्थान पर रहा?

- Ans
- 1. राजस्थान
 - 2. हरियाणा
 - 3. उत्तर प्रदेश
 - 4. मध्य प्रदेश

Question Type : MCQ
Question ID : 630680694293
Option 1 ID : 6306802719459
Option 2 ID : 6306802719457
Option 3 ID : 6306802719456
Option 4 ID : 6306802719458
Status : Answered
Chosen Option : 2

Q.16 भारत में कौन सी कार्यपालिका प्रणाली विद्यमान है?

- Ans
- 1. संसदीय और राष्ट्रपति प्रणाली दोनों
 - 2. संसदीय प्रणाली
 - 3. राष्ट्रपति प्रणाली
 - 4. कॉलेजियम प्रणाली

Question Type : MCQ
Question ID : 630680216162
Option 1 ID : 630680838626
Option 2 ID : 630680838625
Option 3 ID : 630680838623
Option 4 ID : 630680838624
Status : Answered
Chosen Option : 2



Download SSC CGL, CHSL E-BOOKS

[CLICK HERE](#)

Q.17 2022 में, अर्जुन सिंह धुर्वे (Arjun Singh Dhurve) को निम्नलिखित में से किस भारतीय लोक-नृत्य शैली में उनके योगदान के लिए पद्म श्री पुरस्कार से सम्मानित किया गया था?

- Ans
- 1. छउ (Chhau)
 - 2. लाहो (Laho)
 - 3. बैगा (Baiga)
 - 4. बिहू (Bihu)

Question Type : MCQ

Question ID : 630680433311

Option 1 ID : 6306801691212

Option 2 ID : 6306801691213

Option 3 ID : 6306801691211

Option 4 ID : 6306801691214

Status : Answered

Chosen Option : 3

Q.18 खारे पानी (saltwater lakes) की निम्नलिखित झीलों में से, उनके निर्माण के आधार पर असंगत का चयन कीजिए?

- Ans
- 1. सांभर झील
 - 2. पुलिकट झील
 - 3. कोलेरू झील
 - 4. चिल्का झील

Question Type : MCQ

Question ID : 630680629820

Option 1 ID : 6306802465174

Option 2 ID : 6306802465176

Option 3 ID : 6306802465177

Option 4 ID : 6306802465175

Status : Not Answered

Chosen Option : --

Q.19 ईरानी कप (Irani Cup) एक प्रथम श्रेणी क्रिकेट प्रतियोगिता है जो रणजी ट्रॉफी के विजेता और कौन-सी अन्य टीम के बीच में खेला जाता है?

- Ans
- 1. इंडिया A (India A)
 - 2. बोर्ड प्रेसिडेंट XI (Board President's XI)
 - 3. शेष भारत (Rest of India)
 - 4. इंडिया B (India B)

Question Type : MCQ

Question ID : 630680422086

Option 1 ID : 6306801646775

Option 2 ID : 6306801646777

Option 3 ID : 6306801646778

Option 4 ID : 6306801646776

Status : Answered

Chosen Option : 3



Download SSC CGL, CHSL E-BOOKS

[CLICK HERE](#)

Q.20 उसैन बोल्ट ने निम्नलिखित में से किस आत्मकथा में अपने जीवन की यात्रा साझा की है?

- Ans
- 1. रनिंग फॉर माई लाइफ (Running for My Life)
 - 2. फास्टर देन लाइटनिंग (Faster Than Lightning)
 - 3. लेट योर माइंड रन (Let Your Mind Run)
 - 4. रेस ऑफ माई लाइफ (Race of My Life)

Question Type : MCQ
Question ID : 630680512097
Option 1 ID : 6306802001361
Option 2 ID : 6306802001359
Option 3 ID : 6306802001358
Option 4 ID : 6306802001360
Status : Answered
Chosen Option : 4

Q.21 निम्नलिखित में से गलत युग्म (राज्य और लौह-अयस्क उत्पादक क्षेत्र) को पहचानिए।

- Ans
- 1. मध्य प्रदेश - रत्नागिरी
 - 2. छत्तीसगढ़ - बैलाडीला
 - 3. ओडिशा - बदमपहर
 - 4. कर्नाटक - कुद्रेमुख

Question Type : MCQ
Question ID : 630680510953
Option 1 ID : 6306801996945
Option 2 ID : 6306801996943
Option 3 ID : 6306801996942
Option 4 ID : 6306801996944
Status : Answered
Chosen Option : 3

Q.22 कुव्वत-उल-इस्लाम मस्जिद (Quwwat-ul-Islam Mosque) का निर्माण लगभग 1197 ईस्वी (AD) में दिल्ली सल्तनत के निम्नलिखित में से किस राजवंश के सुल्तान द्वारा करवाया गया था?

- Ans
- 1. खिलजी
 - 2. मामलुक
 - 3. तुगलक
 - 4. लोदी

Question Type : MCQ
Question ID : 630680546810
Option 1 ID : 6306802137806
Option 2 ID : 6306802137807
Option 3 ID : 6306802137808
Option 4 ID : 6306802137809
Status : Answered
Chosen Option : 3



Download SSC CGL, CHSL E-BOOKS

[CLICK HERE](#)

Q.23 सितंबर 1916 में, निम्नलिखित में से किसने मद्रास में होम रूल लीग (Home Rule League) की शुरुआत की?

- Ans 1. एनी बेसेंट
 2. सुचेता कृपलानी
 3. लोकमान्य तिलक
 4. रासबिहारी बोस

Question Type : MCQ
Question ID : 630680275815
Option 1 ID : 6306801071772
Option 2 ID : 6306801071773
Option 3 ID : 6306801071774
Option 4 ID : 6306801071771
Status : Answered
Chosen Option : 1

Q.24 प्राचीन भारत के महाजनपद काल के दौरान, भाग (bhaga) नाम से जाना जाने वाला कर, निम्नलिखित में से किस पर लगाया गया था?

- Ans 1. व्यापारियों पर कर (Tax on merchants)
 2. पशुपालकों पर कर (Tax on cattle breeders)
 3. कारीगरों पर कर (Tax on artisans)
 4. कृषकों पर कर (Tax on cultivators)

Question Type : MCQ
Question ID : 630680184261
Option 1 ID : 630680714054
Option 2 ID : 630680714053
Option 3 ID : 630680714055
Option 4 ID : 630680714056
Status : Answered
Chosen Option : 1

Q.25 निम्नलिखित में से किसे 1576 ई. में लड़ी गई हल्दीघाटी की लड़ाई में मुगल सेना का नेतृत्व करने के लिए अकबर द्वारा भेजा गया था?

- Ans 1. राजा मेदिनी राय
 2. राजा मान सिंह
 3. राजा टोडरमल
 4. राजा महाराणा प्रताप

Question Type : MCQ
Question ID : 630680282929
Option 1 ID : 6306801099848
Option 2 ID : 6306801099849
Option 3 ID : 6306801099850
Option 4 ID : 6306801099847
Status : Answered
Chosen Option : 2

Section : English Language and Comprehension



Download SSC CGL, CHSL E-BOOKS

[CLICK HERE](#)

Q.1 Select the most appropriate meaning of the given idiom.

All in the same boat

- Ans 1. When everyone is dealing with the same situation
 2. When everyone has to start all over again
 3. When a task can be accomplished together
 4. When everybody is travelling in the same vehicle

Question Type : **MCQ**
Question ID : **630680445335**
Option 1 ID : **6306801738613**
Option 2 ID : **6306801738614**
Option 3 ID : **6306801738615**
Option 4 ID : **6306801738612**
Status : **Answered**
Chosen Option : 1

Q.2 Select the most appropriate ANTONYM of the given word.

Gracious

- Ans 1. Lonely
 2. Rude
 3. Keen
 4. Mythical

Question Type : **MCQ**
Question ID : **630680726502**
Option 1 ID : **6306802847016**
Option 2 ID : **6306802847014**
Option 3 ID : **6306802847015**
Option 4 ID : **6306802847017**
Status : **Answered**
Chosen Option : 2

Q.3 Select the most appropriate meaning of the underlined phrase.

Jared deliberately set fire to a property and got arrested by the police.

- Ans 1. Insomnia
 2. Dystrophy
 3. Dementia
 4. Arson

Question Type : **MCQ**
Question ID : **630680540241**
Option 1 ID : **6306802112069**
Option 2 ID : **6306802112070**
Option 3 ID : **6306802112071**
Option 4 ID : **6306802112068**
Status : **Answered**
Chosen Option : 4

Q.4 Select the most appropriate ANTONYM of the underlined word in the given sentence.

He is habituated to using words spoken with an unusual amount of venom when it comes to his in-laws.

- Ans 1. benevolence
 2. irony
 3. ambiguousness
 4. satire

Question Type : MCQ
Question ID : 630680551305
Option 1 ID : 6306802155439
Option 2 ID : 6306802155441
Option 3 ID : 6306802155442
Option 4 ID : 6306802155440
Status : Answered
Chosen Option : 3

Q.5 Select the most appropriate option to fill in the blank.

The pencil has a tip made of _____.

- Ans 1. steal
 2. lead
 3. lewd
 4. led

Question Type : MCQ
Question ID : 630680517506
Option 1 ID : 6306802022423
Option 2 ID : 6306802022420
Option 3 ID : 6306802022422
Option 4 ID : 6306802022421
Status : Answered
Chosen Option : 4

Q.6 Select the option that rectifies the spelling error in the following sentence.

The poet was able to compose the long poem in a tranquill atmosphere.

- Ans 1. tranquil
 2. trankwil
 3. trancuel
 4. tranquel

Question Type : MCQ
Question ID : 630680566501
Option 1 ID : 6306802214992
Option 2 ID : 6306802214993
Option 3 ID : 6306802214995
Option 4 ID : 6306802214994
Status : Answered
Chosen Option : 1

Q.7 Select the most appropriate option that can substitute the underlined segment in the given sentence. If there is no need to substitute it, select 'No substitution required'.

The keys were lies on the table.

- Ans
- 1. No substitution required
 - 2. lie on the table
 - 3. lying on the table
 - 4. lay on the table

Question Type : MCQ
Question ID : 630680798899
Option 1 ID : 6306803130405
Option 2 ID : 6306803130402
Option 3 ID : 6306803130403
Option 4 ID : 6306803130404
Status : Answered
Chosen Option : 4

Q.8 Based on the situation in the given sentence, select the most appropriate idiom for the underlined segment.

There are several people who find themselves a dominating person in a group

- Ans
- 1. Cock of the walk
 - 2. A bone of contention
 - 3. A white elephant
 - 4. A man of his words

Question Type : MCQ
Question ID : 630680402717
Option 1 ID : 6306801570471
Option 2 ID : 6306801570470
Option 3 ID : 6306801570472
Option 4 ID : 6306801570469
Status : Answered
Chosen Option : 4

Q.9 Select the most appropriate option to fill in the blanks.

Whenever addressed, she comes ____ and performs her ____ in a great way.

- Ans
- 1. fourth, roll
 - 2. fourth, role
 - 3. forth, role
 - 4. forth, roll

Question Type : MCQ
Question ID : 630680508360
Option 1 ID : 6306801986782
Option 2 ID : 6306801986784
Option 3 ID : 6306801986781
Option 4 ID : 6306801986783
Status : Answered
Chosen Option : 2

Q.10 Select the most appropriate option to fill in the blank.

The manager swiftly overtook him, _____ effortlessly past the skinny Englishman, with a practiced ease.

- Ans 1. sliding
 2. rendering
 3. kindling
 4. dawdling

Question Type : MCQ
Question ID : 630680549298
Option 1 ID : 6306802147656
Option 2 ID : 6306802147655
Option 3 ID : 6306802147654
Option 4 ID : 6306802147653
Status : Not Answered
Chosen Option : --

Q.11 The following sentence has been split into four segments. Identify the segment that contains a grammatical error.
Manish has being applying / for colleges / ever since he passed / his entrance test in March.

- Ans 1. for colleges
 2. ever since he passed
 3. manish has being applying
 4. his entrance test in March

Question Type : MCQ
Question ID : 630680156560
Option 1 ID : 630680605897
Option 2 ID : 630680605898
Option 3 ID : 630680605896
Option 4 ID : 630680605899
Status : Answered
Chosen Option : 3

Q.12 Select the most appropriate verb form to fill in the blank in the given sentence.

She _____ her keys on the kitchen counter.

- Ans 1. lying
 2. laid
 3. lays
 4. lain

Question Type : MCQ
Question ID : 630680733745
Option 1 ID : 6306802875806
Option 2 ID : 6306802875805
Option 3 ID : 6306802875803
Option 4 ID : 6306802875804
Status : Answered
Chosen Option : 3

Q.13 The following sentence has been divided into parts. One of them may contain an error. Select the part that contains the error from the given options. If you don't find any error, mark 'No error' as your answer.

He will be / waiting for me when / I reached his home.

- Ans 1. waiting for me when
 2. I reaches his home.
 3. No error
 4. He will be

Question Type : MCQ
Question ID : 630680546845
Option 1 ID : 6306802137948
Option 2 ID : 6306802137949
Option 3 ID : 6306802137950
Option 4 ID : 6306802137947
Status : Answered
Chosen Option : 4

Q.14 The following sentence has been split into four segments. Identify the segment that contains a grammatical error.

The brave and courageous soldiers / of our motherland / fell into the enemy / and won the battle.

- Ans 1. The brave and courageous soldiers
 2. fell into the enemy
 3. of our motherland
 4. and won the battle

Question Type : MCQ
Question ID : 630680533288
Option 1 ID : 6306802084633
Option 2 ID : 6306802084635
Option 3 ID : 6306802084634
Option 4 ID : 6306802084636
Status : Answered
Chosen Option : 2

Q.15 Select the option with the correct spelling to replace the underlined word in the given sentence.

Self-esteem is an important aspekt of one's self.

- Ans 1. aspet
 2. aspikt
 3. aspect
 4. aaspet

Question Type : MCQ
Question ID : 630680539881
Option 1 ID : 6306802110624
Option 2 ID : 6306802110627
Option 3 ID : 6306802110625
Option 4 ID : 6306802110626
Status : Answered
Chosen Option : 3

Q.16 The following sentence has been split into four segments. Identify the segment that contains a grammatical error.
The new/ smartphone is/absolutely best than/ the latest model.

- Ans
- 1. smartphone is
 - 2. The new
 - 3. the latest model
 - 4. absolutely best than

Question Type : **MCQ**
Question ID : **630680514338**
Option 1 ID : **6306802009978**
Option 2 ID : **6306802009977**
Option 3 ID : **6306802009980**
Option 4 ID : **6306802009979**
Status : **Answered**
Chosen Option : **4**

Q.17 Select the most appropriate degree of comparison to fill in the blank.

The underground railway network, 'The Tube' in London is said to be _____ transport in London.

- Ans
- 1. more expensive
 - 2. the expensive
 - 3. expensive
 - 4. the most expensive

Question Type : **MCQ**
Question ID : **630680514586**
Option 1 ID : **6306802010971**
Option 2 ID : **6306802010969**
Option 3 ID : **6306802010972**
Option 4 ID : **6306802010970**
Status : **Answered**
Chosen Option : **4**

Q.18 Select the INCORRECTLY spelt word.

- Ans
- 1. Celebrate
 - 2. Entertenment
 - 3. Outburst
 - 4. Conscious

Question Type : **MCQ**
Question ID : **630680129531**
Option 1 ID : **630680501742**
Option 2 ID : **630680501745**
Option 3 ID : **630680501744**
Option 4 ID : **630680501743**
Status : **Answered**
Chosen Option : **1**

Q.19 Select the most appropriate ANTONYM of the given word.

jeopardy

- Ans 1. silence
 2. mighty
 3. strict
 4. safety

Question Type : **MCQ**

Question ID : **630680539971**

Option 1 ID : **6306802110986**

Option 2 ID : **6306802110985**

Option 3 ID : **6306802110987**

Option 4 ID : **6306802110984**

Status : **Answered**

Chosen Option : 4

Q.20 Select the most appropriate option to fill in the blank.

The success and achievements of a school mostly _____ on its experience and resourcefulness.

- Ans 1. begin
 2. depend
 3. achieve
 4. credit

Question Type : **MCQ**

Question ID : **630680515238**

Option 1 ID : **6306802013419**

Option 2 ID : **6306802013420**

Option 3 ID : **6306802013417**

Option 4 ID : **6306802013418**

Status : **Answered**

Chosen Option : 2



Download SSC CGL, CHSL E-BOOKS

[CLICK HERE](#)

Comprehension:

In the following passage, some words have been deleted. Read the passage carefully and select the most appropriate option to fill in each blank.

He knew everyone on the island. Whenever his car stopped, half a dozen voices ____ 1 ____ shout out his name. Policemen, agricultural labourers of low social status and priests waved and smiled ____ 2 ____ he passed; everyone greeted him as a brother. They respected his honesty, and belligerence, and above all, they adored his typically Greek scorn and fearlessness when dealing with any ____ 3 ____ of Governmental red tape. On arrival, two of our cases containing linen and other things had been ____ 4 ____ by the Customs on the curious ground that they were merchandise. So, when we moved out to the villa and the problem of bed linen arose, Mother told Spiro ____ 5 ____ our cases in the Customs and asked for his advice.

SubQuestion No : 21

Q.21 Select the most appropriate option to fill in blank number 1.

Ans 1. would

2. should

3. can

4. could

Question Type : **MCQ**

Question ID : **630680488243**

Option 1 ID : **6306801907029**

Option 2 ID : **6306801907030**

Option 3 ID : **6306801907027**

Option 4 ID : **6306801907028**

Status : **Answered**

Chosen Option : **2**

Comprehension:

In the following passage, some words have been deleted. Read the passage carefully and select the most appropriate option to fill in each blank.

He knew everyone on the island. Whenever his car stopped, half a dozen voices ____ 1 ____ shout out his name. Policemen, agricultural labourers of low social status and priests waved and smiled ____ 2 ____ he passed; everyone greeted him as a brother. They respected his honesty, and belligerence, and above all, they adored his typically Greek scorn and fearlessness when dealing with any ____ 3 ____ of Governmental red tape. On arrival, two of our cases containing linen and other things had been ____ 4 ____ by the Customs on the curious ground that they were merchandise. So, when we moved out to the villa and the problem of bed linen arose, Mother told Spiro ____ 5 ____ our cases in the Customs and asked for his advice.

SubQuestion No : 22

Q.22 Select the most appropriate option to fill in blank number 2.

Ans 1. nor

2. as

3. thus

4. so

Question Type : **MCQ**

Question ID : **630680488244**

Option 1 ID : **6306801907032**

Option 2 ID : **6306801907031**

Option 3 ID : **6306801907034**

Option 4 ID : **6306801907033**

Status : **Answered**

Chosen Option : **2**

Comprehension:

In the following passage, some words have been deleted. Read the passage carefully and select the most appropriate option to fill in each blank.

He knew everyone on the island. Whenever his car stopped, half a dozen voices ____ 1 ____ shout out his name. Policemen, agricultural labourers of low social status and priests waved and smiled ____ 2 ____ he passed; everyone greeted him as a brother. They respected his honesty, and belligerence, and above all, they adored his typically Greek scorn and fearlessness when dealing with any ____ 3 ____ of Governmental red tape. On arrival, two of our cases containing linen and other things had been ____ 4 ____ by the Customs on the curious ground that they were merchandise. So, when we moved out to the villa and the problem of bed linen arose, Mother told Spiro ____ 5 ____ our cases in the Customs and asked for his advice.

SubQuestion No : 23

Q.23 Select the most appropriate option to fill in blank number 3.

- Ans 1. from
 2. form
 3. farm
 4. forum

Question Type : **MCQ**

Question ID : **630680488245**

Option 1 ID : **6306801907035**

Option 2 ID : **6306801907036**

Option 3 ID : **6306801907038**

Option 4 ID : **6306801907037**

Status : **Answered**

Chosen Option : **2**

Comprehension:

In the following passage, some words have been deleted. Read the passage carefully and select the most appropriate option to fill in each blank.

He knew everyone on the island. Whenever his car stopped, half a dozen voices ____ 1 ____ shout out his name. Policemen, agricultural labourers of low social status and priests waved and smiled ____ 2 ____ he passed; everyone greeted him as a brother. They respected his honesty, and belligerence, and above all, they adored his typically Greek scorn and fearlessness when dealing with any ____ 3 ____ of Governmental red tape. On arrival, two of our cases containing linen and other things had been ____ 4 ____ by the Customs on the curious ground that they were merchandise. So, when we moved out to the villa and the problem of bed linen arose, Mother told Spiro ____ 5 ____ our cases in the Customs and asked for his advice.

SubQuestion No : 24

Q.24 Select the most appropriate option to fill in blank number 4.

- Ans 1. confiscated
 2. contributed
 3. collected
 4. concealed

Question Type : **MCQ**

Question ID : **630680488246**

Option 1 ID : **6306801907039**

Option 2 ID : **6306801907042**

Option 3 ID : **6306801907041**

Option 4 ID : **6306801907040**

Status : **Answered**

Chosen Option : **1**

Comprehension:

In the following passage, some words have been deleted. Read the passage carefully and select the most appropriate option to fill in each blank.

He knew everyone on the island. Whenever his car stopped, half a dozen voices ____ 1 ____ shout out his name. Policemen, agricultural labourers of low social status and priests waved and smiled ____ 2 ____ he passed; everyone greeted him as a brother. They respected his honesty, and belligerence, and above all, they adored his typically Greek scorn and fearlessness when dealing with any ____ 3 ____ of Governmental red tape. On arrival, two of our cases containing linen and other things had been ____ 4 ____ by the Customs on the curious ground that they were merchandise. So, when we moved out to the villa and the problem of bed linen arose, Mother told Spiro ____ 5 ____ our cases in the Customs and asked for his advice.

SubQuestion No : 25

Q.25 Select the most appropriate option to fill in blank number 5.

Ans ✓ 1. about

✗ 2. within

✗ 3. from

✗ 4. behind

Question Type : **MCQ**

Question ID : **630680488247**

Option 1 ID : **6306801907046**

Option 2 ID : **6306801907045**

Option 3 ID : **6306801907044**

Option 4 ID : **6306801907043**

Status : **Answered**

Chosen Option : **1**