

Multi Tasking Non Technical Staff and Havaladar CBIC and CBN Examination 2024

Roll Number	
Candidate Name	
Venue Name	iON Digital Zone iDZ 1 Hathipur
Exam Date	08/10/2024
Exam Time	4:00 PM - 5:30 PM
Subject	MTS Non Tech Havaladar CBIC and CBN Examination 2024

Section : Numerical and Mathematical Ability

Q.1 कक्षा XI के ग्रेड A में 3 विद्यार्थियों द्वारा प्राप्त अंकों का माध्य 83 है, ग्रेड B में 4 विद्यार्थियों द्वारा प्राप्त अंकों का माध्य 76 है और ग्रेड C में 5 विद्यार्थियों द्वारा प्राप्त अंकों का माध्य 85 है। कक्षा XI के तीनों ग्रेड के विद्यार्थियों के अंकों का माध्य कितना होगा?

- Ans 1. 81
 2. 81.5
 3. 80.5
 4. 80

Question Type : MCQ

Question ID : 630680484323

Option 1 ID : 6306801891639

Option 2 ID : 6306801891638

Option 3 ID : 6306801891640

Option 4 ID : 6306801891641

Status : Answered

Chosen Option : 2

Q.2 रीना एक वस्तु को उसके क्रय मूल्य से 12% कम पर बेचती है। यदि उसने इसे ₹540 अधिक में बेचा होता, तो उसे 15% का लाभ होता। 20% लाभ प्राप्त करने के लिए उसे वस्तु को किस मूल्य पर बेचना चाहिए?

- Ans 1. ₹2,004
 2. ₹4,200
 3. ₹2,040
 4. ₹2,400

Question Type : MCQ

Question ID : 630680460206

Option 1 ID : 6306801797271

Option 2 ID : 6306801797273

Option 3 ID : 6306801797270

Option 4 ID : 6306801797272

Status : Answered

Chosen Option : 3



Download SSC CGL, CHSL E-BOOKS

[CLICK HERE](#)



Q.3 R की मासिक आय ₹ 55,000 और उसका वार्षिक व्यय ₹ 4,50,000 है। उसकी प्रतिवर्ष बचत का प्रतिशत क्या है?

- Ans
- 1. 32.81%
 - 2. 36.21%
 - 3. 31.82%
 - 4. 38.12%

Question Type : MCQ
Question ID : 630680464521
Option 1 ID : 6306801814121
Option 2 ID : 6306801814119
Option 3 ID : 6306801814122
Option 4 ID : 6306801814120
Status : Answered
Chosen Option : 3

Q.4 इतिका ने 9% वार्षिक ब्याज की दर से कुछ राशि निवेश की और 3 वर्षों के बाद ₹ 810 का साधारण ब्याज अर्जित करती है। यदि ब्याज दर 4% अधिक होती, तो समान समय अवधि में उसी राशि पर इतिका ने कितना अधिक ब्याज (₹ में) अर्जित किया होता?

- Ans
- 1. 360
 - 2. 540
 - 3. 405
 - 4. 240

Question Type : MCQ
Question ID : 630680397455
Option 1 ID : 6306801549742
Option 2 ID : 6306801549745
Option 3 ID : 6306801549744
Option 4 ID : 6306801549743
Status : Answered
Chosen Option : 4

Q.5 एक ठोस गोलाकार वस्तु को बेलन के आकार में पिघलाया जाता है। जिस पर समान त्रिज्या वाला शंकु लगाया जाता है, बेलन और गोले, प्रत्येक का व्यास 21 cm है। यदि बेलन की ऊंचाई 7 cm है तो शंकु की ऊंचाई (cm में) क्या है?

$$\pi = \frac{22}{7} \text{ लीजिए।}$$

- Ans
- 1. 14
 - 2. 10.5
 - 3. 21
 - 4. 7

Question Type : MCQ
Question ID : 630680392932
Option 1 ID : 6306801532066
Option 2 ID : 6306801532067
Option 3 ID : 6306801532068
Option 4 ID : 6306801532069
Status : Answered
Chosen Option : 1



Q.6 नीचे दी गई तालिका चार वर्षों में चार महाविद्यालयों में नामांकित विद्यार्थियों की संख्या को दर्शाती है।

महाविद्यालय	P	Q	R	S
वर्ष				
2019	520	578	298	416
2020	625	603	365	254
2021	715	476	548	325
2022	539	235	258	842

दिए गए वर्षों में महाविद्यालय Q में प्रति वर्ष पढ़ाई कर रहे विद्यार्थियों की औसत संख्या कितनी है?

- Ans
- 1. 505
 - 2. 548
 - 3. 473
 - 4. 455

Question Type : MCQ

Question ID : 630680523810

Option 1 ID : 6306802047393

Option 2 ID : 6306802047394

Option 3 ID : 6306802047391

Option 4 ID : 6306802047392

Status : Answered

Chosen Option : 3

Q.7 6 वर्षों के लिए 3% प्रति वर्ष की ब्याज दर पर उधार ली गई राशि ₹4000 पर साधारण ब्याज (₹ में) ज्ञात कीजिए।

- Ans
- 1. 680
 - 2. 660
 - 3. 720
 - 4. 760

Question Type : MCQ

Question ID : 630680591997

Option 1 ID : 6306802316458

Option 2 ID : 6306802316457

Option 3 ID : 6306802316455

Option 4 ID : 6306802316456

Status : Answered

Chosen Option : 3



Download SSC CGL, CHSL E-BOOKS

[CLICK HERE](#)

Q.8 एक ΔXYZ का केन्द्रक (centroid) G है। ΔXYZ का क्षेत्रफल 45 cm^2 है। ΔGYZ का क्षेत्रफल कितना है?

- Ans
- 1. 22.5 cm^2
 - 2. 30 cm^2
 - 3. 7.5 cm^2
 - 4. 15 cm^2

Question Type : MCQ

Question ID : 630680103395

Option 1 ID : 630680401824

Option 2 ID : 630680401823

Option 3 ID : 630680401825

Option 4 ID : 630680401826

Status : Answered

Chosen Option : 1

Q.9 एक कार 80 km की दूरी 20 km/h की चाल से और अगले 30 km की दूरी 30 km/h की चाल से तय करती है। इसकी औसत चाल कितनी है?

- Ans
- 1. 20 km/h
 - 2. 22 km/h
 - 3. 40 km/h
 - 4. 30 km/h

Question Type : MCQ

Question ID : 630680287413

Option 1 ID : 6306801117560

Option 2 ID : 6306801117561

Option 3 ID : 6306801117562

Option 4 ID : 6306801117559

Status : Answered

Chosen Option : 2

Q.10 एक बर्तन खोखले गोलाघे के आकार का है, जिस पर एक खोखला बेलन लगा हुआ है। गोलाघे का व्यास 28 cm है और बर्तन की कुल ऊँचाई 20 cm है। इस बर्तन का आंतरिक घूर्णीय क्षेत्रफल (cm^2 में) ज्ञात कीजिए।
($\pi = \frac{22}{7}$ का उपयोग कीजिए)

- Ans
- 1. 1720
 - 2. 1760
 - 3. 1780
 - 4. 1740

Question Type : MCQ

Question ID : 630680379656

Option 1 ID : 6306801479667

Option 2 ID : 6306801479669

Option 3 ID : 6306801479670

Option 4 ID : 6306801479668

Status : Answered

Chosen Option : 2



Download SSC CGL, CHSL E-BOOKS

CLICK HERE

Q.11 40 kg, 49 kg, 56 kg, 66 kg और 38 kg वजन के पांच सदस्यों वाले परिवार का औसत वजन (kg में) ज्ञात कीजिए।

- Ans 1. 51.8
 2. 49.8
 3. 50.8
 4. 48.8

Question Type : MCQ
Question ID : 630680551637
Option 1 ID : 6306802156776
Option 2 ID : 6306802156773
Option 3 ID : 6306802156774
Option 4 ID : 6306802156775
Status : Answered
Chosen Option : 2

Q.12 एक कक्षा में 40 छात्र हैं। उनका औसत वजन 60 kg है। दो छात्र कक्षा छोड़ देते हैं और औसत वजन 500 g कम हो जाता है। कक्षा छोड़ने वाले दो छात्रों का वजन (kg में) ज्ञात कीजिए।

- Ans 1. 130
 2. 140
 3. 139
 4. 129

Question Type : MCQ
Question ID : 630680419650
Option 1 ID : 6306801637097
Option 2 ID : 6306801637096
Option 3 ID : 6306801637098
Option 4 ID : 6306801637099
Status : Answered
Chosen Option : 1

Q.13 एक दुकानदार 20 केक बेचकर 4 केक का विक्रय मूल्य अर्जित करता है। लाभ प्रतिशत ज्ञात करें।

- Ans 1. 4%
 2. 10%
 3. 20%
 4. 25%

Question Type : MCQ
Question ID : 630680103840
Option 1 ID : 630680403593
Option 2 ID : 630680403594
Option 3 ID : 630680403591
Option 4 ID : 630680403592
Status : Answered
Chosen Option : 4



Download SSC CGL, CHSL E-BOOKS

[CLICK HERE](#)

Q.14 40 kg, 49 kg, 56 kg, 65 kg और 38 kg वज़न वाले पांच सदस्यों के एक परिवार का औसत वजन (kg में) कितना होगा?

Ans 1. 49.6

2. 50.6

3. 51.6

4. 48.6

Question Type : MCQ

Question ID : 630680551632

Option 1 ID : 6306802156753

Option 2 ID : 6306802156754

Option 3 ID : 6306802156756

Option 4 ID : 6306802156755

Status : Answered

Chosen Option : 1

Q.15 एक व्यक्ति को एक वस्तु 22% छूट पर मिली, यदि उसे कोई छूट नहीं मिली होती, तो उसे ₹1,760 अधिक भुगतान करना होता। उसने वस्तु के लिए कितना भुगतान (₹ में) किया?

Ans 1. 6,360

2. 5,120

3. 5,640

4. 6,240

Question Type : MCQ

Question ID : 630680397526

Option 1 ID : 6306801550025

Option 2 ID : 6306801550022

Option 3 ID : 6306801550023

Option 4 ID : 6306801550024

Status : Answered

Chosen Option : 2

Q.16 96 km की यात्रा के लिए एक तेज़ ट्रेन, धीमी ट्रेन से 1 घंटे कम समय लेती है। यदि धीमी ट्रेन की चाल तेज़ ट्रेन की चाल से 8 km/h कम है, तो क्रमशः तेज़ ट्रेन और धीमी ट्रेन की चाल ज्ञात कीजिए।

Ans 1. 34 km/h, 28 km/h

2. 12 km/h, 14 km/h

3. 32 km/h, 24 km/h

4. 26 km/h, 34 km/h

Question Type : MCQ

Question ID : 630680135114

Option 1 ID : 630680523243

Option 2 ID : 630680523245

Option 3 ID : 630680523244

Option 4 ID : 630680523242

Status : Answered

Chosen Option : 3



Download SSC CGL, CHSL E-BOOKS

[CLICK HERE](#)

Q.17 दिए गए बार ग्राफ का ध्यानपूर्वक अध्ययन कीजिए और निम्नलिखित प्रश्न का उत्तर दीजिए।



1991 और 1994 के बीच में हुए खाद्यान्न उत्पादन में कितना अंतर था?

- Ans
- 1. 15000 टन
 - 2. 5000 टन
 - 3. 500 टन
 - 4. 10000 टन

Question Type : MCQ

Question ID : 630680422443

Option 1 ID : 6306801648209

Option 2 ID : 6306801648211

Option 3 ID : 6306801648210

Option 4 ID : 6306801648208

Status : Answered

Chosen Option : 4

Q.18 360 टॉफियाँ पुष्कल, कदिर और रुस्तम के बीच 2 : 3 : 4 के अनुपात में वितरित की जाती हैं। वितरण के बाद, कदिर अपनी टॉफियों का 20% पुष्कल को देता है और रुस्तम अपनी टॉफियों का 25% पुष्कल को देता है। पुष्कल, कदिर और रुस्तम के पास टॉफियों का नया अनुपात क्या है?

- Ans
- 1. 6 : 4 : 5
 - 2. 3 : 5 : 7
 - 3. 7 : 3 : 5
 - 4. 5 : 4 : 6

Question Type : MCQ

Question ID : 630680477499

Option 1 ID : 6306801865155

Option 2 ID : 6306801865153

Option 3 ID : 6306801865156

Option 4 ID : 6306801865154

Status : Answered

Chosen Option : 3



Download SSC CGL, CHSL E-BOOKS

[CLICK HERE](#)

Q.19 किस राशि (₹ में) पर 16% प्रति वर्ष की ब्याज दर से 2 वर्षों में ₹240 का साधारण ब्याज अर्जित होगा?

- Ans 1. 375
 2. 1000
 3. 750
 4. 1500

Question Type : **MCQ**
Question ID : **630680612170**
Option 1 ID : **6306802395413**
Option 2 ID : **6306802395415**
Option 3 ID : **6306802395412**
Option 4 ID : **6306802395414**
Status : **Answered**
Chosen Option : **3**

Q.20 513,1134 और 1215 का महत्तम समापवर्तक (HCF) क्या है?

- Ans 1. 43
 2. 27
 3. 19
 4. 45

Question Type : **MCQ**
Question ID : **63068079549**
Option 1 ID : **630680308235**
Option 2 ID : **630680308233**
Option 3 ID : **630680308234**
Option 4 ID : **630680308236**
Status : **Answered**
Chosen Option : **2**

Section : Reasoning Ability and Problem Solving



Download SSC CGL, CHSL E-BOOKS

[CLICK HERE](#)

Q.1 दिए गए कथनों और निष्कर्षों को ध्यानपूर्वक पढ़िए। यह मानते हुए कि कथनों में दी गई जानकारी सत्य है, भले ही यह सामान्यतः ज्ञात तथ्यों से भिन्न प्रतीत होती हो, तय कीजिए कि दिए गए निष्कर्षों में से कौन-सा/से निष्कर्ष कथनों का तार्किक रूप से अनुसरण करता/करते है/हैं।

कथन:

सभी पेंसिलें, रिमोट हैं।

कुछ पेंसिलें, एसी हैं।

निष्कर्ष:

[1] कुछ एसी, रिमोट हैं।

[2] सभी रिमोट, एसी हैं।

- Ans
- 1. न तो निष्कर्ष [1] और न ही [2] अनुसरण करता है
 - 2. केवल निष्कर्ष [1] अनुसरण करता है
 - 3. केवल निष्कर्ष [2] अनुसरण करता है
 - 4. निष्कर्ष [1] और [2] दोनों अनुसरण करते हैं

Question Type : MCQ

Question ID : 630680398016

Option 1 ID : 6306801552080

Option 2 ID : 6306801552078

Option 3 ID : 6306801552079

Option 4 ID : 6306801552081

Status : Answered

Chosen Option : 2

Q.2 यदि '+' और '÷' को आपस में बदल दिया जाए तथा '×' और '-' को आपस में बदल दिया जाए, तो निम्नलिखित समीकरण में '?' के स्थान पर क्या आएगा?

$$48 \times 16 - 20 \div 21 + 7 = ?$$

- Ans
- 1. -259
 - 2. -269
 - 3. 269
 - 4. 259

Question Type : MCQ

Question ID : 630680382170

Option 1 ID : 6306801489598

Option 2 ID : 6306801489595

Option 3 ID : 6306801489596

Option 4 ID : 6306801489597

Status : Answered

Chosen Option : 2



Download SSC CGL, CHSL E-BOOKS

[CLICK HERE](#)

Q.3 निम्नलिखित समीकरण को गणितीय रूप से सही बनाने के लिए किन दो चिह्नों को आपस में बदला जाना चाहिए?

$$15 \times 14 - 8 + 12 \div 4 = 5$$

- Ans
- 1. + और -
 - 2. + और +
 - 3. × और -
 - 4. × और +

Question Type : MCQ

Question ID : 630680379167

Option 1 ID : 6306801477717

Option 2 ID : 6306801477716

Option 3 ID : 6306801477715

Option 4 ID : 6306801477718

Status : Answered

Chosen Option : 4

Q.4 अंग्रेजी वर्णानुक्रम के आधार पर दी गई श्रृंखला में प्रश्न चिह्न (?) के स्थान पर क्या आना चाहिए?

SXG, QVI, OTK, MRM, ?

- Ans
- 1. LPP
 - 2. LPO
 - 3. KPO
 - 4. KPP

Question Type : MCQ

Question ID : 630680459271

Option 1 ID : 6306801793939

Option 2 ID : 6306801793940

Option 3 ID : 6306801793938

Option 4 ID : 6306801793937

Status : Answered

Chosen Option : 3

Q.5 एक निश्चित तर्क का अनुसरण करते हुए 16, 176 से संबंधित है। उसी तर्क का अनुसरण करते हुए 21, 231 से संबंधित है। उसी तर्क का अनुसरण करते हुए, 33 निम्नलिखित में से किससे संबंधित है?

(ध्यान दें: संख्याओं को उनके घटक अंकों में अलग-अलग किए बिना पूर्ण संख्याओं पर संक्रियाएं की जानी चाहिए। उदाहरण के लिए संख्या 13 - संख्या 13 पर संक्रियाएं जैसे 13 को जोड़ना/घटाना/गुणा करना आदि किया जा सकता है। 13 को 1 और 3 में अलग-अलग करने की और फिर 1 और 3 पर गणितीय संक्रियाएं करने की अनुमति नहीं है।)

- Ans
- 1. 362
 - 2. 364
 - 3. 363
 - 4. 361

Question Type : MCQ

Question ID : 630680441680

Option 1 ID : 6306801724335

Option 2 ID : 6306801724337

Option 3 ID : 6306801724336

Option 4 ID : 6306801724334

Status : Answered

Chosen Option : 3



Download SSC CGL, CHSL E-BOOKS

[CLICK HERE](#)

Q.6 एक निश्चित कूट भाषा में, यदि 'HOUSE' को '67' लिखा जाता है तथा 'GROUND' को '83' लिखा जाता है, तो उसी कूट भाषा में 'KITCHEN' को कैसे लिखा जाएगा?

Ans 1. 130

2. 119

3. 122

4. 110

Question Type : MCQ

Question ID : 630680465408

Option 1 ID : 6306801817670

Option 2 ID : 6306801817668

Option 3 ID : 6306801817669

Option 4 ID : 6306801817667

Status : Answered

Chosen Option : 2

Q.7 निम्नलिखित श्रृंखला में प्रश्न-चिन्ह (?) के स्थान पर क्या आना चाहिए?

4, -27, -58, -89, -120, ?

Ans 1. -151

2. -131

3. 151

4. -141

Question Type : MCQ

Question ID : 630680799058

Option 1 ID : 6306803131036

Option 2 ID : 6306803131034

Option 3 ID : 6306803131037

Option 4 ID : 6306803131035

Status : Answered

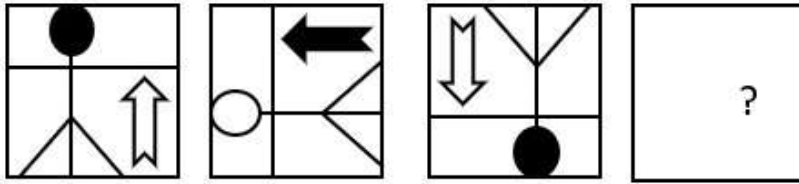
Chosen Option : 1



Download SSC CGL, CHSL E-BOOKS

[CLICK HERE](#)

Q.8 विकल्पों में से उस आकृति का चयन कीजिए जो प्रश्न-चिह्न (?) के स्थान पर आकर श्रृंखला को तार्किक रूप से पूरा कर सकती है।



Ans

- ✗ 1.
- ✗ 2.
- ✗ 3.
- ✓ 4.

Question Type : MCQ

Question ID : 630680279339

Option 1 ID : 6306801085625

Option 2 ID : 6306801085623

Option 3 ID : 6306801085624

Option 4 ID : 6306801085626

Status : Answered

Chosen Option : 4

Q.9 एक निश्चित कूट भाषा में, 'he may eat rice' को 'ki mi ji ji' लिखा जाता है और 'she will like rice' को 'ni qi mi pi' लिखा जाता है। उसी कूट भाषा में 'rice' को कैसे लिखा जाएगा?

- Ans
- 1. qi
 - 2. ni
 - 3. mi
 - 4. ji

Question Type : MCQ

Question ID : 630680439029

Option 1 ID : 6306801713930

Option 2 ID : 6306801713929

Option 3 ID : 6306801713928

Option 4 ID : 6306801713931

Status : Answered

Chosen Option : 3

Q.10 किसी निश्चित कूट भाषा में, 'COPY' को '2846' के रूप में कूटबद्ध किया जाता है और 'APES' को '7321' के रूप में कूटबद्ध किया जाता है। उसी भाषा में 'P' के लिए क्या कूट होगा?

- Ans
- 1. 3
 - 2. 4
 - 3. 2
 - 4. 1

Question Type : MCQ

Question ID : 630680386585

Option 1 ID : 6306801507051

Option 2 ID : 6306801507050

Option 3 ID : 6306801507053

Option 4 ID : 6306801507052

Status : Answered

Chosen Option : 3



Download SSC CGL, CHSL E-BOOKS

[CLICK HERE](#)

Q.11 दिए गए विकल्पों में से उस आकृति को चुनिए जो निम्नलिखित श्रृंखला में प्रश्न चिह्न (?) के स्थान पर आ सकती है और पैटर्न को पूरा कर सकती है।

B	T	O	8	O	6	O	8	<input type="checkbox"/>	T	<input type="checkbox"/>	B	
	V	6		T	V		6	B		8	6	?
8		<input type="checkbox"/>	<input type="checkbox"/>		B	T		V	V		O	

Ans

✗ 1.

O	6	V
	T	<input type="checkbox"/>
B		8

✓ 2.

<input type="checkbox"/>	T	V
	B	O
8		6

✗ 3.

O	6	V
	B	<input type="checkbox"/>
8		T

✗ 4.

O	B	<input type="checkbox"/>
	T	V
6		8

Question Type : MCQ

Question ID : 630680441089

Option 1 ID : 6306801722012

Option 2 ID : 6306801722011

Option 3 ID : 6306801722013

Option 4 ID : 6306801722010

Status : Answered

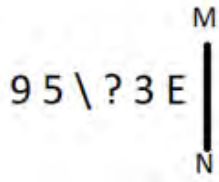
Chosen Option : 1



Download SSC CGL, CHSL E-BOOKS

[CLICK HERE](#)

Q.12 यदि दर्पण को नीचे दर्शाए गए अनुसार MN पर रखा जाए, तो दी गई आकृति के सही दर्पण प्रतिबिंब का चयन कीजिए।



- Ans
- 1. 3 E ? \ 5 6
 - 2. 6 5 \ ? 3 E
 - 3. 3 E ? / 2 9
 - 4. 3 E ? / 2 9

Question Type : **MCQ**

Question ID : **630680525303**

Option 1 ID : **6306802053297**

Option 2 ID : **6306802053299**

Option 3 ID : **6306802053298**

Option 4 ID : **6306802053296**

Status : **Answered**

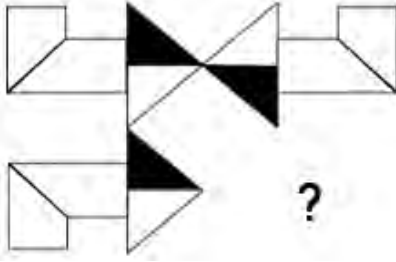
Chosen Option : **3**



Download SSC CGL, CHSL E-BOOKS

[CLICK HERE](#)

Q.13 दिए गए विकल्पों में से उस आकृति का चयन कीजिए जो पैटर्न को पूरा करने के लिए नीचे दी गई आकृति में प्रश्न चिह्न (?) के स्थान पर आएगी।



Ans

- 1.
- 2.
- 3.
- 4.

Question Type : MCQ

Question ID : 630680525744

Option 1 ID : 6306802055061

Option 2 ID : 6306802055062

Option 3 ID : 6306802055060

Option 4 ID : 6306802055063

Status : Answered

Chosen Option : 3

Q.14 अंग्रेजी वर्णमाला क्रम के आधार पर MHPL एक निश्चित प्रकार से OJRN से संबंधित है। ठीक उसी प्रकार, PKSO, RMUQ से संबंधित है। समान तर्क का अनुसरण करते हुए SNVR निम्नलिखित में से किससे संबंधित है?

- Ans 1. UPTX
2. PUXT
3. UPXT
4. PUTX

Question Type : MCQ

Question ID : 630680441615

Option 1 ID : 6306801724079

Option 2 ID : 6306801724081

Option 3 ID : 6306801724078

Option 4 ID : 6306801724080

Status : Answered

Chosen Option : 3



Download SSC CGL, CHSL E-BOOKS

[CLICK HERE](#)

Q.15 उस विकल्प का चयन करें जिसमें संख्याएं वही संबंध साझा करती हैं जो संख्याओं के दिए गए युग्म द्वारा साझा किया गया है।
48 : 42

- Ans 1. 69 : 32
 2. 48 : 24
 3. 63 : 28
 4. 65 : 28

Question Type : MCQ

Question ID : 630680402203

Option 1 ID : 6306801568444

Option 2 ID : 6306801568445

Option 3 ID : 6306801568446

Option 4 ID : 6306801568447

Status : Answered

Chosen Option : 2

Q.16 L, M, N, O, P, Q और R एक वृत्ताकार मेज के चारों ओर केंद्र की ओर मुख करके बैठे हैं (परंतु जरूरी नहीं कि वे इसी क्रम में बैठे हों)। R के बाएँ से गिनती करने पर R और O के बीच में केवल तीन व्यक्ति बैठे हैं। L और N के बीच में केवल M बैठा है। N, O का निकटतम पड़ोसी है। P, L के दाएँ से तीसरे स्थान पर बैठा है।

O के बाएँ से दूसरे स्थान पर कौन बैठा है?

- Ans 1. P
 2. R
 3. L
 4. Q

Question Type : MCQ

Question ID : 630680384370

Option 1 ID : 6306801498367

Option 2 ID : 6306801498369

Option 3 ID : 6306801498366

Option 4 ID : 6306801498368

Status : Answered

Chosen Option : 2

Q.17 अंग्रेजी वर्णानुक्रम के आधार पर, 'NQRP' एक निश्चित प्रकार से 'TXXV' से संबंधित है। ठीक उसी प्रकार, 'FHIG', 'LNOM' से संबंधित है। समान तर्क का अनुसरण करते हुए, 'LOPN' निम्नलिखित में से किससे संबंधित है?

- Ans 1. QSTR
 2. RSQT
 3. RUVT
 4. QTUS

Question Type : MCQ

Question ID : 630680392936

Option 1 ID : 6306801532085

Option 2 ID : 6306801532084

Option 3 ID : 6306801532082

Option 4 ID : 6306801532083

Status : Answered

Chosen Option : 3



Download SSC CGL, CHSL E-BOOKS

[CLICK HERE](#)

Q.18 दिए गए कथनों और निष्कर्षों को ध्यानपूर्वक पढ़िए। यह मानते हुए कि कथनों में दी गई जानकारी सत्य है, भले ही यह सामान्यतः ज्ञात तथ्यों से भिन्न प्रतीत होती हो, निर्णय लीजिए कि दिए गए निष्कर्षों में से कौन-सा/से निष्कर्ष कथनों का तार्किक रूप से अनुसरण करता/करते है/हैं।

कथन:

सभी पत्तियाँ, पेड़ हैं।

कुछ पेड़, पौधे हैं।

निष्कर्ष:

(I) कुछ पत्तियाँ, पौधे हैं।

(II) सभी पत्तियाँ, पेड़ हैं।

- Ans
- 1. केवल निष्कर्ष I अनुसरण करता है
 - 2. निष्कर्ष I और II दोनों अनुसरण करते हैं
 - 3. केवल निष्कर्ष II अनुसरण करता है
 - 4. न तो निष्कर्ष I और न ही II अनुसरण करता है

Question Type : MCQ

Question ID : 630680387624

Option 1 ID : 6306801511162

Option 2 ID : 6306801511164

Option 3 ID : 6306801511163

Option 4 ID : 6306801511165

Status : Answered

Chosen Option : 3

Q.19 A, B, C, L, M, Y और X एक वृत्ताकार मेज के चारों ओर केंद्र की ओर मुख करके बैठे हैं (परंतु जरूरी नहीं कि वे इसी क्रम में बैठे हों)। L के दाईं ओर से गिनने पर B और L के बीच में केवल दो व्यक्ति बैठे हैं। X, Y के ठीक बाईं ओर बैठा है। A, M के ठीक दाईं ओर बैठा है। Y, L का निकटतम पड़ोसी है। C के दाईं ओर से चौथे स्थान पर कौन बैठा है?

- Ans
- 1. L
 - 2. X
 - 3. A
 - 4. M

Question Type : MCQ

Question ID : 630680382200

Option 1 ID : 6306801489716

Option 2 ID : 6306801489717

Option 3 ID : 6306801489715

Option 4 ID : 6306801489718

Status : Answered

Chosen Option : 2



Download SSC CGL, CHSL E-BOOKS

CLICK HERE

Q.20 एक निश्चित कूट भाषा में, 'MASTER' को '917032' के रूप में कूटबद्ध किया जाता है और 'STREAK' को '372159' के रूप में कूटबद्ध किया जाता है। 'STREAK' में 'K' के लिए कूट क्या होगा?

Ans 1. 5

2. 9

3. 3

4. 7

Question Type : MCQ

Question ID : 630680876480

Option 1 ID : 6306803432685

Option 2 ID : 6306803432686

Option 3 ID : 6306803432684

Option 4 ID : 6306803432683

Status : Answered

Chosen Option : 1

Section : General Awareness

Q.1 _____, भारत सरकार द्वारा 2020 में देश तथा देश के नागरिकों को हर तरह से स्वतंत्र और आत्मनिर्भर बनाने के लिए शुरू किया गया था।

Ans 1. स्वच्छ भारत मिशन

2. डिजिटल इंडिया मिशन

3. स्मार्ट सिटी मिशन

4. आत्मनिर्भर भारत अभियान

Question Type : MCQ

Question ID : 63068087429

Option 1 ID : 630680339102

Option 2 ID : 630680339103

Option 3 ID : 630680339101

Option 4 ID : 630680339104

Status : Answered

Chosen Option : 4

Q.2 मार्च 2023 में केंद्रीय शिक्षा मंत्रालय द्वारा शुरू की गई न्यू इंडिया लिटरेसी प्रोग्राम (New India Literacy Program - NILP) योजना में कितने घटक हैं?

Ans 1. नौ

2. सात

3. तीन

4. पाँच

Question Type : MCQ

Question ID : 630680465519

Option 1 ID : 6306801818114

Option 2 ID : 6306801818113

Option 3 ID : 6306801818111

Option 4 ID : 6306801818112

Status : Answered

Chosen Option : 2



Download SSC CGL, CHSL E-BOOKS

[CLICK HERE](#)

Q.3 राष्ट्रीय बहुआयामी गरीबी सूचकांक 2023 (एक प्रगति समीक्षा) के अनुसार, 2019-2021 में शहरी भारत में बहुआयामी गरीबी (कुल गणना अनुपात) में जनसंख्या का कितना अंश (proportion) था?

- Ans
- 1. 2.12%
 - 2. 5.27%
 - 3. 6.96%
 - 4. 11.32%

Question Type : MCQ
Question ID : 630680477667
Option 1 ID : 6306801865816
Option 2 ID : 6306801865817
Option 3 ID : 6306801865818
Option 4 ID : 6306801865819
Status : Answered
Chosen Option : 1

Q.4 निम्नलिखित में से कौन-सा युद्ध नृत्य नागदा उत्सव (Ngada festival) में किया जाता है और नागालैंड की जनजातियों द्वारा किया जाता है?

- Ans
- 1. दलखाई (Dalkhai)
 - 2. गरदी (Garadi)
 - 3. जवारा (Jawara)
 - 4. रेंगमा (Rengma)

Question Type : MCQ
Question ID : 630680309150
Option 1 ID : 6306801202777
Option 2 ID : 6306801202778
Option 3 ID : 6306801202779
Option 4 ID : 6306801202780
Status : Answered
Chosen Option : 4

Q.5 निम्नलिखित में से कौन-सा कथन लवक (प्लास्टिड) के बारे में सत्य नहीं है?

- Ans
- 1. उनके अपने स्वयं के राइबोसोम होते हैं।
 - 2. उनका अपना स्वयं का डीएनए होता है।
 - 3. स्टार्च, तेल और प्रोटीन कण वर्णलवक (chromoplasts) में जमा होते हैं।
 - 4. हरित लवक (chloroplast) में पीठिका पाई जाती है।

Question Type : MCQ
Question ID : 630680422174
Option 1 ID : 6306801647133
Option 2 ID : 6306801647132
Option 3 ID : 6306801647134
Option 4 ID : 6306801647135
Status : Answered
Chosen Option : 3



Download SSC CGL, CHSL E-BOOKS

[CLICK HERE](#)

Q.6 उत्तर प्रदेश के पिपरहवा (Piprahwa) में स्तूप के निर्माण में मुख्यतः किस सामग्री का प्रयोग किया गया था?

- Ans
- 1. बलुआ पत्थर
 - 2. ग्रेनाइट पत्थर
 - 3. संगमरमर
 - 4. ईंट

Question Type : MCQ
Question ID : 630680158674
Option 1 ID : 630680614190
Option 2 ID : 630680614191
Option 3 ID : 630680614189
Option 4 ID : 630680614188
Status : Answered
Chosen Option : 1

Q.7 'द नेमसेक', 'अनकस्टम्ड अर्थ' और 'द लोलैड' निम्नलिखित लेखकों में से किसके द्वारा लिखे गए उपन्यास हैं?

- Ans
- 1. अरुंधति राँय
 - 2. शोभा डे
 - 3. अरविंद अडिग
 - 4. झुम्पा लाहिड़ी

Question Type : MCQ
Question ID : 630680512095
Option 1 ID : 6306802001352
Option 2 ID : 6306802001351
Option 3 ID : 6306802001350
Option 4 ID : 6306802001353
Status : Answered
Chosen Option : 2

Q.8 भारत में राष्ट्रीय एकता दिवस कब मनाया जाता है?

- Ans
- 1. 2 अक्टूबर
 - 2. 14 नवंबर
 - 3. 26 जनवरी
 - 4. 31 अक्टूबर

Question Type : MCQ
Question ID : 630680157883
Option 1 ID : 630680611062
Option 2 ID : 630680611063
Option 3 ID : 630680611060
Option 4 ID : 630680611061
Status : Answered
Chosen Option : 2



Download SSC CGL, CHSL E-BOOKS

[CLICK HERE](#)

Q.9 स्तंभ A में दिए गए ब्रिटिश भारत के राजनीतिक दलों को, स्तंभ B में दिए गए उनके संस्थापकों के साथ सुमेलित कीजिए।

स्तंभ A (राजनीतिक दल)	स्तंभ B (संस्थापक)
a. अखिल भारतीय फॉरवर्ड ब्लॉक	i. दयानंद सरस्वती
b. आर्य समाज	ii. जय प्रकाश नारायण
c. कांग्रेस समाजवादी दल	iii. सुरेंद्र नाथ बनर्जी
d. इंडियन नेशनल लिबरल फेडरेशन	iv. सुभाष चंद्र बोरा

Ans 1. a-iii, b-iv, c-i, d-ii

2. a-iv, b-i, c-ii, d-iii

3. a-ii, b-i, c-iv, d-iii

4. a-ii, b-iii, c-iv, d-i

Question Type : MCQ

Question ID : 63068033537

Option 1 ID : 6306801297421

Option 2 ID : 6306801297424

Option 3 ID : 6306801297422

Option 4 ID : 6306801297423

Status : Answered

Chosen Option : 2

Q.10 निम्नलिखित में से किसने विद्रोहियों का सफाया कर विस्तार के स्थान पर समेकन (consolidation) की नीति अपनाई?

Ans 1. नसीरुद्दीन महमूद

2. गयासुद्दीन बलबन

3. शमसुद्दीन इल्तुतमिश

4. रजिया

Question Type : MCQ

Question ID : 630680282896

Option 1 ID : 6306801099718

Option 2 ID : 6306801099716

Option 3 ID : 6306801099717

Option 4 ID : 6306801099715

Status : Answered

Chosen Option : 1



Download SSC CGL, CHSL E-BOOKS

[CLICK HERE](#)

Q.11 1 kg और 2 kg के दो पिंड 3.2 मीटर की ऊँचाई से गिराए जाते हैं। जमीन को छूने से ठीक पहले उनके सापेक्ष वेग ज्ञात कीजिए।
(मान लीजिए गुरुत्वीय त्वरण $g = 10 \text{ m/s}^2$)

- Ans
- 1. 8 m/s और 4 m/s
 - 2. दोनों का 8 m/s
 - 3. दोनों का 3.2 m/s
 - 4. 4 m/s और 8 m/s

Question Type : MCQ
Question ID : 630680419685
Option 1 ID : 6306801637238
Option 2 ID : 6306801637240
Option 3 ID : 6306801637237
Option 4 ID : 6306801637239
Status : Answered
Chosen Option : 4

Q.12 कुख्यात जलियांवाला बाग हत्याकांड की जांच के लिए निम्नलिखित में से किस आयोग का गठन किया गया था?

- Ans
- 1. हेनरी फाउलर आयोग
 - 2. बटलर आयोग
 - 3. सैडलर आयोग
 - 4. हंटर आयोग

Question Type : MCQ
Question ID : 630680214230
Option 1 ID : 630680830970
Option 2 ID : 630680830968
Option 3 ID : 630680830967
Option 4 ID : 630680830969
Status : Answered
Chosen Option : 4

Q.13 आग्नेय, अवसादी और कार्यांतरित शैल _____ नामक एक सतत प्रक्रम के माध्यम से परस्पर परिवर्तनीय होते हैं।

- Ans
- 1. शिलीयन (lithification)
 - 2. कार्यांतरण (metamorphism)
 - 3. शैल चक्र (rock cycle)
 - 4. अपक्षय और अपरदन (weathering and erosion)

Question Type : MCQ
Question ID : 630680456079
Option 1 ID : 6306801781258
Option 2 ID : 6306801781256
Option 3 ID : 6306801781255
Option 4 ID : 6306801781257
Status : Answered
Chosen Option : 3



Download SSC CGL, CHSL E-BOOKS

[CLICK HERE](#)

Q.14 भारतीय संविधान के अनुच्छेद 360 के तहत निम्नलिखित में से किस प्रकार के आपातकाल की घोषणा की जाती है?

- Ans
- 1. संवैधानिक आपातकाल
 - 2. राष्ट्रीय आपातकाल
 - 3. वित्तीय आपातकाल
 - 4. राज्य आपातकाल

Question Type : MCQ
Question ID : 630680799044
Option 1 ID : 6306803130981
Option 2 ID : 6306803130978
Option 3 ID : 6306803130980
Option 4 ID : 6306803130979
Status : Answered
Chosen Option : 4

Q.15 निम्नलिखित में से कौन-सा/से कथन भारत में केंद्र सरकार के बजट (Union Government budget) के बारे में सही है?

- Ans
- 1. केवल a और b
 - 2. केवल a
 - 3. a, b और c सभी
 - 4. केवल c
- a. बजट लोगों की महत्वाकांक्षाओं को पूरा करने के लिए सरकार के दृष्टिकोण (vision) को दर्शाता है।
b. बजट सत्ता में मौजूद सरकार के वित्तीय प्रदर्शन की संक्षिप्त रपट (summary report) है।
c. बजट, केंद्र सरकार के विभिन्न मंत्रालयों द्वारा किए गए (meted out) व्यय का विवरण प्रदान करता है।

Question Type : MCQ
Question ID : 630680422556
Option 1 ID : 6306801648660
Option 2 ID : 6306801648659
Option 3 ID : 6306801648661
Option 4 ID : 6306801648662
Status : Answered
Chosen Option : 3

Q.16 'संगे मील से मुलाकात (Sange Meel Se Mulaqat)' किस प्रसिद्ध संगीतकार की डॉक्युमेंट्री है?

- Ans
- 1. हरि प्रसाद चौरसिया
 - 2. जाकिर हुसैन
 - 3. बिस्मिल्लाह खान
 - 4. एम.एस. गोपालकृष्णन

Question Type : MCQ
Question ID : 630680482215
Option 1 ID : 6306801883374
Option 2 ID : 6306801883375
Option 3 ID : 6306801883377
Option 4 ID : 6306801883376
Status : Answered
Chosen Option : 4



Download SSC CGL, CHSL E-BOOKS

[CLICK HERE](#)

Q.17 निम्नलिखित में से कौन-सा विकल्प भारत में लौह युग से संबंधित नहीं है?

- Ans 1. मेहरौली का लौह स्तंभ (Mehrauli iron pillar)
 2. चित्रित धूसर भांड (Painted grey ware)
 3. उत्तरी काली पॉलिश वाले भांड (Northern black polished ware)
 4. प्रगलन (Smelting)

Question Type : **MCQ**
Question ID : **63068070538**
Option 1 ID : **630680272777**
Option 2 ID : **630680272774**
Option 3 ID : **630680272775**
Option 4 ID : **630680272776**
Status : **Answered**
Chosen Option : 2

Q.18 भारत की राष्ट्रीय जनसंख्या नीति निम्नलिखित में से किस वर्ष जारी की गई थी?

- Ans 1. 2000
 2. 2015
 3. 1952
 4. 1995

Question Type : **MCQ**
Question ID : **630680696654**
Option 1 ID : **6306802728777**
Option 2 ID : **6306802728778**
Option 3 ID : **6306802728775**
Option 4 ID : **6306802728776**
Status : **Answered**
Chosen Option : 1

Q.19 प्रो कबड्डी लीग का कौन-सा संस्करण दिसंबर 2023 में शुरू किया गया था?

- Ans 1. 8वां
 2. 10वां
 3. 11वां
 4. 12वां

Question Type : **MCQ**
Question ID : **630680572130**
Option 1 ID : **6306802237385**
Option 2 ID : **6306802237384**
Option 3 ID : **6306802237386**
Option 4 ID : **6306802237387**
Status : **Answered**
Chosen Option : 3



Download SSC CGL, CHSL E-BOOKS

[CLICK HERE](#)

Q.20 काल बैसाखी निम्नलिखित में से किस राज्य से संबंधित है?

- Ans
- 1. बिहार
 - 2. पंजाब
 - 3. राजस्थान
 - 4. पश्चिम बंगाल

Question Type : MCQ
Question ID : 630680328138
Option 1 ID : 6306801276522
Option 2 ID : 6306801276523
Option 3 ID : 6306801276521
Option 4 ID : 6306801276524
Status : Answered
Chosen Option : 2

Q.21 मल्लिका साराभाई को निम्नलिखित में से किस क्षेत्र में उनके योगदान के लिए 2010 में पद्म भूषण से सम्मानित किया गया था?

- Ans
- 1. नृत्य
 - 2. गायन
 - 3. साहित्य
 - 4. चित्रकला

Question Type : MCQ
Question ID : 630680484039
Option 1 ID : 6306801890514
Option 2 ID : 6306801890515
Option 3 ID : 6306801890516
Option 4 ID : 6306801890517
Status : Answered
Chosen Option : 4

Q.22 भारतीय संविधान ने समवर्ती सूची की अवधारणा निम्नलिखित में से किस देश से ली है?

- Ans
- 1. यूएसए
 - 2. रूस
 - 3. ऑस्ट्रेलिया
 - 4. आयरलैंड

Question Type : MCQ
Question ID : 630680547896
Option 1 ID : 6306802142131
Option 2 ID : 6306802142133
Option 3 ID : 6306802142132
Option 4 ID : 6306802142134
Status : Answered
Chosen Option : 2



Download SSC CGL, CHSL E-BOOKS

[CLICK HERE](#)

Q.23 जून 2023 में, किस देश ने नरेंद्र मोदी को 'ऑर्डर ऑफ द नाइल (Order of the Nile)' पुरस्कार से सम्मानित किया?

- Ans 1. मिस्र
 2. लेबनान
 3. टर्की
 4. सिंगापुर

Question Type : MCQ
Question ID : 630680468927
Option 1 ID : 6306801831477
Option 2 ID : 6306801831476
Option 3 ID : 6306801831475
Option 4 ID : 6306801831478
Status : Answered
Chosen Option : 4

Q.24 जंतु जगत में, निम्नलिखित में से किस संघ में खंडयुक्त शरीर (segmented body) वाले जंतु शामिल हैं?

- Ans 1. मोलस्का (Mollusca)
 2. एनेलिडा (Annelida)
 3. आर्थ्रोपोडा (Arthropoda)
 4. कॉर्डेटा (Chordata)

Question Type : MCQ
Question ID : 630680619081
Option 1 ID : 6306802422602
Option 2 ID : 6306802422603
Option 3 ID : 6306802422601
Option 4 ID : 6306802422600
Status : Answered
Chosen Option : 3

Q.25 शतरंज में _____ तब होता है, जब कोई खिलाड़ी कुछ लाभ पाने के लिए शुरुआती चाल के दौरान मोहरा गवा देता है।

- Ans 1. कैसलिंग (Castling)
 2. गैम्बिट (Gambit)
 3. नाकाबंदी (Blockade)
 4. निक (Nick)

Question Type : MCQ
Question ID : 630680553407
Option 1 ID : 6306802163521
Option 2 ID : 6306802163523
Option 3 ID : 6306802163520
Option 4 ID : 6306802163522
Status : Answered
Chosen Option : 1

Section : English Language and Comprehension



Download SSC CGL, CHSL E-BOOKS

[CLICK HERE](#)

Q.1 Select the grammatically correct sentence.

- Ans 1. The teacher from an South explained a theory in a detailed manner.
 2. A teacher from South explained the theory in the detailed manners.
 3. The teacher from the South explained the theory in a detailed manner.
 4. The teacher from a South explained the theory in the detailed manner.

Question Type : MCQ
Question ID : 6306801106307
Option 1 ID : 6306804345661
Option 2 ID : 6306804345660
Option 3 ID : 6306804345658
Option 4 ID : 6306804345659
Status : Answered
Chosen Option : 4

Q.2 Select the most appropriate synonym of the given word.
Vigorous

- Ans 1. Academic
 2. Guarded
 3. Energetic
 4. Furious

Question Type : MCQ
Question ID : 630680397580
Option 1 ID : 6306801550243
Option 2 ID : 6306801550241
Option 3 ID : 6306801550242
Option 4 ID : 6306801550244
Status : Answered
Chosen Option : 4

Q.3 The given sentence is divided into four segments. Select the option that has the segment with a grammatical error.

I left my / coat in the / hospital when I / had visit Alex.

- Ans 1. I left my
 2. had visit Alex.
 3. hospital when I
 4. coat in the

Question Type : MCQ
Question ID : 630680310735
Option 1 ID : 6306801209069
Option 2 ID : 6306801209072
Option 3 ID : 6306801209071
Option 4 ID : 6306801209070
Status : Answered
Chosen Option : 1



Download SSC CGL, CHSL E-BOOKS

[CLICK HERE](#)

Q.4 Select the correct spelling of the underlined word.

She has a magnificent personality.

- Ans
- 1. Megnifecent
 - 2. Magnificent
 - 3. Megnificent
 - 4. Magnifecient

Question Type : MCQ
Question ID : 6306801046661
Option 1 ID : 6306804108772
Option 2 ID : 6306804108770
Option 3 ID : 6306804108769
Option 4 ID : 6306804108771
Status : Answered
Chosen Option : 2

Q.5 Select the most appropriate option that can substitute the underlined words in the given sentence.

The walls of the marriage hall were covered by beautiful purple curtains.

- Ans
- 1. covered with
 - 2. covered on
 - 3. covered upon
 - 4. covered of

Question Type : MCQ
Question ID : 630680551426
Option 1 ID : 6306802155929
Option 2 ID : 6306802155930
Option 3 ID : 6306802155932
Option 4 ID : 6306802155931
Status : Answered
Chosen Option : 4

Q.6 Based on the situation in the given sentence, select the most appropriate idiom for the underlined segment.

Having known to the facts, the manager disregarded the arguments of the customer.

- Ans
- 1. Turned a deaf ear
 - 2. Turned out
 - 3. Bite the Bullet
 - 4. Turned against

Question Type : MCQ
Question ID : 630680402715
Option 1 ID : 6306801570461
Option 2 ID : 6306801570463
Option 3 ID : 6306801570464
Option 4 ID : 6306801570462
Status : Not Answered
Chosen Option : --



Q.7 Select the most appropriate ANTONYM of the word given in brackets to fill in the blank.

He was able to do _____(tedious) jobs and hence decided to be in the airline service, which demanded 12 long hours of service.

Ans 1. delightful

2. irksome

3. timid

4. riotous

Question Type : MCQ

Question ID : 630680411058

Option 1 ID : 6306801602984

Option 2 ID : 6306801602985

Option 3 ID : 6306801602986

Option 4 ID : 6306801602987

Status : Answered

Chosen Option : 3

Q.8 Select the most appropriate option to fill in the blanks.

If 2023 was ___ year consumers helped stave off a recession with an unexpected surge in spending, many economists _____ 2024 will be the time shoppers finally tighten their belts.

Ans 1. a, see

2. an, thought

3. the, predict

4. a, wanted

Question Type : MCQ

Question ID : 630680546887

Option 1 ID : 6306802138117

Option 2 ID : 6306802138119

Option 3 ID : 6306802138118

Option 4 ID : 6306802138120

Status : Answered

Chosen Option : 2

Q.9 Select the sentence that contains a spelling error.

Ans 1. We saw a pride of lions nonchalantly roaming in the forest.

2. Despite his formidable appearance, he possesses a kind heart.

3. He has made significant improvement in the last few weeks.

4. They had been disgrantled with the company due to various reasons.

Question Type : MCQ

Question ID : 630680555347

Option 1 ID : 6306802170845

Option 2 ID : 6306802170847

Option 3 ID : 6306802170844

Option 4 ID : 6306802170846

Status : Answered

Chosen Option : 2



Download SSC CGL, CHSL E-BOOKS

[CLICK HERE](#)

Q.10 Select the most appropriate option that can substitute the underlined segment without changing its meaning in the given sentence.
Family planning programs play a crucial role in promoting reproductive health and empowering individuals to make informed choices, contributing to sustainable population growth and a healthier society.

- Ans
- 1. supporting sustainable population explosion
 - 2. discouraging a sustainable population upswing
 - 3. promoting a viable population increase
 - 4. fostering an unbalanced population growth

Question Type : MCQ
Question ID : 630680306518
Option 1 ID : 6306801192403
Option 2 ID : 6306801192401
Option 3 ID : 6306801192404
Option 4 ID : 6306801192402
Status : Answered
Chosen Option : 3

Q.11 Select the most appropriate option to fill in the blank.

The old man shared his _____ wisdom with the young generation.

- Ans
- 1. frivolous
 - 2. sagacious
 - 3. ephemeral
 - 4. trivial

Question Type : MCQ
Question ID : 630680598831
Option 1 ID : 6306802343084
Option 2 ID : 6306802343083
Option 3 ID : 6306802343085
Option 4 ID : 6306802343082
Status : Answered
Chosen Option : 1

Q.12 In the following sentence the underlined part contains an error. Alternatives to the underlined part are given as options.

Select the correct alternative.

Playing 'hide-n-seek' is the one of the fond memories of my childhood.

- Ans
- 1. more fonder
 - 2. fonder
 - 3. most fondest
 - 4. fondest

Question Type : MCQ
Question ID : 630680514707
Option 1 ID : 6306802011455
Option 2 ID : 6306802011453
Option 3 ID : 6306802011454
Option 4 ID : 6306802011456
Status : Not Answered
Chosen Option : --

Q.13 Select the most appropriate adjective to fill in the blank.

They needed a _____ answer for every question.

- Ans
- 1. more precise
 - 2. most precise
 - 3. precise
 - 4. preciser

Question Type : **MCQ**
Question ID : **63068087136**
Option 1 ID : **630680337933**
Option 2 ID : **630680337934**
Option 3 ID : **630680337935**
Option 4 ID : **630680337936**
Status : **Answered**
Chosen Option : 2

Q.14 Select the most appropriate synonym of the word 'Pamper' from the given sentence.
I always feel that nuclear families always mollycoddle their kids without directing them to the correct path or denying their unrealistic demands.

- Ans
- 1. Nuclear
 - 2. Path
 - 3. Demands
 - 4. Mollycoddle

Question Type : **MCQ**
Question ID : **630680426685**
Option 1 ID : **6306801664822**
Option 2 ID : **6306801664824**
Option 3 ID : **6306801664823**
Option 4 ID : **6306801664821**
Status : **Answered**
Chosen Option : 3

Q.15 Select the most appropriate ANTONYM of the given word.

Haste

- Ans
- 1. Delay
 - 2. Twist
 - 3. Speed
 - 4. Quick

Question Type : **MCQ**
Question ID : **630680594701**
Option 1 ID : **6306802326879**
Option 2 ID : **6306802326880**
Option 3 ID : **6306802326878**
Option 4 ID : **6306802326877**
Status : **Answered**
Chosen Option : 2

Q.16 Select the most appropriate meaning of the given idiom.

Clear as mud

- Ans 1. Very difficult to understand
 2. Very easy to understand
 3. A dirty surrounding
 4. A clean surface

Question Type : **MCQ**
Question ID : **630680461409**
Option 1 ID : **6306801801886**
Option 2 ID : **6306801801887**
Option 3 ID : **6306801801888**
Option 4 ID : **6306801801889**
Status : **Answered**
Chosen Option : 1

Q.17 Select the most appropriate ANTONYM of the given word.
Contrary

- Ans 1. Reverse
 2. Forward
 3. Similar
 4. Transformational

Question Type : **MCQ**
Question ID : **630680502802**
Option 1 ID : **6306801964790**
Option 2 ID : **6306801964789**
Option 3 ID : **6306801964791**
Option 4 ID : **6306801964792**
Status : **Answered**
Chosen Option : 4

Q.18 Select the option that rectifies the spelling of the underlined word in the given sentence.

The children were excited to ride the carusel.

- Ans 1. Carousell
 2. Carrousel
 3. Karusel
 4. Carousel

Question Type : **MCQ**
Question ID : **630680556332**
Option 1 ID : **6306802174653**
Option 2 ID : **6306802174654**
Option 3 ID : **6306802174656**
Option 4 ID : **6306802174655**
Status : **Answered**
Chosen Option : 2



Download SSC CGL, CHSL E-BOOKS

[CLICK HERE](#)

Q.19 Select the most appropriate option to fill in the blank.
The CEO came up with a groundbreaking strategy to _____ new markets
and capitalise on emerging trends.

- Ans 1. break into
 2. break out
 3. break down
 4. break off

Question Type : **MCQ**
Question ID : **630680597201**
Option 1 ID : **6306802336848**
Option 2 ID : **6306802336845**
Option 3 ID : **6306802336847**
Option 4 ID : **6306802336846**
Status : **Answered**
Chosen Option : 1

Q.20 Change the following sentence into positive degree.

Yash is not better than Harsh.

- Ans 1. Yash is best than Harsh.
 2. Yash is not good than Harsh.
 3. Yash is as good as Harsh.
 4. Yash and Harsh both are good.

Question Type : **MCQ**
Question ID : **630680514640**
Option 1 ID : **6306802011185**
Option 2 ID : **6306802011187**
Option 3 ID : **6306802011186**
Option 4 ID : **6306802011188**
Status : **Answered**
Chosen Option : 1



Download SSC CGL, CHSL E-BOOKS

[CLICK HERE](#)

Comprehension:

In the following passage, some words have been deleted. Read the passage carefully and select the most appropriate option to fill in each blank.

We should remember that all religions (1)_____ good conduct in life, the foundation of which should rest on (2)_____. Without the basis of morality, philosophy would remain mere polemics, and religion would be (3)_____ and vain. Nobody can say that he is religious unless he is (4)_____ and unselfish. It is realised that by constant endeavour through thought, word and deed, one could (5)_____ absolute peace of mind.

SubQuestion No : 21

Q.21 Select the most appropriate option to fill in blank number 1.

- Ans 1. preach
 2. depart
 3. refrain
 4. abandon

Question Type : **MCQ**

Question ID : **630680144537**

Option 1 ID : **630680559206**

Option 2 ID : **630680559208**

Option 3 ID : **630680559207**

Option 4 ID : **630680559209**

Status : **Answered**

Chosen Option : **1**

Comprehension:

In the following passage, some words have been deleted. Read the passage carefully and select the most appropriate option to fill in each blank.

We should remember that all religions (1)_____ good conduct in life, the foundation of which should rest on (2)_____. Without the basis of morality, philosophy would remain mere polemics, and religion would be (3)_____ and vain. Nobody can say that he is religious unless he is (4)_____ and unselfish. It is realised that by constant endeavour through thought, word and deed, one could (5)_____ absolute peace of mind.

SubQuestion No : 22

Q.22 Select the most appropriate option to fill in blank number 2.

- Ans 1. evil
 2. unconscientiousness
 3. ethics
 4. boundaries

Question Type : **MCQ**

Question ID : **630680144538**

Option 1 ID : **630680559211**

Option 2 ID : **630680559213**

Option 3 ID : **630680559212**

Option 4 ID : **630680559210**

Status : **Answered**

Chosen Option : **3**



Download SSC CGL, CHSL E-BOOKS

[CLICK HERE](#)

Comprehension:

In the following passage, some words have been deleted. Read the passage carefully and select the most appropriate option to fill in each blank.

We should remember that all religions (1)_____ good conduct in life, the foundation of which should rest on (2)_____. Without the basis of morality, philosophy would remain mere polemics, and religion would be (3)_____ and vain. Nobody can say that he is religious unless he is (4)_____ and unselfish. It is realised that by constant endeavour through thought, word and deed, one could (5)_____ absolute peace of mind.

SubQuestion No : 23

Q.23 Select the most appropriate option to fill in blank number 3.

Ans 1. meaningless

2. rational

3. useful

4. popular

Question Type : **MCQ**

Question ID : **630680144539**

Option 1 ID : **630680559216**

Option 2 ID : **630680559217**

Option 3 ID : **630680559214**

Option 4 ID : **630680559215**

Status : **Answered**

Chosen Option : **2**

Comprehension:

In the following passage, some words have been deleted. Read the passage carefully and select the most appropriate option to fill in each blank.

We should remember that all religions (1)_____ good conduct in life, the foundation of which should rest on (2)_____. Without the basis of morality, philosophy would remain mere polemics, and religion would be (3)_____ and vain. Nobody can say that he is religious unless he is (4)_____ and unselfish. It is realised that by constant endeavour through thought, word and deed, one could (5)_____ absolute peace of mind.

SubQuestion No : 24

Q.24 Select the most appropriate option to fill in blank number 4.

Ans 1. grotesque

2. truthful

3. lethargic

4. insensitive

Question Type : **MCQ**

Question ID : **630680144540**

Option 1 ID : **630680559220**

Option 2 ID : **630680559219**

Option 3 ID : **630680559221**

Option 4 ID : **630680559218**

Status : **Answered**

Chosen Option : **3**



Download SSC CGL, CHSL E-BOOKS

[CLICK HERE](#)

Comprehension:

In the following passage, some words have been deleted. Read the passage carefully and select the most appropriate option to fill in each blank.

We should remember that all religions (1)_____ good conduct in life, the foundation of which should rest on (2)_____. Without the basis of morality, philosophy would remain mere polemics, and religion would be (3)_____ and vain. Nobody can say that he is religious unless he is (4)_____ and unselfish. It is realised that by constant endeavour through thought, word and deed, one could (5)_____ absolute peace of mind.

SubQuestion No : 25

Q.25 Select the most appropriate option to fill in blank number 5.

Ans 1. scatter

2. acquire

3. forfeit

4. divide

Question Type : **MCQ**

Question ID : **630680144541**

Option 1 ID : **630680559223**

Option 2 ID : **630680559224**

Option 3 ID : **630680559225**

Option 4 ID : **630680559222**

Status : **Answered**

Chosen Option : **1**



Download SSC CGL, CHSL E-BOOKS

[CLICK HERE](#)