

Multi Tasking Non Technical Staff and Havaladar CBIC and CBN Examination 2024

Roll Number	
Candidate Name	
Venue Name	TCS Gito Bitan
Exam Date	08/10/2024
Exam Time	9:00 AM - 11:00 AM
Subject	MTS Non Tech Havaladar CBIC and CBN Examination 2024

Section : Numerical and Mathematical Ability

Q.1 एक क्रिकेट टीम के 11 खिलाड़ियों की औसत आयु में तब 2 महीने की वृद्धि हो जाती है, जब टीम के क्रमशः 20 वर्ष और 21 वर्ष की आयु वाले दो खिलाड़ियों के स्थान पर दो नए खिलाड़ी टीम में आ जाते हैं। दोनों नए खिलाड़ियों की औसत आयु (वर्षों में) ज्ञात कीजिए।

- Ans
- 1. $20\frac{1}{2}$
 - 2. $18\frac{5}{12}$
 - 3. $21\frac{5}{12}$
 - 4. $18\frac{1}{4}$

Question Type : MCQ

Question ID : 630680470254

Option 1 ID : 6306801836773

Option 2 ID : 6306801836771

Option 3 ID : 6306801836772

Option 4 ID : 6306801836770

Status : Answered

Chosen Option : 1

Q.2 एक कंप्यूटर के मूल्य में पहले वर्ष 10% की वृद्धि होती है, दूसरे वर्ष में 5% की कमी हो जाती है, और तीसरे वर्ष में 8% की वृद्धि होती है। यदि वास्तविक मूल्य ₹ 50,000 था, तो अंतिम मूल्य (₹ में) ज्ञात कीजिए।

- Ans
- 1. 54,120
 - 2. 55,100
 - 3. 55,830
 - 4. 56,430

Question Type : MCQ

Question ID : 630680481946

Option 1 ID : 6306801882279

Option 2 ID : 6306801882278

Option 3 ID : 6306801882277

Option 4 ID : 6306801882276

Status : Answered

Chosen Option : 1



Download SSC CGL, CHSL E-BOOKS

CLICK HERE

Q.3 यदि 25% और 15% की दो क्रमागत छूटें दी जाती हैं, तो निवल छूट प्रतिशत क्या होगा?

- Ans 1. 36.15%
 2. 36.25%
 3. 36.20%
 4. 36.10%

Question Type : MCQ
Question ID : 630680629648
Option 1 ID : 6306802464463
Option 2 ID : 6306802464465
Option 3 ID : 6306802464464
Option 4 ID : 6306802464462
Status : Answered
Chosen Option : 2

Q.4 70 और 90 का महत्तम समापवर्तक (HCF) ज्ञात कीजिए।

- Ans 1. 5
 2. 7
 3. 2
 4. 10

Question Type : MCQ
Question ID : 630680103342
Option 1 ID : 630680401628
Option 2 ID : 630680401629
Option 3 ID : 630680401627
Option 4 ID : 630680401630
Status : Answered
Chosen Option : 2

Q.5 एक चोर ने एक पुलिसकर्मी को देखा और वह 12 m/s की चाल से भागने लगा। एक निश्चित समय के बाद पुलिसकर्मी 18 m/s की चाल से चोर के पीछे दौड़ना शुरू करता है। यदि पुलिसकर्मी चोर को पकड़ने के लिए 540 m की दूरी तय करता है, तो कितने समय (सेकंड में) के बाद पुलिसकर्मी दौड़ना शुरू करता है?

- Ans 1. 10
 2. 15
 3. 12
 4. 18

Question Type : MCQ
Question ID : 630680262314
Option 1 ID : 6306801018897
Option 2 ID : 6306801018895
Option 3 ID : 6306801018896
Option 4 ID : 6306801018898
Status : Answered
Chosen Option : 1



Download SSC CGL, CHSL E-BOOKS

[CLICK HERE](#)

Q.6 निम्नलिखित तालिका का अध्ययन कीजिए और प्रश्न का उत्तर दीजिए।

लंबाई (cm में)	लड़कियों की संख्या
110 से कम और इसके बराबर	15
115 से कम और इसके बराबर	24
120 से कम और इसके बराबर	31
125 से कम और इसके बराबर	43
130 से कम और इसके बराबर	54
135 से कम और इसके बराबर	68

125 cm से अधिक की लंबाई वाली लड़कियों की संख्या कितनी है?

- Ans
- 1. 14
 - 2. 19
 - 3. 23
 - 4. 25

Question Type : MCQ

Question ID : 630680523814

Option 1 ID : 6306802047407

Option 2 ID : 6306802047408

Option 3 ID : 6306802047409

Option 4 ID : 6306802047410

Status : Answered

Chosen Option : 3

Q.7 4 वर्षों के लिए 3% वार्षिक की ब्याज दर पर उधार ली गई राशि ₹3000 पर साधारण ब्याज (₹ में) ज्ञात कीजिए।

- Ans
- 1. 400
 - 2. 320
 - 3. 360
 - 4. 300

Question Type : MCQ

Question ID : 630680591925

Option 1 ID : 6306802316168

Option 2 ID : 6306802316170

Option 3 ID : 6306802316167

Option 4 ID : 6306802316169

Status : Answered

Chosen Option : 3



Download SSC CGL, CHSL E-BOOKS

[CLICK HERE](#)

Q.8 एक व्यक्ति साइकिल चलाकर 12.5 सेकंड में 75 मीटर की दूरी तय करता है। उसकी चाल (km/hr में) कितनी है?

Ans 1. 21.6

2. 6

3. 15.5

4. 11.1

Question Type : MCQ

Question ID : 630680629780

Option 1 ID : 6306802465015

Option 2 ID : 6306802465014

Option 3 ID : 6306802465016

Option 4 ID : 6306802465017

Status : Answered

Chosen Option : 2

Q.9 अल्फ्रेड एक पुराना स्कूटर ₹4,700 में खरीदता है और इसकी मरम्मत पर ₹800 खर्च करता है। यदि वह स्कूटर को ₹5,800 में बेचता है, तो उसका लाभ प्रतिशत कितना होगा?

Ans 1. 4.5%

2. $6\frac{5}{11}\%$

3. $5\frac{4}{11}\%$

4. $5\frac{5}{11}\%$

Question Type : MCQ

Question ID : 630680115655

Option 1 ID : 630680447970

Option 2 ID : 630680447973

Option 3 ID : 630680447972

Option 4 ID : 630680447971

Status : Answered

Chosen Option : 1

Q.10 40 kg, 49 kg, 56 kg, 70 kg और 39 kg वजन के पांच सदस्यों वाले परिवार का औसत वजन (kg में) ज्ञात कीजिए।

Ans 1. 52.8

2. 51.8

3. 49.8

4. 50.8

Question Type : MCQ

Question ID : 630680551658

Option 1 ID : 6306802156860

Option 2 ID : 6306802156858

Option 3 ID : 6306802156859

Option 4 ID : 6306802156857

Status : Answered

Chosen Option : 2



Download SSC CGL, CHSL E-BOOKS

[CLICK HERE](#)

Q.11 6 वर्षों के लिए 3% वार्षिक की ब्याज दर पर उधार ली गई राशि ₹2500 पर साधारण ब्याज (₹ में) ज्ञात कीजिए।

Ans 1. 450

2. 390

3. 410

4. 490

Question Type : MCQ

Question ID : 630680591892

Option 1 ID : 6306802316035

Option 2 ID : 6306802316037

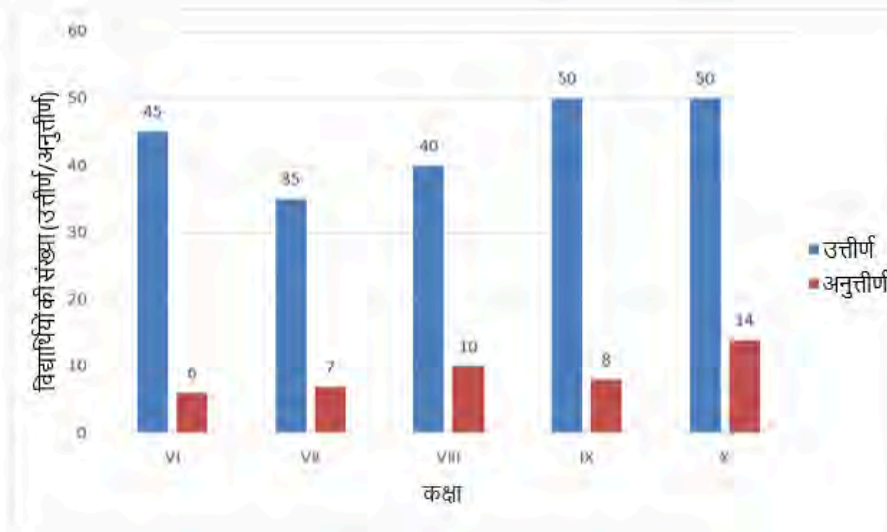
Option 3 ID : 6306802316038

Option 4 ID : 6306802316036

Status : Answered

Chosen Option : 1

Q.12 निम्नलिखित दंड आलेख एक स्कूल की पाँच कक्षाओं (VI से X) के वार्षिक परिणाम को दर्शाता है। दंड आलेख का ध्यानपूर्वक अध्ययन कीजिए और नीचे दिए गए प्रश्न का उत्तर दीजिए:



दी गई पाँच कक्षाओं में विद्यार्थियों की औसत संख्या क्या है?

Ans 1. 47

2. 53

3. 44

4. 57

Question Type : MCQ

Question ID : 630680444299

Option 1 ID : 6306801734476

Option 2 ID : 6306801734477

Option 3 ID : 6306801734475

Option 4 ID : 6306801734478

Status : Answered

Chosen Option : 3



Download SSC CGL, CHSL E-BOOKS

[CLICK HERE](#)

Q.13 राकेश ने समर्थ को 6 वर्ष के लिए साधारण ब्याज दर पर एक राशि ब्याज पर दी। छठे वर्ष के अंत में, समर्थ ने राशि चुकाने के लिए राकेश को राशि के $\frac{8}{7}$ भाग का भुगतान किया। वार्षिक साधारण ब्याज की दर कितनी थी?

- Ans
- ✓ 1. $2\frac{8}{21}\%$
 - ✗ 2. $2\frac{1}{12}\%$
 - ✗ 3. $2\frac{7}{21}\%$
 - ✗ 4. $2\frac{3}{20}\%$

Question Type : MCQ

Question ID : 630680397478

Option 1 ID : 6306801549834

Option 2 ID : 6306801549835

Option 3 ID : 6306801549836

Option 4 ID : 6306801549837

Status : Answered

Chosen Option : 3

Q.14 एक लकड़ी का खिलौना एक गोले के आकार का है, जिसका व्यास 28 cm है। 50 पैसे प्रति cm^2 की दर से इसकी सतह को पॉलिश करने की लागत ज्ञात कीजिए। ($\pi = \frac{22}{7}$ लें)

- Ans
- ✗ 1. ₹1,234
 - ✗ 2. ₹1,236
 - ✓ 3. ₹1,232
 - ✗ 4. ₹1,230

Question Type : MCQ

Question ID : 630680526605

Option 1 ID : 6306802058488

Option 2 ID : 6306802058489

Option 3 ID : 6306802058486

Option 4 ID : 6306802058487

Status : Answered

Chosen Option : 2



Download SSC CGL, CHSL E-BOOKS

[CLICK HERE](#)



Q.15 लक्ष्मण द्वारा भरत को ₹9,50,000 का एक फ्लैट 8% लाभ पर बेचा जाता है। यदि भरत इसे वापस लक्ष्मण को 3% हानि पर बेचता है, तो पूरे लेन-देन में लक्ष्मण का लाभ/हानि (₹ में) ज्ञात कीजिए?

- Ans
- 1. लक्ष्मण को ₹45,220 की हानि
 - 2. लक्ष्मण को ₹45,220 का लाभ
 - 3. लक्ष्मण को ₹50,200 का लाभ
 - 4. लक्ष्मण को ₹30,780 का लाभ

Question Type : MCQ
Question ID : 630680115643
Option 1 ID : 630680447925
Option 2 ID : 630680447924
Option 3 ID : 630680447922
Option 4 ID : 630680447923
Status : Answered
Chosen Option : 3

Q.16 एक आयताकार खेत का क्षेत्रफल 396 m^2 है तथा इसकी भुजाओं का अनुपात 11 : 9 है। आयताकार खेत का परिमाण ज्ञात करें।

- Ans
- 1. 76 m
 - 2. 78 m
 - 3. 74 m
 - 4. 80 m

Question Type : MCQ
Question ID : 630680112609
Option 1 ID : 630680436132
Option 2 ID : 630680436131
Option 3 ID : 630680436133
Option 4 ID : 630680436130
Status : Answered
Chosen Option : 2

Q.17 तीन कारों की चाल का अनुपात 5 : 3 : 4 है। इन कारों द्वारा समान दूरी को तय करने में लिए गए समय का अनुपात ज्ञात कीजिए।

- Ans
- 1. 12:13:15
 - 2. 10:13:15
 - 3. 12:20:15
 - 4. 16:13:15

Question Type : MCQ
Question ID : 630680104023
Option 1 ID : 630680404308
Option 2 ID : 630680404310
Option 3 ID : 630680404309
Option 4 ID : 630680404307
Status : Answered
Chosen Option : 3



Q.18 15 cm आंतरिक त्रिज्या वाले एक अर्धगोलाकार कटोरे में एक तरल पदार्थ भरा है। तरल पदार्थ को 5 cm व्यास और 6 cm ऊँचाई वाली बेलनाकार बोटलों में भरा जाना है। कटोरे को खाली करने के लिए आवश्यक बोटलों की संख्या कितनी है?

Ans 1. 60

2. 50

3. 40

4. 30

Question Type : MCQ

Question ID : 630680378021

Option 1 ID : 6306801473144

Option 2 ID : 6306801473146

Option 3 ID : 6306801473145

Option 4 ID : 6306801473143

Status : Answered

Chosen Option : 2

Q.19 7 के प्रथम छह गुणजों का औसत _____ है।

Ans 1. 23.2

2. 25.1

3. 22.4

4. 24.5

Question Type : MCQ

Question ID : 630680473419

Option 1 ID : 6306801849372

Option 2 ID : 6306801849374

Option 3 ID : 6306801849371

Option 4 ID : 6306801849373

Status : Answered

Chosen Option : 2

Q.20 दूध और पानी का 2:1 लीटर मिश्रण है। मिश्रण में दूध और पानी का अनुपात 4:3 है। इस मिश्रण में पानी की कितनी मात्रा (लीटर में) मिलाई जानी चाहिए, जिससे कि परिणामी मिश्रण में 50% पानी हो।

Ans 1. 3

2. 4

3. 1

4. 2

Question Type : MCQ

Question ID : 630680449449

Option 1 ID : 6306801754924

Option 2 ID : 6306801754922

Option 3 ID : 6306801754923

Option 4 ID : 6306801754921

Status : Answered

Chosen Option : 2

Section : Reasoning Ability and Problem Solving



Download SSC CGL, CHSL E-BOOKS

[CLICK HERE](#)

Q.1 दिए गए कथन और निष्कर्षों को ध्यान से पढ़िए। यह मानते हुए कि कथन में दी गई जानकारी सत्य है, चाहे वह सामान्य रूप से ज्ञात तथ्यों से भिन्न प्रतीत होती हो, निर्धारित कीजिए कि दिए गए निष्कर्षों में से कौन-सा, कथन (कथनों) का तार्किक रूप से अनुसरण करता है/करते हैं।

कथन:

सभी कद्दू, मटन हैं।
सभी मटन, मछलियाँ हैं।

निष्कर्ष:

(I) कुछ मछलियाँ, मटन हैं।
(II) सभी कद्दू, मछलियाँ हैं।

Ans 1. निष्कर्ष (I) और (II) दोनों अनुसरण करते हैं।

2. न तो निष्कर्ष (I) अनुसरण करता है और न ही (II) अनुसरण करता है।

3. केवल निष्कर्ष (II) अनुसरण करता है।

4. केवल निष्कर्ष (I) अनुसरण करता है।

Question Type : MCQ

Question ID : 630680883505

Option 1 ID : 6306803460271

Option 2 ID : 6306803460272

Option 3 ID : 6306803460273

Option 4 ID : 6306803460274

Status : Answered

Chosen Option : 2

Q.2 A, B, C, D, E, F और G एक वृत्ताकार मेज के चारों ओर केंद्र की ओर मुख करके बैठे हैं (परंतु जरूरी नहीं कि वे इसी क्रम में बैठे हों)। E के दाईं ओर से गिनने पर E और A के बीच में केवल 3 व्यक्ति बैठे हैं। B, A के बाईं ओर दूसरे स्थान पर बैठा है। G, F के ठीक बाईं ओर बैठा है। B के दाईं ओर से गिनने पर B और G के बीच में केवल 2 व्यक्ति बैठे हैं। C, E का निकटतम पड़ोसी है। E के सापेक्ष में D का स्थान क्या है?

Ans 1. बाईं ओर से तीसरा

2. दाईं ओर से दूसरा

3. दाईं ओर से तीसरा

4. बाईं ओर से दूसरा

Question Type : MCQ

Question ID : 630680387672

Option 1 ID : 6306801511341

Option 2 ID : 6306801511338

Option 3 ID : 6306801511340

Option 4 ID : 6306801511339

Status : Answered

Chosen Option : 2



Download SSC CGL, CHSL E-BOOKS

[CLICK HERE](#)

Q.3 उस विकल्प आकृति का चयन कीजिए, जिसमें दी गई आकृति उसके भाग के रूप में सन्निहित है (घुमाने की अनुमति नहीं है)।

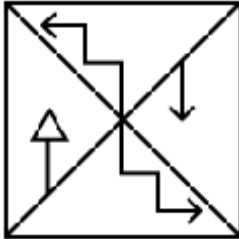


Ans

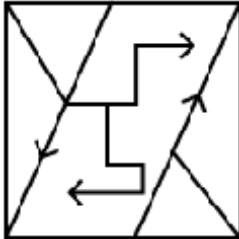
✗ 1.



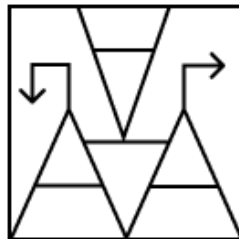
✗ 2.



✗ 3.



✓ 4.



Question Type : MCQ

Question ID : 630680487079

Option 1 ID : 6306801902468

Option 2 ID : 6306801902469

Option 3 ID : 6306801902467

Option 4 ID : 6306801902466

Status : Answered

Chosen Option : 4



Download SSC CGL, CHSL E-BOOKS

[CLICK HERE](#)

Q.4 एक निश्चित कूट भाषा में, 'LIKE' को '1576' लिखा जाता है और 'LINK' को '6581' लिखा जाता है। उसी कूट भाषा में 'E' को कैसे लिखा जाएगा?

- Ans 1. 7
 2. 6
 3. 5
 4. 1

Question Type : MCQ

Question ID : 630680439109

Option 1 ID : 6306801714250

Option 2 ID : 6306801714249

Option 3 ID : 6306801714248

Option 4 ID : 6306801714251

Status : Answered

Chosen Option : 2

Q.5 अंग्रेजी वर्णमाला क्रम के आधार पर दी गई श्रृंखला में प्रश्न चिह्न (?) के स्थान पर क्या आना चाहिए?

BXL, DVN, FTP, ?, JPT

- Ans 1. HRR
 2. HST
 3. GRR
 4. GRS

Question Type : MCQ

Question ID : 630680815700

Option 1 ID : 6306803196103

Option 2 ID : 6306803196104

Option 3 ID : 6306803196102

Option 4 ID : 6306803196101

Status : Answered

Chosen Option : 4

Q.6 यदि निम्नलिखित समीकरण में '×' और '÷' को आपस में बदल दिया जाए तथा '-' और '+' को आपस में बदल दिया जाए, तो इस समीकरण में '?' के स्थान पर क्या आएगा?
 $23 \div 18 + 150 \times 50 - 44 = ?$

- Ans 1. 545
 2. 485
 3. 455
 4. 515

Question Type : MCQ

Question ID : 630680388347

Option 1 ID : 6306801513909

Option 2 ID : 6306801513907

Option 3 ID : 6306801513906

Option 4 ID : 6306801513908

Status : Answered

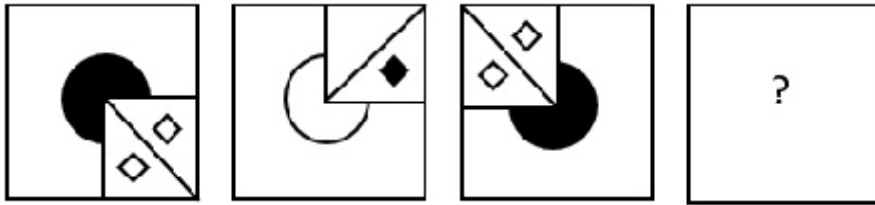
Chosen Option : 2



Download SSC CGL, CHSL E-BOOKS

[CLICK HERE](#)

Q.7 विकल्पों में दी गई उस आकृति की पहचान कीजिए, जिसे प्रश्न-चिह्न (?) के स्थान पर रखने पर श्रृंखला तार्किक रूप से पूर्ण हो जाएगी।



Ans

- 1.
- 2.
- 3.
- 4.

Question Type : MCQ

Question ID : 630680276831

Option 1 ID : 6306801075821

Option 2 ID : 6306801075822

Option 3 ID : 6306801075819

Option 4 ID : 6306801075820

Status : Answered

Chosen Option : 2



Download SSC CGL, CHSL E-BOOKS

[CLICK HERE](#)

Q.8 एक निश्चित तर्क का अनुसरण करते हुए 3, 15 से संबंधित है। उसी तर्क का अनुसरण करते हुए 12, 60 से संबंधित है। समान तर्क का अनुसरण करते हुए, 5 निम्नलिखित में से किससे संबंधित है?

(ध्यान दें: संख्याओं को उनके घटक अंकों में अलग-अलग किए बिना पूर्ण संख्याओं पर संक्रियाएं की जानी चाहिए। उदाहरण के लिए संख्या 13 - संख्या 13 पर संक्रियाएं जैसे 13 को जोड़ना/घटाना/गुणा करना आदि किया जा सकता है। 13 को 1 और 3 में अलग-अलग करने की और फिर 1 और 3 पर गणितीय संक्रियाएं करने की अनुमति नहीं है।)

Ans 1. 25

2. 30

3. 32

4. 35

Question Type : MCQ

Question ID : 630680799055

Option 1 ID : 6306803131024

Option 2 ID : 6306803131023

Option 3 ID : 6306803131025

Option 4 ID : 6306803131022

Status : Answered

Chosen Option : 2

Q.9 EF26 एक निश्चित तरीके से JK33 से संबंधित है। उसी तरीके से, TU27, YZ34 से संबंधित है। समान तर्क का अनुसरण करते हुए, JK28 निम्नलिखित में से किससे संबंधित है?

Ans 1. PO35

2. OP36

3. PO36

4. OP35

Question Type : MCQ

Question ID : 6306801108780

Option 1 ID : 6306804355668

Option 2 ID : 6306804355667

Option 3 ID : 6306804355669

Option 4 ID : 6306804355666

Status : Answered

Chosen Option : 2

Q.10 सात व्यक्ति S, E, C, T, I, O और N एक वृत्ताकार मेज के चारों ओर केंद्र की ओर मुख करके बैठे हैं (परंतु जरूरी नहीं कि वे इसी क्रम में बैठे हों)। E, N के बाएँ से दूसरे स्थान पर बैठा है, जबकि N, S के बाएँ से दूसरे स्थान पर बैठा है। S के दाएँ से गिनने पर S और O के बीच में केवल एक व्यक्ति बैठा है। C, E के ठीक दाएँ बैठा है, जबकि T, O के ठीक बाएँ बैठा है। के ठीक दाएँ कौन बैठा है?

Ans 1. T

2. C

3. O

4. S

Question Type : MCQ

Question ID : 630680386540

Option 1 ID : 6306801506873

Option 2 ID : 6306801506872

Option 3 ID : 6306801506870

Option 4 ID : 6306801506871

Status : Answered

Chosen Option : 3



Download SSC CGL, CHSL E-BOOKS

[CLICK HERE](#)

Q.11 एक निश्चित तर्क के अनुसार 14, 68 से संबंधित है। उसी तर्क के अनुसार 17, 83 से संबंधित है। उसी तर्क के अनुसार, 21 निम्नलिखित में से किससे संबंधित है?

(ध्यान दें: संख्याओं को उनके घटक अंकों में अलग-अलग किए बिना पूर्ण संख्याओं पर संक्रियाएं की जानी चाहिए। उदाहरण के लिए संख्या 13 - संख्या 13 पर संक्रियाएं जैसे 13 को जोड़ना/घटाना/गुणा करना आदि किया जा सकता है। 13 को 1 और 3 में अलग-अलग करने की और फिर 1 और 3 पर गणितीय संक्रियाएं करने की अनुमति नहीं है।)

Ans 1. 103

2. 105

3. 101

4. 107

Question Type : **MCQ**

Question ID : **6306801027552**

Option 1 ID : **6306804032897**

Option 2 ID : **6306804032899**

Option 3 ID : **6306804032898**

Option 4 ID : **6306804032900**

Status : **Answered**

Chosen Option : **3**

Q.12 दिए गए कथनों और निष्कर्षों को ध्यानपूर्वक पढ़िए। आपको मानना है कि कथनों में दी गई जानकारी सत्य है, चाहे वह सामान्यतः ज्ञात तथ्यों से अलग प्रतीत होती हो और निश्चय करना है कि दिए गए निष्कर्षों में से कौन-सा/कौन-से निष्कर्ष तार्किक रूप से कथन/कथनों का अनुसरण करता है/करते हैं।

कथन:

कुछ पौधे, चट्टानें हैं।

कोई सब्जी, पौधा नहीं है।

निष्कर्ष:

I) कोई सब्जी, चट्टान नहीं है।

(II) कुछ चट्टानें, पौधे हैं।

Ans 1. न तो निष्कर्ष (I) और न ही (II) अनुसरण करता है।

2. निष्कर्ष (I) और (II) दोनों अनुसरण करते हैं।

3. केवल निष्कर्ष (I) अनुसरण करता है।

4. केवल निष्कर्ष (II) अनुसरण करता है।

Question Type : **MCQ**

Question ID : **630680404884**

Option 1 ID : **6306801579029**

Option 2 ID : **6306801579030**

Option 3 ID : **6306801579027**

Option 4 ID : **6306801579028**

Status : **Answered**

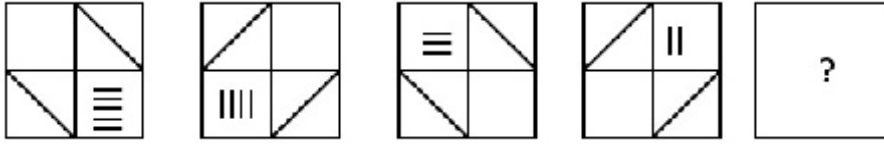
Chosen Option : **1**



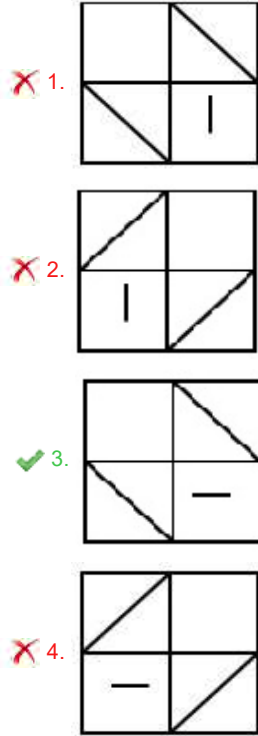
Download SSC CGL, CHSL E-BOOKS

[CLICK HERE](#)

Q.13 विकल्पों में से उस आकृति का चयन कीजिए जो प्रश्न-चिह्न (?) के स्थान पर आ सकती है और श्रृंखला को तार्किक रूप से पूरा कर सकती है।



Ans



Question Type : MCQ

Question ID : 630680279342

Option 1 ID : 6306801085637

Option 2 ID : 6306801085635

Option 3 ID : 6306801085636

Option 4 ID : 6306801085638

Status : Answered

Chosen Option : 1

Q.14 एक निश्चित कूट भाषा में, 'BENT' को '4628' के रूप में कूटबद्ध किया जाता है और 'EARS' को '5471' के रूप में कूटबद्ध किया जाता है। उसी कूट भाषा में 'E' के लिए कूट क्या है?

- Ans
- 1. 7
 - 2. 6
 - 3. 5
 - 4. 4

Question Type : MCQ

Question ID : 630680436125

Option 1 ID : 6306801702444

Option 2 ID : 6306801702443

Option 3 ID : 6306801702442

Option 4 ID : 6306801702441

Status : Answered

Chosen Option : 2



Download SSC CGL, CHSL E-BOOKS

[CLICK HERE](#)

Q.15 JT79 किसी निश्चित प्रकार से DN71 से संबंधित है। ठीक उसी प्रकार, KU22, EO14 से संबंधित है। समान तर्क का अनुसरण करते हुए, LV71 निम्नलिखित में से किससे संबंधित है?

- Ans
- 1. PF66
 - 2. FP66
 - 3. PF63
 - 4. FP63

Question Type : MCQ

Question ID : 6306801108770

Option 1 ID : 6306804355629

Option 2 ID : 6306804355627

Option 3 ID : 6306804355628

Option 4 ID : 6306804355626

Status : Answered

Chosen Option : 3

Q.16 एक निश्चित कूट भाषा में, 'WORD' को '7135' के रूप में कूटबद्ध किया जाता है और 'RISE' को '4658' के रूप में कूटबद्ध किया जाता है। दी गई कूट भाषा में 'R' के लिए कूट क्या है?

- Ans
- 1. 4
 - 2. 6
 - 3. 3
 - 4. 5

Question Type : MCQ

Question ID : 630680387987

Option 1 ID : 6306801512564

Option 2 ID : 6306801512565

Option 3 ID : 6306801512563

Option 4 ID : 6306801512562

Status : Answered

Chosen Option : 2

Q.17 दी गई श्रृंखला में प्रश्नचिन्ह (?) के स्थान पर क्या आएगा?

7 12 16 30 34 66 70 ?

- Ans
- 1. 142
 - 2. 140
 - 3. 138
 - 4. 136

Question Type : MCQ

Question ID : 630680813879

Option 1 ID : 6306803188728

Option 2 ID : 6306803188725

Option 3 ID : 6306803188726

Option 4 ID : 6306803188727

Status : Answered

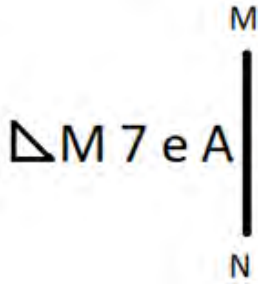
Chosen Option : 1



Download SSC CGL, CHSL E-BOOKS

[CLICK HERE](#)

Q.18 दी गई आकृति के उस सही दर्पण प्रतिबिंब को चुनिए, जो नीचे दर्शाए गए अनुसार दर्पण को MN पर रखने पर बनेगा।



Ans

✓ 1. A e 7 M Δ

✗ 2. A e 7 M Δ

✗ 3. A e 7 M Δ

✗ 4. A e 7 M Δ

Question Type : MCQ

Question ID : 630680525278

Option 1 ID : 6306802053199

Option 2 ID : 6306802053197

Option 3 ID : 6306802053198

Option 4 ID : 6306802053196

Status : Answered

Chosen Option : 1

Q.19 एक निश्चित कूट भाषा में, 'I play football' को 'ku ch ta' के रूप में कूटबद्ध किया जाता है और 'he play cricket' को 'al bi ta' के रूप में कूटबद्ध किया जाता है। दी गई भाषा में 'play' को किस प्रकार कूटबद्ध किया गया है?

Ans ✗ 1. al

✗ 2. bi

✓ 3. ta

✗ 4. ku

Question Type : MCQ

Question ID : 630680378939

Option 1 ID : 6306801476803

Option 2 ID : 6306801476805

Option 3 ID : 6306801476804

Option 4 ID : 6306801476806

Status : Answered

Chosen Option : 2



Download SSC CGL, CHSL E-BOOKS

[CLICK HERE](#)

Q.20 निम्नलिखित समीकरण को सही करने के लिए किन दो संख्याओं को आपस में बदला जाना चाहिए?

$$(28 \times 2) - 16 \times 6 + 8 \times 3 + 5 \times 7 = 39$$

(नोट: अदला-बदली पूरी संख्या की होनी चाहिए, न कि दी गई संख्या के अलग-अलग अंकों की।)

- Ans
- 1. 8 और 7
 - 2. 5 और 3
 - 3. 6 और 7
 - 4. 2 और 3

Question Type : MCQ
Question ID : 630680397651
Option 1 ID : 6306801550525
Option 2 ID : 6306801550528
Option 3 ID : 6306801550527
Option 4 ID : 6306801550526
Status : Answered
Chosen Option : 3

Section : General Awareness

Q.1 भारतीय संविधान के निम्नलिखित में से किस अनुच्छेद में यह उल्लेख है कि प्रत्येक मंत्री और भारत के महान्यायवादी को संसद के किसी भी सदन में बोलने और उसकी कार्यवाहियों में भाग लेने का अधिकार होगा?

- Ans
- 1. अनुच्छेद 86
 - 2. अनुच्छेद 87
 - 3. अनुच्छेद 88
 - 4. अनुच्छेद 89

Question Type : MCQ
Question ID : 630680521888
Option 1 ID : 6306802039888
Option 2 ID : 6306802039889
Option 3 ID : 6306802039890
Option 4 ID : 6306802039891
Status : Answered
Chosen Option : 2

Q.2 निम्नलिखित में से किसने संस्कृत महाकाव्य 'गीत गोविंद (Gita Govinda)' की रचना की है?

- Ans
- 1. उदयराजा
 - 2. कल्हण
 - 3. जयदेव
 - 4. रामचंद्र

Question Type : MCQ
Question ID : 630680163720
Option 1 ID : 630680634026
Option 2 ID : 630680634025
Option 3 ID : 630680634024
Option 4 ID : 630680634027
Status : Answered
Chosen Option : 4



Download SSC CGL, CHSL E-BOOKS

[CLICK HERE](#)

Q.3 पोषक तत्वों के बारे में निम्नलिखित में से कौन-सा कथन सही है?

कथन A: C, H, O, N, P और K स्थूल पोषक तत्व (macro nutrients) हैं।
कथन B: Fe, Mn, Ni, Co और Mo सूक्ष्म पोषक तत्व (micronutrients) हैं।
कथन C: सूक्ष्म पोषक तत्व हमारे शरीर के लिए आवश्यक नहीं हैं।

- Ans
- 1. कथन A, B और C सभी
 - 2. केवल कथन B और C
 - 3. केवल कथन A और C
 - 4. केवल कथन A और B

Question Type : MCQ
Question ID : 630680544964
Option 1 ID : 6306802130614
Option 2 ID : 6306802130613
Option 3 ID : 6306802130612
Option 4 ID : 6306802130611
Status : Answered
Chosen Option : 2

Q.4 निम्नलिखित में से किस कोशिकांग का अपना स्वयं का डीएनए होता है और वह अपने कार्यों के लिए प्रोटीन का संश्लेषण कर सकता है?

- Ans
- 1. गॉल्जी सम्मिश्र (Golgi complex)
 - 2. अन्तः प्रदव्ययी जालिका (Endoplasmic reticulum)
 - 3. तारक काय (Centrosome)
 - 4. हरित लवक (Chloroplast)

Question Type : MCQ
Question ID : 630680311121
Option 1 ID : 6306801210599
Option 2 ID : 6306801210600
Option 3 ID : 6306801210598
Option 4 ID : 6306801210597
Status : Answered
Chosen Option : 1

Q.5 'अनुसूचित जाति, अनुसूचित जनजाति और अन्य कमजोर वर्गों के शैक्षिक और आर्थिक हितों को बढ़ावा देना' भारतीय संविधान के किस अनुच्छेद के अंतर्गत आता है?

- Ans
- 1. अनुच्छेद 66
 - 2. अनुच्छेद 36
 - 3. अनुच्छेद 56
 - 4. अनुच्छेद 46

Question Type : MCQ
Question ID : 630680568378
Option 1 ID : 6306802222324
Option 2 ID : 6306802222321
Option 3 ID : 6306802222323
Option 4 ID : 6306802222322
Status : Answered
Chosen Option : 3



Download SSC CGL, CHSL E-BOOKS

[CLICK HERE](#)

Q.6 निम्नलिखित में से किस वर्ष में जनगणना अधिनियम बनाया गया (enacted) और पूरे भारत में लागू किया गया था?

- Ans 1. 1950
 2. 1949
 3. 1948
 4. 1951

Question Type : MCQ

Question ID : 630680134899

Option 1 ID : 630680522416

Option 2 ID : 630680522415

Option 3 ID : 630680522414

Option 4 ID : 630680522417

Status : Answered

Chosen Option : 2

Q.7 जल चक्र (water cycle) में सूर्य के प्रकाश की उपस्थिति में महासागरों, झीलों और नदियों में उपस्थित द्रव जल, गैसीय अवस्था में परिवर्तित हो जाता है। इस चरण को क्या कहा जाता है?

- Ans 1. वाष्पीकरण (Evaporation)
 2. वर्षण (Precipitation)
 3. संघनन (Condensation)
 4. गलन (Melting)

Question Type : MCQ

Question ID : 630680404025

Option 1 ID : 6306801575586

Option 2 ID : 6306801575588

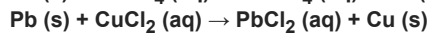
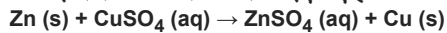
Option 3 ID : 6306801575587

Option 4 ID : 6306801575589

Status : Answered

Chosen Option : 1

Q.8 नीचे दो रासायनिक समीकरण दिए गए हैं:



दोनों ही स्थितियों में कॉपर (copper) अपने यौगिक रूप से पृथक क्यों हो जाता है?

- Ans 1. कॉपर (Copper) के यौगिक उच्च दाब पर अपघटित हो जाते हैं।
 2. कॉपर (Copper), जिंक (Zinc) और लेड (Lead) की तुलना में अधिक अभिक्रियाशील होता है।
 3. जिंक (Zinc) और लेड (Lead), कॉपर (Copper) की तुलना में अधिक अभिक्रियाशील होते हैं।
 4. जिंक (Zinc) और लेड (Lead) तत्व रूप में अस्थायी होते हैं।

Question Type : MCQ

Question ID : 630680468730

Option 1 ID : 6306801830712

Option 2 ID : 6306801830711

Option 3 ID : 6306801830713

Option 4 ID : 6306801830714

Status : Answered

Chosen Option : 1



Download SSC CGL, CHSL E-BOOKS

[CLICK HERE](#)

Q.9 हिन्दी उपन्यास 'तमस (Tamas)' किस लेखक ने लिखा है?

- Ans 1. प्रेमचंद
 2. भीष्म साहनी
 3. श्रीलाल शुक्ला
 4. यशपाल

Question Type : **MCQ**
Question ID : **630680450251**
Option 1 ID : **6306801758150**
Option 2 ID : **6306801758149**
Option 3 ID : **6306801758147**
Option 4 ID : **6306801758148**
Status : **Answered**
Chosen Option : **4**

Q.10 निम्नलिखित में से कौन भारत के पहले क्रिकेट टीम के कप्तान थे?

- Ans 1. सी.के. नायडू (CK Nayudu)
 2. नवाब पटौदी (Navab Pataudi)
 3. के. श्रीकांत (K Srikant)
 4. सुनील गावस्कर (Sunil Gavaskar)

Question Type : **MCQ**
Question ID : **630680799016**
Option 1 ID : **6306803130866**
Option 2 ID : **6306803130867**
Option 3 ID : **6306803130869**
Option 4 ID : **6306803130868**
Status : **Answered**
Chosen Option : **4**

Q.11 हिमालय की कंचनजंगा चोटी की ऊंचाई कितनी है?

- Ans 1. 8798 मीटर
 2. 8175 मीटर
 3. 8598 मीटर
 4. 8434 मीटर

Question Type : **MCQ**
Question ID : **630680484514**
Option 1 ID : **6306801892371**
Option 2 ID : **6306801892373**
Option 3 ID : **6306801892370**
Option 4 ID : **6306801892372**
Status : **Answered**
Chosen Option : **1**



Download SSC CGL, CHSL E-BOOKS

[CLICK HERE](#)

Q.12 निम्नलिखित में से कौन भरतनाट्यम का प्रसिद्ध उन्नायक (proponent) है/थे?

- Ans 1. कलावती देवी
 2. रुक्मिणी देवी अरुंडेल
 3. कुमकुम मोहंती
 4. सुनंदा नायर

Question Type : MCQ
Question ID : 630680798912
Option 1 ID : 6306803130457
Option 2 ID : 6306803130454
Option 3 ID : 6306803130455
Option 4 ID : 6306803130456
Status : Answered
Chosen Option : 2

Q.13 जुलाई 2023 तक की स्थिति के अनुसार, कितने जिलों से 'एक जिला, एक उत्पाद (One District, One Product)' योजना के तहत 137 अनूठे उत्पाद अधिसूचित किए गए हैं?

- Ans 1. 538
 2. 713
 3. 657
 4. 256

Question Type : MCQ
Question ID : 630680481207
Option 1 ID : 6306801879397
Option 2 ID : 6306801879399
Option 3 ID : 6306801879398
Option 4 ID : 6306801879396
Status : Answered
Chosen Option : 2

Q.14 दक्षिण भारत के किस समाज सुधारक ने आत्म सम्मान आंदोलन (Self Respect Movement) की स्थापना की थी?

- Ans 1. सी अयोधी पंडितार (C Iyodhee Pandithar)
 2. ई०वी० रामास्वामी नायकर (EV Ramaswamy Naicker)
 3. कंदुकुर वीरेशलिंगम (Kandukur Veeresalingam)
 4. चेम्बेटी श्रीधरालु नायडू (Chembeti Sridharalu Naidu)

Question Type : MCQ
Question ID : 630680214012
Option 1 ID : 630680830095
Option 2 ID : 630680830097
Option 3 ID : 630680830098
Option 4 ID : 630680830096
Status : Answered
Chosen Option : 2



Download SSC CGL, CHSL E-BOOKS

[CLICK HERE](#)

Q.15 'कर्नाटक संगीत पितामह (Karnataka Sangeeta Pitamaha)' के रूप में किसे सम्मानित किया गया है?

- Ans 1. जगन्नाथ दास
 2. गोपाल दास
 3. विजय दास
 4. पुरंदर दास

Question Type : MCQ

Question ID : 630680482437

Option 1 ID : 6306801884227

Option 2 ID : 6306801884226

Option 3 ID : 6306801884229

Option 4 ID : 6306801884228

Status : Answered

Chosen Option : 2

Q.16 'एक तारीख, एक घंटा, एक साथ (Ek Tareekh, Ek Ghanta, Ek Sath)' अभियान किस अवसर से संबंधित है?

- Ans 1. गांधी जयंती

Q.18 भारत की जनगणना 2011 के अनुसार, भारत के निम्नलिखित में से किस राज्य में हिंदू आबादी का प्रतिशत सबसे अधिक है?

- Ans
- 1. मध्य प्रदेश
 - 2. हिमाचल प्रदेश
 - 3. उत्तर प्रदेश
 - 4. बिहार

Question Type : MCQ
Question ID : 630680510925
Option 1 ID : 6306801996832
Option 2 ID : 6306801996833
Option 3 ID : 6306801996830
Option 4 ID : 6306801996831
Status : Answered
Chosen Option : 4

Q.19 सांची के महान स्तूप में कम्पास के दिग्बिंदुओं (cardinal points) पर _____ प्रवेश द्वार हैं जिन्हें 'तोरण (Toranas)' के नाम से जाना जाता है।

- Ans
- 1. 6
 - 2. 2
 - 3. 4
 - 4. 8

Question Type : MCQ
Question ID : 630680511935
Option 1 ID : 6306802000712
Option 2 ID : 6306802000710
Option 3 ID : 6306802000711
Option 4 ID : 6306802000713
Status : Answered
Chosen Option : 1

Q.20 भरतनाट्यम गुरु, _____ को 2023 में भारतीय ललित कला अकादमी (Indian Fine Arts Akademi), सैन डिएगो से नृत्य सेवा रत्न पुरस्कार मिला।

- Ans
- 1. शैलजा
 - 2. विद्या सुब्रमण्यन
 - 3. हेमा राजगोपालन
 - 4. रतिकान्त महापात्र

Question Type : MCQ
Question ID : 630680512015
Option 1 ID : 6306802001032
Option 2 ID : 6306802001030
Option 3 ID : 6306802001031
Option 4 ID : 6306802001033
Status : Answered
Chosen Option : 1



Download SSC CGL, CHSL E-BOOKS

[CLICK HERE](#)

Q.21 मौर्योत्तर काल में उत्तर पश्चिम भारत के प्रथम विदेशी शासक कौन थे?

- Ans 1. शक (Sakas)
 2. बैक्ट्रियन यूनानी (Bactrian Greeks)
 3. कुषाण (Kushanas)
 4. पार्थियन (Parthians)

Question Type : MCQ
Question ID : 630680127469
Option 1 ID : 630680494139
Option 2 ID : 630680494136
Option 3 ID : 630680494137
Option 4 ID : 630680494138
Status : Answered
Chosen Option : 2

Q.22 निम्नलिखित में से किस स्वतंत्रता सेनानी की जयंती पर स्वच्छ भारत मिशन आरंभ किया गया था?

- Ans 1. भगत सिंह
 2. चंद्रशेखर आजाद
 3. सुभाष चंद्र बोस
 4. महात्मा गांधी

Question Type : MCQ
Question ID : 630680310808
Option 1 ID : 6306801209361
Option 2 ID : 6306801209364
Option 3 ID : 6306801209362
Option 4 ID : 6306801209363
Status : Answered
Chosen Option : 3

Q.23 साइक्लिंग में, 'पेलोटन (peloton)' क्या है?

- Ans 1. पहाड़ियों पर चढ़ने के लिए साइकिल चलाने की एक तकनीक (A cycling technique for climbing hills)
 2. रेस के दौरान तंग झुंड में राइडर्स का एक समूह (A group of riders in a tight pack during a race)
 3. किसी रेस की स्टार्ट लाइन (The starting line of a race)
 4. किसी रेस की फिनिश लाइन (The finish line of a race)

Question Type : MCQ
Question ID : 630680466239
Option 1 ID : 6306801820977
Option 2 ID : 6306801820975
Option 3 ID : 6306801820974
Option 4 ID : 6306801820976
Status : Answered
Chosen Option : 1



Download SSC CGL, CHSL E-BOOKS

[CLICK HERE](#)

Q.24 वर्ष 2023 तक प्राप्त जानकारी के अनुसार, भारत के प्रमुख लोक समुद्री बंदरगाहों (public seaports) की संख्या कितनी थी?

- Ans 1. 13
 2. 10
 3. 16
 4. 12

Question Type : MCQ
Question ID : 630680482406
Option 1 ID : 6306801884119
Option 2 ID : 6306801884120
Option 3 ID : 6306801884121
Option 4 ID : 6306801884118
Status : Answered
Chosen Option : 1

Q.25 आक्रामक मौद्रिक नीति के रुख (hawkish monetary policy stance) के मामले में भारतीय रिजर्व बैंक द्वारा रेपो दरों पर सामान्य उपचार क्या है?

- Ans 1. 100 बीपीएस से अधिक की तीव्र कटौती
 2. बढ़ाई जाती है
 3. अपरिवर्तित रखी जाती है
 4. धीरे-धीरे घटाई जाती है

Question Type : MCQ
Question ID : 630680305519
Option 1 ID : 6306801188452
Option 2 ID : 6306801188451
Option 3 ID : 6306801188450
Option 4 ID : 6306801188449
Status : Answered
Chosen Option : 3

Section : English Language and Comprehension

Q.1 Select the most appropriate option to fill in the blank.
Roger applied the _____ in advance as he anticipated an accident.

- Ans 1. brig
 2. broke
 3. break
 4. brake

Question Type : MCQ
Question ID : 630680459189
Option 1 ID : 6306801793610
Option 2 ID : 6306801793612
Option 3 ID : 6306801793609
Option 4 ID : 6306801793611
Status : Answered
Chosen Option : 4



Download SSC CGL, CHSL E-BOOKS

[CLICK HERE](#)

Q.2 Select the most appropriate synonym of the word in bold in the given sentence.
The future looks **bleak** for the fishing industry.

- Ans 1. Fearless
 2. Depressing
 3. Expensive
 4. Ample

Question Type : **MCQ**
Question ID : **630680397592**
Option 1 ID : **6306801550291**
Option 2 ID : **6306801550292**
Option 3 ID : **6306801550290**
Option 4 ID : **6306801550289**
Status : **Answered**
Chosen Option : 1

Q.3 Select the most appropriate ANTONYM of the given word.

Bulging

- Ans 1. Hanging
 2. Weeping
 3. Contracting
 4. Swelling

Question Type : **MCQ**
Question ID : **630680531649**
Option 1 ID : **6306802078390**
Option 2 ID : **6306802078392**
Option 3 ID : **6306802078391**
Option 4 ID : **6306802078389**
Status : **Answered**
Chosen Option : 1

Q.4 Select the most appropriate option to fill in the blank.
Living within our environmental limits is one of the central _____ of sustainable development.

- Ans 1. agencies
 2. demonstrates
 3. illuminates
 4. principles

Question Type : **MCQ**
Question ID : **630680515297**
Option 1 ID : **6306802013642**
Option 2 ID : **6306802013643**
Option 3 ID : **6306802013644**
Option 4 ID : **6306802013641**
Status : **Answered**
Chosen Option : 1

Q.5 In the following sentence the underlined part contains an error. Alternatives to the underlined part are given as options. Select the correct alternative.
The sky appeared to be greyest after the storm.

- Ans 1. more grey
 2. greyer
 3. most grey
 4. grey

Question Type : **MCQ**
Question ID : **630680514719**
Option 1 ID : **6306802011503**
Option 2 ID : **6306802011502**
Option 3 ID : **6306802011504**
Option 4 ID : **6306802011501**
Status : **Answered**
Chosen Option : 2

Q.6 The following sentence has been split into four segments. Identify the segment that contains an error in phrasal verb.

Tara was late for the meeting / but somehow managed / to catch out with / everything she had missed.

- Ans 1. Tara was late for the meeting
 2. to catch out with
 3. but somehow managed
 4. everything she had missed

Question Type : **MCQ**
Question ID : **630680540759**
Option 1 ID : **6306802114074**
Option 2 ID : **6306802114076**
Option 3 ID : **6306802114075**
Option 4 ID : **6306802114077**
Status : **Answered**
Chosen Option : 2

Q.7 Select the most appropriate synonym of the given word.

Blend

- Ans 1. Divide
 2. Mix
 3. Disperse
 4. Boil

Question Type : **MCQ**
Question ID : **630680397243**
Option 1 ID : **6306801549031**
Option 2 ID : **6306801549030**
Option 3 ID : **6306801549028**
Option 4 ID : **6306801549029**
Status : **Answered**
Chosen Option : 2



Download SSC CGL, CHSL E-BOOKS

[CLICK HERE](#)

Q.8 Select the most appropriate idiom to fill in the blank.

My car _____ on the way to college yesterday.

- Ans
- 1. broke in
 - 2. broke up
 - 3. broke down
 - 4. broke out

Question Type : MCQ
Question ID : 630680500459
Option 1 ID : 6306801955460
Option 2 ID : 6306801955458
Option 3 ID : 6306801955459
Option 4 ID : 6306801955461
Status : Answered
Chosen Option : 3

Q.9 Select the appropriate option that can substitute the underlined word in the following sentence to make it grammatically correct.

This almirah is made up of heavier metal.

- Ans
- 1. heaviest
 - 2. heavy
 - 3. most heaviest
 - 4. most heavier

Question Type : MCQ
Question ID : 630680514635
Option 1 ID : 6306802011167
Option 2 ID : 6306802011166
Option 3 ID : 6306802011168
Option 4 ID : 6306802011165
Status : Answered
Chosen Option : 1

Q.10 Select the most appropriate ANTONYM of the underlined word in the given sentence.

I don't prefer to remain alone at home in the evenings because loneliness evokes a sense of melancholy and grief within me.

- Ans
- 1. Readiness
 - 2. Shyness
 - 3. Absoluteness
 - 4. Cheerfulness

Question Type : MCQ
Question ID : 630680523387
Option 1 ID : 6306802045726
Option 2 ID : 6306802045727
Option 3 ID : 6306802045728
Option 4 ID : 6306802045725
Status : Answered
Chosen Option : 1

Q.11 Select the INCORRECTLY spelt word.

- Ans
- 1. Enthusiastic
 - 2. Gracious
 - 3. Reliable
 - 4. Spectaculor

Question Type : MCQ
Question ID : 630680718807
Option 1 ID : 6306802816734
Option 2 ID : 6306802816735
Option 3 ID : 6306802816736
Option 4 ID : 6306802816737
Status : Answered
Chosen Option : 2

Q.12 Select the most appropriate word from the given options that can substitute the word 'courage' and make a meaningful sentence.

I am not courage enough to take this risk.

- Ans
- 1. courageous
 - 2. encourage
 - 3. discouraging
 - 4. discourage

Question Type : MCQ
Question ID : 630680542607
Option 1 ID : 6306802121358
Option 2 ID : 6306802121357
Option 3 ID : 6306802121360
Option 4 ID : 6306802121359
Status : Answered
Chosen Option : 2

Q.13 Select the most appropriate option to fill in the blank.

She was barking up the wrong _____ when she filed a complaint against ragging with the students' union instead of the university administration.

- Ans
- 1. pillar
 - 2. dog
 - 3. tree
 - 4. disc

Question Type : MCQ
Question ID : 630680395929
Option 1 ID : 6306801543853
Option 2 ID : 6306801543852
Option 3 ID : 6306801543854
Option 4 ID : 6306801543855
Status : Answered
Chosen Option : 3

Q.14 The sentence below contains errors. Select the option with the correct use of tenses.
Your father will waiting for you when you reach home.

- Ans 1. Your father would waiting for you when you reach home.
 2. Your father will be waiting for you when you reach home.
 3. Your father waiting for you when you reach home.
 4. Your father should waiting for you when you reach home.

Question Type : MCQ
Question ID : 630680198570
Option 1 ID : 630680770242
Option 2 ID : 630680770240
Option 3 ID : 630680770241
Option 4 ID : 630680770239
Status : Answered
Chosen Option : 3

Q.15 In the following sentence the underlined part contains as error. Alternatives to the underlined part are given as options. Select the correct alternative.
Playing in the field, the young gayer students were laughing and giggling.

- Ans 1. more gay
 2. gayest
 3. most gay
 4. gay

Question Type : MCQ
Question ID : 630680514720
Option 1 ID : 6306802011508
Option 2 ID : 6306802011507
Option 3 ID : 6306802011506
Option 4 ID : 6306802011505
Status : Answered
Chosen Option : 2

Q.16 Select the most appropriate option that can substitute the underlined segment in the given sentence.

Good nutrition is the bedrock at child survival, health and development.

- Ans 1. bedrock from child survival
 2. bedrock off child survival
 3. bedrock through child survival
 4. bedrock of child survival

Question Type : MCQ
Question ID : 630680130472
Option 1 ID : 630680505201
Option 2 ID : 630680505199
Option 3 ID : 630680505198
Option 4 ID : 630680505200
Status : Answered
Chosen Option : 4

Q.17 Select the INCORRECTLY spelt word in the given sentence.

Uluru is the world's largest monolith and Australia's recognisable natural icon with an elliptical shape and a circumference of around 94 kilometers.

Ans 1. Circumfarence

2. Monolith

3. Elliptical

4. Kilometers

Question Type : MCQ

Question ID : 630680531833

Option 1 ID : 6306802079111

Option 2 ID : 6306802079109

Option 3 ID : 6306802079108

Option 4 ID : 6306802079110

Status : Answered

Chosen Option : 3

Q.18 Select the option that will improve the underlined part of the given sentence. In case no improvement is needed, select 'No improvement required'.

Monika said to her mother that, "I have passed the examination."

Ans 1. Monika said to her mother that, "she has passed

2. Monika said to her mother that, "I am passed

3. Monika said to her mother, "I have passed

4. No improvement required

Question Type : MCQ

Question ID : 630680610244

Option 1 ID : 6306802387952

Option 2 ID : 6306802387953

Option 3 ID : 6306802387954

Option 4 ID : 6306802387955

Status : Answered

Chosen Option : 1

Q.19 Select the INCORRECTLY spelt word.

Ans 1. Gourrmet

2. Eligible

3. Relevant

4. Poignant

Question Type : MCQ

Question ID : 630680565022

Option 1 ID : 6306802209024

Option 2 ID : 6306802209025

Option 3 ID : 6306802209023

Option 4 ID : 6306802209022

Status : Answered

Chosen Option : 1



Download SSC CGL, CHSL E-BOOKS

[CLICK HERE](#)

Q.20 Select the most appropriate option to fill in the blank.
Never _____ ever seen a more disgusting sight.

- Ans 1. have I
 2. did I
 3. has I
 4. I have

Question Type : **MCQ**

Question ID : **630680515269**

Option 1 ID : **6306802013544**

Option 2 ID : **6306802013542**

Option 3 ID : **6306802013543**

Option 4 ID : **6306802013541**

Status : **Answered**

Chosen Option : 1

Comprehension:

In the following passage, some words have been deleted. Read the passage carefully and select the most appropriate option to fill in each blank.

Traditional medicines (TMs) make (1) _____ natural products and are of great importance. Such forms of medicine as traditional Chinese medicine (TCM), Ayurveda, Kampo, traditional Korean medicine (TKM), and Unani (2) _____ natural products and have been (3) _____ all over the world for hundreds or even thousands of years, and they (4) _____ blossomed into orderly-regulated systems of medicine. In their various forms, they may have certain defects, but they (5) _____ still a valuable repository of human knowledge.

SubQuestion No : 21

Q.21 Select the most appropriate option to fill in blank number 1.

- Ans 1. used off
 2. used of
 3. use of
 4. uses of

Question Type : **MCQ**

Question ID : **630680607663**

Option 1 ID : **6306802377759**

Option 2 ID : **6306802377758**

Option 3 ID : **6306802377757**

Option 4 ID : **6306802377760**

Status : **Answered**

Chosen Option : 4



Download SSC CGL, CHSL E-BOOKS

[CLICK HERE](#)

Comprehension:

In the following passage, some words have been deleted. Read the passage carefully and select the most appropriate option to fill in each blank.

Traditional medicines (TMs) make (1)_____ natural products and are of great importance. Such forms of medicine as traditional Chinese medicine (TCM), Ayurveda, Kampo, traditional Korean medicine (TKM), and Unani (2)_____ natural products and have been (3)_____ all over the world for hundreds or even thousands of years, and they (4)_____ blossomed into orderly-regulated systems of medicine. In their various forms, they may have certain defects, but they (5)_____ still a valuable repository of human knowledge.

SubQuestion No : 22

Q.22 Select the most appropriate option to fill in blank number 2.

- Ans 1. employing
 2. employed
 3. employ
 4. employs

Question Type : **MCQ**

Question ID : **630680607664**

Option 1 ID : **6306802377763**

Option 2 ID : **6306802377762**

Option 3 ID : **6306802377764**

Option 4 ID : **6306802377761**

Status : **Answered**

Chosen Option : **4**

Comprehension:

In the following passage, some words have been deleted. Read the passage carefully and select the most appropriate option to fill in each blank.

Traditional medicines (TMs) make (1)_____ natural products and are of great importance. Such forms of medicine as traditional Chinese medicine (TCM), Ayurveda, Kampo, traditional Korean medicine (TKM), and Unani (2)_____ natural products and have been (3)_____ all over the world for hundreds or even thousands of years, and they (4)_____ blossomed into orderly-regulated systems of medicine. In their various forms, they may have certain defects, but they (5)_____ still a valuable repository of human knowledge.

SubQuestion No : 23

Q.23 Select the most appropriate option to fill in blank number 3.

- Ans 1. practises
 2. practised
 3. practices
 4. practice

Question Type : **MCQ**

Question ID : **630680607665**

Option 1 ID : **6306802377767**

Option 2 ID : **6306802377766**

Option 3 ID : **6306802377768**

Option 4 ID : **6306802377765**

Status : **Answered**

Chosen Option : **3**

Comprehension:

In the following passage, some words have been deleted. Read the passage carefully and select the most appropriate option to fill in each blank.

Traditional medicines (TMs) make (1)_____ natural products and are of great importance. Such forms of medicine as traditional Chinese medicine (TCM), Ayurveda, Kampo, traditional Korean medicine (TKM), and Unani (2)_____ natural products and have been (3)_____ all over the world for hundreds or even thousands of years, and they (4)_____ blossomed into orderly-regulated systems of medicine. In their various forms, they may have certain defects, but they (5)_____ still a valuable repository of human knowledge.

SubQuestion No : 24

Q.24 Select the most appropriate option to fill in blank number 4.

- Ans 1. have
 2. had
 3. has
 4. have being

Question Type : **MCQ**
Question ID : **630680607666**
Option 1 ID : **6306802377769**
Option 2 ID : **6306802377771**
Option 3 ID : **6306802377770**
Option 4 ID : **6306802377772**
Status : **Answered**
Chosen Option : **2**

Comprehension:

In the following passage, some words have been deleted. Read the passage carefully and select the most appropriate option to fill in each blank.

Traditional medicines (TMs) make (1)_____ natural products and are of great importance. Such forms of medicine as traditional Chinese medicine (TCM), Ayurveda, Kampo, traditional Korean medicine (TKM), and Unani (2)_____ natural products and have been (3)_____ all over the world for hundreds or even thousands of years, and they (4)_____ blossomed into orderly-regulated systems of medicine. In their various forms, they may have certain defects, but they (5)_____ still a valuable repository of human knowledge.

SubQuestion No : 25

Q.25 Select the most appropriate option to fill in blank number 5.

- Ans 1. was
 2. is
 3. are
 4. am

Question Type : **MCQ**
Question ID : **630680607667**
Option 1 ID : **6306802377774**
Option 2 ID : **6306802377773**
Option 3 ID : **6306802377776**
Option 4 ID : **6306802377775**
Status : **Answered**
Chosen Option : **3**