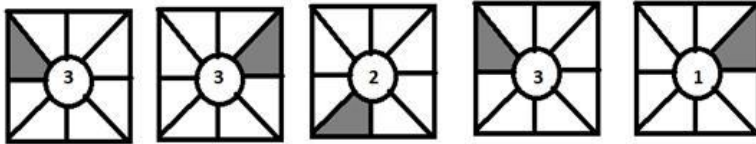


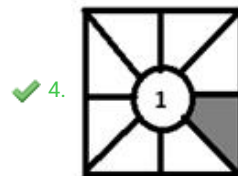
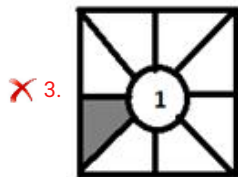
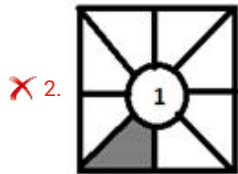
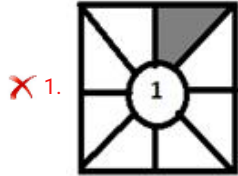
Stenographer Grade C and D Examination 2020

Section : General Intelligence and Reasoning

Q.1 उस आकृति का चयन करें, जो निम्न आकृति श्रृंखला में अगले स्थान पर आएगी।



Ans



Question ID : 81616111607

Status : Answered

Chosen Option : 4



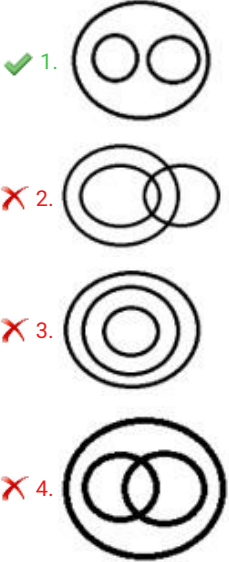
Download SSC CGL, CHSL E-BOOKS

[CLICK HERE](#)

Q.2 उस वेन आरेख का चयन करें, जो निम्न वर्गों के मध्य संबंध का सर्वश्रेष्ठ रूप से निरूपण करता है।

आड़ू, लीची, फल

Ans



Question ID : 81616111612

Status : Answered

Chosen Option : 1

Q.3 किसी निश्चित कूट भाषा में, RUBBER को 101 और JELLY को 76 लिखा जाता है। उसी कूट भाषा में LABEL को किस प्रकार लिखा जाएगा?

- Ans
- ✗ 1. 76
- ✗ 2. 98
- ✓ 3. 108
- ✗ 4. 132

Question ID : 81616111577

Status : Answered

Chosen Option : 3

Q.4 उस सही विकल्प का चयन करें, जो दिए गए शब्दों के तार्किक और सार्थक क्रम को दर्शाता है।

1. सफाई (Clean)
2. पकाना (Cook)
3. खाना (Eat)
4. परोसना (Serve)
5. खरीदना (Buy)

- Ans
- ✓ 1. 5, 1, 2, 4, 3
- ✗ 2. 3, 4, 5, 1, 2
- ✗ 3. 3, 1, 2, 4, 5
- ✗ 4. 3, 1, 2, 5, 4

Question ID : 81616111567

Status : Answered

Chosen Option : 1



Download SSC CGL, CHSL E-BOOKS

[CLICK HERE](#)

Q.5 A, B का पति है। D, C का इकलौता पुत्र है, जो E का भाई है। B, F की बहू है, जिसकी पत्नी की मृत्यु हो चुकी है। C, F का पुत्र है। परिवार में कितने पुरुष सदस्य हैं?

- Ans 1. 5
 2. 4
 3. 3
 4. 2

Question ID : 81616111790
Status : Answered
Chosen Option : 3

Q.6 निम्न शब्दों को उनके अंग्रेजी शब्दकोश क्रम के अनुसार व्यवस्थित करें।

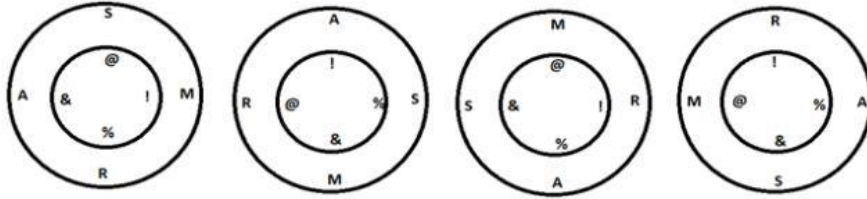
1. Tear
2. Tease
3. Taste
4. Treat
5. Tackle

- Ans 1. 1, 3, 5, 4, 2
 2. 3, 5, 2, 1, 4
 3. 5, 3, 1, 2, 4
 4. 1, 4, 2, 3, 5

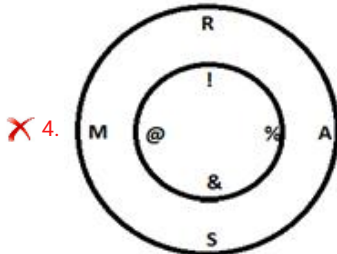
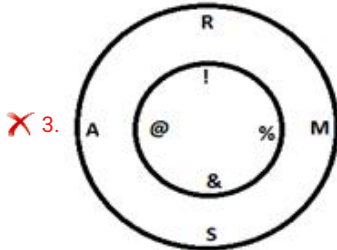
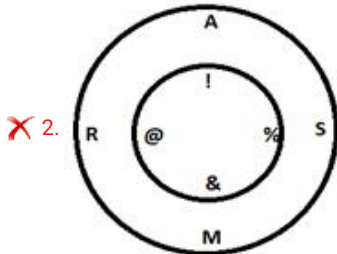
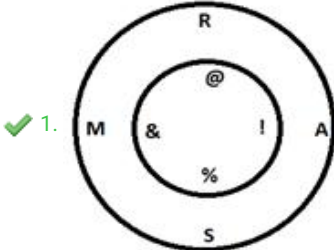
Question ID : 81616111774
Status : Answered
Chosen Option : 3



Q.7 उस आकृति का चयन करें, जो निम्न आकृति श्रृंखला में अगले स्थान पर आएगी।



Ans



Question ID : 81616111608

Status : Answered

Chosen Option : 1



Download SSC CGL, CHSL E-BOOKS

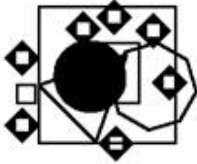
[CLICK HERE](#)

Q.8 यदि दर्पण को दी गई आकृति के दाईं ओर रखा जाए, तो आकृति का दर्पण में निर्मित प्रतिबिंब चयनित करें।

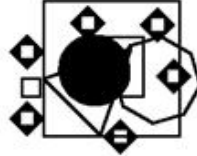


Ans

✗ 1.



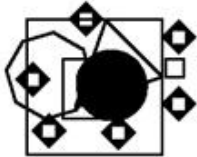
✓ 2.



✗ 3.



✗ 4.



Question ID : 81616111611

Status : Answered

Chosen Option : 2

Q.9 उस विकल्प का चयन करें, जो तीसरे अक्षर-समूह से ठीक उसी प्रकार संबंधित है, जिस प्रकार दूसरा अक्षर-समूह पहले अक्षर-समूह से संबंधित है।

LATYE : YTLEA :: NETAEO : ?

Ans ✓ 1. TONEEA

✗ 2. TONEAE

✗ 3. TQUNEA

✗ 4. TTNUAE

Question ID : 81616111572

Status : Answered

Chosen Option : 1



Download SSC CGL, CHSL E-BOOKS

[CLICK HERE](#)

Q.10 जोश, सोनल का बेटा है। सोनल, मानसी की बहन है और मानवी की मां है। तारू, मानवी का पति है। जोश का तारू से क्या संबंध है?

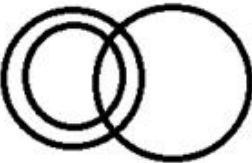



- Ans
- 1. ससुर
 - 2. चचेरा भाई
 - 3. साला
 - 4. भाई

Question ID : 81616111583
Status : Answered
Chosen Option : 3

Q.11 उस वेन आरेख का चयन करें, जो निम्न वर्गों के बीच के संबंध को सर्वोत्तम ढंग से निरूपित करता है।

मनुष्य, समाज, परिवार

Ans

- 1. 
- 2. 
- 3. 
- 4. 

Question ID : 81616111613
Status : Answered
Chosen Option : 4

Q.12 उस विकल्प का चयन करें, जो तीसरे अक्षर-समूह से ठीक उसी प्रकार संबंधित है, जिस प्रकार दूसरा अक्षर-समूह पहले अक्षर-समूह से संबंधित है।

NEUTSE : EFPVXZ :: ZWURST : ?

- Ans
- 1. QXPTWA
 - 2. RTSVEA
 - 3. QXPXAE
 - 4. RTVXAE

Question ID : 81616111573
Status : Not Attempted and Marked For Review
Chosen Option : --



Q.13 निम्न समीकरण को संतुलित करने के लिए, किन दो चिह्नों को आपस में बदलना होगा?

$$22 - 16 \div (3 \times 4) + 6 = 8$$

- Ans
- 1. - और +
 - 2. - और ×
 - 3. ÷ और ×
 - 4. ÷ और +

Question ID : 81616111597

Status : Answered

Chosen Option : 4

Q.14 यदि दी गई श्रृंखला के दूसरे आधे भाग उलट दिया जाए, और फिर नई श्रृंखला के पहले चतुर्थांश को अंत में रखा जाए, तो निम्न में से कौन सा विकल्प मध्य में होगा?

K18A4R2TE23N

- Ans
- 1. E3
 - 2. 2E
 - 3. RN
 - 4. NE

Question ID : 81616111582

Status : Answered

Chosen Option : 2

Q.15 एक सुबह, रीती, पूर्व की ओर चलती है और अपने दोस्त संजू को किसी दिशा से आते हुई देखती है। वह, संजू की परछाई को उसकी दाईं ओर देखती है। संजू किस दिशा से आ रहा है?

- Ans
- 1. पूर्व
 - 2. उत्तर
 - 3. दक्षिण
 - 4. पश्चिम

Question ID : 81616111604

Status : Answered

Chosen Option : 2

Q.16 दिए गए विकल्पों में से, उस एक उचित विकल्प का चयन करें, जो निम्न श्रेणी में प्रश्नवाचक चिह्न (?) के स्थान पर होगा।

2, 0, 3, 2, 4, 6, 5, 12, 6, ?, 7, 30

- Ans
- 1. 6
 - 2. 7
 - 3. 20
 - 4. 16

Question ID : 81616111796

Status : Answered

Chosen Option : 3



Download SSC CGL, CHSL E-BOOKS

[CLICK HERE](#)

Q.17 निम्न में से कौन-सी संख्या दी गई श्रेणी में प्रश्नवाचक चिह्न (?) के स्थान पर होगी?

15, 28, 45, ?, 87, 116, 147

- Ans 1. 72
 2. 64
 3. 70
 4. 54

Question ID : 81616111180
Status : Answered
Chosen Option : 2

Q.18 यदि किसी कूट भाषा में, TAP को UUQ और BEEP को CAAQ लिखा जाता है, तो उसी कूट भाषा में LOW को किस प्रकार लिखा जाएगा?

- Ans 1. MAE
 2. MIX
 3. MUX
 4. MEA

Question ID : 81616111781
Status : Answered
Chosen Option : 2

Q.19 किसी कॉलेज में, जीवविज्ञान या रसायन विज्ञान का चयन करने वाले छात्रों की कुल संख्या 150 है। बाद में, 12 छात्र जिन्होंने जीवविज्ञान का चयन किया था, उन्होंने अपने चयन को बदल दिया और रसायन विज्ञान का चयन किया। अब जीव विज्ञान में छात्रों की संख्या, रसायन विज्ञान में छात्रों की संख्या की आधी है। अब, रसायन विज्ञान में कितने छात्र हैं?

- Ans 1. 104
 2. 100
 3. 88
 4. 94

Question ID : 81616111594
Status : Answered
Chosen Option : 2

Q.20 दिए गए पैटर्न का ध्यानपूर्वक अध्ययन करें और उस संख्या का चयन करें, जो इसमें प्रश्नवाचक चिह्न (?) के स्थान पर आएगी।

(15, 5, 150) (16, 4, 128) (7, 7, 98) (11, 4, ?)

- Ans 1. 88
 2. 78
 3. 102
 4. 132

Question ID : 81616111603
Status : Answered
Chosen Option : 1



Q.21 दिए गए पैटर्न का ध्यानपूर्वक अध्ययन करें और अनुपस्थित संख्या ज्ञात करें।

(222, 444, 888) (132, 534, 987) (303, 480, _____)

- Ans 1. 969
 2. 932
 3. 999
 4. 976

Question ID : 81616111807

Status : **Not Attempted and Marked For Review**

Chosen Option : --

Q.22 दिए गए विकल्पों में से, उस संख्या का चयन करें, जो निम्न श्रृंखला में प्रश्नवाचक चिह्न (?) के स्थान पर आएगी।

6, 6, 7, 7, 11, 15, 20, 42, 36, 106, 61, 231, ?, 447

- Ans 1. 123
 2. 97
 3. 75
 4. 88

Question ID : 81616111592

Status : **Answered**

Chosen Option : 2

Q.23 चिह्नों के उस संयोजन का चयन करें, जिन्हें दिए गए रिक्त स्थानों में क्रमिक रूप से रखने पर दिया गया समीकरण संतुलित हो जायेगा।

7 _ 3 _ 4 _ 12 _ 6 = 19

- Ans 1. -, x, +, ÷
 2. x, -, +, ÷
 3. ÷, x, +, -
 4. +, ÷, x, -

Question ID : 81616111598

Status : **Answered**

Chosen Option : 2

Q.24 उस विकल्प का चयन करें, जिसे खाली स्थान में भरने से दी गई श्रृंखला पूर्ण होगी।

NEUT, QJBC, _____, WTPU, ZYWD

- Ans 1. SOIM
 2. TOIL
 3. SPTL
 4. STPM

Question ID : 81616111564

Status : **Answered**

Chosen Option : 2



Q.25 उस विकल्प का चयन करें, जो तीसरे अक्षर-समूह से ठीक उसी प्रकार संबंधित है, जिस प्रकार दूसरा अक्षर-समूह पहले अक्षर-समूह से संबंधित है।

LARTBZ : BLRTAZ :: PARENF : ?

- Ans
- 1. NREAFP
 - 2. RNPEAF
 - 3. NEARFP
 - 4. NPREF

Question ID : 81616111574

Status : Answered

Chosen Option : 4

Q.26 स्कूल से निकलने के बाद, हेमंत और अनुराग बस स्टॉप तक पहुँचने के लिए उत्तर की ओर 1 km चलते हैं। बस स्टॉप से, हेमंत बाईं ओर मुड़ता है और 500 m चलता है। फिर वह अपनी बाईं ओर मुड़ता है और अपने घर तक पहुँचने के लिए 2 km चलता है। बस स्टॉप से, अनुराग दाईं ओर मुड़ता है और 250 m चलता है। फिर वह दाईं ओर मुड़ता है और अपने घर तक पहुँचने के लिए 1 km चलता है। हेमंत के घर से अनुराग का घर किस दिशा में है?

- Ans
- 1. पश्चिम
 - 2. उत्तर-पूर्व
 - 3. दक्षिण-पूर्व
 - 4. पूर्व

Question ID : 81616111605

Status : Not Attempted and Marked For Review

Chosen Option : --

Q.27 रेशमा दक्षिण की ओर जाती है। 500 m के बाद, वह अपनी दोस्त रेहाना के घर पहुँचती है। अपने दोस्त से मिलने के बाद, रेशमा पूर्व की ओर 500 m चलती है और फिर दाईं ओर मुड़कर और 500 m चलती है। यहां से, वह दाईं ओर मुड़ती है और 1 km चलती है। अंत में, वह अपनी दाईं ओर मुड़ती है और अपने कॉलेज पहुँचने के लिए 1 km चलती है। रेहाना के घर से उसका कॉलेज किस दिशा में है?

- Ans
- 1. दक्षिण-पूर्व
 - 2. उत्तर
 - 3. उत्तर-पश्चिम
 - 4. दक्षिण

Question ID : 81616111606

Status : Answered

Chosen Option : 3

Q.28 पांच दोस्त कोई परीक्षा देते हैं। पायल को कोमल से अधिक अंक प्राप्त हुए। रीना को पायल से कम अंक प्राप्त हुए। सिमी को तनु से अधिक, लेकिन कोमल से कम अंक प्राप्त हुए। उनमें से किसने सबसे ज्यादा अंक प्राप्त किए?

- Ans
- 1. कोमल
 - 2. तनु
 - 3. रीना
 - 4. पायल

Question ID : 81616111578

Status : Answered

Chosen Option : 4



Q.29 दिए गए पैटर्न का ध्यानपूर्वक अध्ययन करें और उस संख्या का चयन करें, जो इसमें प्रश्नवाचक चिह्न (?) के स्थान पर हो सकती है।

14 12 336

15 18 540

16 ? 416

Ans 1. 11

2. 14

3. 12

4. 13

Question ID : 8161611191

Status : Answered

Chosen Option : 4

Q.30 उस विकल्प का चयन करें, जिसे खाली स्थान में भरने से दी गई श्रृंखला पूर्ण होगी।

BWUT, _____, ZUSR, EZXW, XSQP

Ans 1. CTXV

2. CXVU

3. CYTW

4. CZAB

Question ID : 8161611565

Status : Marked For Review

Chosen Option : 1

Q.31 Read the given statements and conclusions carefully. Assuming that the information given in the statements is true, even if it appears to be at variance with commonly known facts, decide which of the given conclusions logically follow(s) from the statements.

Statements:

1. All professors are males.
2. All males are smart.
3. Some males are professionals.

Conclusions:

- I. No professional is smart.
- II. Some professionals are professors.
- III. Some smart are professionals.
- IV. Some professors are smart.

Ans 1. Only conclusion IV follows

2. Both conclusions III and IV follow

3. Both conclusions I and II follow

4. Only conclusion I follows

Question ID : 8161611588

Status : Answered

Chosen Option : 2



Q.32 दिए गए विकल्पों में से, उस संख्या का चयन करें, जो निम्न श्रृंखला में प्रश्नवाचक चिह्न (?) के स्थान पर आएगी।

3,10, 24, ?, 73, 108

- Ans
- 1. 32
 - 2. 52
 - 3. 37
 - 4. 45

Question ID : 81616111589

Status : Answered

Chosen Option : 4

Q.33 उस विकल्प का चयन करें, जो तीसरी संख्या से ठीक उसी प्रकार संबंधित है, जिस प्रकार दूसरी संख्या पहली संख्या से संबंधित है।

7 : 57 :: 13 : ?

- Ans
- 1. 163
 - 2. 143
 - 3. 153
 - 4. 183

Question ID : 81616111596

Status : Answered

Chosen Option : 4

Q.34 दिए गए पैटर्न का ध्यानपूर्वक अध्ययन करें और उस संख्या का चयन करें, जो इसमें प्रश्नवाचक चिह्न (?) के स्थान पर आएगी।

(2, 8, 20) (7, 12, 22) (33, 42, ?)

- Ans
- 1. 36
 - 2. 52
 - 3. 60
 - 4. 56

Question ID : 81616111600

Status : Not Attempted and Marked For Review

Chosen Option : --

Q.35

- Ans
- 1.
 - 2.
 - 3.
 - 4.

Question ID : 81616111609

Status : Answered

Chosen Option : 1



Q.36 10 छात्रों वाले समूह को उनकी आयु के अनुसार किसी पंक्ति में बैठाया गया है। रोहन, शुरुआत से छठे स्थान पर बैठा है और उसकी दोस्त सौम्या पंक्ति के अंत से नौवें स्थान पर बैठी है। उनके बीच कितने छात्र बैठे हैं?

- Ans
- 1. 3
 - 2. 2
 - 3. 4
 - 4. 5

Question ID : 81616111581
Status : Answered
Chosen Option : 1

Q.37 उस विकल्प का चयन करें, जिसे खाली स्थान में भरने से दी गई श्रृंखला पूर्ण होगी।

JATR, KCWV, _____, PHBA, TKDB, UMGF

- Ans
- 1. LEAF
 - 2. OFCW
 - 3. LEAW
 - 4. OFYW

Question ID : 81616111566
Status : Answered
Chosen Option : 4

Q.38 A, B, C, D, E, F और G, रात के भोजन के लिए किसी रेस्तरां में जाते हैं। इन सभी ने बिल में योगदान दिया। प्रत्येक व्यक्ति ने अलग-अलग राशि का भुगतान किया। C ने E से अधिक भुगतान किया और F ने A से अधिक भुगतान किया। B ने A से कम भुगतान किया, D ने सबसे अधिक राशि का भुगतान किया और E ने सबसे कम राशि का भुगतान किया। यदि G ने समूह में दो व्यक्तियों से अधिक भुगतान किया, तो निम्न में से कौन-सा कथन सही है?

- Ans
- 1. F ने D से कम लेकिन C से अधिक भुगतान किया
 - 2. G ने E से अधिक लेकिन C से कम भुगतान किया
 - 3. B ने D और G से कम भुगतान किया
 - 4. A, चार सबसे कम भुगतान करने वालों में से था

Question ID : 81616111579
Status : Answered
Chosen Option : 1

Q.39

- Ans
- 1.
 - 2.
 - 3.
 - 4.

Question ID : 81616111610
Status : Answered
Chosen Option : 4



Q.40 चार अक्षर-समूह दिए गए हैं, जिनमें से तीन किसी प्रकार समान हैं और एक असंगत है। उस असंगत अक्षर-समूह का चयन करें।

- Ans
- 1. DFJPX
 - 2. HJNTB
 - 3. KMQWF
 - 4. BDHNV

Question ID : 81616111571

Status : Answered

Chosen Option : 3

Q.41 निम्न समीकरण को संतुलित करने के लिए, किन दो चिह्नों को एक-दूसरे से और किन दो संख्याओं को एक-दूसरे से बदलना होगा?

$$19 + 27 - 4 \div 2 \times 3 = 20$$

- Ans
- 1. \div और \times ; 19 और 27
 - 2. $-$ और \div ; 4 और 3
 - 3. $-$ और $+$; 27 और 2
 - 4. $+$ और \times ; 3 और 2

Question ID : 81616111599

Status : Answered

Chosen Option : 2

Q.42 किसी पंक्ति में, चार दोस्त उत्तर की ओर अभिमुख होकर बैठे हैं। B किसी एक छोर पर बैठा है। A, D के दाईं ओर दूसरे स्थान पर बैठा है। यदि D ठीक B और C के बीच में बैठा है, तो निम्न में से कौन-सा कथन सत्य नहीं है?

- Ans
- 1. A और B एक दूसरे के बगल में बैठे हैं।
 - 2. B, D के ठीक बाईं ओर बैठा है।
 - 3. A, किसी एक छोर पर बैठा है।
 - 4. C, D के ठीक दाईं ओर बैठा है।

Question ID : 81616111580

Status : Answered

Chosen Option : 1

Q.43 ईना, जतिन की मां है। प्रताप, बानी का पिता है। सुकृत, गर्व का पुत्र है। सुयोग की इकलौती बहन की शादी गर्व से हुई है। सुयोग, अंशुम का पुत्र है। ईना का पति प्रताप का इकलौता पुत्र है। अंशुम, प्रताप की पत्नी है। बानी, सुकृत की मां है। प्रताप का जतिन से क्या संबंध है?

- Ans
- 1. नाना
 - 2. दादा
 - 3. चाचा
 - 4. पिता

Question ID : 81616111174

Status : Not Attempted and Marked For Review

Chosen Option : --



Q.44 दिए गए कथनों और निष्कर्षों को ध्यानपूर्वक पढ़ें। यह मानते हुए कि कथनों में दी गई जानकारी सत्य है, भले ही यह सामान्य रूप से ज्ञात तथ्यों से भिन्न प्रतीत होती हो, निर्धारित करें कि कौन से निष्कर्ष कथनों का तार्किक रूप से अनुसरण करते हैं।

कथन:

1. सभी रंग, लाल हैं।
2. कुछ लाल, हरे हैं।
3. सभी हरे, गहरे हैं।

निष्कर्ष:

- I. सभी रंगों के गहरे होने की संभावना है।
- II. कुछ लाल, गहरे हैं।
- III. कुछ लाल, रंग हैं।

- Ans
- ✓ 1. सभी निष्कर्ष अनुसरण करते हैं
 - ✗ 2. केवल निष्कर्ष II अनुसरण करता है
 - ✗ 3. केवल निष्कर्ष III अनुसरण करता है
 - ✗ 4. केवल निष्कर्ष I अनुसरण करता है

Question ID : 81616111587

Status : Answered

Chosen Option : 1

Q.45 उस विकल्प का चयन करें, जो दिए गए शब्दों को उस क्रम में दर्शाता है जिसमें वे अंग्रेजी शब्दकोश में आते हैं।

1. Fragile
2. Fracture
3. Fraud
4. Fragment
5. Fridge

- Ans
- ✓ 1. 2, 1, 4, 3, 5
 - ✗ 2. 1, 2, 4, 3, 5
 - ✗ 3. 2, 1, 4, 5, 3
 - ✗ 4. 1, 2, 5, 3, 4

Question ID : 81616111158

Status : Answered

Chosen Option : 1

Q.46 200 लोगों वाली एक फैसी ड्रेस पार्टी में, 30% मेहमानों ने जानवरों के रूप में कपड़े पहने हैं। शेष मेहमानों में से 40% ने पक्षियों के रूप में कपड़े पहने हैं। शेष मेहमानों में से 50% ने जोकरों की तरह कपड़े पहने हैं। शेष मेहमानों ने पौधों के रूप में कपड़े पहने हैं। कितने मेहमानों ने पौधों के रूप में कपड़े पहने हैं?

- Ans
- ✗ 1. 62
 - ✗ 2. 56
 - ✗ 3. 70
 - ✓ 4. 42

Question ID : 81616111595

Status : Answered

Chosen Option : 4



Q.47 रीना और उसके पिता की आयु का योगफल 60 है और उनकी आयु के बीच का अंतर 36 है। रीना के पिता की आयु ज्ञात करें।

- Ans
- 1. 48 वर्ष
 - 2. 52 वर्ष
 - 3. 58 वर्ष
 - 4. 60 वर्ष

Question ID : 81616111593
Status : Answered
Chosen Option : 1

Q.48 किसी कूट भाषा में, 'my mistake' को '62' लिखा जाता है, 'nice shoes' को '45' लिखा जाता है, 'people are nice' को '135' लिखा जाता है और 'big mistake' को '29' लिखा जाता है। उसी कूट भाषा में 'my shoes' को किस प्रकार लिखा जाएगा?

- Ans
- 1. 41
 - 2. 24
 - 3. 46
 - 4. 56

Question ID : 81616111165
Status : Answered
Chosen Option : 3

Q.49 चार अक्षर-समूह दिए गए हैं, जिनमें से तीन किसी प्रकार समान हैं और एक असंगत है। उस असंगत अक्षर-समूह का चयन करें।

- Ans
- 1. BFJNR
 - 2. VZDHL
 - 3. DHLPT
 - 4. YBFKT

Question ID : 81616111570
Status : Answered
Chosen Option : 4



Q.50 Read the given statements and conclusions carefully. Assuming that the information given in the statements is true, even if it appears to be at variance with commonly known facts, decide which of the given conclusions logically follow(s) from the statements.

Statements:

1. Few gentlemen are rich.
2. Few gentlemen are not fools.
3. Everyone is either a fool or rich.

Conclusions:

- I. No gentleman is rich.
- II. Few gentlemen being fools is a possibility.
- III. No one is both a fool and rich.

- Ans
- 1. Only conclusion I follows
 - 2. Only conclusion III follows
 - 3. All conclusions follow
 - 4. Only conclusion II follows

Question ID : 81616111586

Status : Not Answered

Chosen Option : --



Download SSC CGL, CHSL E-BOOKS

[CLICK HERE](#)