

## Stenographer Grade C and D Examination 2020


Section : General Intelligence and Reasoning

Q.1 दिए गए पैटर्न का ध्यानपूर्वक अध्ययन करें और उस संख्या का चयन करें, जो इसमें प्रश्नवाचक चिह्न (?) के स्थान पर हो सकती है।

125 25 10  
216 49 13  
27 121 ?

- Ans  1. 14  
 2. 12  
 3. 8  
 4. 16

Question ID : 81616110987  
Status : Answered  
Chosen Option : 1

Q.2 चिह्नों के उस समूह का चयन करें, जिन्हें जब क्रम से खाली जगहों में भरा जाए, तो दिया गया व्यंजक/समीकरण संतुलित हो जाए।

12 \_ 4 \_ 3 \_ 24

- Ans  1. +, × और =  
 2. +, =, और ×  
 3. ×, + और =  
 4. +, × और =

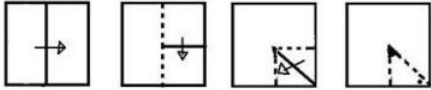
Question ID : 81616111392  
Status : Answered  
Chosen Option : 4



Download SSC CGL, CHSL E-BOOKS

[CLICK HERE](#)

Q.3 दी गई आकृतियों में दिखाए अनुसार क्रम में, एक कागज के टुकड़े को मोड़कर काटा गया है। जब इस कागज को खोला जाएगा, तो यह कैसा दिखेगा?



Ans


✗ 1.




✗ 2.



✓ 3.



✗ 4.



Question ID : 8161611405

Status : Answered

Chosen Option : 3

Q.4 निम्न में से कौन-सी संख्या दी गई श्रेणी में प्रश्नवाचक चिह्न (?) के स्थान पर होगी?

15, 48, 148, ?, 1353

Ans ✗ 1. 756

✗ 2. 520

✗ 3. 492

✓ 4. 449

Question ID : 81616110976

Status : Answered

Chosen Option : 4

Q.5 तमन्ना अपने घर से उत्तर दिशा की ओर चल रही है। 500 मीटर चलने के बाद वह बाएं मुड़ी और 500 मीटर चली। फिर वह बाएं मुड़ी और 250 मीटर चली और अपने दोस्त के घर पहुंच गई। उसके दोस्त के घर से उसका घर किस दिशा में है?

Ans ✓ 1. दक्षिण-पूर्व

✗ 2. दक्षिण-पश्चिम

✗ 3. उत्तर

✗ 4. दक्षिण

Question ID : 8161611399

Status : Answered

Chosen Option : 1



Download SSC CGL, CHSL E-BOOKS

[CLICK HERE](#)

Q.6 The sum of the scores obtained by Ram and his two friends in an exam is 60% of the sum of the maximum marks for the exam for all three of them. If the ratio of their obtained marks is 4 : 5 : 6, how many of them scored more than 70% marks in the exam?

- Ans  1. One  
 2. Two  
 3. Three  
 4. None

Question ID : 81616111389  
Status : Answered  
Chosen Option : 2

Q.7 एक पुस्तक जिसका क्रय मूल्य ₹40 है, 25% लाभ पर बेची जाती है। यदि पुस्तक के क्रय मूल्य में, 10% की वृद्धि कर दी जाती है, और लाभ प्रतिशत समान ही रहता है, तो समान पुस्तक का नया विक्रय मूल्य क्या होगा?

- Ans  1. ₹55  
 2. ₹48  
 3. ₹52  
 4. ₹58

Question ID : 81616111388  
Status : Answered  
Chosen Option : 1

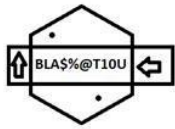
Q.8 घुड़दौड़ के बीच में घोड़ा E, घोड़ा D से आगे चल रहा था। घोड़ा C, घोड़ा A से आगे लेकिन घोड़ा B से पीछे चल रहा था। घोड़ा A, घोड़ा E से आगे चल रहा था। इस बिंदु से, चौथे स्थान का घोड़ा आगे बढ़ा और दौड़ जीत गया। यदि अन्य घोड़ों का स्थान पहले जैसा ही रहा, तो दौड़ की समाप्ति पर बीच के स्थान पर कौन सा घोड़ा रहा?

- Ans  1. B  
 2. A  
 3. E  
 4. C

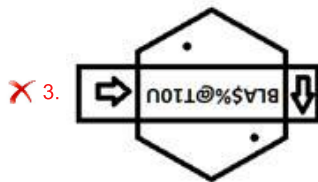
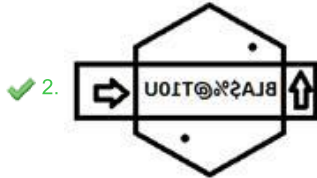
Question ID : 81616111374  
Status : Answered  
Chosen Option : 4



Q.9 दी गई आकृति के उस सही दर्पण छवि का चयन करें, जब दर्पण को इसके दाएं रखा जाता है।



Ans



Question ID : 81616111406

Status : Answered

Chosen Option : 2

Q.10 राहुल की ओर इशारा करते हुए, बेंकट ने कहा, "वह मेरे पिता के एकमात्र पुत्र का एकमात्र पुत्र है।" बेंकट, राहुल से किस प्रकार संबंधित है?

- Ans
- ✗ 1. दादा
  - ✗ 2. भाई
  - ✓ 3. पिता
  - ✗ 4. ममेरा भाई

Question ID : 81616111378

Status : Answered

Chosen Option : 3

Q.11 A, ऊंचाई में B से बड़ा है। C और D ऊंचाई में समान हैं। E, ऊंचाई में B से छोटा लेकिन D से बड़ा है। F, ऊंचाई में C से छोटा है, जो कि B से छोटा है। इन सबमें ऊंचाई में सबसे छोटा कौन है?

- Ans
- ✓ 1. F
  - ✗ 2. E
  - ✗ 3. D
  - ✗ 4. C

Question ID : 81616111373

Status : Answered

Chosen Option : 1

Q.12 दिए गए कथनों और निष्कर्षों को ध्यान से पढ़ें। यह मानते हुए कि कथनों में दी गई जानकारी सत्य है, भले ही ये सामान्य रूप से ज्ञात तथ्यों से भिन्न प्रतीत होती हों, निर्धारित करें कि कौन-सा/से निष्कर्ष कथनों का तार्किक रूप से अनुसरण करता/करते हैं।

कथन:

1. कुछ सब्जियां, फल हैं।
2. आलू एक सब्जी है।

निष्कर्ष:

- I. आलू एक फल है।
- II. आलू एक फल नहीं है।
- III. सभी सब्जियां, फल हैं।
- IV. कुछ सब्जियां, फल नहीं हैं।

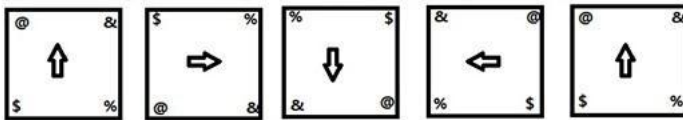
- Ans
- ✗ 1. केवल निष्कर्ष I अनुसरण करता है।
  - ✗ 2. केवल निष्कर्ष IV अनुसरण करता है।
  - ✗ 3. केवल निष्कर्ष III अनुसरण करता है।
  - ✓ 4. कोई भी निष्कर्ष अनुसरण नहीं करता है।

Question ID : 81616111383

Status : Answered

Chosen Option : 4

Q.13 उस आकृति का चयन करें, जो निम्न आकृति श्रृंखला में अगले स्थान पर आएगी।



Ans

- ✓ 1.
- ✗ 2.
- ✗ 3.
- ✗ 4.

Question ID : 81616111403

Status : Answered

Chosen Option : 1



Download SSC CGL, CHSL E-BOOKS


CLICK HERE

Q.14 जब पेट्रोल की कीमत में 25% की वृद्धि हुई तो योगेश ने अपनी यात्रा कम कर दी, ताकि वह पेट्रोल पर मासिक व्यय, पहले जितना ही करता रहे। योगेश ने अपनी यात्रा में कितने प्रतिशत की कटौती की?

- Ans
- 1. 25%
  - 2. 30%
  - 3. 20%
  - 4. 15%

Question ID : 81616111390  
Status : Answered  
Chosen Option : 3

Q.15 निम्न में से कौन-सा विकल्प नीचे दिए गए वेन आरेख के द्वारा सही रूप से निरूपित किया जा सकता है?



- Ans
- 1. माताएँ, डॉक्टर, महिलाएँ
  - 2. संगीतकार, अध्यापक, अभियंता
  - 3. पत्र, डाकघर, कागज़
  - 4. पुस्तक, कापी, छात्र

Question ID : 81616111407  
Status : Answered  
Chosen Option : 1

Q.16 निम्न में से कौन-सा वेन आरेख दिए गए वर्गों के बीच के संबंधों को सबसे अच्छी तरह से दर्शाता है?  
कंप्यूटर, साइकिलें, वन

- Ans
- 1.
  - 2.
  - 3.
  - 4.

Question ID : 81616111408  
Status : Answered  
Chosen Option : 1



Q.17 दिए गए विकल्पों में से उस संख्या का चयन करें, जो निम्न श्रृंखला में प्रश्नवाचक चिह्न (?) के स्थान पर आ सकती है।

1, 8, 16, 27, 43, 66, 98, ?

- Ans
- 1. 103
  - 2. 141
  - 3. 111
  - 4. 122

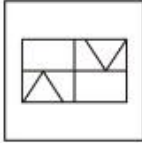
Question ID : 81616111384  
Status : Answered  
Chosen Option : 2

Q.18 उस विकल्प का चयन करें, जिसमें दी गई आकृति सन्निकित (embedded) है। घुमाने की अनुमति नहीं है।



Ans

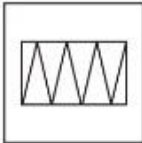
1.



2.



3.



4.



Question ID : 81616111404  
Status : Answered  
Chosen Option : 2

Q.19 कौन-सी संख्या निम्न श्रेणी में प्रश्नवाचक चिह्न (?) के स्थान पर होगी?

5, 5, 11, 35, 95, 215, ?

- Ans
- 1. 245
  - 2. 254
  - 3. 425
  - 4. 452

Question ID : 81616111387  
Status : Answered  
Chosen Option : 3

Q.20 निम्न शब्दों को तार्किक और सार्थक क्रम में व्यवस्थित करें।

1. पेस्ट करना (Paste)
2. कॉपी करना (Copy)
3. सेव करना (Save)
4. प्रिंट करना (Print)
5. चयन करना (Select)

- Ans  1. 2, 1, 5, 3, 4  
 2. 5, 2, 1, 3, 4  
 3. 2, 1, 3, 4, 5  
 4. 5, 4, 2, 1, 3

Question ID : 81616111773  
Status : Answered  
Chosen Option : 2

Q.21 उस विकल्प का चयन करें, जो तीसरी संख्या से उसी तरह संबंधित है, जैसे दूसरी संख्या, पहली संख्या से संबंधित है।

5 : 150 :: 8 : ?

- Ans  1. 864  
 2. 186  
 3. 262  
 4. 576

Question ID : 81616111391  
Status : Answered  
Chosen Option : 4

Q.22 यदि '<' का मतलब 'गुणा' है, 'x' का मतलब 'घटाना' है, '+' का मतलब 'जोड़' है, और '+' का मतलब 'भाग' है, तो निम्न व्यंजक का मान ज्ञात करें।

$5 \div 3 < 2 + (9 + 3) \times 2 = ?$

- Ans  1. 1  
 2. 7  
 3. 5  
 4. 12

Question ID : 81616111393  
Status : Answered  
Chosen Option : 3



Q.23 दिए गए कथनों और निष्कर्षों को ध्यान से पढ़ें। यह मानते हुए कि कथनों में दी गई जानकारी सत्य है, भले ही ये सामान्य रूप से ज्ञात तथ्यों से भिन्न प्रतीत होती हों, निर्धारित करें कि कौन-सा/से निष्कर्ष कथनों का तार्किक रूप से अनुसरण करता/करते हैं।

कथन:

1. कुछ मेज, कुर्सियां हैं।
2. कुछ कुर्सियां, बिस्तर हैं।
3. सभी बिस्तर, सामान हैं।

निष्कर्ष:

- I. कुछ कुर्सियां, सामान हैं।
- II. कुछ सामान, बिस्तर नहीं हैं।

- Ans
- 1. निष्कर्ष I और II, दोनों अनुसरण करते हैं।
  - 2. कोई भी निष्कर्ष अनुसरण नहीं करता है।
  - 3. केवल निष्कर्ष I अनुसरण करता है।
  - 4. केवल निष्कर्ष II अनुसरण करता है।

Question ID : 81616111381

Status : Answered

Chosen Option : 3

Q.24 एक साइकिल चलाने वाला पूर्व की ओर 2 km चला और फिर बाएं मुड़कर 1 km चला। वहां से, वह बाएं मुड़कर और 800 मीटर चलकर एक चाय की दुकान पर पहुंचा। वहां कुछ देर रुकने के बाद, वह दक्षिण की ओर मुड़ा और 500 मीटर चला। वहां से, वह दाएं मुड़ा और 1.2 km चला। अंततः वह दाएं मुड़ा और 1 km चला। वह अब अपने प्रारंभिक स्थान से किस दिशा में है?

- Ans
- 1. उत्तर
  - 2. पूर्व
  - 3. पश्चिम
  - 4. दक्षिण

Question ID : 81616111401

Status : Answered

Chosen Option : 1

Q.25 उस विकल्प का चयन करें, जिसे खाली जगह में रखने पर श्रृंखला पूर्ण हो जाएगी।

TMKB, CLNU, VOMD, \_\_\_\_\_, XQOF

- Ans
- 1. ENPW
  - 2. BQUR
  - 3. ETRW
  - 4. BQEA

Question ID : 81616111361

Status : Answered

Chosen Option : 4

Q.26 यदि दी गई अक्षर श्रृंखला के पहले आधे भाग को उलट दिया जाता है, तो निम्न में से कौन-सा विकल्प दाईं ओर से आठवें अक्षर के बाईं ओर से तीसरा अक्षर होगा?

A U R R G H R S W C G I O P D S Q T

- Ans
- 1. W
  - 2. U
  - 3. A
  - 4. R

Question ID : 81616111377

Status : Answered

Chosen Option : 2



Q.27 उस विकल्प का चयन करें, जिसे खाली जगह में रखने पर श्रृंखला पूर्ण हो जाएगी।

ACT, BAW, CYZ, \_\_\_\_\_, EUF

- Ans  1. CXC  
 2. DWC  
 3. DYC  
 4. BYC

Question ID : 81616111359

Status : Answered

Chosen Option : 2

Q.28 A, C का पुत्र है लेकिन C, A की माँ नहीं है। B, A की बहन है। C और D विवाहित युगल हैं। E, C की माँ है। A की माँ कौन है?

- Ans  1. B  
 2. D  
 3. E  
 4. C

Question ID : 81616111789

Status : Answered

Chosen Option : 2

Q.29 यदि 'पुस्तक' को 'पेन' कहा जाता है, 'पेन' को 'नोटबुक' कहा जाता है, 'नोटबुक' को 'बैग' कहा जाता है, और 'बैग' को 'स्कूल' कहा जाता है, तो आमतौर से हम किस पर लिखते हैं?

- Ans  1. पेन  
 2. स्कूल  
 3. पुस्तक  
 4. बैग

Question ID : 81616111780

Status : Answered

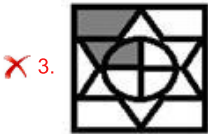
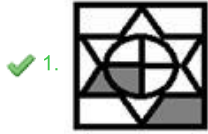
Chosen Option : 4



Q.30 उस आकृति का चयन करें, जो दी गई आकृति श्रृंखला में आगे आएगी।



Ans



Question ID : 81616111402

Status : Answered

Chosen Option : 1

Q.31 दिए गए कथनों और निष्कर्षों को ध्यान से पढ़ें। यह मानते हुए कि कथनों में दी गई जानकारी सत्य है, भले ही ये सामान्य रूप से ज्ञात तथ्यों से भिन्न प्रतीत होती हों, निर्धारित करें कि कौन-सा/से निष्कर्ष कथनों का तार्किक रूप से अनुसरण करता/करते हैं।

कथन:

1. कोई शहर, जिला नहीं है।
2. कुछ जिले, जोन हैं।
3. कुछ जोन, राज्य हैं।

निष्कर्ष:

- I. कुछ जोन, जिले हैं।
- II. कुछ जिले, शहर हैं।
- III. कोई भी राज्य, जोन नहीं है।

- Ans
- ✗ 1. केवल निष्कर्ष II अनुसरण करता है।
  - ✗ 2. केवल निष्कर्ष I और III अनुसरण करते हैं।
  - ✗ 3. केवल निष्कर्ष I और II अनुसरण करते हैं।
  - ✓ 4. केवल निष्कर्ष I अनुसरण करता है।

Question ID : 81616111382

Status : Answered

Chosen Option : 4

Q.32 एक शाम, जब रोजी बाजार जा रही थी, तो उसने सूर्य को अपने दाएं देखा। वह 100 मीटर चली और बाएं मुड़कर 50 मीटर चलकर चौराहे पर पहुंची। वहां से वह 40 मीटर दक्षिण की ओर चली और अंततः वह बाएं मुड़कर 60 मीटर चलकर बाजार पहुंची। उसके घर से बाजार किस दिशा में है?

- Ans  1. दक्षिण-पूर्व  
 2. दक्षिण-पश्चिम  
 3. उत्तर-पश्चिम  
 4. उत्तर-पूर्व

Question ID : 81616111400  
Status : Answered  
Chosen Option : 4

Q.33 दिए गए विकल्पों में से, उस उचित विकल्प का चयन करें, जो निम्न श्रेणी में प्रश्नवाचक चिह्न (?) के स्थान पर होगा।

1, 5, 3, 2, 10, 6, 4, 15, 9, 8, ?, 12

- Ans  1. 20  
 2. 18  
 3. 15  
 4. 19

Question ID : 81616111795  
Status : Answered  
Chosen Option : 1

Q.34 किसी निश्चित कूट भाषा में 'SOUP' को 'VLR'S' और 'BACK' को 'EXFN' लिखा जाता है। उसी कूट भाषा में 'TYPE' को किस प्रकार लिखा जाएगा?

- Ans  1. WBSB  
 2. VBRB  
 3. WBSH  
 4. WCSC

Question ID : 81616110961  
Status : Answered  
Chosen Option : 1

Q.35 किसी निश्चित कूट भाषा में PHONE को 78 और MOON को 52 लिखा जाता है। इसी कूट भाषा में PLAN को क्या लिखा जाएगा?

- Ans  1. 66  
 2. 65  
 3. 43  
 4. 98

Question ID : 81616111372  
Status : Answered  
Chosen Option : 1

Q.36 उस विकल्प का चयन करें, जो तीसरे अक्षर-समूह से उसी तरह संबंधित है, जैसे दूसरा अक्षर-समूह, पहले अक्षर-समूह से संबंधित है।

GKNR : SOLH :: MNGB : ?

- Ans
- 1. NMTX
  - 2. OMNX
  - 3. QPSX
  - 4. MLSX

Question ID : 81616111367

Status : Answered

Chosen Option : 3

Q.37 चार अक्षर-समूह दिए गए हैं, जिनमें से तीन किसी तरह से समान हैं और एक भिन्न है। भिन्न अक्षर-समूह का चयन करें।

- Ans
- 1. CHMRW
  - 2. DJOTY
  - 3. BGLQV
  - 4. DINSX

Question ID : 81616111366

Status : Answered

Chosen Option : 2

Q.38 दिए गए पैटर्न का ध्यानपूर्वक अध्ययन करें और अनुपस्थित संख्या ज्ञात करें।

(9, 9, 2) (8, \_\_, 1) (4, 8, 8)

- Ans
- 1. 11
  - 2. 1
  - 3. 6
  - 4. 8

Question ID : 81616111806

Status : Answered

Chosen Option : 2

Q.39 P, Q, R, S, T और U छह दोस्त एक वृत्ताकार मेज के परितः एक दूसरे से समान दूरी पर केंद्र की ओर मुंह करके बैठे हैं। U, T के बाएं चौथे स्थान पर बैठा है। कोई S और T के बीच में बैठा है, लेकिन यह P नहीं है। R, U के ठीक बाएं बैठा है। T के सामने कौन बैठा है?

- Ans
- 1. Q
  - 2. P
  - 3. S
  - 4. R

Question ID : 81616111376

Status : Answered

Chosen Option : 4



Q.40 उस विकल्प का चयन करें, जिसे खाली जगह में रखने पर श्रृंखला पूर्ण हो जाएगी।

EBA, \_\_\_\_\_, UJI, ONO, IRU

- Ans  1. PJA  
 2. AFE  
 3. PIA  
 4. QJZ

Question ID : 81616111360  
Status : Answered  
Chosen Option : 2

Q.41 उस विकल्प का चयन करें, जो तीसरे अक्षर-समूह से उसी तरह संबंधित है, जैसे दूसरा अक्षर-समूह, पहले अक्षर-समूह से संबंधित है।

DURDG : EFJVZ :: JGFSGR : ?

- Ans  1. GIJNWY  
 2. GJJNVX  
 3. KJJNVX  
 4. KIJNVX

Question ID : 81616111369  
Status : Answered  
Chosen Option : 4

Q.42 एक कक्षा में 64 छात्र हैं, जिसमें कोमल का रैंक, अपनी सहेली शिखा की रैंक से 6 स्थान नीचे है (नीचे की ओर), जो कि अंतिम से 59वें रैंक पर है। शीर्ष से देखा जाए, तो कक्षा में कोमल का रैंक क्या होगा?

- Ans  1. 12वां  
 2. 16वां  
 3. 15वां  
 4. 19वां

Question ID : 81616111375  
Status : Answered  
Chosen Option : 1

Q.43 दिए गए पैटर्न का सावधानीपूर्वक अध्ययन करें, तथा उस संख्या का चयन करें, जो प्रश्नवाचक चिह्न (?) की जगह आ सकती है?

(17, 9, 4) (13, ?, 7) (14, 3, 13)

- Ans  1. 15  
 2. 10  
 3. 12  
 4. 2

Question ID : 81616111395  
Status : Answered  
Chosen Option : 4

Q.44 उस सही विकल्प का चयन करें, जो दिए गए शब्दों के तार्किक और सार्थक क्रम को दर्शाता है।

1. पौधा (Plant)
2. अंकुरण (Germination)
3. बीज (Seed)
4. फल (Fruit)
5. फूल (Flower)

- Ans
- 1. 3, 4, 2, 1, 5
  - 2. 3, 1, 2, 5, 4
  - 3. 4, 2, 3, 5, 1
  - 4. 3, 2, 1, 5, 4

Question ID : 81616111362  
Status : Answered  
Chosen Option : 4

Q.45 चार अक्षर-समूह दिए गए हैं, जिनमें से तीन किसी तरह से समान हैं और एक भिन्न है। भिन्न अक्षर-समूह का चयन करें।

- Ans
- 1. SXHD
  - 2. GDTW
  - 3. BKYP
  - 4. XJCQ

Question ID : 81616111365  
Status : Answered  
Chosen Option : 1

Q.46 दिए गए पैटर्न का सावधानीपूर्वक अध्ययन करें, तथा उस संख्या का चयन करें, जो प्रश्नवाचक चिह्न (?) की जगह आ सकती है?

(5, 2, 9) (13, 5, 38) (14, 3, ?)

- Ans
- 1. 44
  - 2. 33
  - 3. 29
  - 4. 23

Question ID : 81616111398  
Status : Answered  
Chosen Option : 1

Q.47 'A & B' का मतलब 'A, B की बहन है'।  
'A % B' का मतलब 'A, B का भाई है'।  
'A \$ B' का मतलब 'A, B की माँ है'।  
'A # B' का मतलब 'A, B की पत्नी है'।

यदि  $U \$ Q \& Y \% D \$ S \# K$  है, तो निम्न में से कौन-सा कथन सही नहीं है?

- Ans
- 1. U, D की माँ है।
  - 2. Y, U की बेटी है।
  - 3. Q, D की बहन है।
  - 4. D, K की सास है।

Question ID : 81616110970  
Status : Answered  
Chosen Option : 2

Q.48 उस विकल्प का चयन करें, जो तीसरे अक्षर-समूह से उसी तरह संबंधित है, जैसे दूसरा अक्षर-समूह, पहले अक्षर-समूह से संबंधित है।

OESTD : UAVXI :: UISRY : ?

- Ans
- 1. AOVYD
  - 2. EAVVD
  - 3. AEVWD
  - 4. AEVVD

Question ID : 81616111368  
Status : Answered  
Chosen Option : 4

Q.49 अगर चिह्न  $\times$  और  $\div$  तथा संख्याएं 12 और 9 को आपस में बदल दिया जाए, तो निम्न में से कौन-सा व्यंजक संतुलित हो जाएगा?

- Ans
- 1.  $14 \div 2 + 10 (12 - 6) \times 9 = 37$
  - 2.  $10 + 2 \div 3 + (24 \times 9 + 8) - 12 = 17$
  - 3.  $9 \times 17 + 5 (24 \div 9) - 12 = 46$
  - 4.  $12 + 8 \times 9 + (24 \div 5 + 8) - 7 = 35$

Question ID : 81616111394  
Status : Answered  
Chosen Option : 2

Q.50 उस विकल्प का चयन करें, जो दिए गए शब्दों का अंग्रेजी शब्दकोश के अनुसार, उनका सही क्रम निरूपित करता है।

1. Profess
2. Product
3. Prosecute
4. Precaution
5. Proctor

- Ans
- 1. 4, 5, 2, 3, 1
  - 2. 3, 5, 2, 1, 4
  - 3. 2, 5, 4, 1, 3
  - 4. 4, 5, 2, 1, 3

Question ID : 81616110954  
Status : Answered  
Chosen Option : 4

