

Sub Inspector in Delhi Police and Central Armed Police Forces Examination 2024 Paper I Exam

Roll Number	
Candidate Name	
Venue Name	
Exam Date	29/06/2024
Exam Time	12:30 PM - 2:30 PM
Subject	SICPO Paper I 2024

Section : General Intelligence and Reasoning

Q.1 एक निश्चित कूट भाषा में, 'FROM' को 'HSNK' लिखा जाता है और 'WAKE' को 'YBJC' लिखा जाता है। दी गई भाषा में 'JUMP' को किस प्रकार लिखा जाएगा?

- Ans
- 1. MULM
 - 2. LTKN
 - 3. LVLN
 - 4. MTKN

Question ID : 630680313752
 Option 1 ID : 6306801220852
 Option 2 ID : 6306801220849
 Option 3 ID : 6306801220850
 Option 4 ID : 6306801220851
 Status : Answered
 Chosen Option : 3

Q.2 दिए गए विकल्पों में से उस संख्या का चयन करें जो निम्नलिखित श्रृंखला में प्रश्न चिह्न (?) के स्थान पर आ सकती है।
 228, 209, 192, 179, 168, ?

- Ans
- 1. 160
 - 2. 162
 - 3. 161
 - 4. 165

Question ID : 630680411931
 Option 1 ID : 6306801606562
 Option 2 ID : 6306801606559
 Option 3 ID : 6306801606560
 Option 4 ID : 6306801606561
 Status : Answered
 Chosen Option : 3



Download SSC CGL, CHSL E-BOOKS

[CLICK HERE](#)

Q.3 यदि 'A' का अर्थ '+' है, 'B' का अर्थ '-' है, 'C' का अर्थ 'x' है और 'D' का अर्थ '=' है, तो निम्नलिखित समीकरण में प्रश्न-चिह्न (?) के स्थान पर क्या आएगा?
80 B 12 C 5 A 27 D 9 = ?

- Ans 1. 19
 2. 23
 3. 25
 4. 27

Question ID : 630680411666
 Option 1 ID : 6306801605499
 Option 2 ID : 6306801605500
 Option 3 ID : 6306801605501
 Option 4 ID : 6306801605502
 Status : Answered
 Chosen Option : 2

Q.4 एक कूट भाषा में 'CRAB' को 'YTWD' के रूप में लिखा जाता है और 'CALM' को 'YCHO' के रूप में लिखा जाता है। इसी कूट भाषा में 'ZOOM' को कैसे लिखा जाएगा?

- Ans 1. KVOQ
 2. KOVQ
 3. VKOQ
 4. VQKO

Question ID : 630680416677
 Option 1 ID : 6306801625474
 Option 2 ID : 6306801625472
 Option 3 ID : 6306801625471
 Option 4 ID : 6306801625473
 Status : Not Answered
 Chosen Option : --

Q.5 उस विकल्प का चयन कीजिए, जो दिए गए शब्दों के सही क्रम को निरूपित करता है, जैसे कि वे अंग्रेजी शब्दकोश में दिखाई देते हैं।

1. Unfaithful
2. Unfamiliar
3. Uneasiness
4. Undone
5. Understand
6. Undetermined

- Ans 1. 5, 6, 4, 2, 1, 3
 2. 5, 6, 4, 3, 1, 2
 3. 5, 6, 1, 2, 4, 3
 4. 5, 6, 4, 3, 2, 1

Question ID : 630680417390
 Option 1 ID : 6306801628324
 Option 2 ID : 6306801628325
 Option 3 ID : 6306801628326
 Option 4 ID : 6306801628323
 Status : Answered
 Chosen Option : 2



Q.6 दो कथनों के बाद I और II से संख्यांकित दो निष्कर्ष दिए गए हैं। कथनों को सत्य मानते हुए, भले ही वे सामान्य रूप से ज्ञात तथ्यों से भिन्न प्रतीत होते हों, तय करें कि दिए गए निष्कर्षों में से कौन सा/से निष्कर्ष कथनों का तार्किक रूप से अनुसरण करता है/करते हैं।

कथन:

कोई प्लेट, प्याला नहीं है।

सभी प्लेट, गिलास हैं।

निष्कर्ष:

I. कोई गिलास, प्लेट नहीं है।

II. कुछ गिलास, प्याले हैं।

Ans 1. न तो निष्कर्ष I और न ही II अनुसरण करता है

2. या तो निष्कर्ष I या II अनुसरण करता है

3. केवल निष्कर्ष I अनुसरण करता है

4. केवल निष्कर्ष II अनुसरण करता है

Question ID : 630680416891

Option 1 ID : 6306801626330

Option 2 ID : 6306801626329

Option 3 ID : 6306801626327

Option 4 ID : 6306801626328

Status : Answered

Chosen Option : 1

Q.7 उस समुच्चय का चयन करें जिसकी संख्याएं उसी तरह से संबंधित हैं जिस तरह निम्नलिखित समुच्चयों की संख्याएं संबंधित हैं।

(नोट: संख्याओं को उसके घटक अंकों में तोड़े बिना, पूर्ण संख्याओं पर संक्रियाएं की जानी चाहिए। उदाहरण के लिए संख्या 13 को लें - 13 पर संक्रियाएं, जैसे कि 13 में जोड़ना/घटाना/गुणा करना आदि, की जा सकती हैं। 13 को 1 और 3 में तोड़ने और फिर 1 और 3 पर गणितीय संक्रियाएं करने की अनुमति नहीं है)

(21, 63, 378)

(23, 69, 414)

Ans 1. (26, 81, 486)

2. (27, 81, 486)

3. (27, 80, 486)

4. (27, 81, 476)

Question ID : 630680344669

Option 1 ID : 6306801340988

Option 2 ID : 6306801340987

Option 3 ID : 6306801340986

Option 4 ID : 6306801340985

Status : Answered

Chosen Option : 2

Q.8 एक कूट भाषा में, 'COOL' को '180°' के रूप में कूटबद्ध किया जाता है और 'MAN' को '84°' के रूप में कूटबद्ध किया जाता है। उसी भाषा में 'QUIET' को कैसे कूटबद्ध किया जाएगा?

Ans 1. 56

2. 284

3. 360

4. 36

Question ID : 630680302859

Option 1 ID : 6306801178098

Option 2 ID : 6306801178101

Option 3 ID : 6306801178099

Option 4 ID : 6306801178100

Status : Answered

Chosen Option : 3



Download SSC CGL, CHSL E-BOOKS

[CLICK HERE](#)

Q.9 उस विकल्प का चयन कीजिए जो पांचवें पद से उसी प्रकार संबंधित है जिस प्रकार दूसरा पद पहले पद से और चौथा पद तीसरे पद से संबंधित है।

DRIVE : RDEVI :: STOCK : TSKCO :: MOULD : ?

- Ans
- 1. OMLUD
 - 2. OMULD
 - 3. OMDLU
 - 4. MODLU

Question ID : 630680416788

Option 1 ID : 6306801625918

Option 2 ID : 6306801625915

Option 3 ID : 6306801625916

Option 4 ID : 6306801625917

Status : Answered

Chosen Option : 3

Q.10 एक निश्चित कूट भाषा में,

A + B का अर्थ है 'A, B की मां है'

A - B का अर्थ है 'A, B का भाई है'

A × B का अर्थ है 'A, B की पत्नी है'

A ÷ B का अर्थ है 'A, B का पिता है'

उपर्युक्त के आधार पर, यदि 'P - Q + R - S ÷ T × U' है, तो T का Q से क्या संबंध है?

- Ans
- 1. साली
 - 2. नातिन
 - 3. पोती
 - 4. बहन

Question ID : 630680284953

Option 1 ID : 6306801107811

Option 2 ID : 6306801107813

Option 3 ID : 6306801107812

Option 4 ID : 6306801107814

Status : Answered

Chosen Option : 3

Q.11 निम्नलिखित में से कौन-सी संख्या, दी गई श्रृंखला में प्रश्न चिह्न (?) के स्थान पर आएगी?

101, 103, 107, 109, ?, 127, 131, 137

- Ans
- 1. 123
 - 2. 125
 - 3. 113
 - 4. 111

Question ID : 630680411869

Option 1 ID : 6306801606312

Option 2 ID : 6306801606311

Option 3 ID : 6306801606314

Option 4 ID : 6306801606313

Status : Not Answered

Chosen Option : --



Download SSC CGL, CHSL E-BOOKS

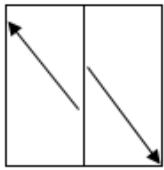
[CLICK HERE](#)

Q.12 यदि '+' और '-' को आपस में बदल दिया जाए और 'x' और '÷' को आपस में बदल दिया जाए, तो निम्नलिखित समीकरण में प्रश्न चिह्न (?) के स्थान पर क्या आएगा?
 $76 \div 6 + 18 \times 6 - 49 = ?$

- Ans
- 1. 596
 - 2. 524
 - 3. 502
 - 4. 569

Question ID : 630680411739
 Option 1 ID : 6306801605791
 Option 2 ID : 6306801605793
 Option 3 ID : 6306801605792
 Option 4 ID : 6306801605794
 Status : Answered
 Chosen Option : 3

Q.13 एक पैटर्न वाली एक पारदर्शी शीट नीचे दी गई है। उस विकल्प का चयन कीजिए जो उस पैटर्न को दर्शाता है जो दी गई पारदर्शी शीट को मध्य उर्ध्वाधर रेखा पर मोड़ने पर दिखाई देगा।



Ans

- 1.
- 2.
- 3.
- 4.

Question ID : 630680389402
 Option 1 ID : 6306801518068
 Option 2 ID : 6306801518066
 Option 3 ID : 6306801518069
 Option 4 ID : 6306801518067
 Status : Answered
 Chosen Option : 2

CPO Sub-Inspectors

(Delhi Police & CAPFs, CISF Exam)



100%
SAFE

- ▶ 100% Written Exam Syllabus
- ▶ Paper-1 & Paper-2
- ▶ 1000+ Pages, 3000+ MCQ
- ▶ Solved Papers & Practice Papers
- ▶ 1 Year Current Affairs

50%
OFF

Pay online



SSC CPO

PDF NOTES

50%
OFF

CLICK HERE



CLICK BELOW LINK TO DOWNLOAD PDF NOTES

<https://sscportal.in/study-kit/capfs>

<https://sscportal.in/study-kit>

Q.14 यदि + का अर्थ - है, - का अर्थ ÷ है, × का अर्थ + है और ÷ का अर्थ × है, तो निम्नलिखित व्यंजक का मान क्या होगा?

$$16 \times 9 + 5 \div 4 - 2 = ?$$

Ans 1. 15

2. 40

3. 35

4. 20

Question ID : 630680411961

Option 1 ID : 6306801606680

Option 2 ID : 6306801606679

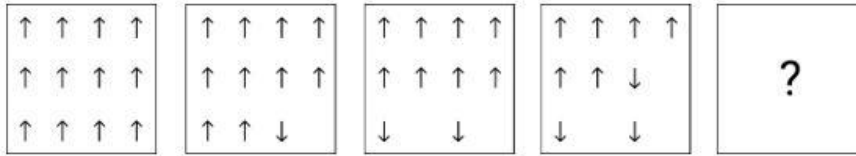
Option 3 ID : 6306801606681

Option 4 ID : 6306801606682

Status : Answered

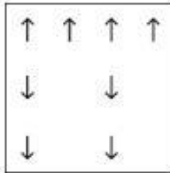
Chosen Option : 1

Q.15 दिए गए विकल्पों में से उस आकृति की पहचान कीजिए, जिसे '?' के स्थान पर रखने पर शृंखला तार्किक रूप से पूर्ण हो जाएगी।

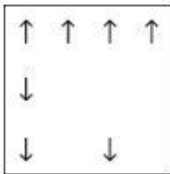


Ans

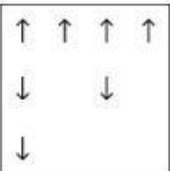
1.



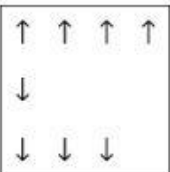
2.



3.



4.



Question ID : 630680366163

Option 1 ID : 6306801426177

Option 2 ID : 6306801426179

Option 3 ID : 6306801426178

Option 4 ID : 6306801426180

Status : Answered

Chosen Option : 1



Download SSC CGL, CHSL E-BOOKS

[CLICK HERE](#)

Q.16 विकल्पों में से उस आकृति की पहचान करें, जिसे प्रश्न-चिह्न (?) के स्थान पर रखे जाने पर श्रृंखला तार्किक रूप से पूर्ण हो जाएगी।

1 8	8 0	0 2	2 7	?
0	2	7	1	
7 2	1 7	8 1	0 8	

Ans

✗ 1.

1 8
0
7 2

✓ 2.

7 1
8
2 0

✗ 3.

7 1
8
0 2

✗ 4.

7 0
1
2 8

Question ID : 630680867773
 Option 1 ID : 6306803398738
 Option 2 ID : 6306803398736
 Option 3 ID : 6306803398737
 Option 4 ID : 6306803398739

Status : Answered

Chosen Option : 2

Q.17 एक निश्चित कूट भाषा में 'BEDROOM' को '28' और 'MOON' को '16' के रूप में लिखा जाता है। उस भाषा में 'CHAIN' कैसे लिखा जाएगा?

- Ans
- ✗ 1. 26
 - ✗ 2. 24
 - ✓ 3. 20
 - ✗ 4. 23

Question ID : 630680416592
 Option 1 ID : 6306801625134
 Option 2 ID : 6306801625132
 Option 3 ID : 6306801625133
 Option 4 ID : 6306801625131

Status : Answered

Chosen Option : 3

Q.18 निम्नलिखित में से कौन-सी संख्या दी गई श्रृंखला में प्रश्नवाचक चिह्न (?) का स्थान लेगी?

8 9 13 22 ?

- Ans
- 1. 32
 - 2. 42
 - 3. 48
 - 4. 38

Question ID : 630680412014

Option 1 ID : 6306801606893

Option 2 ID : 6306801606892

Option 3 ID : 6306801606891

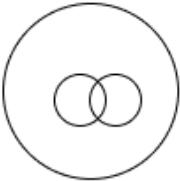
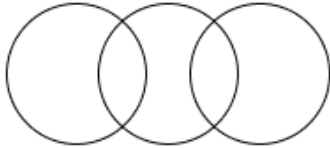


Option 4 ID : 6306801606894

Status : Answered

Chosen Option : 4

Q.19 उस वेन आरेख का चयन कीजिए जो निम्नलिखित वर्गों के बीच संबंध को सर्वोत्तम रूप से दर्शाता है।
जानवर, शेर, सियार

Ans

- 1. 
- 2. 
- 3. 
- 4. 

Question ID : 630680869732

Option 1 ID : 6306803406296

Option 2 ID : 6306803406295

Option 3 ID : 6306803406294

Option 4 ID : 6306803406297

Status : Answered

Chosen Option : 3



Download SSC CGL, CHSL E-BOOKS

[CLICK HERE](#)

Q.20 उस समुच्चय का चयन करें जिसमें दी गई संख्याएँ आपस में उसी प्रकार संबंधित हैं, जिस प्रकार प्रश्न में दिए गए समुच्चय की संख्याएँ आपस में संबंधित हैं।
(ध्यान दें: संख्याओं को उनके घटक अंकों में तोड़े बिना, पूर्ण संख्याओं पर गणितीय संक्रियाएँ की जानी चाहिए। जैसे, 13 के मामले में - 13 पर की जाने वाली विभिन्न गणितीय संक्रियाएँ जैसे 13 में जोड़ना / घटाना / गुणा करना आदि 13 पर की जा सकती हैं। लेकिन 13 को 1 और 3 में तोड़ने और फिर 1 और 3 पर गणितीय संक्रियाएँ करने की अनुमति नहीं है।)
(18, 3, 9)
(36, 6, 18)

- Ans 1. (78, 14, 39)
 2. (72, 13, 36)
 3. (72, 14, 39)
 4. (78, 13, 39)

Question ID : 630680294011
Option 1 ID : 6306801143859
Option 2 ID : 6306801143857
Option 3 ID : 6306801143856
Option 4 ID : 6306801143858
Status : Answered
Chosen Option : 4

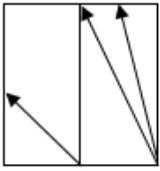
Q.21 निम्नलिखित समीकरण में '?' के स्थान पर क्या आएगा, यदि '+' और '-' को आपस में बदल दिया जाए तथा '×' और '÷' को भी आपस में बदल दिया जाए?
 $11 \div 12 - 78 \times 6 + 54 = ?$

- Ans 1. 91
 2. 104
 3. 86
 4. 99

Question ID : 630680343177
Option 1 ID : 6306801335081
Option 2 ID : 6306801335082
Option 3 ID : 6306801335083
Option 4 ID : 6306801335084
Status : Answered
Chosen Option : 1

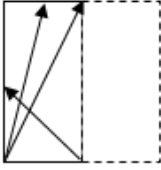


Q.22 एक पैटर्न वाली एक पारदर्शी शीट नीचे दी गई है। उस विकल्प का चयन कीजिए जो उस पैटर्न को दर्शाता है जो दी गई पारदर्शी शीट को मध्य उर्ध्वाधर रेखा पर मोड़ने पर दिखाई देगा।

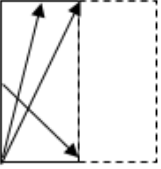


Ans

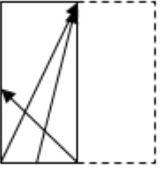
✓ 1.



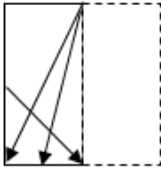
✗ 2.



✗ 3.



✗ 4.



Question ID : 630680389406

Option 1 ID : 6306801518084

Option 2 ID : 6306801518085

Option 3 ID : 6306801518082

Option 4 ID : 6306801518083

Status : Answered

Chosen Option : 1

Q.23 निम्नलिखित में से कौन-सा पद दी गई श्रृंखला में प्रश्न-चिह्न (?) का स्थान लेगा?

GXMA, IVOY, KTQW, MRSU, ?

Ans ✗ 1. OPVS

✓ 2. OPUS

✗ 3. OQVS

✗ 4. OQUT

Question ID : 630680417046

Option 1 ID : 6306801626947

Option 2 ID : 6306801626949

Option 3 ID : 6306801626950

Option 4 ID : 6306801626948

Status : Answered

Chosen Option : 2



Download SSC CGL, CHSL E-BOOKS

CLICK HERE

Q.24 यदि 'A' का अर्थ '+' है, 'B' का अर्थ '×' है, 'C' का अर्थ '-' है और 'D' का अर्थ '÷' है, तो निम्नलिखित समीकरण में प्रश्न-चिह्न (?) के स्थान पर क्या आएगा?
96 A 4 D 5 B 7 C 20 = ?

- Ans
- 1.2
 - 2.4
 - 3.7
 - 4.9

Question ID : 630680411670

Option 1 ID : 6306801605515

Option 2 ID : 6306801605517

Option 3 ID : 6306801605516

Option 4 ID : 6306801605518

Status : Answered

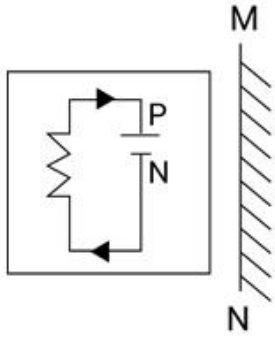
Chosen Option : 4



Download SSC CGL, CHSL E-BOOKS

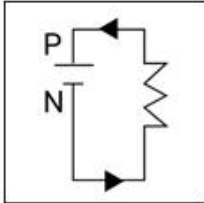
[CLICK HERE](#)

Q.25 जब दर्पण को नीचे दर्शाए गए अनुसार MN रेखा पर रखा जाता है तो दी गई आकृति के सही दर्पण प्रतिबिंब का चयन कीजिए।

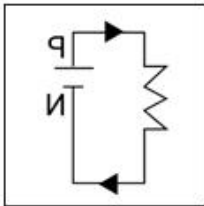


Ans

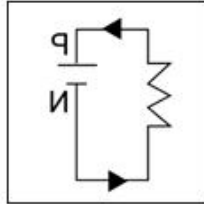
✗ 1.



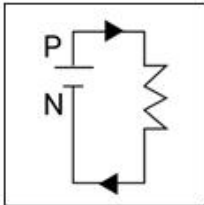
✗ 2.



✓ 3.



✗ 4.



Question ID : 630680296901

Option 1 ID : 6306801155247

Option 2 ID : 6306801155250

Option 3 ID : 6306801155249

Option 4 ID : 6306801155248

Status : Answered

Chosen Option : 3

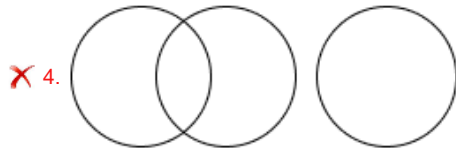
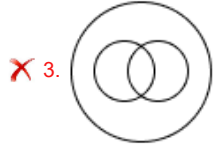
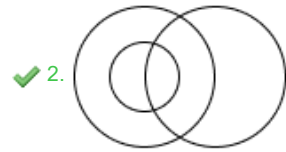
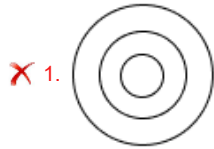


Download SSC CGL, CHSL E-BOOKS

[CLICK HERE](#)

Q.26 उस वेन आरेख का चयन कीजिए जो निम्नलिखित वर्गों के बीच संबंध को सर्वोत्तम रूप से दर्शाता है।
महिला, माँ, अभिनेता

Ans



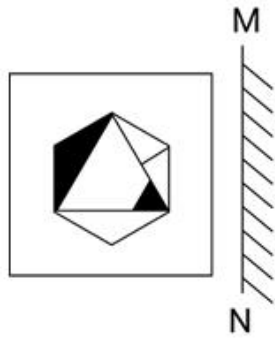
Question ID : 630680869739
Option 1 ID : 6306803406324
Option 2 ID : 6306803406325
Option 3 ID : 6306803406323
Option 4 ID : 6306803406322
Status : Answered
Chosen Option : 2



Download SSC CGL, CHSL E-BOOKS

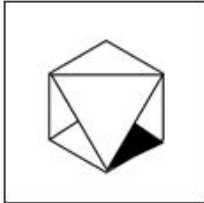
[CLICK HERE](#)

Q.27 जब दर्पण को नीचे दर्शाए गए अनुसार MN रेखा पर रखा जाता है तो दी गई आकृति के सही दर्पण प्रतिबिंब का चयन कीजिए।

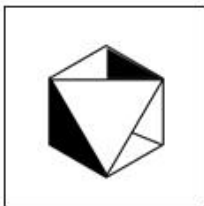


Ans

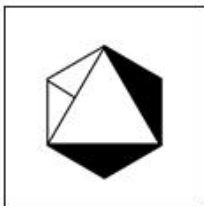
✗ 1.



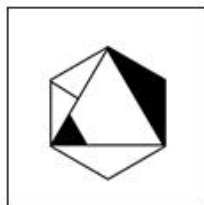
✗ 2.



✗ 3.



✓ 4.



Question ID : 630680296906

Option 1 ID : 6306801155269

Option 2 ID : 6306801155267

Option 3 ID : 6306801155270

Option 4 ID : 6306801155268

Status : Answered

Chosen Option : 4

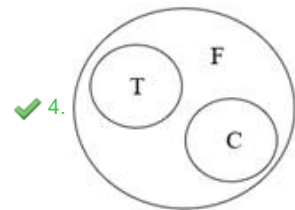
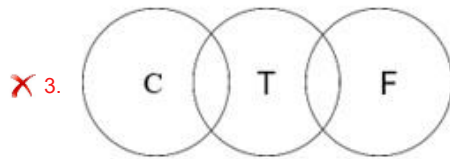
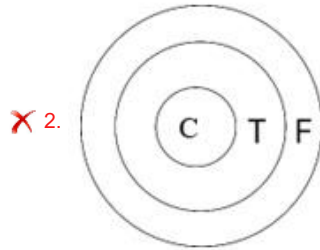
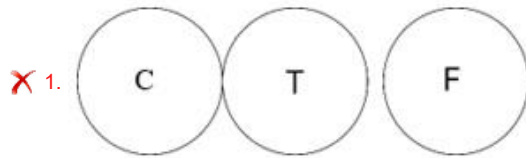


Download SSC CGL, CHSL E-BOOKS

[CLICK HERE](#)

Q.28 उस वेन आरेख का चयन कीजिए जो निम्नलिखित वर्गों के बीच संबंध को सर्वोत्तम रूप से दर्शाता है।
फर्नीचर, कुर्सी, मेज

Ans



Question ID : 630680416274

Option 1 ID : 6306801623862

Option 2 ID : 6306801623860

Option 3 ID : 6306801623861

Option 4 ID : 6306801623859

Status : Answered

Chosen Option : 4

Q.29 बिंदु B, बिंदु A से 35 m पूर्व में है। बिंदु C, बिंदु A से 26 m उत्तर में है। बिंदु C, बिंदु D से 15 m पश्चिम में है। बिंदु E, बिंदु D से 13 m दक्षिण में है। बिंदु F, बिंदु E से 20 m पूर्व में है। बिंदु F से बिंदु B किस दिशा में है?

Ans ✓ 1. दक्षिण

✗ 2. दक्षिण-पूर्व

✗ 3. पश्चिम

✗ 4. उत्तर-पश्चिम

Question ID : 630680416357

Option 1 ID : 6306801624192

Option 2 ID : 6306801624193

Option 3 ID : 6306801624194

Option 4 ID : 6306801624191

Status : Answered

Chosen Option : 1



Download SSC CGL, CHSL E-BOOKS

CLICK HERE

Q.30 निम्नलिखित में से कौन-सा पद दी गई श्रृंखला में प्रश्न-चिह्न (?) का स्थान लेगा?

NBRY, PZSX, ?, TVUV, VTVU

- Ans 1. RYTW
 2. SXTW
 3. SYTW
 4. RXTW

Question ID : 630680417047
 Option 1 ID : 6306801626951
 Option 2 ID : 6306801626953
 Option 3 ID : 6306801626954
 Option 4 ID : 6306801626952
 Status : Answered
 Chosen Option : 4

Q.31 उस विकल्प का चयन करें जो तीसरे शब्द से उसी प्रकार संबंधित है जिस प्रकार दूसरा शब्द पहले शब्द से संबंधित है। (शब्दों को अर्थपूर्ण /हिन्दी शब्दों के रूप में माना जाना चाहिए और इन्हें शब्द में अक्षरों की संख्या/व्यंजनों की संख्या/स्वरों की संख्या के आधार पर एक-दूसरे से संबद्ध नहीं किया जाना चाहिए।)
 कंकालॉजी : शैल :: पैलेऑटोलॉजी : ?

- Ans 1. जीवाश्म
 2. मृदा
 3. ग्रह
 4. धातु

Question ID : 630680416725
 Option 1 ID : 6306801625666
 Option 2 ID : 6306801625663
 Option 3 ID : 6306801625665
 Option 4 ID : 6306801625664
 Status : Answered
 Chosen Option : 2

Q.32 A, B, C, D, E और F एक वृत्ताकार मेज के चारों ओर केंद्र की ओर मुख करके बैठे हैं। A और F के बीच केवल दो व्यक्ति बैठे हैं। F और E के बीच केवल एक व्यक्ति बैठा है। C, D के ठीक बाएं बैठा है। C, A का निकटतम पड़ोसी नहीं है। F के ठीक बाएं कौन बैठा है?

- Ans 1. B
 2. A
 3. E
 4. D

Question ID : 630680416854
 Option 1 ID : 6306801626180
 Option 2 ID : 6306801626179
 Option 3 ID : 6306801626181
 Option 4 ID : 6306801626182
 Status : Answered
 Chosen Option : 1

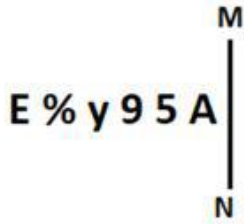


Q.33 दिए गए समीकरण को सही बनाने के लिए कौन से दो चिह्नों को परस्पर बदलना चाहिए?
 $7 \div 255 + 5 \times 3 - 20 = 140$

- Ans
- 1. + और -
 - 2. - और +
 - 3. \times और +
 - 4. + और \div

Question ID : 630680411798
 Option 1 ID : 6306801606028
 Option 2 ID : 6306801606027
 Option 3 ID : 6306801606029
 Option 4 ID : 6306801606030
 Status : Answered
 Chosen Option : 4

Q.34 जब दर्पण को नीचे दर्शाए गए अनुसार MN पर रखा जाता है तो दी गई आकृति के सही दर्पण प्रतिबिंब का चयन कीजिए।



- Ans
- 1. $\nabla 5 e y \% \exists$
 - 2. $A \nabla e y \% \exists$
 - 3. $\nabla \nabla e y \% E$
 - 4. $\nabla 5 6 y \% E$

Question ID : 630680356644
 Option 1 ID : 6306801388578
 Option 2 ID : 6306801388577
 Option 3 ID : 6306801388580
 Option 4 ID : 6306801388579
 Status : Answered
 Chosen Option : 2

Q.35 एक निश्चित कूट भाषा में,
 'A x B' का अर्थ है कि 'A, B का पुत्र है',
 'A - B' का अर्थ है कि 'A, B का भाई है',
 'A + B' का अर्थ है कि 'A, B की पत्नी है',
 'A % B' का अर्थ है कि 'A, B का पिता है'।
 यदि 'M + N - P x S % T' है तो M का T से क्या संबंध है?

- Ans
- 1. मामा की पुत्री
 - 2. चाचा की पुत्रवधू
 - 3. साली
 - 4. भाभी

Question ID : 630680869741
 Option 1 ID : 6306803406332
 Option 2 ID : 6306803406330
 Option 3 ID : 6306803406331
 Option 4 ID : 6306803406333
 Status : Answered
 Chosen Option : 4

Q.36 यदि + और - को आपस में बदल दिया जाए, तो प्रश्नवाचक चिह्न (?) के स्थान पर क्या आएगा?
 $8 - 3 \times 4 + 16 \div 2 = ?$

- Ans 1. 14
 2. 10
 3. 12
 4. 11

Question ID : 630680411790
 Option 1 ID : 6306801605997
 Option 2 ID : 6306801605995
 Option 3 ID : 6306801605996
 Option 4 ID : 6306801605998
 Status : Answered
 Chosen Option : 3

Q.37 एक निश्चित तर्क का अनुसरण करते हुए 9, 90 से संबंधित है। उसी तर्क का अनुसरण करते हुए, 12, 156 से संबंधित है। उसी तर्क का उपयोग करते हुए निम्नलिखित में से कौन सी संख्या 72 से संबंधित है?

- Ans 1. 8
 2. 7
 3. 9
 4. 6

Question ID : 63068063340
 Option 1 ID : 630680244528
 Option 2 ID : 630680244527
 Option 3 ID : 630680244529
 Option 4 ID : 630680244526
 Status : Answered
 Chosen Option : 1

Q.38 उस विकल्प का चयन करें, जो दिए गए शब्दों के उस सही क्रम को दर्शाता है, जिसमें वे अंग्रेज़ी शब्दकोश में दिखाई देंगे।

1. Purposively
2. Pursuit
3. Purgatory
4. Purify
5. Purports
6. Purchased

- Ans 1. 4, 5, 6, 3, 1, 2
 2. 6, 3, 4, 5, 1, 2
 3. 6, 3, 1, 5, 4, 2
 4. 4, 5, 3, 1, 6, 2

Question ID : 630680417406
 Option 1 ID : 6306801628387
 Option 2 ID : 6306801628388
 Option 3 ID : 6306801628389
 Option 4 ID : 6306801628390
 Status : Answered
 Chosen Option : 2



Q.39 दी गई श्रृंखला को पूरा करने के लिए कौन सा अक्षर समूह प्रश्न चिह्न (?) के स्थान पर आ सकता है?
UBIG, PDKL, ?, FHOV, AJQA

- Ans 1. JEMQ
 2. KFMQ
 3. KEMR
 4. LEMR

Question ID : 630680416308
Option 1 ID : 6306801623998
Option 2 ID : 6306801623997
Option 3 ID : 6306801623995
Option 4 ID : 6306801623996
Status : Answered
Chosen Option : 2

Q.40 एक कूट भाषा में 'BEST' को 'GKXZ' के रूप में लिखा जाता है और 'EDGE' को 'JJLK' के रूप में लिखा जाता है। इसी कूट भाषा में 'WIND' को कैसे लिखा जाएगा?

- Ans 1. BSJO
 2. JSOB
 3. SJBO
 4. BOSJ

Question ID : 630680416692
Option 1 ID : 6306801625534
Option 2 ID : 6306801625532
Option 3 ID : 6306801625531
Option 4 ID : 6306801625533
Status : Answered
Chosen Option : 4



Q.41 दिए गए विकल्पों में से उस आकृति का चयन कीजिए, जो निम्नलिखित श्रृंखला में प्रश्न चिह्न (?) को तार्किक रूप से प्रतिस्थापित कर सकती है।

q c α % a	% α q a c	a q % c α	c % a α q	?
---------------------------	---------------------------	---------------------------	---------------------------	---

Ans

✗ 1.

% q α c a

✗ 2.

α a q % c

✓ 3.

α a c q %

✗ 4.

c α % a q

Question ID : 630680867755

Option 1 ID : 6306803398666

Option 2 ID : 6306803398667

Option 3 ID : 6306803398664

Option 4 ID : 6306803398665

Status : Answered

Chosen Option : 3



Download SSC CGL, CHSL E-BOOKS

[CLICK HERE](#)

Q.42 उस समुच्चय का चयन करें जिसमें दी गई संख्याएँ आपस में उसी प्रकार संबंधित हैं, जिस प्रकार प्रश्न में दिए गए समुच्चय की संख्याएँ आपस में संबंधित हैं।
(ध्यान दें: संख्याओं को उनके घटक अंकों में तोड़े बिना, पूर्ण संख्याओं पर गणितीय संक्रियाएँ की जानी चाहिए। जैसे, 13 के मामले में - 13 पर की जाने वाली विभिन्न गणितीय संक्रियाएँ जैसे 13 में जोड़ना / घटाना / गुणा करना आदि 13 पर की जा सकती हैं। लेकिन 13 को 1 और 3 में तोड़ने और फिर 1 और 3 पर गणितीय संक्रियाएँ करने की अनुमति नहीं है।)
(16, 20, 80)
(12, 16, 64)

- Ans 1. (11, 15, 70)
 2. (19, 23, 82)
 3. (18, 22, 88)
 4. (20, 25, 100)

Question ID : 630680340903
Option 1 ID : 6306801326053
Option 2 ID : 6306801326055
Option 3 ID : 6306801326056
Option 4 ID : 6306801326054
Status : Answered
Chosen Option : 3

Q.43 मुकेश अपने कार्यालय से सीधे 12 km चला। फिर वह 45° दाएँ मुड़ता है और 8 km चलता है। यहाँ से वह बाएँ मुड़ता है और 7 km चलता है और अंत में बाएँ मुड़कर 11 km चलता है। यदि वह अंत में उत्तर-पश्चिम की ओर जा रहा था, तो उसने अपने कार्यालय से किस दिशा में चलना शुरू किया?

- Ans 1. उत्तर
 2. पश्चिम
 3. दक्षिण
 4. पूर्व

Question ID : 630680113411
Option 1 ID : 630680439187
Option 2 ID : 630680439188
Option 3 ID : 630680439189
Option 4 ID : 630680439186
Status : Answered
Chosen Option : 4

Q.44 उस समुच्चय का चयन करें जिसकी संख्याएँ उसी तरह से संबंधित हैं जिस तरह निम्नलिखित समुच्चयों की संख्याएँ संबंधित हैं।

(नोट: संख्याओं को उसके घटक अंकों में तोड़े बिना, पूर्ण संख्याओं पर संक्रियाएँ की जानी चाहिए। उदाहरण के लिए संख्या 13 को लें - 13 पर संक्रियाएँ, जैसे कि 13 में जोड़ना/घटाना/गुणा करना आदि, की जा सकती हैं। 13 को 1 और 3 में तोड़ने और फिर 1 और 3 पर गणितीय संक्रियाएँ करने की अनुमति नहीं है।)

(84, 28, 4)
(147, 49, 7)

- Ans 1. (231, 77, 11)
 2. (241, 77, 11)
 3. (231, 77, 13)
 4. (231, 67, 11)

Question ID : 630680344678
Option 1 ID : 6306801341023
Option 2 ID : 6306801341024
Option 3 ID : 6306801341021
Option 4 ID : 6306801341022
Status : Answered
Chosen Option : 1

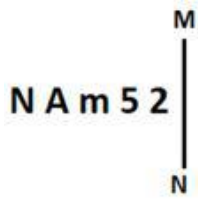


Q.45 एक निश्चित कूट भाषा में 'SING' को '22121710' और 'FOUR' को '9182421' के रूप में लिखा जाता है। उस भाषा में 'BEAN' कैसे लिखा जाएगा?

- Ans
- 1. 57413
 - 2. 58417
 - 3. 68418
 - 4. 69516

Question ID : 630680416594
 Option 1 ID : 6306801625139
 Option 2 ID : 6306801625142
 Option 3 ID : 6306801625140
 Option 4 ID : 6306801625141
 Status : Answered
 Chosen Option : 2

Q.46 जब दर्पण को नीचे दर्शाए गए अनुसार MN पर रखा जाता है तो दी गई आकृति के सही दर्पण प्रतिबिंब का चयन कीजिए।



- Ans
- 1. 5 2 m A N
 - 2. 2 5 m A N
 - 3. 2 5 m A N
 - 4. 2 5 m A N

Question ID : 630680356650
 Option 1 ID : 6306801388604
 Option 2 ID : 6306801388601
 Option 3 ID : 6306801388602
 Option 4 ID : 6306801388603
 Status : Answered
 Chosen Option : 2

Q.47 अंग्रेजी वर्णमाला क्रम पर आधारित, निम्नलिखित चार अक्षर-समूहों में से तीन किसी निश्चित तरीके से समान हैं और इस प्रकार एक समूह बनाते हैं। किस अक्षर-समूह का संबंध उस समूह से नहीं है? (नोट: असंगत अक्षर-समूह, व्यंजनों/स्वरों की संख्या या इस अक्षर-समूह में उनकी स्थिति पर आधारित नहीं है।)

- Ans
- 1. QUS
 - 2. OSP
 - 3. SWT
 - 4. UYV

Question ID : 630680416091
 Option 1 ID : 6306801623129
 Option 2 ID : 6306801623130
 Option 3 ID : 6306801623128
 Option 4 ID : 6306801623127
 Status : Answered
 Chosen Option : 1

Q.48 निम्नलिखित विकल्पों में से कौन सी संख्या दी गई श्रृंखला में प्रश्न चिह्न (?) के स्थान पर आएगी?
46, ?, 81, 100, 120, 141

- Ans
- 1. 59
 - 2. 66
 - 3. 61
 - 4. 63

Question ID : 630680411953

Option 1 ID : 6306801606648

Option 2 ID : 6306801606649

Option 3 ID : 6306801606647

Option 4 ID : 6306801606650

Status : Answered

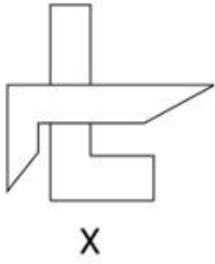
Chosen Option : 4



Download SSC CGL, CHSL E-BOOKS

[CLICK HERE](#)

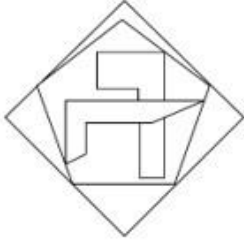
Q.49 उस विकल्प का चयन कीजिए, जिसमें दी गई आकृति (X) उसके भाग के रूप में सन्नहित है। (घूर्णन की अनुमति नहीं है।)



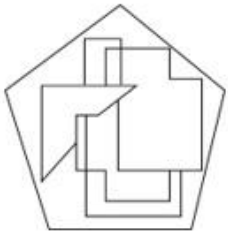
X

Ans

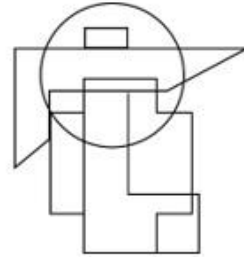
✗ 1.



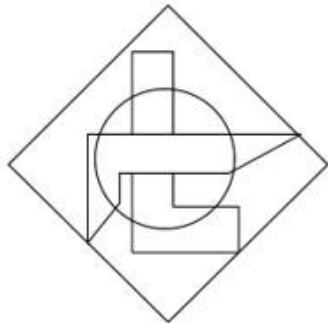
✗ 2.



✗ 3.



✓ 4.



Question ID : 630680305496

Option 1 ID : 6306801188364

Option 2 ID : 6306801188363

Option 3 ID : 6306801188362

Option 4 ID : 6306801188361

Status : Answered

Chosen Option : 4



Download SSC CGL, CHSL E-BOOKS

CLICK HERE



SSC CGL PDF NOTES

**50%
OFF**

CLICK HERE

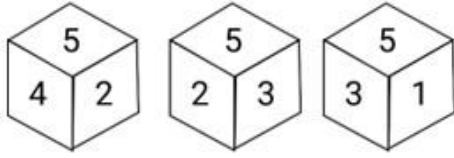


CLICK BELOW LINK TO DOWNLOAD PDF NOTES

<https://sscportal.in/study-kit/cgl>

<https://sscportal.in/study-kit>

Q.50 नीचे एक ही पासे की तीन अलग-अलग स्थितियाँ दर्शाई गई हैं। संख्या '1' दर्शाने वाले फलक के विपरीत फलक की संख्या ज्ञात कीजिए।



- Ans 1. 2
 2. 3
 3. 5
 4. 6

Question ID : 630680318733
 Option 1 ID : 6306801239937
 Option 2 ID : 6306801239940
 Option 3 ID : 6306801239938
 Option 4 ID : 6306801239939
 Status : Answered
 Chosen Option : 1

Section : General Knowledge and General Awareness

Q.1 यो-यो के रिलीज़ होने से पहले उसमें किस प्रकार की ऊर्जा होती है?

- Ans 1. रासायनिक ऊर्जा
 2. गतिज ऊर्जा
 3. प्रकाश ऊर्जा
 4. स्थितिज ऊर्जा

Question ID : 63068076931
 Option 1 ID : 630680297823
 Option 2 ID : 630680297821
 Option 3 ID : 630680297824
 Option 4 ID : 630680297822
 Status : Not Answered
 Chosen Option : --

Q.2 निम्नलिखित में से कौन-से एक गायक नहीं हैं?

- Ans 1. पं. कुमार गंधर्व
 2. पं. भीमसेन जोशी
 3. गंगूबाई हंगल
 4. पं. शिव कुमार शर्मा

Question ID : 630680409335
 Option 1 ID : 6306801596172
 Option 2 ID : 6306801596169
 Option 3 ID : 6306801596170
 Option 4 ID : 6306801596171
 Status : Answered
 Chosen Option : 1



Download SSC CGL, CHSL E-BOOKS

CLICK HERE

Q.3 संगीत मजूमदार को निम्नलिखित में से किस भारतीय शास्त्रीय नृत्य में उनके योगदान के लिए कासा डे ला, स्पेन द्वारा सम्मानित किया गया था?

- Ans 1. कथक
 2. भरतनाट्यम
 3. मोहिनीअट्टम
 4. कुचिपुड़ी

Question ID : 630680409344
 Option 1 ID : 6306801596207
 Option 2 ID : 6306801596205
 Option 3 ID : 6306801596206
 Option 4 ID : 6306801596208
 Status : Not Answered
 Chosen Option : --

Q.4 मोहन वीणा वादक पंडित विश्व मोहन भट्ट ने वर्ष _____ में त्रैमी पुरस्कार जीता था।

- Ans 1. 1996
 2. 1990
 3. 1994
 4. 1992

Question ID : 630680409260
 Option 1 ID : 6306801595872
 Option 2 ID : 6306801595869
 Option 3 ID : 6306801595871
 Option 4 ID : 6306801595870
 Status : Answered
 Chosen Option : 4

Q.5 निम्नलिखित में से कौन-सा खाद्य पदार्थ रक्तचाप बढ़ा सकता है?

- Ans 1. प्रोटीन से भरपूर भोजन
 2. कम नमक और कम चीनी वाला भोजन
 3. फाइबर से भरपूर भोजन
 4. नमक, चीनी और संतृप्त या ट्रांस वसा से भरपूर भोजन

Question ID : 630680102292
 Option 1 ID : 630680397452
 Option 2 ID : 630680397454
 Option 3 ID : 630680397453
 Option 4 ID : 630680397451
 Status : Answered
 Chosen Option : 4

Q.6 उत्तराखंड के किस जिले की दूधधौली पर्वतमाला में से रामगंगा नदी निकलती है?

- Ans 1. अल्मोड़ा
 2. चमोली
 3. चम्पावत
 4. पौड़ी गढ़वाल

Question ID : 630680407448
 Option 1 ID : 6306801588732
 Option 2 ID : 6306801588730
 Option 3 ID : 6306801588733
 Option 4 ID : 6306801588731
 Status : Answered
 Chosen Option : 4



Q.7 भारत की वर्ष 2011 की जनगणना के अनुसार किस केंद्र शासित प्रदेश की साक्षरता दर सबसे कम है?

- Ans 1. दादरा और नगर हवेली
 2. लक्षद्वीप
 3. दिल्ली
 4. अंडमान निकोबार द्वीप समूह

Question ID : 630680112002
Option 1 ID : 630680433735
Option 2 ID : 630680433734
Option 3 ID : 630680433737
Option 4 ID : 630680433736
Status : Answered
Chosen Option : 1

Q.8 नृत्य और संगीत के क्षेत्र में निम्नलिखित में से कौन सा पुरस्कार नहीं दिया जाता है?

- Ans 1. महरी पुरस्कार
 2. कालिदास सम्मान
 3. द्रोणाचार्य पुरस्कार
 4. संगीत नाटक अकादमी पुरस्कार

Question ID : 630680305931
Option 1 ID : 6306801190079
Option 2 ID : 6306801190077
Option 3 ID : 6306801190080
Option 4 ID : 6306801190078
Status : Answered
Chosen Option : 3

Q.9 निम्नलिखित में से कौन-से कथन भारतीय संविधान के संदर्भ में सही हैं?

1. सरकार के तीन प्रमुख अंग होते हैं, जिनके नाम विधायिका, कार्यपालिका और न्यायपालिका हैं।
2. शक्तियों के बजाय कार्यों का पृथक्करण किया जाता है।
3. सरकार के सभी अंग स्वतंत्र होते हैं।

- Ans 1. केवल 1 और 2
 2. 1, 2 और 3
 3. केवल 2 और 3
 4. केवल 1 और 3

Question ID : 630680296974
Option 1 ID : 6306801155459
Option 2 ID : 6306801155462
Option 3 ID : 6306801155461
Option 4 ID : 6306801155460
Status : Answered
Chosen Option : 2



Q.10 सोडियम सल्फेट और बेरियम क्लोराइड की अभिक्रिया में बनने वाले श्वेत अवक्षेप का नाम लिखिए।

- Ans 1. सोडियम क्लोराइड
 2. बेरियम सल्फेट
 3. सोडियम ऑक्साइड
 4. बेरियम हाइड्रोजेनसल्फाइड

Question ID : 630680310223
 Option 1 ID : 6306801207021
 Option 2 ID : 6306801207024
 Option 3 ID : 6306801207022
 Option 4 ID : 6306801207023
 Status : Answered
 Chosen Option : 1

Q.11 _____ को आमतौर पर ग्रीक अक्षर ρ (rho) द्वारा दर्शाया जाता है।

- Ans 1. विद्युत प्रतिरोधकता
 2. आवेशों का प्रवाह
 3. विद्युत चालकता
 4. धारा

Question ID : 63068099061
 Option 1 ID : 630680384951
 Option 2 ID : 630680384950
 Option 3 ID : 630680384949
 Option 4 ID : 630680384948
 Status : Answered
 Chosen Option : 1

Q.12 पिछले चार वर्षों की अवधि में क्रीडा और खेलों में उत्कृष्ट प्रदर्शन के लिए और नेतृत्व, खेल कौशल और अनुशासन की भावना दिखाने के लिए _____ दिए जाते हैं।

- Ans 1. मौलाना अबुल कलाम आज़ाद (MAKA) ट्रॉफी
 2. द्रोणाचार्य पुरस्कार
 3. अर्जुन पुरस्कार
 4. राष्ट्रीय खेल प्रोत्साहन पुरस्कार

Question ID : 630680303674
 Option 1 ID : 6306801181268
 Option 2 ID : 6306801181266
 Option 3 ID : 6306801181265
 Option 4 ID : 6306801181267
 Status : Answered
 Chosen Option : 3

Q.13 निम्नलिखित में से किस शास्त्रीय नृत्य की शुरुआत वैष्णव संत श्रीमंत शंकरदेव ने की थी?

- Ans 1. ओडिसी
 2. मणिपुरी
 3. सल्लिया
 4. कथक

Question ID : 630680309145
 Option 1 ID : 6306801202758
 Option 2 ID : 6306801202757
 Option 3 ID : 6306801202760
 Option 4 ID : 6306801202759
 Status : Answered
 Chosen Option : 3



Q.14 वर्ष 2011 की जनगणना के अनुसार भारत की साक्षरता दर क्या है?

- Ans
- 1. 16.68%
 - 2. 82.14%
 - 3. 72.98%
 - 4. 65.46%

Question ID : 630680409709
Option 1 ID : 6306801597668
Option 2 ID : 6306801597665
Option 3 ID : 6306801597666
Option 4 ID : 6306801597667
Status : Answered
Chosen Option : 3

Q.15 कौन-सा विटामिन लाल रक्त कोशिकाओं के निर्माण, तंत्रिकीय कार्य-प्रणाली और डीएनए संश्लेषण से जुड़ा हुआ है?

- Ans
- 1. विटामिन K
 - 2. विटामिन B7
 - 3. विटामिन E
 - 4. विटामिन B12

Question ID : 630680407470
Option 1 ID : 6306801588821
Option 2 ID : 6306801588820
Option 3 ID : 6306801588818
Option 4 ID : 6306801588819
Status : Answered
Chosen Option : 1

Q.16 बुद्ध खान दिल्ली घराने के एक _____ वादक थे।

- Ans
- 1. बांसुरी
 - 2. सारंगी
 - 3. संतूर
 - 4. सरोद

Question ID : 630680409249
Option 1 ID : 6306801595826
Option 2 ID : 6306801595828
Option 3 ID : 6306801595827
Option 4 ID : 6306801595825
Status : Answered
Chosen Option : 2



Q.17 भूकंप के बारे में दिए गए सत्य या असत्य कथनों की पहचान कीजिए।
 कथन 1: जब कोर पर प्रतिबल, घर्षण से आगे बढ़ जाता है, तो भूकंप होता है जो तरंगों में ऐसी ऊर्जा छोड़ता है जो भू-पर्पटी से गुजरती है और ऐसे कंपन का कारण बनती है जिसे हम महसूस करते हैं।
 कथन 2: भूकंप की पूर्वकंप के रूप पहचान तब तक नहीं की जा सकती जब तक कि उसी क्षेत्र में बड़ा भूकंप न आ जाए।

- Ans
- 1. केवल कथन 2 सत्य है
 - 2. केवल कथन 1 सत्य है
 - 3. कथन 1 और 2 दोनों असत्य हैं
 - 4. कथन 1 और 2 दोनों सत्य हैं

Question ID : 630680407482

Option 1 ID : 6306801588867

Option 2 ID : 6306801588866

Option 3 ID : 6306801588869

Option 4 ID : 6306801588868

Status : Not Answered

Chosen Option : --

Q.18 लहसुन किसका अच्छा स्रोत है?

- Ans
- 1. मैंगनीज और सेलेनियम
 - 2. मैग्नीशियम और एल्यूमीनियम
 - 3. लोहा और तांबा
 - 4. जिंक और कोबाल्ट

Question ID : 630680407535

Option 1 ID : 6306801589079

Option 2 ID : 6306801589078

Option 3 ID : 6306801589080

Option 4 ID : 6306801589081

Status : Not Answered

Chosen Option : --

Q.19 अलॉनग द रेड रिवर: ए मेमॉयर (Along The Red River: A Memoir) निम्नलिखित में से किसके जीवन के बारे में लिखी गई पुस्तक है।

- Ans
- 1. मित्रा फुकन (Mitra Phukan)
 - 2. निरुपमा बोरगोहेन (Nirupama Borgohain)
 - 3. सबिता गोस्वामी (Sabita Goswami)
 - 4. पुष्पलता दास (Pushpalata Das)

Question ID : 630680409381

Option 1 ID : 6306801596356

Option 2 ID : 6306801596355

Option 3 ID : 6306801596354

Option 4 ID : 6306801596353

Status : Not Answered

Chosen Option : --



Download SSC CGL, CHSL E-BOOKS

CLICK HERE

Q.20 निम्नलिखित में से कौन-सा नेता चंपारण में किसानों की दुर्दशा देखने के लिए महात्मा गांधी को आमंत्रित करने लखनऊ गया था?

- Ans
- 1. हसन मोहानी
 - 2. राजेन्द्र प्रसाद
 - 3. राज कुमार शुक्ला
 - 4. जे.बी. कृपलानी

Question ID : 630680412423
 Option 1 ID : 6306801608518
 Option 2 ID : 6306801608516
 Option 3 ID : 6306801608517
 Option 4 ID : 6306801608515
 Status : Not Answered
 Chosen Option : --

Q.21 मुगल काल में लड़ी गई निम्नलिखित लड़ाइयों को सही कालानुक्रम में व्यवस्थित कीजिए।

- a. खानवा का युद्ध
- b. पानीपत का प्रथम युद्ध
- c. घाघरा का युद्ध
- d. चौसा का युद्ध

- Ans
- 1. b, a, c, d
 - 2. d, a, b, c
 - 3. c, a, d, b
 - 4. a, c, b, d

Question ID : 630680184289
 Option 1 ID : 630680714165
 Option 2 ID : 630680714168
 Option 3 ID : 630680714167
 Option 4 ID : 630680714166
 Status : Answered
 Chosen Option : 1

Q.22 आरबीआई अधिनियम, आरबीआई मौद्रिक नीति समिति (MPC) में कितने सदस्यों के लिए प्रावधान करता है?

- Ans
- 1. 6
 - 2. 8
 - 3. 4
 - 4. 5

Question ID : 630680407149
 Option 1 ID : 6306801587540
 Option 2 ID : 6306801587541
 Option 3 ID : 6306801587538
 Option 4 ID : 6306801587539
 Status : Answered
 Chosen Option : 4



Q.23 1991 में आर्थिक सुधारों के लिए निम्नलिखित में से कौन-सा कारक नहीं था?

- Ans
- 1. अर्थव्यवस्था में मुद्रास्फीति थी।
 - 2. देश के राजकोषीय घाटे में वृद्धि हुई थी।
 - 3. भारत के विदेशी भंडार में गिरावट आई थी।
 - 4. अर्थव्यवस्था में मंदी थी।

Question ID : 630680407176

Option 1 ID : 6306801587647

Option 2 ID : 6306801587648

Option 3 ID : 6306801587649

Option 4 ID : 6306801587646

Status : Not Answered

Chosen Option : --

Q.24 2022 तक प्राप्त जानकारी के अनुसार, निम्नलिखित में से कौन-सा भारत का सबसे लंबा राष्ट्रीय जलमार्ग है?

- Ans
- 1. कोट्टापुरम -कोल्लम खंड
 - 2. गोदावरी-कृष्णा खंड
 - 3. इलाहबाद- हल्दिया खंड
 - 4. सदिया-धुबरी खंड

Question ID : 630680409695

Option 1 ID : 6306801597612

Option 2 ID : 6306801597610

Option 3 ID : 6306801597609

Option 4 ID : 6306801597611

Status : Not Answered

Chosen Option : --

Q.25 स्थलमंडल, वायुमंडल और जलमंडल के माध्यम से जल के निरंतर संचलन के लिए एक शब्द _____ है।

- Ans
- 1. जल परिसंचरण
 - 2. जलीय चक्र
 - 3. तरलस्थैतिक साम्यावस्था
 - 4. जल साम्यावस्था चक्र

Question ID : 630680210495

Option 1 ID : 630680816139

Option 2 ID : 630680816140

Option 3 ID : 630680816141

Option 4 ID : 630680816142

Status : Answered

Chosen Option : 1

Q.26 भारत में समुद्री परिवहन के लिए कितने प्रमुख बंदरगाह हैं?

- Ans
- 1. 13
 - 2. 21
 - 3. 18
 - 4. 15

Question ID : 630680409728

Option 1 ID : 6306801597741

Option 2 ID : 6306801597744

Option 3 ID : 6306801597743

Option 4 ID : 6306801597742

Status : Answered

Chosen Option : 1



Download SSC CGL, CHSL E-BOOKS

CLICK HERE

Q.27 निम्नलिखित में से कौन-सी नदी भूमध्य रेखा के दक्षिण से निकलती है और उत्तर-पूर्वी अफ्रीका से होकर भूमध्य सागर में गिरती है?

- Ans
- 1. कांगो नदी
 - 2. एमेज़न नदी
 - 3. नील नदी
 - 4. लीना नदी

Question ID : 63068076888
 Option 1 ID : 630680297652
 Option 2 ID : 630680297650
 Option 3 ID : 630680297649
 Option 4 ID : 630680297651
 Status : Not Answered
 Chosen Option : --

Q.28 भारतीय संविधान के किस अनुच्छेद में राज्य विधानमंडल की सदस्यता के लिए योग्यता का उल्लेख है?

- Ans
- 1. अनुच्छेद 180
 - 2. अनुच्छेद 171
 - 3. अनुच्छेद 173
 - 4. अनुच्छेद 179

Question ID : 630680408218
 Option 1 ID : 6306801591770
 Option 2 ID : 6306801591768
 Option 3 ID : 6306801591767
 Option 4 ID : 6306801591769
 Status : Not Answered
 Chosen Option : --

Q.29 भारत के संविधान का अनुच्छेद 50 _____ को संदर्भित करता है।

- Ans
- 1. राज्यपाल की नियुक्ति
 - 2. प्रारंभिक शिक्षा के अधिकार
 - 3. न्यायपालिका के कार्यपालिका से पृथक्करण
 - 4. सीटों के आरक्षण

Question ID : 630680408207
 Option 1 ID : 6306801591725
 Option 2 ID : 6306801591724
 Option 3 ID : 6306801591726
 Option 4 ID : 6306801591723
 Status : Answered
 Chosen Option : 3

Q.30 पर्वतीय वनों (Montane forests) में, निम्नलिखित में से किस प्रकार की वन्यजीव प्रजातियां पाई जाती हैं?

- Ans
- 1. बिच्छू
 - 2. स्लॉथ
 - 3. याक
 - 4. घोंघा

Question ID : 630680869488
 Option 1 ID : 6306803405387
 Option 2 ID : 6306803405386
 Option 3 ID : 6306803405385
 Option 4 ID : 6306803405388
 Status : Not Answered
 Chosen Option : --



Q.31 विकास, जैसा कि पंचवर्षीय योजनाओं में परिकल्पना की गई है, का तात्पर्य है:

- Ans
- 1. देश में समता की स्थिति में सुधार
 - 2. देश में शिक्षा एवं प्राथमिक स्वास्थ्य के स्तर में सुधार
 - 3. देश के भीतर वस्तुओं और सेवाओं के उत्पादन की क्षमता में वृद्धि
 - 4. अपनी भौगोलिक सीमाओं के भीतर, अपनी आवश्यकता की सभी वस्तुओं और सेवाओं के उत्पादन में आत्मनिर्भरता

Question ID : 630680407129
 Option 1 ID : 6306801587458
 Option 2 ID : 6306801587460
 Option 3 ID : 6306801587459
 Option 4 ID : 6306801587461
 Status : Answered
 Chosen Option : 4

Q.32 कौन-सा त्योहार भगवान कृष्ण के जन्म के रूप में मनाया जाता है?

- Ans
- 1. जनमाष्टमी
 - 2. गणेश चतुर्थी
 - 3. नवरात्रि
 - 4. दिवाली

Question ID : 630680409210
 Option 1 ID : 6306801595671
 Option 2 ID : 6306801595670
 Option 3 ID : 6306801595669
 Option 4 ID : 6306801595672
 Status : Answered
 Chosen Option : 1

Q.33 मान्यखेट या मालखेड निम्नलिखित में से किस साम्राज्य की राजधानी थी?

- Ans
- 1. शक
 - 2. कुषाण
 - 3. सातवाहन
 - 4. राष्ट्रकुट

Question ID : 630680412513
 Option 1 ID : 6306801608877
 Option 2 ID : 6306801608875
 Option 3 ID : 6306801608878
 Option 4 ID : 6306801608876
 Status : Answered
 Chosen Option : 4

Q.34 बेरिलियम में उपस्थित प्रोटॉनों की संख्या कितनी है?

- Ans
- 1. 1
 - 2. 3
 - 3. 2
 - 4. 4

Question ID : 630680133821
 Option 1 ID : 630680518225
 Option 2 ID : 630680518224
 Option 3 ID : 630680518222
 Option 4 ID : 630680518223
 Status : Not Answered
 Chosen Option : --



Download SSC CGL, CHSL E-BOOKS

[CLICK HERE](#)

Q.35 1936 में गोदान पुस्तक _____ द्वारा लिखी गई थी।

- Ans
- 1. महात्मा गाँधी
 - 2. मुल्क राज आनंद
 - 3. मुंशी प्रेमचंद
 - 4. जवाहरलाल नेहरू

Question ID : 630680701389
 Option 1 ID : 6306802747495
 Option 2 ID : 6306802747494
 Option 3 ID : 6306802747493
 Option 4 ID : 6306802747496
 Status : Answered
 Chosen Option : 3

Q.36 रस के संबंध में दिए गए कथनों के आधार पर सही विकल्प का चयन करें।
 कथन I: यह एक कलात्मक प्रस्तुति का आनंद लेने के दौरान प्राप्त होने वाला सौंदर्यपरक अनुभव है।
 कथन II: यह दर्शक या सौंदर्यप्रेमी में मानवीय भावनाओं के निर्माण से संबंधित है।

- Ans
- 1. न तो कथन I और न ही कथन II सत्य है।
 - 2. केवल कथन I सत्य है।
 - 3. कथन I और कथन II, दोनों सत्य हैं।
 - 4. केवल कथन II सत्य है।

Question ID : 630680409181
 Option 1 ID : 6306801595556
 Option 2 ID : 6306801595553
 Option 3 ID : 6306801595555
 Option 4 ID : 6306801595554
 Status : Not Answered
 Chosen Option : --

Q.37 यदि कर योग्य आधार में वृद्धि के साथ कर की दर घट जाती है, तो इस प्रकार के कराधान को _____ कहा जाता है।

- Ans
- 1. प्रतिगामी (regressive)
 - 2. हासमान आरोही (degressive)
 - 3. वर्धमान (increasing)
 - 4. प्रगामी (progressive)

Question ID : 630680407140
 Option 1 ID : 6306801587502
 Option 2 ID : 6306801587503
 Option 3 ID : 6306801587505
 Option 4 ID : 6306801587504
 Status : Answered
 Chosen Option : 2



Q.38 भारतीय संविधान के अनुसार, देश के लिए कानून और नीतियाँ बनाने की शक्ति किसके पास होती है?

- Ans
- 1. राजनीतिक दलों
 - 2. राजनीतिक दबाव समूह
 - 3. संसद
 - 4. प्रधानमंत्री

Question ID : 630680408296
 Option 1 ID : 6306801592080
 Option 2 ID : 6306801592079
 Option 3 ID : 6306801592081
 Option 4 ID : 6306801592082
 Status : Answered
 Chosen Option : 3

Q.39 भारत सरकार में भारतीयों की भागीदारी का विस्तार करने के लिए यूनाइटेड किंगडम की संसद द्वारा पारित भारत सरकार अधिनियम 1919 के तहत राज्य परिषद में कितने सदस्य (निर्वाचित और मनोनीत) थे?

- Ans
- 1. 60
 - 2. 50
 - 3. 75
 - 4. 70

Question ID : 630680118821
 Option 1 ID : 630680460387
 Option 2 ID : 630680460386
 Option 3 ID : 630680460389
 Option 4 ID : 630680460388
 Status : Answered
 Chosen Option : 3

Q.40 निम्नलिखित में से किसने मानवीय और सामाजिक कार्य करने के लिए रामकृष्ण मिशन की स्थापना की?

- Ans
- 1. देवेन्द्रनाथ टैगोर
 - 2. ईश्वर चंद्र विद्यासागर
 - 3. अरबिंदो घोष
 - 4. स्वामी विवेकानंद

Question ID : 630680326446
 Option 1 ID : 6306801269875
 Option 2 ID : 6306801269873
 Option 3 ID : 6306801269874
 Option 4 ID : 6306801269876
 Status : Answered
 Chosen Option : 4

Q.41 कौन-सी तरंग ध्वनि तरंग की गति के समानांतर दोलन करती है?

- Ans
- 1. अनुदैर्घ्य तरंग
 - 2. अनुप्रस्थ तरंग
 - 3. यांत्रिक तरंग
 - 4. विद्युत चुम्बकीय तरंग

Question ID : 63068076938
 Option 1 ID : 630680297852
 Option 2 ID : 630680297851
 Option 3 ID : 630680297850
 Option 4 ID : 630680297849
 Status : Not Answered
 Chosen Option : --



Download SSC CGL, CHSL E-BOOKS

[CLICK HERE](#)

Q.42 अशोक ने अपने पुत्र महेंद्र और पुत्री संघमित्रा को धम्म का प्रचार करने के लिए निम्नलिखित में से किस देश में भेजा था?

- Ans
- 1. बर्मा
 - 2. अफ़ग़ानिस्तान
 - 3. श्रीलंका
 - 4. चीन

Question ID : 630680412353
 Option 1 ID : 6306801608235
 Option 2 ID : 6306801608237
 Option 3 ID : 6306801608238
 Option 4 ID : 6306801608236
 Status : Not Answered
 Chosen Option : --

Q.43 निम्नलिखित में से किसे भारत में हरित क्रांति में उनके योगदान के लिए भारत रत्न से सम्मानित किया गया था?

- Ans
- 1. ए.पी.जे. अब्दुल कलाम
 - 2. गोविंद बल्लभ पंत
 - 3. पी.वी. काणे
 - 4. सी. सुब्रमण्यम

Question ID : 630680407187
 Option 1 ID : 6306801587692
 Option 2 ID : 6306801587690
 Option 3 ID : 6306801587693
 Option 4 ID : 6306801587691
 Status : Answered
 Chosen Option : 2

Q.44 अंतर्राष्ट्रीय ओलंपिक समिति की स्थापना वर्ष _____ में हुई थी।

- Ans
- 1. 1890
 - 2. 1892
 - 3. 1894
 - 4. 1896

Question ID : 630680192730
 Option 1 ID : 630680747465
 Option 2 ID : 630680747466
 Option 3 ID : 630680747467
 Option 4 ID : 630680747468
 Status : Answered
 Chosen Option : 2

Q.45 भारतीय संविधान के अनुसार राज्य में मंत्रिपरिषद की न्यूनतम संख्या _____ है।

- Ans
- 1. 13 व्यक्ति
 - 2. 12 व्यक्ति
 - 3. 14 व्यक्ति
 - 4. 15 व्यक्ति

Question ID : 630680408323
 Option 1 ID : 6306801592188
 Option 2 ID : 6306801592187
 Option 3 ID : 6306801592189
 Option 4 ID : 6306801592190
 Status : Answered
 Chosen Option : 2



Download SSC CGL, CHSL E-BOOKS

[CLICK HERE](#)

Q.46 निम्नलिखित में से कौन टोक्यो ओलंपिक-2020 में, एकल ओलंपिक में सात पदक जीतने वाली पहली महिला तैराक थी?

- Ans 1. एमा मैकिन (Emma McKeon)
 2. रेगन स्मिथ (Regan Smith)
 3. मैरी हन्ना (Mary Hanna)
 4. काइली मास (Kylie Masse)

Question ID : 630680192722
 Option 1 ID : 630680747433
 Option 2 ID : 630680747436
 Option 3 ID : 630680747434
 Option 4 ID : 630680747435
 Status : Not Answered
 Chosen Option : --

Q.47 _____ पहले तेज गेंदबाज थे, जो भारतीय टेस्ट टीम के कप्तान थे।

- Ans 1. जहीर खान
 2. जसप्रीत बुमराह
 3. जवागल श्रीनाथ
 4. कपिल देव

Question ID : 630680177038
 Option 1 ID : 630680686358
 Option 2 ID : 630680686357
 Option 3 ID : 630680686359
 Option 4 ID : 630680686356
 Status : Answered
 Chosen Option : 2

Q.48 हिंदू पंचाग के चैत्र मास के पहले दिन, उगादी मुख्य रूप से निम्नलिखित में से किस राज्य में मनाया जाता है?

- Ans 1. उत्तराखंड
 2. ओडिशा
 3. कर्नाटक
 4. असम

Question ID : 630680410362
 Option 1 ID : 6306801600182
 Option 2 ID : 6306801600179
 Option 3 ID : 6306801600180
 Option 4 ID : 6306801600181
 Status : Answered
 Chosen Option : 2

Q.49 भारतीय संविधान का कौन-सा अनुच्छेद संघीय कार्यपालिका से संबंधित है?

- Ans 1. अनुच्छेद 80 से 86
 2. अनुच्छेद 52 से 78
 3. अनुच्छेद 38 से 50
 4. अनुच्छेद 112 से 118

Question ID : 630680408213
 Option 1 ID : 6306801591748
 Option 2 ID : 6306801591749
 Option 3 ID : 6306801591747
 Option 4 ID : 6306801591750
 Status : Answered
 Chosen Option : 1



Download SSC CGL, CHSL E-BOOKS

[CLICK HERE](#)

Q.50 निम्नलिखित में से कौन-सी घटना, भारत में मानसून से संबंधित नहीं है?

- Ans
- 1. अरब सागर शाखा
 - 2. बादल फटना
 - 3. पश्चिमी विक्षोभ
 - 4. वर्षा अंतराल

Question ID : 630680409671
 Option 1 ID : 6306801597514
 Option 2 ID : 6306801597513
 Option 3 ID : 6306801597516
 Option 4 ID : 6306801597515
 Status : Not Answered
 Chosen Option : --

Section : Quantitative Aptitude

Q.1 एक आदमी 48 km नाव चलाता है और 48 घंटे में वापस आता है। वह धारा के अनुकूल 4 km की दूरी उतने ही समय में तय कर सकता है जितने समय में धारा के विपरीत 3 km की दूरी तय करता है। धारा की चाल (km/h में) ज्ञात करें।

- Ans
- 1. $\frac{7}{24}$
 - 2. $\frac{3}{29}$
 - 3. $\frac{7}{21}$
 - 4. $\frac{5}{21}$

Question ID : 630680428812
 Option 1 ID : 6306801673293
 Option 2 ID : 6306801673295
 Option 3 ID : 6306801673292
 Option 4 ID : 6306801673294
 Status : Answered
 Chosen Option : 1

Q.2 3 इकाई त्रिज्या वाली धातु की गेंद को पिघलाकर 27 समान पासे और 1 इकाई त्रिज्या की एक गेंद बनाई जाती है। पासे की भुजा कितनी है?

- Ans
- 1. 1.6 इकाई
 - 2. 1.4 इकाई
 - 3. 1.5 इकाई
 - 4. 1.7 इकाई

Question ID : 63068076302
 Option 1 ID : 630680295309
 Option 2 ID : 630680295312
 Option 3 ID : 630680295310
 Option 4 ID : 630680295311
 Status : Not Answered
 Chosen Option : --



Download SSC CGL, CHSL E-BOOKS

[CLICK HERE](#)

Q.3 निम्नलिखित व्यंजक का मान ज्ञात कीजिए।

$$(1 + \tan \theta + \sec \theta) \times (1 + \cot \theta - \operatorname{cosec} \theta)$$

- Ans
- 1. 1
 - 2. $\tan \theta$
 - 3. $\cos \theta \sin \theta$
 - 4. 2

Question ID : 630680349843
 Option 1 ID : 6306801361663
 Option 2 ID : 6306801361662
 Option 3 ID : 6306801361661
 Option 4 ID : 6306801361664
 Status : Answered
 Chosen Option : 4

Q.4 दो स्टेशनों A और B के बीच की दूरी 800 km है। एक ट्रेन A से B तक की दूरी 90 km/h की चाल से तय करती है और 65 km/h की एकसमान चाल से A पर वापस आती है। पूरी यात्रा के दौरान ट्रेन की औसत चाल (km/h में) कितनी थी?

- Ans
- 1. 75.48
 - 2. 80.50
 - 3. 70.45
 - 4. 82.36

Question ID : 630680428645
 Option 1 ID : 6306801672625
 Option 2 ID : 6306801672624
 Option 3 ID : 6306801672626
 Option 4 ID : 6306801672627
 Status : Not Answered
 Chosen Option : --

Q.5 एक त्रिभुज का क्षेत्रफल 486 cm^2 है और इसकी भुजाएँ 3:4:5 के अनुपात में हैं। त्रिभुज की परिधि ज्ञात करें।

- Ans
- 1. 308 cm
 - 2. 108 cm
 - 3. 218 cm
 - 4. 105 cm

Question ID : 630680421616
 Option 1 ID : 6306801644930
 Option 2 ID : 6306801644927
 Option 3 ID : 6306801644928
 Option 4 ID : 6306801644929
 Status : Answered
 Chosen Option : 2



Q.6 एक व्यापारी अपने सामान पर 40% की छूट देता है। इसके अलावा, वह उस सामान पर 20% की अतिरिक्त छूट देता है। इन दो क्रमिक छूटों के समतुल्य एकल छूट ज्ञात कीजिए।

- Ans
- 1. 50%
 - 2. 30%
 - 3. 60%
 - 4. 52%

Question ID : 630680428577

Option 1 ID : 6306801672355

Option 2 ID : 6306801672354

Option 3 ID : 6306801672352

Option 4 ID : 6306801672353

Status : Answered

Chosen Option : 4

Q.7

यदि $x + \frac{1}{1 + \frac{1}{3 + \frac{1}{2}}} = 1$ है, तो x का मान कितना होगा?

- Ans
- 1. $\frac{7}{9}$
 - 2. $\frac{3}{7}$
 - 3. $\frac{2}{9}$
 - 4. $\frac{1}{7}$

Question ID : 630680428268

Option 1 ID : 6306801671119

Option 2 ID : 6306801671118

Option 3 ID : 6306801671116

Option 4 ID : 6306801671117

Status : Answered

Chosen Option : 3

Q.8 छेदक रेखा CD वृत्त को E पर प्रतिच्छेदित करती है और CF वृत्त पर F पर स्पर्शरेखा है। यदि छेदक रेखा CD की लंबाई 20 cm है और स्पर्शरेखा CF की लंबाई 15 cm है, तो जीवा DE की लंबाई ज्ञात कीजिए।

- Ans
- 1. 3.75 cm
 - 2. 11.25 cm
 - 3. 8.75 cm
 - 4. 9.25 cm

Question ID : 630680421379

Option 1 ID : 6306801643981

Option 2 ID : 6306801643980

Option 3 ID : 6306801643979

Option 4 ID : 6306801643982

Status : Answered

Chosen Option : 3



Q.9 दी गई तालिका का अध्ययन करें और निम्नलिखित प्रश्न का उत्तर दें।
तालिका में 1989 से 1994 तक एक कंपनी द्वारा पांच विभिन्न प्रकार की कारों के उत्पादन को दर्शाया गया है।

Year → Type ↓	1989	1990	1991	1992	1993	1994	Total
P	8	20	16	17	21	6	88
Q	16	10	14	12	12	14	78
R	21	17	16	15	13	8	90
S	4	6	10	16	20	31	87
T	25	18	19	30	14	27	133
Total	74	71	75	90	80	86	476

1993 में सभी प्रकार की कारों के कुल उत्पादन का 25% भाग किस प्रकार की कार का था?
Year - वर्ष Type - प्रकार Total - कुल

- Ans 1. Q
 2. S
 3. P
 4. R

Question ID : 630680428278
Option 1 ID : 6306801671157
Option 2 ID : 6306801671159
Option 3 ID : 6306801671156
Option 4 ID : 6306801671158
Status : Answered
Chosen Option : 2

Q.10 $\frac{1}{2^2} + \frac{1}{2^3} \div \left(\frac{1}{2} + \frac{1}{2} \div 1\right) + 3\frac{1}{3} \div \frac{5}{2} \times \frac{3}{4} \div 6\frac{2}{3} \times \frac{7}{6}$ is:

का मान क्या है?

- Ans 1. $\frac{11}{30}$
 2. $\frac{21}{20}$
 3. $\frac{11}{20}$
 4. $\frac{7}{40}$

Question ID : 630680427960
Option 1 ID : 6306801669886
Option 2 ID : 6306801669887
Option 3 ID : 6306801669884
Option 4 ID : 6306801669885
Status : Not Answered
Chosen Option : --



Q.11 निम्नलिखित तालिका वर्ष 2016 - 2020 के दौरान एक गाँव में पुरुषों, महिलाओं, शिक्षित पुरुषों और शिक्षित महिलाओं की संख्या प्रदर्शित करती है। तालिका का ध्यानपूर्वक अध्ययन करें और प्रश्न का उत्तर दें।

वर्ष	2016	2017	2018	2019	2020
पुरुष	1050	1200	1250	1300	1400
महिला	900	1000	1020	1100	1200
शिक्षित पुरुष	850	1000	1100	1150	1200
शिक्षित महिला	600	820	950	980	1000

सभी वर्षों में शिक्षित महिलाओं की कुल संख्या का कुल महिलाओं की संख्या से प्रतिशत ज्ञात कीजिए। (2 दशमलव स्थानों तक)

- Ans
- 1. 0.8623
 - 2. 0.8923
 - 3. 0.8333
 - 4. 0.9233

Question ID : 630680869712
 Option 1 ID : 6306803406216
 Option 2 ID : 6306803406217
 Option 3 ID : 6306803406215
 Option 4 ID : 6306803406214

Status : Answered

Chosen Option : 3

Q.12 निम्नलिखित तालिका मुंबई, राजस्थान, उत्तर प्रदेश और उत्तराखंड स्टॉक एक्सचेंजों में क्रय-विक्रय (ट्रेड) किए गए शेयरों को दर्शाती है।

कंपनी का नाम	मुंबई		उत्तराखंड		राजस्थान		उत्तर प्रदेश	
	उच्च	दर	उच्च	दर	उच्च	दर	उच्च	दर
आटा टी	540	395	450	4255	320	510	440	310
कोलगेट	34	57	60	42	25	60	20	70
जंबुजा सीमेंट	150	155	120	125	160	135	145	170

जंबुजा सीमेंट के लिए, शेयर की उच्च दर और निम्न दर का अनुपात किस स्टॉक एक्सचेंज में अधिकतम है?

- Ans
- 1. उत्तर प्रदेश
 - 2. उत्तराखंड
 - 3. मुंबई
 - 4. राजस्थान

Question ID : 630680429252
 Option 1 ID : 6306801675055
 Option 2 ID : 6306801675053
 Option 3 ID : 6306801675052
 Option 4 ID : 6306801675054

Status : Answered

Chosen Option : 2



Download SSC CGL, CHSL E-BOOKS

CLICK HERE

Q.13 उस वृत्त के वृत्तखंड का क्षेत्रफल कितना है जिसकी त्रिज्या 35 cm है और जिसकी चाप वृत्त के केंद्र पर 72° का कोण अंतरित करती है?

$$\left(\pi = \frac{22}{7}\right)$$

- Ans 1. 610 cm²
 2. 770 cm²
 3. 810 cm²
 4. 970 cm²

Question ID : 630680421441

Option 1 ID : 6306801644228

Option 2 ID : 6306801644229

Option 3 ID : 6306801644227

Option 4 ID : 6306801644230

Status : Answered

Chosen Option : 2

Q.14 निम्न तालिका पाँच वर्षों में एक कंपनी का सकल टर्नओवर (करोड़ों में) दर्शाती है:

वर्ष	सकल टर्नओवर
2015	13
2016	20
2017	15
2018	23
2019	25

2017 का सकल टर्नओवर. 2019 के सकल टर्नओवर का कितना प्रतिशत है?

- Ans 1. 6
 2. 16
 3. 60
 4. 0.06

Question ID : 630680349028

Option 1 ID : 6306801358403

Option 2 ID : 6306801358402

Option 3 ID : 6306801358401

Option 4 ID : 6306801358404

Status : Answered

Chosen Option : 3



Download SSC CGL, CHSL E-BOOKS

[CLICK HERE](#)

Q.15 एक इलेक्ट्रॉनिक स्टोर में, एक इमर्शन रॉड का अंकित मूल्य ₹900 है। स्टोर इसकी बिक्री पर 12% की छूट प्रदान करता है। ग्राहक इसे इलेक्ट्रॉनिक स्टोर से किस कीमत पर (₹ में) खरीद सकता है?

- Ans 1. 792
 2. 787
 3. 782
 4. 797

Question ID : 630680869673
 Option 1 ID : 6306803406060
 Option 2 ID : 6306803406059
 Option 3 ID : 6306803406058
 Option 4 ID : 6306803406061
 Status : Answered
 Chosen Option : 1

Q.16 $\frac{7 + 8 \times 8 \div 8 \text{ of } 8 + 8 \div 8 \times 5}{4 \div 4 \text{ of } 4 + 4 \times 4 \div 4 - 4 \div 4}$ का मान ज्ञात कीजिए।

- Ans 1. 3
 2. 4
 3. 2
 4. 1

Question ID : 630680428082
 Option 1 ID : 6306801670374
 Option 2 ID : 6306801670375
 Option 3 ID : 6306801670373
 Option 4 ID : 6306801670372
 Status : Answered
 Chosen Option : 2

Q.17 $(12 + 18) \div 2 - 11 + 16 \times 4 - 28 + 13(-18 + 15)$ का मान ज्ञात कीजिए।

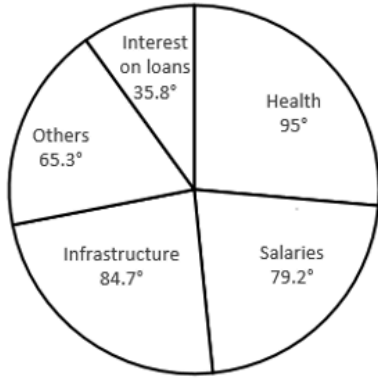
- Ans 1. 1
 2. 0
 3. 2
 4. 3

Question ID : 630680428204
 Option 1 ID : 6306801670861
 Option 2 ID : 6306801670860
 Option 3 ID : 6306801670862
 Option 4 ID : 6306801670863
 Status : Answered
 Chosen Option : 1



Q.18 दिए गए पाई-ग्राफ का अध्ययन कीजिए और निम्नलिखित प्रश्न का उत्तर दीजिए।

इस पाई-आरेख में किसी निश्चित कंपनी में, वार्षिक बजट के विभिन्न क्षेत्रों के लिए ₹7,200 करोड़ का आवंटन दर्शाया गया है।



Interest on loans- ऋण पर ब्याज, others- अन्य, Health- स्वास्थ्य, Infrastructure- इंफ्रास्ट्रक्चर, Salaries- वेतन

इंफ्रास्ट्रक्चर पर व्यय (₹ में) _____ है।

- Ans
- ✓ 1. ₹1,694 crores
 - ✗ 2. ₹6,098 crores
 - ✗ 3. ₹1,649 crores
 - ✗ 4. ₹6,089 crores

Question ID : 630680387894
 Option 1 ID : 6306801512201
 Option 2 ID : 6306801512198
 Option 3 ID : 6306801512199
 Option 4 ID : 6306801512200
 Status : Answered
 Chosen Option : 1

Q.19 राजन और रजत किसी कार्य को क्रमशः 64 दिन और 48 दिन में पूरा कर सकते हैं। रजत से शुरू करते हुए, दोनों एकांतर दिनों में बारी-बारी से कार्य करते हैं। कार्य कितने दिनों में पूरा होगा?

- Ans
- ✗ 1. $55\frac{3}{4}$
 - ✗ 2. 54
 - ✗ 3. 55
 - ✓ 4. $54\frac{3}{4}$

Question ID : 630680428409
 Option 1 ID : 6306801671683
 Option 2 ID : 6306801671680
 Option 3 ID : 6306801671682
 Option 4 ID : 6306801671681
 Status : Answered
 Chosen Option : 3



Download SSC CGL, CHSL E-BOOKS

CLICK HERE

Q.20 63 - [15 + {17 - (9 - 7 + 1)}] को सरल कीजिए।

Ans ✓ 1. 34

✗ 2. 44

✗ 3. 40

✗ 4. 30

Question ID : 630680428123

Option 1 ID : 6306801670538

Option 2 ID : 6306801670539

Option 3 ID : 6306801670536

Option 4 ID : 6306801670537

Status : Answered

Chosen Option : 1

Q.21 दी गई तालिका का अध्ययन कीजिए और नीचे दिए गए प्रश्न का उत्तर दीजिए।

तालिका तीन अलग-अलग केंद्रों A, B, C पर मतदाताओं की संख्या दर्शाती है।

केंद्र	पंजीकृत मतदाताओं की कुल संख्या	मतदान करने वाले लोगों का प्रतिशत (पंजीकृत मतदाताओं की कुल संख्या में से)
A	4600	78
B	5400	70
C	6500	85

केंद्र B पर मतदान नहीं करने वालों की संख्या, केंद्र C पर मतदान नहीं करने वालों की संख्या से कितने प्रतिशत अधिक है?

Ans

✓ 1. $66\frac{2}{13}\%$

✗ 2. $66\frac{3}{13}\%$

✗ 3. $66\frac{1}{13}\%$

✗ 4. $66\frac{5}{13}\%$

Question ID : 630680428313

Option 1 ID : 6306801671298

Option 2 ID : 6306801671297

Option 3 ID : 6306801671296

Option 4 ID : 6306801671299

Status : Answered

Chosen Option : 1



Download SSC CGL, CHSL E-BOOKS

CLICK HERE

Q.22 $\frac{\tan 71^\circ + \tan 19^\circ}{1 - \tan 71^\circ \tan 19^\circ}$ को सरल कीजिए।

Ans 1. 0

2. $\sqrt{3}$

3. 1

4. Not defined

Question ID : 630680869598

Option 1 ID : 6306803405774

Option 2 ID : 6306803405776

Option 3 ID : 6306803405775

Option 4 ID : 6306803405777

Status : Answered

Chosen Option : 4

Q.23 दी गई तालिका का अध्ययन करें और निम्नलिखित प्रश्न का उत्तर दें।
तालिका में 1985 से 1989 तक पांच अलग-अलग कारखानों (P, Q, R, S और T) में स्कूटरों का वार्षिक उत्पादन (हजार में) दर्शाया गया है।

Yearly production (in thousands) of scooters in different factories.

Factory	1985	1986	1987	1988	1989
P	20	15	24	13	17
Q	16	23	41	20	15
R	14	21	30	16	12
S	25	17	15	12	22
T	40	32	39	41	35
Total	115	108	149	102	101

1985 में फैक्ट्री P और फैक्ट्री T द्वारा स्कूटरों के उत्पादन का अनुपात क्या है?

Yearly production (in thousands) of scooters in different factories - अलग-अलग कारखानों में स्कूटर का वार्षिक उत्पादन (हजार में) factory - कारखाना Total - कुल

Ans 1. 2 : 3

2. 1 : 2

3. 3 : 2

4. 2 : 1

Question ID : 630680428274

Option 1 ID : 6306801671142

Option 2 ID : 6306801671140

Option 3 ID : 6306801671143

Option 4 ID : 6306801671141

Status : Answered

Chosen Option : 2



Download SSC CGL, CHSL E-BOOKS

[CLICK HERE](#)

Q.24

$\frac{(275 \times 275 \times 275 + 725 \times 725 \times 725)}{(275 \times 275 + 725 \times 725 - 725 \times 275)} \times \frac{(275 \times 275 \times 275 - 725 \times 725 \times 725)}{(275 \times 275 + 725 \times 725 + 725 \times 275)}$ का मान ज्ञात करें।

- Ans 1. 45000
 2. -450000
 3. 450000
 4. -45000

Question ID : 630680107182

Option 1 ID : 630680416113

Option 2 ID : 630680416112

Option 3 ID : 630680416115

Option 4 ID : 630680416114

Status : Answered

Chosen Option : 2

Q.25 एक घनाभ के आयतन में कुल प्रतिशत परिवर्तन क्या है, यदि इसकी लंबाई और चौड़ाई में क्रमशः 15% और 25% की कमी की जाती है, जबकि इसकी ऊँचाई में 60% की वृद्धि की जाती है?

- Ans 1. 5% की वृद्धि
 2. 5% की कमी
 3. 2% की वृद्धि
 4. 2% की कमी

Question ID : 630680428905

Option 1 ID : 6306801673667

Option 2 ID : 6306801673665

Option 3 ID : 6306801673664

Option 4 ID : 6306801673666

Status : Answered

Chosen Option : 3

Q.26 पानी और जूस को 9 : 7 के अनुपात में मिलाकर एक पेय बनाया जाता है। यदि 160 लीटर पेय में x लीटर पानी और 2x लीटर जूस मिलाया जाता है, तो नया अनुपात 13 : 15 हो जाता है। पेय की मात्रा (लीटर में) ज्ञात करें।

- Ans 1. 240
 2. 280
 3. 300
 4. 260

Question ID : 630680422102

Option 1 ID : 6306801646843

Option 2 ID : 6306801646844

Option 3 ID : 6306801646845

Option 4 ID : 6306801646846

Status : Answered

Chosen Option : 1



Download SSC CGL, CHSL E-BOOKS

CLICK HERE

Q.27 निम्नलिखित को सरल कीजिए।

$$27 \div 4 \text{ of } 6 \times [16 \div 8 \times (12 - 8)] - (14 \div 7 \times 28)$$

Ans 1. -47

2. -51

3. 27

4. 62

Question ID : 630680427989

Option 1 ID : 6306801670000

Option 2 ID : 6306801670002

Option 3 ID : 6306801670003

Option 4 ID : 6306801670001

Status : Answered

Chosen Option : 1

Q.28 स्वाति ₹40,000 कमाती है, जिसमें से वह 25% बचाती है। वह शेष राशि भोजन और शिक्षा पर 3 : 2 के अनुपात में खर्च करती है। उसकी कुल आय में शिक्षा पर किए गए व्यय का प्रतिशत कितना है?

Ans 1. 20%

2. 40%

3. 30%

4. 60%

Question ID : 630680429160

Option 1 ID : 6306801674684

Option 2 ID : 6306801674686

Option 3 ID : 6306801674685

Option 4 ID : 6306801674687

Status : Answered

Chosen Option : 3

Q.29 एक कक्षा के 18 विद्यार्थियों ने एक प्रश्नोत्तरी में भाग लिया। यदि लड़कियों की संख्या, लड़कों की संख्या से 8 अधिक है, तो लड़कों और लड़कियों की संख्या का गुणनफल ज्ञात करें।

Ans 1. 63

2. 65

3. 56

4. 36

Question ID : 630680413578

Option 1 ID : 6306801613139

Option 2 ID : 6306801613137

Option 3 ID : 6306801613136

Option 4 ID : 6306801613138

Status : Answered

Chosen Option : 2



Download SSC CGL, CHSL E-BOOKS

[CLICK HERE](#)

Q.30 एक शहर की जनसंख्या में प्रति वर्ष 20% की वृद्धि होती है। यदि उसकी वर्तमान जनसंख्या 80 लाख हो, तो 3 वर्ष पूर्व की, और 2 वर्ष पूर्व की जनसंख्या के बीच का अंतर ज्ञात कीजिए।

- Ans 1. 65592.6
 2. 85592.6
 3. 75592.6
 4. 925925.93

Question ID : 630680107409

Option 1 ID : 630680417001

Option 2 ID : 630680417002

Option 3 ID : 630680417000

Option 4 ID : 630680417003

Status : Answered

Chosen Option : 4

Q.31 यदि $x^2 + 4y^2 + 2x + 1 = 0$ है, तो $x^{39} + y^{36}$ का मूल्य ज्ञात कीजिए।

- Ans 1. 1
 2. 2
 3. -2
 4. -1

Question ID : 630680413585

Option 1 ID : 6306801613164

Option 2 ID : 6306801613166

Option 3 ID : 6306801613167

Option 4 ID : 6306801613165

Status : Answered

Chosen Option : 4

Q.32 234 m लंबी एक ट्रेन विपरीत दिशा में 9 km/h की चाल से चल रहे एक व्यक्ति को 6 सेकंड में पार कर जाती है। ट्रेन समान दिशा में 23.4 km/h की चाल से चल रहे एक अन्य व्यक्ति को कितने समय में (सेकंड में) पार कर लेगी?

- Ans 1. 8.4
 2. 8
 3. 7.2
 4. 7.8

Question ID : 630680869708

Option 1 ID : 6306803406199

Option 2 ID : 6306803406198

Option 3 ID : 6306803406200

Option 4 ID : 6306803406201

Status : Not Answered

Chosen Option : --



Download SSC CGL, CHSL E-BOOKS

[CLICK HERE](#)

Q.33 एक छात्रावास में एक महीने के लिए 300 विद्यार्थियों के लिए भोजन की व्यवस्था थी। 20 दिनों के बाद 50 विद्यार्थियों ने छात्रावास छोड़ दिया। बचा हुआ खाना कब तक चलेगा? (1 महीना = 30 दिन)

- Ans 1. 12 दिन
 2. 16 दिन
 3. 10 दिन
 4. 14 दिन

Question ID : 630680428856
 Option 1 ID : 6306801673470
 Option 2 ID : 6306801673471
 Option 3 ID : 6306801673468
 Option 4 ID : 6306801673469
 Status : Answered
 Chosen Option : 1

Q.34 एक त्रिभुज की अंतःत्रिज्या 8 cm है, और इसकी भुजाओं की लंबाइयों का योग 125 cm है। त्रिभुज का क्षेत्रफल (cm^2 में) क्या है?

- Ans 1. 250
 2. 500
 3. 480
 4. 1000

Question ID : 630680421364
 Option 1 ID : 6306801643922
 Option 2 ID : 6306801643920
 Option 3 ID : 6306801643921
 Option 4 ID : 6306801643919
 Status : Not Answered
 Chosen Option : --

Q.35 एक बेईमान विक्रेता क्रय मूल्य पर 10% हानि पर एक वस्तु बेचता है लेकिन 50 g के स्थान पर 40 g का बॉट उपयोग करता है। उसके लाभ प्रतिशत की गणना करें।

- Ans 1. 10.0%
 2. 18.4%
 3. 11.5%
 4. 12.5%

Question ID : 630680429116
 Option 1 ID : 6306801674511
 Option 2 ID : 6306801674509
 Option 3 ID : 6306801674508
 Option 4 ID : 6306801674510
 Status : Answered
 Chosen Option : 4



Q.36 $264 \div 8 - 1 - 32 \times 2 + 80 \div 5 \times 40 \div 20$ का मान ज्ञात कीजिए।

- Ans 1. 1
 2. 2
 3. 0
 4. 3

Question ID : 630680428205
 Option 1 ID : 6306801670866
 Option 2 ID : 6306801670865
 Option 3 ID : 6306801670867
 Option 4 ID : 6306801670864
 Status : Answered
 Chosen Option : 3

Q.37 2 cm, 5 cm, 7 cm और 8 cm लंबाई वाले रेखाखंडों में से किन्हीं तीन रेखाखंडों को लेने पर, बनने वाले त्रिभुजों की संख्या _____ होगी।

- Ans 1. 2
 2. 4
 3. 3
 4. 1

Question ID : 630680421454
 Option 1 ID : 6306801644280
 Option 2 ID : 6306801644282
 Option 3 ID : 6306801644281
 Option 4 ID : 6306801644279
 Status : Answered
 Chosen Option : 3

Q.38 राकेश की तुलना में सपना दोगुनी कुशल है। यदि वे दोनों एक परियोजना पर एक साथ कार्य करते हैं और इसे 48 दिन में पूरा करते हैं, तो सपना अकेले उस परियोजना को कितने दिन में पूरा कर सकती है?

- Ans 1. 52
 2. 68
 3. $69 \frac{1}{2}$
 4. 72

Question ID : 630680869711
 Option 1 ID : 6306803406213
 Option 2 ID : 6306803406210
 Option 3 ID : 6306803406212
 Option 4 ID : 6306803406211
 Status : Answered
 Chosen Option : 4



Q.39 एक आयताकार लॉन की चौड़ाई 8% कम की जाती है और इसकी लंबाई में 15% की वृद्धि की जाती है। लॉन के क्षेत्रफल में प्रतिशत परिवर्तन ज्ञात कीजिए।

- Ans
- 1. 5.8% की कमी
 - 2. 5.8% की वृद्धि
 - 3. 8.5% की कमी
 - 4. 8.5% की वृद्धि

Question ID : 630680428146
 Option 1 ID : 6306801670630
 Option 2 ID : 6306801670628
 Option 3 ID : 6306801670631
 Option 4 ID : 6306801670629
 Status : Answered
 Chosen Option : 2

Q.40 धारा की दिशा में यात्रा करते समय एक नाव की गति 33 km/h है, जबकि धारा के प्रतिकूल दिशा में यात्रा करते समय यह 27 km/h है। शांत जल में नाव की गति क्या है?

- Ans
- 1. 12 km/h
 - 2. 60 km/h
 - 3. 30 km/h
 - 4. 6 km/h

Question ID : 630680428377
 Option 1 ID : 6306801671552
 Option 2 ID : 6306801671554
 Option 3 ID : 6306801671555
 Option 4 ID : 6306801671553
 Status : Answered
 Chosen Option : 3

Q.41 यदि $\sin(x+y) = \cos \{3(x+y)\}$ है, तो $\cot \{2(x+y)\}$ का मान _____ होगा।

- Ans
- 1. 1
 - 2. -1
 - 3. 2
 - 4. -2

Question ID : 630680869589
 Option 1 ID : 6306803405740
 Option 2 ID : 6306803405739
 Option 3 ID : 6306803405738
 Option 4 ID : 6306803405741
 Status : Answered
 Chosen Option : 1



Q.42 यदि $a + b + c = 13$ और $ab + bc + ca = 22$ है, तो $a^3 + b^3 + c^3 - 3abc$ का मान _____ है।

- Ans
- 1. 1911
 - 2. 1225
 - 3. 1339
 - 4. 1625

Question ID : 630680413554
 Option 1 ID : 6306801613043
 Option 2 ID : 6306801613041
 Option 3 ID : 6306801613040
 Option 4 ID : 6306801613042
 Status : Answered
 Chosen Option : 3

Q.43 दिए गए व्यंजक को सरल कीजिए।
 $12.3 - [7 + 0.8 \text{ of } (5.6 - 3.8 \times 1.03)]$

- Ans
- 1. 3.9512
 - 2. 7.8539
 - 3. 5.2314
 - 4. 1.2368

Question ID : 630680428050
 Option 1 ID : 6306801670246
 Option 2 ID : 6306801670244
 Option 3 ID : 6306801670245
 Option 4 ID : 6306801670247
 Status : Answered
 Chosen Option : 1

Q.44 18 cm त्रिज्या वाले एक अर्द्धगोले का आयतन (cm^3 में) ज्ञात कीजिए। ($\pi = \frac{22}{7}$ उपयोग करें) (दशमलव के दो स्थानों तक पूर्णांकित)

- Ans
- 1. 18750.23
 - 2. 12219.43
 - 3. 11250.25
 - 4. 12200.43

Question ID : 630680421554
 Option 1 ID : 6306801644679
 Option 2 ID : 6306801644681
 Option 3 ID : 6306801644680
 Option 4 ID : 6306801644682
 Status : Answered
 Chosen Option : 4

Q.45 एक बेलन की ऊंचाई 8 cm है और इसके आधार का क्षेत्रफल 20 cm² है। इसका आयतन ज्ञात करें।

- Ans
- 1. 80 cm³
 - 2. 180 cm³
 - 3. 160 cm³
 - 4. 100 cm³

Question ID : 630680421561
 Option 1 ID : 6306801644708
 Option 2 ID : 6306801644710
 Option 3 ID : 6306801644709
 Option 4 ID : 6306801644707
 Status : Answered
 Chosen Option : 3

Q.46 यदि एक निश्चित धनराशि पर 20 महीने के लिए 19.2% की वार्षिक दर से प्राप्त साधारण ब्याज, उसी राशि पर 15 महीने के लिए 11.2% की वार्षिक दर से प्राप्त साधारण ब्याज से ₹2,920 अधिक है, तो धनराशि (₹ में, निकटतम सैकड़ें तक पूर्णांकित) कितनी है?

- Ans
- 1. 16,620
 - 2. 12,660
 - 3. 16,660
 - 4. 16,200

Question ID : 630680428009
 Option 1 ID : 6306801670082
 Option 2 ID : 6306801670083
 Option 3 ID : 6306801670081
 Option 4 ID : 6306801670080
 Status : Answered
 Chosen Option : 4

Q.47 $\frac{2\cos 15^\circ \sin 15^\circ}{\cos^2 15^\circ - \sin^2 15^\circ}$ का मान ज्ञात कीजिए।

- Ans
- 1. $\sqrt{3}$
 - 2. $\frac{1}{\sqrt{3}}$
 - 3. ∞
 - 4. $\frac{\sqrt{5}-1}{\sqrt{5}+1}$

Question ID : 630680869597
 Option 1 ID : 6306803405770
 Option 2 ID : 6306803405772
 Option 3 ID : 6306803405773
 Option 4 ID : 6306803405771
 Status : Answered
 Chosen Option : 2



Q.48 एक व्यक्ति ने ₹11,520 में दो भैंसें खरीदीं। एक भैंस को 15% की हानि पर बेचा और दूसरी भैंस को 19% के लाभ पर बेचा। यदि दोनों भैंसों का विक्रय मूल्य बराबर है, तो पहली भैंस का क्रय मूल्य ज्ञात कीजिए।

- Ans 1. ₹6,700
 2. ₹6,720
 3. ₹6,710
 4. ₹6,715

Question ID : 630680869695
 Option 1 ID : 6306803406147
 Option 2 ID : 6306803406149
 Option 3 ID : 6306803406146
 Option 4 ID : 6306803406148
 Status : Answered
 Chosen Option : 2

Q.49 11 m लंबे, 7 m चौड़े और 4 m ऊंचे घनाभ का पृष्ठीय क्षेत्रफल (m² में) ज्ञात करें।

- Ans 1. 289
 2. 298
 3. 320
 4. 249

Question ID : 630680421627
 Option 1 ID : 6306801644972
 Option 2 ID : 6306801644973
 Option 3 ID : 6306801644974
 Option 4 ID : 6306801644971
 Status : Answered
 Chosen Option : 2

Q.50 यदि $\frac{5x+3y}{5x-3y} = \frac{7}{3}$ है, तो x : y का मान ज्ञात कीजिए।

- Ans 1. 3 : 2
 2. 3 : 5
 3. 2 : 3
 4. 5 : 3

Question ID : 630680428418
 Option 1 ID : 6306801671718
 Option 2 ID : 6306801671716
 Option 3 ID : 6306801671717
 Option 4 ID : 6306801671719
 Status : Answered
 Chosen Option : 1

Section : English Comprehension



Download SSC CGL, CHSL E-BOOKS

[CLICK HERE](#)

Q.1 Select the INCORRECTLY spelt word.

- Ans
- 1. Pluckiness
 - 2. Accumulation
 - 3. Exestenalism
 - 4. Assimilation

Question ID : 630680409900
 Option 1 ID : 6306801598432
 Option 2 ID : 6306801598429
 Option 3 ID : 6306801598431
 Option 4 ID : 6306801598430
 Status : Answered
 Chosen Option : 3

Q.2 Select the most appropriate ANTONYM of the underlined word in the following sentence.

The teacher praised the student for his diligent work and consistent effort.

- Ans
- 1. squander
 - 2. lazy
 - 3. persistent
 - 4. frazzle

Question ID : 630680517377
 Option 1 ID : 6306802021904
 Option 2 ID : 6306802021907
 Option 3 ID : 6306802021906
 Option 4 ID : 6306802021905
 Status : Answered
 Chosen Option : 2

Q.3 The following sentence has been split into four segments. Identify the segment that contains a grammatical/spelling error.

The sons of the old farmer / fell off after their father / breathed his last / in the village.

- Ans
- 1. fell off after their father
 - 2. The sons of the old farmer
 - 3. breathed his last
 - 4. in the village.

Question ID : 630680415351
 Option 1 ID : 6306801620152
 Option 2 ID : 6306801620151
 Option 3 ID : 6306801620153
 Option 4 ID : 6306801620154
 Status : Answered
 Chosen Option : 1

Q.4 Select the most appropriate ANTONYM of the given word.
Pitiable

- Ans 1. Eradicate
 2. Aggregate
 3. Pleasant
 4. Grievous

Question ID : 630680295216
Option 1 ID : 6306801148590
Option 2 ID : 6306801148589
Option 3 ID : 6306801148591
Option 4 ID : 6306801148588
Status : Answered
Chosen Option : 3

Q.5 Select the option that can be used as a one-word substitute for the given group of words.
Madness or obsession with males

- Ans 1. Loquacious
 2. Polygamy
 3. Andromania
 4. Misandrist

Question ID : 630680414926
Option 1 ID : 6306801618450
Option 2 ID : 6306801618448
Option 3 ID : 6306801618447
Option 4 ID : 6306801618449
Status : Answered
Chosen Option : 3

Q.6 Select the most appropriate ANTONYM of the given word.
Quaint

- Ans 1. Distinct
 2. Ordinary
 3. Brisk
 4. Ridiculous

Question ID : 630680297870
Option 1 ID : 6306801158882
Option 2 ID : 6306801158881
Option 3 ID : 6306801158880
Option 4 ID : 6306801158879
Status : Answered
Chosen Option : 2



Q.7 Select the most appropriate option that can substitute the underlined segment in the given sentence.

Before she began, she asked the teacher whether she write with a pen or a pencil.

- Ans 1. she can write
 2. she should write
 3. she did write.
 4. she wrote

Question ID : 630680436031
 Option 1 ID : 6306801702063
 Option 2 ID : 6306801702062
 Option 3 ID : 6306801702064
 Option 4 ID : 6306801702061
 Status : Answered
 Chosen Option : 2

Q.8 Select the most appropriate option with correct usage of the preposition to substitute the underlined segment in the given sentence.
 The core part in Artificial Intelligence (AI) is knowledge engineering, machine learning, machine perception, and robotics.

- Ans 1. The core part from Artificial Intelligence
 2. The core part of Artificial Intelligence
 3. The core part on Artificial Intelligence
 4. The core part with Artificial Intelligence

Question ID : 630680206721
 Option 1 ID : 630680801485
 Option 2 ID : 630680801486
 Option 3 ID : 630680801483
 Option 4 ID : 630680801484
 Status : Answered
 Chosen Option : 2

Q.9 Identify from the given options the word which is similar in meaning to the following word.
 Efface

- Ans 1. Makeup
 2. Hidden
 3. Daily
 4. Destroy

Question ID : 630680360067
 Option 1 ID : 6306801402215
 Option 2 ID : 6306801402216
 Option 3 ID : 6306801402214
 Option 4 ID : 6306801402213
 Status : Answered
 Chosen Option : 4

Q.10 Select the option that can be used as a one-word substitute for the given group of words.

One who does not express himself freely.

- Ans 1. Outgoing
 2. Approachable
 3. Introvert
 4. Immodest

Question ID : 630680414791
 Option 1 ID : 6306801617909
 Option 2 ID : 6306801617910
 Option 3 ID : 6306801617907
 Option 4 ID : 6306801617908
 Status : Answered
 Chosen Option : 3

Q.11 Select the most appropriate meaning of the given idiom.
 The best of both worlds

- Ans 1. Do a perfectly good job
 2. Good in every way
 3. Stay strong in a difficult situation
 4. Everyone gets a chance

Question ID : 630680517357
 Option 1 ID : 6306802021827
 Option 2 ID : 6306802021824
 Option 3 ID : 6306802021825
 Option 4 ID : 6306802021826
 Status : Answered
 Chosen Option : 2

Q.12 Select the most appropriate ANTONYM of the underlined word.
 The artist's abstract painting was enigmatic to the viewers.

- Ans 1. Instigating
 2. Clear
 3. Thrilling
 4. Mysterious

Question ID : 630680396864
 Option 1 ID : 6306801547526
 Option 2 ID : 6306801547525
 Option 3 ID : 6306801547527
 Option 4 ID : 6306801547524
 Status : Answered
 Chosen Option : 2

Q.13 Select the most appropriate idiom that can substitute the underlined words in the given sentence.

I have been living without a lot of money since I lost my job.

- Ans
- 1. keeping my chin up
 - 2. living hand to mouth
 - 3. as genuine as a three-dollar bill
 - 4. receiving a kickback

Question ID : 630680183590
 Option 1 ID : 630680711372
 Option 2 ID : 630680711370
 Option 3 ID : 630680711371
 Option 4 ID : 630680711369
 Status : Answered
 Chosen Option : 2

Q.14 Select the INCORRECTLY spelt word in the given sentence.

Mount Vesuvius is a volcano that erapts hot ashes which fall from the sky like a blizzard.

- Ans
- 1. Volcano
 - 2. Ashes
 - 3. Erapts
 - 4. Blizzard

Question ID : 630680396920
 Option 1 ID : 6306801547748
 Option 2 ID : 6306801547750
 Option 3 ID : 6306801547749
 Option 4 ID : 6306801547751
 Status : Answered
 Chosen Option : 4

Q.15 Select the most appropriate meaning of the given idiom.

Bite the bullet

- Ans
- 1. To face a difficult situation
 - 2. To eat something unpleasant
 - 3. To help someone achieve their goals
 - 4. To avoid a situation

Question ID : 630680517281
 Option 1 ID : 6306802021521
 Option 2 ID : 6306802021522
 Option 3 ID : 6306802021523
 Option 4 ID : 6306802021520
 Status : Answered
 Chosen Option : 1

Q.16 The given sentence is divided into four segments. Identify the segment that contains a grammatical error.

Had you been / working regularly, / you had completed / the project yesterday.

- Ans
- 1. Had you been
 - 2. working regularly
 - 3. you had completed
 - 4. the project yesterday

Question ID : 630680157020
 Option 1 ID : 630680607632
 Option 2 ID : 630680607633
 Option 3 ID : 630680607634
 Option 4 ID : 630680607635
 Status : Answered
 Chosen Option : 3

Q.17 Select the most appropriate synonym of the underlined word.

I was astonished to know the truth.

- Ans
- 1. Blindsided
 - 2. Stunned
 - 3. Awesome
 - 4. Sickened

Question ID : 630680297282
 Option 1 ID : 6306801156598
 Option 2 ID : 6306801156597
 Option 3 ID : 6306801156596
 Option 4 ID : 6306801156595
 Status : Answered
 Chosen Option : 2

Q.18 Select the most appropriate ANTONYM of the given word.
 Suspend

- Ans
- 1. Project
 - 2. Terminate
 - 3. Extend
 - 4. Resume

Question ID : 630680517316
 Option 1 ID : 6306802021663
 Option 2 ID : 6306802021660
 Option 3 ID : 6306802021662
 Option 4 ID : 6306802021661
 Status : Answered
 Chosen Option : 4

Q.19 Select the most appropriate option that can substitute the underlined word in the given idiom.

At the last hour

- Ans
- 1. half
 - 2. twelfth
 - 3. eleventh
 - 4. sixth

Question ID : 630680441961
Option 1 ID : 6306801725452
Option 2 ID : 6306801725451
Option 3 ID : 6306801725450
Option 4 ID : 6306801725453
Status : Answered
Chosen Option : 3

Q.20 Select the phrase/idiom that will improve the underlined part of the given sentence.
When our principal said she was leaving the company, I played out the opportunity to fill the job.

- Ans
- 1. ran to the opportunity
 - 2. jumped at the opportunity
 - 3. glided at the opportunity
 - 4. started at the opportunity

Question ID : 630680175905
Option 1 ID : 630680681884
Option 2 ID : 630680681886
Option 3 ID : 630680681887
Option 4 ID : 630680681885
Status : Answered
Chosen Option : 1

Q.21 Select the most appropriate meaning of the given idiom.

A vicious cycle

- Ans
- 1. a situation in which one problem causes another one, making the first one easy to solve.
 - 2. a situation in which one problem creates another one, making the original problem easy to forget.
 - 3. a situation in which one problem causes another one, making the original problem impossible to solve.
 - 4. a situation in which several problems merge and become one extremely complex problem.

Question ID : 630680517347
Option 1 ID : 6306802021786
Option 2 ID : 6306802021784
Option 3 ID : 6306802021785
Option 4 ID : 6306802021787
Status : Answered
Chosen Option : 4



Q.22 Select the option that can be used as a one-word substitute for the given group of words.

A mythological animal with one horn on its forehead

- Ans 1. Unicameral
 2. Unicorn
 3. Unific
 4. Unipod

Question ID : 630680414811
 Option 1 ID : 6306801617989
 Option 2 ID : 6306801617990
 Option 3 ID : 6306801617987
 Option 4 ID : 6306801617988
 Status : Answered
 Chosen Option : 2

Q.23 Select the most appropriate meaning of the given idiom.

Through thick and thin

- Ans 1. Always supporting someone even if there are problems or difficulties
 2. Never giving up a friendship
 3. Sometimes thin, sometimes thick
 4. Never giving up on a goal

Question ID : 630680517379
 Option 1 ID : 6306802021913
 Option 2 ID : 6306802021915
 Option 3 ID : 6306802021912
 Option 4 ID : 6306802021914
 Status : Answered
 Chosen Option : 1

Q.24 Underlined word in the sentence is not spelt correctly. Identify the correct spelling from the options given below.

The boys seem irresponsibly insauciant about bullying the juniors.

- Ans 1. Insuociant
 2. Insouceant
 3. Insouciant
 4. Insouciant

Question ID : 630680409868
 Option 1 ID : 6306801598302
 Option 2 ID : 6306801598303
 Option 3 ID : 6306801598301
 Option 4 ID : 6306801598304
 Status : Answered
 Chosen Option : 3

Q.25 Identify the INCORRECTLY spelt word in the given sentence and select the option that rectifies the spelling error.

Thousands of years ago, great masters of Ayurveda, notably Sushrut and Charaka, discussed in detail the use of spices for culinary and medical purpose.

- Ans
- 1. Notably
 - 2. Parpose
 - 3. Discused
 - 4. Cullinary

Question ID : 630680517485
 Option 1 ID : 6306802022336
 Option 2 ID : 6306802022339
 Option 3 ID : 6306802022337
 Option 4 ID : 6306802022338
 Status : Answered
 Chosen Option : 1

Q.26 Select the most appropriate segment to substitute the underlined words in the given sentence.

Mr. Patel is likely to win the elections in the sweeping majority.

- Ans
- 1. elections at a sweeping majority
 - 2. elections of a sweeping majority
 - 3. elections on a sweeping majority
 - 4. elections by a sweeping majority

Question ID : 630680435974
 Option 1 ID : 6306801701856
 Option 2 ID : 6306801701854
 Option 3 ID : 6306801701855
 Option 4 ID : 6306801701853
 Status : Answered
 Chosen Option : 4

Q.27 Select the sentence that has the correct use of words and spellings from the options given below.

- Ans
- 1. The professional athlete pushed her body to the limit, surpassing all expectations and acheiving a new personal record.
 - 2. The professional athlete pushed her body to the limit, surpassing all expectations and acheiving a new personal record.
 - 3. The professional athlete pushed her body to the limit, surpassing all expectations and achieving a new personal record.
 - 4. The professional athlete pushed her body to the limit, surpassing all expectasions and achieving a new personal record.

Question ID : 630680410006
 Option 1 ID : 6306801598856
 Option 2 ID : 6306801598853
 Option 3 ID : 6306801598854
 Option 4 ID : 6306801598855
 Status : Answered
 Chosen Option : 3

Q.28 Select the most appropriate segment to substitute the underlined words in the given sentence.

The Sumo wrestler seemed to be incapable in being tired.

- Ans
- 1. incapable to being tired
 - 2. incapable of being tired
 - 3. incapable by being tired
 - 4. incapable from being tired

Question ID : 630680436020
 Option 1 ID : 6306801702024
 Option 2 ID : 6306801702021
 Option 3 ID : 6306801702022
 Option 4 ID : 6306801702023
 Status : Answered
 Chosen Option : 2

Q.29 Select the most appropriate meaning of the idiom in the given sentence.
 She's feeling under the weather today.

- Ans
- 1. She's feeling adventurous and ready for a challenge.
 - 2. She's feeling worried about something.
 - 3. She's not feeling well or is a bit sick.
 - 4. She's feeling happy and energetic.

Question ID : 630680517346
 Option 1 ID : 6306802021783
 Option 2 ID : 6306802021782
 Option 3 ID : 6306802021781
 Option 4 ID : 6306802021780
 Status : Answered
 Chosen Option : 3

Q.30 Parts of the following sentence have been given as options. Select the option that contains an error.
 There are four tributaries of Ganga and it is ranked as the fifth most polluted river of the world.

- Ans
- 1. There are four tributaries
 - 2. most polluted river of the world.
 - 3. is ranked as the fifth
 - 4. of Ganga and it

Question ID : 630680192255
 Option 1 ID : 630680745621
 Option 2 ID : 630680745624
 Option 3 ID : 630680745623
 Option 4 ID : 630680745622
 Status : Answered
 Chosen Option : 3

Q.31 Select the most appropriate meaning of the given idiom.
Beat around the bush

- Ans 1. To avoid talking about what is important
 2. To await an explanation
 3. To do something without any hesitation
 4. To take on a task that is way too big

Question ID : 630680192449
 Option 1 ID : 630680746387
 Option 2 ID : 630680746385
 Option 3 ID : 630680746386
 Option 4 ID : 630680746388
 Status : Answered
 Chosen Option : 1

Q.32 Select the word which means the same as the group of words underlined in the given sentence.

Today, a man who betrayed his own country in exchange for money was the topic of every news report.

- Ans 1. Conman
 2. Traitor
 3. Gangster
 4. Terrorist

Question ID : 630680414823
 Option 1 ID : 6306801618037
 Option 2 ID : 6306801618035
 Option 3 ID : 6306801618038
 Option 4 ID : 6306801618036
 Status : Answered
 Chosen Option : 2

Q.33 Select the most appropriate option that can substitute the underlined segment in the given sentence. If no substitution is required, select 'No substitution'.
Not a word didn't they speak to the others about the sad turn of events.

- Ans 1. No substitution
 2. do they speak
 3. had they speak
 4. did they speak

Question ID : 630680414506
 Option 1 ID : 6306801616786
 Option 2 ID : 6306801616784
 Option 3 ID : 6306801616785
 Option 4 ID : 6306801616783
 Status : Answered
 Chosen Option : 4

Q.34 The following sentence has been divided into parts. One of them may contain an error. Select the part that contains the error from the given options. If you don't find any error, mark 'No error' as your answer.
I had done / my cooking when / Vishnu came to see me.

- Ans
- 1. Vishnu came to see me
 - 2. I had done
 - 3. my cooking when
 - 4. No error

Question ID : 630680184891
 Option 1 ID : 630680716527
 Option 2 ID : 630680716525
 Option 3 ID : 630680716526
 Option 4 ID : 630680716528
 Status : Answered
 Chosen Option : 4

Q.35 Select the most appropriate option to substitute the underlined segment in the given sentence.
The veteran footballer was expected for reach here by 10 o'clock, the notice said.

- Ans
- 1. expected on reach here
 - 2. expected of reach here
 - 3. expected to reach here
 - 4. expected by reach here

Question ID : 630680414524
 Option 1 ID : 6306801616858
 Option 2 ID : 6306801616855
 Option 3 ID : 6306801616857
 Option 4 ID : 6306801616856
 Status : Answered
 Chosen Option : 3

Q.36 Select the most appropriate option that can substitute the underlined words in the given sentence.

The road is too busy for elderly people that they cannot cross safely.

- Ans
- 1. to cross safely.
 - 2. that it is difficult to cross.
 - 3. that it cannot be crossed properly.
 - 4. that it is impossible for them to cross.

Question ID : 630680443861
 Option 1 ID : 6306801732764
 Option 2 ID : 6306801732765
 Option 3 ID : 6306801732766
 Option 4 ID : 6306801732767
 Status : Answered
 Chosen Option : 1

Q.37 Select the most appropriate option that can substitute the underlined segment in the given sentence.

Ratul's capability of being able to speak two languages is apt for this post.

- Ans 1. bidialectical
 2. bicultural
 3. bilingual
 4. lingual

Question ID : 630680414912
 Option 1 ID : 6306801618393
 Option 2 ID : 6306801618392
 Option 3 ID : 6306801618391
 Option 4 ID : 6306801618394
 Status : Answered
 Chosen Option : 3

Q.38 Rectify the sentence by selecting the correct spelling of the underlined word from the options.

The baby smiled and laughed at the pickaboo game.

- Ans 1. peakaboo
 2. pekaboo
 3. pikaboo
 4. peekaboo

Question ID : 630680517496
 Option 1 ID : 6306802022382
 Option 2 ID : 6306802022383
 Option 3 ID : 6306802022380
 Option 4 ID : 6306802022381
 Status : Answered
 Chosen Option : 4

Q.39 Select the most appropriate ANTONYM of the given word.

Languid

- Ans 1. Lazy
 2. Exceptional
 3. Loyal
 4. Energetic

Question ID : 630680436156
 Option 1 ID : 6306801702565
 Option 2 ID : 6306801702566
 Option 3 ID : 6306801702568
 Option 4 ID : 6306801702567
 Status : Answered
 Chosen Option : 4

Q.40 Select the most appropriate synonym of the underlined word.

I will strive to win the race.

- Ans 1. Assume
 2. Attempt
 3. trouble
 4. Support

Question ID : 630680297283
 Option 1 ID : 6306801156601
 Option 2 ID : 6306801156602
 Option 3 ID : 6306801156599
 Option 4 ID : 6306801156600
 Status : Answered
 Chosen Option : 2

Comprehension:

In the following passage, some words have been deleted. Read the passage carefully and select the most appropriate option to fill in each blank.
 Childhood is an important phase in a person's life. Children are free from worries, tensions and stresses so they lead a very (1)_____ life. This is the only reason they create golden and beautiful memories during this period which are (2)_____ in their adulthood. It is the responsibility of parents and guardians to shape the future of a child as he is very (3)_____ and can drift in any direction. If they have made any mistakes, we should (4)_____ them instead of misbehaving with them. How we have behaved with them will be (5)_____ on their minds which will reflect in later stages.

SubQuestion No : 41

Q.41 Select the most appropriate option to fill in blank No. 1.

- Ans 1. stressful
 2. cautious
 3. carefree
 4. careful

Question ID : 630680515018
 Option 1 ID : 6306802012631
 Option 2 ID : 6306802012632
 Option 3 ID : 6306802012630
 Option 4 ID : 6306802012629
 Status : Answered
 Chosen Option : 3

Comprehension:

In the following passage, some words have been deleted. Read the passage carefully and select the most appropriate option to fill in each blank.

Childhood is an important phase in a person's life. Children are free from worries, tensions and stresses so they lead a very (1)_____ life. This is the only reason they create golden and beautiful memories during this period which are (2)_____ in their adulthood. It is the responsibility of parents and guardians to shape the future of a child as he is very (3)_____ and can drift in any direction. If they have made any mistakes, we should (4)_____ them instead of misbehaving with them. How we have behaved with them will be (5)_____ on their minds which will reflect in later stages.

SubQuestion No : 42

Q.42 Select the most appropriate option to fill in blank No. 2.

- Ans 1. neglected
 2. dumped
 3. blocked
 4. cherished

Question ID : **630680515019**
 Option 1 ID : **6306802012633**
 Option 2 ID : **6306802012636**
 Option 3 ID : **6306802012635**
 Option 4 ID : **6306802012634**
 Status : **Answered**
 Chosen Option : **4**

Comprehension:

In the following passage, some words have been deleted. Read the passage carefully and select the most appropriate option to fill in each blank.

Childhood is an important phase in a person's life. Children are free from worries, tensions and stresses so they lead a very (1)_____ life. This is the only reason they create golden and beautiful memories during this period which are (2)_____ in their adulthood. It is the responsibility of parents and guardians to shape the future of a child as he is very (3)_____ and can drift in any direction. If they have made any mistakes, we should (4)_____ them instead of misbehaving with them. How we have behaved with them will be (5)_____ on their minds which will reflect in later stages.

SubQuestion No : 43

Q.43 Select the most appropriate option to fill in blank No. 3.

- Ans 1. crafty
 2. mature
 3. innocent
 4. guilty

Question ID : **630680515020**
 Option 1 ID : **6306802012639**
 Option 2 ID : **6306802012640**
 Option 3 ID : **6306802012637**
 Option 4 ID : **6306802012638**
 Status : **Answered**
 Chosen Option : **3**



Comprehension:

In the following passage, some words have been deleted. Read the passage carefully and select the most appropriate option to fill in each blank.

Childhood is an important phase in a person's life. Children are free from worries, tensions and stresses so they lead a very (1)_____ life. This is the only reason they create golden and beautiful memories during this period which are (2)_____ in their adulthood. It is the responsibility of parents and guardians to shape the future of a child as he is very (3)_____ and can drift in any direction. If they have made any mistakes, we should (4)_____ them instead of misbehaving with them. How we have behaved with them will be (5)_____ on their minds which will reflect in later stages.

SubQuestion No : 44

Q.44 Select the most appropriate option to fill in blank No. 4.

- Ans 1. damage
 2. design
 3. create
 4. rectify

Question ID : **630680515021**
 Option 1 ID : **6306802012641**
 Option 2 ID : **6306802012642**
 Option 3 ID : **6306802012643**
 Option 4 ID : **6306802012644**
 Status : **Answered**
 Chosen Option : **4**

Comprehension:

In the following passage, some words have been deleted. Read the passage carefully and select the most appropriate option to fill in each blank.

Childhood is an important phase in a person's life. Children are free from worries, tensions and stresses so they lead a very (1)_____ life. This is the only reason they create golden and beautiful memories during this period which are (2)_____ in their adulthood. It is the responsibility of parents and guardians to shape the future of a child as he is very (3)_____ and can drift in any direction. If they have made any mistakes, we should (4)_____ them instead of misbehaving with them. How we have behaved with them will be (5)_____ on their minds which will reflect in later stages.

SubQuestion No : 45

Q.45 Select the most appropriate option to fill in blank No. 5.

- Ans 1. coloured
 2. published
 3. imprinted
 4. bleached

Question ID : **630680515022**
 Option 1 ID : **6306802012647**
 Option 2 ID : **6306802012648**
 Option 3 ID : **6306802012646**
 Option 4 ID : **6306802012645**
 Status : **Answered**
 Chosen Option : **3**



Comprehension:

Read the given passage and answer the questions that follow.

Have you ever taken the time to stop and consider the dirt under your feet? Leonardo da Vinci said, "We know more about the movement of celestial bodies than about the soil underfoot."

Yet, our very survival as humans – and life on this planet – is intimately linked with the health of a thin layer of soil enveloping the earth.

Soil provides society with essential food, feed, fibre and raw materials, as well as being home to a quarter of the earth's biodiversity. Soils are also the largest organic carbon reservoir on Earth and although highly dynamic, are very fragile. Chop a forest down and it might grow back in 50 years, but lose 10 cm of soil and get ready to wait 1,000 years to get it back.

Without soil, our planet would be unrecognisable to us, and more like the barren and inhospitable surface of the Moon or Mars.

Until recently, we did not even know how deep the soil is below our feet. Like the best mysteries, a bit of digging is required for soils to be fully understood and for their history to be laid bare.

When they are visible, a range of questions arise. What does the variation in colour with depth mean? How much carbon is stored? Is the soil dense or light, damaged or healthy?

Answering these questions is important, but presents a significant challenge and may require years of training.

SubQuestion No : 46

Q.46 Select the most suitable word from the passage which means 'difficult to stay or live in'.

- Ans**
- 1. Dense
 - 2. Barren
 - 3. Essential
 - 4. Inhospitable

Question ID : 630680406917

Option 1 ID : 6306801586705

Option 2 ID : 6306801586703

Option 3 ID : 6306801586702

Option 4 ID : 6306801586704

Status : Answered

Chosen Option : 4



Download SSC CGL, CHSL E-BOOKS

[CLICK HERE](#)

Comprehension:

Read the given passage and answer the questions that follow.

Have you ever taken the time to stop and consider the dirt under your feet? Leonardo da Vinci said, "We know more about the movement of celestial bodies than about the soil underfoot."

Yet, our very survival as humans – and life on this planet – is intimately linked with the health of a thin layer of soil enveloping the earth.

Soil provides society with essential food, feed, fibre and raw materials, as well as being home to a quarter of the earth's biodiversity. Soils are also the largest organic carbon reservoir on Earth and although highly dynamic, are very fragile. Chop a forest down and it might grow back in 50 years, but lose 10 cm of soil and get ready to wait 1,000 years to get it back.

Without soil, our planet would be unrecognisable to us, and more like the barren and inhospitable surface of the Moon or Mars.

Until recently, we did not even know how deep the soil is below our feet. Like the best mysteries, a bit of digging is required for soils to be fully understood and for their history to be laid bare.

When they are visible, a range of questions arise. What does the variation in colour with depth mean? How much carbon is stored? Is the soil dense or light, damaged or healthy? Answering these questions is important, but presents a significant challenge and may require years of training.

SubQuestion No : 47

Q.47 Mankind's survival, according to the passage, solely depends on _____ .

- Ans**
- 1. reproduction
 - 2. celestial bodies
 - 3. soil
 - 4. inventions

Question ID : **630680406915**
 Option 1 ID : **6306801586695**
 Option 2 ID : **6306801586694**
 Option 3 ID : **6306801586697**
 Option 4 ID : **6306801586696**

Status : **Answered**

Chosen Option : **3**

Comprehension:

Read the given passage and answer the questions that follow.

Have you ever taken the time to stop and consider the dirt under your feet? Leonardo da Vinci said, "We know more about the movement of celestial bodies than about the soil underfoot."

Yet, our very survival as humans – and life on this planet – is intimately linked with the health of a thin layer of soil enveloping the earth.

Soil provides society with essential food, feed, fibre and raw materials, as well as being home to a quarter of the earth's biodiversity. Soils are also the largest organic carbon reservoir on Earth and although highly dynamic, are very fragile. Chop a forest down and it might grow back in 50 years, but lose 10 cm of soil and get ready to wait 1,000 years to get it back.

Without soil, our planet would be unrecognisable to us, and more like the barren and inhospitable surface of the Moon or Mars.

Until recently, we did not even know how deep the soil is below our feet. Like the best mysteries, a bit of digging is required for soils to be fully understood and for their history to be laid bare.

When they are visible, a range of questions arise. What does the variation in colour with depth mean? How much carbon is stored? Is the soil dense or light, damaged or healthy?

Answering these questions is important, but presents a significant challenge and may require years of training.

SubQuestion No : 48

Q.48 What is the tone of the speaker?

- Ans**
- 1. Sarcastic
 - 2. Alarming
 - 3. Dogmatic
 - 4. Derisive

Question ID : **630680406918**
 Option 1 ID : **6306801586707**
 Option 2 ID : **6306801586709**
 Option 3 ID : **6306801586708**
 Option 4 ID : **6306801586706**

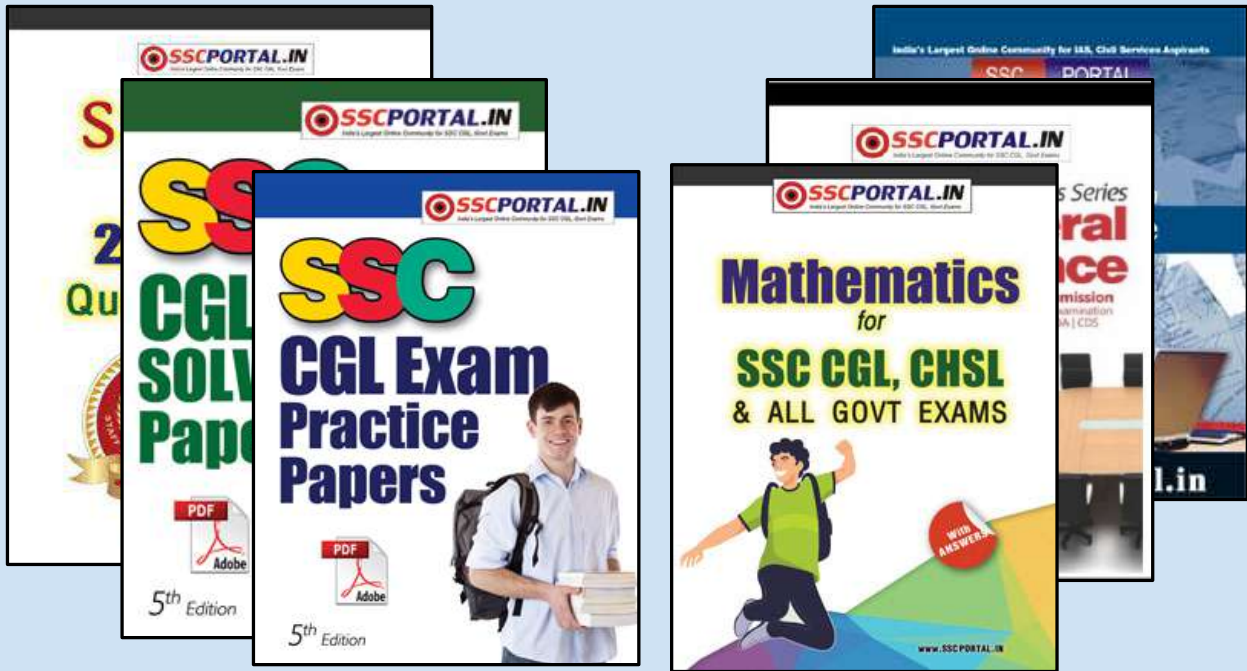
Status : **Answered**

Chosen Option : **2**



Download SSC CGL, CHSL E-BOOKS

[CLICK HERE](#)



SSC CGL PAPERS EBOOK DOWNLOAD ALL

CLICK HERE

<<< CLICK BELOW LINK >>>

<https://sscportal.in/ebook/ssc-cgl>

<https://sscportal.in/ebook>

Comprehension:

Read the given passage and answer the questions that follow.

Have you ever taken the time to stop and consider the dirt under your feet? Leonardo da Vinci said, "We know more about the movement of celestial bodies than about the soil underfoot."

Yet, our very survival as humans – and life on this planet – is intimately linked with the health of a thin layer of soil enveloping the earth.

Soil provides society with essential food, feed, fibre and raw materials, as well as being home to a quarter of the earth's biodiversity. Soils are also the largest organic carbon reservoir on Earth and although highly dynamic, are very fragile. Chop a forest down and it might grow back in 50 years, but lose 10 cm of soil and get ready to wait 1,000 years to get it back.

Without soil, our planet would be unrecognisable to us, and more like the barren and inhospitable surface of the Moon or Mars.

Until recently, we did not even know how deep the soil is below our feet. Like the best mysteries, a bit of digging is required for soils to be fully understood and for their history to be laid bare.

When they are visible, a range of questions arise. What does the variation in colour with depth mean? How much carbon is stored? Is the soil dense or light, damaged or healthy?

Answering these questions is important, but presents a significant challenge and may require years of training.

SubQuestion No : 49

Q.49 How many years are required to renew the loss of 10 cm of soil?

- Ans
- 1. 100
 - 2. 1,00,000
 - 3. 1,000
 - 4. 10,000

Question ID : 630680406916

Option 1 ID : 6306801586700

Option 2 ID : 6306801586701

Option 3 ID : 6306801586699

Option 4 ID : 6306801586698

Status : Answered

Chosen Option : 3

Comprehension:

Read the given passage and answer the questions that follow.

Have you ever taken the time to stop and consider the dirt under your feet? Leonardo da Vinci said, "We know more about the movement of celestial bodies than about the soil underfoot."

Yet, our very survival as humans – and life on this planet – is intimately linked with the health of a thin layer of soil enveloping the earth.

Soil provides society with essential food, feed, fibre and raw materials, as well as being home to a quarter of the earth's biodiversity. Soils are also the largest organic carbon reservoir on Earth and although highly dynamic, are very fragile. Chop a forest down and it might grow back in 50 years, but lose 10 cm of soil and get ready to wait 1,000 years to get it back.

Without soil, our planet would be unrecognisable to us, and more like the barren and inhospitable surface of the Moon or Mars.

Until recently, we did not even know how deep the soil is below our feet. Like the best mysteries, a bit of digging is required for soils to be fully understood and for their history to be laid bare.

When they are visible, a range of questions arise. What does the variation in colour with depth mean? How much carbon is stored? Is the soil dense or light, damaged or healthy?

Answering these questions is important, but presents a significant challenge and may require years of training.

SubQuestion No : 50

Q.50 Identify the most suitable title for the given passage.

- Ans
- 1. Mysteries Under Man's Feet
 - 2. Necessity of Mining
 - 3. Moon and Mars Expedition
 - 4. The Uninhabitable Universe

Question ID : 630680406919

Option 1 ID : 6306801586712

Option 2 ID : 6306801586710

Option 3 ID : 6306801586711

Option 4 ID : 6306801586713

Status : Answered

Chosen Option : 1



Download SSC CGL, CHSL E-BOOKS

[CLICK HERE](#)