

Constable (GD) in CAPFs, NIA, SSF and Rifleman (GD) in Assam Rifles Examination, 2018

EducationExam Time :	9:00 AM - 10:30 AM
Exam Date :	18/02/2019

Section : General Section

Q.1 उस विकल्प का चयन करें जो तीसरे पद से उसी प्रकार से संबंधित है जिस प्रकार दूसरा पद प्रथम पद से संबंधित है

22 : 88 :: 37 : ?

- Ans
- 1. 221
 - 2. 144
 - 3. 169
 - 4. 370

Question ID : 9895803713
Chosen Option : 1

Q.2 एक वर्गाकार पारदर्शी शीट एक पैटर्न के साथ दी गई है। जब शीट को बिंदीदार रेखा पर मोड़ा जाता है तो पैटर्न कैसा दिखाई देगा?



- Ans
- 1.
 - 2.
 - 3.
 - 4.

Question ID : 9895803721
Chosen Option : 1

Q.3

उस विकल्प का चयन करें जो दी गई श्रृंखला में प्रश्न चिह्न (?) के स्थान पर आएगा।

13, 25, 42, 69, ?

- Ans
- 1. 125
 - 2. 111
 - 3. 95
 - 4. 105

Question ID : 9895803712
Chosen Option : 2

Q.4 नीचे दिए गए कथनों के बाद दो निष्कर्ष I और II दिए गए हैं। यह मानकर कि इन कथनों में दी गई जानकारी सही है, भले ही वह सामान्य स्थापित तथ्यों से भिन्न दीखती हो, तय करें कि इनमें से कौन सा(से) निष्कर्ष तार्किक आधार पर और निश्चित रूप से कथनों में दी गई जानकारी का अनुसरण करता(ते) है(हैं)।

कथन:

- 1.) सभी पेन मेंढक हैं।
- 2.) कुछ कौवे मेंढक हैं।

निष्कर्ष:

- I. कोई भी पेन कौवा नहीं है।
- II. कुछ पेन्स कौवे हैं।

- Ans
- 1. दोनों ही निष्कर्ष अनुसरण करते हैं।
 - 2. केवल निष्कर्ष II अनुसरण करता है।
 - 3. या तो निष्कर्ष I या निष्कर्ष II अनुसरण करता है।
 - 4. केवल निष्कर्ष I अनुसरण करता है।

Question ID : 9895803709
Chosen Option : 2

Q.5 एक निश्चित कूट भाषा में, POTATO को AOOPTT के रूप में लिखा जाता है। उस कूट भाषा में BARBER को कैसे लिखा जाएगा?

- Ans
- 1. ABBRER
 - 2. ARBERB
 - 3. ABRBER
 - 4. ABBERR

Question ID : 9895803704
Chosen Option : 3

Q.6 दिए गए विकल्पों में से असंगत विकल्प का चयन करें।

- Ans
- 1. CFI
 - 2. DFH
 - 3. AHI
 - 4. CEK

Question ID : 9895803699

Chosen Option : 1

Q.7 उस विकल्प का चयन करें जो, जब दर्पण को दाईं ओर रखा जाए, तो दी गई आकृतिकी दर्पण छवि से सर्वाधिक मिलता जुलता हो।



Ans

✗ 1.



✗ 2.



✗ 3.



✓ 4.



Question ID : 9895803720

Chosen Option : 3

Q.8 उस विकल्प का चयन करें जो दी गई श्रृंखला में प्रश्न चिह्न (?) के स्थान पर आएगा।

112, 108, 92, 56, ?

Ans ✗ 1. -6

✗ 2. 7

✗ 3. -7

✓ 4. -8

Question ID : 9895803711

Chosen Option : 2

Q.9 आठ मित्र A, B, C, D, E, F, G और H दोपहर के भोजन के लिए एक वृत्ताकार मेज के आस पास एक दूसरे के आमने सामने बैठे हैं। A, D के सामने है और B के दाईं ओर से तीसरा है। G, A और F के बीच में है। H, A के दाईं ओर है। E, C और D के बीच में है।

B और E के बीच कौन बैठा है?

Ans ✓ 1. D

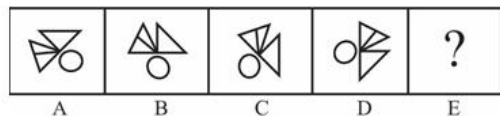
✗ 2. E

✗ 3. F

✗ 4. C

Question ID : 9895803707
Chosen Option : 1

Q.1 विकल्पों में से उस आकृति का चयन करें जो दी गई श्रृंखला में अगले स्थान पर आएगी।



Ans

✓ 1.



✗ 2.



✗ 3.



✗ 4.



Question ID : 9895803717
Chosen Option : 1

Q.1 एक निश्चित कूट भाषा में, SAW को 38 के रूप में लिखा जाता है। उस कूट भाषा में FEED को कैसे लिखा जाएगा?

Ans ✗ 1. 70

✗ 2. 30

✗ 3. 45

✓ 4. 88

Question ID : 9895803705
Chosen Option : 1

Q.1 दिए गए विकल्पों में से असंगत संख्या का चयन करें।

Ans ✗ 1. 83

✗ 2. 97

✓ 3. 63

✗ 4. 89

Question ID : 9895803714
Chosen Option : 3

Q.1
3

J, K, L, M, N और O छह शिक्षक हैं। उनमें से प्रत्येक हिंदी, अंग्रेजी, गणित, विज्ञान, सामाजिक विज्ञान और कला में से एक अलग विषय पढ़ाता है, जरूरी नहीं कि उसी क्रम में हो। उनमें से प्रत्येक सोमवार से शनिवार तक केवल एक दिन ही पढ़ाता है, जरूरी नहीं कि उसी क्रम में हो। J बुधवार को विज्ञान पढ़ाता है। O, J के बाद दूसरा है, और गणित पढ़ाता है। K सप्ताह के पहले दिन पढ़ाता है, लेकिन न तो हिंदी पढ़ाता है और न ही अंग्रेजी। M, N से पहले अंग्रेजी पढ़ाता है और L, J से पहले कला पढ़ाता है।

मंगलवार को कौन पढ़ाता है?

- Ans
- 1. K
 - 2. M
 - 3. N
 - 4. L

Question ID : 9895803708
Chosen Option : 2

Q.1 नीचे दिए गए कथनों के बाद दो निष्कर्ष I और II दिए गए हैं। यह मानकर कि इन कथनों में दी गई जानकारी सही है, भले ही वह सामान्य स्थापित तथ्यों से भिन्न दीखती हो, तय करें कि इनमें से कौन सा(से) निष्कर्ष तार्किक आधार पर और निश्चित रूप से कथनों में दी गई जानकारी का अनुसरण करता(ते) है(हैं)।

कथन:

- 1.) सभी उल्लू घोड़े हैं।
- 2.) कुछ घोड़े खरगोश हैं।

निष्कर्ष:

- I. कुछ उल्लू खरगोश हैं।
- II. कुछ खरगोश घोड़े हैं।

- Ans
- 1. न तो निष्कर्ष I और न ही निष्कर्ष II अनुसरण करता है।
 - 2. केवल निष्कर्ष II अनुसरण करता है।
 - 3. केवल निष्कर्ष I अनुसरण करता है।
 - 4. दोनों ही निष्कर्ष अनुसरण करते हैं।

Question ID : 9895803710
Chosen Option : 4


Q.1 दिए गए विकल्पों में से असंगत विकल्प का चयन करें।

- Ans
- 1. गुलाबी
 - 2. बैंगनी
 - 3. पीला
 - 4. नारंगी

Question ID : 9895803700
Chosen Option : 4

Q.1 निम्नलिखित में से कौन सा वेन रेखाचित्र दिए गए वर्ग के बीच के संबंध को सही दर्शाता है?
गहूँ, फसलें, किसान

Ans



Question ID : 9895803722
Chosen Option : 2

Q.1 उस विकल्प का चयन करें जो दी गई श्रृंखला में प्रश्न चिह्न (?) के स्थान पर आएगा।

SHO, QJN, OLM, ?

- Ans
- 1. LWL
 - 2. MML
 - 3. MNL
 - 4. LWV

Question ID : 9895803698
Chosen Option : 3

Q.1 विकल्पों में से उस आकृति का चयन करें जिसमें 'X' से चिह्नित आकृति समाहित है। (घुमाने की अनुमति नहीं है)



- Ans
- 1.
 - 2.
 - 3.

✓ 4.



Question ID : 9895803719
Chosen Option : 1

Q.1 उस विकल्प का चयन करें जो तीसरे पद से उसी प्रकार से संबंधित है जिस प्रकार दूसरा पद प्रथम पद से संबंधित है।

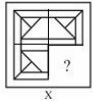
9 मत्स्यविज्ञान : मछलियाँ :: मृदाविज्ञान : ?

Ans

- ✗ 1. चाँद
- ✓ 2. मिट्टी
- ✗ 3. भूपटल
- ✗ 4. नाम

Question ID : 9895803701
Chosen Option : 2

Q.2 दिए गए चार विकल्पों में से किसी एक आकृति का चयन करें जिसे, जब आकृति X में रिक्त स्थान (?) में रखा जाए, तो पैटर्न को पूर्ण करेगा। (घ्रणन की अनुमति नहीं है)।

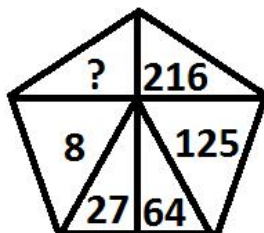


Ans

- ✗ 1.
- ✓ 2.
- ✗ 3.
- ✗ 4.

Question ID : 9895803718
Chosen Option : 2

Q.2 उस विकल्प का चयन करें जो दिए गए पैटर्न में प्रश्न चिह्न (?) के स्थान पर आएगा।



Ans

- ✗ 1. 49
- ✓ 2. 343

✗ 3. 7

✗ 4. 37

Question ID : 9895803715

Chosen Option : 2

Q.2 सात मित्र O, P, Q, R, S, T और U एक पंक्ति में बैठे फिल्म देख रहे हैं। P एक अंतिम छोर पर बैठा हुआ है। Q, S के ठीक बाईं ओर बैठा है। P, T के दायें से दूसरे स्थान पर बैठा है। U किसी भी अंतिम छोर पर नहीं बैठा है। O, R और T के बीच बैठा है।

Q और R के बीच कौन बैठा है?

Ans ✓ 1. S

✗ 2. R

✗ 3. T

✗ 4. Q

Question ID : 9895803706

Chosen Option : 1

Q.2 निम्नलिखित समीकरण को सही बनाने के लिए अदला-बदली करना जरूरी दो चिन्ह ज्ञात करें।
3 $10 + 10 \times 10 - 10 \div 10 = -89$

Ans ✓ 1. \times और \div

✗ 2. $+$ और \times

✗ 3. $-$ और \div

✗ 4. $-$ और \times

Question ID : 9895803716

Chosen Option : 1

Q.2 उस विकल्प का चयन करें जो तीसरे पद से उसी प्रकार से संबंधित है जिस प्रकार दूसरा पद प्रथम पद से संबंधित है।
4 BFH : DHJ :: GKM : ?

Ans ✗ 1. KMG

✗ 2. MKI

✗ 3. MKG

✓ 4. IMO

Question ID : 9895803703

Chosen Option : 4

Q.2 उस विकल्प का चयन करें जो तीसरे पद से उसी प्रकार से संबंधित है जिस प्रकार दूसरा पद प्रथम पद से संबंधित है।
5 सफल होना : निष्फल होना : दुखी : ?

Ans ✓ 1. प्रसन्न

✗ 2. खड़िया

✗ 3. पीछा करना

✗ 4. कीर्तन

Question ID : 9895803702

Chosen Option : 1

Q.2
6 मेडूर बांध किस नदी पर निर्मित और किस राज्य में स्थित है?

- Ans
- ✗ 1. काली नदी, कर्नाटक
 - ✓ 2. कावेरी नदी, तमिलनाडु
 - ✗ 3. नर्मदा नदी, मध्य प्रदेश
 - ✗ 4. तुंगभद्रा नदी, कर्नाटक

Question ID : 9895805344

Chosen Option : 4

Q.2
7 निम्न में से किस पर उत्पाद शुल्क लगाया जा सकता है?

- Ans
- ✓ 1. निर्मित उत्पाद
 - ✗ 2. वस्तु एवं सेवाओं का आयात
 - ✗ 3. किसी कम्पनी का राजस्व
 - ✗ 4. वस्तु एवं सेवाओं का निर्यात

Question ID : 9895805352

Chosen Option : 4

Q.2
8 किस भारतीय राज्य में हॉर्नबिल त्यौहार मनाया जाता है?

- Ans
- ✓ 1. नागालैंड
 - ✗ 2. त्रिपुरा
 - ✗ 3. सिक्किम
 - ✗ 4. मणिपुर

Question ID : 9895805346

Chosen Option : 1

Q.2
9 निम्न में से कौन सी संस्था उष्णकटिबंधीय वनों के चिरस्थायी प्रबंधन एवं संरक्षण को प्रोत्साहित करती है?

- Ans
- ✗ 1. वर्ल्डवाइड फण्ड फॉर नेचर
 - ✓ 2. इंटरनेशनल ट्रोपिकल टिम्बर ऑर्गेनाइजेशन
 - ✗ 3. ग्रीनपीस
 - ✗ 4. यूनाइटेड नेशंस फोरम ऑन फॉरेस्ट्स

Question ID : 9895805340

Chosen Option : 3

Q.3₀ किस भारतीय राज्य में बाँस की टपक सिंचाई व्यवस्था बहुत लम्बे समय से प्रयोग की जाती है?

- Ans
- 1. महाराष्ट्र
 - 2. छत्तीसगढ़
 - 3. मेघालय
 - 4. तेलंगाना

Question ID : 9895805350

Chosen Option : 3

Q.3₁ pH स्केल का उदासीन मान कितना होता है?

- Ans
- 1. 7 से अधिक
 - 2. 7 के बराबर
 - 3. 7 से कम
 - 4. 14 के बराबर

Question ID : 9895805349

Chosen Option : 2

Q.3₂ केलों का रंग भूरा हो जाता है क्योंकि:

- Ans
- 1. एक अन्जाईम इसमें स्टार्च को शर्करा में बदल देता है।
 - 2. बिसफॉस्फोनेट्स केले में एंजाइमों के साथ प्रतिक्रिया करता है।
 - 3. केले में मौजूद एंजाइम हवा के साथ अभिक्रिया करता है।
 - 4. एक अन्जाईम इसमें शर्करा को स्टार्च में बदल देता है।

Question ID : 9895805356

Chosen Option : 2

Q.3₃ भारतीय संविधान के किस अनुच्छेद में शोषण के विरुद्ध मौलिक अधिकार का प्रावधान किया गया है?

- Ans
- 1. अनुच्छेद 19-22
 - 2. अनुच्छेद 29-30
 - 3. अनुच्छेद 14-18
 - 4. अनुच्छेद 23-24

Question ID : 9895805348

Q.3
4 मलाला युसुफजई की जीवनी पर बनी फ़िल्म का नाम क्या है?

Ans

- 1. गुल मकई
- 2. द एविएटर
- 3. फ़िडा
- 4. द सोशल नेटवर्क

Question ID : 9895805334

Chosen Option : 4

Q.3
5 निम्न में से कौन सी प्रतियोगिता भारतीय फुटबॉल से संबंधित नहीं है?

Ans

- 1. दुरान्द कप
- 2. संतोष ट्रॉफी
- 3. रणजी ट्रॉफी
- 4. फेडरेशन कप

Question ID : 9895805357

Chosen Option : 3

Q.3
6 कनी शॉल हस्तशिल्प भारत के निम्नलिखित में से किस राज्य से संबंधित है?

Ans

- 1. हिमाचल प्रदेश
- 2. अरुणाचल प्रदेश
- 3. जम्मू और कश्मीर
- 4. उत्तर प्रदेश

Question ID : 9895805358

Chosen Option : 2

Q.3
7 निम्न में से ऐतिहासिक घटनाओं को सही कालक्रमानुसार लगाएँ।

- 1) नील की खेती के लिए चंपारण सत्याग्रह
- 2) असहयोग खिलाफत आन्दोलन की शुरुआत
- 3) रोलेट सत्याग्रह
- 4) साइमन कमीशन का भारत में आगमन

Ans

- 1. 1-2-3-4
- 2. 3-4-2-1
- 3. 1-3-2-4

✗ 4. 4-2-1-3

Question ID : 9895805342
Chosen Option : 3

Q.3 सचिन तेंदुलकर ने कहाँ और किस देश के साथ खेलते हुए अपना 100वां शतक बनाया था?

- Ans
- ✗ 1. पर्थ स्टेडियम, वेस्ट इंडीज
 - ✓ 2. शारे बांग्ला स्टेडियम, बांग्लादेश
 - ✗ 3. इडन पार्क, न्यूजीलैंड
 - ✗ 4. सिडनी क्रिकेट ग्राउंड, ऑस्ट्रेलिया

Question ID : 9895805355
Chosen Option : 2

Q.3 भारत सरकार द्वारा निम्न में से किस भाषा को 'शास्त्रीय' घोषित किया गया है?

- Ans
- ✗ 1. पालि
 - ✗ 2. मराठी
 - ✓ 3. ओड़िया
 - ✗ 4. हिंदी

Question ID : 9895805335
Chosen Option : 2

Q.4 काजीरंगा राष्ट्रीय उद्यान किस राज्य में स्थित है?

- Ans
- ✗ 1. मध्य प्रदेश
 - ✗ 2. बिहार
 - ✗ 3. राजस्थान
 - ✓ 4. असम

Question ID : 9895805339
Chosen Option : 4

Q.4 निम्न में से किस व्यक्ति को 'भारतीय फिल्म उद्योग के जनक' के रूप में जाना जाता है?

- Ans
- ✗ 1. राजेश खन्ना
 - ✗ 2. देव आनन्द
 - ✓ 3. दादासाहेब फालके
 - ✗ 4. अमिताभ बच्चन

Question ID : 9895805338
Chosen Option : 3

Q.4
2 1985 में किए गए भारतीय संविधान के 52वें संशोधन में क्या सुधार किया गया था?

Ans 1.

'समाजवादी धर्मनिरपेक्ष' शब्द संविधान की प्रस्तावना में जोड़े गए

2.

भारतीय गणराज्य में सिक्किम को एक राज्य के रूप में शामिल किया गया

3. दलबदल विरोधी कानून को शामिल किया गया

4. कर में वृद्धि के सम्बन्ध में संघ एवं राज्य सूची में संशोधन

Question ID : 9895805341
Chosen Option : 1

Q.4
3 'इंडियाज़ एक्सपोर्ट ट्रेड्स एंड प्रोस्पेक्ट्स फॉर सेल्फ-सस्टेंड गोथ' पुस्तक के लेखक कौन हैं?

Ans 1. नरेन्द्र मोदी

2. मनमोहन सिंह

3. अटल बिहारी वाजपेयी

4. शशि थरूर

Question ID : 9895805336
Chosen Option : 4

Q.4
4 पुरंदर की संधि किस के बीच हुई थी?

Ans 1. मुगल और मराठा

2. पूर्वी गंगा और चोल

3. अफगान और पुर्तगाली

4. बंगाल और राजपूतों का नवाब

Question ID : 9895805337
Chosen Option : 3

Q.4
5 भारत में करेंसी नोट किस संस्था द्वारा जारी किए जाते हैं?

Ans 1. RBI

2. PNB

3. SBI

4. ICICI

Question ID : 9895805353
Chosen Option : 1

Q.4

6 स्कर्वी रोग किस विटामिन की कमी के कारण होता है?

- Ans
- 1. विटामिन D
 - 2. विटामिन A
 - 3. विटामिन K
 - 4. विटामिन C

Question ID : 9895805351
Chosen Option : 4

Q.4
7 निम्न में से कौन सा शब्द क्रेडिट से संबंधित नहीं है?

- Ans
- 1. संपार्श्विक
 - 2. ब्याज दर
 - 3. वित्त मंत्री की मुहर
 - 4. आवश्यक दस्तावेज

Question ID : 9895805354
Chosen Option : 4

Q.4
8 शेर शाह सूरी द्वारा जारी किया गया चाँदी का सिक्का क्या कहलाता था?

- Ans
- 1. दिनार
 - 2. मोहर
 - 3. टंका
 - 4. रुपया

Question ID : 9895805345
Chosen Option : 1

Q.4
9 भारत के राष्ट्रपति को पद से हटाने लिए संसद द्वारा कौन सा प्रस्ताव पारित किया जाता है?

- Ans
- 1. अविश्वास प्रस्ताव
 - 2. महाभियोग प्रस्ताव
 - 3. कटौती प्रस्ताव
 - 4. प्रतिबन्ध प्रस्ताव

Question ID : 9895805347
Chosen Option : 2

Q.5
0 उच्चतम गुणवत्ता वाला कठोर कोयल निम्न में से कौन सा है?

- Ans
- 1. पीट
 - 2. बिटुमिनस

3. लिग्नाईट

4. एन्थ्रेससाईट

Question ID : 9895805343

Chosen Option : 3

Q.5 एक बाईक 56 कि.मी./घंटा की गति से एक निश्चित दूरी को 16 घंटे में तय करती है। वह 64 कि.मी./घंटा की गति

1 से समान दूरी को तय करने में कितना समय लेगी?

Ans 1. 18 घंटे

2. 16 घंटे

3. 14 घंटे

4. 12 घंटे

Question ID : 9895805658

Chosen Option : 2

Q.5 F अकेला एक कार्य को 24 दिन में पूरा कर सकता है तथा G अकेला समान कार्य को 32 दिन में पूरा कर सकता है।

2 F तथा G मिलकर कार्य आरंभ करते हैं परंतु G कार्य समाप्त होने से 8 दिन पहले कार्य छोड़ देता है। कुल कार्य कितने दिन में पूरा हो जाएगा?

Ans 1. $\frac{114}{7}$ दिन

2. $\frac{106}{7}$ दिन

3. $\frac{130}{5}$ दिन

4. $\frac{120}{7}$ दिन

Question ID : 9895805655

Chosen Option : 2

Q.5 वरुण 75 वस्तुएं ₹ 3150 की खरीदता है तथा उनको 15 वस्तुओं के क्रय मूल्य के बराबर लाभ पर बेचता है। एक

3 वस्तु का विक्रय मूल्य क्या होगा?

Ans 1. ₹ 42

2. ₹ 51.5

3. ₹ 46.5

4. ₹ 50.4

Question ID : 9895805649

Chosen Option : 1

Q.5 12 डिब्बों का औसत वजन 63 कि.ग्रा. है। यदि 70 कि.ग्रा. औसत वजन वाले चार डिब्बों को हटा दिया जाए। तो बचे

4 हुए डिब्बों का नया औसत वजन क्या होगा?

Ans 1. 60.5 कि.ग्रा.

2. 60 कि.ग्रा.

3. 59 कि.ग्रा.

4. 59.5 कि.ग्रा.

Question ID : 9895805643
Chosen Option : 4

Q.5
5 दिए गए डेटा का माध्यक क्या है?

2, 3, 2, 3, 6, 5, 4, 7

Ans 1. 3

2. 4

3. 3.5

4. 4.5

Question ID : 9895805646
Chosen Option : 2

Q.5
6 $[75 \div 25 \text{ का } (\frac{4}{3} - \frac{1}{2} + \frac{1}{6})]$ का मान क्या है?

Ans 1. 3

2. $\frac{7}{6}$

3. 5

4. $\frac{5}{6}$

Question ID : 9895805642
Chosen Option : 4

Q.5
7 मोहित ₹ 3 प्रति अंडे की दर से अंडे खरीदता है तथा ₹ 5 प्रति अंडे की दर से उन्हें बेचता है। 35 अंडे बेचने पर लाभ प्रतिशत क्या होगा?

Ans 1. 33.33%

2. 66.66%

3. 60%

4. 40%

Question ID : 9895805648
Chosen Option : 3

Q.5
8 एक राशि 8 वर्षों में साधारण ब्याज से स्वयं का पाँच गुना हो जाती है। ब्याज की वार्षिक दर क्या है?

Ans 1. 62.5%

2. 25%

3. 37.5%

4. 50%

Question ID : 9895805653

Q.5 एक बेलन का वक्र पृष्ठीय क्षेत्रफल 110 से.मी.² है। यदि बेलन की ऊँचाई 5 से.मी. है, तो इसके आधार का व्यास क्या होगा?

- Ans
- 1. 10.5 से.मी.
 - 2. 14 से.मी.
 - 3. 7 से.मी.
 - 4. 3.5 से.मी.

Question ID : 9895805659

Chosen Option : 1

Q.6 $(3 \times 1500 \div 40 + 5 \div \frac{2}{7} \text{ का } 70)$ का मान क्या है?

- Ans
- 1. $\frac{473}{4}$
 - 2. $\frac{433}{4}$
 - 3. $\frac{451}{4}$
 - 4. $\frac{435}{4}$

Question ID : 9895805641

Chosen Option : 1

Q.6 नीचे दी गई तालिका विभिन्न कॉलेजों के विभिन्न पाठ्यक्रमों में दाखिला लेने वाले छात्रों की संख्या दर्शाती है।

Colleges	Courses			
	B1	B2	B3	B4
C1	65	56	65	103
C2	68	58	71	112
C3	72	54	88	125
C4	76	52	75	120
C5	69	60	79	126

कॉलेज C3 तथा C4 में दाखिला लेने वाले छात्रों की कुल संख्या में

क्या अंतर है?

- Ans
- 1. 13
 - 2. 11
 - 3. 16
 - 4. 12

Question ID : 9895805664

Chosen Option : 1

Q.6 एक राशि पर पाँचवें वर्ष में ₹ 1200 का चक्रवृद्धि ब्याज मिलता है (ब्याज का संयोजन वार्षिक किया गया है)। यदि 2 वार्षिक ब्याज दर 22.5% है, तो छठे वर्ष में ब्याज क्या होगा?

- Ans
- 1. ₹ 270
 - 2. ₹ 1200
 - 3. ₹ 1470
 - 4. ₹ 1270

Question ID : 9895805654
Chosen Option : 3

Q.6 नीचे दी गई तालिका एक देश के 5 क्रमागत वर्षों Y1, Y2, Y3, Y4 तथा Y5 के लिए चावल के उत्पादन तथा चावल की खेती के तहत क्षेत्र को दर्शाती है।

वर्ष	चावल का उत्पादन (1000 कि.ग्रा. में)	चावल की खेती के तहत क्षेत्र (100 वर्ग मीटर में)
Y1	520	130
Y2	570	190
Y3	680	150
Y4	720	180
Y5	850	170

वर्ष Y3 के लिए प्रति वर्ग मीटर उपज क्या है?

- Ans
- 1. 52.50 कि.ग्रा.
 - 2. 63.33 कि.ग्रा.
 - 3. 37.66 कि.ग्रा.
 - 4. 45.33 कि.ग्रा.

Question ID : 9895805662
Chosen Option : 2

Q.6 एक विद्यार्थी को एक परीक्षा 24% अंक मिलते हैं तथा वह 56 अंक से अनुत्तीर्ण हो जाता है। यदि उसे 60% अंक मिलते, तो उसके अंक न्यूनतम उत्तीर्ण अंक से 70 अधिक होते। परीक्षा के लिए अधिकतम अंक क्या हैं?

- Ans
- 1. 280
 - 2. 260
 - 3. 380
 - 4. 350

Question ID : 9895805647
Chosen Option : 4

Q.6 नीचे दी गई तालिका 5 विषयों में 4 छात्रों द्वारा प्राप्त अंकों को दर्शाती है। प्रत्येक विषय के अधिकतम अंक 100 हैं।

विषय	छात्र			
	P1	P2	P3	P4
S1	89	100	92	91
S2	62	52	72	37
S3	57	55	70	65
S4	76	85	76	58
S5	85	70	66	62

S5 तथा S2 विषयों के लिए प्रति छात्र औसत अंकों में क्या अंतर है?

Ans

1. 17.5

2. 15

3. 19.5

4. 12

Question ID : 9895805663

Chosen Option : 1

Q.6 राम, सीता तथा सलमा एक व्यापार शुरु करने के लिए क्रमशः ₹ 16000, ₹ 22000 तथा ₹ 18000 निवेश करते हैं।
6 यदि वर्ष के अंत में लाभ ₹ 26600 है, तो राम का हिस्सा क्या है?

Ans 1. ₹ 7600

2. ₹ 10450

3. ₹ 9650

4. ₹ 8550

Question ID : 9895805651

Chosen Option : 4

Q.6 पहली वस्तु पर 18% की छूट का मान तथा दूसरी वस्तु पर 13% की छूट के मान के बराबर है। दोनों वस्तुओं के
7 अंकित मूल्य का अनुपात क्या है?

Ans 1. 39 : 50

2. 13 : 19

3. 17 : 24

4. 13 : 18

Question ID : 9895805645

Chosen Option : 2

Q.6 5, 10 तथा 20 का महत्तम समापवर्तक क्या होगा?

Ans 1. 10

2. 5

3. 15

4. 1

Question ID : 9895805640

Chosen Option : 1

Q.6 एक घनाभ की लंबाई, चौड़ाई तथा ऊँचाई 4 : 3 : 2 के अनुपात में है। यदि घनाभ का आयतन 1536 से.मी.³ है, तो
9 घनाभ का कुल पृष्ठीय क्षेत्रफल क्या होगा?

Ans 1. 868 से.मी.²

2. 416 से.मी.²

3. 832 से.मी.²

4. 624 से.मी.²

Question ID : 9895805661
Chosen Option : 1

Q.7 एक थैले में सफेद तथा पीली गेंद क्रमशः 7 : 11 के अनुपात में हैं। यदि कुल गेंदों की संख्या 108 है, तो पीली गेंद 0 कितनी हैं?

- Ans
- 1. 64
 - 2. 66
 - 3. 77
 - 4. 44

Question ID : 9895805650
Chosen Option : 3

Q.7 एक ठोस घनाभ की लंबाई, चौड़ाई तथा ऊँचाई क्रमशः 20 से.मी., 16 से.मी. तथा 12 से.मी. है। यदि घनाभ को 1 पिघलाकर 4 से.मी. वाले समान घन बनाए जाते हैं, तो समान घन की संख्या कितनी होगी?

- Ans
- 1. 56
 - 2. 60
 - 3. 90
 - 4. 72

Question ID : 9895805660
Chosen Option : 1

Q.7 मोहित तथा सुमित क्रमशः ₹ 74000 तथा ₹ 96000 के निवेश के साथ एक व्यापार शुरू करते हैं। यदि वर्ष के अंत में 2 वे 5 : 8 के अनुपात में लाभ कमाते हैं, तो उनके द्वारा निवेश की गई पूँजी की समय अवधि का अनुपात क्या होगा?

- Ans
- 1. 25 : 32
 - 2. 13 : 18
 - 3. 37 : 32
 - 4. 30 : 37

Question ID : 9895805652
Chosen Option : 4

Q.7 विद्यार्थियों की औसत आयु A है तथा अध्यापकों की औसत आयु B है। विद्यार्थियों की संख्या अध्यापकों की संख्या 3 का 45 गुना है। विद्यार्थियों तथा अध्यापकों को मिलाकर दोनों की औसत आयु क्या है?

- Ans
- 1. $\frac{45A + B}{46}$
 - 2. $\frac{45A + 8B}{7}$
 - 3. $\frac{45A + 4B}{23}$
 - 4. $\frac{45A + B}{8}$

Question ID : 9895805644
Chosen Option : 2Q.7
4

राजू अपनी सामान्य गति के $\frac{3}{4}$ से यात्रा करता है तथा अपने दफ्तर अपने सामान्य समय से 24 मिनट की देरी से पहुंचता है। यदि राजू अपनी सामान्य गति से यात्रा करता है, तो उसके द्वारा अपने दफ्तर पहुंचने के लिए कितना समय लिया जाएगा?

- Ans
- 1. 56 मिनट
 - 2. 48 मिनट
 - 3. 64 मिनट
 - 4. 72 मिनट

Question ID : 9895805657
Chosen Option : 3

Q.7 एक दिन में 2 घंटे कार्य करके, P एक कार्य को 10 दिन में पूरा कर सकता है तथा एक दिन में 5 घंटे कार्य करके, Q समान कार्य को 6 दिन में पूरा कर सकता है। एक दिन में 3 घंटे कार्य करके, P तथा Q दोनों मिलकर समान कार्य को कितने दिन में पूरा कर सकते हैं?

- Ans
- 1. 3 दिन
 - 2. 5 दिन
 - 3. 6 दिन
 - 4. 4 दिन

Question ID : 9895805656
Chosen Option : 2

Section : English Language

Q.1 Select the most appropriate word to fill in the blank.

We should always remember not to _____ any problems and issues that may affect our career in any organisation.

- Ans
- 1. inflict
 - 2. affect
 - 3. create
 - 4. undertake

Question ID : 9895805202
Chosen Option : --

Q.2 Select the word which means the same as the group of words given.

One who studies antique things

- Ans
- 1. Historian
 - 2. Archaeologist
 - 3. Antiquarian
 - 4. Sociologist

Question ID : 9895805199
Chosen Option : --

Q.3 From the given options, identify the segment in the sentence which contains the grammatical error.

The Builders' Associations want GST exemption for government projects which have already proposed.

- Ans
- 1. want GST exemption
 - 2. The Builders' Associations
 - 3. for government projects
 - 4. which have already proposed.

Question ID : 9895805180
Chosen Option : --

Q.4 Select the antonym of the given word

AWKWARD

- Ans
- 1. Difficult
 - 2. Matchless
 - 3. Convenient
 - 4. Problematic

Question ID : 9895805195
Chosen Option : --

Q.5 Choose the correct meaning of the following idiom.

To get away with

- Ans
- 1. To finish an assignment
 - 2. To escape from something
 - 3. To go away from home
 - 4. To go to an unknown place

Question ID : 9895805197
Chosen Option : --

Q.6 Select the most appropriate word to fill in the blank.

Although I was _____ of his new plans for growth of the company, I relied on him as he was very honest.

- Ans
- 1. committed
 - 2. convinced
 - 3. sceptical
 - 4. persuaded

Question ID : 9895805203
Chosen Option : --

Q.7

From the given options, identify the segment in the sentence which contains the grammatical error.

Soon after returning to office, the CBI chief transfer five officers.

- Ans 1. Soon after
 2. transfer five officers
 3. the CBI chief
 4. returning to office,

Question ID : 9895805178
Chosen Option : --

Q.8 Select the antonym of the given word.

EUPHORIA

- Ans 1. Song
 2. Folklore
 3. Music
 4. Lethargy

Question ID : 9895805194
Chosen Option : --

Q.9 Select the most appropriate option to fill in the blank.

Is it true that the students from the Space Research Centre _____ this evening?

- Ans 1. is arriving
 2. has arriving
 3. have arriving
 4. are arriving

Question ID : 9895805184
Chosen Option : --

Q.1 Select the most appropriate option to substitute the underlined segment in the given sentence. If there is no need to substitute it, select No Improvement.

While learning to drive, one of the most of important things is to know the traffic rules first.

- Ans 1. When learned to drive
 2. No improvement
 3. When learn driving
 4. When learn to drive

Question ID : 9895805182
Chosen Option : --

Q.1
1

Select the most appropriate option to substitute the underlined segment in the given sentence. If there is no need to substitute it, select No Improvement.

These flowers smell sweetly and are sold at high prices in the market.

- Ans
- 1. These flowers will smell sweetly
 - 2. No improvement
 - 3. These flowers smell sweet
 - 4. These flowers smelt sweetly

Question ID : 9895805183
Chosen Option : --

Q.1
2 Select the most appropriate option to fill in the blank.

_____ example helps understand a concept better.

- Ans
- 1. Few
 - 2. An
 - 3. A
 - 4. One

Question ID : 9895805185
Chosen Option : --

Q.1
3 Select the correctly spelt word.

- Ans
- 1. Magnanimous
 - 2. Magnanomous
 - 3. Magnanimous
 - 4. Magnanemous

Question ID : 9895805201
Chosen Option : --

Q.1
4 Select the option that means the same as the given idiom.

To cut both ends

- Ans
- 1. To reject all arguments
 - 2. To argue against both sides of an issue
 - 3. To argue in support of both sides
 - 4. To consider the truth and untruth

Question ID : 9895805196
Chosen Option : --

Q.1
5 From the given options, identify the segment in the sentence which contains the grammatical error.

The government's interim budget from this financial year contained several measures which have the forthcoming elections in mind.

- Ans
- 1. Government's interim budget
 - 2. contained several measures
 - 3. which have the
 - 4. from this financial year

Question ID : 9895805179
Chosen Option : --

Q.1 Select the most appropriate option to substitute the underlined segment in the given sentence. If there is no need to substitute it, select No Improvement.

6

After you will return from Bangalore, I will come and meet you.

- Ans
- 1. No improvement
 - 2. After you returned from
 - 3. After you will be returning from
 - 4. After you return from

Question ID : 9895805181
Chosen Option : --

Q.1 Select the correctly spelt word.

7

- Ans
- 1. Sabstitution
 - 2. Substitushion
 - 3. Substituition
 - 4. Substitution

Question ID : 9895805200
Chosen Option : --

Comprehension:

In the following passage some words have been deleted. Fill in the blanks with the help of the alternatives given.

Seafood exports from India (1) _____ yet to gather momentum as (2) _____ prices, adverse weather conditions and (3) _____ continue to affect stocking of shrimps, which account for about three-fourths of the (4) _____ from export of marine products. This apart, seafood exporters are facing (5) _____ from the Seafood Import Monitoring Programme (SIMP) being implemented by the US and it is one of the largest buyers of Indian shrimps.

SubQuestion No : 18

Q.1 Select the most appropriate option that will fill in the blank number 1.

8

- Ans
- 1. has
 - 2. be
 - 3. are

4. was

Question ID : 9895805187
Chosen Option : --

Comprehension:

In the following passage some words have been deleted. Fill in the blanks with the help of the alternatives given.

Seafood exports from India (1) _____ yet to gather momentum as (2) _____ prices, adverse weather conditions and (3) _____ continue to affect stocking of shrimps, which account for about three-fourths of the (4) _____ from export of marine products. This apart, seafood exporters are facing (5) _____ from the Seafood Import Monitoring Programme (SIMP) being implemented by the US and it is one of the largest buyers of Indian shrimps.

SubQuestion No : 19

Q.1
9 Select the most appropriate option that will fill in the blank number 2.

- Ans
- 1. small
 - 2. little
 - 3. high
 - 4. low

Question ID : 9895805188
Chosen Option : --

Comprehension:

In the following passage some words have been deleted. Fill in the blanks with the help of the alternatives given.

Seafood exports from India (1) _____ yet to gather momentum as (2) _____ prices, adverse weather conditions and (3) _____ continue to affect stocking of shrimps, which account for about three-fourths of the (4) _____ from export of marine products. This apart, seafood exporters are facing (5) _____ from the Seafood Import Monitoring Programme (SIMP) being implemented by the US and it is one of the largest buyers of Indian shrimps.

SubQuestion No : 20

Q.2
0 Select the most appropriate option that will fill in the blank number 3.

- Ans
- 1. viruses
 - 2. diseases
 - 3. maladies
 - 4. bugs

Question ID : 9895805189

Comprehension:

In the following passage some words have been deleted. Fill in the blanks with the help of the alternatives given.

Seafood exports from India (1) _____ yet to gather momentum as (2) _____ prices, adverse weather conditions and (3) _____ continue to affect stocking of shrimps, which account for about three-fourths of the (4) _____ from export of marine products. This apart, seafood exporters are facing (5) _____ from the Seafood Import Monitoring Programme (SIMP) being implemented by the US and it is one of the largest buyers of Indian shrimps.

SubQuestion No : 21

Q.2
1 Select the most appropriate option that will fill in the blank number 4.

- Ans
- 1. revenue
 - 2. cash
 - 3. income
 - 4. takings

Question ID : 9895805190
Chosen Option : --

Comprehension:

In the following passage some words have been deleted. Fill in the blanks with the help of the alternatives given.

Seafood exports from India (1) _____ yet to gather momentum as (2) _____ prices, adverse weather conditions and (3) _____ continue to affect stocking of shrimps, which account for about three-fourths of the (4) _____ from export of marine products. This apart, seafood exporters are facing (5) _____ from the Seafood Import Monitoring Programme (SIMP) being implemented by the US and it is one of the largest buyers of Indian shrimps.

SubQuestion No : 22

Q.2
2 Select the most appropriate option that will fill in the blank number 5.

- Ans
- 1. capture
 - 2. pleasure
 - 3. pressure
 - 4. rapture

Question ID : 9895805191
Chosen Option : --

Q.2

3 Select the synonym of the given word.

DISHEVELLED

- Ans
- 1. Untidy
 - 2. Unclean
 - 3. Unsafe
 - 4. Uncertain

Question ID : 9895805192
Chosen Option : --

Q.2
4 Select the word which means the same as the group of words given.

One who offers one's services without anything in return

- Ans
- 1. Investor
 - 2. Businessman
 - 3. Volunteer
 - 4. Entrepreneur

Question ID : 9895805198
Chosen Option : --

Q.2
5 Select the synonym of the given word.

INCORRIGIBLE

- Ans
- 1. Intelligible
 - 2. Unwise
 - 3. Reliable
 - 4. Unalterable

Question ID : 9895805193
Chosen Option : --

Section : Hindi Language

Q.1 दिए गए शब्द का विलोम चुनें।

उग्र

- Ans
- 1. लड़ाई
 - 2. शांत
 - 3. अग्रज
 - 4. अग्र

Question ID : 9895805500
Chosen Option : 3

Q.2 दिए गए वाक्य का वह भाग ज्ञात करें जिसमें कोई त्रुटि है।

फल और सब्जियाँ इतने महँगा हो गए कि भाव पूछने में डर लगता है।

Ans 1. हो गए कि

2. भाव पूछने में डर लगता है।

3. फल और सब्जियाँ

4. इतने महँगा

Question ID : 9895805484

Chosen Option : 4

Q.3 सही वर्तनी वाले शब्द का चयन करें।

Ans 1. चीड़ियाघर

2. चिड़ियाघर

3. चिड़ीयाघर

4. चिड़ियघर

Question ID : 9895805509

Chosen Option : 2

Q.4 दिए गए वाक्य में रेखांकित खंड को प्रतिस्थापित करने के लिए उपयुक्त विकल्प का चयन करें।

थोड़ी देर बाद हवा ने असर दिखाया और मन प्रसन्न हो गयी।

Ans 1. मन प्रसन्न हो गयीं।

2. मनो प्रसन्न हो गए।

3. मन प्रसन्न हो गया।

4. मन प्रसन्न हो गए।

Question ID : 9895805489

Chosen Option : 3

Q.5 रिक्त स्थान को भरने के लिए उपयुक्त शब्द का चयन करें।

दादा जी ने _____ को बुलाया और पौधे लगवाए।

Ans 1. दुकानदार

2. माली

3. कुम्भकार

4. दर्जी

Question ID : 9895805493

Chosen Option : 2

Q.6 दिए गए वाक्य का वह भाग ज्ञात करें जिसमें कोई त्रुटि है।

मनुष्य जब किसी के कष्ट को दूर करने का संकल्प करता है तब वह विशेष सुख पर अनुभव करता है।

- Ans
- 1. किसी के कष्ट को
 - 2. तब वह विशेष सुख पर अनुभव करता है।
 - 3. मनुष्य जब
 - 4. दूर करने का संकल्प करता है

Question ID : 9895805486

Chosen Option : 2

Q.7 दिये गये वाक्यांश के लिए एक शब्द चुनिए।

जहाँ जाया न जा सके

- Ans
- 1. सुगम्य
 - 2. सगम्य
 - 3. अगम्य
 - 4. कुगम्य

Question ID : 9895805506

Chosen Option : 1

Q.8 रिक्त स्थान को भरने के लिए उपयुक्त शब्द का चयन करें।

जो सदा रोता रहता है उसके चेहरे पर _____ होती है।

- Ans
- 1. दुखी
 - 2. खुशी
 - 3. हँसी
 - 4. उदासी

Question ID : 9895805492

Chosen Option : 4

Q.9 निम्नलिखित में से उस विकल्प का चयन करें जो 'तिल का ताड़ बनाना' मुहावरे का अर्थ व्यक्त करता है।

- Ans
- 1. तिल को ताड़ में बदलना
 - 2. पेड़ पर तिल का आना
 - 3. छोटी सी बात को बढ़ा-चढ़ाकर कहना

✗ 4. किसी बात को अधिक महत्व न देना

Question ID : 9895805504

Chosen Option : 3

Comprehension:

दिए गए अनुच्छेद में कुछ शब्द हटा दिए गए हैं। दिए गए विकल्पों की सहायता से रिक्त स्थान भरें। प्रत्येक संख्या के लिए उपयुक्त विकल्प का चयन करें।

सोने जैसी बहुमूल्य धातु को _____ (1) में पूरे संयम से तब तक तपाया जाता है जब तक उसकी खोट _____ (2) न हो जाए या वह जलकर भस्म न बन जाए। इसलिए हमें भी स्वर्ण की तरह _____ (3) होकर बाहर निकलने के लिए अपने _____ (4) में संयम की ज्वाला को हर समय प्रज्वलित रखनी चाहिए। जीवन की आकांक्षाओं के बहते हुए प्रवाह को रोक कर संयम का बाँध बना लेने पर जीवन _____ (5) कई गुना बढ़ जाती है।

SubQuestion No : 10

Q.1
0 गद्यांश में संकेतित रिक्त स्थान (1) के लिए उपयुक्त शब्द होगा -

- Ans
- ✓ 1. आग
 - ✗ 2. पानी
 - ✗ 3. हवा
 - ✗ 4. पृथ्वी

Question ID : 9895805495

Chosen Option : 1

Comprehension:

दिए गए अनुच्छेद में कुछ शब्द हटा दिए गए हैं। दिए गए विकल्पों की सहायता से रिक्त स्थान भरें। प्रत्येक संख्या के लिए उपयुक्त विकल्प का चयन करें।

सोने जैसी बहुमूल्य धातु को _____ (1) में पूरे संयम से तब तक तपाया जाता है जब तक उसकी खोट _____ (2) न हो जाए या वह जलकर भस्म न बन जाए। इसलिए हमें भी स्वर्ण की तरह _____ (3) होकर बाहर निकलने के लिए अपने _____ (4) में संयम की ज्वाला को हर समय प्रज्वलित रखनी चाहिए। जीवन की आकांक्षाओं के बहते हुए प्रवाह को रोक कर संयम का बाँध बना लेने पर जीवन _____ (5) कई गुना बढ़ जाती है।

SubQuestion No : 11

Q.1
1 गद्यांश में संकेतित रिक्त स्थान (2) के लिए उपयुक्त शब्द होगा -

- Ans
- 1. मिल
 - 2. वर्षा
 - 3. हठ
 - 4. अलग

Question ID : 9895805496
Chosen Option : 4

Comprehension:

दिए गए अनुच्छेद में कुछ शब्द हटा दिए गए हैं। दिए गए विकल्पों की सहायता से रिक्त स्थान भरें। प्रत्येक संख्या के लिए उपयुक्त विकल्प का चयन करें।

सोने जैसी बहुमूल्य धातु को _____ (1) में पूरे संयम से तब तक तपाया जाता है जब तक उसकी खोट _____ (2) न हो जाए या वह जलकर भस्म न बन जाए। इसलिए हमें भी स्वर्ण की तरह _____ (3) होकर बाहर निकलने के लिए अपने _____ (4) में संयम की ज्वाला को हर समय प्रज्वलित रखनी चाहिए। जीवन की आकांक्षाओं के बहते हुए प्रवाह को रोक कर संयम का बाँध बना लेने पर जीवन _____ (5) कई गुना बढ़ जाती है।

SubQuestion No : 12

Q.1
2 गद्यांश में संकेतित रिक्त स्थान (3) के लिए उपयुक्त शब्द होगा -

- Ans
- 1. शुद्ध
 - 2. ठंडा
 - 3. बुरा
 - 4. अशुद्ध

Question ID : 9895805497
Chosen Option : 1

Comprehension:

दिए गए अनुच्छेद में कुछ शब्द हटा दिए गए हैं। दिए गए विकल्पों की सहायता से रिक्त स्थान भरें। प्रत्येक संख्या के लिए उपयुक्त विकल्प का चयन करें।

सोने जैसी बहुमूल्य धातु को _____ (1) में पूरे संयम से तब तक तपाया जाता है जब तक उसकी खोट _____ (2) न हो जाए या वह जलकर भस्म न बन जाए। इसलिए हमें भी स्वर्ण की तरह _____ (3) होकर बाहर निकलने के लिए अपने _____ (4) में संयम की ज्वाला को हर समय प्रज्वलित रखनी चाहिए। जीवन की आकांक्षाओं के बहते हुए प्रवाह को रोक कर संयम का बाँध बना लेने पर जीवन _____ (5) कई गुना बढ़ जाती है।

SubQuestion No : 13

Q.1
3 गद्यांश में संकेतित रिक्त स्थान (4) के लिए उपयुक्त शब्द होगा -

- Ans
- 1. हाथ
 - 2. सिर
 - 3. हृदय
 - 4. पैर

Question ID : 9895805498
Chosen Option : 3

Comprehension:

दिए गए अनुच्छेद में कुछ शब्द हटा दिए गए हैं। दिए गए विकल्पों की सहायता से रिक्त स्थान भरें। प्रत्येक संख्या के लिए उपयुक्त विकल्प का चयन करें।

सोने जैसी बहुमूल्य धातु को _____ (1) में पूरे संयम से तब तक तपाया जाता है जब तक उसकी खोट _____ (2) न हो जाए या वह जलकर भस्म न बन जाए। इसलिए हमें भी स्वर्ण की तरह _____ (3) होकर बाहर निकलने के लिए अपने _____ (4) में संयम की ज्वाला को हर समय प्रज्वलित रखनी चाहिए। जीवन की आकांक्षाओं के बहते हुए प्रवाह को रोक कर संयम का बाँध बना लेने पर जीवन _____ (5) कई गुना बढ़ जाती है।

SubQuestion No : 14

Q.1
4 गद्यांश में संकेतित रिक्त स्थान (5) के लिए उपयुक्त शब्द होगा -

- Ans
- 1. भोग
 - 2. मृत्यु
 - 3. शक्ति
 - 4. रोग

Question ID : 9895805499
Chosen Option : 3

Q.1
5 दिए गए शब्द के पर्यायवाची शब्द का चयन करें।

ध्वज

- Ans
- 1. डंडा
 - 2. कपड़ा
 - 3. पताका
 - 4. बयार

Question ID : 9895805503
Chosen Option : 4

Q.1
6 दिए गए शब्द का विलोम चुनें।

संन्यास

- Ans
- 1. अतिथि

- 2. बाहर
- 3. गृहस्थ
- 4. सेवक

Question ID : 9895805501
Chosen Option : 3

Q.1
7 सही वर्तनी वाले शब्द का चयन करें।

- Ans
- 1. सज्जता
 - 2. सजजनता
 - 3. सज्जनता
 - 4. सज्जन्ता

Question ID : 9895805508
Chosen Option : 4

Q.1
8 दिए गए वाक्य में रेखांकित खंड को प्रतिस्थापित करने के लिए उपयुक्त विकल्प का चयन करें।

अपने देश को बना कपड़ा पहनना सभी भारतीयों की प्राथमिकता होनी चाहिए।

- Ans
- 1. अपने देश पर बना कपड़ा
 - 2. अपने देश में बना कपड़ा
 - 3. अपना देश में बना कपड़ा
 - 4. अपने देश पर बना कपड़ों

Question ID : 9895805487
Chosen Option : 2

Q.1
9 निम्नलिखित में से उस विकल्प का चयन करें जो 'तीसमार खाँ बनना' मुहावरे का अर्थ व्यक्त करता है।

- Ans
- 1. अपने को बुद्धिमान समझना
 - 2. अपने को अभिनेता समझना
 - 3. अपने को शूरवीर समझना
 - 4. तीस लोगों को मारना

Question ID : 9895805505
Chosen Option : 1

Q.2
0 रिक्त स्थान को भरने के लिए उपयुक्त शब्द का चयन करें।

मुझे समुद्र के _____ बैठना अच्छा लगता है।

- Ans
- 1. ऊपर
 - 2. अंदर

✓ 3. किनारे

✗ 4. नीचे

Question ID : 9895805490
Chosen Option : 3

Q.2
1 दिये गये वाक्यांश के लिए एक शब्द चुनिए।

जिसका वर्णन न हो सके

Ans ✗ 1. माणिक्य

✗ 2. हिरण्य

✗ 3. शोभनीय

✓ 4. अवर्णनीय

Question ID : 9895805507
Chosen Option : 4

Q.2
2 रिक्त स्थान को भरने के लिए उपयुक्त शब्द का चयन करें।

गुंडों के हाथों में लाठियाँ देखकर उसके _____ फूल गये।

Ans ✗ 1. गाल

✗ 2. फेफड़े

✗ 3. मुँह

✓ 4. हाथ-पैर

Question ID : 9895805491
Chosen Option : 2

Q.2
3 दिए गए शब्द के पर्यायवाची शब्द का चयन करें।

अपमान

Ans ✗ 1. उपकार

✓ 2. तिरस्कार

✗ 3. कुम्भकार

✗ 4. अदाकार

Question ID : 9895805502
Chosen Option : 2

Q.2
4 दिए गए वाक्य का वह भाग ज्ञात करें जिसमें कोई त्रुटि है।

विज्ञापन प्रभावकारी होते हैं इसलिए उनका समाजिक दायित्व बड़ा होती है।

Ans

- ✓ 1. बड़ा होती है।
- ✗ 2. विज्ञापन प्रभावकारी होते हैं
- ✗ 3. समाजिक दायित्व
- ✗ 4. इसलिए उनका

Question ID : 9895805485
Chosen Option : 1

Q.2 दिए गए वाक्य में रेखांकित खंड को प्रतिस्थापित करने के लिए उपयुक्त विकल्प का चयन करें।

व्यक्ति कुसंगति में पड़कर अपने अच्छाइयाँ खो देता है।

Ans

- ✗ 1. अपुन अच्छाइयाँ खो देता है।
- ✗ 2. अपना अच्छाइयाँ खो देता है।
- ✗ 3. अपनों अच्छाइयाँ खो देता है।
- ✓ 4. अपनी अच्छाइयाँ खो देता है।

Question ID : 9895805488
Chosen Option : 4