

Constable GD in CAPFs and SSF Rifleman GD in AR and Sepoy in NCB Examination 2025

Exam Date	07/02/2025
Exam Time	3:00 PM - 4:00 PM
Subject	Constable GD Examination 2025

Section : Part-A-General Intelligence and Reasoning

Q.1

In a certain code language, ‘cup of coffee’ is coded as ‘lh em ro’ and ‘he loves coffee’ is coded as ‘em tf za’. How is ‘coffee’ coded in the given language?

Ans

✖

1. lm

✖

2. ro

✔

3. em

✖

4. za

Q.2

What should come in place of the question mark (?) in the given series based on the English alphabetical order?

LMD MKG NIJ OGM ? QCS

Ans

✖

1. QEP

✖

2. PGP

✔

3. PEP

✖

4. PFR

Q.3

Select the combination of letters that when sequentially placed in the blanks of the given series, will logically complete the series.

\_HMGD\_NHEJ\_IFKP\_GLQ\_

Ans

✔

1. CIOJK

✖

2. CGOLK

✖

3. DIPJM

✖

4. DGPLM

FREE!

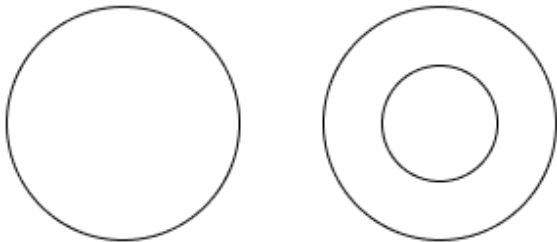
Download SSC CGL, CHSL E-BOOKS

CLICK HERE

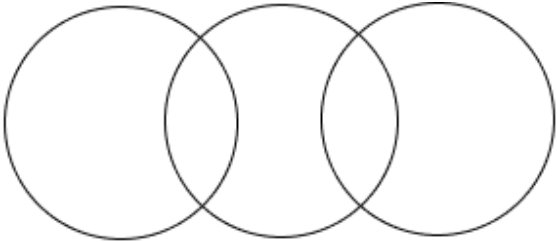
Q.4 Select the Venn diagram that best illustrates the relationship between the following classes.  
Fruit, Light, Shirt

Ans

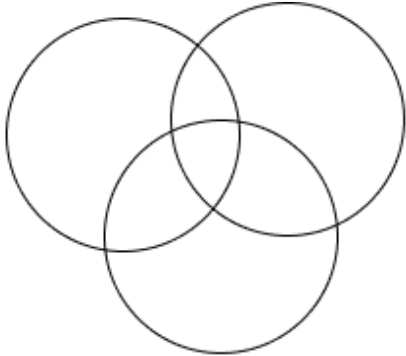
✗ 1.



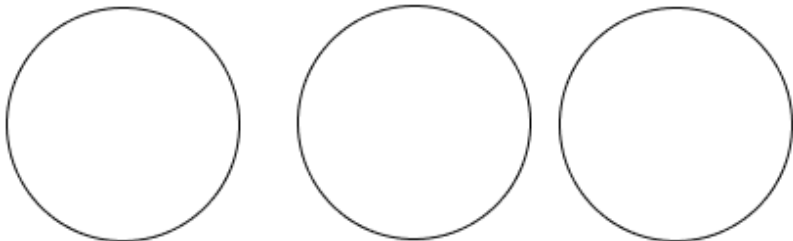
✗ 2.



✗ 3.



✓ 4.

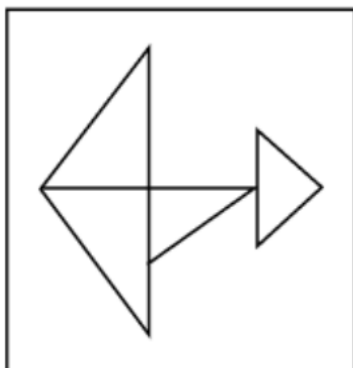




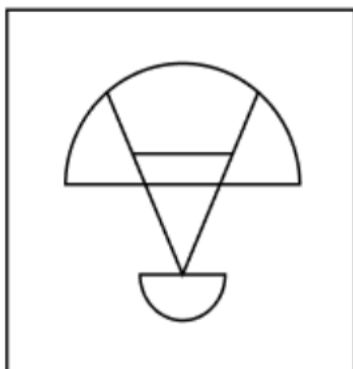
(X)

Ans

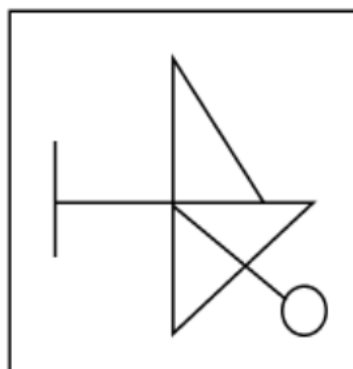
✗ 1.



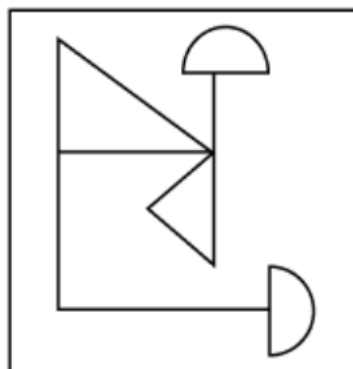
✗ 2.



✗ 3.



✓ 4.



**Q.6** Six friends, R, S, T, X, Y and Z, are sitting in a straight row facing north (but not necessarily in the same order) . Only two people sit to the left of Y. Only two people sit between Y and Z. Only one person sits between Z and X. R sits to the immediate left of S. How many people sit between Y and S?

- Ans**
- ☒ 1. Two
  - ☒ 2. Three
  - ☒ 3. Zero
  - ☒ 4. One

**Q.7** In a certain code language, 'FWYO' is coded as '39' and 'SIXR' is coded as '38'. How is 'LARZ' coded in the given language?

- Ans**
- ☒ 1. 51
  - ☒ 2. 44
  - ☒ 3. 53
  - ☒ 4. 47

**Q.8** Based on the English alphabetical order, three of the following four letter-clusters are alike in a certain way and thus form a group. Which letter-cluster DOES NOT belong to that group?  
(Note: The odd one out is not based on the number of consonants/vowels or their position in the letter-cluster.)

- Ans**
- ☒ 1. KLQ
  - ☒ 2. ORV
  - ☒ 3. TUZ
  - ☒ 4. OPU

**Q.9** The position(s) of how many letters will remain unchanged if each of the letters in the word QUARTOS is arranged in the English alphabetical order?

- Ans**
- ☒ 1. One
  - ☒ 2. Zero
  - ☒ 3. Three
  - ☒ 4. Two

**Q.10** Eight people are sitting in two parallel rows containing 4 people each in such a way that there is equal distance between adjacent persons.  
In row 1, D, A, N and S are seated and all of them are facing south.  
In row 2, M, O, R and K are seated and all of them are facing north.  
Thus, each person faces another person from the other row.  
No one sits to the right of K. Only two people sit between R and K. The one facing O sits second to the right of the one facing K. A sits to the immediate right of S. N sits to the immediate right of A and does not face O. Which of the following represents both people facing each other?

- Ans**
- ☒ 1. A and O
  - ☒ 2. N and O
  - ☒ 3. R and S
  - ☒ 4. D and M

Q.11 Identify the figure given in the options which when put in place of the question mark (?) will logically complete the series.

T	$\frac{\perp}{\wedge}$	$\frac{T}{\frac{V}{T}}$	$\frac{\frac{\perp}{\wedge}}{\frac{\perp}{\wedge}}$	?
---	------------------------	-------------------------	-----------------------------------------------------	---

Ans

- ✓ 1.

T

V

T

V

T
- ✗ 2.

T

∧

T

∧

T
- ✗ 3.

⊥

V

⊥

V

⊥
- ✗ 4.

⊥

∧

⊥

∧

⊥

Q.12 P is the brother of R. R is the father of Q. S is the wife of Q. T is the daughter of S. How is P related to T?

- Ans
- ✓ 1. Father's father's brother

✗ 2. Father's brother

✗ 3. Father's father

✗ 4. Father

Q.13 FROM is related to CPLK in a certain way based on the English alphabetical order. In the same way, TJCE is related to QHZC. To which of the given options is KDTY related, following the same logic?

- Ans
- ✓ 1. HBQW

✗ 2. HBWQ

✗ 3. HQWB

✗ 4. HQWE

Q.14 What should come in place of the question mark (?) in the given series?  
2, 3, 6, 11, 18, ?

- Ans
- ✗ 1. 26

✗ 2. 28

✗ 3. 25

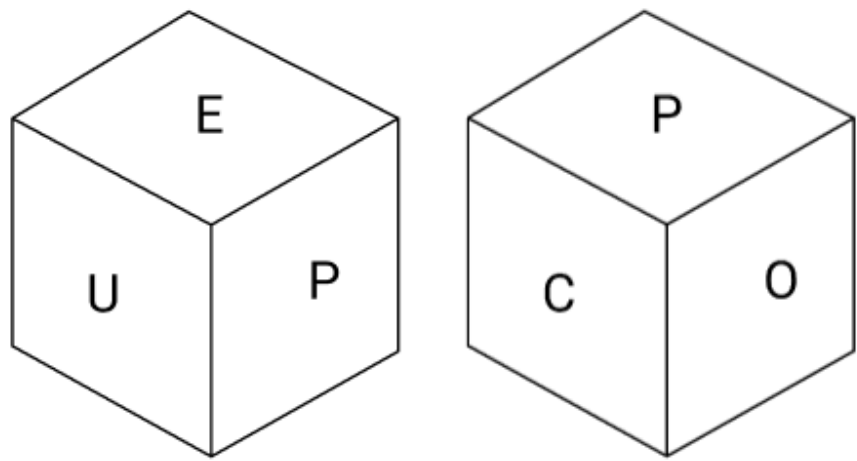
✓ 4. 27

Q.15 What should come in place of the question mark (?) in the given series?

451 450 447 442 ? 426

- Ans
- ✓ 1. 435
  - ✗ 2. 431
  - ✗ 3. 437
  - ✗ 4. 433

Q.16 A dice has its faces marked by letters P, U, C, O, E and M. Two positions of the same dice are shown in the given figures. Which face is opposite to face M?



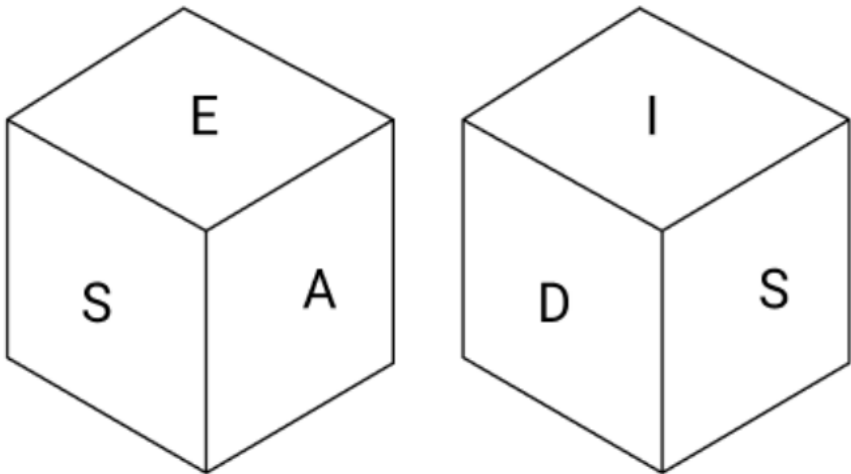
- Ans
- ✗ 1. C
  - ✗ 2. O
  - ✗ 3. E
  - ✓ 4. P

Q.17 What will come in the place of the question mark '?' in the following equation, if '÷' and '×' are interchanged and '+' and '-' are interchanged?

$40 - 8 \div 1 + 72 \times 8 = ?$

- Ans
- ✗ 1. 40
  - ✗ 2. 38
  - ✗ 3. 41
  - ✓ 4. 39

Q.18 A dice has its faces marked by letters Y, S, I, A, D and E. Two positions of the same dice are shown in the given figures. Which face is opposite to face Y?



- Ans ☒ 1. S  
☐ 2. A  
☐ 3. I  
☐ 4. E

Q.19 GRSN is related to JUVQ in a certain way based on the English alphabetical order. In the same way, KDEA is related to NGHD. To which of the following is BSTG related, following the same logic?

- Ans ☒ 1. EVWJ  
☐ 2. CTWJ  
☐ 3. CTUH  
☐ 4. EVUH

Q.20 Read the given statements and conclusions carefully. Assuming that the information given in the statements is true, even if it appears to be at variance with commonly known facts, decide which of the given conclusions logically follow(s) from the statements.

Statements:  
All inks are pens.  
All pens are rubbers.  
No rubber is a sharpener.

Conclusions:  
(I) No ink is a sharpener.  
(II) Some rubbers are inks.

- Ans ☒ 1. Both conclusions (I) and (II) follow  
☐ 2. Neither conclusion (I) nor (II) follows  
☐ 3. Only conclusion (II) follows  
☐ 4. Only conclusion (I) follows

Section : Part-B-General Knowledge and General awareness

Q.1 पाँचवीं पंचवर्षीय योजना (1974-79) के मुख्य उद्देश्य क्या थे?

- Ans ☐ 1. औद्योगीकरण और अवसंरचना  
☐ 2. रक्षा और सैन्य विस्तार  
☐ 3. कृषि विकास और शिक्षा  
☒ 4. गरीबी हटाना और आत्मनिर्भरता प्राप्त करना

Q.2	Who produced methane in 1856 by bringing carbon disulphide vapour in contact with red hot copper and hydrogen sulphide?
Ans	<div><div><div>✖</div><div>1. Antoine Lavoisier</div></div><div><div>✔</div><div>2. Marcelin Berthelot</div></div><div><div>✖</div><div>3. Hennig Brand</div></div><div><div>✖</div><div>4. John Dalton</div></div></div>
Q.3	In which Olympics did Rajyavardhan Singh Rathore win a silver medal in shooting?
Ans	<div><div><div>✖</div><div>1. 2008, Beijing</div></div><div><div>✖</div><div>2. 2000, Sydney</div></div><div><div>✖</div><div>3. 1996, Atlanta</div></div><div><div>✔</div><div>4. 2004, Athens</div></div></div>
Q.4	There are primarily three pieces of equipment, a bowl, a jack and a mat, which are needed to play ____.
Ans	<div><div><div>✔</div><div>1. Lawn Bowls</div></div><div><div>✖</div><div>2. Fencing</div></div><div><div>✖</div><div>3. Table Tennis</div></div><div><div>✖</div><div>4. Boxing</div></div></div>
Q.5	From which region of the Himalayas does the river Brahmaputra originate?
Ans	<div><div><div>✖</div><div>1. Southern</div></div><div><div>✖</div><div>2. Western</div></div><div><div>✔</div><div>3. Northern</div></div><div><div>✖</div><div>4. Eastern</div></div></div>
Q.6	Name the Indian sitar player who became a hippie music icon of the 1960s after collaborating with the Beatles.
Ans	<div><div><div>✖</div><div>1. Pt. Shiv Kumar Sharma</div></div><div><div>✖</div><div>2. Pt. Ram Narayan</div></div><div><div>✖</div><div>3. Pt. Vishwa Mohan Bhat</div></div><div><div>✔</div><div>4. Pt. Ravi Shankar</div></div></div>
Q.7	Who retired as India’s Ambassador to the United States in January 2024?
Ans	<div><div><div>✖</div><div>1. Asaf Ali</div></div><div><div>✖</div><div>2. Benegal Rama Rau</div></div><div><div>✖</div><div>3. Vijaya Lakshmi Pandit</div></div><div><div>✔</div><div>4. Taranjit Singh Sandhu</div></div></div>
Q.8	How much was the literacy rate of India as per census 1951?
Ans	<div><div><div>✔</div><div>1. 18.33%</div></div><div><div>✖</div><div>2. 30%</div></div><div><div>✖</div><div>3. 15.44%</div></div><div><div>✖</div><div>4. 45.8%</div></div></div>
Q.9	Which British official was responsible for the partition of Bengal in 1905?
Ans	<div><div><div>✖</div><div>1. Lord Minto</div></div><div><div>✖</div><div>2. Lord Lytton</div></div><div><div>✔</div><div>3. Lord Curzon</div></div><div><div>✖</div><div>4. Lord Ripon</div></div></div>



Q.10	With which Indian dance form was Guru Chemancheri Kunhiraman Nair associated?
Ans	<div><div><div>✖</div><div>1. Kuchipudi</div></div><div><div>✖</div><div>2. Satriya</div></div><div><div>✖</div><div>3. Kathak</div></div><div><div>✔</div><div>4. Kathakali</div></div></div>
Q.11	उत्तरीसवीं सदी की प्रसिद्ध 'तंजौर चतुष्क (Tanjore Quartet)' ने किस नृत्य शैली को पहचान दी?
Ans	<div><div><div>✖</div><div>1. कथक</div></div><div><div>✖</div><div>2. कथकली</div></div><div><div>✔</div><div>3. भरतनाट्यम</div></div><div><div>✖</div><div>4. मोहिनीअट्टम</div></div></div>
Q.12	भारतीय संविधान का कौन-सा अनुच्छेद न्यायोचित एवं मानवीय कार्य स्थितियों तथा मातृत्व राहत के प्रावधान पर बल देता है?
Ans	<div><div><div>✔</div><div>1. अनुच्छेद 42</div></div><div><div>✖</div><div>2. अनुच्छेद 47</div></div><div><div>✖</div><div>3. अनुच्छेद 44</div></div><div><div>✖</div><div>4. अनुच्छेद 39</div></div></div>
Q.13	भारत के योजना आयोग के प्रथम उपाध्यक्ष कौन थे?
Ans	<div><div><div>✖</div><div>1. एनआर पिल्लई</div></div><div><div>✖</div><div>2. चिंतामन देशमुख</div></div><div><div>✖</div><div>3. आरके पाटिल</div></div><div><div>✔</div><div>4. गुलजारीलाल नंदा</div></div></div>
Q.14	भारतीय संविधान के अनुसार, निम्नलिखित में से कौन-सी, राज्यपाल की शक्ति नहीं है?
Ans	<div><div><div>✖</div><div>1. राज्य विधानमंडल को भंग करना</div></div><div><div>✖</div><div>2. राज्य विधानमंडल को स्थगित करना</div></div><div><div>✔</div><div>3. अविश्वास प्रस्ताव के दौरान मतदान</div></div><div><div>✖</div><div>4. राज्य विधानमंडल को बुलाना</div></div></div>
Q.15	निम्नलिखित में से कौन-सा स्थल भारत में मध्य लौह युग के दौरान आरंभिक शहरी नियोजन (early urban planning) का साक्ष्य प्रदान करता है?
Ans	<div><div><div>✔</div><div>1. कौशाम्बी</div></div><div><div>✖</div><div>2. मोहनजोदाड़ो</div></div><div><div>✖</div><div>3. हड़प्पा</div></div><div><div>✖</div><div>4. लोथल</div></div></div>
Q.16	नमूना पंजीकरण प्रणाली (SRS) 2020 के अनुसार, निम्नलिखित में से किस राज्य में शिशु मृत्यु दर सबसे अधिक थी?
Ans	<div><div><div>✖</div><div>1. छत्तीसगढ़</div></div><div><div>✖</div><div>2. उत्तर प्रदेश</div></div><div><div>✖</div><div>3. बिहार</div></div><div><div>✔</div><div>4. मध्य प्रदेश</div></div></div>
Q.17	The Second Five Year plan was based upon the ideas of which of the following statisticians?
Ans	<div><div><div>✖</div><div>1. Jayanta Kumar Ghosh</div></div><div><div>✔</div><div>2. Prasanta Chandra Mahalanobis</div></div><div><div>✖</div><div>3. Debabrata Basu</div></div><div><div>✖</div><div>4. Samarendra Nath Roy</div></div></div>

Q.18 Which of the following is the least likely to cause obesity in humans?

- Ans
1. Sedentary lifestyle

2. Over consumption of fat

3. Genetic traits

4. Over consumption of green vegetables

Q.19 नवंबर 2024 में किस प्राधिकरण ने कोचिंग क्षेत्र (coaching sector) में पारदर्शिता बढ़ाने के लिए नए दिशानिर्देश जारी किए?

- Ans
1. केंद्रीय उपभोक्ता संरक्षण प्राधिकरण (The Central Consumer Protection Authority)

2. केंद्रीय सतर्कता प्राधिकरण (The Central Vigilance Authority)

3. केंद्रीय ग्राहक संरक्षण प्राधिकरण (The Central Costumer Protection Authority)

4. केंद्रीय विद्यार्थी संरक्षण प्राधिकरण (The Central Student Protection Authority)

Q.20 Which of the following was the theme of Independence Day 2023?

- Ans
1. Nation First, Always First

2. One Country, One People

3. Support our Troops, Salute our Troops

4. Towards True Freedom

Section : Part-C-Elementary Mathematics

Q.1 If the selling price is ₹2,886 after allowing a discount of 26% on the marked price, then the amount of discount is:

- Ans
1. ₹1,625

2. ₹2,190

3. ₹1,014

4. ₹2,000

Q.2 The average weight of Ashish, Kiran and Mahesh is 46 kg. If the average weight of Ashish and Kiran be 40 kg and that of Kiran and Mahesh be 43 kg, then the weight of Kiran (in kg) is:

- Ans
1. 38

2. 28

3. 48

4. 43

Q.3 The average age of 96 workers in a factory is 32 years. The average age of the men is 41 years and that of the women is 25 years. Find the number of women in the factory.

- Ans
1. 54

2. 57

3. 67

4. 62

Q.4 The mean proportional of x and y is z. What is the mean proportional of  $x^2z$  and  $y^2z$  ?

- Ans
1.  $yz^2$

2.  $xz^2$

3.  $z^3$

4.  $z$

Q.5	Find the value of $\left[ (21 \div 7) \times \left\{ \frac{63}{9} + \frac{14}{2} \times (4 - 2) \right\} \right]$
Ans	<div><div><div>✗ 1. 48</div><div>✓ 2. 63</div><div>✗ 3. 65</div><div>✗ 4. 73</div></div></div>
Q.6	Find the mean proportional of 9 and 49.
Ans	<div><div><div>✗ 1. 49</div><div>✗ 2. 9</div><div>✗ 3. 29</div><div>✓ 4. 21</div></div></div>
Q.7	The price (per litre) of petrol increases by 60%. By what percent should its consumption be reduced such that the expenditure on it increases by 44% only?
Ans	<div><div><div>✗ 1. 90%</div><div>✗ 2. 16%</div><div>✓ 3. 10%</div><div>✗ 4. 96%</div></div></div>
Q.8	Two trains travelling in opposite directions cross each other in 25 seconds. If the length of both the trains is 250 m each and the speed of one of them is 45 km/hr, what would be the speed of the other train?
Ans	<div><div><div>✗ 1. 24 km/hr</div><div>✗ 2. 15 km/hr</div><div>✓ 3. 27 km/hr</div><div>✗ 4. 17 km/hr</div></div></div>
Q.9	₹1200 प्रति सैकड़ा की दर से 400 नाशपाती खरीदी गई और ₹1000 के लाभ पर बेची गई। प्रति दर्जन नाशपाती का विक्रय मूल्य (₹ में) ज्ञात कीजिए।
Ans	<div><div><div>✓ 1. 174</div><div>✗ 2. 184</div><div>✗ 3. 164</div><div>✗ 4. 189</div></div></div>
Q.10	If at same rate of interest, in 2 years, the simple interest is ₹40 and compound interest is ₹44, then what is the principal (in ₹)?
Ans	<div><div><div>✓ 1. 100</div><div>✗ 2. 95</div><div>✗ 3. 104</div><div>✗ 4. 93</div></div></div>
Q.11	Two containers contains 765 litres and 833 litres of liquid, respectively. The maximum capacity of container that can measure the liquid of both containers is:
Ans	<div><div><div>✗ 1. 21 litres</div><div>✗ 2. 19 litres</div><div>✗ 3. 15 litres</div><div>✓ 4. 17 litres</div></div></div>

**Q.12** What time (in seconds) is required for a 496 m long train to cross a 664 m long tunnel, if the train travels at a speed of 18 km/h?

- Ans** ☒ 1. 232
- ☐ 2. 230
- ☐ 3. 236
- ☐ 4. 224

**Q.13** The number of days to finish a work by A is double the number of days to finish the work by B. The number of days to finish the work by C is half the number of days to finish the work by B. A can finish the work in 12 days. If B works on the 1<sup>st</sup> day, A works on the 2<sup>nd</sup> day and C works on the 3<sup>rd</sup> day, again B works on the 4<sup>th</sup> day and so on, then the work is finished in \_\_\_\_ days.

- Ans** ☒ 1. 5.5
- ☐ 2. 5.75
- ☐ 3. 5
- ☐ 4. 5.25

**Q.14** Ketan has two grandsons Mahesh and David. 15 year old Mahesh gets some money from Ketan's wealth and 16 year old David gets rest of the money. But Mahesh and David will get money only when they turn 22 years old. Till then the money is in a bank getting interest at rate 10% compounded annually. When both turn 22, they receive the same amount. How much had Ketan given David (in ₹) initially, if total money with Ketan was ₹25200?

- Ans** ☐ 1. 12000
- ☐ 2. 13550
- ☐ 3. 11750
- ☒ 4. 13200

**Q.15** The LCM of 36, 63, 372 and 126 is:

- Ans** ☐ 1. 7813
- ☐ 2. 7860
- ☐ 3. 7897
- ☒ 4. 7812

**Q.16** Evaluate: (-9) - (-60) ÷ (-15) + (-2) × 6

- Ans** ☒ 1. -25
- ☐ 2. -28
- ☐ 3. -24
- ☐ 4. -27

**Q.17** By selling an article for ₹20,240, a shopkeeper loses 8%. For what price (in ₹) should he sell it to make a profit of 12%?

- Ans** ☐ 1. 24,460
- ☐ 2. 26,440
- ☒ 3. 24,640
- ☐ 4. 26,044

**Q.18** Find the curved surface area of a cylinder with radius of base 7 cm and height 9.5 cm. (Use  $\pi = \frac{22}{7}$ )

- Ans** ☐ 1. 420 cm<sup>2</sup>
- ☐ 2. 430 cm<sup>2</sup>
- ☐ 3. 428 cm<sup>2</sup>
- ☒ 4. 418 cm<sup>2</sup>

**Q.19** If the numerator of a fraction is increased by 10% and its denominator is diminished by 10%, then the fraction becomes  $\frac{11}{45}$ . Find the original fraction.

- Ans**
- ☐ 1.  $\frac{2}{3}$
  - ☒ 2.  $\frac{1}{5}$
  - ☐ 3.  $\frac{4}{5}$
  - ☐ 4.  $\frac{2}{5}$

**Q.20** The simple interest on a principal amount (in ₹) is ₹360 for a period of 4 years at the rate of 2% per annum. The principal amount (in ₹) is:

- Ans**
- ☐ 1. 4490
  - ☐ 2. 4501
  - ☐ 3. 4508
  - ☒ 4. 4500

Section : **Part-D-English**

**Q.1** Select the most appropriate option to fill in the blank.

The price of wheat \_\_\_\_\_ has gone up in recent times.

- Ans**
- ☒ 1. flour
  - ☐ 2. flower
  - ☐ 3. follower
  - ☐ 4. floor

**Q.2** Select the most appropriate option to fill in the blanks.

The modern office (1)\_\_\_\_\_featured sleek (2)\_\_\_\_, open spaces, and (3)\_\_\_\_\_ windows, fostering a productive and collaborative work environment for employees.

- Ans**
- ☐ 1. (1) building ; (2) large ; (3) designs
  - ☒ 2. (1) building ; (2) designs ; (3) large
  - ☐ 3. (1) large ; (2) designs ; (3) building
  - ☐ 4. (1) designs ; (2) large ; (3) building

**Q.3** Select the word that best completes the given sentence. Determine the collocation through the sentence.

My mother told me we should \_\_\_\_\_ precautions to avoid getting sick during flu season.

- Ans**
- ☒ 1. take
  - ☐ 2. show
  - ☐ 3. see
  - ☐ 4. hold

**Q.4** Select the word from among the given options that is closest in meaning to the underlined word in the given sentence.

The company’s generous donation helped fund the construction of a new library in the village.

- Ans**
- ☐ 1. Senseless
  - ☐ 2. Sensible
  - ☐ 3. Meagre
  - ☒ 4. Lavish

Q.5 Identify the INCORRECTLY spelt word in the given sentence.

The chef prepared a delicious meal for the guests.

- Ans
1. guests

2. meal

3. prepared

4. delicious

Q.6 The following sentence has been divided into parts. One of them may contain an error. Select the part that contains the error from the given options. If you don't find any error, mark 'No error' as your answer.

She knows the city most/ so I am going/ to have a look around with her.

- Ans
1. She knows the city most

2. to have a look around with her.

3. so I am going

4. No error.

Q.7 Select the INCORRECTLY spelt word.

- Ans
1. Discreetly

2. Delightfully

3. Dreamingly

4. Destructively

Q.8 Select the most appropriate word segment that rectifies the bracketed and complete the given sentence meaningfully.

(No sooner did we arrived) at the airport than we got busy with the luggage we were carrying.

- Ans
1. No sooner arrived we

2. No sooner had we arrived

3. No sooner did we arrive

4. No sooner we arrived

Q.9 Select the most appropriate option that can substitute the underlined segment in the given sentence.

The company experienced a significant drop in sales; consequently, it had to lay off several employees.

- Ans
1. naturally

2. accordingly

3. genuinely

4. superficially

Q.10 The following sentence has been divided into parts. One of them contains a grammatical error. Select the part that contains the error from the given options.

I cannot find/the book everywhere/in the house;/ it seems to have disappeared.

- Ans
1. in the house;

2. it seems to have disappeared.

3. I cannot find

4. the book everywhere



Q.11 Select the most appropriate word that can substitute the underlined word in the given sentence without altering the sentence's meaning.  
The professor's lecture on quantum mechanics was as enlightening as it was challenging.

- Ans
- ☐ 1. confusing
  - ☒ 2. illuminating
  - ☐ 3. perplex
  - ☐ 4. dull

Q.12 Select the most appropriate ANTONYM of the given word.

Insightful

- Ans
- ☐ 1. Terminal
  - ☐ 2. Jagged
  - ☒ 3. Unperceptive
  - ☐ 4. Elite

Q.13 Select the most appropriate meaning of the given idiom.  
Let the cat out of the bag

- Ans
- ☐ 1. To keep a secret
  - ☐ 2. To punish a cat
  - ☒ 3. To reveal a secret
  - ☐ 4. To release a pet cat

Q.14 Select the most appropriate synonym for the given word.

Metamorphosis

- Ans
- ☐ 1. Consistency
  - ☐ 2. Stagnation
  - ☐ 3. Stability
  - ☒ 4. Change

Q.15 Select the most appropriate option to fill in the blank.

If I \_\_\_\_\_ you, I would take that job offer.

- Ans
- ☒ 1. were
  - ☐ 2. had been
  - ☐ 3. am
  - ☐ 4. was

Comprehension:

In the following passage, some words have been deleted. Read the passage carefully and select the most appropriate option to fill in each blank.

Erosion of America's farmland by wind and water (1)\_\_\_\_\_ a problem since settlers first put the prairies and grasslands (2)\_\_\_\_\_ the plow in the 19<sup>th</sup> century. By the 1930s, more than 282 million acres of farmland were (3)\_\_\_\_\_ by erosion. After 40 years of conservation efforts, soil erosion has (4)\_\_\_\_\_ due to new demands placed (5)\_\_\_\_\_ the land by heavy crop production.

SubQuestion No : 16

Q.16 Select the most appropriate option to fill in blank no. 1.

- Ans
- ☐ 1. have been
  - ☐ 2. had been
  - ☐ 3. was been
  - ☒ 4. has been

**Comprehension:**

In the following passage, some words have been deleted. Read the passage carefully and select the most appropriate option to fill in each blank.

Erosion of America's farmland by wind and water (1)\_\_\_\_\_ a problem since settlers first put the prairies and grasslands (2)\_\_\_\_\_ the plow in the 19<sup>th</sup> century. By the 1930s, more than 282 million acres of farmland were (3)\_\_\_\_\_ by erosion. After 40 years of conservation efforts, soil erosion has (4)\_\_\_\_\_ due to new demands placed (5)\_\_\_\_\_ the land by heavy crop production.

**SubQuestion No : 17**

**Q.17** Select the most appropriate option to fill in blank no. 2.

- Ans**
- ☒ 1. besides
  - ☒ 2. on top
  - ☒ 3. above
  - ☒ 4. under

**Comprehension:**

In the following passage, some words have been deleted. Read the passage carefully and select the most appropriate option to fill in each blank.

Erosion of America's farmland by wind and water (1)\_\_\_\_\_ a problem since settlers first put the prairies and grasslands (2)\_\_\_\_\_ the plow in the 19<sup>th</sup> century. By the 1930s, more than 282 million acres of farmland were (3)\_\_\_\_\_ by erosion. After 40 years of conservation efforts, soil erosion has (4)\_\_\_\_\_ due to new demands placed (5)\_\_\_\_\_ the land by heavy crop production.

**SubQuestion No : 18**

**Q.18** Select the most appropriate option to fill in blank no. 3.

- Ans**
- ☒ 1. improved
  - ☒ 2. damaged
  - ☒ 3. developed
  - ☒ 4. purified

**Comprehension:**

In the following passage, some words have been deleted. Read the passage carefully and select the most appropriate option to fill in each blank.

Erosion of America's farmland by wind and water (1)\_\_\_\_\_ a problem since settlers first put the prairies and grasslands (2)\_\_\_\_\_ the plow in the 19<sup>th</sup> century. By the 1930s, more than 282 million acres of farmland were (3)\_\_\_\_\_ by erosion. After 40 years of conservation efforts, soil erosion has (4)\_\_\_\_\_ due to new demands placed (5)\_\_\_\_\_ the land by heavy crop production.

**SubQuestion No : 19**

**Q.19** Select the most appropriate option to fill in blank no. 4.

- Ans**
- ☒ 1. delayed
  - ☒ 2. discouraged
  - ☒ 3. accelerated
  - ☒ 4. hindered

**Comprehension:**

In the following passage, some words have been deleted. Read the passage carefully and select the most appropriate option to fill in each blank.

Erosion of America's farmland by wind and water (1)\_\_\_\_\_ a problem since settlers first put the prairies and grasslands (2)\_\_\_\_\_ the plow in the 19<sup>th</sup> century. By the 1930s, more than 282 million acres of farmland were (3)\_\_\_\_\_ by erosion. After 40 years of conservation efforts, soil erosion has (4)\_\_\_\_\_ due to new demands placed (5)\_\_\_\_\_ the land by heavy crop production.

**SubQuestion No : 20**

**Q.20** Select the most appropriate option to fill in blank no. 5.

- Ans**
- ☒ 1. on
  - ☒ 2. by
  - ☒ 3. of
  - ☒ 4. in



Q.1 निम्नलिखित वाक्य के किस खंड में अशुद्धि है?

कोयला जलकर राख हो गई।

- Ans
- ✓ 1. गई
  - ✗ 2. राख
  - ✗ 3. जलकर
  - ✗ 4. कोयला

Q.2 गंगा को देवनदी कहते हैं और \_\_\_\_\_ भी।  
'गंगा' के पर्याय से वाक्य पूर्ण करें--

- Ans
- ✓ 1. मंदाकिनी
  - ✗ 2. हृद
  - ✗ 3. सूर्यतनया
  - ✗ 4. नदीश

Q.3 'कोमल' का विलोम शब्द नीचे दिए विकल्पों में से चुनिए-

- Ans
- ✓ 1. परुष
  - ✗ 2. सुकोमल
  - ✗ 3. पुरुष
  - ✗ 4. पौरुष

Q.4 निम्नलिखित वाक्यांश के लिए सार्थक शब्द चुनिए -  
जहां से सूर्य उदित होता है

- Ans
- ✓ 1. उदयाचल
  - ✗ 2. हिमाचल
  - ✗ 3. विंध्याचल
  - ✗ 4. वरुणाचल

Q.5 निम्नलिखित वाक्यों की पूर्ति निरर्थक शब्द से करें  
अमन के घर जाओ तो वह हमेशा \_\_\_\_\_ को पूछता है।

- Ans
- ✗ 1. आने
  - ✓ 2. खाने-वाने
  - ✗ 3. जाने
  - ✗ 4. रहने

Q.6 निम्नलिखित वाक्य को ध्यानपूर्वक पढ़ें और वाक्य में रीतिवाचक क्रिया विशेषण संबंधी त्रुटि की पहचान कर  
शुद्ध वाक्य लिखें।  
निर्मल बोलता है।

- Ans
- ✗ 1. निर्मल बोलता था।
  - ✗ 2. निर्मल बोलने वाला है।
  - ✓ 3. निर्मल धीरे-धीरे बोलता है।
  - ✗ 4. निर्मल बोलेगा।

Q.7 निम्नलिखित वाक्य में रेखांकित खंड के स्थान पर प्रयुक्त होने वाले सबसे उपयुक्त विकल्प का चयन  
कीजिए-

सक्षम पिता जी की तत्पर सेवा के लिए है।

- Ans
- ✗ 1. के लिए सेवा तत्पर
  - ✓ 2. सेवा के लिए तत्पर
  - ✗ 3. के सेवा तत्पर लिए
  - ✗ 4. सेवा तत्पर

Q.8	निम्नलिखित मुहावरे के लिए उपयुक्त सार्थक शब्द है - झांसा देना
Ans	<div><div><div>✗</div><div>1. बातों में आना</div></div><div><div>✗</div><div>2. निकम्मा</div></div><div><div>✗</div><div>3. डांटना</div></div><div><div>✓</div><div>4. धोखा देना</div></div></div>
Q.9	नव वर्ष के अवसर पर बाजार में भीड़ दिखाई देती है। वाक्य में बाजार शब्द है।
Ans	<div><div><div>✗</div><div>1. तत्सम</div></div><div><div>✓</div><div>2. विदेशी</div></div><div><div>✗</div><div>3. तद्भव</div></div><div><div>✗</div><div>4. देशज</div></div></div>
Q.10	‘कक्षा में आज सभी विद्यार्थी <u>आए</u> हैं।’ सर्वाधिक उपयुक्त विकल्प चुनकर वाक्य के रेखांकित अंश को बदलें-
Ans	<div><div><div>✗</div><div>1. खड़े</div></div><div><div>✓</div><div>2. उपस्थित</div></div><div><div>✗</div><div>3. सामने</div></div><div><div>✗</div><div>4. बैठे</div></div></div>
Q.11	निम्न वाक्य को शुद्ध कीजिए - किसी भी नए कार्य को आरंभ करने में विपत्त आती ही है।
Ans	<div><div><div>✗</div><div>1. किसी भी नए कार्य को आरंभ करने में विपात्ती आती ही है।</div></div><div><div>✗</div><div>2. किसी भी नए कार्य को आरंभ करने में वीपत्त आती ही है।</div></div><div><div>✗</div><div>3. किसी भी नए कार्य को आरंभ करने में विपती आती ही है।</div></div><div><div>✓</div><div>4. किसी भी नए कार्य को आरंभ करने में विपत्ति आती ही है।</div></div></div>
Q.12	हमने अतिथियों से पूछा कि क्या वे भोजन खाएँगे?’ इस वाक्य में क्रिया सम्बन्धी त्रुटि पहचानकर निम्नलिखित में से शुद्ध वाक्य चुनिए -
Ans	<div><div><div>✗</div><div>1. हमने अतिथियों से पूछा कि क्या वे भोजन प्राप्त करेंगे?</div></div><div><div>✓</div><div>2. हमने अतिथियों से पूछा कि क्या वे भोजन करेंगे?</div></div><div><div>✗</div><div>3. हमने अतिथियों से पूछा कि क्या वे भोजन खा लेंगे?</div></div><div><div>✗</div><div>4. हमने अतिथियों से पूछा कि क्या वे भोजन लेंगे?</div></div></div>
Q.13	‘जिसमें कुछ करने की क्षमता न हो’ उपरोक्त वाक्यांश के लिए एक शब्द होगा-
Ans	<div><div><div>✗</div><div>1. अक्षय</div></div><div><div>✗</div><div>2. अक्षम्य</div></div><div><div>✓</div><div>3. अक्षम</div></div><div><div>✗</div><div>4. अक्षमा</div></div></div>
Q.14	कमल _____ के ऊपर ओस की बूंद बड़ी मनमोहक लग रही थी।’ ‘राजनीति में नेता अक्सर लाभ के लिए अपना _____ बदल लेते हैं।’ उपर्युक्त वाक्यों में रिक्त स्थान की पूर्ति के लिए उपयुक्त अनेकार्थी शब्द है -
Ans	<div><div><div>✗</div><div>1. पुष्प</div></div><div><div>✓</div><div>2. दल</div></div><div><div>✗</div><div>3. पार्टी</div></div><div><div>✗</div><div>4. हित</div></div></div>

रेखांकित शब्द के विलोम शब्द का चयन कीजिए।

- Ans
- ☒

1. व्यय
- ☐

2. वेतन
- ☐

3. खर्चा
- ☐

4. खर्च

Comprehension:

प्रश्न संख्या 31 से 35 तक इसी अनुच्छेद से करें।

नगरीकरण की सबसे बड़ी समस्या है, \_\_\_\_\_(31) की समस्या। नगर बढ़ते हैं तो उद्योग बढ़ते हैं। वाहन बढ़ते हैं। मशीनें बढ़ती हैं। यह सारी की सारी बढ़ोतरी \_\_\_\_\_(32) को प्रदूषित करती है। नगरों के आसपास की नदियाँ जहाँ पीने के लायक स्वच्छ जल प्रवाहित हुआ करता था वहाँ अब फैक्ट्रियों और शहर की \_\_\_\_\_(33) गंदगी बहती है, इससे बड़ी विडम्बना क्या होगी कि पयस्विनी नदियोंके देश में नगरों में रहने वाले लोग खरीदकर पानी पीते हैं। महात्मा गाँधी ने इस देश को \_\_\_\_\_(34) का देश भी माना था और उनके विकास की हर पद्धति में ज्ञानवर्धन के साथ-साथ गाँव की \_\_\_\_\_(35) के सम्बर्धन की बात निहित थी।

SubQuestion No : 16

Q.16 रिक्त स्थान के लिए सही विकल्प चुनें।(31)

- Ans
- ☐

1. विद्युत
- ☐

2. जनसंख्या
- ☐

3. जल
- ☒

4. प्रदूषण

Comprehension:

प्रश्न संख्या 31 से 35 तक इसी अनुच्छेद से करें।

नगरीकरण की सबसे बड़ी समस्या है, \_\_\_\_\_(31) की समस्या। नगर बढ़ते हैं तो उद्योग बढ़ते हैं। वाहन बढ़ते हैं। मशीनें बढ़ती हैं। यह सारी की सारी बढ़ोतरी \_\_\_\_\_(32) को प्रदूषित करती है। नगरों के आसपास की नदियाँ जहाँ पीने के लायक स्वच्छ जल प्रवाहित हुआ करता था वहाँ अब फैक्ट्रियों और शहर की \_\_\_\_\_(33) गंदगी बहती है, इससे बड़ी विडम्बना क्या होगी कि पयस्विनी नदियोंके देश में नगरों में रहने वाले लोग खरीदकर पानी पीते हैं। महात्मा गाँधी ने इस देश को \_\_\_\_\_(34) का देश भी माना था और उनके विकास की हर पद्धति में ज्ञानवर्धन के साथ-साथ गाँव की \_\_\_\_\_(35) के सम्बर्धन की बात निहित थी।

SubQuestion No : 17

Q.17 रिक्त स्थान के लिए सही विकल्प चुनें।(32)

- Ans
- ☐

1. नदियों
- ☐

2. मनुष्य
- ☐

3. हवा
- ☒

4. पर्यावरण

Comprehension:

प्रश्न संख्या 31 से 35 तक इसी अनुच्छेद से करें।

नगरीकरण की सबसे बड़ी समस्या है, \_\_\_\_\_(31) की समस्या। नगर बढ़ते हैं तो उद्योग बढ़ते हैं। वाहन बढ़ते हैं। मशीनें बढ़ती हैं। यह सारी की सारी बढ़ोतरी \_\_\_\_\_(32) को प्रदूषित करती है। नगरों के आसपास की नदियाँ जहाँ पीने के लायक स्वच्छ जल प्रवाहित हुआ करता था वहाँ अब फैक्ट्रियों और शहर की \_\_\_\_\_(33) गंदगी बहती है, इससे बड़ी विडम्बना क्या होगी कि पयस्विनी नदियोंके देश में नगरों में रहने वाले लोग खरीदकर पानी पीते हैं। महात्मा गाँधी ने इस देश को \_\_\_\_\_(34) का देश भी माना था और उनके विकास की हर पद्धति में ज्ञानवर्धन के साथ-साथ गाँव की \_\_\_\_\_(35) के सम्बर्धन की बात निहित थी।

SubQuestion No : 18

Q.18 रिक्त स्थान के लिए सही विकल्प चुनें।(33)

- Ans
- ☐

1. हवा
- ☐

2. शुद्धता
- ☒

3. गंदगी
- ☐

4. पवित्रता

Comprehension:

प्रश्न संख्या 31 से 35 तक इसी अनुच्छेद से करें।

नगरीकरण की सबसे बड़ी समस्या है, \_\_\_\_\_(31) की समस्या। नगर बढ़ते हैं तो उद्योग बढ़ते हैं। वाहन बढ़ते हैं। मशीनें बढ़ती हैं। यह सारी की सारी बढ़ोतरी \_\_\_\_\_(32) को प्रदूषित करती है। नगरों के आसपास की नदियाँ जहाँ पीने के लायक स्वच्छ जल प्रवाहित हुआ करता था वहाँ अब फैक्ट्रियों और शहर की \_\_\_\_\_(33) गंदगी बहती है, इससे बड़ी विडम्बना क्या होगी कि पयस्विनी नदियोंके देश में नगरों में रहने वाले लोग खरीदकर पानी पीते हैं। महात्मा गाँधी ने इस देश को \_\_\_\_\_(34) का देश भी माना था और उनके विकास की हर पद्धति में ज्ञानवर्धन के साथ-साथ गाँव की \_\_\_\_\_(35) के सम्बर्धन की बात निहित थी।

SubQuestion No : 19

Q.19 रिक्त स्थान के लिए सही विकल्प चुनें।(34)

- Ans
- ☒

1. गाँवों
- ☐

2. नदियों
- ☐

3. नगर
- ☐

4. शहर

Comprehension:

प्रश्न संख्या 31 से 35 तक इसी अनुच्छेद से करें।

नगरीकरण की सबसे बड़ी समस्या है, \_\_\_\_\_(31) की समस्या। नगर बढ़ते हैं तो उद्योग बढ़ते हैं। वाहन बढ़ते हैं। मशीनें बढ़ती हैं। यह सारी की सारी बढ़ोतरी \_\_\_\_\_(32) को प्रदूषित करती है। नगरों के आसपास की नदियाँ जहाँ पीने के लायक स्वच्छ जल प्रवाहित हुआ करता था वहाँ अब फैक्ट्रियों और शहर की \_\_\_\_\_(33) गंदगी बहती है, इससे बड़ी विडम्बना क्या होगी कि पयस्विनी नदियोंके देश में नगरों में रहने वाले लोग खरीदकर पानी पीते हैं। महात्मा गाँधी ने इस देश को \_\_\_\_\_(34) का देश भी माना था और उनके विकास की हर पद्धति में ज्ञानवर्धन के साथ-साथ गाँव की \_\_\_\_\_(35) के सम्बर्धन की बात निहित थी।

SubQuestion No : 20

Q.20 रिक्त स्थान के लिए सही विकल्प चुनें।(35)

- Ans
- ☐

1. प्रकृति
- ☐

2. सौंदर्य
- ☒

3. संस्कृति
- ☐

4. सभ्यता