

Constable GD in CAPFs and SSF Rifleman GD in AR and Sepoy in NCB Examination 2025

Exam Date	13/02/2025
Exam Time	12:00 PM - 1:00 PM
Subject	Constable GD Examination 2025

Section : Part-A-General Intelligence and Reasoning

Q.1

आठ व्यक्ति दो समानांतर पंक्तियों में बैठे हैं जिनमें से प्रत्येक पंक्ति में 4 व्यक्ति इस प्रकार बैठे हैं कि आसन्न व्यक्तियों के बीच की दूरी समान है।

पंक्ति 1 में - G, I, F और T बैठे हैं और उन सभी का मुख दक्षिण की ओर है।

पंक्ति 2 में - B, O, N और D बैठे हैं और उन सभी का मुख उत्तर की ओर है।

इस प्रकार, पहली पंक्ति के प्रत्येक व्यक्ति का मुख दूसरी पंक्ति के किसी अन्य व्यक्ति की ओर है। B के दाईं ओर कोई नहीं बैठा है। N और B के बीच में केवल दो व्यक्ति बैठे हैं। O के सम्मुख बैठा व्यक्ति, B के सम्मुख बैठे व्यक्ति के दाईं ओर दूसरे स्थान पर बैठा है। I, F के ठीक दाईं ओर बैठा है। G, I के ठीक दाईं ओर बैठा है लेकिन वह O के सम्मुख नहीं है।

निम्नलिखित में से कौन-सा विकल्प, पंक्तियों के अंतिम छोरों पर बैठे दोनों व्यक्तियों को निरूपित करता है?

Ans

X

1. G और D

X

2. I और B

✓

3. T और N

X

4. T और O

Q.2

एक निश्चित कूट भाषा में,

‘A ! B’ का अर्थ है ‘A, B का भाई है’,

‘A < B’ का अर्थ है ‘A, B का पुत्र है’,

‘A : B’ का अर्थ है ‘A, B की पत्नी है’ और

‘A / B’ का अर्थ है ‘A, B का पिता है’।

यदि ‘O / M : I ! T < S’ है, तो O का S से क्या संबंध है?

Ans

X

1. पुत्र की पत्नी की बहन

✓

2. पुत्र की पत्नी के पिता

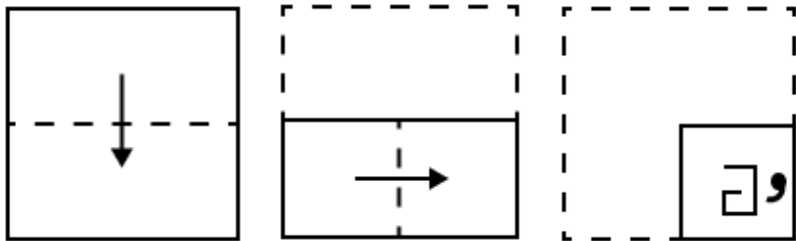
X

3. पुत्र की पत्नी का पुत्र

X

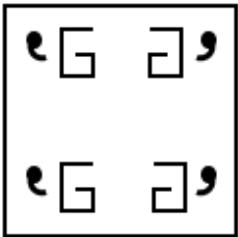
4. पुत्र की पत्नी की माता

Q.3 एक कागज को नीचे दर्शाए गए अनुसार मोड़कर पंच किया (punched) जाता है। खोले जाने पर यह कैसा दिखाई देगा?

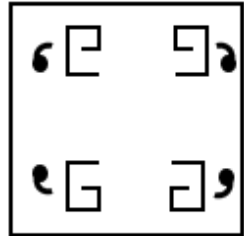


Ans

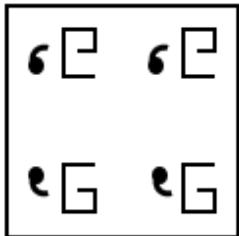
✗ 1.



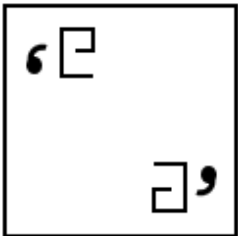
✓ 2.



✗ 3.



✗ 4.

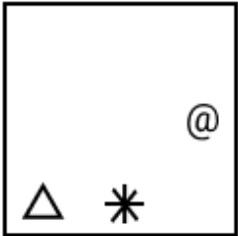


Q.4 विकल्पों में दी गई उस आकृति की पहचान कीजिए जिसे प्रश्न चिह्न (?) के स्थान पर रखने पर श्रृंखला तार्किक रूप से पूर्ण हो जाएगी।

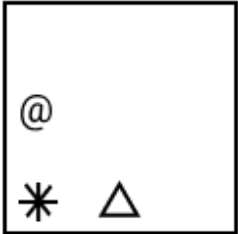
☆ Δ	\$ Δ %	Δ P	P	
%		\$	Δ	?
			*	

Ans

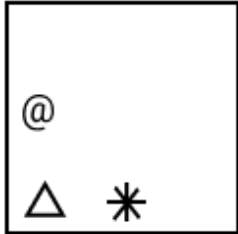
✗ 1.




✗ 2.



✓ 3.



✗ 4.



Q.5 शब्द FROCKED के प्रत्येक अक्षर को अंग्रेजी वर्णमाला क्रम में व्यवस्थित किया जाता है। इस प्रकार बने नए अक्षर-समूह में बाएं से तीसरे अक्षर और दाएं से दूसरे अक्षर के बीच अंग्रेजी वर्णमाला क्रम में कितने अक्षर होते हैं?

- Ans
- ✓ 1. 9
 - ✗ 2. 12
 - ✗ 3. 10
 - ✗ 4. 8

Q.6 यदि 'x' और '+' को परस्पर बदल दिया जाए तथा '-' और '÷' को परस्पर बदल दिया जाए, तो निम्नलिखित समीकरण में प्रश्न चिह्न '(?)' के स्थान पर क्या आएगा?

- 57 ÷ 9 × 50 - 5 + 2 = ?
- Ans
- ✓ 1. 68
 - ✗ 2. 70
 - ✗ 3. 71
 - ✗ 4. 69

Q.7 अंग्रेजी वर्णानुक्रम के आधार पर दी गई श्रृंखला में प्रश्न चिह्न (?) के स्थान पर क्या आना चाहिए?

EFL IJP MNT QRX ?

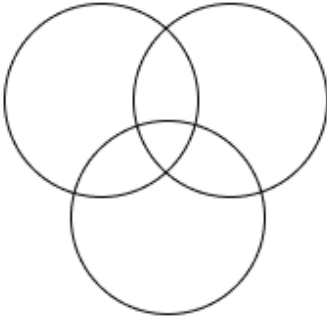
- Ans
- ☒ 1. UWB
 - ☒ 2. UVB
 - ☒ 3. VUP
 - ☒ 4. VUB

Q.8 उस वेन आरेख का चयन कीजिए जो निम्नलिखित वर्गों के बीच संबंध को सर्वोत्तम रूप से दर्शाता है।

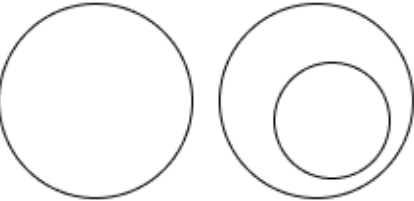
चील, पक्षी, घर

Ans

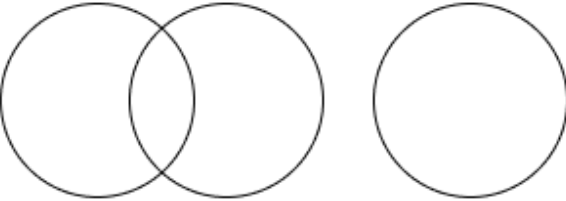
☒ 1.



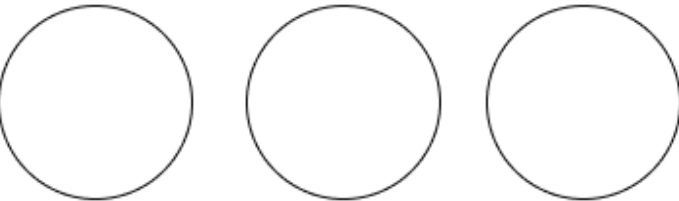
☒ 2.



☒ 3.



☒ 4.



Q.9 अंग्रेजी वर्णमाला क्रम के आधार पर, निम्नलिखित चार अक्षर-समूहों में से तीन एक निश्चित प्रकार से समान हैं और इस प्रकार एक समूह बनाते हैं। वह कौन-सा अक्षर-समूह है जो उस समूह से संबंधित नहीं है?

(ध्यान दें: असंगत अक्षर-समूह, उस अक्षर-समूह में व्यंजनों/स्वरों की संख्या या उनके स्थान पर आधारित नहीं है।)

- Ans
- ☒ 1. KTC
 - ☒ 2. OXG
 - ☒ 3. AJS
 - ☒ 4. VEM

Q.10 एक निश्चित कूट भाषा में, 'JRZQ' को '74' के रूप में और 'LOBT' को '118' के रूप में कूटबद्ध किया जाता है। दी गई भाषा में 'XGCF' के लिए कूट क्या है?

- Ans
- ☒ 1. 136
 - ☒ 2. 132
 - ☒ 3. 124
 - ☒ 4. 128

Q.11 दिए गए कथनों और निष्कर्षों को ध्यानपूर्वक पढ़िए। यह मानते हुए कि कथनों में दी गई जानकारी सत्य है, चाहे वह सामान्यतः ज्ञात तथ्यों से भिन्न प्रतीत होती हो और निर्णय लीजिए कि दिए गए निष्कर्षों में से कौन-सा/कौन-से निष्कर्ष कथनों का तार्किक रूप से अनुसरण करता है/करते हैं।

कथन:
सभी पंप, मोटर हैं।
सभी पंप, मशीन हैं।
सभी इंजन, मशीन हैं।

निष्कर्ष:
(I): सभी इंजन, मोटर हैं।
(II): कुछ मशीन, मोटर हैं।

- Ans
- ☒ 1. केवल निष्कर्ष (I) अनुसरण करता है।
 - ☒ 2. न तो निष्कर्ष (I) और न ही (II) अनुसरण करता है।
 - ☒ 3. केवल निष्कर्ष (II) अनुसरण करता है।
 - ☒ 4. दोनों निष्कर्ष (I) और (II) अनुसरण करते हैं।

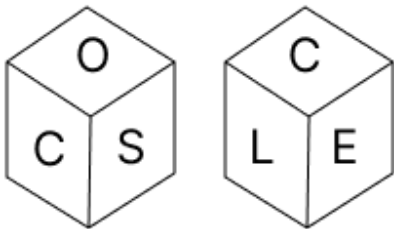
Q.12 अंग्रेजी वर्णमाला क्रम के आधार पर एक निश्चित तरीके से 'XUOF', 'BWQH' से संबंधित है। उसी तरीके से 'DWQI', 'HYSK' से संबंधित है। समान तर्क का अनुसरण करते हुए 'VAPD' निम्नलिखित में से किससे संबंधित है?

- Ans
- ☒ 1. XCRG
 - ☒ 2. ZCRF
 - ☒ 3. XDSE
 - ☒ 4. YBQD

Q.13 SOMI अंग्रेजी वर्णमाला क्रम के आधार पर एक निश्चित प्रकार से HDBX से संबंधित है। NJHD ठीक उसी प्रकार CYWS से संबंधित है। उसी तर्क का अनुसरण करते हुए, YUSO दिए गए विकल्पों में से किससे संबंधित है?

- Ans
- ☒ 1. NJHD
 - ☒ 2. NKGP
 - ☒ 3. NJGD
 - ☒ 4. NIGD

Q.14 एक पासे के फलकों पर S, O, V, E, L और C अक्षर अंकित हैं। दी गई आकृतियों में समान पासे की दो स्थितियाँ दर्शाई गई हैं। फलक V के विपरीत कौन-सा फलक है?



- Ans
- ☒ 1. O
 - ☒ 2. E
 - ☒ 3. C
 - ☒ 4. S

Q.15 दी गई श्रृंखला में प्रश्नवाचक चिन्ह (?) के स्थान पर क्या आना चाहिए?

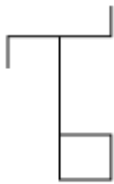
712 711 713 710 714 709 715 ?

- Ans
- ☒ 1. 707
 - ☒ 2. 708
 - ☒ 3. 717
 - ☒ 4. 716

Q.16 किसी निश्चित कूट भाषा में, 'ALSO' को '4381' के रूप में कूटबद्ध किया जाता है और 'LOAN' को '1436' के रूप में कूटबद्ध किया जाता है। दी गई कूट भाषा में 'N' को किस प्रकार कूटबद्ध किया जाएगा?

- Ans
- ✓ 1. 6
 - ✗ 2. 1
 - ✗ 3. 4
 - ✗ 4. 8

Q.17 उस विकल्प आकृति का चयन कीजिए जिसमें दी गई आकृति (X) उसके भाग के रूप में अंतर्निहित है (घुमाने की अनुमति नहीं है)।



(X)

Ans

- ✗ 1.
- ✗ 2.
- ✗ 3.
- ✓ 4.

Q.18 सात व्यक्ति L, M, N, O, P, Q और R एक सीधी पंक्ति में उत्तर की ओर मुख करके बैठे हैं (परंतु जरूरी नहीं कि वे इसी क्रम में बैठें हों)। M पंक्ति के किसी एक छोर पर बैठा है। P, M के ठीक दाईं ओर बैठा है। N, P के ठीक दाईं ओर बैठा है और L के ठीक बाईं ओर बैठा है। Q, O के ठीक दाईं ओर बैठा है और R के ठीक बाईं ओर बैठा है। L, N के ठीक दाईं ओर बैठा है। M और N के बीच में कौन बैठा है?

- Ans
- ✗ 1. L
 - ✗ 2. R
 - ✗ 3. O
 - ✓ 4. P

Q.19 उस सही विकल्प ज्ञात कीजिए, जिसे रिक्त स्थानों में समान क्रम में रखने पर श्रृंखला तार्किक रूप से पूरी हो जाएगी।

_BDGI_GJLH_MOKM_RNP_

- Ans
- ✓ 1. FEJPS
 - ✗ 2. GDIOR
 - ✗ 3. GEIPR
 - ✗ 4. FDJOS

Q.20 दी गई श्रृंखला में प्रश्नवाचक चिन्ह (?) के स्थान पर क्या आना चाहिए?

991 1000 1010 1021 1033 ?

- Ans
- ✗ 1. 1043
 - ✓ 2. 1046
 - ✗ 3. 1044
 - ✗ 4. 1045

Section : Part-B-General Knowledge and General awareness

Q.1 निम्नलिखित में से किस वेद में नृत्य (नर्ति) और नृत्यकला (danseuse) (नर्तु) का उल्लेख है?

- Ans
- ✗ 1. अथर्ववेद
 - ✓ 2. ऋग्वेद
 - ✗ 3. यजुर्वेद
 - ✗ 4. सामवेद

Q.2 भारत में वर्षा आधारित क्षेत्रों के लिए राष्ट्रीय जलसंभर विकास परियोजना (NWDPR) की शुरुआत कब की गई थी?

- Ans
- ✓ 1. 1990-91
 - ✗ 2. 1980-81
 - ✗ 3. 2000-01
 - ✗ 4. 1970-71

Q.3 किसी अर्थव्यवस्था में, पंचवर्षीय योजना का आधुनिकीकरण लक्ष्य _____ से संबंधित होता है।

- Ans
- ✗ 1. ग्रामीण प्रौद्योगिकी
 - ✗ 2. पारंपरिक प्रौद्योगिकी
 - ✓ 3. नई प्रौद्योगिकी
 - ✗ 4. पुरानी प्रौद्योगिकी

Q.4 यकृत में आयरन की अधिक मात्रा जमा होने से _____ नामक स्थिति उत्पन्न होती है।

- Ans
- ✗ 1. काशियोरकर (kwashiorkor)
 - ✓ 2. हेमोसाइडरोसिस (hemosiderosis)
 - ✗ 3. एनीमिया (anaemia)
 - ✗ 4. ऑस्टियोमलेशिया (osteomalacia)

Q.5 इशिरा और मौलिक शाह को संयुक्त रूप से किस नृत्य शैली में सर्वश्रेष्ठ प्रदर्शन के लिए वर्ष 2018 का संगीत नाटक अकादमी पुरस्कार प्राप्त हुआ?

- Ans
- ✓ 1. कथक
 - ✗ 2. कुचिपुड़ी
 - ✗ 3. ओडिसी
 - ✗ 4. भरतनाट्यम

Q.6	महाराष्ट्र में सामाजिक सुधार को प्रेरित करने वाले प्रार्थना समाज के संस्थापक कौन थे?
Ans	<div><div><div>✖</div><div>1. दादाभाई नौरोजी (Dadabhai Naoroji)</div></div><div><div>✔</div><div>2. आत्माराम पाण्डुरंग (Atmaram Pandurang)</div></div><div><div>✖</div><div>3. केशव चंद्र सेन (Keshub Chandra Sen)</div></div><div><div>✖</div><div>4. गोपाल कृष्ण गोखले (Gopal Krishna Gokhale)</div></div></div>
Q.7	तितास साधु (Titas Sadhu) किस खेल से संबंधित हैं?
Ans	<div><div><div>✖</div><div>1. शतरंज</div></div><div><div>✖</div><div>2. टेबल टेनिस</div></div><div><div>✖</div><div>3. बैडमिंटन</div></div><div><div>✔</div><div>4. क्रिकेट</div></div></div>
Q.8	अंतिम शुंग शासक की मृत्यु के बाद कण्व वंश की स्थापना किसने की?
Ans	<div><div><div>✖</div><div>1. मिनांडर</div></div><div><div>✖</div><div>2. पुष्पमित्र</div></div><div><div>✔</div><div>3. वासुदेव</div></div><div><div>✖</div><div>4. डेमेट्रियस</div></div></div>
Q.9	निम्नलिखित में से किस प्रकार की वस्तु का लाभ लेने से किसी व्यक्ति को दूर रखा जा सकता है?
Ans	<div><div><div>✔</div><div>1. निजी (Private)</div></div><div><div>✖</div><div>2. मेरिट (Merit)</div></div><div><div>✖</div><div>3. फ्री राइडर (Free riders)</div></div><div><div>✖</div><div>4. सार्वजनिक (Public)</div></div></div>
Q.10	भारतीय संविधान का कौन-सा अनुच्छेद, मानव तस्करी और जबरन श्रम पर प्रतिबंध लगाता है?
Ans	<div><div><div>✖</div><div>1. अनुच्छेद 25</div></div><div><div>✖</div><div>2. अनुच्छेद 15</div></div><div><div>✔</div><div>3. अनुच्छेद 23</div></div><div><div>✖</div><div>4. अनुच्छेद 24</div></div></div>
Q.11	दक्षिणमूर्ति पिल्लई एक भारतीय संगीतकार थे जो _____ बजाया करते थे।
Ans	<div><div><div>✔</div><div>1. मृदंगम</div></div><div><div>✖</div><div>2. सितार</div></div><div><div>✖</div><div>3. बाँसुरी</div></div><div><div>✖</div><div>4. तबला</div></div></div>
Q.12	तमिलिसाई सुंदरराजन 2024 में लोकसभा चुनाव लड़ने के लिए इस्तीफा देने से पहले निम्नलिखित में से किस राज्य की राज्यपाल थीं?
Ans	<div><div><div>✖</div><div>1. त्रिपुरा</div></div><div><div>✖</div><div>2. उत्तराखंड</div></div><div><div>✔</div><div>3. तेलंगाना</div></div><div><div>✖</div><div>4. उत्तर प्रदेश</div></div></div>
Q.13	राष्ट्रीय बहुआयामी गरीबी सूचकांक 2023 के अनुसार, निम्नलिखित में से किस राज्य में गरीब व्यक्तियों का प्रतिशत सबसे अधिक है?
Ans	<div><div><div>✖</div><div>1. मेघालय</div></div><div><div>✔</div><div>2. झारखंड</div></div><div><div>✖</div><div>3. असम</div></div><div><div>✖</div><div>4. पश्चिम बंगाल</div></div></div>

Q.14 निम्नलिखित में से किसे, सितंबर 2024 में सशस्त्र सीमा बल (SSB) का महानिदेशक नियुक्त किया गया?

- Ans
- ☒ 1. दलजीत सिंह चौधरी
 - ☒ 2. प्रेम नाथ कौल
 - ☒ 3. सुजॉय लाल थाओसेन
 - ☒ 4. अमृत मोहन प्रसाद

Q.15 धरांग मेला (Dhrang Fair), _____ में दो दिवसीय उत्सव है जो संत मेकरन दादा के सम्मान में श्रद्धा अर्पित करने एवं धार्मिक अनुष्ठानों में भाग लेने के लिए मनाया जाता है।

- Ans
- ☒ 1. पंजाब
 - ☒ 2. गुजरात
 - ☒ 3. राजस्थान
 - ☒ 4. हरियाणा

Q.16 मार्च 2023 में एशिया की सबसे लंबी साइकिल दौड़ 'रेस एक्रॉस इंडिया' (Race Across India) का समापन किस स्थान पर हुआ?

- Ans
- ☒ 1. रामनाथपुरम
 - ☒ 2. कोडईकनाल
 - ☒ 3. कन्याकुमारी
 - ☒ 4. शिवगंगा

Q.17 वर्ल्डोमीटर द्वारा प्रकाशित 2024 के आंकड़ों के अनुसार, भारत के निम्नलिखित पड़ोसी देशों में से किसमें शहरी आबादी का प्रतिशत सबसे अधिक है?

- Ans
- ☒ 1. नेपाल
 - ☒ 2. भूटान
 - ☒ 3. श्रीलंका
 - ☒ 4. मालदिव

Q.18 निम्नलिखित में से कौन-सा प्राधिकारी, एक वर्ष की अवधि के लिए रोटेशन के आधार पर संबंधित क्षेत्रीय परिषद के उपाध्यक्ष के रूप में कार्य करता है?

- Ans
- ☒ 1. राज्य का राज्यपाल
 - ☒ 2. राज्य का डीजीपी (DGP)
 - ☒ 3. राज्य का मुख्यमंत्री
 - ☒ 4. राज्य का मुख्य सचिव

Q.19 उस प्रक्रिया का वर्णन करने के लिए किस शब्द का उपयोग किया जाता है, जिसके द्वारा महासागरों, झीलों और नदियों का पानी वाष्प में परिवर्तित हो जाता है और वायुमंडल में ऊपर उठता है?

- Ans
- ☒ 1. वर्षण
 - ☒ 2. संघनन
 - ☒ 3. पारसरण
 - ☒ 4. वाष्पीकरण

Q.20 जब कोई वस्तु एक सीधी रेखा में नियत चाल से गतिशील हो, तो उसका त्वरण _____।

- Ans
- ☒ 1. धनात्मक होता है
 - ☒ 2. ऋणात्मक होता है
 - ☒ 3. निर्धारित नहीं किया जा सकता है
 - ☒ 4. शून्य होता है

Q.1	यदि समान ब्याज दर पर, 2 वर्ष में, साधारण ब्याज ₹42 तथा चक्रवृद्धि ब्याज ₹63 है, तो मूलधन (₹ में) ज्ञात कीजिए।
Ans	<div><div><div>✖</div><div>1. 16</div></div><div><div>✖</div><div>2. 25</div></div><div><div>✖</div><div>3. 14</div></div><div><div>✔</div><div>4. 21</div></div></div>
Q.2	A, B और C अलग-अलग तौर पर कार्य करते हुए किसी कार्य को क्रमशः 5, 8 और 6 दिनों में पूरा कर सकते हैं। यदि वे सभी एक साथ कार्य करते हैं और पूरे कार्य के लिए ₹22,774 अर्जित करते हैं, तो B और C के हिस्से के बीच अंतर ज्ञात कीजिए।
Ans	<div><div><div>✖</div><div>1. ₹1,560</div></div><div><div>✖</div><div>2. ₹1,840</div></div><div><div>✖</div><div>3. ₹2,010</div></div><div><div>✔</div><div>4. ₹1,930</div></div></div>
Q.3	अनवर, अमित और गोपाल का औसत वज़न 46 kg है। यदि अनवर और अमित का औसत वज़न 39 kg है और अमित और गोपाल का औसत वज़न 44 kg है, तो अमित का वज़न (kg में) ज्ञात कीजिए।
Ans	<div><div><div>✖</div><div>1. 38</div></div><div><div>✖</div><div>2. 48</div></div><div><div>✔</div><div>3. 28</div></div><div><div>✖</div><div>4. 43</div></div></div>
Q.4	वह बड़ी से बड़ी संख्या ज्ञात कीजिए, जिससे 1163 और 2214 को भाग देने पर क्रमशः 15 और 82 शेषफल प्राप्त हो।
Ans	<div><div><div>✖</div><div>1. 159</div></div><div><div>✖</div><div>2. 173</div></div><div><div>✔</div><div>3. 164</div></div><div><div>✖</div><div>4. 169</div></div></div>
Q.5	0.07 m त्रिज्या वाले एक ठोस अर्धगोले का सम्पूर्ण पृष्ठीय क्षेत्रफल ज्ञात कीजिए। ($\pi = 22/7$ का उपयोग कीजिए)
Ans	<div><div><div>✖</div><div>1. 442 cm^2</div></div><div><div>✔</div><div>2. 462 cm^2</div></div><div><div>✖</div><div>3. 472 cm^2</div></div><div><div>✖</div><div>4. 452 cm^2</div></div></div>
Q.6	वस्तुओं की एक जोड़ी को 20% की छूट पर ₹1,820 में खरीदा गया, तथा प्रत्येक वस्तु का अंकित मूल्य समान है। एक वस्तु का अंकित मूल्य (₹ में) कितना है?
Ans	<div><div><div>✖</div><div>1. ₹1,371.50</div></div><div><div>✖</div><div>2. ₹1,731.50</div></div><div><div>✖</div><div>3. ₹1,173.50</div></div><div><div>✔</div><div>4. ₹1,137.50</div></div></div>
Q.7	एक व्यक्ति का मासिक वेतन ₹42,000 से बढ़कर ₹57,000 हो गया। उसके मासिक वेतन में कितने प्रतिशत (एक दशमलव स्थान तक पूर्णांकित) की वृद्धि हुई है?
Ans	<div><div><div>✔</div><div>1. 35.7%</div></div><div><div>✖</div><div>2. 55.7%</div></div><div><div>✖</div><div>3. 57.5%</div></div><div><div>✖</div><div>4. 37.5%</div></div></div>

Q.8	ईंधन की कीमत क्रमागत तीन महीनों में 40%, 30% और 10% कम की गई है, लेकिन चौथे महीने में 40% वृद्धि की गई है। चौथे महीने में ईंधन की कीमत में उसकी मूल कीमत की तुलना में कितने प्रतिशत की वृद्धि/कमी हुई है?
Ans	<div><div>✗ 1. 45.65% की वृद्धि</div><div>✗ 2. 49.94% की वृद्धि</div><div>✓ 3. 47.08% की कमी</div><div>✗ 4. 43.81% की कमी</div></div>
Q.9	तुषार ने 150 कुर्सियाँ बेचीं और उसे 50 कुर्सियों के विक्रय मूल्य के बराबर लाभ हुआ। उसका लाभ प्रतिशत कितना है?
Ans	<div><div>✗ 1. 55%</div><div>✓ 2. 50%</div><div>✗ 3. 45%</div><div>✗ 4. 60%</div></div>
Q.10	एक दुकानदार ने ₹500 में एक वस्तु खरीदी। 24% लाभ प्राप्त करने के लिए उसे वस्तु को किस मूल्य (₹ में) पर बेचना चाहिए?
Ans	<div><div>✓ 1. 620</div><div>✗ 2. 632</div><div>✗ 3. 608</div><div>✗ 4. 380</div></div>
Q.11	दो संख्याओं का LCM उनके HCF का 126 गुना है। यदि उनका HCF, 7 है और दोनों संख्याओं के बीच का अंतर HCF का पाँच गुना है, तो दोनों संख्याओं का गुणनफल ज्ञात कीजिए।
Ans	<div><div>✓ 1. 6174</div><div>✗ 2. 7164</div><div>✗ 3. 1476</div><div>✗ 4. 6471</div></div>
Q.12	एक धारा की चाल 9 km/h है। एक नाव धारा के अनुकूल 28 km और धारा के प्रतिकूल 20 km की दूरी 8 घंटे में तय कर सकती है। स्थिर जल में नाव की चाल (km/h में) ज्ञात कीजिए।
Ans	<div><div>✗ 1. 6</div><div>✗ 2. 9</div><div>✗ 3. 14</div><div>✓ 4. 12</div></div>
Q.13	240 m लंबी एक रेलगाड़ी 88 km/h की चाल से चल रही है। 16 km/h की चाल से समान दिशा में दौड़ रहे एक व्यक्ति को यह रेलगाड़ी कितने समय में पार करेगी?
Ans	<div><div>✗ 1. 9 सेकंड</div><div>✗ 2. 23 सेकंड</div><div>✓ 3. 12 सेकंड</div><div>✗ 4. 27 सेकंड</div></div>
Q.14	80 पुरुष एक छोटा फुटपाथ 100 दिन में बना सकते हैं। यदि यह कार्य 25 दिन में पूरा करना है तो कितने और पुरुष कार्य पर लगाने होंगे?
Ans	<div><div>✗ 1. 220</div><div>✓ 2. 240</div><div>✗ 3. 250</div><div>✗ 4. 210</div></div>

Q.15 ऋषि के पास ₹1612 हैं। उसने इसे अपने पुत्रों शान और पीयूष के बीच बांट दिया तथा उन्हें इसे वार्षिक रूप से चक्रवृद्धि होने वाले 8% ब्याज दर पर निवेश करने को कहा। यह देखा गया कि शान और पीयूष को क्रमशः 19 और 20 वर्ष बाद समान धनराशि प्राप्त हुई। ऋषि ने शान को कितनी धनराशि (₹ में) दी थी?

- Ans ☒ 1. 837
☐ 2. 775
☐ 3. 875
☐ 4. 687

Q.16 चार व्यक्ति एक पार्क की परिधि पर चलते हैं। वे क्रमशः 6 मिनट, 8 मिनट, 10 मिनट और 14 मिनट में एक चक्कर पूरा करते हैं। चूँकि उन्होंने एक साथ शुरुआत की थी, तो कितने घंटे बाद वे फिर से शुरुआती स्थान पर मिलेंगे?

- Ans ☐ 1. 18
☒ 2. 14
☐ 3. 12
☐ 4. 15

Q.17 4, 12 और 20 का चतुर्थानुपाती ज्ञात कीजिए।

- Ans ☐ 1. 30
☒ 2. 60
☐ 3. 28
☐ 4. 80

Q.18 एक पंसारी को क्रमशः ₹165 और ₹285 प्रति kg मूल्य वाले चावल की दो किस्मों को किस अनुपात में मिलाना चाहिए, ताकि ₹195 प्रति kg मूल्य के चावल का मिश्रण प्राप्त हो?

- Ans ☐ 1. 9 : 5
☐ 2. 5 : 2
☒ 3. 3 : 1
☐ 4. 7 : 4

Q.19 वह छोटी से छोटी प्राकृतिक संख्या ज्ञात कीजिए, जो 5, 10, 49 और 28 से विभाज्य हो।

- Ans ☐ 1. 900
☒ 2. 980
☐ 3. 1040
☐ 4. 1006

Q.20 वार्षिक साधारण ब्याज की समान दर पर विजय ₹5400 की राशि का निवेश करता है और मोहन ₹9400 की राशि का निवेश करता है। यदि 6 वर्ष के अंत में, मोहन को विजय से ₹600 अधिक ब्याज प्राप्त होता है, तो वार्षिक ब्याज की दर (प्रतिशत में) ज्ञात कीजिए।

- Ans ☒ 1. 2.5
☐ 2. 3.5
☐ 3. 4.5
☐ 4. 1.5

Q.1	<p>Select the word from among the given options that is closest in meaning to the underlined word in the given sentence.</p> <p>Puja decided to <u>devote</u> more time to volunteering at the local shelter, helping those in need.</p>
Ans	<div><div><div>✗</div><div>1. Plan</div></div><div><div>✗</div><div>2. Waste</div></div><div><div>✗</div><div>3. Divide</div></div><div><div>✓</div><div>4. Dedicate</div></div></div>
Q.2	<p>Select the INCORRECTLY spelt word.</p>
Ans	<div><div><div>✗</div><div>1. Anxiety</div></div><div><div>✗</div><div>2. Proceed</div></div><div><div>✗</div><div>3. Idiotic</div></div><div><div>✓</div><div>4. Recieve</div></div></div>
Q.3	<p>Select the most appropriate synonym of the given word.</p> <p>Competent</p>
Ans	<div><div><div>✗</div><div>1. Gracious</div></div><div><div>✗</div><div>2. Ambitious</div></div><div><div>✓</div><div>3. Skilled</div></div><div><div>✗</div><div>4. Humble</div></div></div>
Q.4	<p>Select the most appropriate phrase that can substitute the underlined segment in the given sentence without altering the sentence's meaning.</p> <p>The scientist’s research was <u>pivotal in advancing</u> our understanding of genetic mutations.</p>
Ans	<div><div><div>✓</div><div>1. essential in furthering</div></div><div><div>✗</div><div>2. irrelevant to stalling</div></div><div><div>✗</div><div>3. inconsequential to hindering</div></div><div><div>✗</div><div>4. minor in restricting</div></div></div>
Q.5	<p>Select the most appropriate option that can substitute the underlined segment in the given sentence.</p> <p>The level of the sea globally <u>is rising fast and higher than</u> ever before, creating what the United Nations has described as an “urgent and escalating threat” to people around the world.</p>
Ans	<div><div><div>✗</div><div>1. is rise faster and higher than</div></div><div><div>✗</div><div>2. is rising fastest and higher than</div></div><div><div>✗</div><div>3. was rising faster and high than</div></div><div><div>✓</div><div>4. is rising faster and higher than</div></div></div>
Q.6	<p>Select the INCORRECTLY spelt word.</p>
Ans	<div><div><div>✓</div><div>1. Fissible</div></div><div><div>✗</div><div>2. Affected</div></div><div><div>✗</div><div>3. Exposure</div></div><div><div>✗</div><div>4. Charity</div></div></div>

Q.7	Select the most appropriate ANTONYM of the given word. Everlasting Ans <input checked="" type="checkbox"/> 1. Momentary <input type="checkbox"/> 2. Calibrating <input type="checkbox"/> 3. Tampered <input type="checkbox"/> 4. Fantabulous
Q.8	The following sentence has been divided into parts. One of them may contain an error. Select the part that contains the error from the given options. If you don't find any error, mark 'No error' as your answer. The trunk/ that she brought yesterday/ is not big much to lift. Ans <input type="checkbox"/> 1. that she brought yesterday <input type="checkbox"/> 2. The trunk <input checked="" type="checkbox"/> 3. is not big much to lift <input type="checkbox"/> 4. No error.
Q.9	Select the option that has the INCORRECT use of adverb. Ans <input type="checkbox"/> 1. My colleague wished to drop at the restaurant nearby, before reporting for the annual sports week organised by the institute. <input type="checkbox"/> 2. My colleague was sad when she realised that she left her precious gift in the restaurant nearby. <input type="checkbox"/> 3. My colleague was very happy to purchase the flat near her best friend's house. <input checked="" type="checkbox"/> 4. My colleague invited everyone to her house for her son's birthday party that was nearby situated.
Q.10	Select the most appropriate option to fill in the blank. The ethnographer's _____ approach to fieldwork yielded rich data but raised ethical concerns about cultural appropriation. Ans <input type="checkbox"/> 1. empathetic <input type="checkbox"/> 2. emetic <input type="checkbox"/> 3. emit <input checked="" type="checkbox"/> 4. etic
Q.11	Select the most appropriate meaning of the given idiom. Out of the blue Ans <input type="checkbox"/> 1. Quite old <input type="checkbox"/> 2. Extremely cold <input checked="" type="checkbox"/> 3. Completely unexpected <input type="checkbox"/> 4. Very doubtful
Q.12	Select the most appropriate option to fill in the blank. The meeting was postponed _____ the unexpected power outage. Ans <input checked="" type="checkbox"/> 1. due to <input type="checkbox"/> 2. for <input type="checkbox"/> 3. since <input type="checkbox"/> 4. because

Q.13 Select the most appropriate synonym of the given word.

Colossal

- Ans**
- ☒ 1. Miniature
 - ☒ 2. Petite
 - ☒ 3. Massive
 - ☒ 4. Diminutive

Q.14 Select the word that best completes the given sentence. Determine the collocation through the sentence.

Prathap is a _____ respected member of the community.

- Ans**
- ☒ 1. seriously
 - ☒ 2. closely
 - ☒ 3. sensibly
 - ☒ 4. highly

Q.15 Select the most appropriate synonym of the underlined word in the following sentence to fill in the blank.

A bone got stuck in his gullet, he should try to clear his _____.

- Ans**
- ☒ 1. throat
 - ☒ 2. molars
 - ☒ 3. chest
 - ☒ 4. stomach

Comprehension:

In the following passage, some words have been deleted. Read the passage carefully and answer the questions that follow select the most appropriate option to fill in each blank.

The evolution of technology has (1)_____ to unprecedented advancements in various fields, from medicine to communication. The invention of the Internet, in particular, (2)_____ a global revolution, altering how people connect and share information. Innovations in artificial intelligence and machine learning (3)_____ automation and efficiency, transforming industries and creating new economic paradigms. As technology (4)_____ to evolve, ethical and social implications (5)_____ significant consideration.

SubQuestion No : 16

Q.16 Select the most appropriate option to fill in blank number 1.

- Ans**
- ☒ 1. leads
 - ☒ 2. lead
 - ☒ 3. leading
 - ☒ 4. led

Comprehension:

In the following passage, some words have been deleted. Read the passage carefully and answer the questions that follow select the most appropriate option to fill in each blank.

The evolution of technology has (1)_____ to unprecedented advancements in various fields, from medicine to communication. The invention of the Internet, in particular, (2)_____ a global revolution, altering how people connect and share information. Innovations in artificial intelligence and machine learning (3)_____ automation and efficiency, transforming industries and creating new economic paradigms. As technology (4)_____ to evolve, ethical and social implications (5)_____ significant consideration.

SubQuestion No : 17

Q.17 Select the most appropriate option to fill in blank number 2.

- Ans**
- ☒ 1. catalyses
 - ☒ 2. catalyse
 - ☒ 3. catalysed
 - ☒ 4. catalysing

Comprehension:

In the following passage, some words have been deleted. Read the passage carefully and answer the questions that follow select the most appropriate option to fill in each blank.

The evolution of technology has (1)_____ to unprecedented advancements in various fields, from medicine to communication. The invention of the Internet, in particular, (2)_____ a global revolution, altering how people connect and share information. Innovations in artificial intelligence and machine learning (3)_____ automation and efficiency, transforming industries and creating new economic paradigms. As technology (4)_____ to evolve, ethical and social implications (5)_____ significant consideration.

SubQuestion No : 18

Q.18 Select the most appropriate option to fill in blank number 3.

- Ans
- ☒ 1. promote
 - ☒ 2. promotes
 - ☒ 3. promoting
 - ☒ 4. promoted

Comprehension:

In the following passage, some words have been deleted. Read the passage carefully and answer the questions that follow select the most appropriate option to fill in each blank.

The evolution of technology has (1)_____ to unprecedented advancements in various fields, from medicine to communication. The invention of the Internet, in particular, (2)_____ a global revolution, altering how people connect and share information. Innovations in artificial intelligence and machine learning (3)_____ automation and efficiency, transforming industries and creating new economic paradigms. As technology (4)_____ to evolve, ethical and social implications (5)_____ significant consideration.

SubQuestion No : 19

Q.19 Select the most appropriate option to fill in blank number 4.

- Ans
- ☒ 1. continues
 - ☒ 2. continue
 - ☒ 3. continuing
 - ☒ 4. continued

Comprehension:

In the following passage, some words have been deleted. Read the passage carefully and answer the questions that follow select the most appropriate option to fill in each blank.

The evolution of technology has (1)_____ to unprecedented advancements in various fields, from medicine to communication. The invention of the Internet, in particular, (2)_____ a global revolution, altering how people connect and share information. Innovations in artificial intelligence and machine learning (3)_____ automation and efficiency, transforming industries and creating new economic paradigms. As technology (4)_____ to evolve, ethical and social implications (5)_____ significant consideration.

SubQuestion No : 20

Q.20 Select the most appropriate option to fill in blank number 5.

- Ans
- ☒ 1. deserving
 - ☒ 2. deserve
 - ☒ 3. deserved
 - ☒ 4. deserves

Section : Part-D-Hindi

Q.1 निम्नलिखित वाक्य को ध्यानपूर्वक पढ़ें और बताएं कि प्रस्तुत विकल्पों में से कौनसा विकल्प चिन्हित शब्द का विलोम शब्द है?

आज़ादी के इतने वर्षों के बाद भी भारत की अधिकतर जनसंख्या साक्षरता दर के नीचे है।

- Ans
- ☒ 1. निरक्षरता
 - ☒ 2. सापेक्षता
 - ☒ 3. स्वच्छता
 - ☒ 4. अक्षरता

Q.2	‘ _____ प्रमुख भारतीय व्यंजन है।’ रिक्त स्थान की पूर्ति के लिए उपयुक्त तत्सम है-
Ans	<div><div><div>✗</div><div>1. दही</div></div><div><div>✓</div><div>2. क्षीर</div></div><div><div>✗</div><div>3. तिक्त</div></div><div><div>✗</div><div>4. हरिद्रा</div></div></div>
Q.3	निम्नांकित मुहावरे के रिक्त स्थान के लिए सर्वाधिक उपयुक्त शब्द कौन-सा है? ईश्वर की माया, कहीं धूप कहीं _____ ।
Ans	<div><div><div>✓</div><div>1. छाया</div></div><div><div>✗</div><div>2. बारिश</div></div><div><div>✗</div><div>3. सूखा</div></div><div><div>✗</div><div>4. पानी</div></div></div>
Q.4	‘दीपावली का पर्व _____ की रात्रि को मनाया जाता है।’ उपर्युक्त वाक्य में रिक्त स्थान की पूर्ति के लिए उपयुक्त तत्सम शब्द है -
Ans	<div><div><div>✗</div><div>1. चौथ</div></div><div><div>✗</div><div>2. तीज</div></div><div><div>✗</div><div>3. छठ</div></div><div><div>✓</div><div>4. अमावस्या</div></div></div>
Q.5	निम्नलिखित वाक्य के किस खंड में अशुद्धि है? इन दोनों में केवल यही अंतर है।
Ans	<div><div><div>✗</div><div>1. यही</div></div><div><div>✗</div><div>2. दोनों</div></div><div><div>✗</div><div>3. अंतर</div></div><div><div>✓</div><div>4. केवल</div></div></div>
Q.6	रेखांकित शब्द के स्थान पर सर्वोचित विकल्प चुनिए। आपकी <u>उपस्थिति</u> के बिना हम कुछ नहीं कर सकते थे।
Ans	<div><div><div>✗</div><div>1. उपलब्धता</div></div><div><div>✗</div><div>2. अनुकम्पा</div></div><div><div>✓</div><div>3. सहायता</div></div><div><div>✗</div><div>4. प्रतिष्ठा</div></div></div>
Q.7	निम्नलिखित वाक्य में रिक्त स्थान के लिए सर्वाधिक उपयुक्त शब्द कौन-सा है? जिंदगी सबको _____ है।
Ans	<div><div><div>✗</div><div>1. रोती</div></div><div><div>✓</div><div>2. मांजती</div></div><div><div>✗</div><div>3. दया</div></div><div><div>✗</div><div>4. सजा</div></div></div>
Q.8	निम्न वाक्य में रेखांकित पद को संशोधित कीजिए। एक बदमाश की <u>मस्तिष्क</u> पुलिस के डंडे से फट गयी।
Ans	<div><div><div>✗</div><div>1. सिर</div></div><div><div>✓</div><div>2. खोपड़ी</div></div><div><div>✗</div><div>3. कपोल</div></div><div><div>✗</div><div>4. दिमाग</div></div></div>

Q.9	निम्नलिखित में से बहुवचन से संबंधित वाक्य है-
Ans	<div><div><div>✗</div><div>1. एक महिला आई है।</div></div><div><div>✗</div><div>2. महिला बाज़ार जा रही है।</div></div><div><div>✗</div><div>3. कल कोई महिला आई थी।</div></div><div><div>✓</div><div>4. कुछ महिलाएँ बाहर खड़ी हैं।</div></div></div>
Q.10	निम्नलिखित में से कौन सा 'पेड़' का पर्यायवाची शब्द नहीं है?
Ans	<div><div><div>✗</div><div>1. पादप</div></div><div><div>✗</div><div>2. विटप</div></div><div><div>✗</div><div>3. तरु</div></div><div><div>✓</div><div>4. आशय</div></div></div>
Q.11	निम्नलिखित में से किस वाक्य में लिंग सम्बन्धी अशुद्धि है?
Ans	<div><div><div>✗</div><div>1. नदी सदैव बहती ही रहती है।</div></div><div><div>✓</div><div>2. मोहिनी की नृत्य अत्यंत ललित है।</div></div><div><div>✗</div><div>3. मेरी अभिलाषा है कि मेरे जन्मदिन पर आप अवश्य आयें।</div></div><div><div>✗</div><div>4. आपकी क्षति की पूर्ति कर दी जायेगी।</div></div></div>
Q.12	'कलंक' का उपयुक्त एकार्थक शब्द है -
Ans	<div><div><div>✓</div><div>1. अपकीर्ति</div></div><div><div>✗</div><div>2. सम्मान</div></div><div><div>✗</div><div>3. सुकीर्ति</div></div><div><div>✗</div><div>4. प्रतिष्ठा</div></div></div>
Q.13	रेखांकित शब्द के स्थान पर सर्वोचित विकल्प चुनिए। उसे <u>अभिमान</u> है कि वह उच्चवर्गीय परिवार में पैदा हुआ है।
Ans	<div><div><div>✗</div><div>1. आनंद</div></div><div><div>✓</div><div>2. गर्व</div></div><div><div>✗</div><div>3. कष्ट</div></div><div><div>✗</div><div>4. आशंका</div></div></div>
Q.14	निम्नलिखित वाक्य में वर्तनी संबंधी त्रुटि की पहचान कर शुद्ध वाक्य का चयन करें। मालती के दो छोटे-छोटे बच्चेन हैं।
Ans	<div><div><div>✗</div><div>1. मालटी की दो छोटे-छोटे बच्चे हैं।</div></div><div><div>✗</div><div>2. मालती के दो छोटे-छोटे बच्चेन है।</div></div><div><div>✓</div><div>3. मालती के दो छोटे-छोटे बच्चे हैं।</div></div><div><div>✗</div><div>4. मालती कि दो छोटे-छोटे बच्चे हैं।</div></div></div>
Q.15	बात में यूँ तो कोई बात नहीं होती पर फिर भी वह _____ की तरह चुभ जाती है। 'तीर' के पर्याय से वाक्य पूर्ण करें--
Ans	<div><div><div>✓</div><div>1. शर</div></div><div><div>✗</div><div>2. खड्ग</div></div><div><div>✗</div><div>3. शूल</div></div><div><div>✗</div><div>4. तलवार</div></div></div>

Comprehension:

प्रश्न संख्या 1 से 5 तक इसी अनुच्छेद से करें।

भारतीय संस्कृति का वह महावाक्य _____ (1) कहीं गुम हो गया है। सच तो यह है कि जातिप्रथा के बिगुल की भौड़ी आवाज़ में _____ (2) की सरसता कहीं खो गई है। जिस भारत में आज जातियों-उपजातियों की असीमित शृंखला पनपती जा रही है उसी भारत में जातिवाद का अस्तित्व भी नहीं था। उक्त चार वर्ण जिन्हें हम जाति की संज्ञा दें भी तो उसका आधार _____ (3) था, जन्म नहीं। इसका सशक्त प्रमाण हैं वाल्मीकि एवं विश्वामित्र। वाल्मीकि सेवक वर्ग में जन्मे एक निरक्षर लुटेरे थे किन्तु ज्ञानियों के सान्निध्य ने उन्हें _____ (4) बना दिया। इसी प्रकार विश्वमित्र क्षत्रिय कुल में जन्मे किन्तु उनकी रूचि ने उन्हें महाज्ञानी महर्षि के रूप में प्रतिष्ठित किया। इस युग में भी क्या बाबा साहब अम्बेडकर को उनकी प्रतिभा का समूचा _____ (5) नहीं मिला ?

SubQuestion No : 16

Q.16 रिक्त स्थान के लिए सही विकल्प चुनें।(1)

- Ans
- ☒ 1. 'सादा जीवन नेक विचार'
 - ☒ 2. 'सादा जीवन उच्च विचार'
 - ☒ 3. 'सादा जीवन अच्छा विचार'
 - ☒ 4. 'सादा जीवन उत्तम विचार'

Comprehension:

प्रश्न संख्या 1 से 5 तक इसी अनुच्छेद से करें।

भारतीय संस्कृति का वह महावाक्य _____ (1) कहीं गुम हो गया है। सच तो यह है कि जातिप्रथा के बिगुल की भौड़ी आवाज़ में _____ (2) की सरसता कहीं खो गई है। जिस भारत में आज जातियों-उपजातियों की असीमित शृंखला पनपती जा रही है उसी भारत में जातिवाद का अस्तित्व भी नहीं था। उक्त चार वर्ण जिन्हें हम जाति की संज्ञा दें भी तो उसका आधार _____ (3) था, जन्म नहीं। इसका सशक्त प्रमाण हैं वाल्मीकि एवं विश्वामित्र। वाल्मीकि सेवक वर्ग में जन्मे एक निरक्षर लुटेरे थे किन्तु ज्ञानियों के सान्निध्य ने उन्हें _____ (4) बना दिया। इसी प्रकार विश्वमित्र क्षत्रिय कुल में जन्मे किन्तु उनकी रूचि ने उन्हें महाज्ञानी महर्षि के रूप में प्रतिष्ठित किया। इस युग में भी क्या बाबा साहब अम्बेडकर को उनकी प्रतिभा का समूचा _____ (5) नहीं मिला ?

SubQuestion No : 17

Q.17 रिक्त स्थान के लिए सही विकल्प चुनें।(2)

- Ans
- ☒ 1. लौकिकता
 - ☒ 2. भारतीयता
 - ☒ 3. प्रभुता
 - ☒ 4. मानवता

Comprehension:

प्रश्न संख्या 1 से 5 तक इसी अनुच्छेद से करें।

भारतीय संस्कृति का वह महावाक्य _____ (1) कहीं गुम हो गया है। सच तो यह है कि जातिप्रथा के बिगुल की भौड़ी आवाज़ में _____ (2) की सरसता कहीं खो गई है। जिस भारत में आज जातियों-उपजातियों की असीमित शृंखला पनपती जा रही है उसी भारत में जातिवाद का अस्तित्व भी नहीं था। उक्त चार वर्ण जिन्हें हम जाति की संज्ञा दें भी तो उसका आधार _____ (3) था, जन्म नहीं। इसका सशक्त प्रमाण हैं वाल्मीकि एवं विश्वामित्र। वाल्मीकि सेवक वर्ग में जन्मे एक निरक्षर लुटेरे थे किन्तु ज्ञानियों के सान्निध्य ने उन्हें _____ (4) बना दिया। इसी प्रकार विश्वमित्र क्षत्रिय कुल में जन्मे किन्तु उनकी रूचि ने उन्हें महाज्ञानी महर्षि के रूप में प्रतिष्ठित किया। इस युग में भी क्या बाबा साहब अम्बेडकर को उनकी प्रतिभा का समूचा _____ (5) नहीं मिला ?

SubQuestion No : 18

Q.18 रिक्त स्थान के लिए सही विकल्प चुनें।(3)

- Ans
- ☒ 1. धर्म
 - ☒ 2. कर्म
 - ☒ 3. शर्म
 - ☒ 4. मर्म

Comprehension:

प्रश्न संख्या 1 से 5 तक इसी अनुच्छेद से करें।

भारतीय संस्कृति का वह महावाक्य _____ (1) कहीं गुम हो गया है। सच तो यह है कि जातिप्रथा के बिगुल की भौंड़ी आवाज़ में _____ (2) की सरसता कहीं खो गई है। जिस भारत में आज जातियों-उपजातियों की असीमित शृंखला पनपती जा रही है उसी भारत में जातिवाद का अस्तित्व भी नहीं था। उक्त चार वर्ण जिन्हें हम जाति की संज्ञा दें भी तो उसका आधार _____ (3) था, जन्म नहीं। इसका सशक्त प्रमाण हैं वाल्मीकि एवं विश्वामित्र। वाल्मीकि सेवक वर्ग में जन्मे एक निरक्षर लुटेरे थे किन्तु ज्ञानियों के सान्निध्य ने उन्हें _____ (4) बना दिया। इसी प्रकार विश्वामित्र क्षत्रिय कुल में जन्मे किन्तु उनकी रूचि ने उन्हें महाज्ञानी महर्षि के रूप में प्रतिष्ठित किया। इस युग में भी क्या बाबा साहब अम्बेडकर को उनकी प्रतिभा का समूचा _____ (5) नहीं मिला ?

SubQuestion No : 19

Q.19 रिक्त स्थान के लिए सही विकल्प चुनें।(4)

- Ans
- ☒ 1. संन्यासी
 - ☒ 2. महर्षि
 - ☒ 3. देवर्षि
 - ☒ 4. साधु

Comprehension:

प्रश्न संख्या 1 से 5 तक इसी अनुच्छेद से करें।

भारतीय संस्कृति का वह महावाक्य _____ (1) कहीं गुम हो गया है। सच तो यह है कि जातिप्रथा के बिगुल की भौंड़ी आवाज़ में _____ (2) की सरसता कहीं खो गई है। जिस भारत में आज जातियों-उपजातियों की असीमित शृंखला पनपती जा रही है उसी भारत में जातिवाद का अस्तित्व भी नहीं था। उक्त चार वर्ण जिन्हें हम जाति की संज्ञा दें भी तो उसका आधार _____ (3) था, जन्म नहीं। इसका सशक्त प्रमाण हैं वाल्मीकि एवं विश्वामित्र। वाल्मीकि सेवक वर्ग में जन्मे एक निरक्षर लुटेरे थे किन्तु ज्ञानियों के सान्निध्य ने उन्हें _____ (4) बना दिया। इसी प्रकार विश्वामित्र क्षत्रिय कुल में जन्मे किन्तु उनकी रूचि ने उन्हें महाज्ञानी महर्षि के रूप में प्रतिष्ठित किया। इस युग में भी क्या बाबा साहब अम्बेडकर को उनकी प्रतिभा का समूचा _____ (5) नहीं मिला ?

SubQuestion No : 20

Q.20 रिक्त स्थान के लिए सही विकल्प चुनें।(5)

- Ans
- ☒ 1. सत्कार
 - ☒ 2. स्थान
 - ☒ 3. अभिमान
 - ☒ 4. सम्मान