

Section : General Intelligence

Q.1 Four numbers have been given, out of which three are alike in some manner and one is different. Select the number that is different.

- Ans 1. 1726
 2. 2197
 3. 1331
 4. 2744

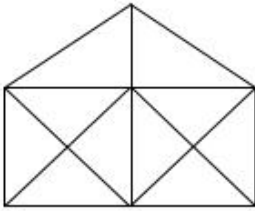
Question ID : 6549789082
Status : Answered
Chosen Option : 1

Q.2 दो अंकों वाली एक संख्या के दोनों अंकों का योगफल 13 है और दोनों अंकों को परस्पर प्रतिस्थापित करने से प्राप्त संख्या, मूल संख्या से 27 कम है। मूल संख्या ज्ञात करें।

- Ans
- ✓ 1. 85
 - ✗ 2. 76
 - ✗ 3. 94
 - ✗ 4. 58

Question ID : 6549789076
Status : Answered
Chosen Option : 1

Q.3 निम्न आकृति में कितने त्रिभुज हैं?



- Ans
- ✓ 1. 23
 - ✗ 2. 19
 - ✗ 3. 27
 - ✗ 4. 25

Question ID : 6549789096
Status : Marked For Review
Chosen Option : 1

Q.4 उस विकल्प का चयन करें, जिसमें शब्द एक दूसरे से ठीक उसी प्रकार संबंधित हैं, जिस प्रकार दिए गए शब्द युग्म के शब्द एक दूसरे से संबंधित हैं।

अकाल : सूखा

- Ans
- ✓ 1. तबाही : तूफान
 - ✗ 2. परीक्षा : डिग्री
 - ✗ 3. मंदिर : भक्ति
 - ✗ 4. युद्ध : जीतना

Question ID : 6549789090
Status : Answered
Chosen Option : 1

Q.5 उस विकल्प का चयन करें, जो तीसरे पद से ठीक उसी प्रकार संबंधित है, जिस प्रकार दूसरा पद, पहले पद से संबंधित है।

DOCILE : CDEILO :: LABOUR : ?

- Ans
- 1. BRLAOU
 - 2. ALBROU
 - 3. ABLORU
 - 4. BLORAU

Question ID : 6549789591

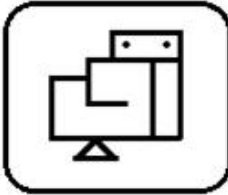
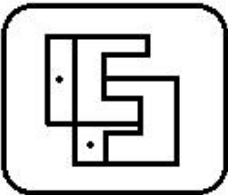
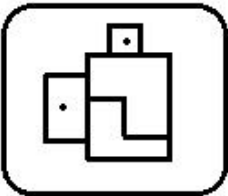
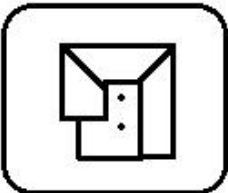
Status : Answered

Chosen Option : 4

Q.6 उस विकल्प का चयन करें, जिसमें दी गई आकृति सन्निकित है। (घुमाने की अनुमति नहीं है)

5

Ans

- 1. 
- 2. 
- 3. 
- 4. 

Question ID : 6549789602

Status : Answered

Chosen Option : 2

Q.7 गणितीय चिह्नों के उस सही संयोजन का चयन करें जिसके चिह्नों को क्रमिक रूप से * चिह्नों के स्थान पर रखने से दिया गया समीकरण संतुलित हो जाएगा।

$$110 * 728 * 28 * 15 * 413 = 87$$

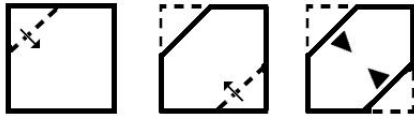
- Ans
- 1. +, -, ×, ÷
 - 2. +, ÷, ×, -
 - 3. +, ×, -, ÷
 - 4. +, ×, ÷, -

Question ID : 6549789582

Status : Answered

Chosen Option : 2

Q.8 The sequence of folding a piece of paper and the manner in which the folded paper has been cut is shown in the following figures. How would this paper look when unfolded?



Ans

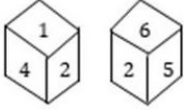
- 1.
- 2.
- 3.
- 4.

Question ID : 6549789603

Status : Answered

Chosen Option : 4

Q.9 एक ही पासे की दो भिन्न-भिन्न स्थितियों को दर्शाया गया है। यदि संख्या '1' नीचे (निचले फलक पर) है, तो शीर्ष वाले फलक पर कौन सी संख्या होगी?



- Ans
- 1. 6
 - 2. 5
 - 3. 4
 - 4. 3

Question ID : 6549789094

Status : Answered

Chosen Option : 2

Q.10 किसी निश्चित कोड भाषा में, EXHALE को IFEBBY लिखा जाता है। उसी भाषा में HINDER को कैसे लिखा जाएगा?

- Ans
- 1. VHYHMB
 - 2. VYHHMB
 - 3. VHYHBM
 - 4. VYHMHMB

Question ID : 6549789589

Status : Not Answered

Chosen Option : --

Q.11 दिए गए कथनों और निष्कर्षों को ध्यान से पढ़ें। यह मानते हुए कि कथनों में दी गई जानकारी सत्य है, चाहे वह सामान्य रूप से ज्ञात तथ्यों से भिन्न प्रतीत होती हो, निर्धारित करें कि दिए गए कौन-सा/कौन-से निष्कर्ष, कथनों का तार्किक रूप से अनुसरण करता/करते है/हैं।

कथन:

सभी बल्ब, ट्यूब हैं।

कुछ बल्ब, गिलास हैं।

निष्कर्ष:

I. कोई बल्ब, ट्यूब नहीं है।

II. कुछ गिलास, बल्ब हैं।

- Ans
- 1. निष्कर्ष I और II दोनों अनुसरण करते हैं
 - 2. केवल निष्कर्ष I अनुसरण करता है
 - 3. न तो निष्कर्ष I और न ही II अनुसरण करता है
 - 4. केवल निष्कर्ष II अनुसरण करता है

Question ID : 6549789598

Status : Answered

Chosen Option : 4

Q.12 उस संख्या का चयन करें, जो निम्न श्रेणी में प्रश्नवाचक चिन्ह (?) को प्रतिस्थापित कर सकती है।

9, 10, 13, 24, 37, 66, 97, ?

Ans 1. 152

2. 125

3. 215

4. 251

Question ID : 6549789586

Status : Marked For Review

Chosen Option : 2

Q.13 उस विकल्प का चयन करें, जिसमें संख्याएं एक दुसरे से ठीक उसी प्रकार संबंधित हैं, जिस प्रकार दिए गए संख्या-युग्म की संख्याएं एक दुसरे से संबंधित हैं।

9 : 50

Ans 1. 8 : 42

2. 5 : 16

3. 13 : 98

4. 11 : 63

Question ID : 6549789078

Status : Not Answered

Chosen Option : --

Q.14 चार अक्षर-समूह दिए गए हैं, जिनमें से तीन किसी प्रकार समान हैं और एक असंगत है। असंगत अक्षर-समूह का चयन करें।

Ans 1. HJRQ

2. KMPN

3. DFWU

4. ACZX

Question ID : 6549789091

Status : Answered

Chosen Option : 1

Q.15 उस अक्षर संयोजन का चयन करें, जिसे दी गई अक्षर श्रेणी के रिक्त स्थानों में क्रमिक रूप से रखने पर श्रेणी पूर्ण हो जाएगी।

l _ chtlgc _ tlg _ ht _ gc _ tlgch _

Ans 1. hghclt

2. ghchlht

3. hhgclt

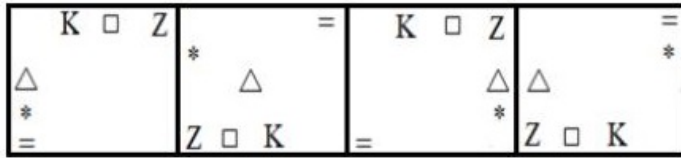
4. ghchlht

Question ID : 6549788280

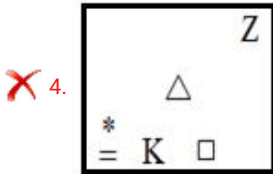
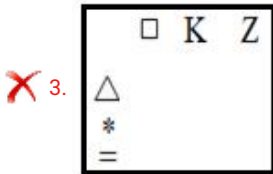
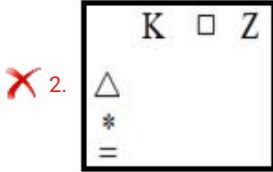
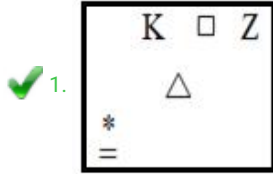
Status : Answered

Chosen Option : 4

Q.16 उस आकृति का चयन करें, जो निम्न श्रेणी में अगले स्थान पर आएगी।



Ans



Question ID : 6549789095

Status : Answered

Chosen Option : 1

Q.17 किसी निश्चित कूट भाषा में, REASON को 51 और BAKE को 47 लिखा जाता है। उसी कूट भाषा में MARRY को किस प्रकार लिखा जाएगा?

Ans ✗ 1. 37

✗ 2. 41

✗ 3. 47

✓ 4. 35

Question ID : 6549789085

Status : Not Answered

Chosen Option : --

Q.18 चार शब्द दिए गए हैं, जिनमें से तीन किसी प्रकार से समान हैं और एक असंगत है। असंगत शब्द का चयन करें।

- Ans 1. विकास
 2. अवरोध
 3. वृद्धि
 4. प्रगति

Question ID : 6549789597

Status : Answered

Chosen Option : 2

Q.19 दिए गए विकल्पों में से वह संख्या-समूह चुनें, जिसकी संख्याएं, दिए गए संख्या-समूह की संख्याओं के समान ही तर्क/नियम/संबंध का अनुसरण नहीं करती हैं।

(165, 16, 91)

- Ans 1. (76, 11, 45)
 2. (85, 13, 59)
 3. (99, 14, 97)
 4. (57, 9, 24)

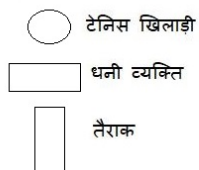
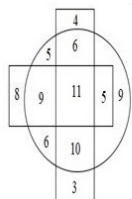
Question ID : 6549789584

Status : Answered

Chosen Option : 4

Q.20 दिए गए आरेख में, आकृतियां व्यक्ति की श्रेणियों को दर्शाती हैं। विभिन्न खंडों में दी गई संख्याएं उस श्रेणी के व्यक्तियों की संख्या को निरूपित करती हैं।

कितने टेनिस खिलाड़ी या तो तैराक हैं या धनी व्यक्ति हैं, लेकिन दोनों नहीं हैं?



- Ans 1. 30
 2. 26
 3. 41
 4. 24

Question ID : 6549789100

Status : Answered

Chosen Option : 3

Q.21 उस सही विकल्प का चयन करें, जो दिए गए शब्द विन्यास के तार्किक और सार्थक क्रम को दर्शाता है।

1. रंगाई(Colour wash)
2. दीवार(Wall)
3. सजावट (Decoration)
4. नींव(Foundation)
5. छत(Roof)
6. फर्श सीमेंटिंग (Floor cementing)

- Ans
- 1. 4, 2, 5, 6, 1, 3
 - 2. 4, 5, 6, 2, 3, 1
 - 3. 4, 2, 6, 5, 1, 3
 - 4. 3, 1, 5, 6, 4, 2

Question ID : 6549789083

Status : Not Answered

Chosen Option : --

Q.22 जब दर्पण को दर्शाए गए चित्र के अनुसार 'PQ' पर रखा जाता है, तो दिए गए संयोजन के सही दर्पण प्रतिबिंब का चयन करें।

FEDARATION
P
|
Q

- Ans
- 1. NOITARADEF
 - 2. EEDVAVION
 - 3. EVDEKVALION
 - 4. NOITAREDAF

Question ID : 6549789604

Status : Not Answered

Chosen Option : --

Q.23 रमा, राधिका की पुत्री है, जो रेखा की इकलौती बहू है। मोहन, ऋषि का पिता और रेखा का पति है। ऋषि, रमा से किस प्रकार संबंधित है?

- Ans
- 1. पति
 - 2. भाई
 - 3. पिता
 - 4. ममेरा भाई

Question ID : 6549788786

Status : Not Answered

Chosen Option : --

Q.24 उस विकल्प का चयन करें, जिसमें संख्याएं एक दूसरे से ठीक उसी प्रकार संबंधित हैं, जिस प्रकार निम्न सेट की संख्याएं एक दूसरे से संबंधित हैं।

{6, 9, 18}

- Ans
- 1. {9, 13, 40}
 - 2. {8, 12, 30}
 - 3. {12, 18, 52}
 - 4. {10, 15, 50}

Question ID : 6549789080

Status : Not Answered

Chosen Option : --

Q.25 उस विकल्प का चयन करें, जो तीसरे शब्द से ठीक उसी प्रकार संबंधित है, जिस प्रकार दूसरा शब्द, पहले शब्द से संबंधित है।

प्रिज्म : काँच :: रस्सी : ?

- Ans
- 1. जूट
 - 2. लेटेक्स
 - 3. लुगदी
 - 4. अयस्क

Question ID : 6549789592

Status : Not Answered

Chosen Option : --