

Section : **General Intelligence**

Q.1 एक निश्चित कूट भाषा में, UNREAL को 1421518121 के रूप में और RHYMES को 8181325195 के रूप में कूटबद्ध किया जाता है। उसी भाषा में, AIRWAY को कैसे कूटबद्ध किया जाएगा?

- Ans
- 1. 192318125
 - 2. 912217215
 - 3. 812218251
 - 4. 912318251

Question ID : **6549787368**
Status : **Not Answered**
Chosen Option : --

Q.2 उस विकल्प का चयन कीजिए जिसकी संख्याओं के मध्य वही संबंध है जो दिए गए समुच्चय की संख्याओं के मध्य है।

(12, 8, 116)

- Ans
- 1. (16, 6, 112)
 - 2. (24, 12, 296)
 - 3. (14, 6, 98)
 - 4. (20, 11, 251)

Question ID : **6549787363**
Status : **Not Answered**
Chosen Option : --

Q.3 यदि दर्पण को दी गई आकृति के दाईं ओर रखा जाए, तो दी गई आकृति का दर्पण में निर्मित सही प्रतिबिंब चयनित कीजिए।

CHEMISTRY

Ans

✗ 1.

CHEMISTRY

✗ 2.

CHEMISTRY

✗ 3.

CHEMISTRY

✓ 4.

CHEMISTRY

Question ID : 6549788594

Status : Answered

Chosen Option : 4

Q.4 हिमांशु, अंजन की पुत्री है। अर्चना की बहन मृणालिनी का एक पुत्र राहुल और एक पुत्री सुनयना है। कल्पिका, कृपाल की मां है, और सुनयना की मां की बहन है। राहुल, कृपाल का मौसेरा भाई है। कृपाल, हिमांशु का भाई है। अर्चना, अंजन से किस प्रकार संबंधित है?

Ans

✗ 1. मौसेरी बहन

✗ 2. भांजी

✓ 3. साली

✗ 4. बहन

Question ID : 6549787776

Status : Answered

Chosen Option : 2

Q.5 उस विकल्प का चयन करें, जो तीसरे अक्षर-समूह से ठीक उसी प्रकार संबंधित है, जिस प्रकार दूसरा अक्षर-समूह पहले अक्षर-समूह से संबंधित है।
CARBON : NOBCAR :: PUZZLE : ?

Ans

✗ 1. PELUZZ

✗ 2. ZPELUZ

✗ 3. ZZPULE

✓ 4. ELZPUZ

Question ID : 6549788581

Status : Answered

Chosen Option : 4

Q.6 उस संख्या का चयन करें, जो निम्न श्रेणी में प्रश्नवाचक चिह्न (?) के स्थान पर आएगी?
432, 413, 396, ?, 368, 357, 348

- Ans
- 1. 386
 - 2. 375
 - 3. 381
 - 4. 365

Question ID : 6549788576
Status : Answered
Chosen Option : 2

Q.7 उस अक्षर संयोजन का चयन करें, जिसे दी गई श्रेणी के खाली स्थानों में क्रमिक रूप से रखने पर श्रेणी पूर्ण होगी।

r _ l _ q r p _ b q _ p l b _ r _ l _ q

- Ans
- 1. l, p, q, b, r, p, b
 - 2. p, b, l, r, q, p, b
 - 3. p, p, l, b, r, q, b
 - 4. p, l, b, q, r, b, p

Question ID : 6549786563
Status : Not Answered
Chosen Option : --

Q.8 दो कथनों के बाद तीन निष्कर्ष I, II और III दिए गए हैं। यह मानते हुए कि कथन सत्य हैं, भले ही वे सामान्य रूप से ज्ञात तथ्यों से भिन्न प्रतीत होते हों, निर्धारित करें कि कौन-सा / कौन-से निष्कर्ष कथनों का तार्किक रूप से अनुसरण करता है / करते हैं।

कथन:
सभी कप, प्लेट हैं।
सभी प्लेट, चम्मच हैं।

निष्कर्ष:
I. सभी प्लेट कप हैं।
II. कुछ चम्मच ना तो प्लेट हैं और ना ही कप हैं।
III. कोई भी चम्मच कप नहीं है।

- Ans
- 1. कोई भी निष्कर्ष अनुसरण नहीं करता है।
 - 2. केवल निष्कर्ष III अनुसरण करता है।
 - 3. केवल निष्कर्ष I अनुसरण करता है।
 - 4. केवल निष्कर्ष II अनुसरण करता है।

Question ID : 6549788588
Status : Answered
Chosen Option : 4

Q.9 उस विकल्प का चयन कीजिए जिसका चौथी संख्या से वही संबंध है जो पहली संख्या का दूसरी संख्या से है तथा पांचवी संख्या का छठी संख्या से है।

14 : 49 :: ? : 256 :: 20 : 100

Ans

✓ 1. 32

✗ 2. 20

✗ 3. 16

✗ 4. 8

Question ID : 6549787361

Status : Answered

Chosen Option : 4

Q.10 निम्नलिखित चार शब्दों में से तीन किसी प्रकार समान हैं और एक असंगत है। असंगत शब्द का चयन करें।

Ans

✗ 1. की-पैड

✓ 2. मॉनिटर

✗ 3. स्कैनर

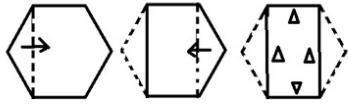
✗ 4. माउस

Question ID : 6549788587

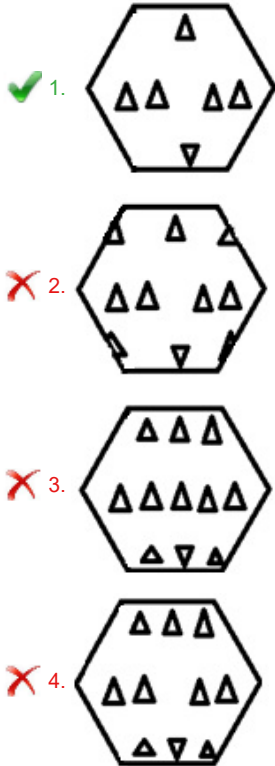
Status : Answered

Chosen Option : 2

Q.11 एक कागज़ को निम्न आकृति के अनुसार मोड़ा और काटा जाता है। इस कागज़ को खोलने पर यह कैसा दिखाई देगा?



Ans



Question ID : 6549788593

Status : Answered

Chosen Option : 3

Q.12 निम्नलिखित में से किस संख्या-समूह को अक्षरों के स्थान पर बाएं से दाएं रखने पर दिया गया समीकरण संतुलित हो जाएगा?

$$A \times B \div C - D + E = 14$$

- Ans
- 1. A = 4, B = 13, C = 2, D = 3, E = 5
 - 2. A = 4, B = 3, C = 2, D = 5, E = 13
 - 3. A = 4, B = 13, C = 3, D = 5, E = 2
 - 4. A = 13, B = 3, C = 4, D = 5, E = 2

Question ID : 6549788572

Status : Answered

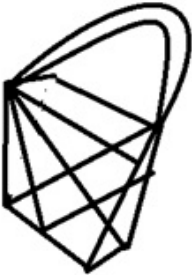
Chosen Option : 2

Q.13 उस विकल्प का चयन करें जिसमें दी गई आकृति अंतःस्थापित (embedded) है।



Ans

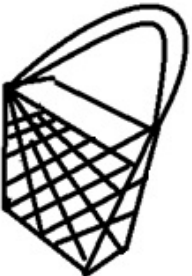
✗ 1.



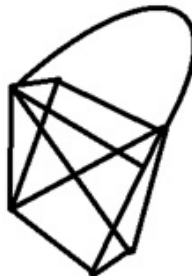
✗ 2.



✗ 3.

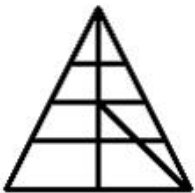


✓ 4.



Question ID : 6549788592
Status : Answered
Chosen Option : 4

Q.14 दी गई आकृति में कितने त्रिभुज हैं?



- Ans
- 1. 15
 - 2. 19
 - 3. 17
 - 4. 18

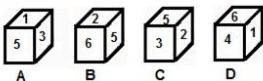
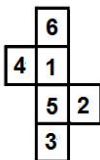
Question ID : 6549787379
 Status : Answered
 Chosen Option : 2

Q.15 दिए गए विकल्पों में से वह संख्या-समूह चुनें, जिसकी संख्याएं, दिए गए संख्या-समूह की संख्याओं के समान ही तर्क/ नियम/ संबंध का अनुसरण नहीं करती हैं।
 (13, 9, 117)

- Ans
- 1. (18, 6, 108)
 - 2. (14, 7, 98)
 - 3. (17, 5, 85)
 - 4. (19, 8, 162)

Question ID : 6549788574
 Status : Answered
 Chosen Option : 4

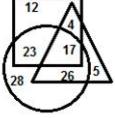
Q.16 उस घन/उन घनों का चयन कीजिए जो दी गई शीट को लाइनों पर मोड़ कर बनाया जा सकता है/बनाए जा सकते हैं।



- Ans
- 1. केवल A और C
 - 2. केवल C और D
 - 3. केवल B और C
 - 4. केवल A, C और D

Question ID : 6549787377
 Status : Answered
 Chosen Option : 2

Q.17 निम्न वेन आरेख में, वर्ग, निरीक्षकों को दर्शाता है, त्रिभुज, गृह स्वामियों को दर्शाता है, और वृत्त, भारतीयों को दर्शाता है। दी गई संख्याएं उस विशिष्ट वर्ग में व्यक्तियों की संख्या दर्शाती हैं।



कितने भारतीय निरीक्षक ऐसे हैं जो गृह स्वामी भी हैं?

- Ans
- 1. 40
 - 2. 23
 - 3. 26
 - 4. 17

Question ID : 6549787383
Status : Answered
Chosen Option : 4

Q.18 चार अक्षर-समूह दिए गए हैं, जिनमें से तीन एक निश्चित प्रकार से समान हैं, जबकि एक उनसे असंगत है। उस असंगत अक्षर-समूह का चयन कीजिए।

- Ans
- 1. SQNJ
 - 2. HFCY
 - 3. NLID
 - 4. CAXT

Question ID : 6549787374
Status : Answered
Chosen Option : 3

Q.19 उस विकल्प का चयन कीजिए जो दिए गए शब्दों के उस क्रम-विन्यास को दर्शाता है जिस क्रम में वे अंग्रेजी शब्दकोष में आते हैं।

1. Docket
2. Domicile
3. Dockyard
4. Docile
5. Dormitory

- Ans
- 1. 4, 3, 1, 2, 5
 - 2. 4, 1, 3, 5, 2
 - 3. 1, 4, 3, 2, 5
 - 4. 4, 1, 3, 2, 5

Question ID : 6549787366
Status : Answered
Chosen Option : 4

Q.20 उस विकल्प का चयन कीजिए जिसके शब्दों के मध्य वही संबंध है, जो दिए गए शब्द-युग्म के शब्दों के मध्य है।

ट्रप : ब्रिज़

- Ans
- 1. हेडर : साइकिलिंग
 - 2. ड्रिबल : फुटबॉल
 - 3. पिचिंग : स्वीमिंग
 - 4. क्रैक : पोलो

Question ID : 6549787373
Status : Answered
Chosen Option : 2

Q.21 विशाल ने ₹1,122 की धनराशि चार मित्रों A, B, C और D के मध्य क्रमशः 11 : 17 : 14 : 9 के अनुपात में बांटी। B को D से कितने रुपए अधिक मिले?

- Ans
- 1. ₹274
 - 2. ₹176
 - 3. ₹198
 - 4. ₹164

Question ID : 6549787359
Status : Answered
Chosen Option : 2

Q.22 किसी निश्चित कूट भाषा में, यदि APTITUDE को ADEIPTTU लिखा जाता है, तो उसी कूट भाषा में ATTITUDE को किस प्रकार लिखा जाएगा?

- Ans
- 1. ADETTUIT
 - 2. ADEITTTU
 - 3. ITADEIAE
 - 4. EIAETUIT

Question ID : 6549788579
Status : Answered
Chosen Option : 2

Q.23 उस विकल्प का चयन करें जो तीसरे शब्द से ठीक उसी प्रकार संबंधित है, जिस प्रकार दूसरा शब्द पहले शब्द से संबंधित है।

की-बोर्ड : टचपैड :: माउस : ?

- Ans
- 1. मॉनिटर
 - 2. लैपटॉप
 - 3. जॉयस्टिक
 - 4. कंप्यूटर

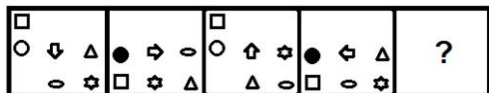
Question ID : 6549788582
Status : Answered
Chosen Option : 4

Q.24 चार संख्या-युग्म दिए गए हैं, जिनमें से तीन में एक निश्चित प्रकार की समानता है और एक असंगत है। उस असंगत संख्या-युग्म का चयन कीजिए।

- Ans
- 1. 6 : 222
 - 2. 12 : 1740
 - 3. 7 : 360
 - 4. 11 : 1342

Question ID : 6549787365
 Status : Not Answered
 Chosen Option : --

Q.25 दिए गए विकल्पों में से उस आकृति का चयन कीजिए जो निम्नांकित श्रेणी में प्रश्नवाचक चिह्न (?) के स्थान पर आ सकती है।



Ans

- 1.
- 2.
- 3.
- 4.

Question ID : 6549787378
 Status : Answered
 Chosen Option : 3