

Section : **General Intelligence**

Q.1 उस विकल्प का चयन कीजिए जिसका तीसरे शब्द से वही संबंध है, जो दूसरे शब्द का पहले शब्द से है।

अनुमति देना : वर्जित करना :: डींग मारना : ?

- Ans
- 1. संवेदनशील
 - 2. विनम्रता
 - 3. शेखी बघारना
 - 4. बड़े बोल बोलना

Question ID : **6549787168**
Status : **Answered**
Chosen Option : **1**

Q.2 दिए गए कथनों और निष्कर्षों को ध्यानपूर्वक पढ़ें। यह मानते हुए कि कथनों में दी गई सूचना सत्य है, भले ही वह सामान्य रूप से ज्ञात तथ्यों से भिन्न प्रतीत होती हो, बताइए कि दिए गए निष्कर्षों में से कौन से निष्कर्ष कथनों का तार्किक रूप से अनुसरण करते हैं।

कथन:

सभी कार्टून, बॉक्स हैं।
कोई भी बॉक्स, पेन नहीं है।
कुछ कार्टून, लॉक हैं।

निष्कर्ष:

- I. कुछ बॉक्स, लॉक हैं।
- II. कोई भी पेन, कार्टून नहीं है।
- III. कोई भी पेन, लॉक नहीं है।

- Ans
- 1. केवल निष्कर्ष I अनुसरण करता है।
 - 2. निष्कर्ष I और II दोनों अनुसरण करते हैं।
 - 3. केवल निष्कर्ष II अनुसरण करता है।
 - 4. निष्कर्ष I और III दोनों अनुसरण करते हैं।

Question ID : 6549787174

Status : Answered

Chosen Option : 2

Q.3 यदि दर्पण को चित्रानुसार MN पर रखा जाए, तो दिए गए संयोजन का दर्पण में निर्मित सही प्रतिबिंब चयनित कीजिए।

g r t 3 4 5 |
M
N

- Ans
- 1. 2 4 8 1 9
 - 2. 5 4 8 1 9
 - 3. 2 7 8 1 6
 - 4. 2 4 8 1 9

Question ID : 6549787180

Status : Answered

Chosen Option : 4

Q.4 उस विकल्प का चयन करें जो तीसरी संख्या से उसी तरह से संबंधित है जैसे दूसरी संख्या पहली संख्या से संबंधित है और छठी संख्या पाँचवी संख्या से संबंधित है।

5 : 50 :: 6 : ? :: 12 : 288


- Ans
- 1. 64
 - 2. 92
 - 3. 82
 - 4. 72

Question ID : 6549788472

Status : Answered

Chosen Option : 4

Q.5 निम्न आकृति श्रृंखला में आगे के स्थान पर आने वाली आकृति का चयन करें।



Ans

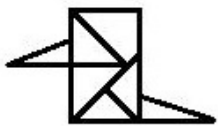
- 1.
- 2.
- 3.
- 4.

Question ID : 6549788489

Status : Answered

Chosen Option : 4

Q.6 नीचे दी गई आकृति में कितने त्रिभुज हैं?



- Ans
- 1. 9
 - 2. 8
 - 3. 10
 - 4. 7

Question ID : 6549788490
Status : Answered
Chosen Option : 2

Q.7 चार शब्द दिए गए हैं, जिनमें से तीन एक निश्चित प्रकार से समान हैं, जबकि एक उनसे असंगत है। उस असंगत शब्द का चयन कीजिए।

- Ans
- 1. कैडेला
 - 2. ल्यूमिनोसिटी
 - 3. एम्पियर
 - 4. केल्विन

Question ID : 6549787173
Status : Answered
Chosen Option : 3

Q.8 उस विकल्प का चयन कीजिए जिसका तीसरे पद से वही संबंध है, जो दूसरे पद का पहले पद से है।

PLASTIC : ALPSCIT :: FESTIVE : ?

- Ans
- 1. FESTEVI
 - 2. SEFTEVI
 - 3. SFETVEI
 - 4. SETFEIV

Question ID : 6549787167
Status : Answered
Chosen Option : 2

Q.9 एक कूट भाषा में, यदि TERMINAL को 401036261828224 लिखा जाता है, तो उसी भाषा में AUDITORY को किस प्रकार से लिखा जाएगा?

- Ans 1. 24281840303650
 2. 24461840323652
 3. 22180940303625
 4. 24282018301850

Question ID : 6549788479
Status : Answered
Chosen Option : 1

Q.10 उस विकल्प का चयन करें जो निम्नलिखित शब्दों का अंग्रेजी शब्दकोश के अनुसार सही क्रमविन्यास दर्शाता है।

1. Peripheral
2. Presence
3. Peninsula
4. Produce
5. Prevent

- Ans 1. 3, 1, 2, 4, 5
 2. 3, 1, 5, 2, 4
 3. 1, 3, 2, 5, 4
 4. 3, 1, 2, 5, 4

Question ID : 6549788477
Status : Answered
Chosen Option : 4

Q.11 चार संख्या-युग्म दिए गए हैं जिनमें से तीन किसी न किसी प्रकार से आपस में समानता रखते हैं और एक भिन्न है। भिन्न का चयन करें।

- Ans 1. 12 : 120
 2. 18 : 288
 3. 13 : 143
 4. 11 : 111

Question ID : 6549788476
Status : Answered
Chosen Option : 4

Q.12 एक निश्चित कूट भाषा में, SUPER को IVKFH लिखा जाता है। उसी भाषा में LOFTY को क्या लिखा जाएगा?

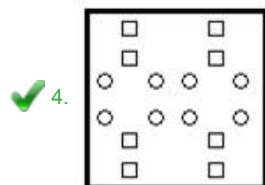
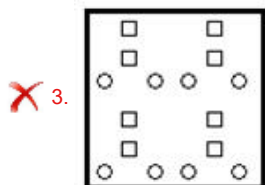
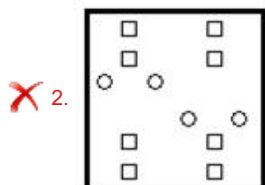
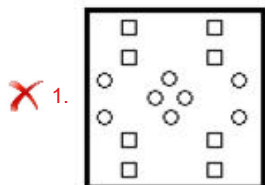
- Ans 1. BGVOL
 2. BGULO
 3. BHYMO
 4. DFULO

Question ID : 6549787165
Status : Marked For Review
Chosen Option : 2

Q.13 निम्नांकित आकृति में कागज के एक टुकड़े को मोड़ने का क्रम और मुड़े हुए कागज को काटने की विधि दर्शाई गई है। यह कागज खोलने पर कैसा दिखेगा?



Ans



Question ID : 6549787179

Status : Answered

Chosen Option : 4

Q.14 कृतिका के पास ₹21,450 थे। उसने इस राशि का 16% परिवहन पर खर्च कर दिया। इसके बाद, उसने शेष राशि का 50% राशन पर खर्च किया। इसके बाद, उसने इंटरनेट पर ₹991 खर्च किए। गणना करें कि अब उसके पास कितने रुपए बचे हैं?

Ans ✗ 1. ₹8,640

✗ 2. ₹4,520

✓ 3. ₹8,018

✗ 4. ₹9,852

Question ID : 6549788470

Status : Answered

Chosen Option : 3

Q.15 उस शब्द-युग्म का चयन करें जिसके दोनों शब्द आपस में उसी तरह से संबंधित हैं जिस तरह से निम्नलिखित शब्द युग्म के दोनों शब्द आपस में संबंधित हैं।

डॉक्टर : कार्डियोलॉजिस्ट

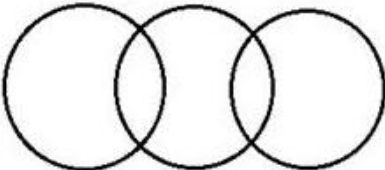
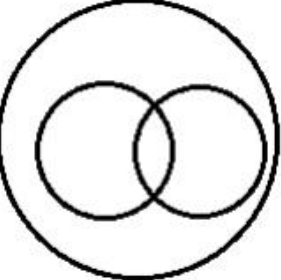
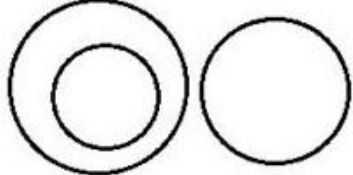
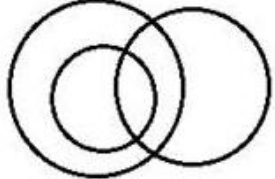
- Ans 1. इंजीनियर : केमिकल इंजीनियर
 2. नर्स : इंजेक्शन
 3. शिक्षक : शिक्षा
 4. सर्जन : ऑपरेशन

Question ID : 6549788484
Status : Answered
Chosen Option : 1

Q.16 निम्न में से कौन सा वेन आरेख निम्नलिखित वर्गों के बीच संबंधों को सर्वोत्तम ढंग से निरूपित करता है?

छात्र, भाई, पुरुष

Ans

1. 
2. 
3. 
4. 

Question ID : 6549788494
Status : Answered
Chosen Option : 4

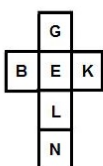
Q.17 दिए गए विकल्पों में से उस संख्या का चयन कीजिए जो निम्न श्रेणी में प्रश्नवाचक चिह्न (?) के स्थान पर आएगी।

12, 15, 75, ?, 738, 749

- Ans
- 1. 155
 - 2. 259
 - 3. 90
 - 4. 82

Question ID : 6549787162
Status : Answered
Chosen Option : 4

Q.18 दी गई शीट को एक घन का आकार देने के लिए मोड़ा जाता है, इसके 'N' अक्षर दर्शाने वाले फलक के विपरीत फलक पर कौन सा अक्षर दिखाई देगा।



- Ans
- 1. K
 - 2. G
 - 3. L
 - 4. E

Question ID : 6549788488
Status : Answered
Chosen Option : 4

Q.19 उस अक्षर संयोजन का चयन करें, जिसे दी गई श्रेणी के खाली स्थानों में क्रमिक रूप से रखने पर श्रेणी पूर्ण होगी।

Y _ B P _ _ A _ P K _ A B _ K Y _ B P K

- Ans
- 1. AKYBYPK
 - 2. YAKBYPA
 - 3. AKAYKPA
 - 4. AKYBYPA

Question ID : 6549787674
Status : Answered
Chosen Option : 4

Q.20 उस विकल्प का चयन करें जिसमें समुच्चय की संख्याओं में आपस में वही संबंध हो जो दिए गए समुच्चय की संख्याओं में है।

(5, 8, 338)

- Ans
- 1. (14, 7, 441)
 - 2. (9, 7, 256)
 - 3. (11, 8, 722)
 - 4. (7, 9, 445)

Question ID : 6549788474
Status : Marked For Review
Chosen Option : 4

Q.21 रवीना का परिचय कराते हुए, नीतीश ने कहा, "वह मेरी बहन के पुत्र की नानी है"। रवीना का नीतीश से क्या रिश्ता है?

- Ans
- 1. मामी
 - 2. माँ
 - 3. सास
 - 4. साली

Question ID : 6549786362
Status : Answered
Chosen Option : 2

Q.22 नीचे चार अक्षर-समूह दिए गए हैं जिनमें से तीन किसी न किसी तरह से एक समान है और एक भिन्न है। भिन्न का चयन करें।


- Ans
- 1. ZGN
 - 2. TAH
 - 3. LSZ
 - 4. OUD

Question ID : 6549788485
Status : Answered
Chosen Option : 4

Q.23 उस विकल्प का चयन कीजिए जो दी गई आकृति में सन्निहित है। (आकृति को घुमाने की अनुमति नहीं है)



Ans



Question ID : 6549787178

Status : Answered

Chosen Option : 3

Q.24 गणितीय चिह्नों के उस सही संयोजन का चयन करें जिसे दिए गए समीकरण में * चिह्नों के स्थान पर क्रमिक रूप से रखे जाने पर समीकरण संतुलित हो जाएगा।

$$64 * 16 * 22 * 11 * 5 * 70$$

Ans

1. +, -, +, x, =

2. -, +, +, x, =

3. x, +, -, +, =

4. x, -, +, +, =

Question ID : 6549787158

Status : Answered

Chosen Option : 1

Q.25 उस विकल्प का चयन कीजिए जिसकी संख्याओं के मध्य वही संबंध है जो दिए गए समुच्चय की संख्याओं के मध्य है।

(11, 12, 264)

Ans

1. (20, 17, 480)

2. (16, 18, 576)

3. (14, 17, 338)

4. (15, 19, 456)

Question ID : 6549787160

Status : Answered

Chosen Option : 2