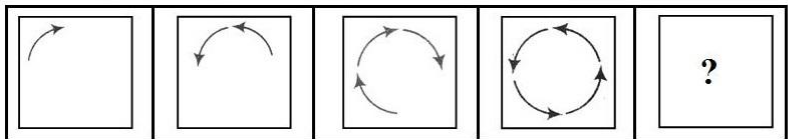
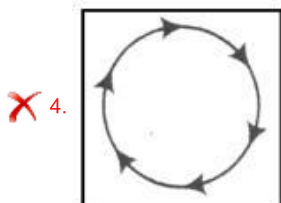
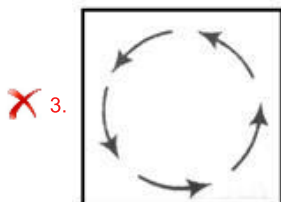
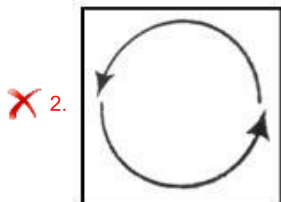
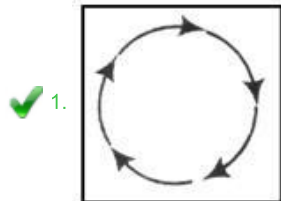


Section : General Intelligence

Q.1 दिए गए विकल्पों में से उस आकृति का चयन करें, जो निम्न श्रेणी में प्रश्नवाचक चिह्न (?) के स्थान पर आ सकती है।



Ans



Question ID : 6549787984
Status : Answered
Chosen Option : 1

Q.2 'A + B' का अर्थ है कि 'A, B की पत्नी है'।
'A - B' का अर्थ है कि 'A, B की बेटी है'।
'A × B' का अर्थ है कि 'A, B की बहन है'।
'A ÷ B' का अर्थ है कि 'A, B का भाई है'।
यदि $P ÷ M × R - Z + Q$ है, तो P, Q से किस प्रकार से संबंधित है?

- Ans
- 1. भाई
 - 2. बेटा
 - 3. भतीजा
 - 4. दामाद

Question ID : 6549788079
Status : Answered
Chosen Option : 2

Q.3 पूरे देश में 250 केंद्रों पर, एक ऑनलाइन प्रवेश परीक्षा आयोजित की गई थी। प्रति केंद्र आवेदकों की औसत संख्या 1250 पाई गई। हालांकि, बाद में यह पता चला कि एक केंद्र में, आवेदकों की संख्या 1658 के बजाय 1758 गिनी गई थी। प्रति केंद्र आवेदकों की सही औसत संख्या ज्ञात करें।

- Ans
- 1. 1249.6
 - 2. 1294.6
 - 3. 1492.6
 - 4. 1429.6

Question ID : 6549787965
Status : Answered
Chosen Option : 1

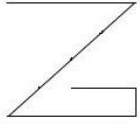
Q.4 दिए गए विकल्पों में से वह संख्या-समूह चुनें, जिसकी संख्याएं, दिए गए संख्या-समूह की संख्याओं के समान ही तर्क/नियम/संबंध का अनुसरण नहीं करती हैं।

(12, 36, 132)

- Ans
- 1. (22, 66, 242)
 - 2. (19, 57, 209)
 - 3. (18, 54, 196)
 - 4. (15, 45, 165)

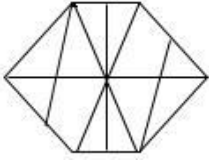
Question ID : 6549787969
Status : Answered
Chosen Option : 3

Q.5 उस विकल्प का चयन करें, जिसमें दी गई आकृति अन्तःस्थापित है। (घुमाने की अनुमति नहीं है)

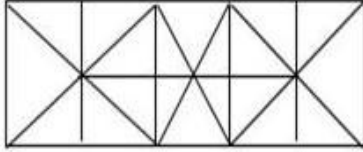


Ans

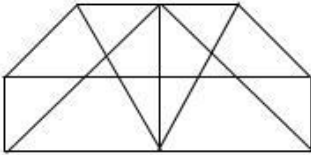
✗ 1.



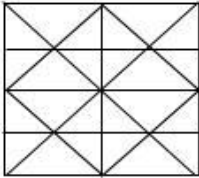
✗ 2.



✗ 3.



✓ 4.



Question ID : 6549788895

Status : Answered

Chosen Option : 4

Q.6 उस विकल्प का चयन करें, जो तीसरे अक्षर-समूह से ठीक उसी प्रकार संबंधित है, जिस प्रकार दूसरा अक्षर-समूह पहले अक्षर-समूह से संबंधित है।

MORV : NJGE :: DGKP : ?

Ans

✗ 1. PLIG

✗ 2. ZVSQ

✓ 3. WRNK

✗ 4. WTPK

Question ID : 6549788884

Status : Answered

Chosen Option : 3

Q.7 निम्न समीकरण को संतुलित करने के लिए, इनमें से किन दो चिह्नों को आपस में बदली करना होगा?

$$14 + 12 \times 18 \div 6 - 12 = 6$$

Ans

✗ 1. + और -

✗ 2. × और +

✗ 3. - और +

✓ 4. ÷ और ×

Question ID : 6549788875

Status : Answered

Chosen Option : 4

Q.8 दिए गए विकल्पों में से उस संख्या का चयन करें, जो निम्न श्रेणी में प्रश्नवाचक चिह्न (?) को प्रतिस्थापित कर सकती है।

1, 2, 6, 21, ?, 445

- Ans
- 1. 44
 - 2. 88
 - 3. 94
 - 4. 66

Question ID : 6549788879
Status : Answered
Chosen Option : 2

Q.9 जिस प्रकार 'युद्ध', 'विनाश' से संबंधित है, ठीक उसी प्रकार 'चक्रवात', '_____' से संबंधित है।

- Ans
- 1. तूफान
 - 2. तबाही
 - 3. आंधी
 - 4. हवा

Question ID : 6549788885
Status : Answered
Chosen Option : 2

Q.10 चार अक्षर-समूह दिए गए हैं, जिनमें से तीन किसी प्रकार समान हैं और एक भिन्न है। भिन्न अक्षर-समूह का चयन करें।

- Ans
- 1. FBDX
 - 2. HDFZ
 - 3. TPRL
 - 4. SNPJ

Question ID : 6549787980
Status : Answered
Chosen Option : 4

Q.11 उस विकल्प का चयन करें, जो तीसरी संख्या से ठीक उसी प्रकार संबंधित है, जिस प्रकार दूसरी संख्या पहली संख्या से संबंधित है।

256 : 13 :: 676 : ?

- Ans
- 1. 23
 - 2. 26
 - 3. 25
 - 4. 24

Question ID : 6549787967
Status : Answered
Chosen Option : 1

Q.12 किसी निश्चित कूट भाषा में, ROCKET को BNQSDJ लिखा जाता है। उसी कूट भाषा में NOTICE को किस प्रकार लिखा जाएगा?

- Ans
- 1. UPOFDJ
 - 2. NMHSDB
 - 3. SNMDBH
 - 4. SPMFBJ

Question ID : 6549788882
Status : Answered
Chosen Option : 3

Q.13 चार संख्याएं दी गई हैं, जिनमें से तीन किसी प्रकार समान हैं और एक भिन्न है। भिन्न संख्या का चयन करें।

- Ans
- 1. 127
 - 2. 1049
 - 3. 4095
 - 4. 255

Question ID : 6549787971
Status : Answered
Chosen Option : 2

Q.14 दिए गए कथनों और निष्कर्षों को ध्यानपूर्वक पढ़ें। यह मानते हुए कि कथनों में दी गई जानकारी सत्य है, भले ही यह ज्ञात तथ्यों से असंगत हो, निर्धारित करें कि कौन सा/से निष्कर्ष कथनों का तार्किक रूप से अनुसरण करता/ते है/हैं?

कथन:

कुछ पुरुष, एथलीट हैं।
कोई भी एथलीट, गायक नहीं है।
सभी गायक, नर्तक हैं।

निष्कर्ष:

- I. कोई भी नर्तक, एथलीट नहीं है।
- II. कुछ गायक, पुरुष हैं।
- III. कुछ पुरुष, नर्तक हैं।

- Ans
- 1. केवल निष्कर्ष II और III अनुसरण करते हैं।
 - 2. कोई भी निष्कर्ष अनुसरण नहीं करता है।
 - 3. केवल निष्कर्ष II अनुसरण करता है।
 - 4. केवल निष्कर्ष I अनुसरण करता है।

Question ID : 6549788891
Status : Answered
Chosen Option : 2

Q.15 उस विकल्प का चयन करें, जिसमें शब्द ठीक उसी प्रकार संबंधित हैं, जिस प्रकार दिए गए शब्द युग्म के शब्द संबंधित हैं।

स्वेटर : ऊन

- Ans
- 1. कपड़ा : अयस्क
 - 2. प्रिज्म : कांच
 - 3. लिनन : लेटेक्स
 - 4. लुगदी : थैला

Question ID : 6549787979
Status : Answered
Chosen Option : 2

Q.16 चार शब्द दिए गए हैं, जिनमें से तीन किसी प्रकार समान हैं और एक भिन्न है। भिन्न शब्द का चयन करें।

- Ans
- 1. मंत्री
 - 2. निर्देशक
 - 3. मेयर
 - 4. स्पीकर

Question ID : 6549788890
Status : Answered
Chosen Option : 2

Q.17 अक्षरों के उस संयोजन का चयन करें जिसे दी गई श्रेणी में रिक्त स्थानों पर क्रमिक रूप से रखने पर श्रेणी पूर्ण हो जाएगी।

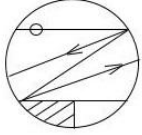
K O _ M C L _ Q M C M O _ M _ N O Q _ C

- Ans
- 1. Q, O, C, Q, M
 - 2. M, O, Q, C, M
 - 3. Q, O, Q, C, M
 - 4. M, O, Q, C, O

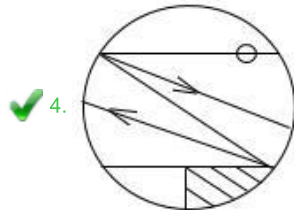
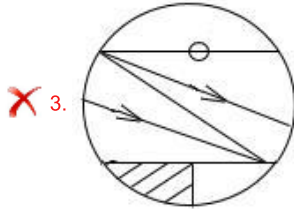
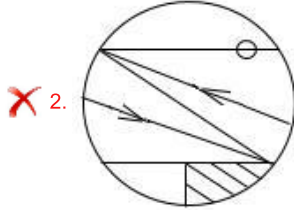
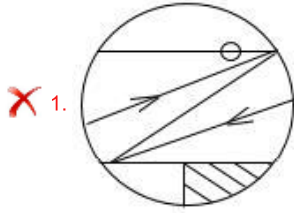
Question ID : 6549787169
Status : Answered
Chosen Option : 3



Q.18 यदि दर्पण को दी गई आकृति के दाईं ओर रखा जाए, तो दी गई आकृति का दर्पण में निर्मित सही प्रतिबिंब चयनित कीजिए।



Ans



Question ID : 6549788897

Status : Answered

Chosen Option : 4

Q.19 उस सही विकल्प का चयन करें, जो दिए गए शब्द विन्यास का वह क्रम दर्शाता है, जिस प्रकार वे अंग्रेजी शब्दकोश में होते हैं।

1. Certificate
2. Cerebellum
3. Cervical
4. Ceremonious
5. Certainty

Ans ✓ 1, 2, 4, 5, 1, 3

✗ 2, 2, 5, 1, 3, 4

✗ 3, 2, 3, 1, 5, 4

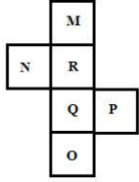
✗ 4, 2, 5, 4, 1, 3

Question ID : 6549787972

Status : Answered

Chosen Option : 1

Q.20 दी गई शीट को मोड़कर घन बनाया जाता है। इस प्रकार बने घन में, निम्न में से कौन-सा संख्या-युग्म विपरीत फलकों पर होगा?



- Ans
- ✓ 1. R और O
 - ✗ 2. M और P
 - ✗ 3. Q और P
 - ✗ 4. N और Q

Question ID : 6549787983
Status : Answered
Chosen Option : 1

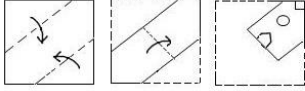
Q.21 उस विकल्प का चयन करें, जिसमें संख्याएं ठीक उसी प्रकार संबंधित हैं, जिस प्रकार निम्न सेट की संख्याएं संबंधित हैं।

{22, 17, 31}

- Ans
- ✗ 1. {18, 23, 27}
 - ✗ 2. {16, 9, 25}
 - ✓ 3. {31, 26, 40}
 - ✗ 4. {14, 8, 23}

Question ID : 6549788877
Status : Answered
Chosen Option : 3

Q.22 किसी कागज के टुकड़े को मोड़ने का क्रम और मुड़े हुए कागज को काटने का तरीका, निम्न चित्रों में दर्शाया गया है। यह कागज खोलने पर कैसा दिखेगा?



Ans

- ✓ 1.
- ✗ 2.
- ✗ 3.
- ✗ 4.

Question ID : 6549788896

Status : Answered

Chosen Option : 1

Q.23 उस वेन आरेख का चयन करें, जो निम्न वर्गों के बीच संबंध को सर्वोत्तम ढंग से निरूपित करता है।

शनि, ग्रह, कैडमियम

Ans

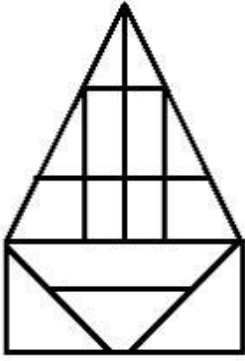
- ✗ 1.
- ✗ 2.
- ✓ 3.
- ✗ 4.

Question ID : 6549787989

Status : Answered

Chosen Option : 3

Q.24 दी गई आकृति में त्रिभुजों की संख्या ज्ञात करें।



- Ans
- 1. 16
 - 2. 14
 - 3. 15
 - 4. 17

Question ID : 6549787985
Status : Answered
Chosen Option : 3

Q.25 किसी निश्चित कूट भाषा में, REFUSAL को 100 और SHORTEN को 83 लिखा जाता है। उसी कूट भाषा में INERTIA को किस प्रकार लिखा जाएगा?

- Ans
- 1. 105
 - 2. 106
 - 3. 160
 - 4. 150

Question ID : 6549787974
Status : Answered
Chosen Option : 2