

Q.1 उस विकल्प का चयन करें, जिसमें संख्याएं ठीक उसी प्रकार संबंधित हैं, जिस प्रकार निम्न सेट की संख्याएं संबंधित हैं।

(23, 4, 92)

- Ans
- 1. (26, 5, 132)
 - 2. (29, 7, 203)
 - 3. (27, 8, 218)
 - 4. (24, 6, 146)

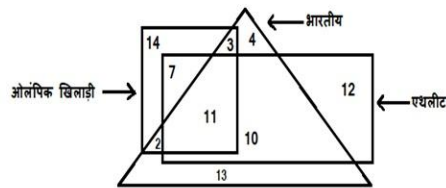
Question ID : 6549787968

Status : Answered

Chosen Option : 2

Q.2 दिए गए आरेख में, त्रिभुज 'भारतीयों' को निरूपित करता है, आयत 'एथलीटों' को निरूपित करता है और वर्ग 'ओलंपिक खिलाड़ियों' को निरूपित करता है। विभिन्न खंडों में दी गई संख्याएं उस श्रेणी के व्यक्तियों की संख्या को निरूपित करती हैं।

कितने भारतीय या तो एथलीट हैं या ओलंपिक खिलाड़ी हैं, लेकिन दोनों नहीं हैं?



- Ans
- 1. 24
 - 2. 15
 - 3. 20
 - 4. 12

Question ID : 6549789302

Status : Answered

Chosen Option : 2

Q.3 चार अक्षर-समूह दिए गए हैं, जिनमें से तीन किसी प्रकार समान हैं और एक भिन्न है। भिन्न अक्षर-समूह का चयन करें।

- Ans
- 1. DJWQ
 - 2. HDSW
 - 3. CGXT
 - 4. GBTV

Question ID : 6549789293

Status : Answered

Chosen Option : 4

Q.4 उस विकल्प का चयन करें, जो तीसरे पद से ठीक उसी प्रकार संबंधित है, जिस प्रकार दूसरा पद पहले पद से संबंधित है।

इंडोनेशिया : जकार्ता :: कनाडा : ?

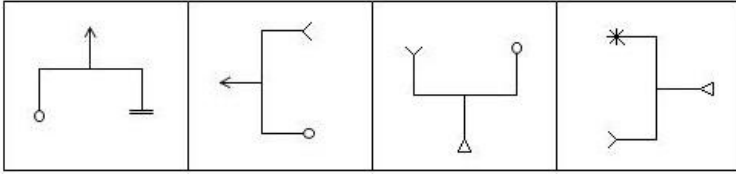
- Ans
- 1. दोहा
 - 2. ओटावा
 - 3. मस्कट
 - 4. सियोल

Question ID : 6549787976

Status : Answered

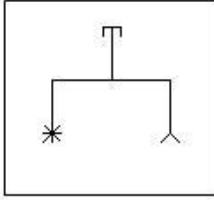
Chosen Option : 2

Q.5 उस आकृति का चयन करें, जो निम्न श्रेणी में अगले स्थान पर आएगी।

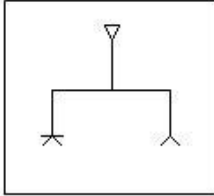


Ans

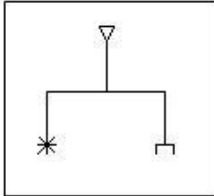
✗ 1.



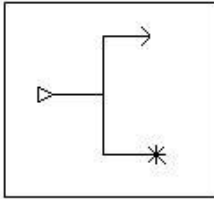
✗ 2.



✓ 3.



✗ 4.



Question ID : 6549789297

Status : Marked For Review

Chosen Option : 2

Q.6 चार शब्द दिए गए हैं, जिनमें से तीन किसी प्रकार समान हैं और एक भिन्न है। भिन्न शब्द का चयन करें।

Ans

✓ 1. हास्यास्पद

✗ 2. गरिमामय

✗ 3. गौरवान्वित

✗ 4. भव्य

Question ID : 6549787981

Status : Answered

Chosen Option : 1

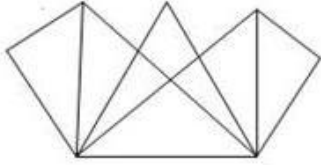
Q.7 दिए गए विकल्पों में से उस संख्या का चयन करें, जो निम्न श्रेणी में प्रश्नवाचक चिह्न (?) को प्रतिस्थापित कर सकती है।

4, 7, 11, 17, 27, 45, ?

- Ans
- 1. 87
 - 2. 79
 - 3. 78
 - 4. 97

Question ID : 6549787970
Status : Answered
Chosen Option : 2

Q.8 निम्न आकृति में कितने त्रिभुज हैं?



- Ans
- 1. 12
 - 2. 16
 - 3. 18
 - 4. 14

Question ID : 6549789298
Status : Answered
Chosen Option : 3

Q.9 उस विकल्प का चयन करें, जिसमें शब्द ठीक उसी प्रकार संबंधित हैं, जिस प्रकार दिए गए शब्द युग्म के शब्द संबंधित हैं।

कार : ट्रक

- Ans
- 1. जूता : जुराबें
 - 2. कुर्सी : बेंच
 - 3. गेंद : बल्ला
 - 4. बादल गरजना : प्रकाश

Question ID : 6549789292
Status : Answered
Chosen Option : 2

Q.10 कृष्णा ने अपनी बचत का $\frac{1}{9}$ भाग अपने पुत्र को दिया, शेष का $\frac{3}{4}$ भाग अपनी बड़ी पुत्री को दिया और शेष भाग अपनी छोटी पुत्री को दिया। यदि बड़ी पुत्री को छोटी पुत्री से ₹880 अधिक मिले, तो पुत्र को कितनी राशि मिली?

- Ans
- 1. ₹200
 - 2. ₹225
 - 3. ₹245
 - 4. ₹220

Question ID : 6549789278

Status : Answered

Chosen Option : 4

Q.11 उस विकल्प का चयन करें, जो तीसरे पद से ठीक उसी प्रकार संबंधित है, जिस प्रकार दूसरा पद पहले पद से संबंधित है।

SACRED : VXEPIZ :: WINTER : ?

- Ans
- 1. ZFPRIN
 - 2. TPLIRS
 - 3. ZPFIRN
 - 4. TLPRIS

Question ID : 6549787975

Status : Answered

Chosen Option : 1

Q.12 कागज की एक शीट को विशेष तरीके से मोड़ा जाता है और कई छिद्र बनाए जाते हैं। खोलने पर कागज निम्न आकृति की तरह दिखता है। उस विकल्प का चयन करें, जो कागज को मोड़ने और छिद्रित करने का तरीका दर्शाता है।



Ans

- 1.
- 2.
- 3.
- 4.

Question ID : 6549787987

Status : Answered

Chosen Option : 3

Q.13 चार संख्याएं दी गई हैं, जिनमें से तीन किसी प्रकार समान हैं और एक भिन्न है। भिन्न संख्या का चयन करें।

- Ans
- 1. 234
 - 2. 678
 - 3. 345
 - 4. 589

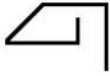
Question ID : 6549789284
Status : Answered
Chosen Option : 4

Q.14 किसी निश्चित कूट भाषा में, MACHINE को 5861944 लिखा जाता है। उसी कूट भाषा में STORK को किस प्रकार लिखा जाएगा?

- Ans
- 1. 12692
 - 2. 96479
 - 3. 86496
 - 4. 87397

Question ID : 6549789287
Status : Not Attempted and Marked For Review
Chosen Option : --

Q.15 उस विकल्प का चयन करें, जिसमें दी गई आकृति सन्नहित है। (घुमाने की अनुमति नहीं है)



Ans

- 1.
- 2.
- 3.
- 4.

Question ID : 6549787986
Status : Answered
Chosen Option : 4

Q.16 उस विकल्प का चयन करें जो अक्षरों के उस क्रम को दर्शाता है, जिन्हें नीचे दिए गए रिक्त स्थानों में बाईं से दाईं ओर रखने पर, अक्षरों का दिया गया क्रम सही तरीके से पूरा हो जाएगा।

Q _ _ R R K Z _ _ K Z R T _ _ R

- Ans
- 1. K Z R P R Z
 - 2. K Z R S Z T
 - 3. Q Z R S P R
 - 4. K Z R S K Z

Question ID : 6549788482

Status : Answered

Chosen Option : 4

Q.17 उस विकल्प का चयन करें, जिसमें संख्याएं ठीक उसी प्रकार संबंधित हैं, जिस प्रकार निम्न सेट की संख्याएं संबंधित हैं।

{5, 15, 20}

- Ans
- 1. {24, 8, 18}
 - 2. {9, 14, 19}
 - 3. {4, 14, 24}
 - 4. {10, 13, 17}

Question ID : 6549789282

Status : Answered

Chosen Option : 2

Q.18 गणितीय चिह्नों के उस सही संयोजन का चयन करें, जो * चिह्नों को क्रमिक रूप से प्रतिस्थापित करते हुए, दिया गया समीकरण संतुलित कर सकता है।

$216 * 6 * 8 * 64 * 48 = 500$

- Ans
- 1. ÷, -, ×, +
 - 2. ×, +, -, ÷
 - 3. ×, +, ÷, -
 - 4. ÷, +, ×, -

Question ID : 6549787966

Status : Answered

Chosen Option : 4

Q.19 एक ही पासे की दो भिन्न-भिन्न स्थितियों को दर्शाया गया है। यदि संख्या '6' नीचे (निचले फलक पर) है, तो शीर्ष वाले फलक पर कौन सी संख्या होगी?



- Ans
- 1. 5
 - 2. 1
 - 3. 2
 - 4. 4

Question ID : 6549789296

Status : Answered

Chosen Option : 3

Q.20 दिए गए संयोजन के सही दर्पण प्रतिबिंब का चयन करें, जब दर्पण को दर्शाए गए अनुसार, 'PQ' पर रखा जाता है।

MEDICINES |
P
Q

- Ans
- 1. MEDICINES
 - 2. MEDICINES
 - 3. MEDICINES
 - 4. MEDICINES

Question ID : 6549787988
Status : Answered
Chosen Option : 4

Q.21 उस विकल्प का चयन करें, जिसमें संख्याएं ठीक उसी प्रकार संबंधित हैं, जिस प्रकार दिए गए संख्या-युग्म की संख्याएं संबंधित हैं।

18 : 42

- Ans
- 1. 9 : 24
 - 2. 12 : 32
 - 3. 15 : 36
 - 4. 24 : 56

Question ID : 6549789280
Status : Answered
Chosen Option : 4

Q.22 किसी निश्चित कूट भाषा में, PROFANE को KOLCZKV लिखा जाता है। उसी कूट भाषा में DISOBEY को किस प्रकार लिखा जाएगा?

- Ans
- 1. WFHLYBB
 - 2. ARPLYVV
 - 3. APRYLVV
 - 4. WHGYLBB

Question ID : 6549787973
Status : Answered
Chosen Option : 1

Q.23 उस सही विकल्प का चयन करें, जो दिए गए शब्द विन्यास के तार्किक और सार्थक क्रम को दर्शाता है।

1. हैदराबाद
2. नागपुर
3. देहरादून
4. भीपाल
5. मदुरै
6. आगरा

- Ans
- 1. 3, 6, 4, 2, 1, 5
 - 2. 3, 6, 2, 4, 1, 5
 - 3. 5, 1, 2, 4, 3, 6
 - 4. 5, 1, 4, 3, 2, 6

Question ID : 6549789285
Status : Answered
Chosen Option : 1

Q.24 दिए गए कथनों और निष्कर्षों को ध्यानपूर्वक पढ़ें। यह मानते हुए कि कथनों में दी गई जानकारी सत्य है, चाहे वह ज्ञात तथ्यों से असंगत हो, निर्धारित करें कि कौन सा/से निष्कर्ष कथनों का तार्किक रूप से अनुसरण करता/ते है/हैं?

कथन:

सभी कंघी, स्केल हैं।
कुछ राउटर, कंघी हैं।
सभी दस्ताने, राउटर हैं।

निष्कर्ष:

I. सभी दस्ताने, स्केल हैं।
II. कुछ दस्ताने, स्केल हैं।
III. कुछ स्केल, राउटर हैं।
IV. सभी राउटर, स्केल हैं।

- Ans
- 1. निष्कर्ष I और III दोनों अनुसरण करते हैं।
 - 2. केवल निष्कर्ष III अनुसरण करता है।
 - 3. केवल निष्कर्ष I अनुसरण करता है।
 - 4. केवल निष्कर्ष II अनुसरण करता है।

Question ID : 6549787982

Status : Answered

Chosen Option : 2

Q.25 एक महिला की फोटो की ओर इशारा करते हुए, सुकन्या ने कहा, "उसके पुत्र का पुत्र, मेरी पुत्री की बहन का भाई है।" उस महिला का सुकन्या से क्या रिश्ता है?

- Ans
- 1. मां
 - 2. सास
 - 3. पुत्री
 - 4. बहन

Question ID : 6549787170

Status : Marked For Review

Chosen Option : 2