

Section : **General Intelligence**

Q.1 अक्षरों के उस संयोजन का चयन करें, जिन्हें दिए गए अक्षर श्रेणी में खाली जगहों पर क्रमिक रूप से रखने पर श्रेणी पूर्ण हो जाएगी।

c k _ g k c _ t _ k _ k t g _ c k _ g k

- Ans
- 1. t, g, k, c, k, t
 - 2. t, k, g, c, k, t
 - 3. t, k, g, c, c, t
 - 4. t, k, c, g, k, t

Question ID : **6549786664**
Status : **Answered**
Chosen Option : **2**

Q.2 यदि 'A & B' का अर्थ है कि 'A, B का पिता है' और 'A @ B' का अर्थ है कि 'A, B की बहन है', तो निम्न में से किस व्यंजक का अर्थ है कि 'H, M का पिता है'?


- Ans
- 1. K & H @ P @ M
 - 2. M & K @ P @ H
 - 3. H @ K @ P & M
 - 4. H & K @ P @ M

Question ID : 6549787675

Status : Answered

Chosen Option : 4

Q.3 दिए गए विकल्पों में से उस आकृति का चयन कीजिए जो निम्नांकित श्रेणी में प्रश्नवाचक चिह्न (?) के स्थान पर आ सकती है।



Ans

- 1.
- 2.
- 3.
- 4.

Question ID : 6549787479

Status : Answered

Chosen Option : 4

Q.4 निम्नलिखित चार शब्दों में से तीन शब्द आपस में एक निश्चित तरीके से समानता रखते हैं और एक भिन्न है। भिन्न शब्द का चयन करें।

- Ans
- 1. हृदय
 - 2. नाक
 - 3. यकृत
 - 4. फेफड़े

Question ID : 6549788486
Status : Answered
Chosen Option : 2

Q.5 निम्नलिखित श्रृंखला में प्रश्न चिह्न (?) का स्थान ले सकने वाली संख्या का चयन करें।

25, 26, 53, 160, 641, ?

- Ans
- 1. 3206
 - 2. 3403
 - 3. 3202
 - 4. 2908

Question ID : 6549788475
Status : Answered
Chosen Option : 1

Q.6 उस विकल्प का चयन कीजिए जिसका चौथी संख्या से वही संबंध है जो पहली संख्या का दूसरी संख्या से है तथा पांचवी संख्या का छठी संख्या से है।

127 : 11 :: ? : 16 :: 367 : 19

- Ans
- 1. 280
 - 2. 248
 - 3. 262
 - 4. 216

Question ID : 6549787462
Status : Answered
Chosen Option : 3

Q.7 एक कूट भाषा में, TOUCH को UTOHC के रूप में लिखा जाता है। उसी भाषा में PLANT को किस प्रकार से लिखा जाएगा?

- Ans
- 1. TPANM
 - 2. TPNLA
 - 3. QMBOU
 - 4. ALRPT

Question ID : 6549788478
Status : Answered
Chosen Option : 2

Q.8 उस विकल्प का चयन कीजिए जो दिए गए शब्दों के उस क्रम-विन्यास को दर्शाता है जिस क्रम में वे अंग्रेजी शब्दकोष में आते हैं।

1. Industry
2. Indent
3. Indoor
4. Indolent
5. Index

- Ans
- 1. 1, 2, 3, 5, 4
 - 2. 2, 4, 5, 3, 1
 - 3. 2, 5, 4, 3, 1
 - 4. 2, 1, 3, 5, 4

Question ID : 6549787467
Status : Answered
Chosen Option : 3

Q.9 चार अक्षर-समूह दिए गए हैं, जिनमें से तीन एक निश्चित प्रकार से समान हैं, जबकि एक उनसे असंगत है। उस असंगत अक्षर-समूह का चयन कीजिए।

- Ans
- 1. VBHN
 - 2. AGMS
 - 3. IPVA
 - 4. HNTZ

Question ID : 6549787475
Status : Answered
Chosen Option : 3

Q.10 उस विकल्प का चयन कीजिए जिसके शब्दों के मध्य वही संबंध है, जो दिए गए शब्द-युग्म के शब्दों के मध्य है।

खगोल विद्या : ग्रह

- Ans
- 1. भाषा विज्ञान : संरचना
 - 2. मनोविज्ञान : कोशिकाएं
 - 3. मुद्राशास्त्र : सिक्के
 - 4. भूकंप-विज्ञान : थिएटर

Question ID : 6549787474
Status : Answered
Chosen Option : 3

Q.11 दी गई आकृति के दाईं ओर दर्पण रखे जाने पर, बनने वाले सही दर्पण प्रतिबिंब का चयन करें।



Ans

✗ 1.



✓ 2.



✗ 3.



✗ 4.

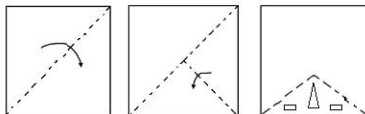


Question ID : 6549788493

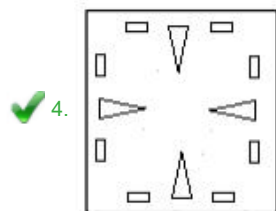
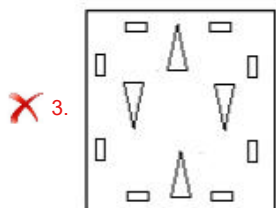
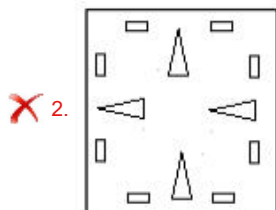
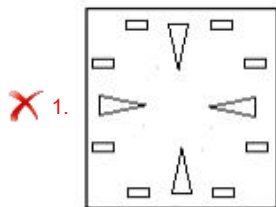
Status : Answered

Chosen Option : 2

Q.12 कागज के एक टुकड़े को प्रश्न आकृति में दिखाए अनुसार मोड़ा और काटा जाता है। इसे खोलने पर यह किस प्रकार का दिखाई देगा, दी गई उत्तर आकृतियों में से सही विकल्प का चयन करें।



Ans



Question ID : 6549788492
 Status : Answered
 Chosen Option : 4

Q.13 चार संख्या-युग्म दिए गए हैं, जिनमें से तीन में एक निश्चित प्रकार की समानता है और एक असंगत है। उस असंगत संख्या-युग्म का चयन कीजिए।

- Ans
- ✗ 1. 7 : 63
 - ✗ 2. 13 : 195
 - ✓ 3. 19 : 324
 - ✗ 4. 5 : 35

Question ID : 6549787466
 Status : Answered
 Chosen Option : 3

Q.14 दो कथन और उसके बाद तीन निष्कर्ष I, II और III दिए गए हैं। कथनों को सत्य मानते हुए, भले ही वे सामान्य रूप से ज्ञात तथ्यों से अलग हों, यह निर्णय लें कि कौन सा / से निष्कर्ष कथनों का तार्किक रूप से अनुसरण करता है / करते हैं।

कथन:

कोई भी खेत, घर नहीं है।
सभी खेत, पार्क हैं।

निष्कर्ष:

I. कोई भी घर, खेत नहीं है।
II. कुछ पार्क, खेत हैं।
III. कुछ घर, खेत हैं।

- Ans 1. केवल निष्कर्ष I और II अनुसरण करते हैं
 2. केवल निष्कर्ष II और III अनुसरण करते हैं
 3. केवल निष्कर्ष II अनुसरण करता है
 4. सभी निष्कर्ष अनुसरण करते हैं

Question ID : 6549788487

Status : Answered

Chosen Option : 1

Q.15 68 छात्रों वाली एक कक्षा में, 34 छात्रों ने केवल बहस में सहभागिता की और 8 छात्रों ने प्रश्नोत्तरी और बहस दोनों में सहभागिता की। यदि कक्षा के प्रत्येक छात्र ने इन दो प्रतिस्पर्धाओं में से कम से कम किसी एक में सहभागिता की, तो कितने छात्रों ने प्रश्नोत्तरी में सहभागिता की?

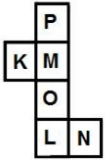
- Ans 1. 30
 2. 22
 3. 34
 4. 26

Question ID : 6549787460

Status : Answered

Chosen Option : 4

Q.16 दी गई शीट को मोड़कर एक घन बनाया गया है। इस तरह निर्मित घन में, 'K' दर्शाने वाले फलक के विपरीत फलक पर कौन सा अक्षर होगा?



- Ans 1. N
 2. O
 3. L
 4. P

Question ID : 6549787478

Status : Answered

Chosen Option : 1

Q.17 उस विकल्प का चयन करें जिसमें समुच्चय की संख्याओं में आपस में वही संबंध हो, जो दिए गए समुच्चय की संख्याओं में है।

(14, 18, 42)

- Ans
- 1. (22, 18, 74)
 - 2. (20, 15, 100)
 - 3. (40, 23, 94)
 - 4. (16, 21, 56)

Question ID : 6549788473
Status : Answered
Chosen Option : 2

Q.18 गणितीय चिह्नों के उस सही संयोजन का चयन करें जिन्हें क्रमिक रूप से * के चिह्न के स्थान पर रखने पर दिया गया समीकरण संतुलित हो जाएगा।

$$40 * 15 * 3 * 72 * 9 = 77$$

- Ans
- 1. +, x, ÷, -, =
 - 2. x, +, +, -, =
 - 3. +, +, -, x, =
 - 4. +, x, -, ÷, =

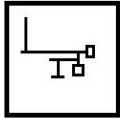
Question ID : 6549788471
Status : Answered
Chosen Option : 4

Q.19 'पूर्व' का 'दिशा' से वही संबंध है जो 'ग्रीष्म ऋतु' का '_____' से है।

- Ans
- 1. रूम कूलर
 - 2. तापमान
 - 3. मौसम
 - 4. गर्मी

Question ID : 6549788481
Status : Answered
Chosen Option : 3

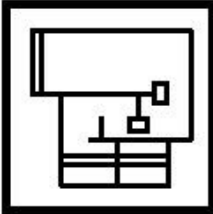
Q.20 उस विकल्प आकृति का चयन करें जिसमें उसके एक भाग के रूप में आकृति X सन्निहित है (घुमाने की अनुमति नहीं है)।



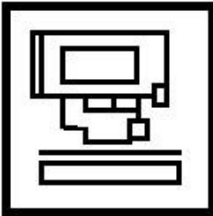
आकृति X

Ans

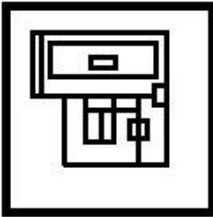
✗ 1.



✗ 2.



✓ 3.



✗ 4.



Question ID : 6549788491

Status : Answered

Chosen Option : 3

Q.21 वर्गों के उस समुच्चय का चयन कीजिए जिनके मध्य के संबंध को दिए गए वेन आरेख द्वारा सर्वश्रेष्ठ तरीके से प्रदर्शित किया गया है।



Ans

1. उल्लू, स्तनधारी, सरीसृप
2. माताएं, अभियंता, महिलाएं
3. चिकित्सक, पिता, भाई
4. स्टेशनरी, पेन, पेंसिल

Question ID : 6549787484

Status : Answered

Chosen Option : 3

Q.22 उस विकल्प का चयन करें जो तीसरे अक्षर-समूह से उसी प्रकार से संबंधित है जिस प्रकार से दूसरा अक्षर-समूह पहले अक्षर-समूह से संबंधित है।

AZW : GFC :: LSM : ?

Ans

1. RXY
2. RYS
3. DMT
4. QOS

Question ID : 6549788480

Status : Answered

Chosen Option : 2

Q.23 दी गई आकृति में कितने त्रिभुज हैं?



Ans

1. 15
2. 14
3. 17
4. 16

Question ID : 6549787480

Status : Answered

Chosen Option : 1

Q.24 उस विकल्प का चयन कीजिए जिसकी संख्याओं के मध्य वही संबंध है जो दिए गए समुच्चय की संख्याओं के मध्य है।

(2, 3, 62)

Ans 1. (7, 4, 226)

2. (5, 9, 288)

3. (6, 4, 122)

4. (8, 5, 225)

Question ID : 6549787464

Status : Not Answered

Chosen Option : --

Q.25 एक निश्चित कूट भाषा में, 'FROZEN' को '504' लिखा जाता है और 'TONSILS' को '756' लिखा जाता है। उसी भाषा में, 'MARINE' को क्या लिखा जाएगा?

Ans 1. 652

2. 456

3. 360

4. 520

Question ID : 6549787469

Status : Answered

Chosen Option : 3