

Section : General Intelligence

Q.1 निम्नलिखित चार अक्षर-समूहों में से तीन किसी प्रकार से समान हैं, और एक भिन्न है। भिन्न का चयन करें।

- Ans
- 1. QUY
 - 2. GKO
 - 3. LPT
 - 4. HLQ

Question ID : 6549789495
Status : Answered
Chosen Option : 4

Q.2 चार संख्या-युग्म दिए गए हैं, जिनमें से तीन किसी प्रकार समान हैं, और एक भिन्न है। उस संख्या-युग्म का चयन करें, जो अन्य से भिन्न है।

- Ans
- 1. 12 : 146
 - 2. 5 : 65
 - 3. 8 : 104
 - 4. 11 : 143

Question ID : 6549789486
Status : Answered
Chosen Option : 1

Q.3 उस गणितीय चिह्नों के सही संयोजन का चयन करें, जो * चिह्नों को क्रमिक रूप से प्रतिस्थापित करते हुए, दिया गया समीकरण संतुलित कर सकता है।

$$14 * 11 * 552 * 23 * 29 = 159$$

- Ans
- 1. +, -, ÷, ×
 - 2. ×, +, ÷, -
 - 3. ×, -, ÷, +
 - 4. ×, ÷, -, +

Question ID : 6549786552
Status : Answered
Chosen Option : 2

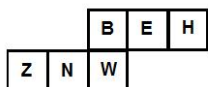
Q.4 Select the option that is related to the third word in the same way as the second word is related to the first word.

Ohmmeter : Resistance :: Zymometer : ?

- Ans
- 1. Viscosity
 - 2. Density
 - 3. Fermentation
 - 4. Radiation

Question ID : 6549786562
Status : Answered
Chosen Option : 1

Q.5 दी गई शीट को जब घन बनाने के लिए मोड़ा जाएगा, तो कौन-सा अक्षर 'N' वाले फलक के विपरीत फलक पर होगा?



- Ans
- 1. H
 - 2. E
 - 3. Z
 - 4. B

Question ID : 6549789498
Status : Answered
Chosen Option : 2

Q.6 उस विकल्प का चयन करें, जो दिए गए शब्दों का अंग्रेजी शब्दकोश में सही क्रम निरूपित करता है।

1. Rubric
2. Ruminare
3. Rose
4. Reader
5. Reap

- Ans
- 1. 4, 3, 5, 1, 2
 - 2. 4, 5, 3, 1, 2
 - 3. 4, 5, 3, 2, 1
 - 4. 4, 5, 1, 3, 2

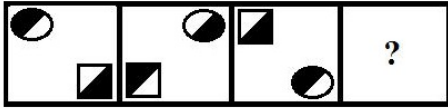
Question ID : 6549789487
Status : Answered
Chosen Option : 2

Q.7 विजय, अमित से 8 वर्ष छोटा है। विजय और अमित की वर्तमान आयु का योगफल 42 वर्ष है। विजय की वर्तमान आयु ज्ञात करें।

- Ans
- 1. 17 वर्ष
 - 2. 25 वर्ष
 - 3. 21 वर्ष
 - 4. 15 वर्ष

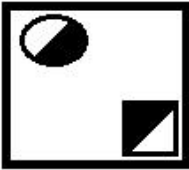
Question ID : 6549789480
Status : Marked For Review
Chosen Option : 1

Q.8 उस आकृति का चयन करें, जो निम्न आकृति श्रेणी में (प्रश्नवाचक चिह्न [?] के स्थान पर) आएगी।




Ans

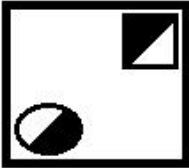
✗ 1.



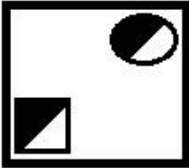
✗ 2.



✓ 3.



✗ 4.



Question ID : 6549789499
Status : Answered
Chosen Option : 3

Q.9 P और Q पति-पत्नी हैं। P का ससुर R की पत्नी का पिता है। Q, T का भाई है। P का R की पत्नी से क्या संबंध है?

Ans

✗ 1. भाई

✗ 2. ममेरा भाई

✓ 3. भाभी

✗ 4. चाची

Question ID : 6549789788
Status : Answered
Chosen Option : 3

Q.10 दिए गए संयोजन के सही दर्पण प्रतिबिंब का चयन करें, जब दर्पण को दर्शाए गए अनुसार, 'PQ' पर रखा जाता है।

STRUCTURE 

- Ans
- 1. S L K C U L U K E
 - 2. E R U T C U R T S
 - 3. E R U T C U R T S
 - 4. S L K C U L U K E

Question ID : 6549786574
Status : Answered
Chosen Option : 2

Q.11 दिए गए कथनों और निष्कर्षों को ध्यानपूर्वक पढ़ें। यह मानते हुए कि कथनों में दी गई जानकारी सत्य है, चाहे वह ज्ञात तथ्यों से असंगत हो, निर्धारित करें कि कौन सा/से निष्कर्ष कथनों का तार्किक रूप से अनुसरण करता/ते है/हैं?

कथन:
सभी ऊंट, कबूतर हैं।
कुछ कबूतर, बाज हैं।

निष्कर्ष:
I. सभी ऊंट, बाज हैं।
II. कुछ ऊंट, बाज हैं।
III. कुछ बाज, कबूतर हैं।
IV. कुछ कबूतर, ऊंट हैं।

- Ans
- 1. निष्कर्ष III और IV दोनों अनुसरण करते हैं।
 - 2. निष्कर्ष I और II दोनों अनुसरण करते हैं।
 - 3. निष्कर्ष II और III दोनों अनुसरण करते हैं।
 - 4. निष्कर्ष I और IV दोनों अनुसरण करते हैं।

Question ID : 6549786568
Status : Answered
Chosen Option : 1

Q.12 उस शब्द-युग्म का चयन करें जिसमें दोनों शब्द ठीक उसी प्रकार संबंधित हैं, जिस प्रकार निम्न शब्द-युग्म में दोनों शब्द संबंधित हैं।

चम्मच : बर्तन

- Ans
- 1. स्कूटर : वाहन
 - 2. बस : यात्री
 - 3. घर : व्यय
 - 4. रसोई-घर : खाना बनाना

Question ID : 6549789494
Status : Answered
Chosen Option : 1

Q.13 दिए गए विकल्पों में से उस संख्या का चयन करें, जो निम्न श्रेणी में प्रश्नवाचक चिह्न (?) के स्थान पर आ सकती है।

2, 4, 5, 19, 71, ?

- Ans 1. 361
 2. 216
 3. 261
 4. 316

Question ID : 6549786556
Status : Answered
Chosen Option : 3

Q.14 उस विकल्प का चयन करें, जो तीसरे पद से ठीक उसी प्रकार संबंधित है, जिस प्रकार दूसरा पद पहले पद से संबंधित है।

SLIM : MHQO :: COLD : ?

- Ans 1. GZPK
 2. GPKZ
 3. GKPZ
 4. GPZK

Question ID : 6549786561
Status : Answered
Chosen Option : 3

Q.15 नीचे दी गई आकृति में कितने त्रिभुज हैं?



- Ans 1. 12
 2. 14
 3. 13
 4. 11


Question ID : 6549789500
Status : Answered
Chosen Option : 1

Q.16 उस विकल्प का चयन करें, जिसमें दी गई आकृति सन्निहित है। (घुमाने की अनुमति नहीं है)

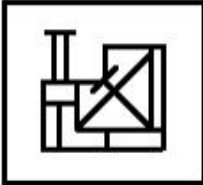


Ans

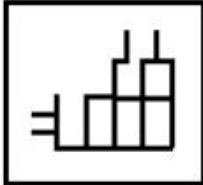
✗ 1.



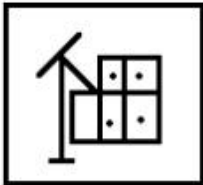
✓ 2.



✗ 3.



✗ 4.

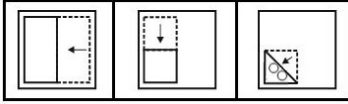


Question ID : 6549786572

Status : Answered


Chosen Option : 1

Q.17 कागज के एक टुकड़े को मोड़ने का क्रम और मुड़े हुए कागज को काटने का प्रकार, निम्न आकृति में दर्शाया गया है। खोलने पर यह कागज कैसा दिखाई देगा?

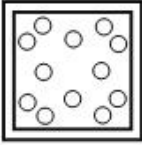


Ans

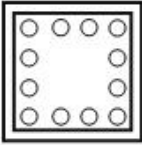
✗ 1.



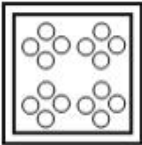
✗ 2.



✗ 3.



✓ 4.



Question ID : 6549786573

Status : Answered

Chosen Option : 4

Q.18 किसी निश्चित कूट भाषा में, BEYOND को BDFNPY लिखा जाता है। उसी कूट भाषा में PROMISE को किस प्रकार लिखा जाएगा?

Ans

✗ 1. ESIMORP

✓ 2. FJMPPRS

✗ 3. FJNPQSR

✗ 4. EIMOPRS

Question ID : 6549786559

Status : Answered

Chosen Option : 4

Q.19 उस अक्षर संयोजन का चयन करें, जिसे दी गई अक्षर श्रेणी के रिक्त स्थान में क्रमिक रूप से रखने पर श्रेणी पूर्ण हो जाएगी।

a __ gb __ acegb __ aceg __

- Ans
- 1. ddfbcedf
 - 2. fdfbdfced
 - 3. cedfdfbdf
 - 4. cefbdfdfd

Question ID : 6549788684
Status : Answered
Chosen Option : 3

Q.20 निम्नलिखित में से कौन-सा शब्द संयोजन नीचे दिए गए वेन आरेख को उचित रूप से निरूपित करता है?



- Ans
- 1. माँ, बहन, भाई
 - 2. महिला, पुत्री, बहन
 - 3. पिता, डॉक्टर, पुरुष
 - 4. महिला, पुरुष, चाची

Question ID : 6549789504
Status : Answered
Chosen Option : 2

Q.21 उस विकल्प का चयन करें, जिसमें संख्याएँ ठीक उसी प्रकार संबंधित हैं जिस प्रकार दिए गए समुच्चय की संख्याएँ संबंधित हैं।

(8, 44, 224)

- Ans
- 1. (11, 59, 299)
 - 2. (7, 39, 190)
 - 3. (15, 75, 301)
 - 4. (9, 80, 312)

Question ID : 6549789484
Status : Answered
Chosen Option : 1

Q.22 चार शब्द दिए गए हैं, जिनमें से तीन किसी प्रकार समान हैं और एक भिन्न है। भिन्न शब्द का चयन करें।

- Ans
- 1. निश्चित
 - 2. अस्पष्टार्थ
 - 3. उभयभावी
 - 4. संशयग्रस्त

Question ID : 6549786567
Status : Answered
Chosen Option : 1

Q.23 उस विकल्प का चयन करें, जिसमें संख्याएं ठीक उसी प्रकार संबंधित हैं, जिस प्रकार निम्न सेट की संख्याएं संबंधित हैं।

(57, 126, 199)

- Ans
- 1. (75, 148, 217)
 - 2. (43, 112, 178)
 - 3. (29, 96, 168)
 - 4. (63, 132, 205)

Question ID : 6549786554
Status : Not Answered
Chosen Option : --

Q.24 किसी निश्चित कूट भाषा में, SEND को 168 लिखा जाता है। उसी कूट भाषा में PURSE को किस प्रकार लिखा जाएगा?

- Ans
- 1. 415
 - 2. 185
 - 3. 395
 - 4. 225

Question ID : 6549789489
Status : Answered
Chosen Option : 3

Q.25 उस विकल्प का चयन करें, जो तीसरी संख्या से ठीक उसी प्रकार संबंधित है, जिस प्रकार दूसरी संख्या पहली संख्या से संबंधित है।

25 : 750 :: 30 : ?

- Ans
- 1. 1625
 - 2. 1275
 - 3. 1110
 - 4. 1050

Question ID : 6549789482
Status : Answered
Chosen Option : 4