

Section : **General Intelligence**

Q.1 उस समूह का चयन करें जिसमें संख्याएँ ठीक उसी प्रकार संबंधित हैं जिस प्रकार निम्न समूह की संख्याएँ संबंधित हैं।
(13, 37, 77)

- Ans
- 1. (12, 38, 79)
 - 2. (14, 40, 83)
 - 3. (15, 43, 83)
 - 4. (17, 53, 109)

Question ID : **6549788271**
Status : **Answered**
Chosen Option : **2**

Q.2 उस उचित गणितीय चिह्नों के संयोजन का चयन करें, जिन्हें * चिह्न के स्थान पर क्रमिक रूप से रखने पर दिया गया समीकरण संतुलित हो जाएगा।

$$1496 * 8 * 13 * 40 * 5 = 0$$

- Ans
- 1. +, +, -, ×
 - 2. +, +, -, ×
 - 3. -, +, +, ×
 - 4. +, +, ×, -

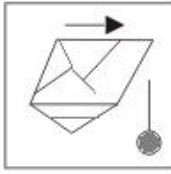
Question ID : **6549788269**
Status : **Answered**
Chosen Option : **2**

Q.3 उस विकल्प का चयन करें जिसमें दी गई आकृति अंतःस्थापित (embedded) है। (घुमाने की अनुमति नहीं है)।

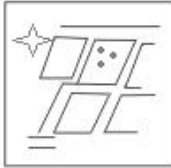


Ans

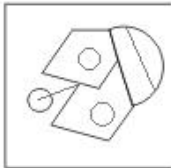
✗ 1.



✗ 2.



✗ 3.



✓ 4.



Question ID : 6549788289

Status : Answered

Chosen Option : 4

Q.4 किसी निश्चित कूट भाषा में, ORANGE को LKZGTX और MIRACLE को NBITXEV लिखा जाता है। उसी कूट भाषा में LOCKDOWN को किस प्रकार लिखा जाएगा?

Ans

✗ 1. OHXHWDDG

✗ 2. OHDXHWVG

✗ 3. OHXHWVGD

✓ 4. OHXDWHVG

Question ID : 6549788276

Status : Not Answered

Chosen Option : --

Q.5 कपिल की ओर इशारा करते हुए, आदित्य ने कहा, 'उसके पिता मेरे पिता के पिता की पुत्री के पति हैं'। आदित्य के पिता का, कपिल की मां से क्या रिश्ता है?

Ans

✗ 1. पति

✗ 2. पिता

✗ 3. पुत्र

✓ 4. भाई

Question ID : 6549787473


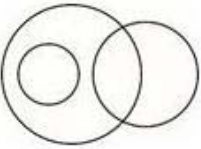

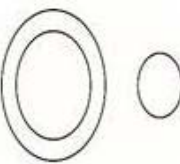
Status : Answered

Chosen Option : 2

Q.6 उस वेन आरेख का चयन करें, जो निम्न वर्गों के बीच संबंधों को सर्वश्रेष्ठ ढंग से निरूपित करता है।

चूहे, बिल्लियाँ, स्तनधारी

Ans

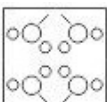
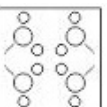
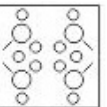
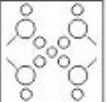
- ✓ 1. 
- ✗ 2. 
- ✗ 3. 
- ✗ 4. 

Question ID : 6549788191
 Status : Answered
 Chosen Option : 1

Q.7 निम्न आकृति में दिखाए गए अनुसार एक कागज़ को मोड़ा और काटा जाता है। इस कागज़ को खोलने पर यह किस प्रकार का दिखाई देगा?

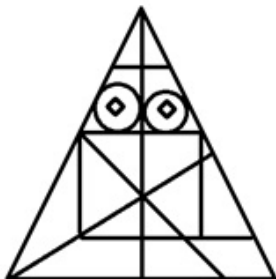


Ans

- ✗ 1. 
- ✓ 2. 
- ✗ 3. 
- ✗ 4. 

Question ID : 6549788290
 Status : Answered
 Chosen Option : 2

Q.8 निम्न आकृति में त्रिभुजों की संख्या ज्ञात कीजिए।



- Ans
- 1. 31
 - 2. 33
 - 3. 32
 - 4. 30

Question ID : 6549788187
Status : Answered
Chosen Option : 2

Q.9 जिस प्रकार 'सूआ', 'मोची' से और 'छेनी', 'मूर्तिकार' से संबंधित है, ठीक उसी प्रकार 'निहाई', '_____' से संबंधित है।

- Ans
- 1. शल्य चिकित्सक
 - 2. बढ़ई
 - 3. लोहार
 - 4. कसाई

Question ID : 6549788279
Status : Answered
Chosen Option : 1

Q.10 दो संख्याएँ, A और B, इस प्रकार हैं कि A के 3% और B के 6% का योग A के 4% और B के 6% के योग का $\frac{4}{5}$ हिस्सा है। A + B और A - B का अनुपात ज्ञात करें।

- Ans
- 1. 4 : 5
 - 2. 6 : 5
 - 3. 5 : 6
 - 4. 7 : 5

Question ID : 6549788167
Status : Answered
Chosen Option : 4

Q.11 निम्नलिखित चार अक्षर-समूहों में से तीन एक निश्चित ढंग से समान हैं और एक असंगत है। उस असंगत अक्षर-समूह को चुनें।

- Ans
- 1. HDLS
 - 2. DZHW
 - 3. GCKT
 - 4. PLSK

Question ID : 6549788182
Status : Answered
Chosen Option : 4

Q.12 तीन कथनों के बाद चार निष्कर्ष I, II, III और IV दिए गए हैं। यह मानते हुए कि कथन सत्य हैं, भले ही ये सामान्य रूप से ज्ञात तथ्यों से भिन्न प्रतीत होते हों, निर्धारित करें कि कौन-सा / कौन-से निष्कर्ष कथनों का तार्किक रूप से अनुसरण करता है / करते हैं।

कथन:

1. सभी कारपेट, बिस्तर हैं।
2. कुछ मेज, कारपेट हैं।
3. सभी तकिये, मेज हैं।

निष्कर्ष:

- I. सभी तकिये, बिस्तर हैं।
- II. कुछ तकिये, बिस्तर हैं।
- III. कुछ बिस्तर, मेज हैं।
- IV. सभी मेज, बिस्तर हैं।

- Ans
- 1. निष्कर्ष II और III दोनों अनुसरण करते हैं।
 - 2. केवल निष्कर्ष I अनुसरण करता है।
 - 3. निष्कर्ष I और II दोनों अनुसरण करते हैं।
 - 4. केवल निष्कर्ष III अनुसरण करता है।

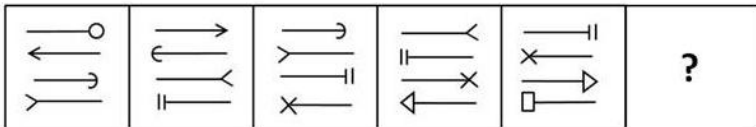
Question ID : 6549788285
Status : Answered
Chosen Option : 4

Q.13 उस विकल्प का चयन करें, जो तीसरे अक्षर-समूह से ठीक उसी प्रकार संबंधित है, जिस प्रकार दूसरा अक्षर-समूह पहले अक्षर-समूह से संबंधित है।
PRINT : TWRIP :: CLOSE : ?

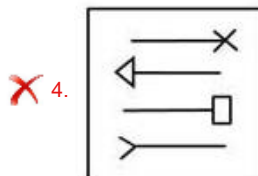
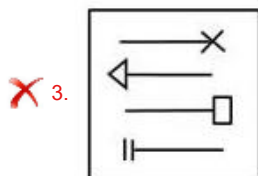
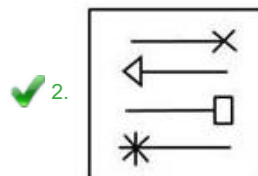
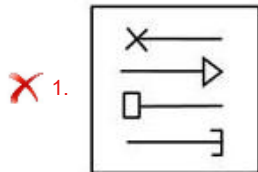
- Ans
- 1. EOKHC
 - 2. EQLNC
 - 3. EQKNC
 - 4. EPLMC

Question ID : 6549788278
Status : Answered
Chosen Option : 2

Q.14 निम्न आकृति श्रृंखला में प्रश्न चिह्न (?) के स्थान पर आने वाली आकृति का चयन करें।



Ans



Question ID : 6549788186
Status : Answered
Chosen Option : 4

Q.15 उस शब्द-युग्म का चयन करें, जो दिए गए शब्द-युग्म में व्यक्त किए गए संबंध के समान संबंध को दर्शाता है।

पाना (Spanner) : पकड़ (Grip)

- Ans
- ✗ 1. कुल्हाड़ी (Axe) : खुदाई (Dig)
 - ✗ 2. चिमटा (Tongs) : गार्ड (Guard)
 - ✓ 3. बरमा (Auger) : बोर (Bore)
 - ✗ 4. काटना (Carve) : छेनी (Chisel)

Question ID : 6549788181
Status : Answered
Chosen Option : 4

Q.16 निम्नलिखित चार शब्दों में से तीन किसी प्रकार समान हैं और एक असंगत है। उस असंगत शब्द का चयन करें।

- Ans
- 1. कलह
 - 2. हलचल
 - 3. टकराव
 - 4. शांति

Question ID : 6549788284
Status : Answered
Chosen Option : 4

Q.17 उस संख्या का चयन करें, जो निम्न श्रेणी में प्रश्नवाचक चिह्न (?) के स्थान पर आएगी?
4, 11, 31, 65, 193, ?

- Ans
- 1. 369
 - 2. 389
 - 3. 398
 - 4. 396

Question ID : 6549788273
Status : Answered
Chosen Option : 2

Q.18 दिए गए प्रश्न में, दूसरी संख्या, पहली संख्या से किसी न किसी प्रकार से संबंधित है, वह विकल्प चुनें, जो उसी प्रकार से तीसरी संख्या से संबंधित है।
13 : 196 :: 15 : ?

- Ans
- 1. 256
 - 2. 221
 - 3. 247
 - 4. 298

Question ID : 6549788169
Status : Answered
Chosen Option : 1

Q.19 उस सेट का चयन करें, जिसमें संख्याएँ एक दूसरे से उसी तरह से संबंधित हैं, जिस तरह निम्न सेट की संख्याएँ एक दूसरे से संबंधित हैं।

(4, 140, 6)

- Ans
- 1. (3, 269, 8)
 - 2. (2, 121, 6)
 - 3. (5, 234, 7)
 - 4. (9, 396, 4)

Question ID : 6549788171
Status : Not Attempted and Marked For Review
Chosen Option : --

Q.20 अक्षरों के उस संयोजन का चयन करें जिसे दी गई श्रेणी में रिक्त स्थानों पर क्रमिक रूप से रखने पर श्रेणी पूर्ण हो जाएगी।

MT_RM_QR_VQ_MW_RM_QR

Ans 1. QUMRQX

2. RUMRQY

3. QUSRQR

4. QUMQRX

Question ID : 6549787371

Status : Not Attempted and
Marked For Review

Chosen Option : --

Q.21 यदि दर्पण को दिए गए संयोजन के दाईं ओर रखा जाए, तो दिए गए संयोजन का दर्पण में निर्मित सही प्रतिबिंब चयनित कीजिए।

DIViNeMaGIC

Ans 1. 

2. 

3. 

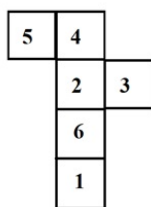
4. 

Question ID : 6549788291

Status : Answered

Chosen Option : 4

Q.22 यदि दी गई आकृति को घन बनाने के लिए मोड़ा जाता है, तो कौन सी संख्या '1' के विपरीत फलक पर होगी?



Ans 1. 3

2. 5

3. 2

4. 4

Question ID : 6549788185

Status : Answered

Chosen Option : 3

Q.23 निम्नलिखित चार संख्या-युग्मों में से तीन एक निश्चित ढंग से समान हैं और एक असंगत है। उस असंगत संख्या-युग्म का चयन करें।

- Ans
- 1. 6 : 180
 - 2. 5 : 105
 - 3. 4 : 48
 - 4. 7 : 294

Question ID : 6549788173
Status : Answered
Chosen Option : 2

Q.24 उस विकल्प का चयन करें, जो दिए गए शब्दों के उस क्रम को दर्शाता है जिस क्रम में वे अंग्रेजी शब्दकोश में आते हैं।

1. Rumoured
2. Rudiment
3. Rumanian
4. Royalties
5. Rigorous

- Ans
- 1. 5, 4, 2, 3, 1
 - 2. 4, 5, 2, 3, 1
 - 3. 4, 5, 2, 1, 3
 - 4. 5, 4, 2, 1, 3

Question ID : 6549788174
Status : Answered
Chosen Option : 1

Q.25 यदि STROKE को 2317131089 और GLUTEN को 1423871621 के रूप में कूटबद्ध किया जाता है, तो CHARGE को किस रूप में कूटबद्ध किया जाएगा?

- Ans
- 1. 232110270225
 - 2. 230211722025
 - 3. 231220272052
 - 4. 232110272025

Question ID : 6549788176
Status : Not Answered
Chosen Option : --