

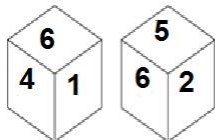
Section : **General Intelligence**

**Q.1** किसी निश्चित कूट भाषा में, 'UMBRELLA' को 'VNCSDKKZ' और 'FASTENED' को 'GBTUDMDC' लिखा जाता है। उसी कूट भाषा में 'MONUMENT' को किस प्रकार लिखा जाएगा?

- Ans**  1. NPOVLDMS  
 2. NPOVPFOU  
 3. LNMTLGMS  
 4. NPOWLEOS

Question ID : **6549787670**  
Status : **Answered**  
Chosen Option : **1**

**Q.2** एक पासे की दो अलग-अलग स्थितियां दर्शाई गई हैं, जिसके सभी छः फलकों पर 1 से 6 तक की एक-एक संख्या अंकित है। उस संख्या का चयन कीजिए जो '3' दर्शाने वाले फलक के विपरीत फलक पर होगी।



- Ans**  1. 6  
 2. 4  
 3. 5  
 4. 2

Question ID : **6549787579**  
Status : **Answered**  
Chosen Option : **1**

Q.3 उस विकल्प का चयन करें, जिसमें संख्याएं ठीक उसी प्रकार संबंधित हैं, जिस प्रकार निम्न समुच्चय की संख्याएं संबंधित हैं।

(16, 60, 240)

- Ans
- 1. (20, 12, 121)
  - 2. (18, 56, 252)
  - 3. (16, 38, 260)
  - 4. (14, 42, 196)

Question ID : 6549787665  
Status : Answered  
Chosen Option : 2

Q.4 चार अक्षर-समूह दिए गए हैं, जिनमें से तीन एक निश्चित प्रकार से समान हैं, जबकि एक उनसे असंगत है। उस असंगत अक्षर-समूह का चयन कीजिए।

- Ans
- 1. WXYZ
  - 2. EBCD
  - 3. IFGH
  - 4. NKLM

Question ID : 6549787576  
Status : Answered  
Chosen Option : 1

Q.5 चार संख्या-युग्म दिए गए हैं, जिनमें से तीन में एक निश्चित प्रकार की समानता है और एक असंगत है। उस असंगत संख्या-युग्म का चयन कीजिए।

- Ans
- 1. 30 : 225
  - 2. 14 : 49
  - 3. 24 : 130
  - 4. 20 : 100

Question ID : 6549787567  
Status : Answered  
Chosen Option : 3

Q.6 चार शब्द दिए गए हैं, जिनमें से तीन किसी प्रकार समान हैं और एक भिन्न है। भिन्न का चयन करें।

- Ans
- 1. शहनाई
  - 2. सैक्सोफोन
  - 3. बांसुरी
  - 4. मेंडोलिन

Question ID : 6549787678  
Status : Marked For Review  
Chosen Option : 4

Q.7 दिए गए विकल्पों में से उस संख्या का चयन करें, जो निम्न श्रेणी में प्रश्नवाचक चिह्न (?) को प्रतिस्थापित कर सकती है।

59, 59, 61, 183, 187, ?

- Ans
- 1. 876
  - 2. 935
  - 3. 705
  - 4. 632

Question ID : 6549787667  
Status : Answered  
Chosen Option : 2

Q.8 दिए गए कथनों और निष्कर्षों को ध्यानपूर्वक पढ़ें। यह मानते हुए कि कथनों में दी गई जानकारी सत्य है, चाहे वह ज्ञात तथ्यों से असंगत हो, निर्धारित करें कि कौन सा/से निष्कर्ष कथनों का तार्किक रूप से अनुसरण करता/ते है/हैं?

कथन:  
कुछ गेंदें, चम्मच हैं।  
सभी पत्थर, गेंद हैं।  
कोई भी गेंद, कंकड़ नहीं है।

निष्कर्ष:  
I. कुछ गेंदें, पत्थर हैं।  
II. कोई भी चम्मच, पत्थर नहीं है।  
III. कोई भी पत्थर, कंकड़ नहीं है।

- Ans
- 1. निष्कर्ष II और III दोनों अनुसरण करते हैं।
  - 2. केवल निष्कर्ष III अनुसरण करता है।
  - 3. निष्कर्ष I और III दोनों अनुसरण करते हैं।
  - 4. निष्कर्ष I और II दोनों अनुसरण करते हैं।

Question ID : 6549787679  
Status : Answered  
Chosen Option : 3

Q.9 उस विकल्प का चयन कीजिए जिसकी संख्याओं के मध्य वही संबंध है जो दिए गए समुच्चय की संख्याओं के मध्य है।

(25, 17, 170)

- Ans
- 1. (23, 18, 421)
  - 2. (36, 12, 144)
  - 3. (49, 20, 140)
  - 4. (24, 60, 240)

Question ID : 6549787565  
Status : Answered  
Chosen Option : 2

Q.10 उस विकल्प का चयन करें, जो दी गई आकृति में सन्नहित है। (घुमाने की अनुमति नहीं है)



Ans



Question ID : 6549787683  
Status : Answered  
Chosen Option : 1

Q.11 उस विकल्प का चयन करें, जो तीसरे पद से ठीक उसी प्रकार संबंधित है, जिस प्रकार दूसरा पद पहले पद से संबंधित है।

SHOVEL : MFWPIT :: NOVICE : ?

Ans

✗ 1. OPWJDF

✗ 2. WPOHBD

✗ 3. MNUHBD

✓ 4. FDJWPO

Question ID : 6549787672  
Status : Answered  
Chosen Option : 4

Q.12 31 जनवरी 2009 को सप्ताह का कौन सा दिन था?

Ans

✗ 1. रविवार

✗ 2. शुक्रवार

✓ 3. शनिवार

✗ 4. सोमवार

Question ID : 6549787561  
Status : Marked For Review  
Chosen Option : 4

Q.13 दिए गए संयोजन के सही दर्पण प्रतिबिंब का चयन करें, जब दर्पण को दर्शाए गए अनुसार, MN पर रखा जाता है।

Q r S g y 4 |  
M  
N

Ans

✓ 1. 4 y p 2 1 Q

✗ 2. 7 y p 2 1 Q

✗ 3. 4 y p S 1 Q

✗ 4. 4 y 6 2 1 Q

Question ID : 6549787685

Status : Answered

Chosen Option : 1

Q.14 अक्षरों के उस संयोजन का चयन करें, जिन्हें दिए गए अक्षर श्रेणी में खाली जगहों पर क्रमिक रूप से रखने पर श्रेणी पूर्ण हो जाएगी।

p \_ t b c p r \_ b c \_ r t b \_ p \_ t \_ c

Ans

✗ 1. r, p, t, r, b, c

✓ 2. r, t, p, c, r, b

✗ 3. r, c, p, b, t, r

✗ 4. r, p, c, t, b, r

Question ID : 6549786765

Status : Answered

Chosen Option : 2

Q.15 यदि अनिकेत, प्रियंका के पुत्र के पुत्र का भाई है, तो अनिकेत का प्रियंका से क्या संबंध है?

Ans

✗ 1. कजिन

✗ 2. पुत्र

✓ 3. पोता / नाती

✗ 4. भाई

Question ID : 6549786867

Status : Answered

Chosen Option : 3

Q.16 उस विकल्प का चयन करें, जिसमें शब्द ठीक उसी प्रकार संबंधित हैं, जिस प्रकार दिए गए शब्द युग्म के शब्द संबंधित हैं।

लीबिया : त्रिपोली

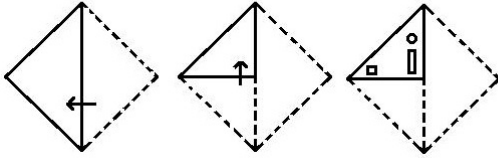
- Ans
- 1. हरारे : ज़िम्बाब्वे
  - 2. कंपाला : युगांडा
  - 3. ज़ाम्बिया : लुसाका
  - 4. अफ़ग़ानिस्तान : जकार्ता

Question ID : 6549787575

Status : Answered

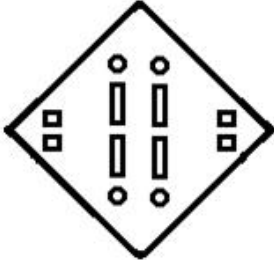
Chosen Option : 2

Q.17 कागज के एक टुकड़े को मोड़ने का क्रम और मुड़े हुए कागज को काटने की विधि, निम्न आकृति में दर्शाई गई है। खोलने पर यह कागज कैसा दिखाई देगा?

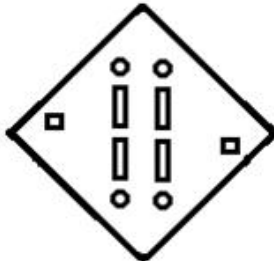


Ans

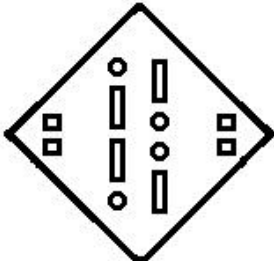
✓ 1.



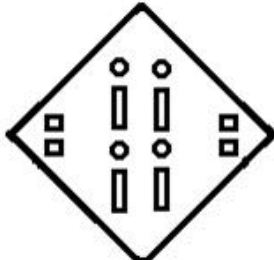
✗ 2.



✗ 3.



✗ 4.



Question ID : 6549787684

Status : Answered

Chosen Option : 1

Q.18 दिए गए समीकरण को सही करने के लिए, कौन से दो चिह्नों को आपस में बदलना होगा?

$$45 - 49 + 26 \times 70 \div 35 = 42$$


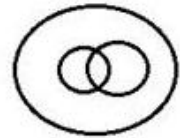


- Ans
- 1. + और ×
  - 2. + और -
  - 3. + और ×
  - 4. × और -

Question ID : 6549787663  
Status : Answered  
Chosen Option : 2

Q.19 उस वेन आरेख का चयन करें, जो निम्न वर्गों के बीच संबंध को सर्वोत्तम ढंग से निरूपित करता है।

भाई, परिवार, बहन

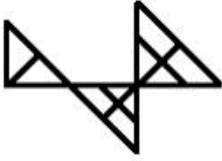
Ans

- 1. 
- 2. 
- 3. 
- 4. 

Question ID : 6549787585  
Status : Answered  
Chosen Option : 4



Q.20 दी गई आकृति में कितने त्रिभुज हैं?



- Ans
- 1. 17
  - 2. 15
  - 3. 14
  - 4. 16

Question ID : 6549787581  
Status : Marked For Review  
Chosen Option : 2

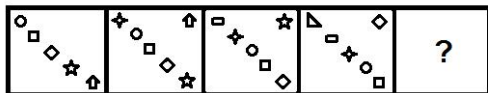
Q.21 उस विकल्प का चयन कीजिए जो दिए गए शब्दों के उस क्रम-विन्यास को दर्शाता है जिस क्रम में वे अंग्रेजी शब्दकोष में आते हैं।

1. Ruthless
2. Ruler
3. Routine
4. Rusticate
5. Rugby

- Ans
- 1. 3, 5, 2, 1, 4
  - 2. 5, 3, 2, 4, 1
  - 3. 3, 2, 5, 4, 1
  - 4. 3, 5, 2, 4, 1

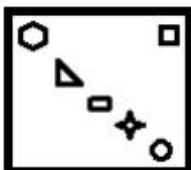
Question ID : 6549787568  
Status : Answered  
Chosen Option : 4

Q.22 दिए गए विकल्पों में से उस आकृति का चयन कीजिए जो निम्नांकित श्रेणी में प्रश्नवाचक चिह्न (?) के स्थान पर आ सकती है।

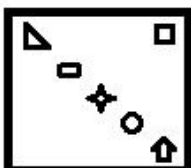


Ans

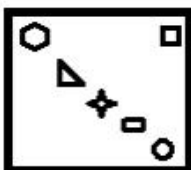
✓ 1.



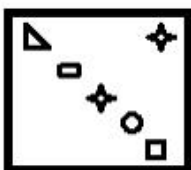
✗ 2.



✗ 3.



✗ 4.



Question ID : 6549787580

Status : Marked For Review

Chosen Option : 1

Q.23 उस विकल्प का चयन कीजिए जिसका चौथी संख्या से वही संबंध है जो पहली संख्या का दूसरी संख्या से है तथा पांचवी संख्या का छठी संख्या से है।

24 : 144 :: ? : 174 :: 35 : 210

Ans

✗ 1. 38

✗ 2. 33

✗ 3. 27

✓ 4. 29

Question ID : 6549787563

Status : Answered

Chosen Option : 4

Q.24 एक निश्चित कूट भाषा में, 'TOPPER' को '66' लिखा जाता है और 'MARK' को '61' लिखा जाता है।  
उसी भाषा में, 'INDUCE' को क्या लिखा जाएगा?

- Ans
- 1. 106
  - 2. 100
  - 3. 96
  - 4. 86

Question ID : 6549787570  
Status : Answered  
Chosen Option : 3

Q.25 Select the option that is related to the third word in the same way as the second word  
is related to the first word.

Entomology : Insects : : Palaeontology : ?

- Ans
- 1. Minerals
  - 2. Fossils
  - 3. Automobile
  - 4. Earthquakes

Question ID : 6549787673  
Status : Answered  
Chosen Option : 2