

Section : **General Intelligence**

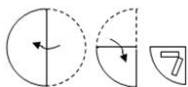
Q.1 अक्षरों के उस संयोजन का चयन करें जिसे दी गई श्रेणी में रिक्त स्थानों पर क्रमिक रूप से रखने पर श्रेणी पूर्ण हो जाएगी।

K _ T Z _ Y _ M _ Z O _ K _ T _ O Y

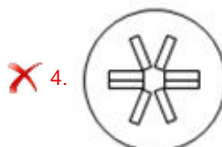
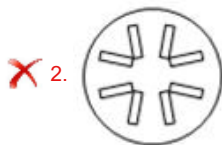
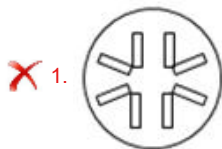
- Ans
- 1. MNKTYKZ
 - 2. MOTYKMZ
 - 3. MOKTYMZ
 - 4. MOTTYNZ

Question ID : **6549787472**
Status : **Answered**
Chosen Option : **3**

Q.2 निम्नांकित आकृतियों में एक कागज के टुकड़े को मोड़ने का क्रम और मुड़े हुए कागज को काटने की विधि दर्शाई गई है। यह कागज खोलने पर कैसा दिखेगा?



Ans



Question ID : 6549786068

Status : Answered

Chosen Option : 3

Q.3 एक बच्चे की माँ के ससुर की बेटी रश्मि है, जिसकी बेटी पिहू है। पिहू का उस बच्चे से क्या संबंध है?

Ans

1. बहन

2. भतीजी

3. पुफेरी बहन

4. मामी

Question ID : 6549789760

Status : Answered

Chosen Option : 3

Q.4 यदि CALENDAR को 91452313 और FACEMASK को 210142316 लिखा जाता है, तो SECURITY को किस प्रकार लिखा जाएगा?

Ans

1. 723953210

2. 723593120

3. 723933210

4. 729952310

Question ID : 6549788277

Status : Answered

Chosen Option : 1

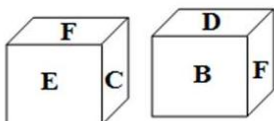
Q.5 उस विकल्प का चयन कीजिए जिसका तीसरे पद से वही संबंध है, जो दूसरे पद का पहले पद से है।

PAINTER : AEINPRT :: GLAMOUR : ?

- Ans
- 1. AGLMORU
 - 2. RUOMALG
 - 3. MALGRUO
 - 4. ALGOMRU

Question ID : 6549786056
Status : Answered
Chosen Option : 1

Q.6 एक ही पासे की दो भिन्न-भिन्न स्थितियों को दर्शाया गया है। 'C' अक्षर वाले फलक के विपरीत फलक पर कौन सा अक्षर होगा?



- Ans
- 1. A
 - 2. F
 - 3. D
 - 4. B

Question ID : 6549788286
Status : Answered
Chosen Option : 4

Q.7 उस समूह का चयन करें जिसमें संख्याएँ ठीक उसी प्रकार संबंधित हैं जिस प्रकार निम्न समुच्चय की संख्याएँ संबंधित हैं।

(697, 13, 866)

- Ans
- 1. (651, 16, 940)
 - 2. (747, 25, 1423)
 - 3. (832, 8, 887)
 - 4. (541, 14, 737)

Question ID : 6549788272
Status : Answered
Chosen Option : 4

Q.8 यदि दर्पण को दाईं ओर रखा जाए, तो दिए गए संयोजन का दर्पण में निर्मित सही प्रतिबिंब चयनित कीजिए।

AFCαEβ

- Ans
- ✗ 1. βEαCFA
 - ✗ 2. AFCαEβ
 - ✗ 3. βEαCFA
 - ✓ 4. AβCαEβ

Question ID : 6549786069
 Status : Answered
 Chosen Option : 2

Q.9 उस आकृति का चयन करें, जो निम्नलिखित आकृति श्रेणी में प्रश्नवाचक चिह्न (?) के स्थान पर आएगी।

<table style="border-collapse: collapse; width: 100%;"> <tr><td style="padding: 2px;">1</td><td style="padding: 2px;">2</td><td style="padding: 2px;">3</td><td style="padding: 2px;">4</td></tr> <tr><td style="padding: 2px;">W</td><td style="padding: 2px;">X</td><td style="padding: 2px;"> </td><td style="padding: 2px;">Y Z</td></tr> </table>	1	2	3	4	W	X		Y Z	<table style="border-collapse: collapse; width: 100%;"> <tr><td style="padding: 2px;">1</td><td style="padding: 2px;">2</td><td style="padding: 2px;">3</td><td style="padding: 2px;">4</td></tr> <tr><td style="padding: 2px;">X</td><td style="padding: 2px;">W</td><td style="padding: 2px;"> </td><td style="padding: 2px;">A Z Y</td></tr> </table>	1	2	3	4	X	W		A Z Y	<table style="border-collapse: collapse; width: 100%;"> <tr><td style="padding: 2px;">1</td><td style="padding: 2px;">2</td><td style="padding: 2px;">3</td><td style="padding: 2px;">4</td></tr> <tr><td style="padding: 2px;">Z</td><td style="padding: 2px;">Y</td><td style="padding: 2px;">5</td><td style="padding: 2px;">X W</td></tr> </table>	1	2	3	4	Z	Y	5	X W	<table style="border-collapse: collapse; width: 100%;"> <tr><td style="padding: 2px;">Y</td><td style="padding: 2px;">Z</td><td style="padding: 2px;">B</td><td style="padding: 2px;">W</td><td style="padding: 2px;">X</td></tr> <tr><td style="padding: 2px;">2</td><td style="padding: 2px;"> </td><td style="padding: 2px;">A</td><td style="padding: 2px;">5</td><td></td></tr> </table>	Y	Z	B	W	X	2		A	5		<table style="border-collapse: collapse; width: 100%;"> <tr><td style="padding: 2px;">B</td><td style="padding: 2px;">D</td><td style="padding: 2px;">Y</td><td style="padding: 2px;">Z</td><td style="padding: 2px;"> </td><td style="padding: 2px;">Y Z</td></tr> <tr><td style="padding: 2px;"> </td><td style="padding: 2px;">A</td><td style="padding: 2px;">5</td><td></td><td></td><td></td></tr> </table>	B	D	Y	Z		Y Z		A	5				<table border="1" style="border-collapse: collapse; width: 100%; height: 100%;"> <tr><td style="text-align: center; vertical-align: middle; font-size: 24px;">?</td></tr> </table>	?
1	2	3	4																																																	
W	X		Y Z																																																	
1	2	3	4																																																	
X	W		A Z Y																																																	
1	2	3	4																																																	
Z	Y	5	X W																																																	
Y	Z	B	W	X																																																
2		A	5																																																	
B	D	Y	Z		Y Z																																															
	A	5																																																		
?																																																				

- Ans
- ✗ 1.

B
D
Y Z H W X
A
5
 - ✓ 2.

B
D
X W F Z Y
A
5
 - ✗ 3.

B
G
X W Z Y
A
5
 - ✗ 4.

B
G
X W D Z Y
A
5

Question ID : 6549788287
 Status : Marked For Review
 Chosen Option : 2

Q.10 चार शब्द दिए गए हैं, जिनमें से तीन किसी प्रकार समान हैं और एक भिन्न है। भिन्न शब्द का चयन करें।

- Ans
- 1. गुर्रना (Growl)
 - 2. भिमियाणा (Bleat)
 - 3. डगमगाना (Waddle)
 - 4. घुरघुराना (Grunt)

Question ID : 6549786062
Status : Answered
Chosen Option : 3

Q.11 उस शब्द-युग्म का चयन करें, जिसमें दोनों शब्द ठीक उसी प्रकार संबंधित हैं, जिस प्रकार निम्न शब्द-युग्म में दोनों शब्द संबंधित हैं।

प्रतिरोध : ओम

- Ans
- 1. एम्पियर : धारा
 - 2. आयतन : जूल
 - 3. कोण : रेडियन
 - 4. दाब : वाट

Question ID : 6549788282
Status : Answered
Chosen Option : 3

Q.12 उस विकल्प का चयन कीजिए जो दी गई आकृति में सन्निहित है। (आकृति को घुमाने की अनुमति नहीं है)



- Ans
- 1.
 - 2.
 - 3.
 - 4.

Question ID : 6549786067
Status : Answered
Chosen Option : 2

Q.13 दिए गए विकल्पों में से उस संख्या का चयन कीजिए जो निम्न श्रेणी में प्रश्नवाचक चिह्न (?) के स्थान पर आएगी।

89, 79, 71, ?, 53, 43

- Ans
- 1. 69
 - 2. 67
 - 3. 63
 - 4. 61

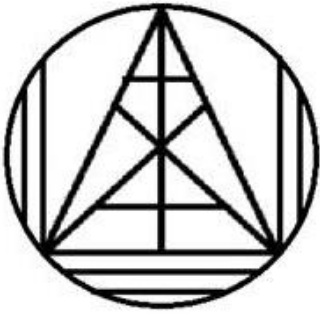
Question ID : 6549786051
Status : Answered
Chosen Option : 4

Q.14 निम्नलिखित संख्या-युग्म में से तीन किसी प्रकार से समान हैं और एक भिन्न है। भिन्न का चयन करें।

- Ans
- 1. 305 : 16
 - 2. 398 : 18
 - 3. 271 : 15
 - 4. 181 : 12

Question ID : 6549788274
Status : Answered
Chosen Option : 1

Q.15 निम्नलिखित आकृति में त्रिभुजों की संख्या ज्ञात करें।



- Ans
- 1. 20
 - 2. 22
 - 3. 23
 - 4. 21

Question ID : 6549788288
Status : Answered
Chosen Option : 2

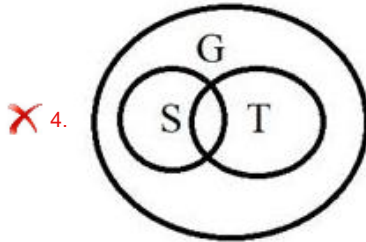
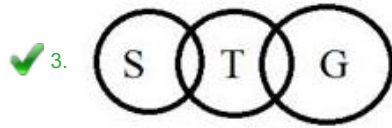
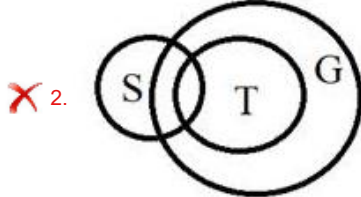

Q.16 नीचे दिए गए कथन को पढ़ें, जो सामान्यतः ज्ञात तथ्यों की उपेक्षा करते हैं और फिर दिए गए चार विकल्पों में से उस वेन आरेख की पहचान करें, जो कथनों को सही ढंग से निरूपित करता है।

कथन:

कुछ शर्ट (S), तौलिए (T) हैं।

कुछ तौलिए (T), गलबज़ (G) हैं।

Ans



Question ID : 6549788292

Status : Answered

Chosen Option : 3

Q.17 उस विकल्प का चयन करें, जो तीसरी संख्या से ठीक उसी तरह से संबंधित है जिस तरह दूसरी संख्या पहली संख्या से संबंधित है।

9 : 99 :: 15 : ?

Ans

✗ 1. 525

✗ 2. 552

✗ 3. 252

✓ 4. 255

Question ID : 6549788270

Status : Answered

Chosen Option : 4

Q.18 निम्नलिखित चार अक्षर-समूहों में से तीन किसी प्रकार समान हैं और एक भिन्न है। भिन्न का चयन करें।

- Ans
- 1. CXQBO
 - 2. UPITG
 - 3. IDWHU
 - 4. EZSFV

Question ID : 6549788283

Status : Not Attempted and Marked For Review

Chosen Option : --

Q.19 किसी प्रवेश परीक्षा में, तिवारी को 25% अंक प्राप्त हुए और वह 64 अंकों से अनुत्तीर्ण हो गया। यदि वह 40% अंक प्राप्त करता, तो उसे उत्तीर्णांक से 32 अंक अधिक प्राप्त होते। उत्तीर्णांक ज्ञात करें।

- Ans
- 1. 250
 - 2. 224
 - 3. 295
 - 4. 150

Question ID : 6549788268

Status : Answered

Chosen Option : 2

Q.20 निम्नलिखित में से कौन सा विकल्प दिए गए शब्दों को अंग्रेजी शब्दकोश के अनुसार उनके सही क्रम में निरूपित करता है?

1. Pamphlet
2. Paleface
3. Painless
4. Partiality
5. Pabulums

- Ans
- 1. 5, 3, 2, 1, 4
 - 2. 5, 3, 1, 2, 4
 - 3. 5, 2, 1, 3, 4
 - 4. 5, 2, 3, 1, 4

Question ID : 6549788275

Status : Answered

Chosen Option : 1

Q.21 उस विकल्प का चयन कीजिए जिसकी संख्याओं के मध्य वही संबंध है जो दिए गए समुच्चय की संख्याओं के मध्य है।

25 : 75 : 150

- Ans
- 1. 29 : 36 : 72
 - 2. 36 : 108 : 324
 - 3. 13 : 26 : 104
 - 4. 18 : 126 : 253

Question ID : 6549786049

Status : Answered

Chosen Option : 3

Q.22 उस विकल्प का चयन कीजिए जिसका तीसरे शब्द से वही संबंध है, जो दूसरे शब्द का पहले शब्द से है।

पूर्ण रूप से : समूचा :: काबू से बाहर : ?

- Ans
- 1. वृद्धि
 - 2. अनियंत्रित
 - 3. त्रुटिपूर्ण
 - 4. सामान्य

Question ID : 6549786057
Status : Answered
Chosen Option : 2

Q.23 दिए गए समीकरण को संतुलित करने के लिए, किन दो अंकों को एक-दूसरे से और किन दो चिह्नों को एक-दूसरे से बदलने की ज़रूरत है?

$$26 \div 6 - 54 + 24 \times 8 = 174$$

- Ans
- 1. 6 और 4; - और ×
 - 2. 4 और 2; + और +
 - 3. 8 और 6; × और +
 - 4. 5 और 8; × और +

Question ID : 6549786047
Status : Not Attempted and Marked For Review
Chosen Option : --

Q.24 एक निश्चित कूट भाषा में, PROMISE को WXTQLUF लिखा जाता है। उसी भाषा में MELTING को क्या लिखा जाएगा?

- Ans
- 1. TKQXLPH
 - 2. TLSAPUN
 - 3. SKRZOTM
 - 4. SJPWKOG

Question ID : 6549786054
Status : Answered
Chosen Option : 1

Q.25 दिए गए कथनों और निष्कर्षों को ध्यानपूर्वक पढ़ें। यह मानते हुए कि कथनों में दी गई सूचना सत्य है, भले ही वह सामान्य रूप से ज्ञात तथ्यों से भिन्न प्रतीत होती हो, बताइए कि दिए गए निष्कर्षों में से कौन सा/से निष्कर्ष कथनों का तार्किक रूप से अनुसरण करता है/करते हैं।

कथन:

सभी रैक, पुस्तकें हैं।
सभी रैक, पेन हैं।

निष्कर्ष:

I. सभी पेन, पुस्तकें हैं।
II. कुछ पुस्तकें, पेन हैं।

Ans

- ✓ 1. केवल निष्कर्ष II अनुसरण करता है।
✗ 2. निष्कर्ष I और II दोनों अनुसरण करते हैं।
✗ 3. न तो निष्कर्ष I और न ही निष्कर्ष II अनुसरण करता है।
✗ 4. केवल निष्कर्ष I अनुसरण करता है।

Question ID : 6549786063

Status : Answered

Chosen Option : 1