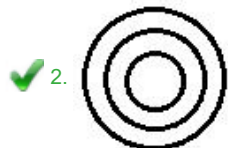


Q.1 उस वेन आरेख का चयन कीजिए जो निम्न वर्गों के मध्य संबंध का सर्वश्रेष्ठ निरूपण करता है।

स्तनधारी, पशु, जिराफ़

Ans



Question ID : 6549787282

Status : Answered

Chosen Option : 2

Q.2 यदि किसी निश्चित कूट भाषा में, GOD को 15 और DEVIL को 43 लिखा जाता है, तो उसी कूट भाषा में HUMEN को किस प्रकार लिखा जाएगा?

Ans

1. 81

2. 56

3. 72

4. 42

Question ID : 6549788680

Status : Not Answered

Chosen Option : --

Q.3 एक परिवार में, दिव्या और मोनिका बहनें हैं। मोनिका, अनामिका की मां है। किशोर, अनामिका का पुत्र है। लिलू, दिव्या का बेटा है। अनामिका, लिलू से किस प्रकार संबंधित है?

Ans

1. भांजी

2. भाभी

3. मौसेरी बहन

4. मां

Question ID : 6549787877

Status : Answered

Chosen Option : 3

Q.4 दी गई आकृति में कितने त्रिभुज हैं?



- Ans
- 1. 14
  - 2. 12
  - 3. 15
  - 4. 13

Question ID : 6549787278

Status : Answered

Chosen Option : 1

Q.5 चिह्न + और  $\times$ , तथा संख्याओं 3 और 6 को आपस में प्रतिस्थापित करने पर निम्नलिखित में से कौन-सा समीकरण सही होगा?

- Ans
- 1.  $9 \times 3 + 6 = 33$
  - 2.  $11 \times 6 + 3 = 69$
  - 3.  $7 + 3 \times 6 = 48$
  - 4.  $12 \times 3 + 6 = 30$

Question ID : 6549788673

Status : Answered

Chosen Option : 3

Q.6 एक निश्चित कूट भाषा में, DORM को 4303626 के रूप में कूटबद्ध किया जाता है और FIRST को 69363840 के रूप में कूटबद्ध किया जाता है। तो उसी भाषा में, CANCER को किस रूप में कूटबद्ध किया जाएगा?

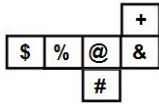
- Ans
- 1. 61283638
  - 2. 322831036
  - 3. 31283536
  - 4. 612661036

Question ID : 6549787267

Status : Answered

Chosen Option : 3

Q.7 दी गई शीट को मोड़कर एक घन बनाया गया है। इस तरह निर्मित घन में, '@' दर्शाने वाले फलक के विपरीत फलक पर कौन-सा प्रतीक होगा?



- Ans
- 1. %
  - 2. \$
  - 3. &
  - 4. #

Question ID : 6549787276  
Status : Answered  
Chosen Option : 2

Q.8 उस विकल्प का चयन करें, जो तीसरे अक्षर-समूह से ठीक उसी प्रकार संबंधित है, जिस प्रकार दूसरा अक्षर-समूह पहले अक्षर-समूह से संबंधित है।  
BIOLOGY : COUMUHZ :: CHEMISTRY : ?

- Ans
- 1. DJINUTUSZ
  - 2. DIINOTUSZ
  - 3. DAKNOTUSZ
  - 4. DIONUTASZ

Question ID : 6549788682  
Status : Not Answered  
Chosen Option : --

Q.9 चार अक्षर-समूह दिए गए हैं, जिनमें से तीन एक निश्चित प्रकार से समान हैं, जबकि एक उनसे असंगत है। उस असंगत अक्षर-समूह का चयन कीजिए।

- Ans
- 1. HKNQT
  - 2. TWZCF
  - 3. DGJMP
  - 4. BEGLN

Question ID : 6549787273  
Status : Answered  
Chosen Option : 4

Q.10 अक्षरों के उस संयोजन का चयन करें, जिसे दी गई अक्षर-श्रृंखला के रिक्त स्थानों में क्रमिक रूप से रखने पर श्रृंखला पूरी हो जाएगी।

T \_ R \_ \_ S \_ D T \_ R D \_ S \_ D

- Ans
- 1. SDTRSTR
  - 2. STSRRTTR
  - 3. SDTDSTT
  - 4. DSTRTTR

Question ID : 6549786462  
Status : Not Answered  
Chosen Option : --

Q.11 निम्नलिखित चार शब्दों में से तीन किसी प्रकार समान हैं और एक असंगत है। उस असंगत शब्द का चयन करें।

- Ans
- 1. डिज़ाइनर
  - 2. डॉक्टर
  - 3. इंजीनियर
  - 4. आर्किटेक्ट

Question ID : 6549788688  
Status : Answered  
Chosen Option : 2

Q.12 चार संख्या-युग्म दिए गए हैं, जिनमें से तीन में एक निश्चित प्रकार की समानता है और एक असंगत है। उस असंगत संख्या-युग्म का चयन कीजिए।

- Ans
- 1. 9 : 99
  - 2. 11 : 132
  - 3. 7 : 84
  - 4. 17 : 204

Question ID : 6549787264  
Status : Answered  
Chosen Option : 1

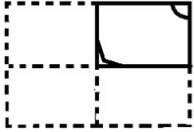
Q.13 उस विकल्प का चयन कीजिए जिसका चौथी संख्या से वही संबंध है जो पहली संख्या का दूसरी संख्या से है तथा पांचवी संख्या का छठी संख्या से है।

68 : 4 :: ? : 7 :: 220 : 6

- Ans
- 1. 347
  - 2. 112
  - 3. 220
  - 4. 301

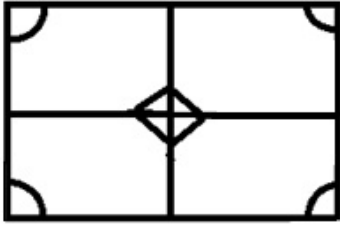
Question ID : 6549787260  
Status : Not Answered  
Chosen Option : --

Q.14 एक कागज़ को निम्न आकृति के अनुसार मोड़ा और काटा जाता है। इस कागज़ को खोलने पर यह कैसा दिखाई देगा?

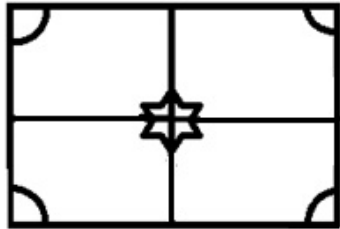


Ans

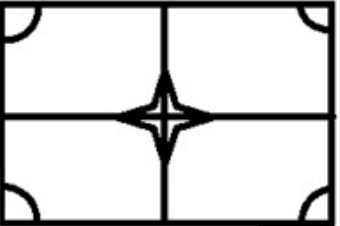
✗ 1.



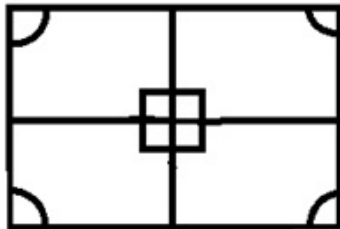
✗ 2.



✓ 3.



✗ 4.



Question ID : 6549788694  
Status : Answered  
Chosen Option : 3

Q.15 उस संख्या का चयन करें, जो निम्न श्रेणी में प्रश्नवाचक चिह्न (?) के स्थान पर आएगी?  
1, 2, 10, 37, ?, 226

Ans

✗ 1. 89

✗ 2. 73

✗ 3. 98

✓ 4. 101

Question ID : 6549788677  
Status : Answered  
Chosen Option : 4

Q.16 उस विकल्प का चयन कीजिए जिसके शब्दों के मध्य वही संबंध है, जो दिए गए शब्द-युग्म के शब्दों के मध्य है।

योद्धा : रणभूमि

- Ans
- 1. सिपाही : सेना
  - 2. अंपायर : क्रिकेट
  - 3. अभिनेता : रंगमंच
  - 4. खेल : मैदान

Question ID : 6549787272

Status : Answered

Chosen Option : 3

Q.17 निम्नलिखित चार संख्या-त्रय में से तीन किसी प्रकार समान हैं और एक असंगत है। उस असंगत संख्या-त्रय का चयन करें।

- Ans
- 1. (111, 222, 333)
  - 2. (201, 402, 603)
  - 3. (202, 404, 909)
  - 4. (108, 300, 501)

Question ID : 6549788675

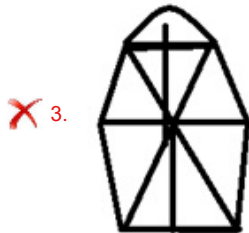
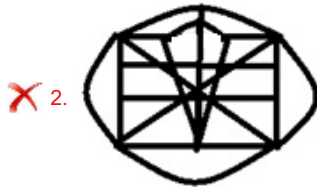
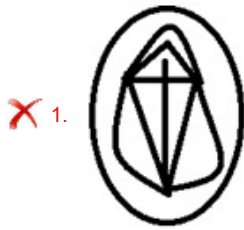
Status : Answered

Chosen Option : 4

Q.18 उस विकल्प का चयन करें, जिसमें दी गई आकृति अंतःस्थापित (embedded) है।



Ans



Question ID : 6549788693  
Status : Answered  
Chosen Option : 4

Q.19 'Eye' is related to 'Glasses' in the same way as '\_\_\_\_\_' is related to 'Dialyser'.

- Ans
- ✗ 1. Spine
  - ✓ 2. Kidney
  - ✗ 3. Ear
  - ✗ 4. Heart

Question ID : 6549788683  
Status : Answered  
Chosen Option : 2

Q.20 उस विकल्प का चयन कीजिए जो दिए गए शब्दों के उस क्रम-विन्यास को दर्शाता है जिस क्रम में वे अंग्रेजी शब्दकोष में आते हैं।

1. Fragile
2. Freedom
3. Fresher
4. Fraudster
5. Frame

Ans  1. 1, 5, 4, 2, 3

2. 1, 4, 5, 2, 3

3. 2, 5, 4, 3, 1

4. 1, 5, 2, 4, 3

Question ID : 6549787265

Status : Answered

Chosen Option : 1

Q.21 तीन व्यक्तियों A, B और C के वेतनों का योग ₹66,500 है। B का वेतन, C के वेतन का आधा है। B का वेतन, A के वेतन का 125% है। C का वेतन कितना है?

Ans  1. ₹35,000

2. ₹28,000

3. ₹34,000

4. ₹30,000

Question ID : 6549787258

Status : Answered

Chosen Option : 1

Q.22 दो कथनों के बाद दो निष्कर्ष I और II दिए गए हैं। यह मानते हुए कि कथन सत्य हैं, भले ही ये सामान्य रूप से ज्ञात तथ्यों से भिन्न प्रतीत होते हों, निर्धारित करें कि कौन-सा / कौन-से निष्कर्ष कथनों का तार्किक रूप से अनुसरण करता है / करते हैं।

कथन:

कुछ प्रबंधक बॉस हैं।  
कुछ डॉक्टर प्रबंधक हैं।

निष्कर्ष:

- I. कुछ प्रबंधक अधिकारी हैं।
- II. कुछ डॉक्टर बॉस हैं।

Ans  1. केवल निष्कर्ष II अनुसरण करता है।

2. निष्कर्ष I और II दोनों अनुसरण करते हैं।

3. केवल निष्कर्ष I अनुसरण करता है।

4. ना तो निष्कर्ष I और ना ही II अनुसरण करता है।

Question ID : 6549788689

Status : Not Answered

Chosen Option : --



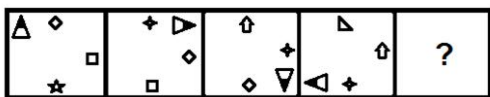
Q.23 उस विकल्प का चयन कीजिए जिसकी संख्याओं के मध्य वही संबंध है जो दिए गए समुच्चय की संख्याओं के मध्य है।

(5, 14, 350)

- Ans  1. (7, 9, 441)  
 2. (6, 12, 232)  
 3. (3, 20, 380)  
 4. (8, 16, 340)

Question ID : 6549787262  
 Status : Answered  
 Chosen Option : 1

Q.24 दिए गए विकल्पों में से उस आकृति का चयन कीजिए जो निम्नांकित श्रेणी में प्रश्नवाचक चिह्न (?) के स्थान पर आ सकती है।



Ans

- 1.
- 2.
- 3.
- 4.

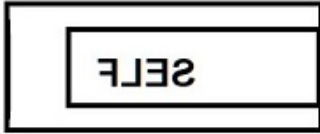
Question ID : 6549787277  
 Status : Answered  
 Chosen Option : 4

Q.25 यदि दर्पण को दी गई आकृति के दाईं ओर रखा जाए, तो दी गई आकृति का दर्पण में निर्मित सही प्रतिबिंब चयनित कीजिए।



Ans

✗ 1.



✗ 2.



✓ 3.



✗ 4.



Question ID : 6549788695  
Status : Answered  
Chosen Option : 3