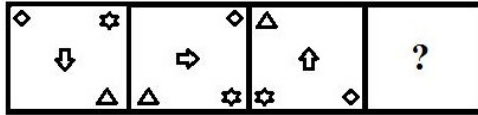
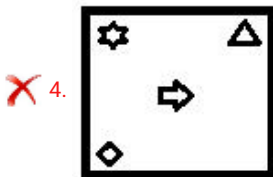
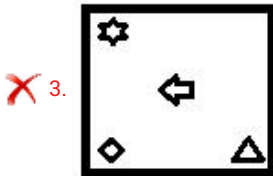
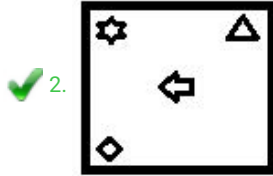
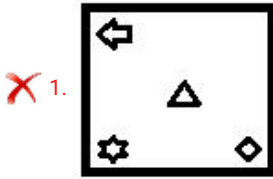


Q.1 दिए गए विकल्पों में से उस आकृति का चयन कीजिए जो निम्नांकित श्रेणी में प्रश्नवाचक चिह्न (?) के स्थान पर आ सकती है।



Ans



Question ID : 6549789398

Status : Answered

Chosen Option : 2

Q.2 उस विकल्प का चयन करें जो तीसरी संख्या से उसी तरह से संबंधित है जिस तरह से दूसरी संख्या पहली संख्या से संबंधित है।

6 : 27 :: 9 : ?

Ans ✗ 1. 74

✓ 2. 66

✗ 3. 95

✗ 4. 110

Question ID : 6549789381

Status : Not Answered

Chosen Option : --

Q.3 यदि दर्पण को दाईं ओर रखा जाए, तो दिए गए संयोजन का दर्पण में निर्मित सही प्रतिबिंब चयनित कीजिए।

GRS?@915

- Ans
- ✓ 1. 21E@?2R@
 - ✗ 2. @R2 ?@E12
 - ✗ 3. 519@? SRG
 - ✗ 4. E225@@12

Question ID : 6549786978

Status : Answered

Chosen Option : 1

Q.4 विशाल के पास ₹5, ₹10, ₹20 और ₹50 के नोटों के मूल्यवर्ग में कुल ₹4,100 रूपए के नोट हैं। उसके पास ₹5 और ₹10 के नोट समान संख्या में हैं। ₹20 के नोटों की संख्या ₹5 के नोटों की संख्या से दोगुनी है। ₹50 के नोटों की संख्या ₹10 के नोटों की संख्या से तीन गुनी है। गणना करें कि विशाल के पास ₹5 के कितने नोट हैं?

- Ans
- ✗ 1. 10
 - ✗ 2. 30
 - ✗ 3. 40
 - ✓ 4. 20

Question ID : 6549789379

Status : Answered

Chosen Option : 4

Q.5 उस शब्द-युग्म का चयन करें जिसके दोनों शब्द आपस में उसी तरह से संबंधित हैं जिस तरह से निम्नलिखित शब्द युग्म के दोनों शब्द आपस में संबंधित हैं।

वृद्धि : विस्तार

- Ans
- ✗ 1. अस्थायी : स्थायी
 - ✗ 2. पहला : अंतिम
 - ✗ 3. बच्चा : जन्म
 - ✓ 4. आग्रह : अनुरोध

Question ID : 6549789393

Status : Answered

Chosen Option : 4

Q.6 चार संख्या-युग्म दिए गए हैं जिनमें से तीन किसी न किसी प्रकार से आपस में समानता रखते हैं और एक भिन्न है। भिन्न का चयन करें।

- Ans
- ✗ 1. 17 : 291
 - ✗ 2. 11 : 123
 - ✗ 3. 15 : 227
 - ✓ 4. 13 : 169

Question ID : 6549789385

Status : Answered

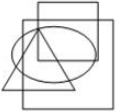
Chosen Option : 4

Q.7 नीचे चार अक्षर-समूह दिए गए हैं जिनमें से तीन किसी न किसी तरह से एक समान हैं और एक भिन्न है। भिन्न का चयन करें।

- Ans
- ✓ 1. KMQT
 - ✗ 2. QSVZ
 - ✗ 3. LNQU
 - ✗ 4. ACFJ

Question ID : 6549789394
Status : Answered
Chosen Option : 1

Q.8 उस विकल्प का चयन कीजिए जो दी गई आकृति में सन्निहित है। (आकृति को घुमाने की अनुमति नहीं है)



Ans

- ✗ 1.
- ✓ 2.
- ✗ 3.
- ✗ 4.

Question ID : 6549786976
Status : Answered
Chosen Option : 2

Q.9 उस विकल्प का चयन करें जिसमें दी गई संख्याओं में आपस में वही संबंध है जो दिए गए समुच्चय की संख्याओं में है।

(7, 4, 33)

- Ans
- 1. (11, 8, 175)
 - 2. (9, 5, 56)
 - 3. (8, 5, 40)
 - 4. (7, 4, 71)

Question ID : 6549789383

Status : Answered

Chosen Option : 2

Q.10 दिए गए कथनों और निष्कर्षों को ध्यानपूर्वक पढ़ें। यह मानते हुए कि कथनों में दी गई सूचना सत्य है, भले ही वह सामान्य रूप से ज्ञात तथ्यों से भिन्न प्रतीत होती हो, बताइए कि दिए गए निष्कर्षों में से कौन सा/से निष्कर्ष कथनों का तार्किक रूप से अनुसरण करता है/करते हैं।

कथन:

सभी कंप्यूटर, कैल्कुलेटर हैं।

सभी कैल्कुलेटर, बॉक्स हैं।

निष्कर्ष:

I. सभी कंप्यूटर, बॉक्स हैं।

II. कुछ बॉक्स, कंप्यूटर हैं।

- Ans
- 1. निष्कर्ष I और II दोनों अनुसरण करते हैं
 - 2. न तो निष्कर्ष I और न ही निष्कर्ष II अनुसरण करता है
 - 3. केवल निष्कर्ष II अनुसरण करता है
 - 4. केवल निष्कर्ष I अनुसरण करता है

Question ID : 6549786972

Status : Answered

Chosen Option : 1

Q.11 एक कूट भाषा में, यदि FORTUNE को 716192122156 लिखा जाता है, तो उसी भाषा में OCTOBER को किस प्रकार से लिखा जाएगा?

- Ans
- 1. 16421163619
 - 2. 14422163519
 - 3. 1532063618
 - 4. 16420173819

Question ID : 6549789388

Status : Answered

Chosen Option : 1

Q.12 उस विकल्प का चयन कीजिए जिसका तीसरे शब्द से वही संबंध है, जो दूसरे शब्द का पहले शब्द से है।

बिस्तर : गद्दा :: कुर्सी : ?

- Ans
- 1. बोरा
 - 2. फॉम
 - 3. कुशन
 - 4. तकिया

Question ID : 6549786966

Status : Answered

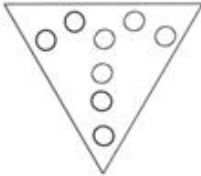
Chosen Option : 3

Q.13 निम्नांकित आकृति में एक कागज के टुकड़े को मोड़ने का क्रम और मुड़े हुए कागज को काटने की विधि दर्शाई गई है। यह कागज खोलने पर कैसा दिखेगा?

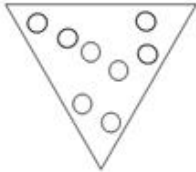


Ans

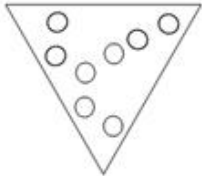
1.



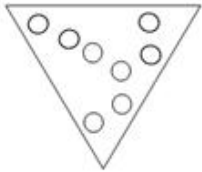
2.



3.



4.



Question ID : 6549786977

Status : Answered

Chosen Option : 4

Q.14 उस विकल्प का चयन कीजिए जिसका तीसरे पद से वही संबंध है, जो दूसरे पद का पहले पद से है।

DEBONAIR : EDRIOBAN :: HALLMARK : ?

- Ans
- 1. LLAMKRAM
 - 2. AHKROLLAM
 - 3. AHLLAMKR
 - 4. AHKROLLMA

Question ID : 6549786965
Status : Answered
Chosen Option : 2

Q.15 उस विकल्प का चयन कीजिए जिसकी संख्याओं के मध्य वही संबंध है जो दिए गए समुच्चय की संख्याओं के मध्य है।

29 : 36 : 39

- Ans
- 1. 78 : 79 : 82
 - 2. 48 : 52 : 55
 - 3. 69 : 72 : 76
 - 4. 54 : 58 : 61

Question ID : 6549786958
Status : Not Answered
Chosen Option : --

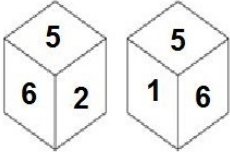
Q.16 दिए गए विकल्पों में से उस संख्या का चयन कीजिए जो निम्न श्रेणी में प्रश्नवाचक चिह्न (?) के स्थान पर आएगी।

8, 24, 48, 80, ?, 168

- Ans
- 1. 122
 - 2. 120
 - 3. 116
 - 4. 118

Question ID : 6549786960
Status : Answered
Chosen Option : 2

Q.17 नीचे एक ही पासे की दो अलग-अलग स्थितियां दिखाई गई हैं जिनमें 1 से 6 तक की संख्याओं वाले 6 फलक हैं। '2' दर्शाने वाले फलक के विपरीत फलक पर कौन सी संख्या होगी?



- Ans
- 1. 6
 - 2. 5
 - 3. 3
 - 4. 1

Question ID : 6549789397

Status : Answered

Chosen Option : 4

Q.18 यदि रमन, क्षितिज के पुत्र के पुत्र का भाई है, तो रमन का क्षितिज से क्या संबंध है?

- Ans
- 1. कजिन
 - 2. पुत्र
 - 3. पोता
 - 4. भतीजा

Question ID : 6549786059

Status : Answered

Chosen Option : 3

Q.19 नीचे दी गई आकृति में कितने त्रिभुज हैं?



- Ans
- 1. 9
 - 2. 6
 - 3. 7
 - 4. 8

Question ID : 6549789399

Status : Answered

Chosen Option : 3

Q.20 एक निश्चित कूट भाषा में, ENDORSE को VMWLIHV लिखा जाता है। उसी भाषा में INSTRUCT को क्या लिखा जाएगा?

- Ans
- 1. RMSHRZPG
 - 2. SMSGSZPR
 - 3. SNRGAOT
 - 4. RMHGIFXG

Question ID : 6549786963

Status : Answered

Chosen Option : 4

Q.21 उस सही विकल्प का चयन करें जो निम्नलिखित शब्दों को एक तार्किक और सार्थक क्रम में व्यवस्थित करता हो।

1. ब्रह्मांड
2. चेन्नई
3. विश्व
4. एशिया
5. तमिलनाडु

- Ans
- 1. 1, 3, 4, 2, 5
 - 2. 1, 4, 3, 5, 2
 - 3. 3, 1, 5, 4, 2
 - 4. 1, 3, 4, 5, 2

Question ID : 6549789386

Status : Answered

Chosen Option : 4

Q.22 चार विकल्प दिए गए हैं, जिनमें से तीन एक निश्चित प्रकार से समान हैं, और एक उनसे असंगत है। उस असंगत विकल्प का चयन कीजिए।

- Ans
- 1. पुदुचेरी
 - 2. दिल्ली
 - 3. जम्मू एवं कश्मीर
 - 4. चंडीगढ़

Question ID : 6549786971

Status : Marked For Review

Chosen Option : 3

Q.23 दिए गए समीकरण को संतुलित करने के लिए, किन दो अंकों को एक-दूसरे से बदलने की ज़रूरत है?

$$75 \div 18 + 51 \times 8 - 82 = 87$$

- Ans
- 1. 1 और 5
 - 2. 8 और 2
 - 3. 5 और 2
 - 4. 7 और 8

Question ID : 6549786956

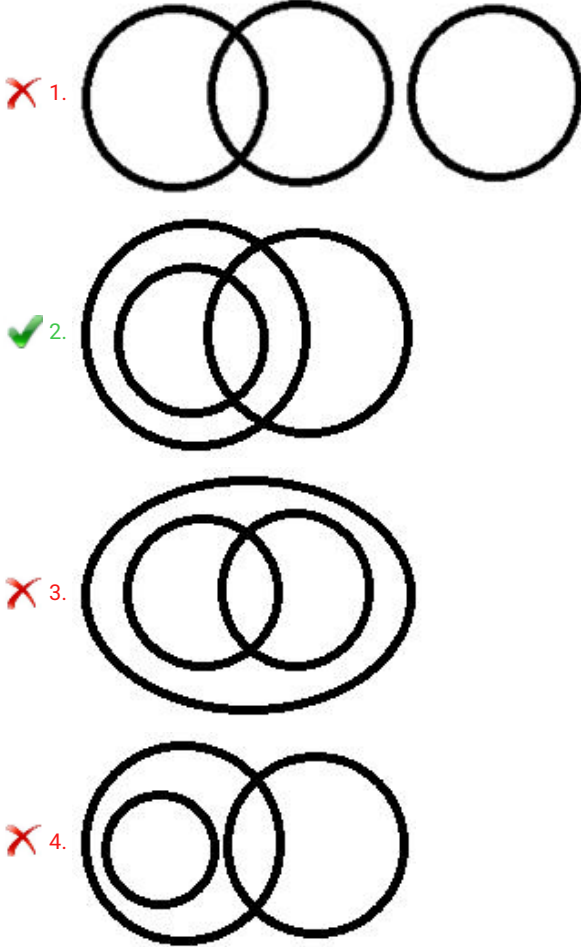
Status : Answered

Chosen Option : 3

Q.24 उस वेन आरेख का चयन करें, जो निम्न वर्गों के बीच के संबंध को सर्वोत्तम ढंग से निरूपित करता है।

इंजीनियर, शिक्षित व्यक्ति, पुरुष

Ans



Question ID : 6549789403

Status : Answered

Chosen Option : 2

Q.25 उस अक्षर संयोजन का चयन करें, जिसे दी गई अक्षर श्रेणी के रिक्त स्थानों में क्रमिक रूप से रखने पर श्रेणी पूर्ण हो जाएगी।

a _ bcd _ _ aabc _ dea _ _ cd _ e

Ans

1. adabded
2. adebdda
3. adedabd
4. dabdade

Question ID : 6549788583

Status : Answered

Chosen Option : 3