

Q.1 दी गई आकृति के सही दर्पण प्रतिबिंब का चयन करें, जब दर्पण को दर्शाए गए अनुसार, 'PQ' पर रखा जाता है।

GOVERNMENT  
P  
|  
Q

- Ans
- 1. ТИЭМЯЭVОE
  - 2. GOVERNMENT
  - 3. GOVERNMENT
  - 4. ТИЭМЯЭVОE

Question ID : 6549786776  
Status : Answered  
Chosen Option : 1

Q.2 किसी महिला की ओर इशारा करते हुए, राज ने कहा, "वह मेरी माँ के ससुर के भाई की इकलौती बेटी है"। महिला का राज से क्या संबंध है?

- Ans
- 1. बहन
  - 2. चचेरी बहन
  - 3. भाभी
  - 4. बुआ

Question ID : 6549789802  
Status : Answered  
Chosen Option : 4

Q.3 उस अक्षर संयोजन का चयन करें, जिसे दी गई श्रेणी के खाली स्थानों में क्रमिक रूप से रखने पर श्रेणी पूर्ण होगी।

k l \_ p n \_ k l m p \_ b \_ l m \_ n b k \_ m p n b

- Ans
- 1. m, n, b, p, k, l
  - 2. m, b, n, k, p, l
  - 3. n, m, b, l, p, k
  - 4. k, l, m, n, b, p

Question ID : 6549787876  
Status : Answered  
Chosen Option : 2

Q.4 निम्न शब्दों को तार्किक और अर्थपूर्ण क्रम में व्यवस्थित करें।

1. योजना (Plan)
2. खरीदारी (Shop)
3. मॉल (Mall)
4. गाड़ी चलाना (Drive)
5. वापस आना (Return)

- Ans
- 1. 3, 4, 5, 2, 1
  - 2. 4, 5, 1, 2, 3
  - 3. 1, 4, 3, 2, 5
  - 4. 1, 4, 2, 5, 3

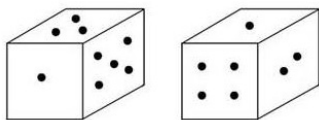
Question ID : 6549788679  
Status : Answered  
Chosen Option : 3

Q.5 किसी निश्चित कोड भाषा में, VIRTUE को XCBYAN लिखा जाता है। उसी भाषा में MODEST को कैसे लिखा जाएगा?

- Ans
- 1. JISYNY
  - 2. IJNYYS
  - 3. JISNYY
  - 4. INYJYS

Question ID : 6549786761  
Status : Not Answered  
Chosen Option : --

Q.6 एक ही पासे की दो भिन्न-भिन्न स्थितियों को दर्शाया गया है। एक बिंदु वाले फलक के विपरीत फलक पर कितने बिंदु होंगे?



- Ans
- 1. 6
  - 2. 2
  - 3. 4
  - 4. 5

Question ID : 6549788690  
Status : Answered  
Chosen Option : 1

Q.7 उस विकल्प का चयन करें, जो तीसरी संख्या से ठीक उसी प्रकार संबंधित है, जिस प्रकार दूसरी संख्या पहली संख्या से संबंधित है।

27 : 702 :: 12 : ?

- Ans
- 1. 402
  - 2. 132
  - 3. 341
  - 4. 103

Question ID : 6549788674  
Status : Answered  
Chosen Option : 2

Q.8 दिए गए कथनों और निष्कर्षों को ध्यान से पढ़ें। यह मानते हुए कि कथनों में दी गई जानकारी सत्य है, चाहे वह ज्ञात तथ्यों से असंगत हो, और निर्धारित करें कि दिए गए कौन-सा/कौन-से निष्कर्ष, कथनों का तार्किक रूप से अनुसरण करता/करते है/हैं।

कथन:

कुछ जादूगर मनोवैज्ञानिक हैं।  
सभी मनोवैज्ञानिक पर्यटक हैं।

निष्कर्ष:

- I. सभी पर्यटक मनोवैज्ञानिक हैं।
- II. सभी जादूगर पर्यटक हैं।

- Ans
- 1. न तो निष्कर्ष I और न ही II अनुसरण करता है
  - 2. निष्कर्ष I और II दोनों अनुसरण करते हैं
  - 3. केवल निष्कर्ष I अनुसरण करता है
  - 4. केवल निष्कर्ष II अनुसरण करता है

Question ID : 6549786770  
Status : Answered  
Chosen Option : 1

Q.9 निम्नलिखित छह संख्याओं में से पांच किसी प्रकार समान हैं और एक भिन्न है। उस संख्या का चयन करें, जो अन्य से भिन्न है।

8, 24, 125, 343, 1331, 2197

- Ans
- 1. 2197
  - 2. 125
  - 3. 1331
  - 4. 24


Question ID : 6549788678  
Status : Answered  
Chosen Option : 4

Q.10 निम्नलिखित चार संख्या-समूहों में से तीन किसी प्रकार समान हैं और एक भिन्न है। भिन्न का चयन करें।

- Ans
- 1. (4, 8, 16)
  - 2. (3, 6, 9)
  - 3. (1, 2, 1)
  - 4. (2, 4, 8)

Question ID : 6549788676  
Status : Answered  
Chosen Option : 4

Q.11 निम्नलिखित आकृति में वृत्तों की संख्या ज्ञात करें।



- Ans
- 1. 6
  - 2. 10
  - 3. 11
  - 4. 8

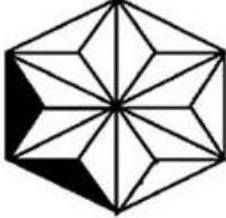
Question ID : 6549788692  
Status : Answered  
Chosen Option : 1

Q.12 उस आकृति का चयन करें, जो निम्न आकृति श्रेणी में अगले स्थान पर आएगी।

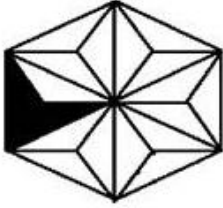


Ans

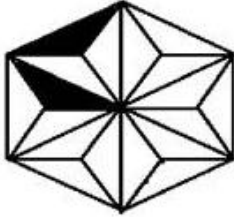
✗ 1.



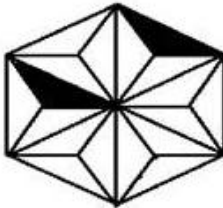
✓ 2.



✗ 3.



✗ 4.



Question ID : 6549788691

Status : Not Answered

Chosen Option : --

Q.13 उस विकल्प का चयन करें, जो तीसरे शब्द से ठीक उसी प्रकार संबंधित है, जिस प्रकार दूसरा शब्द, पहले शब्द से संबंधित है।

डॉल्फिन : क्लिक :: सियार : ?

Ans

✗ 1. चीखना

✗ 2. चिंचियाना

✗ 3. मिमियाना

✓ 4. हुआँना

Question ID : 6549786764

Status : Answered

Chosen Option : 4

Q.14 उस विकल्प का चयन करें, जो तीसरे पद से ठीक उसी प्रकार संबंधित है, जिस प्रकार दूसरा पद, पहले पद से संबंधित है।

RIGHT : UGKKR :: CHAOS : ?

- Ans
- 1. FEFRQ
  - 2. FFERQ
  - 3. FREFQ
  - 4. FQREF

Question ID : 6549786763  
Status : Answered  
Chosen Option : 2

Q.15 यदि किसी निश्चित कूट भाषा में, DISK को 65 और WIRE को 53 लिखा जाता है, तो उसी कूट भाषा में CELL को किस प्रकार लिखा जाएगा?

- Ans
- 1. 82
  - 2. 76
  - 3. 32
  - 4. 46

Question ID : 6549788681  
Status : Answered  
Chosen Option : 2

Q.16 चार शब्द दिए गए हैं, जिनमें से तीन किसी प्रकार से समान हैं और एक भिन्न है। भिन्न शब्द का चयन करें।

- Ans
- 1. गिरोह
  - 2. झुंड
  - 3. घेंटा
  - 4. घातटुकड़ी

Question ID : 6549786769  
Status : Answered  
Chosen Option : 3

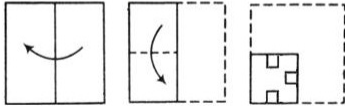
Q.17 उस संख्या का चयन करें, जो निम्न श्रेणी में प्रश्नवाचक चिह्न (?) के स्थान पर आ सकती है।

5, 9, 16, 31, 60, 119, ?

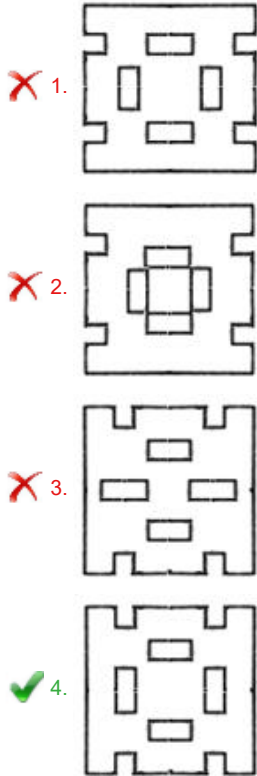
- Ans
- 1. 326
  - 2. 346
  - 3. 436
  - 4. 236

Question ID : 6549786758  
Status : Answered  
Chosen Option : 4

Q.18 कागज के एक टुकड़े को मोड़ने का क्रम और मुड़े हुए कागज को काटने की विधि, निम्न आकृति में दर्शाई गई है।  
खोलने पर यह कागज कैसा दिखाई देगा?



Ans



Question ID : 6549786775  
Status : Answered  
Chosen Option : 4

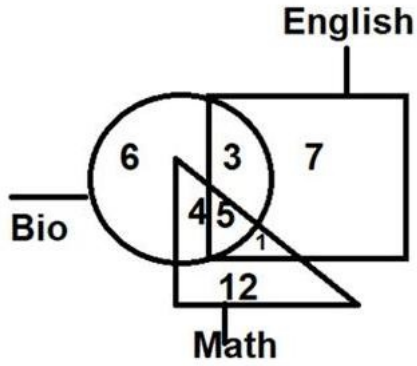
Q.19 गणितीय चिह्नों के उस सही संयोजन का चयन करें, जो \* चिह्नों को क्रमिक रूप से प्रतिस्थापित करते हुए, दिया गया समीकरण संतुलित कर सकता है।

$$7 * 96 * 8 * 39 * 25 = 70$$

- Ans
- 1. +, ÷, -, ×
  - 2. ×, -, ÷, +
  - 3. ×, ÷, -, +
  - 4. -, ×, ÷, +

Question ID : 6549786754  
Status : Answered  
Chosen Option : 3

Q.20 निम्न आरेख को ध्यान से देखें और उसके बाद दिए गए प्रश्न का उत्तर दें।



उन छात्रों की संख्या ज्ञात करें, जो दो या दो से अधिक विषयों का अध्ययन करते हैं।

- Ans
- 1. 9
  - 2. 5
  - 3. 7
  - 4. 13

Question ID : 6549788696  
Status : Answered  
Chosen Option : 4

Q.21 उस विकल्प का चयन करें जिसमें संख्याएँ ठीक उसी तरह संबंधित हैं, जिस तरह निम्न समुच्चय की संख्याएँ संबंधित हैं।

(3, 3, 11)

- Ans
- 1. (6, 15, 47)
  - 2. (5, 8, 26)
  - 3. (7, 11, 35)
  - 4. (4, 5, 18)

Question ID : 6549786756  
Status : Not Answered  
Chosen Option : --

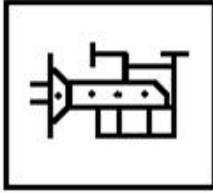


Q.22 उस विकल्प का चयन करें, जिसमें दी गई आकृति सन्नहित है। (घुमाने की अनुमति नहीं है)

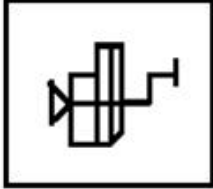


Ans

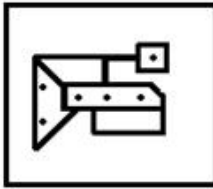
✓ 1.



✗ 2.



✗ 3.



✗ 4.



Question ID : 6549786774

Status : Answered

Chosen Option : 1

Q.23 निम्नलिखित चार अक्षर-समूहों में से तीन किसी प्रकार समान हैं और एक भिन्न है। भिन्न का चयन करें।

Ans ✓ 1. UOD

✗ 2. ILO

✗ 3. ENO

✗ 4. ULO

Question ID : 6549788687

Status : Not Answered

Chosen Option : --

Q.24 रोहित की आयु उसके बेटे ऋषभ की आयु से तीन गुनी है। पांच वर्ष पहले, उसकी आयु ऋषभ की आयु से चार गुनी थी। वर्तमान में रोहित की आयु ज्ञात करें।

- Ans
- 1. 60 वर्ष
  - 2. 15 वर्ष
  - 3. 45 वर्ष
  - 4. 30 वर्ष

Question ID : 6549788672  
Status : Answered  
Chosen Option : 3

Q.25 Select the word-pair in which the two words are related in the same way as are the two words in the following word-pair.

Bread : Wheat

- Ans
- 1. Sauce : Tomato
  - 2. Meal : Flour
  - 3. Book : Library
  - 4. Zoo : Animal

Question ID : 6549788686  
Status : Answered  
Chosen Option : 1