

Section : **General Intelligence**

Q.1 उस विकल्प का चयन कीजिए जिसका तीसरे पद से वही संबंध है, जो दूसरे पद का पहले पद से है।

SHORTLY : OHSYLTR :: WALKING : ?

- Ans 1. LAWGNIK
 2. LAWNIKG
 3. AWKLNIG
 4. KLAWGNI

Question ID : **6549786157**
Status : **Answered**
Chosen Option : 1

Q.2 निम्नलिखित शब्दों को एक अर्थपूर्ण क्रम में व्यवस्थित करें।

1. प्रबंधक
2. मजदूर
3. महाप्रबंधक
4. सुपरवाइजर
5. मालिक

Ans 1. 5, 3, 1, 4, 2

2. 1, 3, 5, 2, 4

3. 4, 3, 2, 1, 5

4. 3, 5, 4, 1, 2

Question ID : 6549788578

Status : Answered

Chosen Option : 1

Q.3 दिए गए कथनों और निष्कर्षों को ध्यानपूर्वक पढ़ें। यह मानते हुए कि कथनों में दी गई सूचना सत्य है, भले ही वह सामान्य रूप से ज्ञात तथ्यों से भिन्न प्रतीत होती हो, बताइए कि दिए गए निष्कर्षों में से कौन से निष्कर्ष कथनों का तार्किक रूप से अनुसरण करते हैं।

कथन:

सभी चूहे, बिल्लियां हैं।

कुछ बिल्लियां, कुत्ते नहीं हैं।

निष्कर्ष:

I. कुछ कुत्ते, चूहे नहीं हैं।

II. कुछ कुत्ते, चूहे हैं।

Ans 1. केवल निष्कर्ष II अनुसरण करता है

2. निष्कर्ष I और II दोनों अनुसरण करते हैं

3. केवल निष्कर्ष I अनुसरण करता है

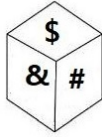
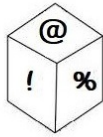
4. न तो निष्कर्ष I और न ही निष्कर्ष II अनुसरण करता है

Question ID : 6549786164

Status : Answered

Chosen Option : 4

Q.4 एक ही पासे की दो भिन्न-भिन्न स्थितियों को दर्शाया गया है। चिह्न '!' वाले फलक के विपरीत फलक पर कौन-सा चिह्न होगा?



Ans 1. %

2. #

3. \$

4. &

Question ID : 6549788589

Status : Answered

Chosen Option : 3

Q.5 दिए गए विकल्पों में से उस संख्या का चयन कीजिए जो निम्न श्रेणी में प्रश्नवाचक चिह्न (?) के स्थान पर आएगी।

8, 8, 11, 11, 14, 14, ?

- Ans
- 1. 17
 - 2. 18
 - 3. 22
 - 4. 14

Question ID : 6549786152
Status : Answered
Chosen Option : 1

Q.6 उस शब्द-युग्म का चयन करें, जिसमें दोनों शब्द एक दूसरे से ठीक उसी प्रकार संबंधित हैं, जिस प्रकार निम्न शब्द-युग्म में दोनों शब्द एक दूसरे से संबंधित हैं।

गणित : अध्यापक

- Ans
- 1. विज्ञान : शोधकर्ता
 - 2. कहानी : किताब
 - 3. हॉकी : कोच
 - 4. छात्र : अनुशिक्षक

Question ID : 6549788585
Status : Answered
Chosen Option : 3

Q.7 M की पत्नी N की पुत्रवधू है। P, O का पति है, जो कि M की बहन है। P का N से क्या संबंध है?

- Ans
- 1. दामाद
 - 2. चचेरा भाई
 - 3. भतीजा
 - 4. भाई

Question ID : 6549789767
Status : Answered
Chosen Option : 1

Q.8 उस विकल्प का चयन कीजिए जिसकी संख्याओं के मध्य वही संबंध है जो दिए गए समुच्चय की संख्याओं के मध्य है।

28 : 50 : 94

- Ans
- 1. 41 : 77 : 149
 - 2. 19 : 40 : 82
 - 3. 22 : 37 : 67
 - 4. 36 : 66 : 126

Question ID : 6549786150
Status : Answered
Chosen Option : 1

Q.9 उस विकल्प का चयन करें, जो तीसरी संख्या से ठीक उसी प्रकार संबंधित है, जिस प्रकार दूसरी संख्या पहली संख्या से संबंधित है।

166 : 415 :: 256 : ?


- Ans
- 1. 597
 - 2. 549
 - 3. 640
 - 4. 428

Question ID : 6549788573

Status : Not Attempted and Marked For Review

Chosen Option : --

Q.10 दी गई आकृति में त्रिभुजों की संख्या ज्ञात करें।



- Ans
- 1. 22
 - 2. 26
 - 3. 24
 - 4. 34

Question ID : 6549788591

Status : Answered

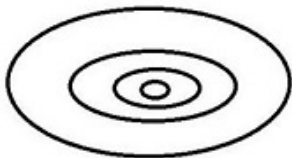
Chosen Option : 4

Q.11 उस वेन आरेख का चयन करें जो निम्न चार वर्गों के बीच के संबंध को सर्वश्रेष्ठ ढंग से निरूपित करता है।

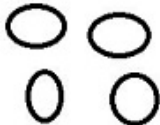
पुस्तकें, पुस्तकालय, अध्याय, इंडेक्स

Ans

✗ 1.




✗ 2.



✓ 3.



✗ 4.



Question ID : 6549788595

Status : Answered

Chosen Option : 1

Q.12 दिए गए समीकरण को संतुलित करने के लिए, किन दो अंकों को एक-दूसरे से और किन दो चिह्नों को एक-दूसरे से बदलने की ज़रूरत है?

$$75 - 13 + 19 \times 8 \div 5 = 93$$

Ans

✗ 1. 8 और 3; \times और $+$

✗ 2. 7 और 9; $+$ और \times

✓ 3. 5 और 8; $-$ और $+$

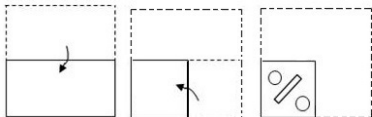
✗ 4. 3 और 5; $-$ और \times

Question ID : 6549786148

Status : Not Attempted and Marked For Review

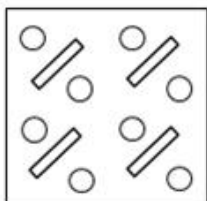
Chosen Option : --

Q.13 निम्नांकित आकृति में एक कागज के टुकड़े को मोड़ने का क्रम और मुड़े हुए कागज को काटने की विधि दर्शाई गई है। यह कागज खोलने पर कैसा दिखेगा?

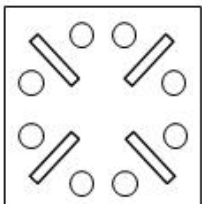


Ans

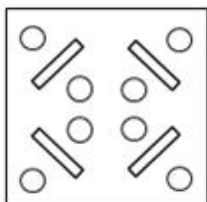
✗ 1.



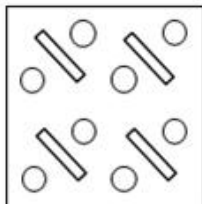
✓ 2.



✗ 3.



✗ 4.



Question ID : 6549786169

Status : Answered

Chosen Option : 2

Q.14 निम्नलिखित चार अक्षर-समूहों में से तीन किसी प्रकार समान हैं और एक असंगत है। उस असंगत अक्षर-समूह का चयन करें।

Ans

✗ 1. JMSU

✗ 2. AEKM

✗ 3. IMPV

✓ 4. YTSR

Question ID : 6549788586

Status : Not Attempted and Marked For Review

Chosen Option : --

Q.15 उस अक्षर संयोजन का चयन करें, जिसे दी गई श्रेणी के खाली स्थानों में क्रमिक रूप से रखने पर श्रेणी पूर्ण होगी।

s _ t m s r _ m _ r t _ s _ t m

- Ans 1. r, t, s, m, r
 2. r, s, m, r, t
 3. r, s, t, r, m
 4. r, t, r, m, s

Question ID : 6549787775
Status : Answered
Chosen Option : 1

Q.16 Select the option that is related to the third word in the same way as the second word is related to the first word.

Wakeful : Sleepless :: Sitting : ?

- Ans 1. Steadily
 2. Situated
 3. Sedentary
 4. Idle Resting

Question ID : 6549786158
Status : Marked For Review
Chosen Option : 4

Q.17 निम्नलिखित में से कौन-सी संख्या समूह से संबंधित नहीं है?
423, 171, 801, 900, 701

- Ans 1. 423
 2. 801
 3. 171
 4. 701

Question ID : 6549788577
Status : Marked For Review
Chosen Option : 3

Q.18 चार शब्द दिए गए हैं, जिनमें से तीन एक निश्चित प्रकार से समान हैं, जबकि एक उनसे असंगत है। उस असंगत शब्द का चयन कीजिए।

- Ans 1. कांसा
 2. स्टील
 3. निकिल
 4. पीतल

Question ID : 6549786163
Status : Answered
Chosen Option : 3

Q.19 एक निश्चित कूट भाषा में, HUSBAND को ABDHNSU लिखा जाता है। उसी भाषा में HOUSEWIFE को क्या लिखा जाएगा?

- Ans
- 1. EFIWESUOH
 - 2. ESEFUOIWH
 - 3. EEFHIOSUW
 - 4. EHEFOIUWS

Question ID : 6549786155

Status : Not Attempted and Marked For Review

Chosen Option : --

Q.20 यदि किसी निश्चित कूट भाषा में, ORGAN को 17141518 और FINGER को 56791418 लिखा जाता है, तो उसी कूट भाषा में NECK को किस प्रकार लिखा जाएगा?

- Ans
- 1. 351114
 - 2. 532761
 - 3. 248741
 - 4. 113497

Question ID : 6549788580

Status : Not Attempted and Marked For Review

Chosen Option : --

Q.21 यदि दर्पण को दी गई आकृति के दाईं ओर रखा जाए, तो दी गई आकृति का दर्पण में निर्मित सही प्रतिबिंब चयनित कीजिए।



Ans

1.



2.



3.



4.

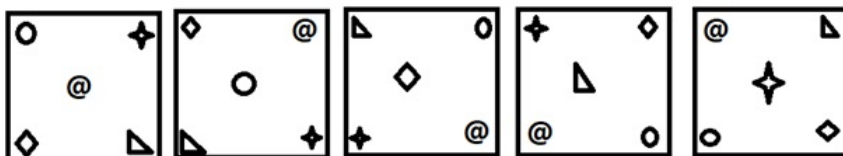


Question ID : 6549786170

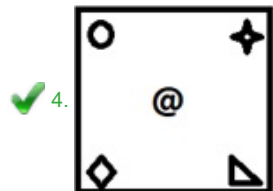
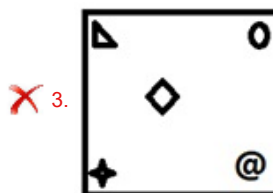
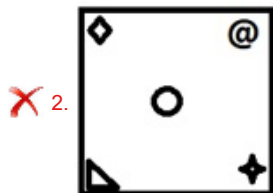
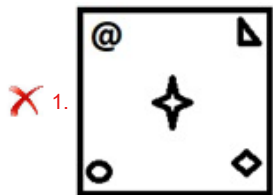
Status : Answered

Chosen Option : 2

Q.22 उस आकृति का चयन करें, जो निम्न आकृति श्रेणी में आगे आएगी।



Ans



Question ID : 6549788590
Status : Answered
Chosen Option : 4

Q.23 उस समूह का चयन करें जिसमें संख्याएँ एक दूसरे ठीक उसी प्रकार संबंधित हैं, जिस प्रकार निम्नलिखित समूह की संख्याएँ एक दूसरे से संबंधित हैं।

(313, 2732, 98211)

✗ 1. (201, 4532, 65712)

✗ 2. (301, 6543, 94263)

✓ 3. (601, 9401, 71427)


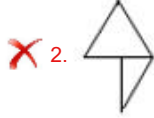
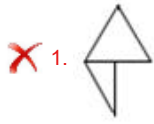
✗ 4. (103, 7341, 92501)

Question ID : 6549788575
Status : Not Attempted and Marked For Review
Chosen Option : --

Q.24 उस विकल्प का चयन कीजिए जो दी गई आकृति में सन्निहित है। (आकृति को घुमाने की अनुमति नहीं है)



Ans



Question ID : 6549786168

Status : Answered

Chosen Option : 4

Q.25 5 कलमों और 12 पेंसिलों की कीमत ₹45 है। 20 कलमों और 48 पेंसिलों की कीमत ज्ञात करें।

Ans ✓ 1. ₹180

✗ 2. ₹235

✗ 3. ₹210

✗ 4. ₹135

Question ID : 6549788571

Status : Answered

Chosen Option : 1