

Section : General Intelligence

Q.1 उस विकल्प का चयन करें, जिसमें संख्याएं आपस में ठीक उसी प्रकार संबंधित हैं, जिस प्रकार निम्न सेट की संख्याएं आपस में संबंधित हैं।

{2, 2, 9}

- Ans
- 1. {6, 18, 46}
 - 2. {12, 60, 98}
 - 3. {8, 36, 81}
 - 4. {4, 8, 25}

Question ID : 6549789181
Status : Answered
Chosen Option : 3

Q.2 चार संख्याएं दी गई हैं, जिनमें से तीन किसी प्रकार समान हैं और एक असंगत है। असंगत संख्या का चयन करें।

- Ans
- 1. 4913
 - 2. 1331
 - 3. 2197
 - 4. 2379

Question ID : 6549789183
Status : Answered
Chosen Option : 4

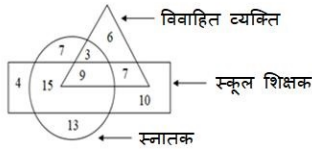
Q.3 किसी निश्चित कूट भाषा में, BANKER को 57 और SPAN को 54 लिखा जाता है। उसी कूट भाषा में PRANK को किस प्रकार लिखा जाएगा?

- Ans
- 1. 69
 - 2. 65
 - 3. 61
 - 4. 58

Question ID : 6549789186
Status : Answered
Chosen Option : 2

Q.4 दिए गए आरेख में, वृत्त 'स्नातकों' को निरूपित करता है, आयत 'स्कूल शिक्षकों' को निरूपित करता है और त्रिभुज 'विवाहित व्यक्तियों' को निरूपित करता है। विभिन्न खंडों में दी गई संख्याएं उस श्रेणी के व्यक्तियों की संख्या को निरूपित करती हैं।

कितने स्कूल शिक्षक या तो स्नातक हैं या विवाहित व्यक्ति हैं, लेकिन दोनों नहीं हैं?



- Ans
- 1. 29
 - 2. 15
 - 3. 22
 - 4. 25

Question ID : 6549789201
Status : Answered
Chosen Option : 3

Q.5 एक ही पासे की दो भिन्न-भिन्न स्थितियों को दर्शाया गया है। यदि संख्या '6' नीचे (निचले फलक पर) है, तो शीर्ष वाले फलक पर कौन सी संख्या होगी?



- Ans
- 1. 5
 - 2. 3
 - 3. 4
 - 4. 2

Question ID : 6549789195
Status : Answered
Chosen Option : 2

Q.6 दिए गए संयोजन के दाईं ओर दर्पण रखे जाने पर, बनने वाले सही दर्पण प्रतिबिंब का चयन करें।

4 6 H S P Y

Ans

- 1.
- 2.
- 3.
- 4.

Question ID : 6549788392

Status : Answered

Chosen Option : 4

Q.7 कागज के एक टुकड़े को प्रश्न आकृति के अनुसार मोड़ा और काटा जाता है। इसे खोलने पर यह कैसा दिखाई देगा, दी गई उत्तर आकृतियों में से सही विकल्प का चयन करें।



Ans

- 1.
- 2.
- 3.
- 4.

Question ID : 6549788391

Status : Answered

Chosen Option : 4

Q.8 एक कूट भाषा में, SAUCE को ASVEC के रूप में लिखा जाता है। उसी भाषा में MEANT को किस प्रकार से लिखा जाएगा?

Ans

- 1. EMBTN
- 2. EMCTN
- 3. MEBTN
- 4. EMANT

Question ID : 6549788377

Status : Answered

Chosen Option : 1

Q.9 निम्नलिखित श्रृंखला में प्रश्न चिह्न (?) का स्थान ले सकने वाली संख्या का चयन करें।
35, 35, 33, 99, 95, 475, ?

- Ans
- 1. 476
 - 2. 501
 - 3. 469
 - 4. 481

Question ID : 6549788374
Status : Answered
Chosen Option : 3

Q.10 उस विकल्प का चयन करें, जिसमें शब्द ठीक उसी प्रकार संबंधित हैं, जिस प्रकार दिए गए शब्द युग्म के शब्द संबंधित हैं।

कंठहार : सोना

- Ans
- 1. समुद्र : नदी
 - 2. घास : लॉन
 - 3. कुम्हार : मिट्टी
 - 4. कागज : काष्ठ लुगदी

Question ID : 6549789191
Status : Answered
Chosen Option : 3

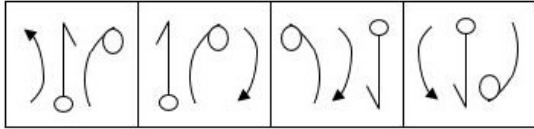
Q.11 उस विकल्प का चयन करें जो अक्षरों के उस क्रम को दर्शाता है, जिन्हें नीचे दिए गए रिक्त स्थानों में बाईं से दाईं ओर रखने पर, अक्षरों का दिया गया अनुक्रम सही तरीके से पूरा हो जाएगा।

K _ P _ L C _ R _ C P _ N _ P R

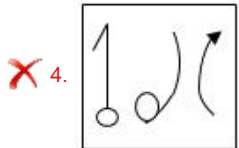
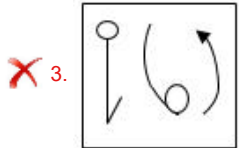
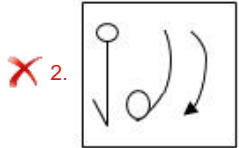
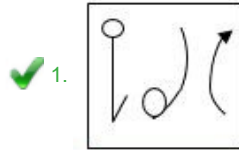
- Ans
- 1. CPPMRR
 - 2. MRPMRR
 - 3. CRPMRC
 - 4. ERPRRC

Question ID : 6549788381
Status : Not Answered
Chosen Option : --

Q.12 उस आकृति का चयन करें, जो निम्न श्रेणी में अगले स्थान पर आएगी।

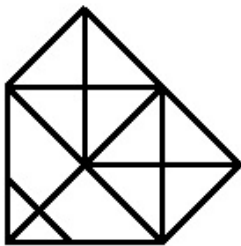


Ans



Question ID : 6549789196
Status : Not Answered
Chosen Option : --

Q.13 निम्न आकृति में कितने त्रिभुज हैं?



- Ans
- ✗ 1. 22
 - ✓ 2. 26
 - ✗ 3. 19
 - ✗ 4. 24

Question ID : 6549789197
Status : Answered
Chosen Option : 2

Q.14 उस विकल्प का चयन करें जिसमें संख्या युग्म की संख्याओं में आपस में वही संबंध हो जो दिए गए संख्या युग्म की संख्याओं में है।
(14, 22, 77)

- Ans
- 1. (18, 32, 144)
 - 2. (22, 11, 86)
 - 3. (17, 15, 76)
 - 4. (20, 16, 105)

Question ID : 6549788372
Status : Answered
Chosen Option : 1

Q.15 दिए गए समीकरण को संतुलित करने के लिए किन दो गणितीय चिह्नों को आपस में बदलना होगा?
 $39 \div 3 \times 13 + 26 - 13 = 2$

- Ans
- 1. + और ×
 - 2. + और -
 - 3. × और -
 - 4. + और -

Question ID : 6549788370
Status : Answered
Chosen Option : 2

Q.16 A, B और C के बीच ₹481 इस प्रकार वितरित किए गए कि B को A के भाग का दो-तिहाई मिला और C को B के भाग का तीन-चौथाई मिला। B को कितनी धनराशि मिली?

- Ans
- 1. ₹168
 - 2. ₹111
 - 3. ₹148
 - 4. ₹222

Question ID : 6549789177
Status : Answered
Chosen Option : 4

Q.17 'कंगन' जिस तरह से 'आभूषण' से संबंधित है, उसी तरह 'लौंग' _____ से संबंधित है।

- Ans
- 1. स्वाद
 - 2. खाना पकाना
 - 3. रसोई
 - 4. मसाले

Question ID : 6549788380
Status : Answered
Chosen Option : 4

Q.18 दो कथन और उसके बाद तीन निष्कर्ष I, II और III दिए गए हैं। कथनों को सत्य मानते हुए, भले ही वे सामान्य रूप से ज्ञात तथ्यों से भिन्न प्रतीत होते हों, यह निर्णय लें कि कौन सा / से निष्कर्ष कथनों का तार्किक रूप से अनुसरण करता / करते हैं।

कथन:

सभी कथन, उत्तर हैं।
कुछ कथन, प्रश्न हैं।

निष्कर्ष:

- I. कोई प्रश्न, कथन नहीं है।
- II. कुछ उत्तर, कथन हैं।
- III. कुछ प्रश्न, कथन हैं।

- Ans
- 1. केवल निष्कर्ष I और निष्कर्ष II अनुसरण करते हैं
 - 2. केवल निष्कर्ष II और निष्कर्ष III अनुसरण करते हैं
 - 3. या तो निष्कर्ष I या निष्कर्ष III अनुसरण करता है
 - 4. केवल निष्कर्ष I और निष्कर्ष III अनुसरण करते हैं

Question ID : 6549788386

Status : Answered

Chosen Option : 2

Q.19 उस सही विकल्प का चयन करें, जो दिए गए शब्द विन्यास के तार्किक और सार्थक क्रम को दर्शाता है।

1. कक्षा (Class)
2. प्रवेश (Admission)
3. प्रमाण पत्र (Certificate)
4. आवेदन (Application)
5. मूल्यांकन (Assessment)

- Ans
- 1. 2, 4, 3, 1, 5
 - 2. 3, 5, 2, 3, 1
 - 3. 4, 2, 1, 5, 3
 - 4. 4, 2, 5, 1, 3

Question ID : 6549789184

Status : Answered

Chosen Option : 3

Q.20 निम्नलिखित चार शब्दों में से तीन शब्द आपस में एक निश्चित तरीके से समानता रखते हैं और एक असंगत है। उस असंगत शब्द का चयन करें।

- Ans
- 1. घृणा
 - 2. संतोष
 - 3. ईर्ष्या
 - 4. उदासी

Question ID : 6549788385

Status : Answered

Chosen Option : 2

Q.21 यदि 'A + B' का अर्थ है कि 'A मां है B की', 'A × B' का अर्थ है कि 'A बहन है B की', और 'A * B' का अर्थ है कि 'A पुत्री है B की', तो निम्न व्यंजक में R का P से क्या संबंध है?

'R + V × Q × M * P'

- Ans
- 1. पुत्री
 - 2. बहन
 - 3. पत्नी
 - 4. मां

Question ID : 6549787574
Status : Answered
Chosen Option : 3

Q.22 उस विकल्प का चयन करें जो तीसरे अक्षर-समूह से उसी प्रकार से संबंधित है जिस प्रकार से दूसरा अक्षर-समूह पहले अक्षर-समूह से संबंधित है।
NEED : OGHH :: FAST : ?

- Ans
- 1. ECVZ
 - 2. GDUX
 - 3. GCWY
 - 4. GCVX

Question ID : 6549788379
Status : Answered
Chosen Option : 4

Q.23 चार अक्षर-समूह दिए गए हैं, जिनमें से तीन किसी प्रकार समान हैं और एक असंगत है। असंगत अक्षर-समूह का चयन करें।

- Ans
- 1. BDMS
 - 2. MIGF
 - 3. KMPV
 - 4. HKPT

Question ID : 6549789192
Status : Answered
Chosen Option : 2

Q.24 उस विकल्प आकृति का चयन करें जिसमें उसके एक भाग के रूप में आकृति X सन्निहित है (घुमाने की अनुमति नहीं है)।



Figure X

Ans

✗ 1.



✗ 2.



✓ 3.



✗ 4.



Question ID : 6549788390
Status : Answered
Chosen Option : 1

Q.25 उस विकल्प का चयन करें, जिसमें संख्याएं आपस में ठीक उसी प्रकार संबंधित हैं, जिस प्रकार दिए गए संख्या-युग्म की संख्याएं आपस में संबंधित हैं।

28 : 70

Ans

✗ 1. 12 : 32

✗ 2. 34 : 86

✓ 3. 18 : 45

✗ 4. 30 : 84

Question ID : 6549789179
Status : Not Answered
Chosen Option : --