

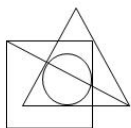
Section : **General Intelligence**

Q.1 एक निश्चित कूट भाषा में, EXTREME को VCGIVNV लिखा जाता है। उसी भाषा में INITIAL को क्या लिखा जाएगा?


- Ans
- 1. RMRGRZO
 - 2. SNRGS AO
 - 3. SMSGSZP
 - 4. RMSHRZP

Question ID : **6549786357**
Status : **Answered**
Chosen Option : 1

Q.2 उस विकल्प का चयन कीजिए जो दी गई आकृति में सम्मिलित है। (आकृति को घुमाने की अनुमति नहीं है)



Ans



Question ID : 6549786370

Status : Answered

Chosen Option : 4

Q.3 रुचि के पति के दादा अभिनव हैं, जिनके पोते का पिता वियान है। यदि अभिनव और उसकी पत्नी का केवल एक बेटा है, तो वियान का रुचि के पति से क्या संबंध है?

Ans

✗ 1. चाचा

✗ 2. चचेरा भाई

✓ 3. पिता

✗ 4. जीजा

Question ID : 6549789774

Status : Answered

Chosen Option : 3

Q.4 दिए गए समीकरण को संतुलित करने के लिए, किन दो अंकों को एक-दूसरे से और किन दो चिह्नों को एक-दूसरे से बदलने की ज़रूरत है?

$$65 + 13 - 119 \div 32 \times 8 = 175$$

Ans

✗ 1. 8 और 3; × और +

✗ 2. 2 और 9; + और ×

✓ 3. 9 और 8; + और +

✗ 4. 5 और 8; - और ×

Question ID : 6549786350

Status : Marked For Review

Chosen Option : 3

Q.5 किसी निश्चित कूट भाषा में, VICTORY को 29472435 और HASTY को 278119 लिखा जाता है। उसी कूट भाषा में SUBLIME को किस प्रकार लिखा जाएगा?

- Ans
- 1. 1514131285
 - 2. 2134152558
 - 3. 1213141585
 - 4. 2143152558

Question ID : 6549787772
Status : Not Answered
Chosen Option : --

Q.6 चार संख्याएं दी गई हैं, जिनमें से तीन किसी प्रकार समान हैं और एक भिन्न है। भिन्न संख्या का चयन करें।

- Ans
- 1. 229
 - 2. 308
 - 3. 137
 - 4. 463

Question ID : 6549787769
Status : Answered
Chosen Option : 2

Q.7 चार अक्षर-समूह दिए गए हैं, जिनमें से तीन किसी प्रकार समान हैं और एक भिन्न है। भिन्न अक्षर-समूह का चयन करें।

- Ans
- 1. TXBV
 - 2. KOLF
 - 3. GKPJ
 - 4. QUFZ

Question ID : 6549787778
Status : Not Answered
Chosen Option : --

Q.8 उस सही विकल्प का चयन करें, जो दिए गए शब्द विन्यास का वह क्रम दर्शाता है, जिस प्रकार वे अंग्रेजी शब्दकोश में होते हैं।

- 1. Inhaled
- 2. Inimitable
- 3. Inhabitant
- 4. Ingenuous
- 5. Inheritance

- Ans
- 1. 4, 3, 1, 5, 2
 - 2. 4, 5, 2, 1, 3
 - 3. 4, 3, 5, 1, 2
 - 4. 4, 1, 3, 5, 2

Question ID : 6549787770
Status : Answered
Chosen Option : 1

Q.9 दिए गए कथनों और निष्कर्षों को ध्यानपूर्वक पढ़ें। यह मानते हुए कि कथनों में दी गई सूचना सत्य है, भले ही वह सामान्य रूप से ज्ञात तथ्यों से भिन्न प्रतीत होती हो, बताइए कि दिए गए निष्कर्षों में से कौन से/सा निष्कर्ष कथनों का तार्किक रूप से अनुसरण करते हैं/करता है।

कथन :

कुछ कुत्ते, बैल हैं।
सभी बैल, गधे हैं।

निष्कर्ष :

- I. सभी कुत्ते, गधे हैं।
- II. कुछ गधे, कुत्ते हैं।

- Ans
- 1. केवल निष्कर्ष I अनुसरण करता है।
 - 2. न तो निष्कर्ष I और न ही निष्कर्ष II अनुसरण करता है।
 - 3. निष्कर्ष I और II दोनों अनुसरण करते हैं।
 - 4. केवल निष्कर्ष II अनुसरण करता है।

Question ID : 6549786366

Status : Answered

Chosen Option : 4

Q.10 Select the option in which the words share the same relationship as that shared by the given pair of words.

Mosquito : Swarm

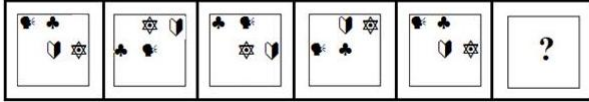
- Ans
- 1. Snake : Sleuth
 - 2. Monkey : Pride
 - 3. Cat : Murder
 - 4. Shark : School

Question ID : 6549787777



Status : Answered

Chosen Option : 2

Q.11 दिए गए विकल्पों में से उस आकृति का चयन करें, जो निम्न श्रेणी में प्रश्नवाचक चिह्न (?) को प्रतिस्थापित कर सकती है।



Ans



Question ID : 6549787782
Status : Answered
Chosen Option : 4

Q.12 उस विकल्प का चयन कीजिए जिसका तीसरे शब्द से वही संबंध है, जो दूसरे शब्द का पहले शब्द से है।

झंड : भेड़ :: भीड़ : ?

- Ans
- ✗ 1. मक्खी
 - ✓ 2. मनुष्य
 - ✗ 3. हंस
 - ✗ 4. मछली

Question ID : 6549786360
Status : Answered
Chosen Option : 2

Q.13 जिला परिवहन प्राधिकरण ने कॉलेज जाने वाले छात्रों के लिए विशेष बस सेवाएं शुरू की हैं। एक बस गांव P से चलती है। बस में लड़कियों की संख्या लड़कों की संख्या की एक-चौथाई है। गांव Q में, 20 लड़के अपने कॉलेज के स्टॉप पर बस से उतरते हैं और दस लड़कियां बस में चढ़ती हैं। अब लड़के और लड़कियों की संख्या बराबर है। शुरुआत में कितने छात्र बस में चढ़ते हैं?

- Ans
- 1. 40
 - 2. 50
 - 3. 60
 - 4. 30

Question ID : 6549787763
Status : Answered
Chosen Option : 2

Q.14 दिए गए विकल्पों में से उस संख्या का चयन कीजिए जो निम्न श्रेणी में प्रश्नवाचक चिह्न (?) के स्थान पर आएगी।

71, 56, 44, 35, 29, ?

- Ans
- 1. 26
 - 2. 29
 - 3. 23
 - 4. 20

Question ID : 6549786354
Status : Answered
Chosen Option : 1

Q.15 यदि दर्पण को दी गई आकृति के दाईं ओर रखा जाए, तो दी गई आकृति का दर्पण में निर्मित सही प्रतिबिंब चयनित कीजिए।



Ans

✓ 1.



✗ 2.



✗ 3.



✗ 4.



Question ID : 6549786372

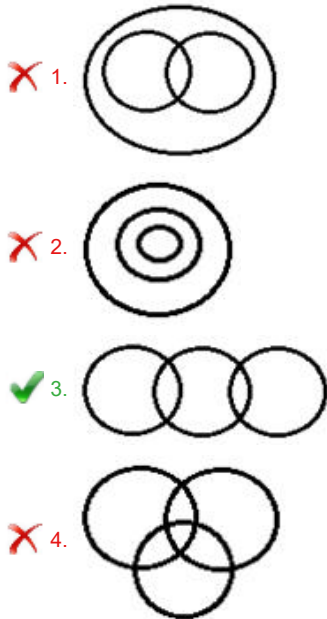
Status : Answered

Chosen Option : 1

Q.16 उस वेन आरेख का चयन करें, जो निम्न वर्गों के बीच संबंध को सर्वोत्तम ढंग से निरूपित करता है।

सांख्यिकीविद, पुरुष, रोगविज्ञानी

Ans



Question ID : 6549787787
Status : Answered
Chosen Option : 4

Q.17 अक्षरों के उस संयोजन का चयन करें जिसे दी गई श्रेणी में रिक्त स्थानों पर क्रमिक रूप से रखने पर श्रेणी पूर्ण हो जाएगी।

k j i _ k _ _ i k j i _ k _ _ i

- Ans
- 1. k i j k i j
 - 2. i k j i k j
 - 3. j k j k j k
 - 4. i j i i j i

Question ID : 6549786967
Status : Answered
Chosen Option : 4

Q.18 दिए गए पैटर्न का ध्यानपूर्वक अध्ययन करें और उस संख्या का चयन करें, जो इसमें प्रश्नवाचक चिह्न (?) को प्रतिस्थापित कर सकती है।

13 50 8
12 39 5
15 51 ?

- Ans
- 1. 12
 - 2. 10
 - 3. 9
 - 4. 7

Question ID : 6549787767
Status : Not Answered
Chosen Option : --

Q.19 चार शब्द दिए गए हैं, जिनमें से तीन एक निश्चित प्रकार से समान हैं, जबकि एक उनसे असंगत है। उस असंगत शब्द का चयन कीजिए।

- Ans
- 1. इंडोनेशिया
 - 2. सिंगापुर
 - 3. बांग्लादेश
 - 4. श्रीलंका

Question ID : 6549786365
Status : Answered
Chosen Option : 3

Q.20 उस विकल्प का चयन कीजिए जिसका तीसरे पद से वही संबंध है, जो दूसरे पद का पहले पद से है।

OUTSTAY : AOSTTUY :: ROUGHLY : ?

- Ans
- 1. ORGULHY
 - 2. GUROHLY
 - 3. GUORYLH
 - 4. GHLOORUY

Question ID : 6549786359
Status : Marked For Review
Chosen Option : 2

Q.21 उस विकल्प का चयन करें, जो तीसरी संख्या से ठीक उसी प्रकार संबंधित है, जिस प्रकार दूसरी संख्या पहली संख्या से संबंधित है।

18 : 163 :: 24 : ?

- Ans
- 1. 216
 - 2. 222
 - 3. 298
 - 4. 289

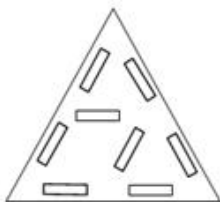
Question ID : 6549787765
Status : Answered
Chosen Option : 4

Q.22 निम्नांकित आकृति में कागज के एक टुकड़े को मोड़ने का क्रम और मुड़े हुए कागज को काटने की विधि दर्शाई गई है। यह कागज खोलने पर कैसा दिखेगा?

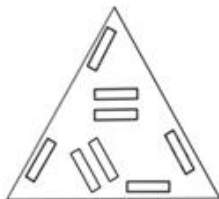


Ans

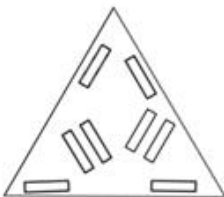
1.



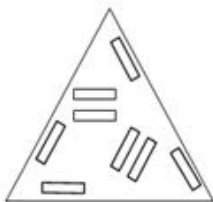
2.



3.



4.



Question ID : 6549786371

Status : Answered

Chosen Option : 1

Q.23 उस विकल्प का चयन कीजिए जिसकी संख्याओं के मध्य वही संबंध है जो दिए गए समुच्चय की संख्याओं के मध्य है।

47 : 58 : 71

Ans

1. 76 : 89 : 105

2. 89 : 98 : 106

3. 72 : 81 : 90

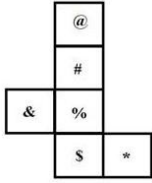
4. 68 : 80 : 88

Question ID : 6549786352

Status : Marked For Review

Chosen Option : 1

Q.24 दी गई शीट को मोड़कर घन बनाया जाता है। इस प्रकार बने घन में, 'S' के विपरीत वाले फलक पर कौन-सा चिह्न आएगा?



- Ans
- 1. @
 - 2. *
 - 3. #
 - 4. &

Question ID : 6549787781
Status : Answered
Chosen Option : 3

Q.25 दी गई आकृति में त्रिभुजों की संख्या ज्ञात करें।



- Ans
- 1. 19
 - 2. 17
 - 3. 18
 - 4. 16

Question ID : 6549787783
Status : Not Answered
Chosen Option : --