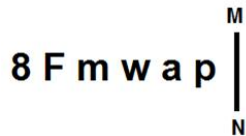


Section : **General Intelligence**

**Q.1** यदि दर्पण को चित्रानुसार MN पर रखा जाए, तो दिए गए संयोजन का दर्पण में निर्मित सही प्रतिबिंब चयनित कीजिए।



Ans

- 1. d e w m 7 8
- 2. q s w w 7 8
- 3. q s w m 7 8
- 4. q s w m 7 8

Question ID : **6549787382**  
Status : **Answered**  
Chosen Option : **3**

Q.2 उस विकल्प का चयन करें जो तीसरी संख्या से उसी तरह से संबंधित है जैसे दूसरी संख्या पहली संख्या से संबंधित है और छठी संख्या पाँचवी संख्या से संबंधित है।

3 : 65 :: 5 : ? : 4 : 126

Ans  1. 217

2. 166

3. 344

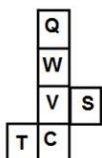
4. 216

Question ID : 6549788068

Status : Answered

Chosen Option : 1

Q.3 यदि दी गई शीट को एक घन का रूप देने के लिए मोड़ा जाए, तो इसके परस्पर विपरीत फलकों पर निम्नलिखित में से कौन से अक्षर होंगे?



Ans  1. C और W

2. Q और S

3. T और V

4. S और C

Question ID : 6549788084

Status : Answered

Chosen Option : 1

Q.4 उस शब्द-युग्म का चयन करें जिसके दोनों शब्द आपस में उसी तरह से संबंधित हैं जिस तरह से निम्नलिखित शब्द युग्म के दोनों शब्द आपस में संबंधित हैं।

भाषा : तेलुगु

Ans  1. वाहन : मैकेनिक

2. महाद्वीप : एशिया

3. हिंदी : भारत

4. समाज : सेवा

Question ID : 6549788080

Status : Answered

Chosen Option : 2

Q.5 उस विकल्प का चयन कीजिए जिसका तीसरे पद से वही संबंध है, जो दूसरे पद का पहले पद से है।

POSTED : TPQEFU :: COUNTS : ?

- Ans  1. VPDTUO  
 2. UQDTUO  
 3. VPETVO  
 4. VPTDOW

Question ID : 6549787369  
Status : Answered  
Chosen Option : 1

Q.6 अक्षरों के उस संयोजन का चयन करें जिसे दी गई श्रेणी में रिक्त स्थानों पर क्रमिक रूप से रखने पर श्रेणी पूर्ण हो जाएगी।

Z H \_ O R C \_ \_ K \_ R \_ Z H \_ O \_ C

- Ans  1. K, Z, O, R, C, K, R  
 2. K, Z, H, K, R, K, R  
 3. Z, H, K, O, C, K, R  
 4. K, Z, H, O, C, K, R

Question ID : 6549787270  
Status : Answered  
Chosen Option : 4

Q.7 एक निश्चित कूट भाषा में, BACK को YEXP लिखा जाता है और MIXTURE को NOCGAII लिखा जाता है। उसी भाषा में, FROGS को क्या लिखा जाएगा?

- Ans  1. VIVTH  
 2. UULTG  
 3. UIUTH  
 4. UILTG

Question ID : 6549787367  
Status : Answered  
Chosen Option : 2

Q.8 उस विकल्प का चयन कीजिए जो दी गई आकृति में सन्निहित है। (आकृति को घुमाने की अनुमति नहीं है)



Ans



Question ID : 6549787380

Status : Answered

Chosen Option : 2

Q.9 नीचे चार अक्षर-समूह दिए गए हैं जिनमें से तीन किसी न किसी तरह से एक समान है और एक असंगत है। उस असंगत अक्षर-समूह का चयन करें।

Ans

1. TYDI

2. BGLP

3. LQVA

4. KPUZ

Question ID : 6549788081

Status : Answered

Chosen Option : 2

Q.10 22 फरवरी 2012 को सप्ताह का कौन सा दिन था?

Ans

1. शुक्रवार

2. मंगलवार

3. बुधवार

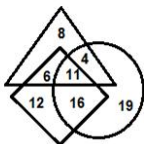
4. गुरुवार

Question ID : 6549788066

Status : Not Answered

Chosen Option : --

Q.11 नीचे दिए गए वेन आरेख में, यदि 'समचतुर्भुज' 'मनोवैज्ञानिक' को निरूपित करता है, 'त्रिभुज' 'कॉर्पोरेट कर्मचारियों' को निरूपित करता है और 'वृत्त' 'पिता' को निरूपित करता है, तो कितने मनोवैज्ञानिक, कॉर्पोरेट कर्मचारी हैं, लेकिन पिता नहीं हैं?



- Ans
- 1. 12
  - 2. 8
  - 3. 6
  - 4. 11

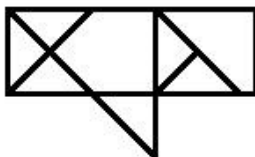
Question ID : 6549788090  
 Status : Answered  
 Chosen Option : 3

Q.12 चार संख्या-युग्म दिए गए हैं जिनमें से तीन किसी न किसी प्रकार से आपस में समानता रखते हैं और एक असंगत है। उस असंगत संख्या-युग्म का चयन करें।

- Ans
- 1. 484 : 22
  - 2. 225 : 15
  - 3. 322 : 18
  - 4. 289 : 17

Question ID : 6549788072  
 Status : Answered  
 Chosen Option : 3

Q.13 नीचे दी गई आकृति में कितने त्रिभुज हैं?



- Ans
- 1. 10
  - 2. 8
  - 3. 9
  - 4. 11

Question ID : 6549788086  
 Status : Answered  
 Chosen Option : 1

Q.14 उस विकल्प का चयन करें जो निम्नलिखित शब्दों का अंग्रेजी शब्दकोश के अनुसार सही क्रमविन्यास दर्शाता है।  
1. Presume  
2. Prepare  
3. Priority  
4. Prince  
5. Prick

Ans  1. 2, 1, 5, 4, 3  
 2. 2, 1, 5, 3, 4  
 3. 2, 1, 4, 5, 3  
 4. 1, 2, 5, 4, 3

Question ID : 6549788073  
Status : Answered  
Chosen Option : 1

Q.15 उस विकल्प का चयन कीजिए जिसका तीसरे शब्द से वही संबंध है, जो दूसरे शब्द का पहले शब्द से है।  
अफ्रीका : अल्जीरिया :: दक्षिण अमेरिका : ?

Ans  1. अर्जेंटीना  
 2. मैक्सिको  
 3. कनाडा  
 4. जर्मनी

Question ID : 6549787370  
Status : Answered  
Chosen Option : 1

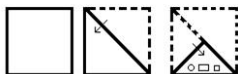
Q.16 दिए गए विकल्पों में से उस संख्या का चयन कीजिए जो निम्न श्रेणी में प्रश्नवाचक चिह्न (?) के स्थान पर आएगी।

14, 16, 34, 104, 418, ?

Ans  1. 2158  
 2. 1560  
 3. 2092  
 4. 1894


Question ID : 6549787364  
Status : Answered  
Chosen Option : 3

Q.17 निम्नांकित आकृति में एक कागज के टुकड़े को मोड़ने का क्रम और मुड़े हुए कागज को काटने की विधि दर्शाई गई है। यह कागज खोलने पर कैसा दिखेगा?

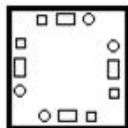


Ans

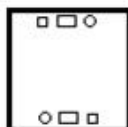
1.



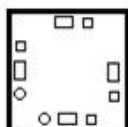
2.



3.



4.



Question ID : 6549787381  
Status : Answered  
Chosen Option : 2

Q.18 एक कूट भाषा में, यदि RAFT को 180 और DON को 99 के रूप में लिखा जाता है, तो उसी भाषा में SHOWER को किस प्रकार से लिखा जाएगा?

Ans

1. 448

2. 528

3. 225

4. 165

Question ID : 6549788075  
Status : Answered  
Chosen Option : 2

Q.19 उस विकल्प का चयन करें जिसमें दी गई संख्याओं में आपस में वही संबंध है जो दिए गए संख्या समूह की संख्याओं में है।  
(4, 3, 73)

Ans

1. (5, 4, 141)

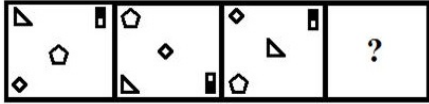
2. (6, 2, 230)

3. (5, 7, 302)

4. (7, 5, 345)

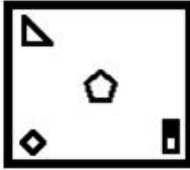
Question ID : 6549788070  
Status : Answered  
Chosen Option : 1

Q.20 दिए गए विकल्पों में से उस आकृति का चयन कीजिए जो निम्नांकित आकृति श्रेणी में प्रश्नवाचक चिह्न (?) के स्थान पर आ सकती है।

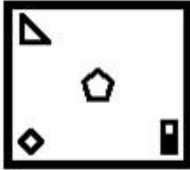


Ans

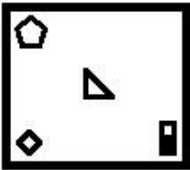
✗ 1.




✓ 2.



✗ 3.



✗ 4.



Question ID : 6549788085  
Status : Answered  
Chosen Option : 2

Q.21 चार शब्द दिए गए हैं, जिनमें से तीन एक निश्चित प्रकार से समान हैं, जबकि एक उनसे असंगत है। उस असंगत शब्द का चयन कीजिए।

Ans

✗ 1. पेसो

✗ 2. रियाल

✗ 3. बात

✓ 4. ओस्लो

Question ID : 6549787375  
Status : Answered  
Chosen Option : 4



Q.22 बरुन, चेतन का पुत्र है। अद्विता और चेतन विवाहित युगल हैं। प्रकुल, चेतन का भाई है। दीया, अद्विता की बेटी है। सुमन, बरुन का भाई है। दीया बरुन से किस प्रकार संबंधित है?

- Ans
- 1. ममेरी बहन
  - 2. चाची
  - 3. मां
  - 4. बहन

Question ID : 6549786564  
Status : Answered  
Chosen Option : 4

Q.23 दिए गए समीकरण को संतुलित करने के लिए, किन दो चिह्नों को एक-दूसरे से बदला जाना चाहिए?

$$21 + 5 - 45 \times 9 \div 3 = 11$$

- Ans
- 1. + और -
  - 2. ÷ और ×
  - 3. + और ×
  - 4. × और -

Question ID : 6549787360  
Status : Answered  
Chosen Option : 2

Q.24 उस विकल्प का चयन कीजिए जिसकी संख्याओं के मध्य वही संबंध है जो दिए गए समुच्चय की संख्याओं के मध्य है।

(42, 14, 294)

- Ans
- 1. (34, 18, 306)
  - 2. (36, 21, 360)
  - 3. (21, 15, 205)
  - 4. (30, 16, 242)

Question ID : 6549787362  
Status : Answered  
Chosen Option : 1

Q.25 दिए गए कथनों और निष्कर्षों को ध्यानपूर्वक पढ़ें। यह मानते हुए कि कथनों में दी गई सूचना सत्य है, भले ही वह सामान्य रूप से ज्ञात तथ्यों से भिन्न प्रतीत होती हो, बताइए कि दिए गए निष्कर्षों में से कौन से निष्कर्ष कथनों का तार्किक रूप से अनुसरण करते हैं।

कथन:

सभी ट्रक, कार हैं।  
कोई पहिया, कार नहीं है।  
कोई कार, बस नहीं है।

निष्कर्ष:

I. कोई बस, ट्रक नहीं है।  
II. कोई पहिया, बस नहीं है।  
III. कुछ कारें, ट्रक हैं।

- Ans
- 1. निष्कर्ष I और II दोनों अनुसरण करते हैं।
  - 2. निष्कर्ष I और III दोनों अनुसरण करते हैं।
  - 3. निष्कर्ष II और III दोनों अनुसरण करते हैं।
  - 4. सभी निष्कर्ष अनुसरण करते हैं।

Question ID : 6549787376

Status : Answered

Chosen Option : 2