

Section : General Intelligence

Q.1 उस अक्षर संयोजन का चयन करें, जिसे दी गई अक्षर श्रेणी के रिक्त स्थान में क्रमिक रूप से रखने पर श्रेणी पूर्ण हो जाएगी।

a _ bcde _ abbcd _ aabb _ ee

Ans

✓ 1. abeaeccd

✗ 2. aeecdbea

✗ 3. aeaebecd

✗ 4. abecdeae

Question ID : 6549788785

Status : Answered

Chosen Option : 1

Q.2 चार अक्षर-समूह दिए गए हैं, जिनमें से तीन किसी तरह से समान हैं और एक भिन्न है। भिन्न अक्षर-समूह का चयन करें।

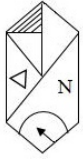
- Ans
- 1. TXCJ
 - 2. DHSZ
 - 3. NRJQ
 - 4. GKPW

Question ID : 6549789596

Status : Answered

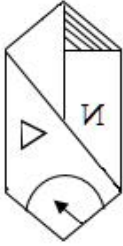
Chosen Option : 3

Q.3 यदि दर्पण को दी गई आकृति के दाईं ओर रखा जाए, तो दी गई आकृति का दर्पण में निर्मित सही प्रतिबिंब चयनित कीजिए।

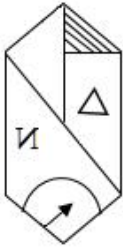


Ans

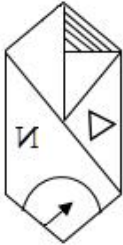
✗ 1.



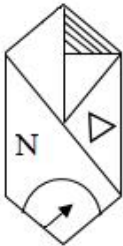
✗ 2.



✓ 3.



✗ 4.



Question ID : 6549789099

Status : Answered

Chosen Option : 3

Q.4 निम्न समीकरण को संतुलित करने के लिए, इनमें से कौन से दो चिह्नों को आपस में बदलना होगा?

$$12 - 8 + 4 \div 2 \times 8 = 4$$

Ans 1. \times और $+$

2. $+$ और $-$

3. \times और $+$

4. $-$ और \times

Question ID : 6549789077

Status : Answered

Chosen Option : 1

Q.5 दिए गए विकल्पों में से उस संख्या का चयन करें, जो निम्न श्रेणी में प्रश्नवाचक चिह्न (?) को प्रतिस्थापित कर सकती है।

3, 5, 15, 41, ?, 173

Ans 1. 106

2. 91

3. 112

4. 78

Question ID : 6549789081

Status : Answered

Chosen Option : 2

Q.6 किसी निश्चित कोड भाषा में, HAMPER को 17212322036 और INSULT को 16286421340 के रूप में लिखा गया। उसी भाषा में SAFETY को कैसे लिखा जाएगा?

Ans 1. 612195030

2. 610195320

3. 629101350

4. 621910550

Question ID : 6549789590

Status : Not Answered

Chosen Option : --

Q.7 चार संख्याएं दी गई हैं, जिनमें से तीन किसी प्रकार समान हैं और एक भिन्न है। भिन्न संख्या का चयन करें।

Ans 1. 5423

2. 6341

3. 6138

4. 1652

Question ID : 6549789587

Status : Answered

Chosen Option : 3

Q.8 वॉशिंग मशीन स्टोर का सेल्स बॉय अपने ग्राहकों से क्रय मूल्य से 24% अधिक प्राप्त करता है। यदि एक ग्राहक ने वॉशिंग मशीन के लिए ₹6,200 का भुगतान किया, तो वॉशिंग मशीन का क्रय मूल्य ज्ञात करें।

- Ans
- 1. ₹6,200
 - 2. ₹5,000
 - 3. ₹5,500
 - 4. ₹7,200

Question ID : 6549789581

Status : Answered

Chosen Option : 2

Q.9 निम्न चित्रों में एक कागज के टुकड़े को मोड़ने का क्रम और मुड़े हुए कागज को काटने का तरीका दर्शाया गया है। यह कागज खोलने पर कैसा दिखेगा?



Ans

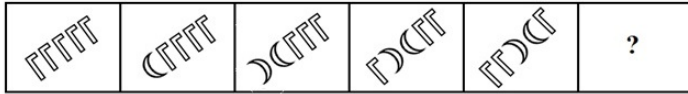
- 1.
- 2.
- 3.
- 4.

Question ID : 6549789098

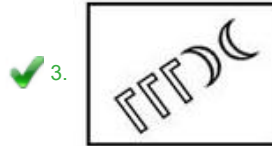
Status : Answered

Chosen Option : 3

Q.10 दिए गए विकल्पों में से उस आकृति का चयन करें, जो निम्न श्रेणी में प्रश्नचिह्न (?) के स्थान पर आ सकती है।



Ans



Question ID : 6549789600
Status : Answered
Chosen Option : 3

Q.11 उस विकल्प का चयन करें, जो तीसरे अक्षर-समूह से ठीक उसी प्रकार संबंधित है, जिस प्रकार दूसरा अक्षर-समूह पहले अक्षर-समूह से संबंधित है।

BYDW : UFSH :: CXFU : ?

- Ans
- 1. SHQJ
 - 2. RIPK
 - 3. TGQJ
 - 4. RIOL

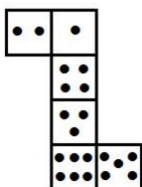
Question ID : 6549789086
Status : Answered
Chosen Option : 1

Q.12 किसी निश्चित कूट भाषा में, FORWARD को CSZXQPE लिखा जाता है। उसी कूट भाषा में NUMERAL को किस प्रकार लिखा जाएगा?

- Ans 1. KBQFLVM
 2. MUNELAR
 3. MZSDNTO
 4. KZQDLTL

Question ID : 6549789084
Status : Answered
Chosen Option : 1

Q.13 दी गई शीट को मोड़कर एक घन बनाया जाता है। इस प्रकार बने घन में, '4' बिंदु दर्शानेवाले फलक के विपरीत फलक पर कितने बिंदु होंगे?



- Ans 1. 1
 2. 2
 3. 5
 4. 6

Question ID : 6549789599
Status : Answered
Chosen Option : 4

Q.14 उस विकल्प का चयन करें, जिसमें शब्द उसी प्रकार संबंधित हैं, जिस प्रकार वे दिए गए शब्द युग्म में संबंधित हैं।

ऐमीटर : विद्युत धारा

- Ans 1. दाब : बैरोमीटर
 2. घनत्व : लैक्टोमीटर
 3. ध्रुवणमापी : चरण
 4. हाइग्रोमीटर : आर्द्रता

Question ID : 6549789595
Status : Answered
Chosen Option : 4

Q.15 उस विकल्प का चयन करें, जो तीसरी संख्या से ठीक उसी प्रकार संबंधित है, जिस प्रकार दूसरी संख्या पहली संख्या से संबंधित है।

12 : 150 :: 14 : ?

- Ans
- 1. 205
 - 2. 502
 - 3. 302
 - 4. 203

Question ID : 6549789583
Status : Answered
Chosen Option : 4

Q.16 जिस प्रकार 'तिनका', 'घोसला' से संबंधित है ठीक उसी प्रकार 'कपास', '_____' से संबंधित है।

- Ans
- 1. धागा
 - 2. ऊन
 - 3. सिलाई
 - 4. कपड़ा उद्योग

Question ID : 6549789087
Status : Answered
Chosen Option : 2

Q.17 चार शब्द दिए गए हैं, जिनमें से तीन किसी प्रकार समान हैं और एक भिन्न है। भिन्न शब्द का चयन करें।

- Ans
- 1. सत्यनिष्ठा
 - 2. प्रसन्नता
 - 3. सत्यता
 - 4. ईमानदारी

Question ID : 6549789092
Status : Answered
Chosen Option : 2

Q.18 दिए गए पैटर्न का ध्यानपूर्वक अध्ययन करें और उस संख्या का चयन करें जो प्रश्नचिह्न (?) को प्रतिस्थापित कर सकती है।

28 16 27
44 16 15
84 ? 24

- Ans
- 1. 27
 - 2. 30
 - 3. 29
 - 4. 28

Question ID : 6549789585
Status : Not Answered
Chosen Option : --

Q.19 Read the given statements and conclusions carefully. Assuming that the information given in the statements is true, even if it appears to be at variance with commonly known facts, decide which of the given conclusions logically follow(s) from the statements.

Statements:

All computers are machines.
No television is a computer.
All televisions are instruments.

Conclusions:

I. Some instruments are machines.
II. Some machines are computers.
III. Some televisions are machines.

- Ans**
- 1. None of the conclusions follow.
 - 2. Only conclusion I follows.
 - 3. Only conclusion II follows.
 - 4. Only conclusions II and III follow.

Question ID : 6549789093

Status : Answered

Chosen Option : 3

Q.20 उस विकल्प का चयन करें, जिसमें संख्याएं ठीक उसी प्रकार संबंधित हैं, जिस प्रकार निम्न समुच्चय की संख्याएं संबंधित हैं।

{9, 12, 18}

- Ans**
- 1. {5, 12, 24}
 - 2. {13, 19, 31}
 - 3. {21, 29, 44}
 - 4. {7, 13, 27}

Question ID : 6549789079

Status : Answered

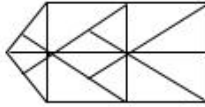
Chosen Option : 2

Q.21 उस विकल्प का चयन करें, जिसमें दी गई आकृति अन्तःस्थापित है। (घुमाने की अनुमति नहीं है)

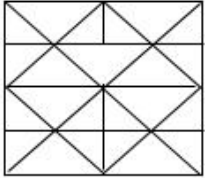


Ans

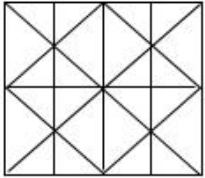
1.



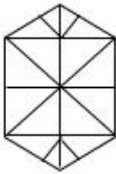
2.



3.



4.



Question ID : 6549789097

Status : Answered

Chosen Option : 3

Q.22 सिग्दा ने कहा कि वह अपनी माँ के इकलौते भाई के बेटे की माँ के ससुर से मिली। वह किससे मिली?

Ans

1. पिता

2. मामा

3. नाना

4. भाई

Question ID : 6549788281

Status : Answered

Chosen Option : 3

Q.23 उस सही विकल्प का चयन करें, जो दिए गए शब्द विन्यास का वह क्रम दर्शाता है, जिस प्रकार वे अंग्रेजी शब्दकोश में होते हैं।

1. Multifocal
2. Movement
3. Multinomial
4. Movie-maker
5. Mutual fund

Ans 1. 2, 4, 1, 3, 5

2. 1, 5, 2, 3, 4

3. 4, 2, 1, 3, 5

4. 4, 2, 3, 1, 5

Question ID : 6549789588

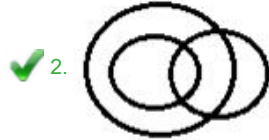
Status : Answered

Chosen Option : 1

Q.24 उस वेन आरेख का चयन करें, जो निम्न वर्गों के बीच के संबंध को सर्वोत्तम ढंग से निरूपित करता है।

महिलाएं, प्रोफेसर, विधवाएं

Ans

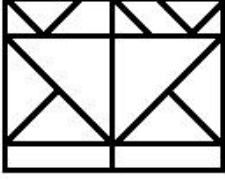


Question ID : 6549789605

Status : Answered

Chosen Option : 2

Q.25 दी गई आकृति में त्रिभुजों की संख्या ज्ञात करें।



- Ans
- 1. 13
 - 2. 14
 - 3. 15
 - 4. 11

Question ID : 6549789601
Status : Answered
Chosen Option : 2