

## Combined Graduate Level Examination 2024 Tier I

Roll Number	
Candidate Name	
Venue Name	
Exam Date	23/09/2024
Exam Time	4:00 PM - 5:00 PM
Subject	Combined Graduate Level Examination Tier I

### Section : General Intelligence and Reasoning

Q.1 प्रश्न में ऐसे शब्द युग्म हैं जो एक निश्चित तरीके से एक-दूसरे से संबंधित हैं। निम्नलिखित चार शब्द युग्मों में से तीन शब्द युग्म एक समान हैं क्योंकि इनमें संबंध समान है और इस प्रकार वे एक समूह बनाते हैं। निम्नलिखित में से कौन-सा शब्द युग्म उस समूह से संबंधित नहीं है?

(शब्दों को अर्थपूर्ण अंग्रेजी/हिंदी शब्द माना जाना चाहिए और शब्द में अक्षरों / व्यंजनों / स्वरों की संख्या के आधार पर एक-दूसरे से संबंधित नहीं होने चाहिए।)

- Ans
- ✗ 1. शतरंज - एक टीम में 1 खिलाड़ी
  - ✗ 2. पोलो - एक टीम में 4 खिलाड़ी
  - ✓ 3. फुटबॉल - एक टीम में 10 खिलाड़ी
  - ✗ 4. मुक्केबाजी - एक टीम में 1 खिलाड़ी

Question ID : 630680798730

Option 1 ID : 6306803129776

Option 2 ID : 6306803129778

Option 3 ID : 6306803129779

Option 4 ID : 6306803129777

Status : Answered

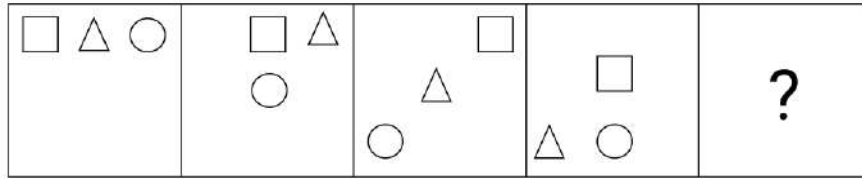
Chosen Option : 2



**Download SSC CGL, CHSL E-BOOKS**

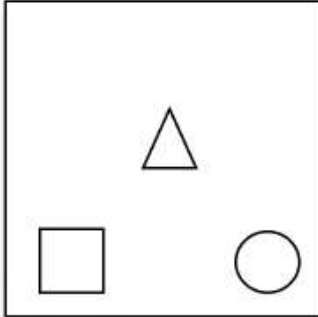
[CLICK HERE](#)

Q.2 विकल्पों में दी गई उस आकृति की पहचान कीजिए, जिसे प्रश्न चिह्न (?) के स्थान पर रखने पर श्रृंखला तार्किक रूप से पूरी हो जाएगी।

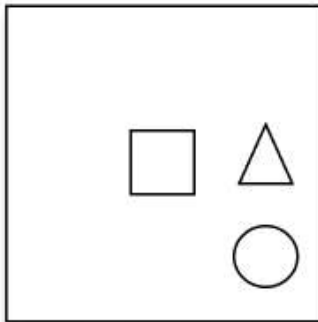


Ans

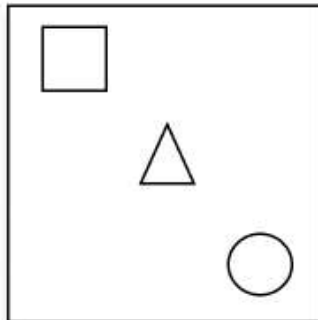
✗ 1.



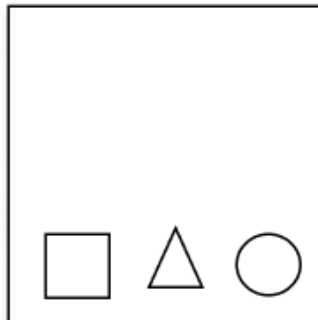
✗ 2.



✗ 3.



✓ 4.



Question ID : 630680471472

Option 1 ID : 6306801841604

Option 2 ID : 6306801841605

Option 3 ID : 6306801841603

Option 4 ID : 6306801841602

Status : Answered

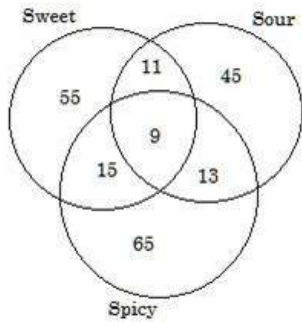
Chosen Option : 4



Download SSC CGL, CHSL E-BOOKS

CLICK HERE

**Q.3** दिए गए वेन आरेख के अनुसार कितने लोग या तो केवल मसालेदार या केवल मीठा पसंद करते हैं?



Sweet - मीठा, Sour - खट्टा, Spicy - मसालेदार

- Ans**
- 1. 135
  - 2. 110
  - 3. 120
  - 4. 144

Question ID : 630680113680

Option 1 ID : 630680440255

Option 2 ID : 630680440256

Option 3 ID : 630680440254

Option 4 ID : 630680440257

Status : Answered

Chosen Option : 3

**Q.4** उस विकल्प का चयन कीजिए जो उन अक्षरों को दर्शाता है, जिन्हें नीचे दिए गए रिक्त स्थानों में बाएँ से दाएँ क्रमिक रूप से रखने पर अक्षर श्रृंखला पूरी हो जाएगी।  
\_ Y R W I Y \_ X I \_ R \_ I Y R Z

- Ans**
- 1. XRY Y
  - 2. IRZY
  - 3. IYYX
  - 4. IRYY

Question ID : 630680261798

Option 1 ID : 6306801016849

Option 2 ID : 6306801016847

Option 3 ID : 6306801016850

Option 4 ID : 6306801016848

Status : Answered

Chosen Option : 4

**Q.5** दिए गए विकल्पों में से उस संख्या का चयन कीजिए, जो निम्नलिखित श्रृंखला में प्रश्न-चिह्न (?) को प्रतिस्थापित कर सकती है।  
45, 52, 63, 76, 93, ?

- Ans**
- 1. 112
  - 2. 116
  - 3. 122
  - 4. 118

Question ID : 630680411898

Option 1 ID : 6306801606430

Option 2 ID : 6306801606429

Option 3 ID : 6306801606428

Option 4 ID : 6306801606427

Status : Answered

Chosen Option : 1



**Download SSC CGL, CHSL E-BOOKS**

[CLICK HERE](#)

**Q.6** उस विकल्प का चयन करें जो पाँचवें अक्षर-समूह से उसी प्रकार संबंधित है जिस प्रकार दूसरा अक्षर-समूह पहले अक्षर-समूह से संबंधित है और चौथा अक्षर-समूह तीसरे अक्षर-समूह से संबंधित है।  
MSD: NHW :: OAE : LZV :: NIP:?

- Ans**  1. MRK  
 2. MQK  
 3. NSL  
 4. NRL

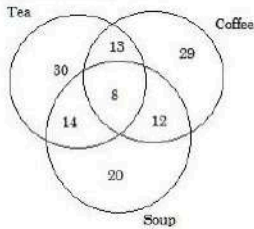
Question ID : 630680416744  
 Option 1 ID : 6306801625739  
 Option 2 ID : 6306801625741  
 Option 3 ID : 6306801625740  
 Option 4 ID : 6306801625742  
 Status : Answered  
 Chosen Option : 1

**Q.7** दिए गए समीकरण को सही करने के लिए किन दो संख्याओं (अंक नहीं) को आपस में बदलना चाहिए?  
 $6 \times 3 + 8 \div 2 + 21 + 5 \times 4 - 14 \div 7 = 53$

- Ans**  1. 21 और 14  
 2. 3 और 5  
 3. 2 और 4  
 4. 8 और 4

Question ID : 630680319377  
 Option 1 ID : 6306801242416  
 Option 2 ID : 6306801242414  
 Option 3 ID : 6306801242413  
 Option 4 ID : 6306801242415  
 Status : Answered  
 Chosen Option : 1

**Q.8** नीचे दिया गया वेन आरेख चाय (Tea), कॉफी (Coffee) और सूप (Soup) के लिए लोगों की पसंद को दर्शाता है।



Tea - चाय, Coffee - कॉफी, Soup - सूप  
 कितने लोग चाय और कॉफी दोनों पसंद करते हैं?

- Ans**  1. 29  
 2. 21  
 3. 43  
 4. 13

Question ID : 63068082919  
 Option 1 ID : 630680321539  
 Option 2 ID : 630680321537  
 Option 3 ID : 630680321538  
 Option 4 ID : 630680321536  
 Status : Answered  
 Chosen Option : 2

Q.9 उस समुच्चय का चयन कीजिए, जिसमें संख्याएँ उसी तरह संबंधित हैं, जैसे दिए गए समुच्चय की संख्याएँ हैं।  
(6, 31) (10, 91)  
(ध्यान दीजिए: संख्याओं को उनके घटक अंकों में विभाजित किए बिना, पूर्ण संख्याओं पर संक्रियाएँ की जानी चाहिए। उदाहरण के लिए 13 - 13 पर संक्रिया जैसे जोड़ना / हटाना / गुणा करना आदि 13 पर किया जा सकता है। 13 को 1 और 3 में तोड़ना और फिर 1 और 3 पर गणितीय संक्रियाएँ करने की अनुमति नहीं है)

- Ans
- 1. (9, 81)
  - 2. (12, 146)
  - 3. (8, 57)
  - 4. (7, 68)

Question ID : 630680319360  
Option 1 ID : 6306801242347  
Option 2 ID : 6306801242348  
Option 3 ID : 6306801242345  
Option 4 ID : 6306801242346  
Status : Answered  
Chosen Option : 3

Q.10 एक निश्चित कूट भाषा में, 'WJSL' को '25-12-21-14' लिखा जाता है और 'DUOH' को '6-23-17-10' लिखा जाता है। उसी कूट भाषा में 'PFKR' को कैसे लिखा जाएगा?

- Ans
- 1. 20-9-12-20
  - 2. 19-9-12-19
  - 3. 18-8-13-20
  - 4. 20-10-14-21

Question ID : 630680788505  
Option 1 ID : 6306803089803  
Option 2 ID : 6306803089802  
Option 3 ID : 6306803089800  
Option 4 ID : 6306803089801  
Status : Answered  
Chosen Option : 3


Q.11 यदि '+' और '-' को आपस में बदल दिया जाए और 'x' और '÷' को आपस में बदल दिया जाए, तो निम्नलिखित समीकरण में प्रश्न चिह्न (?) के स्थान पर क्या आएगा?  
 $152 \div 6 + 1617 \times 7 - 77 = ?$

- Ans
- 1. 578
  - 2. 785
  - 3. 758
  - 4. 587

Question ID : 630680411719  
Option 1 ID : 6306801605712  
Option 2 ID : 6306801605714  
Option 3 ID : 6306801605713  
Option 4 ID : 6306801605711  
Status : Answered  
Chosen Option : 3



# कर्मचारी चयन आयोग (CGL) परीक्षा अध्ययन सामग्री



FREE SHIPPING

- ▶ 100% Syllabus Covered
- ▶ 9 Books, 1000+ Pages - PRINT COPY
- ▶ 3000+ MCQs - PRINT COPY
- ▶ 08 Year Solved Papers & Mock Tests (PDF Copy)
- ▶ One Year Current Affairs (PDF Copy)

हिन्दी माध्यम

50% OFF

SSCPORTAL.IN

# SSC CGL HINDI PDF NOTES

100% Syllabus | 1,000+ Pages



CLICK HERE

<https://sscportal.in/study-kit/cgl/tier-1-hindi>

Q.12 निम्नलिखित श्रृंखला को जारी रखने के लिए प्रश्न चिह्न (?) के स्थान पर कौन-सी आकृति आनी चाहिए?

▽ ↑	↑ ▽	▽ B	B ▽	?
D X C B	D Z ↑	C D Z	↑ X	
Z B	C X	X Z	D C	

Ans

✗ 1.

▽ Z
B X C
↑ D

✓ 2.

▽ Z
B D ↑
C X

✗ 3.

▽ C
X Z ↑
B D

✗ 4.

D B
X Z ↑
C ▽

Question ID : 630680214465

Option 1 ID : 630680831892

Option 2 ID : 630680831894

Option 3 ID : 630680831893

Option 4 ID : 630680831891

Status : Answered

Chosen Option : 1

Q.13 21 एक निश्चित तर्क का अनुसरण करते हुए 220 से संबंधित है। इसी तर्क का अनुसरण करते हुए 72, 781 से संबंधित है। समान तर्क का अनुसरण करते हुए, 27 निम्नलिखित में से किससे संबंधित है? नोट: संख्याओं को उनके घटक अंकों में विभक्त किए बिना पूर्ण संख्याओं पर संक्रियाएं की जानी चाहिए। उदाहरण के लिए 13 को लें- 13 पर संक्रियाएं, जैसे कि जोड़ना/घटाना/गुणा आदि 13 में की जा सकती हैं। 13 को 1 और 3 में विभक्त करना और फिर 1 और 3 पर गणितीय संक्रियाएं करने की अनुमति नहीं है।

Ans ✓ 1. 286

✗ 2. 340

✗ 3. 290

✗ 4. 316

Question ID : 630680326552

Option 1 ID : 6306801270295

Option 2 ID : 6306801270294

Option 3 ID : 6306801270296

Option 4 ID : 6306801270293

Status : Not Answered

Chosen Option : --

**Q.14** उस विकल्प का चयन कीजिए जो पाँचवें अक्षर-समूह से उसी प्रकार संबंधित है जिस प्रकार दूसरा अक्षर-समूह, पहले अक्षर-समूह से संबंधित है और चौथा अक्षर-समूह, तीसरे अक्षर-समूह से संबंधित है।  
EXPENSE : EPXEESN :: FASHION : HSAFNOI :: FORTUNE : ?

- Ans
- 1. TUNEFOR
  - 2. ENUTROF
  - 3. TROFENU
  - 4. ROFNUTE

Question ID : 630680416459  
 Option 1 ID : 6306801624600  
 Option 2 ID : 6306801624602  
 Option 3 ID : 6306801624601  
 Option 4 ID : 6306801624599  
 Status : Answered  
 Chosen Option : 3

**Q.15** निम्नलिखित संख्या-युग्मों में से तीन किसी तरह से समान हैं और इसलिए एक समूह बनाते हैं। कौन-सा संख्या-युग्म उस समूह से संबंधित नहीं है?  
 (नोट: संख्याओं को उसके घटक अंकों में तोड़े बिना, पूर्ण संख्याओं पर गणितीय संक्रियाएं की जानी चाहिए। उदाहरण के लिए 13 - 13 पर संक्रियाएं जैसे कि 13 में जोड़ना/घटाना/गुणा करना आदि की जा सकती हैं। 13 को 1 और 3 में तोड़ने और फिर 1 और 3 पर गणितीय संक्रियाएँ करने की अनुमति नहीं है।)

- Ans
- 1. 17 - 306
  - 2. 14 - 196
  - 3. 21 - 462
  - 4. 12 - 156

Question ID : 630680349004  
 Option 1 ID : 6306801358308  
 Option 2 ID : 6306801358307  
 Option 3 ID : 6306801358306  
 Option 4 ID : 6306801358305  
 Status : Answered  
 Chosen Option : 2

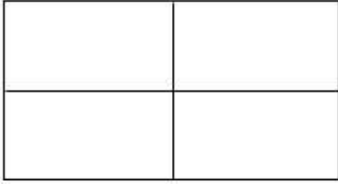
**Q.16** एक निश्चित कूट भाषा में 'cat dog monkey' को '55 66 88' के रूप में कूटबद्ध किया गया है; 'camel cat donkey' को '66 99 33' के रूप में कूटबद्ध किया गया है और 'dog goat tiger' को '88 11 22' के रूप में कूटबद्ध किया गया है। उसी भाषा में 'monkey' को किस प्रकार कूटबद्ध किया गया है?

- Ans
- 1. 88
  - 2. 55
  - 3. 11
  - 4. 66

Question ID : 630680189111  
 Option 1 ID : 630680733256  
 Option 2 ID : 630680733254  
 Option 3 ID : 630680733255  
 Option 4 ID : 630680733253  
 Status : Answered  
 Chosen Option : 2



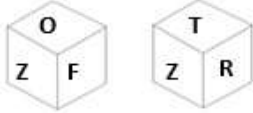
Q.17 दी गई आकृति में कितने आयत हैं?



- Ans
- 1. 4
  - 2. 6
  - 3. 9
  - 4. 8

Question ID : 630680161866  
 Option 1 ID : 630680626772  
 Option 2 ID : 630680626773  
 Option 3 ID : 630680626775  
 Option 4 ID : 630680626774  
 Status : Answered  
 Chosen Option : 3

Q.18 एक पासे के विभिन्न फलकों पर छह अक्षर O, Z, F, T, R और M लिखे गए हैं। इस पासे की दो स्थितियाँ नीचे चित्र में दर्शाई गई हैं। Z के विपरीत वाले फलक पर आने वाला अक्षर ज्ञात कीजिए।



- Ans
- 1. F
  - 2. R
  - 3. T
  - 4. M

Question ID : 630680222372  
 Option 1 ID : 630680863321  
 Option 2 ID : 630680863320  
 Option 3 ID : 630680863319  
 Option 4 ID : 630680863322  
 Status : Answered  
 Chosen Option : 4

Q.19 यदि 'LAUNDER' शब्द के सभी अक्षरों को अंग्रेजी वर्णमाला क्रम में व्यवस्थित किया जाए, तो कितने अक्षरों की स्थिति में कोई बदलाव नहीं होगा?

- Ans
- 1. एक भी नहीं
  - 2. तीन
  - 3. एक
  - 4. दो

Question ID : 630680375920  
 Option 1 ID : 6306801464751  
 Option 2 ID : 6306801464754  
 Option 3 ID : 6306801464752  
 Option 4 ID : 6306801464753  
 Status : Answered  
 Chosen Option : 1

**Q.20** अक्षरों के उस संयोजन का चयन कीजिए, जिसे दी गई श्रृंखला के रिक्त स्थानों में क्रमिक रूप से रखे जाने पर श्रृंखला तार्किक रूप से पूरी हो जाएगी।  
ME\_ICM\_DIC\_GDI\_MHD\_C

- Ans**
- 1. DEMAI
  - 2. DFMBI
  - 3. DFMCI
  - 4. DCFMI

Question ID : 630680216606

Option 1 ID : 630680840387

Option 2 ID : 630680840389

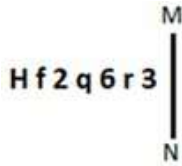
Option 3 ID : 630680840388

Option 4 ID : 630680840390

Status : Answered

Chosen Option : 3

**Q.21** जब दर्पण को MN पर रखा जाता हो तो दी गई आकृति के सही दर्पण प्रतिबिंब का चयन कीजिए।



- Ans**
- 1. E19pf2H
  - 2. E1θpS1H
  - 3. E19b2JH
  - 4. E19bS1H

Question ID : 630680325825

Option 1 ID : 6306801267496

Option 2 ID : 6306801267494

Option 3 ID : 6306801267493

Option 4 ID : 6306801267495

Status : Answered

Chosen Option : 2

Q.22 जब दर्पण को नीचे दर्शाए गए अनुसार MN पर रखा जाता है तो दी गई आकृति के सही दर्पण प्रतिबिंब का चयन कीजिए।



- Ans
- 1. @ΛəbaЯ
  - 2. @vəbεЯ
  - 3. @vədεЯ
  - 4. @vəbεR

Question ID : 630680356666

Option 1 ID : 6306801388668

Option 2 ID : 6306801388666

Option 3 ID : 6306801388667

Option 4 ID : 6306801388665

Status : Answered

Chosen Option : 2

Q.23 एक निश्चित कूट भाषा में,  
 'A & B' का अर्थ है कि 'A, B का भाई है',  
 'A x B' का अर्थ है कि 'A, B का पिता है',  
 'A ? B' का अर्थ है कि 'A, B की माता है' और  
 'A ! B' का अर्थ है कि 'A, B की पत्नी है',  
 निम्नलिखित में से किसका अर्थ यह है कि W, P की नानी है?

- Ans
- 1. W!R x Y ? O & P
  - 2. W & R ! Y x O ? P
  - 3. W ? R x Y ! O & P
  - 4. W ? R ! Y & O x P

Question ID : 630680797524

Option 1 ID : 6306803125052

Option 2 ID : 6306803125054

Option 3 ID : 6306803125053

Option 4 ID : 6306803125055

Status : Answered

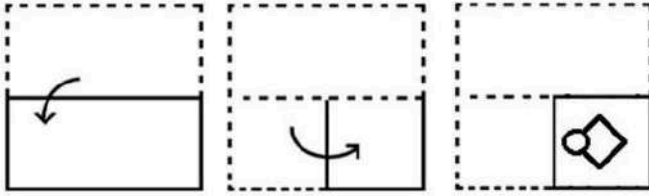
Chosen Option : 1



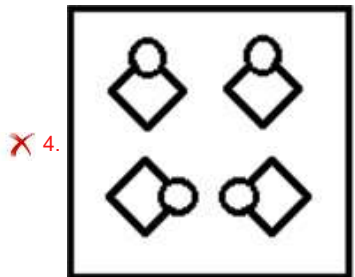
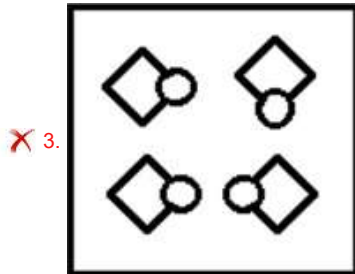
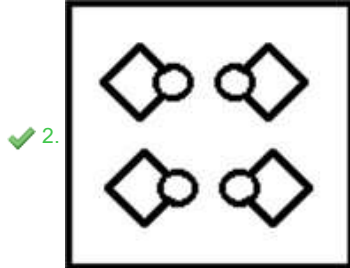
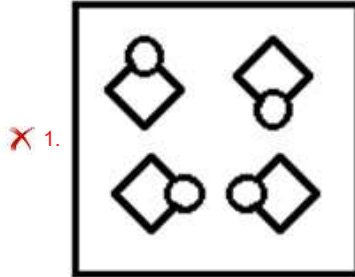
**Download SSC CGL, CHSL E-BOOKS**

[CLICK HERE](#)

Q.24 नीचे दी गई आकृतियों में कागज के एक टुकड़े को मोड़ने का क्रम और मुड़े हुए कागज को काटने का तरीका दर्शाया गया है। कागज खुलने पर यह कैसा दिखेगा?



Ans



Question ID : 630680105032

Option 1 ID : 630680408239

Option 2 ID : 630680408241

Option 3 ID : 630680408240

Option 4 ID : 630680408242

Status : Answered

Chosen Option : 2



Download SSC CGL, CHSL E-BOOKS

CLICK HERE

**Q.25** किसी निश्चित तर्क के अनुसार 13 का संबंध 21 से है। उसी तर्क के अनुसार 35 का संबंध 43 से है। उसी तर्क के अनुसार 66 निम्नलिखित में से किस संख्या से संबंधित है?  
नोट: संख्याओं को उनके घटक अंकों में विभक्त किए बिना पूर्ण संख्याओं पर संक्रियाएं की जानी चाहिए। उदाहरण के लिए 13 को लें- 13 पर संक्रियाएं, जैसे कि जोड़ना/घटाना/गुणा आदि 13 में की जा सकती हैं। 13 को 1 और 3 में विभक्त करना और फिर 1 और 3 पर गणितीय संक्रियाएं करने की अनुमति नहीं है।

- Ans**
- 1. 72
  - 2. 71
  - 3. 73
  - 4. 74

Question ID : 630680162505  
Option 1 ID : 630680629318  
Option 2 ID : 630680629319  
Option 3 ID : 630680629317  
Option 4 ID : 630680629316  
Status : Answered  
Chosen Option : 4

Section : General Awareness

**Q.1** ICAR - गन्ना प्रजनन संस्थान (Sugarcane Breeding Institute) कहां स्थित है?

- Ans**
- 1. कोयंबटूर
  - 2. वेल्लोर
  - 3. तिरुनेलवेली
  - 4. कुड्डालोर

Question ID : 630680134721  
Option 1 ID : 630680521703  
Option 2 ID : 630680521702  
Option 3 ID : 630680521705  
Option 4 ID : 630680521704  
Status : Answered  
Chosen Option : 1

**Q.2** 1811 में आयतनों के संयोजन (combination of volumes) पर गे-लुसाक के परिणामों के साथ डाल्टन की परमाण्वीय परिकल्पना का मिलान किसने किया था?

- Ans**
- 1. फ्रेड हॉयल (Fred Hoyle)
  - 2. जैक्स चार्ल्स (Jacques Charles)
  - 3. रॉबर्ट बॉयल (Robert Boyle)
  - 4. अमेदिओ अवोगाद्रो (Amadeo Avogadro)

Question ID : 630680517139  
Option 1 ID : 6306802020954  
Option 2 ID : 6306802020952  
Option 3 ID : 6306802020953  
Option 4 ID : 6306802020955  
Status : Answered  
Chosen Option : 3



Q.3 भारत की जनगणना 2011 के अनुसार, 2001 की जनगणना की तुलना में पुरुषों और महिलाओं की साक्षरता दर में क्रमशः कितनी वृद्धि हुई है?

- Ans
- 1. 6.88% और 11.79%
  - 2. 5.88% और 12.79%
  - 3. 3.88% और 13.79%
  - 4. 4.88% और 10.79%

Question ID : 630680409606  
Option 1 ID : 6306801597255  
Option 2 ID : 6306801597253  
Option 3 ID : 6306801597256  
Option 4 ID : 6306801597254  
Status : Not Answered  
Chosen Option : --

Q.4 31 जुलाई 2021 को भारतीय नौसेना के नए उप प्रमुख के रूप में किसने पदभार ग्रहण किया?

- Ans
- 1. रवनीत सिंह
  - 2. दिनेश के. त्रिपाठी
  - 3. करमबीर सिंह
  - 4. एस.एन. घोरमडे

Question ID : 630680158409  
Option 1 ID : 630680613165  
Option 2 ID : 630680613166  
Option 3 ID : 630680613164  
Option 4 ID : 630680613167  
Status : Answered  
Chosen Option : 2

Q.5 'पॉवर्टी एंड अन-ब्रिटिश रूल इन इंडिया' पुस्तक की रचना \_\_\_\_\_ के द्वारा की गई थी।

- Ans
- 1. लाला लाजपत राय
  - 2. एम.एन. रॉय
  - 3. बिपिन चंद्र पाल
  - 4. दादाभाई नौरोजी

Question ID : 630680412317  
Option 1 ID : 6306801608091  
Option 2 ID : 6306801608094  
Option 3 ID : 6306801608093  
Option 4 ID : 6306801608092  
Status : Answered  
Chosen Option : 4

Q.6 किसी राज्य में मुख्यमंत्री सहित मंत्रियों की संख्या \_\_\_\_\_ से कम नहीं होनी चाहिए।

- Ans
- 1. 13
  - 2. 11
  - 3. 12
  - 4. 10

Question ID : 630680326518  
Option 1 ID : 6306801270160  
Option 2 ID : 6306801270158  
Option 3 ID : 6306801270159  
Option 4 ID : 6306801270157  
Status : Not Answered  
Chosen Option : --



Q.7 Which Act was passed by the British Parliament in the year 1773 AD to regulate the activities of the East India Company?

- Ans
- 1. Pitt's India Act
  - 2. Indian Slavery Act
  - 3. Age of Consent Act
  - 4. Regulating Act

Question ID : 630680511537  
Option 1 ID : 6306801999271  
Option 2 ID : 6306801999270  
Option 3 ID : 6306801999272  
Option 4 ID : 6306801999273  
Status : Answered  
Chosen Option : 4

Q.8 Which of the following is NOT a major climate control of a place?

- Ans
- 1. Altitude
  - 2. Ocean currents
  - 3. Latitude
  - 4. Interior of the earth

Question ID : 630680302662  
Option 1 ID : 6306801177315  
Option 2 ID : 6306801177316  
Option 3 ID : 6306801177314  
Option 4 ID : 6306801177317  
Status : Answered  
Chosen Option : 2

Q.9 आर्य उस भूमि पर रहते थे जिसे सप्त सिंधु (सात नदियों की भूमि) कहा जाता था। निम्नलिखित में से कौन-सा इसका भाग नहीं था?

- Ans
- 1. रावी
  - 2. सिंधु
  - 3. सिंधु
  - 4. झेलम

Question ID : 630680412492  
Option 1 ID : 6306801608793  
Option 2 ID : 6306801608791  
Option 3 ID : 6306801608792  
Option 4 ID : 6306801608794  
Status : Answered  
Chosen Option : 3

Q.10 मृत सागर की लवणता (प्रति लीटर जल की) कितनी है?

- Ans
- 1. 340 ग्राम
  - 2. 390 ग्राम
  - 3. 440 ग्राम
  - 4. 240 ग्राम

Question ID : 63068094193  
Option 1 ID : 630680365468  
Option 2 ID : 630680365469  
Option 3 ID : 630680365470  
Option 4 ID : 630680365467  
Status : Not Answered  
Chosen Option : --



Q.11 खाद्य पदार्थों का पाचन, जन्तु शरीर का एक महत्वपूर्ण कार्य होता है। शेर, गाय, मनुष्य आदि जंतुओं में, मुख से शुरू होकर गुदा (anus) तक विभिन्न अंगों का उपयोग इस प्रक्रिया में शामिल होता है। इस मार्ग के दीर्घतम भाग को \_\_\_\_\_ कहा जाता है।

- Ans
- 1. बड़ी आंत (large intestine)
  - 2. छोटी आंत (small intestine)
  - 3. आमाशय (stomach)
  - 4. ग्रसिका (oesophagus)

Question ID : 630680517183  
Option 1 ID : 6306802021130  
Option 2 ID : 6306802021131  
Option 3 ID : 6306802021129  
Option 4 ID : 6306802021128  
Status : Answered  
Chosen Option : 1

Q.12 निम्नलिखित में से कौन-सा त्योहार मुख्य रूप से ओडिशा राज्य में मनाया जाता है?

- Ans
- 1. बैशागु
  - 2. रज पर्व
  - 3. मी-डैम-मी-फी
  - 4. छठ

Question ID : 630680305974  
Option 1 ID : 6306801190252  
Option 2 ID : 6306801190250  
Option 3 ID : 6306801190251  
Option 4 ID : 6306801190249  
Status : Answered  
Chosen Option : 3

Q.13 निम्नलिखित में से कौन-सा विकल्प भारत में स्वयं सहायता समूहों (SHGs) और सूक्ष्म वित्त संस्थाओं (MFIs) के बीच अंतर है?

- Ans
- 1. SHG केवल क्रेडिट प्रदान करते हैं, जबकि MFI वित्तीय सेवाओं की एक शृंखला प्रदान करते हैं।
  - 2. SHG आमतौर पर छोटे, समुदाय-आधारित संगठन होते हैं, जबकि MFI बड़े और अधिक औपचारिक संस्था होते हैं।
  - 3. SHGs वित्तपोषण के लिए सरकारी सब्सिडी पर निर्भर होते हैं, जबकि MFIs वित्तपोषण के वाणिज्यिक स्रोतों पर भरोसा करते हैं।
  - 4. SHGs गैर-लाभकारी संगठन हैं, जबकि MFIs लाभकारी संगठन हैं।

Question ID : 630680324074  
Option 1 ID : 6306801260790  
Option 2 ID : 6306801260791  
Option 3 ID : 6306801260792  
Option 4 ID : 6306801260789  
Status : Answered  
Chosen Option : 2





Q.14 राज्य के \_\_\_\_\_ नीति निदेशक तत्वों को 1976 के 42वें संविधान संशोधन अधिनियम द्वारा भारतीय संविधान में जोड़ा गया था।

- Ans
- 1. दो
  - 2. चार
  - 3. तीन
  - 4. पाँच

Question ID : 630680329454  
Option 1 ID : 6306801281557  
Option 2 ID : 6306801281559  
Option 3 ID : 6306801281558  
Option 4 ID : 6306801281560  
Status : Not Answered  
Chosen Option : --

Q.15 वर्ष 1986 में, प्रसिद्ध संतूर वादक पंडित शिवकुमार शर्मा को \_\_\_\_\_ से सम्मानित किया गया था।

- Ans
- 1. संगीत नाटक अकादमी पुरस्कार
  - 2. कालिदास सम्मान
  - 3. संस्कृति पुरस्कार
  - 4. महाराष्ट्र गौरव पुरस्कार

Question ID : 6306801048038  
Option 1 ID : 6306804114198  
Option 2 ID : 6306804114199  
Option 3 ID : 6306804114201  
Option 4 ID : 6306804114200  
Status : Answered  
Chosen Option : 1

Q.16 निम्नलिखित में से किसने 8वीं शताब्दी ईस्वी में पाल वंश की स्थापना की थी?

- Ans
- 1. गोपाल
  - 2. धर्मपाल
  - 3. रामपाल
  - 4. देवपाल

Question ID : 630680412434  
Option 1 ID : 6306801608562  
Option 2 ID : 6306801608561  
Option 3 ID : 6306801608560  
Option 4 ID : 6306801608559  
Status : Answered  
Chosen Option : 2

Q.17 माइकल फेराडे ने 1831 में कौन सा प्रसिद्ध प्रयोग किया था?

- Ans
- 1. प्रत्यास्थता के नियम की खोज
  - 2. विद्युत चुम्बकीय प्रेरण की खोज
  - 3. प्राकृतिक रेडियोधर्मिता की खोज
  - 4. क्रांटम मैग्नेटोमीटर की खोज

Question ID : 630680302886  
Option 1 ID : 6306801178207  
Option 2 ID : 6306801178206  
Option 3 ID : 6306801178209  
Option 4 ID : 6306801178208  
Status : Answered  
Chosen Option : 2



**Q.18** भारत द्वारा आयोजित G20 शिखर सम्मेलन के लिए मुख्य समन्वयक कौन है?

- Ans**
- 1. विजय गोखले
  - 2. एस जयशंकर
  - 3. हर्षवर्धन श्रृंगला
  - 4. विनय कान्ना

Question ID : **630680195360**  
Option 1 ID : **630680757910**  
Option 2 ID : **630680757909**  
Option 3 ID : **630680757912**  
Option 4 ID : **630680757911**  
Status : **Answered**  
Chosen Option : **2**

**Q.19** 1838 में किसने जनसंख्या वृद्धि के लॉजिस्टिक समीकरण मॉडल को प्रकाशित किया था?

- Ans**
- 1. हार्वर्ड थॉमस ओडुम (Howard Thomas Odum)
  - 2. पियरे फ्रॉन्सा वेरहल्ट (Pierre François Verhulst)
  - 3. अल्फ्रेड रसेल वॉलेस (Alfred Russel Wallace)
  - 4. जॉर्ज एवलिन हचिंसन (George Evelyn Hutchinson)

Question ID : **630680407458**  
Option 1 ID : **6306801588771**  
Option 2 ID : **6306801588770**  
Option 3 ID : **6306801588772**  
Option 4 ID : **6306801588773**  
Status : **Answered**  
Chosen Option : **1**

**Q.20** निम्नलिखित में से किस राज्य में चू-फाट (Chu-Faat) नृत्य किया जाता है?

- Ans**
- 1. उत्तराखंड
  - 2. सिक्किम
  - 3. पश्चिम बंगाल
  - 4. हरियाणा

Question ID : **630680216204**  
Option 1 ID : **630680838794**  
Option 2 ID : **630680838792**  
Option 3 ID : **630680838793**  
Option 4 ID : **630680838791**  
Status : **Not Answered**  
Chosen Option : **--**

**Q.21** भारतीय क्रिकेट में निम्नलिखित में से किसे 'कैप्टन कूल' के नाम से जाना जाता है?

- Ans**
- 1. कपिल देव
  - 2. महेन्द्र सिंह धोनी
  - 3. सचिन तेंदुलकर
  - 4. विराट कोहली

Question ID : **630680339377**  
Option 1 ID : **6306801320079**  
Option 2 ID : **6306801320080**  
Option 3 ID : **6306801320077**  
Option 4 ID : **6306801320078**  
Status : **Answered**  
Chosen Option : **2**



Q.22 पापनासम रामय्या सिवन किस संगीत शैली के भारतीय संगीतकार थे?

- Ans  1. लोक संगीत  
 2. कर्नाटक संगीत  
 3. कव्वाली  
 4. भजन

Question ID : 630680410395  
Option 1 ID : 6306801600309  
Option 2 ID : 6306801600310  
Option 3 ID : 6306801600307  
Option 4 ID : 6306801600308  
Status : Not Answered  
Chosen Option : --

Q.23 G20 के रोजगार कार्य समूह की पहली बैठक कहाँ आयोजित की गई?

- Ans  1. लखनऊ  
 2. जोधपुर  
 3. जयपुर  
 4. कोलकाता

Question ID : 630680353931  
Option 1 ID : 6306801377799  
Option 2 ID : 6306801377798  
Option 3 ID : 6306801377797  
Option 4 ID : 6306801377800  
Status : Answered  
Chosen Option : 1

Q.24 निम्नलिखित मर्दों का मिलान कीजिए।

सूची I

- i. कस्तूरबा गांधी बालिका विद्यालय योजना  
ii. मध्याह्न भोजन योजना  
iii. राष्ट्रीय प्रत्यायन मूल्यांकन परिषद  
iv. अखिल भारतीय तकनीकी शिक्षा परिषद

सूची II

- a. 1994  
b. 2004  
c. 1945  
d. 1995

- Ans  1. i (d), ii (a), iii (b), iv (c)  
 2. i (c), ii (d), iii (b), iv (a)  
 3. i (b), ii (c), iii (d), iv (a)  
 4. i (b), ii (d), iii (a), iv (c)

Question ID : 6306801048059  
Option 1 ID : 6306804114282  
Option 2 ID : 6306804114285  
Option 3 ID : 6306804114283  
Option 4 ID : 6306804114284  
Status : Answered  
Chosen Option : 4



# SSC CGL (Tier-1) STUDY NOTES



- ▶ 100% CGL Exam Syllabus Covered
- ▶ 12 Books, 1300+ Pages
- ▶ 5600+ MCQs
- ▶ Previous Year Papers & Mocks
- ▶ 1 Year Current Affairs
- ▶ Support & Guidance

**50% OFF**



**100% SAFE**

FREE SHIPPING 

[SSCPORTAL.IN](http://SSCPORTAL.IN)

# SSC CGL PDF NOTES

100% Syllabus | 1300+ Pages

**50% OFF**

[CLICK HERE](#)



Q.25 निम्नलिखित में से कौन शतरंज में पहली भारतीय महिला ग्रैंडमास्टर है?

- Ans
- 1. आर. वैशाली
  - 2. हरिका द्रोणावल्ली
  - 3. तानिया सचदेव
  - 4. एस. विजयालक्ष्मी

Question ID : 630680510829  
Option 1 ID : 6306801996447  
Option 2 ID : 6306801996449  
Option 3 ID : 6306801996446  
Option 4 ID : 6306801996448  
Status : Answered  
Chosen Option : 1

Section : Quantitative Aptitude

Q.1  $\theta=45^\circ$  पर  $\frac{\sin^2\theta - 2\sin^4\theta}{2\cos^4\theta + \cos^2\theta}$  का मान ज्ञात कीजिए।

- Ans
- 1. 0
  - 2. 1
  - 3. 3
  - 4. 2

Question ID : 630680199702  
Option 1 ID : 630680774416  
Option 2 ID : 630680774415  
Option 3 ID : 630680774417  
Option 4 ID : 630680774418  
Status : Answered  
Chosen Option : 1

Q.2 यदि  $3x + 2y = 10$  और  $2xy = 7$  है, तो  $3x - 2y$  का मान ज्ञात कीजिए (यदि  $3x - 2y > 0$ )।

- Ans
- 1. 8
  - 2. 10
  - 3. 4
  - 4. 6

Question ID : 630680413489  
Option 1 ID : 6306801612782  
Option 2 ID : 6306801612783  
Option 3 ID : 6306801612780  
Option 4 ID : 6306801612781  
Status : Not Answered  
Chosen Option : --



Q.3 अनुभा अपने स्कूटर को ₹31524 में बेचकर, विक्रय मूल्य के  $\frac{1}{6}$  भाग के बराबर लाभ अर्जित करती है।  
उसका लाभ प्रतिशत ज्ञात कीजिए।

- Ans  1. 20%  
 2. 30%  
 3. 5%  
 4. 35%

Question ID : 630680922778  
Option 1 ID : 6306803615958  
Option 2 ID : 6306803615960  
Option 3 ID : 6306803615959  
Option 4 ID : 6306803615961  
Status : Answered  
Chosen Option : 1

Q.4 यदि किसी वृत्त में 14 cm लंबाई की एक जीवा इसके केंद्र से 24 cm की दूरी पर है, तो वृत्त की त्रिज्या की लंबाई ज्ञात कीजिए।

- Ans  1. 24 cm  
 2. 25 cm  
 3. 28 cm  
 4. 31 cm

Question ID : 630680406582  
Option 1 ID : 6306801585550  
Option 2 ID : 6306801585551  
Option 3 ID : 6306801585552  
Option 4 ID : 6306801585553  
Status : Answered  
Chosen Option : 2

Q.5 दिए गए व्यंजक का सरलीकरण करें।  
 $0.07 \times 0.28 \div 0.04 + 0.64 - 1.64 \div 0.04$

- Ans  1. -39.87  
 2. 36.78  
 3. 38.56  
 4. -46.48

Question ID : 630680403284  
Option 1 ID : 6306801572636  
Option 2 ID : 6306801572637  
Option 3 ID : 6306801572634  
Option 4 ID : 6306801572635  
Status : Not Answered  
Chosen Option : --



Q.6 60%, 70% और 80% की क्रमिक छूट किस एकल छूट के बराबर है?

- Ans  1. 95.5%  
 2. 70%  
 3. 97.6%  
 4. 85%

Question ID : 630680178723  
 Option 1 ID : 630680692987  
 Option 2 ID : 630680692985  
 Option 3 ID : 630680692984  
 Option 4 ID : 630680692986  
 Status : Answered  
 Chosen Option : 3

Q.7 निम्नलिखित तालिका में वर्ष 2010 से 2013 तक एक विश्वविद्यालय में उच्च शिक्षा के लिए दाखिला लेने वाले विद्यार्थियों की संख्या दर्शाई गई है।

वर्ष	विद्यार्थियों की संख्या
2010	450
2011	540
2012	370
2013	680

वर्ष 2010 से 2013 तक विश्वविद्यालय में दाखिला लेने वाले विद्यार्थियों की औसत संख्या क्या है?

- Ans  1. 522  
 2. 499  
 3. 510  
 4. 495

Question ID : 630680523726  
 Option 1 ID : 6306802047056  
 Option 2 ID : 6306802047057  
 Option 3 ID : 6306802047058  
 Option 4 ID : 6306802047055  
 Status : Answered  
 Chosen Option : 3

Q.8 यदि  $\tan A = \frac{1}{\sqrt{10}}$  है, A एक न्यून कोण है, तो  $\sin A + \operatorname{cosec} A$  का मान कितना होगा?

- Ans
- 1.  $\frac{12}{\sqrt{11}}$
  - 2.  $\frac{10}{\sqrt{11}}$
  - 3.  $\frac{11}{\sqrt{10}}$
  - 4.  $\frac{1}{\sqrt{10}}$

Question ID : 630680398089  
 Option 1 ID : 6306801552369  
 Option 2 ID : 6306801552368  
 Option 3 ID : 6306801552367  
 Option 4 ID : 6306801552366  
 Status : Answered  
 Chosen Option : 1

Q.9 एक कंपनी द्वारा तीन वर्षों की अवधि में निर्मित दो प्रकार की साइकिलों B1 और B2 की बिक्री (लाखों में) नीचे दी गई तालिका में दर्शाई गई है।

वर्ष	B1	B2
2001	95	184
2002	130	200
2003	150	216

2001 से 2003 तक, साइकिल B1 की कुल बिक्री, साइकिल B2 की कुल बिक्री का कितना प्रतिशत है?

- Ans
- 1. 70.6%
  - 2. 68.2%
  - 3. 56.7%
  - 4. 62.5%

Question ID : 630680428272  
 Option 1 ID : 6306801671132  
 Option 2 ID : 6306801671133  
 Option 3 ID : 6306801671135  
 Option 4 ID : 6306801671134  
 Status : Answered  
 Chosen Option : 4



**Q.10** संख्या 4,29,714 निम्नलिखित में से किन संख्याओं से विभाज्य है?

- Ans**
- 1. 4 और 6
  - 2. 3 और 5
  - 3. 3 और 6
  - 4. 6 और 5

Question ID : 630680131180

Option 1 ID : 630680507986

Option 2 ID : 630680507987

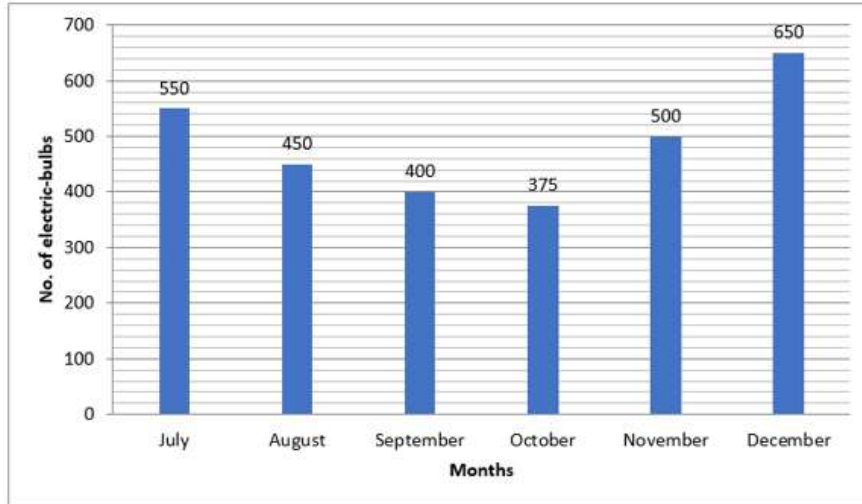
Option 3 ID : 630680507988

Option 4 ID : 630680507989

Status : Answered

Chosen Option : 3

**Q.11** निम्नलिखित बार ग्राफ में वर्ष 2021 की दूसरी छमाही के दौरान एक कंपनी द्वारा बिजली के बल्बों का किया गया मासिक उत्पादन दर्शाया गया है। बार ग्राफ का ध्यानपूर्वक अध्ययन कीजिए और नीचे दिए गए प्रश्न का उत्तर दीजिए।



No. of electric-bulbs = बिजली के बल्बों की संख्या

Months = माह

July = जुलाई

August = अगस्त

September = सितंबर

October = अक्टूबर

November = नवंबर

December = दिसंबर

जुलाई में किए गए उत्पादन की तुलना में, अक्टूबर में बिजली के बल्बों के उत्पादन में कितने प्रतिशत की कमी हुई है? (दो दशमलव स्थान तक पूर्णांकित)

- Ans**
- 1. 31.82%
  - 2. 30.28%
  - 3. 29.82%
  - 4. 32.28%

Question ID : 630680383454

Option 1 ID : 6306801494713

Option 2 ID : 6306801494712

Option 3 ID : 6306801494711

Option 4 ID : 6306801494714

Status : Not Answered

Chosen Option : --

Q.12 30 छात्रों वाली एक कक्षा के सभी छात्रों ने एक टेस्ट दिया। 12 छात्रों का औसत स्कोर 62 है, और बाकी छात्रों का औसत स्कोर 60 है। कक्षा का औसत स्कोर ज्ञात करें।

Ans  1. 60.8

2. 58.8

3. 61.8

4. 59.8

Question ID : 630680566255

Option 1 ID : 6306802214008

Option 2 ID : 6306802214011

Option 3 ID : 6306802214010

Option 4 ID : 6306802214009

Status : Answered

Chosen Option : 1

Q.13 3 वर्ष पहले, A और B की आयु का अनुपात 5 : 7 था। अब से 13 वर्ष बाद, उनकी आयु का अनुपात 9 : 11 होगा। यदि C की वर्तमान आयु B की वर्तमान आयु से 11 वर्ष कम है, तो C की वर्तमान आयु (वर्ष में) क्या है?

Ans  1. 20

2. 36

3. 31

4. 23

Question ID : 630680397527

Option 1 ID : 6306801550027

Option 2 ID : 6306801550029

Option 3 ID : 6306801550026

Option 4 ID : 6306801550028

Status : Answered

Chosen Option : 1

Q.14 यदि किसी कर्मचारी की आयु ₹72,000 है, वह जो राशि खर्च करता है वह उसकी बचत से 40% अधिक है। इसलिए, उसकी बचत (₹ में) कितनी है?

Ans  1. 34000

2. 28000

3. 32000

4. 30000

Question ID : 630680428058

Option 1 ID : 6306801670279

Option 2 ID : 6306801670276

Option 3 ID : 6306801670278

Option 4 ID : 6306801670277

Status : Answered

Chosen Option : 4



**Q.15**  $\Delta PQR$  में, यदि  $4\angle P = 5\angle Q = 20\angle R$  है, तो  $\angle Q$  का मान क्या है?

- Ans
- 1.  $90^\circ$
  - 2.  $45^\circ$
  - 3.  $72^\circ$
  - 4.  $36^\circ$

Question ID : 630680382708

Option 1 ID : 6306801491750

Option 2 ID : 6306801491749

Option 3 ID : 6306801491747

Option 4 ID : 6306801491748

Status : Answered

Chosen Option : 3

**Q.16** दो पाइप A और B एक टंकी को क्रमशः 20 और 30 घंटे में भर सकते हैं। टंकी को भरने के लिए दोनों पाइप खोले जाते हैं, लेकिन जब टंकी एक तिहाई भर जाती है, तो एक रिसाव विकसित होता है जिससे दोनों पाइपों द्वारा भरा गया एक-चौथाई पानी निकल जाता है। टंकी को भरने में लगने वाला कुल समय (घंटे में) ज्ञात कीजिए।

- Ans
- 1.  $12\frac{1}{3}$
  - 2.  $11\frac{2}{5}$
  - 3. 14
  - 4.  $14\frac{2}{3}$

Question ID : 630680397590

Option 1 ID : 6306801550283

Option 2 ID : 6306801550284

Option 3 ID : 6306801550282

Option 4 ID : 6306801550281

Status : Not Answered

Chosen Option : --

**Q.17** सात सदस्यों की एक टीम में, छः सदस्यों की औसत आयु 42 वर्ष है जबकि टीम के सातवें सदस्य की आयु, सभी सात सदस्यों की औसत आयु से 36 वर्ष अधिक है। टीम के सातवें सदस्य की आयु (वर्ष में) ज्ञात करें।

- Ans
- 1. 78
  - 2. 84
  - 3. 90
  - 4. 80

Question ID : 630680381292

Option 1 ID : 6306801486119

Option 2 ID : 6306801486121

Option 3 ID : 6306801486122

Option 4 ID : 6306801486120

Status : Answered

Chosen Option : 2



Q.18 यदि एक समबाहु त्रिभुज की प्रत्येक भुजा  $37\sqrt{3}$  cm है, तो इसका शीर्षलम्ब (cm में) ज्ञात कीजिए।

- Ans  1. 55.5  
 2. 18.5  
 3. 37.5  
 4. 60.5

Question ID : 630680421366  
 Option 1 ID : 6306801643929  
 Option 2 ID : 6306801643927  
 Option 3 ID : 6306801643928  
 Option 4 ID : 6306801643930  
 Status : Answered  
 Chosen Option : 1

Q.19 मान लीजिए  $3t - \frac{1}{3t} = 3$  है, तो निम्नलिखित में से किस व्यंजक का मान 12 के बराबर है?

- Ans  1.  $9t^2 + \frac{1}{9t^2} + 2$   
 2.  $9t^2 + \frac{1}{9t^2} + 1$   
 3.  $9t^2 + \frac{1}{9t^2} - 2$   
 4.  $9t^2 + \frac{1}{9t^2}$

Question ID : 630680413483  
 Option 1 ID : 6306801612757  
 Option 2 ID : 6306801612758  
 Option 3 ID : 6306801612756  
 Option 4 ID : 6306801612759  
 Status : Answered  
 Chosen Option : 2

Q.20  $t$  के किस मान के लिए  $\sin^2(t)$  का मान,  $\tan(t)$  के मान का आधा है?

- Ans  1.  $45^\circ$   
 2.  $60^\circ$   
 3.  $22.5^\circ$   
 4.  $30^\circ$

Question ID : 630680518890  
 Option 1 ID : 6306802028033  
 Option 2 ID : 6306802028034  
 Option 3 ID : 6306802028035  
 Option 4 ID : 6306802028032  
 Status : Answered  
 Chosen Option : 1



Q.21 एक ऐसे आयत का क्षेत्रफल ज्ञात कीजिए जिसकी लंबाई 52 m और चौड़ाई 9 m है।

- Ans
- 1.  $625m^2$
  - 2.  $468m^2$
  - 3.  $253m^2$
  - 4.  $552m^2$

Question ID : 630680101829

Option 1 ID : 630680395677

Option 2 ID : 630680395678

Option 3 ID : 630680395679

Option 4 ID : 630680395676

Status : Answered

Chosen Option : 2

Q.22 एक ग्राहक ₹975 का भुगतान किस्तों में करता है। हर महीने, पिछले महीने की तुलना में ₹5 कम का भुगतान किया जाता है। यदि पहली किस्त ₹100 है, तो पूरी राशि का भुगतान करने में कितना समय लगेगा?

- Ans
- 1. 26 महीने
  - 2. 27 महीने
  - 3. 14 महीने
  - 4. 15 महीने

Question ID : 630680135784

Option 1 ID : 630680525857

Option 2 ID : 630680525855

Option 3 ID : 630680525854

Option 4 ID : 630680525856

Status : Not Answered

Chosen Option : --

Q.23 4 cm त्रिज्या वाले एक वृत्त के केंद्र से 10 cm दूर स्थित एक बिंदु से खींची गई स्पर्श रेखा की लंबाई ज्ञात कीजिए।

- Ans
- 1.  $2\sqrt{21}$
  - 2.  $2\sqrt{14}$
  - 3.  $3\sqrt{21}$
  - 4.  $3\sqrt{14}$

Question ID : 630680195539

Option 1 ID : 630680758626

Option 2 ID : 630680758628

Option 3 ID : 630680758625

Option 4 ID : 630680758627

Status : Answered

Chosen Option : 1



**Q.24** एक नाव धारा की दिशा में 55 km की दूरी 5 घंटे में तय करती है जबकि धारा के विपरीत दिशा में समान दूरी को तय करने में उसे 11 घंटे लगते हैं। नाव की चाल क्या है?

- Ans**
- 1. 7 km/h
  - 2. 11 km/h
  - 3. 9 km/h
  - 4. 8 km/h

Question ID : 630680428674

Option 1 ID : 6306801672740

Option 2 ID : 6306801672743

Option 3 ID : 6306801672742

Option 4 ID : 6306801672741

Status : Answered

Chosen Option : 4

**Q.25** निम्नलिखित तालिका एक विद्यालय में विभिन्न कक्षाओं में छात्रों की कुल संख्या और शाकाहारी छात्रों की संबंधित संख्या को दर्शाती है। तालिका का ध्यानपूर्वक अध्ययन कीजिए और निम्नलिखित प्रश्न का उत्तर दीजिए।

कक्षा	छात्रों की कुल संख्या	शाकाहारी छात्रों की संख्या
XII	150	105
XI	165	100
X	125	80
IX	140	90

कक्षा XII में शाकाहारी छात्रों का प्रतिशत कितना है?

- Ans**
- 1. 40%
  - 2. 25%
  - 3. 30%
  - 4. 35%

Question ID : 630680428193

Option 1 ID : 6306801670819

Option 2 ID : 6306801670816

Option 3 ID : 6306801670817

Option 4 ID : 6306801670818

Status : Answered

Chosen Option : 3

Section : English Comprehension

Q.1 Select the most appropriate ANTONYM of the given word.  
Lethargic

- Ans  1. Angry  
 2. Moderate  
 3. Languid  
 4. Active

Question ID : 630680396860  
Option 1 ID : 6306801547508  
Option 2 ID : 6306801547511  
Option 3 ID : 6306801547509  
Option 4 ID : 6306801547510  
Status : Answered  
Chosen Option : 4

Q.2 Select the most appropriate synonym of the given word.  
Dissipate

- Ans  1. Malicious  
 2. Spend  
 3. Glorious  
 4. Haste

Question ID : 630680295219  
Option 1 ID : 6306801148602  
Option 2 ID : 6306801148600  
Option 3 ID : 6306801148603  
Option 4 ID : 6306801148601  
Status : Answered  
Chosen Option : 1

Q.3 Parts of a sentence are given below in jumbled order. Select the option that arranges the parts in the correct sequence to form a meaningful sentence.  
(P) unlock their potential  
(Q) empowers individuals to  
(O) and shape their future  
(R) the power of education

- Ans  1. QROP  
 2. RPOQ  
 3. OPRQ  
 4. RQPO

Question ID : 630680380981  
Option 1 ID : 6306801484913  
Option 2 ID : 6306801484914  
Option 3 ID : 6306801484912  
Option 4 ID : 6306801484911  
Status : Answered  
Chosen Option : 4



Q.4 Select the option with the correct use of future tense.

- Ans  1. By next December, I will have been completed six years in this home.  
 2. By next December, I will have complete six years in this home.  
 3. By next December, I will have completed six years in this home.  
 4. By next December, I will be completed six years in this home.

Question ID : 630680199573  
Option 1 ID : 630680773899  
Option 2 ID : 630680773900  
Option 3 ID : 630680773901  
Option 4 ID : 630680773902  
Status : Answered  
Chosen Option : 4

Q.5 Select the most appropriate ANTONYM of the underlined word in the given sentence.  
Her behaviour was so ostentatious that it attracted the attention of everyone in the room.

- Ans  1. Attractive  
 2. Gentle  
 3. Restrained  
 4. Repulsive

Question ID : 630680383234  
Option 1 ID : 6306801493844  
Option 2 ID : 6306801493846  
Option 3 ID : 6306801493843  
Option 4 ID : 6306801493845  
Status : Answered  
Chosen Option : 2

Q.6 The following sentence has been divided into four segments. Identify the segment that contains an error.  
Mr. Suman / asked me / to pack / my luggages.

- Ans  1. Mr. Suman  
 2. asked me  
 3. my luggages.  
 4. to pack

Question ID : 630680206717  
Option 1 ID : 630680801467  
Option 2 ID : 630680801468  
Option 3 ID : 630680801470  
Option 4 ID : 630680801469  
Status : Answered  
Chosen Option : 3





Q.7 Select the most appropriate ANTONYM of the underlined word in the following sentence.

The teammates made several jibes at the opponent team members during the interview.

- Ans
- 1. Consolation
  - 2. Inspiration
  - 3. Contradict
  - 4. Mockery

Question ID : 630680344232  
Option 1 ID : 6306801339243  
Option 2 ID : 6306801339242  
Option 3 ID : 6306801339244  
Option 4 ID : 6306801339241  
Status : Answered  
Chosen Option : 2

Q.8 Select the most appropriate ANTONYM of the underlined word. Her remarks were relevant to the discussion.

- Ans
- 1. Suitable
  - 2. Introductory
  - 3. Inappropriate
  - 4. Conclusive

Question ID : 630680401251  
Option 1 ID : 6306801564825  
Option 2 ID : 6306801564828  
Option 3 ID : 6306801564826  
Option 4 ID : 6306801564827  
Status : Answered  
Chosen Option : 3

Q.9 Select the most appropriate meaning of the underlined idiom in the following sentence.

Sejal visits the nearby temple off and on.

- Ans
- 1. Periodically
  - 2. Regularly
  - 3. Continuously
  - 4. Constantly

Question ID : 630680316703  
Option 1 ID : 6306801231990  
Option 2 ID : 6306801231989  
Option 3 ID : 6306801231992  
Option 4 ID : 6306801231991  
Status : Answered  
Chosen Option : 1



**Q.10** Select the most appropriate option that can substitute the underlined words in the given sentence.

Ranjith failed in all his exams as he had been addicted of social media.

- Ans
- 1. as he had been addicted at
  - 2. as he had been addicted to
  - 3. as he had been addicted on
  - 4. as he had been addicted in

Question ID : 630680182090  
Option 1 ID : 630680705585  
Option 2 ID : 630680705583  
Option 3 ID : 630680705584  
Option 4 ID : 630680705582  
Status : Answered  
Chosen Option : 2

**Q.11** Select the most appropriate option to substitute the underlined segment in the given sentence.

Athens was suffering under the rule of a powerful small group that had no concern for the people's welfare.

- Ans
- 1. a missionary
  - 2. a monarchy
  - 3. an oligarchy
  - 4. a democracy

Question ID : 630680170444  
Option 1 ID : 630680660369  
Option 2 ID : 630680660371  
Option 3 ID : 630680660370  
Option 4 ID : 630680660372  
Status : Answered  
Chosen Option : 3

**Q.12** Select the option that can be used as a one-word substitute for the given group of words.

The evening time when the sun has just set and it is almost dark.

- Ans
- 1. Dawn
  - 2. Day break
  - 3. Night
  - 4. Dusk

Question ID : 630680158479  
Option 1 ID : 630680613440  
Option 2 ID : 630680613442  
Option 3 ID : 630680613441  
Option 4 ID : 630680613443  
Status : Answered  
Chosen Option : 4



**Q.13** Select the most appropriate meaning of the underlined idiom.  
This year's budget is unlikely to pass as law since the president's proposed budgets typically face a jaundiced eye but this one has gotten even more scepticism.

- Ans  1. Resentment  
 2. Good will  
 3. Confidence  
 4. Jealousy

Question ID : 630680136390  
Option 1 ID : 630680528208  
Option 2 ID : 630680528207  
Option 3 ID : 630680528209  
Option 4 ID : 630680528206  
Status : Answered  
Chosen Option : 1

**Q.14** Select the option that expresses the following sentence in passive voice.

The baker baked the cake.

- Ans  1. The cake has been baked by the baker.  
 2. The cake had been baked by the baker.  
 3. The cake was baked by the baker  
 4. The baker has been baking the cake.

Question ID : 630680415238  
Option 1 ID : 6306801619700  
Option 2 ID : 6306801619701  
Option 3 ID : 6306801619702  
Option 4 ID : 6306801619699  
Status : Answered  
Chosen Option : 3

**Q.15** Select the correct spelling to fill in the blank.

I often fail to \_\_\_\_\_ remember someone's name.

- Ans  1. acusatively  
 2. accurately  
 3. accuratially  
 4. accuriately

Question ID : 630680409978  
Option 1 ID : 6306801598743  
Option 2 ID : 6306801598741  
Option 3 ID : 6306801598744  
Option 4 ID : 6306801598742  
Status : Answered  
Chosen Option : 2



**Q.16 Select the most appropriate synonym of the given word.**

**Dodge**

- Ans**  1. Force  
 2. Avoid  
 3. Amount  
 4. Boarding

Question ID : 630680360817  
Option 1 ID : 6306801405144  
Option 2 ID : 6306801405141  
Option 3 ID : 6306801405142  
Option 4 ID : 6306801405143  
Status : Answered  
Chosen Option : 1

**Q.17 Select the sentence that is expressed in passive voice.**

- Ans**  1. Children are participating in sand-art competition.  
 2. I prefer tea to coffee.  
 3. The consignment was delivered yesterday.  
 4. She sketches beautifully.

Question ID : 630680415161  
Option 1 ID : 6306801619391  
Option 2 ID : 6306801619394  
Option 3 ID : 6306801619392  
Option 4 ID : 6306801619393  
Status : Answered  
Chosen Option : 3

**Q.18 Select the most appropriate option that can rectify the incorrectly spelt word in the following sentence.**

**I doubt that these lifts can acommodate 100 people.**

- Ans**  1. acomodate  
 2. accommodate  
 3. accomodatte  
 4. accomodate

Question ID : 630680360093  
Option 1 ID : 6306801402319  
Option 2 ID : 6306801402318  
Option 3 ID : 6306801402320  
Option 4 ID : 6306801402317  
Status : Answered  
Chosen Option : 2



**Q.19** Select the most appropriate option to substitute the underlined segment in the given sentence.

The cynical investors believed in every word the analysts said.

- Ans
- 1. persuasive
  - 2. credulous
  - 3. credible
  - 4. distrustful

Question ID : 630680176816  
Option 1 ID : 630680685476  
Option 2 ID : 630680685477  
Option 3 ID : 630680685478  
Option 4 ID : 630680685479  
Status : Answered  
Chosen Option : 4

**Q.20** Select the option that can be used as a one-word substitute for the given group of words.

A place to park aeroplanes

- Ans
- 1. Shed
  - 2. Hangar
  - 3. Hanger
  - 4. Depot

Question ID : 630680114213  
Option 1 ID : 630680442256  
Option 2 ID : 630680442254  
Option 3 ID : 630680442255  
Option 4 ID : 630680442257  
Status : Answered  
Chosen Option : 2

**Comprehension:**

In the following passage, some words have been deleted. Read the passage carefully and select the most appropriate option to fill in each blank.

The Human Development Index (HDI) is a summary (1) \_\_\_\_\_ of average accomplishment in important areas of human development, (2) \_\_\_\_\_ living a long and healthy life, being informed and having a good quality of living. The HDI is the geometric mean of the normalised (3) \_\_\_\_\_ for each dimension. The health component is (4) \_\_\_\_\_ by life expectancy at birth, while the education dimension is measured by the average number of years of schooling for individuals aged 25 and above, as well as the (5) \_\_\_\_\_ number of years of schooling for school-age children.

**SubQuestion No : 21**

**Q.21** Select the most appropriate answer for blank number 1.

- Ans
- 1. collect
  - 2. involvement
  - 3. regiment
  - 4. assessment

Question ID : 630680147707  
Option 1 ID : 630680571562  
Option 2 ID : 630680571565  
Option 3 ID : 630680571564  
Option 4 ID : 630680571563  
Status : Answered  
Chosen Option : 4

**Comprehension:**

In the following passage, some words have been deleted. Read the passage carefully and select the most appropriate option to fill in each blank.

The Human Development Index (HDI) is a summary (1) \_\_\_\_\_ of average accomplishment in important areas of human development, (2) \_\_\_\_\_ living a long and healthy life, being informed and having a good quality of living. The HDI is the geometric mean of the normalised (3) \_\_\_\_\_ for each dimension. The health component is (4) \_\_\_\_\_ by life expectancy at birth, while the education dimension is measured by the average number of years of schooling for individuals aged 25 and above, as well as the (5) \_\_\_\_\_ number of years of schooling for school-age children.

**SubQuestion No : 22**

**Q.22** Select the most appropriate answer for blank number 2.

- Ans**  1. including  
 2. segregating  
 3. exaggerating  
 4. manifesting

Question ID : **630680147708**

Option 1 ID : **630680571569**

Option 2 ID : **630680571568**

Option 3 ID : **630680571566**

Option 4 ID : **630680571567**

Status : **Answered**

Chosen Option : **4**

**Comprehension:**

In the following passage, some words have been deleted. Read the passage carefully and select the most appropriate option to fill in each blank.

The Human Development Index (HDI) is a summary (1) \_\_\_\_\_ of average accomplishment in important areas of human development, (2) \_\_\_\_\_ living a long and healthy life, being informed and having a good quality of living. The HDI is the geometric mean of the normalised (3) \_\_\_\_\_ for each dimension. The health component is (4) \_\_\_\_\_ by life expectancy at birth, while the education dimension is measured by the average number of years of schooling for individuals aged 25 and above, as well as the (5) \_\_\_\_\_ number of years of schooling for school-age children.

**SubQuestion No : 23**

**Q.23** Select the most appropriate answer for blank number 3.

- Ans**  1. indices  
 2. glimpses  
 3. contents  
 4. features

Question ID : **630680147709**

Option 1 ID : **630680571570**

Option 2 ID : **630680571573**

Option 3 ID : **630680571572**


Option 4 ID : **630680571571**

Status : **Answered**

Chosen Option : **1**



# कर्मचारी चयन आयोग (CGL) परीक्षा अध्ययन सामग्री



FREE SHIPPING

- ▶ 100% Syllabus Covered
- ▶ 9 Books, 1000+ Pages - PRINT COPY
- ▶ 3000+ MCQs - PRINT COPY
- ▶ 08 Year Solved Papers & Mock Tests (PDF Copy)
- ▶ One Year Current Affairs (PDF Copy)

हिन्दी माध्यम

50% OFF

SSCPORTAL.IN

# SSC CGL HINDI PDF NOTES

100% Syllabus | 1,000+ Pages



CLICK HERE

<https://sscportal.in/study-kit/cgl/tier-1-hindi>

**Comprehension:**

In the following passage, some words have been deleted. Read the passage carefully and select the most appropriate option to fill in each blank.

The Human Development Index (HDI) is a summary (1) \_\_\_\_\_ of average accomplishment in important areas of human development, (2) \_\_\_\_\_ living a long and healthy life, being informed and having a good quality of living. The HDI is the geometric mean of the normalised (3) \_\_\_\_\_ for each dimension. The health component is (4) \_\_\_\_\_ by life expectancy at birth, while the education dimension is measured by the average number of years of schooling for individuals aged 25 and above, as well as the (5) \_\_\_\_\_ number of years of schooling for school-age children.

**SubQuestion No : 24**

**Q.24** Select the most appropriate answer for blank number 4.

- Ans**  1. measured  
 2. escaped  
 3. levitated  
 4. triggered

Question ID : **630680147710**

Option 1 ID : **630680571575**

Option 2 ID : **630680571576**

Option 3 ID : **630680571577**

Option 4 ID : **630680571574**

Status : **Answered**

Chosen Option : **1**

**Comprehension:**

In the following passage, some words have been deleted. Read the passage carefully and select the most appropriate option to fill in each blank.

The Human Development Index (HDI) is a summary (1) \_\_\_\_\_ of average accomplishment in important areas of human development, (2) \_\_\_\_\_ living a long and healthy life, being informed and having a good quality of living. The HDI is the geometric mean of the normalised (3) \_\_\_\_\_ for each dimension. The health component is (4) \_\_\_\_\_ by life expectancy at birth, while the education dimension is measured by the average number of years of schooling for individuals aged 25 and above, as well as the (5) \_\_\_\_\_ number of years of schooling for school-age children.

**SubQuestion No : 25**

**Q.25** Select the most appropriate answer for blank number 5.

- Ans**  1. hypnotised  
 2. predicted  
 3. accompanied  
 4. neglected

Question ID : **630680147711**

Option 1 ID : **630680571578**

Option 2 ID : **630680571581**

Option 3 ID : **630680571580**

Option 4 ID : **630680571579**

Status : **Answered**

Chosen Option : **2**

