

Combined Graduate level Examination 2023 Tier I

| | |
|----------------|---|
| Roll Number | |
| Candidate Name | |
| Venue Name | |
| Exam Date | 20/07/2023 |
| Exam Time | 2:30 PM - 3:30 PM |
| Subject | Combined Graduate Level Examination Tier I 2023 |

Section : **General Intelligence and Reasoning**

Q.1 उस विकल्प का चयन कीजिए, जो दिए गए शब्दों के ऐसे सही क्रम का निरूपण करता है, जैसे वे अंग्रेजी शब्दकोश में दिखेंगे।

1. Penguins
2. Pendants
3. Penthouse
4. Pendulum
5. Pentagon
6. Penalize

Ans ✓ 1. 6, 2, 4, 1, 5, 3

✗ 2. 4, 2, 6, 1, 3, 5

✗ 3. 6, 4, 2, 1, 5, 3

✗ 4. 6, 2, 4, 1, 3, 5

Question ID : 264330132178

Status : **Answered**

Chosen Option : 1

Q.2 दिए गए संख्या युग्मों की दूसरी संख्या, पहली संख्या पर एक निश्चित गणितीय संक्रिया करके प्राप्त की गई है। किसी एक संख्या युग्म को छोड़कर शेष सभी संख्या युग्मों पर वही गणितीय संक्रिया की गई है। असंगत संख्या युग्म का चयन कीजिए।

Ans ✗ 1. 19 : 363

✗ 2. 7 : 51

✓ 3. 3 : 17

✗ 4. 13 : 171

Question ID : 264330143692

Status : **Answered**

Chosen Option : 3

Q.3 इस प्रश्न में तीन कथन दिए गए हैं, जिसके बाद दो निष्कर्ष I और II दिए गए हैं। कथनों को सत्य मानते हुए, भले ही वे सामान्य रूप से ज्ञात तथ्यों से भिन्न प्रतीत होते हों, निर्णय लें कि कौन-सा/से निष्कर्ष कथनों का तार्किक रूप से अनुसरण करता है/अनुसरण करते हैं।

कथन:

सभी क्रिकेटर अमीर हैं।

कुछ अमीर भारतीय हैं।

सभी भारतीय ईमानदार हैं।

निष्कर्ष:

I. सभी भारतीय क्रिकेटर हैं।

II. कुछ क्रिकेटर ईमानदार हैं।

Ans ✗ 1. केवल निष्कर्ष II अनुसरण करता है।

✗ 2. निष्कर्ष I और II दोनों अनुसरण करते हैं।

✗ 3. केवल निष्कर्ष I अनुसरण करता है।

✓ 4. न तो निष्कर्ष I और न ही II अनुसरण करता है।

Question ID : 26433078904

Status : **Answered**

Chosen Option : 4



Download SSC CGL, CHSL E-BOOKS

[CLICK HERE](#)

Q.4 किसी निश्चित कूट भाषा में, 'BACKED' को 'GHNFD E' के रूप में कूटबद्ध किया जाता है और 'CLOSER' को 'UHVROF' के रूप में कूटबद्ध किया जाता है। उसी भाषा में 'JUNIOR' को किस प्रकार कूटबद्ध किया जाएगा?

- Ans 1. URLQXM
 2. TRMQYM
 3. VSNRYN
 4. USMRYN

Question ID : 264330131986
Status : Answered
Chosen Option : 1

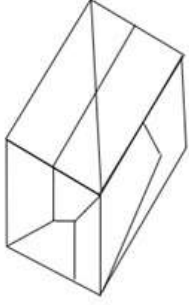
Q.5 यदि,
'B% D' का अर्थ है 'B, D का भाई है',
'B & D' का अर्थ है 'B, D की मां है',
'B × D' का अर्थ है 'B, D का पति है',
'B # D' का अर्थ है 'B, D की बहन है',
'B \$ D' का अर्थ है 'B, D का बेटा है',
'B @ D' का अर्थ है 'B, D का पिता है',
तो निम्नलिखित में से कौन सा विकल्प दिए गए व्यंजक के संबंध में सही है?
S & Z \$ F % B % E @ G

- Ans 1. S, G की मां है।
 2. Z, E के भाई का पुत्र है।
 3. E, F की बहन है।
 4. B, Z का मामा है।


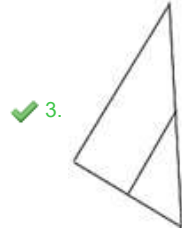
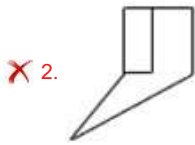
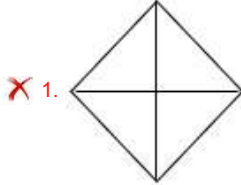
Question ID : 264330142942
Status : Answered
Chosen Option : 2



Q.6 उस विकल्प आकृति का चयन कीजिए जो दी गई आकृति में सन्नहित है (घूर्णन की अनुमति नहीं है)।



Ans



Question ID : 26433097263

Status : Answered

Chosen Option : 2

Q.7 उस विकल्प का चयन करें जो उन अक्षरों का प्रतिनिधित्व करता है, जिन्हें नीचे दिए गए रिक्त स्थानों में क्रमिक रूप से बाएं से दाएं रखे जाने पर अक्षर श्रृंखला पूर्ण हो जाएगी।

__SRDAT__DA__SR__TS__D

Ans ✗ 1. ATSRDTAR

✗ 2. ATSRTADR

✗ 3. ASRTTDAR

✓ 4. ATSRTDAR

Question ID : 26433090004

Status : Answered

Chosen Option : 4



Download SSC CGL, CHSL E-BOOKS

CLICK HERE

Q.8 निम्नलिखित संख्या श्रृंखला में प्रश्न-चिह्न (?) के स्थान पर कौन-सी संख्या आएगी?
5475, 1100, 225, 50, ?, 8, 6.6

- Ans**
- 1. 25
 - 2. 30
 - 3. 20
 - 4. 15

Question ID : **26433090122**
Status : **Not Answered**
Chosen Option : --

Q.9 एक निश्चित कूट भाषा में, यदि 'DGOUT' को '25131918' और 'RCQFM' को '16115411' के रूप में लिखा जाता है, तो उसी कूट भाषा में 'OVHPI' को किस प्रकार लिखा जाएगा?

- Ans**
- 1. 13206147
 - 2. 13196149
 - 3. 11186048
 - 4. 12196247

Question ID : **264330126653**
Status : **Answered**
Chosen Option : 1

Q.10 दिए गए पैटर्न का ध्यानपूर्वक अध्ययन कीजिए और उस संख्या का चयन कीजिए जो उसमें प्रश्नवाचक चिह्न (?) को प्रतिस्थापित कर सकती है।

(4, 2, 18)
(1, 7, 24)
(5, 4, ?)

(नोट: संख्याओं को उसके घटक अंकों में विभाजित किए बिना, पूर्ण संख्याओं पर ही गणितीय संक्रियाएँ की जानी चाहिए। जैसे 13 - मान लीजिए 13 पर गणितीय संक्रियाएँ जैसे कि 13 में जोड़ना/घटाना/गुणा करना आदि किया जा सकता है। 13 को 1 और 3 में तोड़कर और फिर 1 और 3 पर गणितीय संक्रियाएँ करने की अनुमति नहीं है।)

- Ans**
- 1. 24
 - 2. 19
 - 3. 27
 - 4. 18

Question ID : **26433082454**
Status : **Answered**
Chosen Option : 3

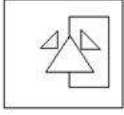
Q.11 * चिह्नों को क्रमिक रूप से बदलने और दिए गए समीकरण को संतुलित करने के लिए गणितीय चिह्नों के सही संयोजन का चयन कीजिए।

$16 * 31 * 18 * 2 * 11 * 494$

- Ans**
- 1. +, -, ÷, ×, =
 - 2. -, ×, +, ÷, =
 - 3. ×, +, ÷, -, =
 - 4. ÷, +, -, ×, =

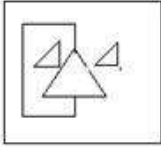
Question ID : **264330123254**
Status : **Answered**
Chosen Option : 3

Q.12 दर्पण को आकृति के दाईं ओर रखे जाने पर, दी गई आकृति का सही दर्पण प्रतिबिंब चयन करें।

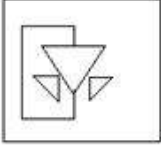


Ans

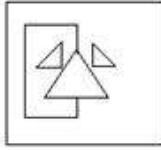
✗ 1.



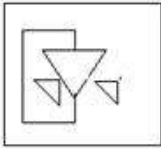
✗ 2.



✓ 3.



✗ 4.



Question ID : 26433068187

Status : Answered

Chosen Option : 3

Q.13 दिए गए विकल्पों में से उस संख्या का चयन करें जो निम्नलिखित श्रृंखला में प्रश्न चिह्न (?) के स्थान पर आ सकती है।
17, 24, 38, 59, 87, ?

Ans

✗ 1. 137

✓ 2. 122

✗ 3. 109

✗ 4. 117

Question ID : 264330106288

Status : Answered


Chosen Option : 2



Download SSC CGL, CHSL E-BOOKS

CLICK HERE

कर्मचारी चयन आयोग (CGL) परीक्षा अध्ययन सामग्री



FREE SHIPPING

- ▶ 100% Syllabus Covered
- ▶ 9 Books, 1000+ Pages - PRINT COPY
- ▶ 3000+ MCQs - PRINT COPY
- ▶ 08 Year Solved Papers & Mock Tests (PDF Copy)
- ▶ One Year Current Affairs (PDF Copy)

हिन्दी माध्यम

50% OFF

SSCPORTAL.IN

SSC CGL HINDI PDF NOTES

100% Syllabus | 1,000+ Pages



CLICK HERE

<https://sscportal.in/study-kit/cgl/tier-1-hindi>

Q.14 निम्नलिखित में से कौन-सी आकृति दी गई श्रृंखला में 5वें स्थान पर रखे जाने पर पहली चार आकृतियों द्वारा निर्मित श्रृंखला को जारी रखेगी?

| | | | |
|-------|-------|-------|-------|
| ○ ○ ○ | ○ ○ ○ | X ○ ○ | ○ ○ X |
| ○ ○ ○ | ○ ○ ○ | ○ ○ ○ | ○ ○ ○ |
| ○ ○ X | X ○ ○ | ○ ○ ○ | ○ ○ ○ |

Ans

✓ 1.

| |
|-------|
| ○ ○ ○ |
| ○ ○ ○ |
| ○ ○ X |

✗ 2.

| |
|-------|
| ○ ○ ○ |
| ○ ○ ○ |
| X ○ ○ |

✗ 3.

| |
|-------|
| X ○ ○ |
| ○ ○ ○ |
| ○ ○ ○ |

✗ 4.

| |
|-------|
| ○ ○ X |
| ○ ○ ○ |
| ○ ○ ○ |

Question ID : 26433087300

Status : Answered

Chosen Option : 1



Download SSC CGL, CHSL E-BOOKS

CLICK HERE

Q.15 उस आकृति का चयन कीजिए, जो नीचे दी गई आकृति शृंखला में प्रश्न-चिह्न (?) को प्रतिस्थापित करेगी।

| | | | | | | | | | | | | | | | | |
|---|---|---|---|---|---|---|---|---|---|---|---|---|---|---|---|---|
| S | X | △ | T | ☆ | △ | X | S | △ | X | S | ☆ | L | S | X | △ | |
| 8 | | □ | | 2 | | Z | | 8 | Z | | | Z | | 2 | | |
| 2 | | Z | | 8 | | □ | Z | 2 | □ | | | □ | | 8 | | |
| ☆ | B | L | ○ | ○ | L | B | T | L | B | T | ○ | ○ | T | B | ☆ | ? |

Ans

✗ 1.

| | | | |
|---|---|---|---|
| △ | L | S | X |
| 8 | | | □ |
| 2 | | | Z |
| ☆ | ○ | T | B |

✗ 2.

| | | | |
|---|---|---|---|
| Z | L | S | X |
| □ | | | △ |
| ○ | | | 2 |
| T | B | ☆ | 8 |

✓ 3.

| | | | |
|---|---|---|---|
| S | X | △ | L |
| 8 | | | □ |
| 2 | | | Z |
| T | B | ☆ | ○ |

✗ 4.

| | | | |
|---|---|---|---|
| ○ | X | S | ☆ |
| □ | | | 2 |
| Z | | | 8 |
| L | B | T | △ |

Question ID : 264330143830

Status : Answered

Chosen Option : 3

Q.16 एक निश्चित कूट भाषा में, "DEAF" को "4516" लिखा जाता है और "KILL" को "1191212" लिखा जाता है। इसी कूट भाषा में "LORD" को कैसे लिखा जाएगा?

Ans ✗ 1. 1116641

✓ 2. 1215184

✗ 3. 1014145

✗ 4. 1114166

Question ID : 264330130323

Status : Answered

Chosen Option : 2



Q.17 रिक्त, 'खाली' से उसी प्रकार संबंधित है जिस प्रकार 'शून्य' ' _____ ' से संबंधित है।

- Ans
- 1. अपवंचन/परिहार
 - 2. अंडाकार
 - 3. पूर्ण
 - 4. निर्वात

Question ID : 264330102304

Status : Answered

Chosen Option : 4

Q.18 उस विकल्प का चयन कीजिए जो पाँचवीं संख्या से उसी प्रकार संबंधित है जिस प्रकार दूसरी संख्या पहली संख्या से संबंधित है और चौथी संख्या तीसरी संख्या से संबंधित है।
192 : 24 :: 48 : 12 :: 432 : ?

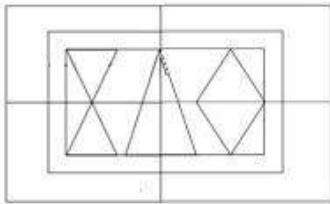
- Ans
- 1. 48
 - 2. 32
 - 3. 36
 - 4. 42

Question ID : 26433085821

Status : Answered

Chosen Option : 3

Q.19 उस विकल्प आकृति का चयन करें जो दी गई आकृति में सन्निकित है। (आकृति को घुमाने की अनुमति नहीं है)।



Ans

- 1.
- 2.
- 3.
- 4.

Question ID : 26433089780

Status : Answered

Chosen Option : 1



Download SSC CGL, CHSL E-BOOKS

[CLICK HERE](#)

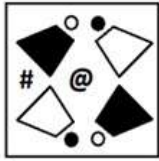
Q.20 निम्नलिखित में से कौन-सा अक्षर-समूह दी गई श्रृंखला में प्रश्नवाचक-चिह्न(?) का स्थान लेगा?
DMHR, AJEO, XGBL, ?, RAVF

- Ans
- 1. UCYI
 - 2. UDYI
 - 3. UDXI
 - 4. YDYH

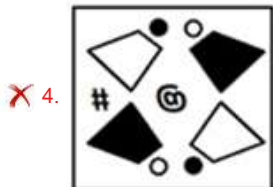
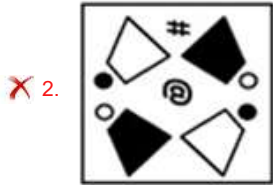
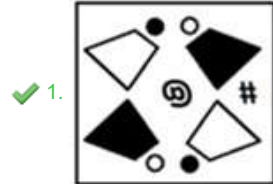
Question ID : 26433056126
Status : Answered
Chosen Option : 2

Q.21 जब दर्पण को दाहिनी ओर रखा जाता है, तो कौन-सी उत्तर आकृति दी गई प्रश्न आकृति का सटीक दर्पण प्रतिबिम्ब होगी?

प्रश्न आकृति:



Ans



Question ID : 26433067399
Status : Answered
Chosen Option : 1



Download SSC CGL, CHSL E-BOOKS

[CLICK HERE](#)

Q.22 P, M, Z, A और L पाँच सदस्यों वाले एक परिवार का हिस्सा हैं और L को छोड़कर सभी महिलाएँ हैं। Z और L वैवाहिक संबंध में हैं और P, M और A उनके बच्चे हैं। M, Z से किस प्रकार संबंधित है?

- Ans**
- 1. पत्नी
 - 2. माता
 - 3. पुत्री
 - 4. पोती/नतिनी

Question ID : **264330118659**
 Status : **Answered**
 Chosen Option : **3**

Q.23 उस विकल्प का चयन कीजिए जो पाँचवें पद से उसी प्रकार संबंधित है जिस प्रकार दूसरा पद, पहले पद से संबंधित है और चौथा पद, तीसरे पद से संबंधित है।
 32 : 8 :: 72 : 12 :: 128 : ?

- Ans**
- 1. 15
 - 2. 18
 - 3. 14
 - 4. 16

Question ID : **26433082869**
 Status : **Answered**
 Chosen Option : **4**

Q.24 उस विकल्प का चयन करें जो तीसरे शब्द से उसी प्रकार संबंधित है जिस प्रकार दूसरा शब्द पहले शब्द से संबंधित है। (शब्दों को अर्थपूर्ण अंग्रेजी/हिन्दी शब्दों के रूप में माना जाना चाहिए और इन्हें शब्द में अक्षरों की संख्या/व्यंजनों की संख्या/स्वरों की संख्या के आधार पर एक-दूसरे से संबद्ध नहीं किया जाना चाहिए।)
 स्कूल : प्राचार्य :: जेल : ?

- Ans**
- 1. जेलर
 - 2. चिकित्सक
 - 3. अभियंता
 - 4. प्लंबर

Question ID : **26433087269**
 Status : **Answered**
 Chosen Option : **1**

Q.25 यदि '+' का अर्थ 'घटाना' है, '-' का अर्थ 'गुणा करना' है, '÷' का अर्थ 'जोड़ना' है और '×' का अर्थ 'भाग देना' है, तो निम्नलिखित व्यंजक का मान ज्ञात कीजिए।
 23 - 31 + 135 × 15 ÷ 16

- Ans**
- 1. 720
 - 2. 794
 - 3. 680
 - 4. 698

Question ID : **264330133154**
 Status : **Answered**
 Chosen Option : **1**

Section : **General Awareness**

Q.1 मेघालय के पठार, सह्याद्री और निकोबार समूह के मध्य और दक्षिणी द्वीपों में किस प्रकार की वनस्पति पाई जाती है?

- Ans
- 1. शुष्क उष्णकटिबंधीय पर्णपाती वनस्पति
 - 2. नम उष्णकटिबंधीय अर्ध-सदाबहार वनस्पति
 - 3. अल्पाइन वनस्पति
 - 4. शुष्क उष्णकटिबंधीय काँटेदार वनस्पति

Question ID : 264330111338
Status : Not Answered
Chosen Option : --

Q.2 मौर्यकालीन पुस्तक अर्थशास्त्र की रचना किसने की थी?

- Ans
- 1. विष्णु गुप्ता
 - 2. चंद्रगुप्त मौर्य
 - 3. भानुगुप्त
 - 4. बिन्दुसार

Question ID : 264330114022
Status : Answered
Chosen Option : 2

Q.3 वस्तु एवं सेवा कर _____ का एक उदाहरण है।

- Ans
- 1. अंतरण भुगतान
 - 2. अप्रत्यक्ष कर
 - 3. कर्मचारियों को मुआवजा
 - 4. प्रत्यक्ष कर

Question ID : 264330109374
Status : Answered
Chosen Option : 2

Q.4 निम्नलिखित में से कौन ओलंपिक के लिए क्वालीफाई करने वाली पहली भारतीय महिला नाविक बनीं, जब उन्होंने टोक्यो 2020 ओलंपिक के लिए क्वालीफाई किया?

- Ans
- 1. भवानी देवी
 - 2. नेत्रा कुमानन
 - 3. मनु भाकर
 - 4. माना पटेल

Question ID : 26433054459
Status : Not Answered
Chosen Option : --

Q.5 टीला, सेती और बेरी किस नदी की सहायक नदियां हैं?

- Ans
- 1. माही
 - 2. तमसा
 - 3. घाघरा
 - 4. साबरमती

Question ID : 264330110107
Status : Not Answered
Chosen Option : --



Q.6 निम्नलिखित में से INC के किस नेता ने दूसरे गोलमेज सम्मेलन में भाग लिया?

- Ans
- 1. सुचेता कृपलानी
 - 2. सुभाष चंद्र बोस
 - 3. महात्मा गांधी
 - 4. जवाहर लाल नेहरू

Question ID : 264330111407

Status : Answered

Chosen Option : 3

Q.7 36वें राष्ट्रीय खेलों का आयोजन _____ द्वारा किया गया था।

- Ans
- 1. महाराष्ट्र
 - 2. हरियाणा
 - 3. गुजरात
 - 4. कर्नाटक

Question ID : 264330109702

Status : Not Answered

Chosen Option : --

Q.8 मेन्डरीना किस सीलेंटेटा जंतु का सामान्य (जेनेरिक) नाम है, जिसके नरम, ट्यूब के आकार के शरीर होते हैं, जो बड़े समूहों में एक साथ रहते हैं?

- Ans
- 1. मेडुसा
 - 2. सी-एनीमोन
 - 3. ब्रेन कोरल
 - 4. सी-फैन

Question ID : 264330110069

Status : Not Answered

Chosen Option : --

Q.9 बांग्लादेश में सहायक नदियों सहित नदियों की कुल संख्या कितनी है?

- Ans
- 1. लगभग 700
 - 2. लगभग 800
 - 3. लगभग 500
 - 4. लगभग 1000

Question ID : 26433074151

Status : Not Answered

Chosen Option : --

Q.10 15 अगस्त, 2022 को, भारत ने ब्रिटिश शासन से अपना _____ स्वतंत्रता दिवस मनाया।

- Ans
- 1. 72वाँ
 - 2. 73वाँ
 - 3. 77वाँ
 - 4. 76वाँ

Question ID : 264330114306

Status : Answered

Chosen Option : 2



Q.11 निम्नलिखित में से कौन-सा एक अत्यधिक स्थिर आणविक संरचना वाला कृत्रिम फ्लोरीनिकृत यौगिक है, जिसे अब तक की सबसे शक्तिशाली ग्रीनहाउस गैस के रूप में जाना जाता है?

- Ans
- 1. सल्फर हेक्साफ्लोराइड
 - 2. सोडियम मोनोफ्लोरोफॉस्फेट
 - 3. कैल्शियम फ्लोराइड
 - 4. हाइड्रोजन फ्लोराइड

Question ID : 264330110049
Status : Not Answered
Chosen Option : --

Q.12 निम्नलिखित में से किस संगठन के माध्यम से एनी बेसेंट ने प्राचीन भारतीय धर्मों, दर्शन और सिद्धांतों के अध्ययन को बढ़ावा दिया?

- Ans
- 1. परमहंस मंडली
 - 2. प्रार्थना समाज
 - 3. थियोसोफिकल सोसायटी
 - 4. आर्य समाज

Question ID : 264330141526
Status : Not Answered
Chosen Option : --

Q.13 राज्य लोक सेवा आयोग के अध्यक्ष को _____ के आदेश द्वारा हटाया जा सकता है।

- Ans
- 1. प्रधानमंत्री
 - 2. राष्ट्रपति
 - 3. मुख्यमंत्री
 - 4. राज्यपाल

Question ID : 264330130683
Status : Answered
Chosen Option : 2

Q.14 भारत में पहली रेलवे लाइन 1853 में _____ से _____ तक शुरू की गई थी।

- Ans
- 1. बॉम्बे से कर्जत
 - 2. बॉम्बे से पूना
 - 3. बॉम्बे से पालघर
 - 4. बॉम्बे से ठाणे

Question ID : 264330109495
Status : Answered
Chosen Option : 4

Q.15 यदि किसी भारतीय नागरिक को गिरफ्तार कर लिया जाता है और बचाव के अधिकार से वंचित कर दिया जाता है, तो ऐसी स्थिति में भारतीय संविधान का कौन-सा अनुच्छेद राहत प्रदान कर सकता है?

- Ans
- 1. अनुच्छेद 23
 - 2. अनुच्छेद 24
 - 3. अनुच्छेद 22
 - 4. अनुच्छेद 25

Question ID : 264330110570
Status : Answered
Chosen Option : 3



Q.16 वर्ष 2015 में 35वें राष्ट्रीय खेलों का आयोजन कहाँ हुआ था?

- Ans
- 1. मुंबई
 - 2. पंजाब
 - 3. दिल्ली
 - 4. केरल

Question ID : 264330118433

Status : Not Answered

Chosen Option : --

Q.17 किस प्रकार के लिवरवॉर्ट छत्र के आकार की संरचनाएं बनाते हैं, जिनमें मुख्य युग्मकोद्भिद काय के ऊपर युग्मकधानियां बनती हैं और इन संरचनाओं के नीचे बीजाणुद्भिद विकसित होते हैं?

- Ans
- 1. फ्यूनेरिया
 - 2. मर्चेटिया
 - 3. स्फैग्रम
 - 4. पॉलीट्राइकम

Question ID : 26433055775

Status : Not Answered

Chosen Option : --

Q.18 पंचवर्षीय योजनाओं में, 'योजना अवकाश' की अवधि _____ के बीच थी।

- Ans
- 1. 1974-1979
 - 2. 1969-1974
 - 3. 1961-1966
 - 4. 1966-1969

Question ID : 264330109987

Status : Answered

Chosen Option : 4

Q.19 राष्ट्रीय नृत्य शिरोमणि पुरस्कार 2022, अपर्णा सतीशन को निम्नलिखित में से किस नृत्य शैली के लिए प्रदान किया गया था?

- Ans
- 1. कथकली
 - 2. कुचिपुड़ी
 - 3. ओडिसी
 - 4. भरतनाट्यम

Question ID : 26433055419

Status : Not Answered

Chosen Option : --

Q.20 फरवरी 2022 में दिल्ली उच्च न्यायालय ने भारतीय दंड संहिता (IPC) की धारा 375 में किस अपवाद को चुनौती देने वाली जनहित याचिकाओं (PILs) की एक श्रृंखला पर निर्णय सुरक्षित रखा?

- Ans
- 1. वैवाहिक बलात्कार
 - 2. आत्महत्या
 - 3. शारीरिक यातना
 - 4. दहेज हत्या

Question ID : 26433074183

Status : Not Answered

Chosen Option : --



Q.21 अगस्त 2021 में निम्नलिखित में से किसने 'उभरते सितारे फंड' को प्रायोजित किया था?

- Ans**
- 1. एचडीएफसी (HDFC)
 - 2. आईसीआईसीआई (ICICI) बैंक
 - 3. आईडीबीआई (IDBI) और एलआईसी (LIC)
 - 4. एक्विज़म बैंक और सिडबी (SIDBI)

Question ID : **26433082829**
Status : **Not Answered**
Chosen Option : --

Q.22 निम्नलिखित भारतीय संगीतकारों में से कौन 'पंचम दा' के नाम से जाने जाते हैं?

- Ans**
- 1. नितिन मुकेश
 - 2. किशोर कुमार
 - 3. सचिन देव बर्मन
 - 4. राहुल देव बर्मन

Question ID : **26433074122**
Status : **Not Answered**
Chosen Option : --

Q.23 'कलासम' भारत के निम्नलिखित में से किस शास्त्रीय नृत्य की एक नृत्य अनुक्रम है?

- Ans**
- 1. मणिपुरी
 - 2. भरतनाट्यम
 - 3. कथक
 - 4. कथकली

Question ID : **26433094866**
Status : **Not Answered**
Chosen Option : --

Q.24 निम्नलिखित में से कौन, कर्नाटक में कॉफ़ी के फूलों को खिलने में मदद करता है?

- Ans**
- 1. आम्र बौछार
 - 2. लू
 - 3. उत्तर पश्चिमी हवा
 - 4. मंजरी वर्षण

Question ID : **264330103820**
Status : **Answered**
Chosen Option : 1

Q.25 विजयनगर साम्राज्य में व्यापारियों के स्थानीय समुदायों को _____ के रूप में जाना जाता था।

- Ans**
- 1. राचवरुस
 - 2. कुदिराई चेट्टिस
 - 3. गजपति
 - 4. नरपति

Question ID : **264330114085**
Status : **Not Answered**
Chosen Option : --

Section : Quantitative Aptitude

SSC MTS (Non Technical) EXAM STUDY KIT



FREE SHIPPING 

- ▶ 100% SSC MTS Exam Syllabus Covered
- ▶ PRINTED Notes
- ▶ 8 Books, 700+ Pages
- ▶ 2500+ MCQs
- ▶ Practice Papers
- ▶ 1 Year Current Affairs

50% OFF

 **SSCPORTAL.IN**

SSC MTS PDF NOTES

100% Syllabus Covered



**50%
OFF**

CLICK HERE

<https://sscpportal.in/study-kit/mts>

Q.1 यदि $(x - \frac{1}{x}) = 2\sqrt{2}$ और $x > 1$ है, तो $(x^6 - \frac{1}{x^6})$ का मान क्या होगा?

- Ans
- ✗ 1. $372\sqrt{6}$
 - ✗ 2. $420\sqrt{6}$
 - ✓ 3. $396\sqrt{6}$
 - ✗ 4. $384\sqrt{6}$

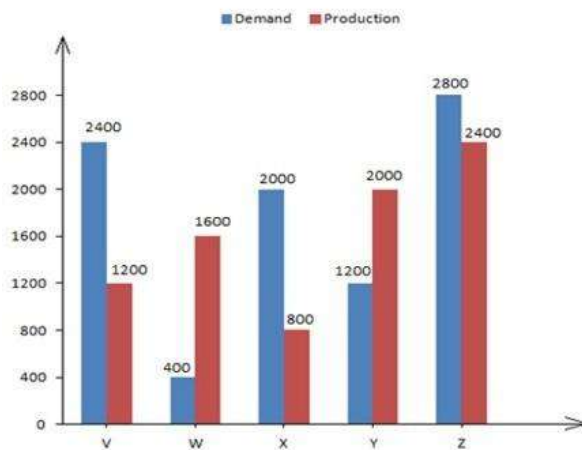
Question ID : 264330101364
Status : Not Answered
Chosen Option : --

Q.2 $\frac{2}{3} \tan^2 60^\circ + 3 \cos^2 30^\circ - 2 \sec^2 30^\circ - \frac{3}{4} \cot^2 60^\circ$ का मान ज्ञात कीजिए।

- Ans
- ✗ 1. 3.33
 - ✓ 2. 1.33
 - ✗ 3. 2.01
 - ✗ 4. 2.33

Question ID : 264330143577
Status : Answered
Chosen Option : 2

Q.3 निम्नलिखित ग्राफ में पाँच कंपनियों V, W, X, Y और Z की माँग और उत्पादन को दर्शाया गया है। बार ग्राफ के आधार पर प्रश्न का उत्तर दें।



Demand - माँग

Production - उत्पादन

यदि कंपनी X के उत्पादन का K% कंपनी W की माँग के बराबर है, तो K निम्नलिखित में से किसके बराबर है?

- Ans
- ✗ 1. 40
 - ✓ 2. 50
 - ✗ 3. 45
 - ✗ 4. 35

Question ID : 26433099042
Status : Answered
Chosen Option : 2

Q.4 सुप्रजा और कौशल्या एक काम को क्रमशः 30 दिन और 20 दिन में पूरा कर सकती हैं। यदि काम की शुरुआत सुप्रजा से होती है और उसके बाद वे बारी-बारी से एक-एक दिन काम करती हैं, तो 75% काम कितने दिन में पूरा होगा?

- Ans**
- 1. 28
 - 2. 20
 - 3. 24
 - 4. 18

Question ID : **264330109261**
 Status : **Answered**
 Chosen Option : **4**

Q.5 एक त्रिभुज की तीन भुजाएँ 12, 17 और x इकाई हैं। निम्नलिखित में से कौन सा विकल्प सही है?

- Ans**
- 1. $5 < x \leq 29$
 - 2. $5 < x < 29$
 - 3. $5 \leq x \leq 29$
 - 4. $5 \leq x < 29$

Question ID : **26433080253**
 Status : **Answered**
 Chosen Option : **2**

Q.6 एक पुलिसकर्मी, एक चोर को 200 m की दूरी से देखता है। पुलिसकर्मी की नजर पड़ते ही चोर भागने लगता है और पुलिसकर्मी उसका पीछा करता है। चोर और पुलिसकर्मी क्रमशः 10 km/h और 11 km/h की चाल से दौड़ते हैं। पुलिसकर्मी द्वारा पीछा करना शुरू करने के 6 मिनट बाद उनके बीच की दूरी (m में) क्या होगी?

- Ans**
- 1. 125
 - 2. 100
 - 3. 75
 - 4. 150

Question ID : **264330103498**
 Status : **Not Answered**
 Chosen Option : **--**

Q.7 $\sin(-405^\circ)$ का मान ज्ञात करें।

- Ans**
- 1. $-\frac{1}{2}$
 - 2. $\frac{1}{2}$
 - 3. $\frac{\sqrt{5}}{2}$
 - 4. $-\frac{1}{\sqrt{2}}$

Question ID : **26433076117**
 Status : **Answered**
 Chosen Option : **4**

Q.8 बिंदु Q से, एक वृत्त पर स्पर्श रेखा की लंबाई 20 cm है और केंद्र से Q की दूरी 25 cm है। वृत्त की त्रिज्या ज्ञात कीजिए।

- Ans** 1. 15 cm
 2. 10 cm
 3. 12.5 cm
 4. 5 cm

Question ID : 26433086284
 Status : **Answered**
 Chosen Option : 1

Q.9 P, Q को 400 मीटर की दौड़ में 2 सेकंड की शुरुआत (head-start) देता है, लेकिन दोनों एक ही समय में दौड़ पूरी करते हैं। यदि Q की चाल 2 मीटर/सेकंड है तो P द्वारा दौड़ पूरी करने में लिया गया समय ज्ञात कीजिए।

- Ans** 1. 198 सेकंड
 2. 199 सेकंड
 3. 200 सेकंड
 4. 195 सेकंड

Question ID : 264330122081
 Status : **Not Answered**
 Chosen Option : --

Q.10 A और B एक साथ काम करते हुए एक काम को 8 दिनों में पूरा कर सकते हैं, जबकि B अकेला इसे 24 दिनों में कर सकता है, तो A अकेला उस काम को कितने दिनों में पूरा कर सकता है?

- Ans** 1. 16
 2. 12
 3. 14
 4. 10

Question ID : 264330109348
 Status : **Answered**
 Chosen Option : 2

Q.11 P और Q एक कार्य को 24 दिनों में पूरा कर सकते हैं, Q और R इसी कार्य को 30 दिनों में पूरा कर सकते हैं, जबकि P और R उस कार्य को 40 दिनों में पूरा कर सकते हैं। X, P से चार गुना कुशल है, Y, Q का आधा कुशल है, और Z, R से 2.5 गुना कुशल है। यदि X, Y और Z एक साथ कार्य करते हैं, तो समान कार्य को पूरा करने के लिए आवश्यक दिनों की संख्या ज्ञात कीजिए।

- Ans** 1. 8
 2. 9
 3. 12
 4. 10

Question ID : 264330101329
 Status : **Not Answered**
 Chosen Option : --

Q.12 O केंद्र वाले एक वृत्त में, PA और PB एक बाह्य बिंदु P से क्रमशः A और B पर स्पर्श रेखाएँ हैं। यदि $\angle APB = 24^\circ$ है, तो $\angle AOB$ ज्ञात कीजिए।

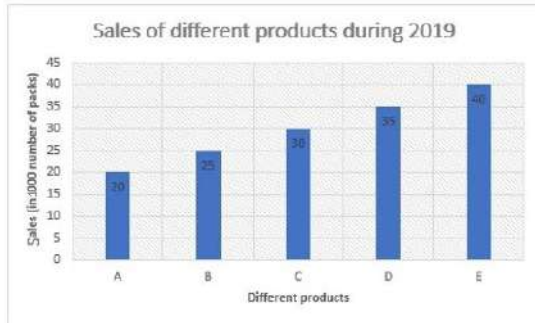
- Ans**
- 1. 180°
 - 2. 156°
 - 3. 48°
 - 4. 158°

Question ID : 264330122098

Status : Answered

Chosen Option : 2

Q.13 दिए गए दंड-आलेख का अध्ययन कीजिए और नीचे दिए गए प्रश्न का उत्तर दीजिए। एक कंपनी पाँच विभिन्न उत्पाद प्रदान करती है। 2019 के दौरान इन पाँच उत्पादों की बिक्री (1000 पैक की संख्या में) दंड-आलेख में दर्शायी गई है।



Sales of different products during 2019 = 2019 के दौरान विभिन्न उत्पादों की बिक्री
 Different products = विभिन्न उत्पाद
 Sales (in 1000 number of packs) = बिक्री (1000 पैक की संख्या में)
 2019 में उत्पाद A की बिक्री और उत्पाद E की बिक्री का लगभग अनुपात क्या है?

- Ans**
- 1. 1 : 3
 - 2. 2 : 3
 - 3. 1 : 2
 - 4. 2 : 1

Question ID : 264330130424

Status : Answered

Chosen Option : 3

Q.14 निम्न का मान ज्ञात करें।
 $325 + 276 \div [150 - \{9 \times 9 + (83 - 4 \times 15)\}]$

- Ans**
- 1. 331
 - 2. 334
 - 3. 333
 - 4. 332

Question ID : 264330143485

Status : Not Answered

Chosen Option : --

Q.15 एक शंकु की तिर्यक ऊँचाई 10 cm और त्रिज्या 6 cm है। शंकु का संपूर्ण पृष्ठीय क्षेत्रफल कितना है?
 $\pi = 3.14$ लीजिए

- Ans**
- 1. 301.44 cm^2
 - 2. 305.4 cm^2
 - 3. 292.4 cm^2
 - 4. 312.2 cm^2

Question ID : 26433081653

Status : Answered

Chosen Option : 1

Q.16 यदि $(2y + \frac{2}{y}) = 7$ है, तो $(y^2 + \frac{1}{y^2})$ का मान ज्ञात करें।

- Ans
- 1. $\frac{49}{4}$
 - 2. $\frac{41}{4}$
 - 3. $\frac{49}{2}$
 - 4. $\frac{45}{4}$

Question ID : 264330114536

Status : Answered

Chosen Option : 2

Q.17 50 दर्जन केलों का मूल्य ₹2,400 है और प्रति केले की परिवहन लागत ₹0.25 है। एक जोड़ी केले का विक्रय मूल्य ₹10 है। लाभ प्रतिशत क्या है (एक दशमलव स्थान तक पूर्णांकित)?

- Ans
- 1. 17.6%
 - 2. 14.5%
 - 3. 15.4%
 - 4. 16.7%

Question ID : 26433085440

Status : Answered

Chosen Option : 1

Q.18 यदि $a + b + c = 7$, $ab + bc + ca = 11$ और $abc = -1$ है, तो $a^3 + b^3 + c^3$ किसके बराबर होगा?

- Ans
- 1. 111
 - 2. 107
 - 3. 101
 - 4. 109

Question ID : 264330130418

Status : Answered

Chosen Option : 1

Q.19 A और B एक परियोजना को 9 दिनों में पूरा कर सकते हैं। B और C इसे 12 दिनों में पूरा कर सकते हैं, जबकि C और A इसे 18 दिनों में पूरा कर सकते हैं, तो A, B और C मिलकर कितने दिनों में परियोजना को पूरा कर सकते हैं?

- Ans
- 1. 9
 - 2. 8
 - 3. 10
 - 4. 11

Question ID : 264330109349

Status : Answered

Chosen Option : 2

Q.20 The square of 72 is equal to the product of 216 and a number. Find the number.

- Ans 1. 24
 2. 36
 3. 48
 4. 18

Question ID : 264330131170
 Status : Answered
 Chosen Option : 1

Q.21 निम्नलिखित व्यंजक का मान ज्ञात कीजिए।
 $8 + (-9 - 3) - (-12 - 5)$

- Ans 1. 13
 2. 16
 3. 14
 4. 15

Question ID : 26433066351
 Status : Answered
 Chosen Option : 1

Q.22 एक व्यक्ति ₹12,300 की कुल राशि प्राप्त करने के लिए 5% की वार्षिक साधारण ब्याज दर पर ₹9,840 का निवेश करता है। उसे राशि का निवेश कितने वर्षों के लिए करना होगा?

- Ans 1. 3 वर्ष
 2. 4.5 वर्ष
 3. 3.5 वर्ष
 4. 5 वर्ष

Question ID : 264330109344
 Status : Answered
 Chosen Option : 4

Q.23 एक वस्तु के मूल्य में $r\%$ की वृद्धि की जाती है। बाद में इस नए मूल्य में $r\%$ की कमी कर दी जाती है। अब नवीनतम मूल्य Rs.1 है। उस वस्तु का प्रारंभिक मूल्य कितना था?

- Ans 1. $\frac{10000-r^2}{10000}$
 2. $\frac{100}{1-r^2}$
 3. $\frac{10000}{10000-r^2}$
 4. $\frac{100}{100-r^2}$

Question ID : 26433091902
 Status : Answered
 Chosen Option : 3

Q.24 θ के सभी वास्तविक मानों के लिए $(\sin^{12} \theta + \cos^{20} \theta)$ का अधिकतम मान _____ है।

- Ans
- 1. 0
 - 2. 2
 - 3. 1
 - 4. 3

Question ID : 264330131550
 Status : Answered
 Chosen Option : 2

Q.25 एक रिटेलर ₹92,000 अंकित मूल्य के एक एयर कंडीशनर को बेचने के लिए 30% की छूट की घोषणा करता है। एयर कंडीशनर का क्रय मूल्य अंकित मूल्य से 70% कम है। यदि खरीदार खुदरा विक्रेता के स्टोर का अपना सदस्यता कार्ड प्रस्तुत करता है तो वह 20% की अतिरिक्त छूट प्रदान करता है। सदस्यता कार्ड योजना के साथ खुदरा विक्रेता का लाभ सदस्यता कार्ड योजना के बिना खुदरा विक्रेता के लाभ का कितना प्रतिशत है?

- Ans
- 1. 70%
 - 2. 74%
 - 3. 62%
 - 4. 65%

Question ID : 264330103539
 Status : Not Answered
 Chosen Option : --

Section : English Comprehension

Q.1 Select the INCORRECTLY spelt word.

- Ans
- 1. Configuration
 - 2. Consultancy
 - 3. Conspirasy
 - 4. Constitution

Question ID : 26433088535
 Status : Answered
 Chosen Option : 3

Q.2 Select the grammatically correct sentence.

- A. Today is sixth day of our workshop. All the participants are highly enthusiastic.
- B. Today is a sixth day of our workshop. All the participants are highly enthusiastic.
- C. Today is the sixth day of our workshop. All the participants are highly enthusiastic.
- D. Today is sixth day of our workshop. All participants are highly enthusiastic.

- Ans
- 1. B
 - 2. C
 - 3. D
 - 4. A

Question ID : 26433073531
 Status : Answered
 Chosen Option : 2

Q.3 The following sentence has been split into four segments. Identify the segment that contains a grammatical error.

Hardik's horoscope says / that the stars / will be exercised / a benign influence on his life.

- Ans**
- 1. Hardik's horoscope says
 - 2. will be exercised
 - 3. that the stars
 - 4. a benign influence on his life

Question ID : **26433088093**
Status : **Answered**
Chosen Option : **2**

Q.4 Select the most appropriate meaning of the given idiom.
It is raining cats and dogs means:

- Ans**
- 1. it is drizzling
 - 2. there are showers
 - 3. it is raining very heavily
 - 4. something that does not upset you

Question ID : **264330100241**
Status : **Answered**
Chosen Option : **3**

Q.5 Select the option that can be used as a one-word substitute for the given group of words.

One who looks at the negative side of everything

- Ans**
- 1. Pessimist
 - 2. Racist
 - 3. Optimist
 - 4. Activist

Question ID : **26433086320**
Status : **Answered**
Chosen Option : **1**

Q.6 Select the option that is similar in meaning to the given word.

Hapless

- Ans**
- 1. Unfortunate
 - 2. Fortunate
 - 3. Happy
 - 4. Distasteful

Question ID : **264330122274**
Status : **Answered**
Chosen Option : **1**

Q.7 Select the most appropriate ANTONYM of the underlined word.
Heavy outfits make the movement of trekkers sluggish.

- Ans
- 1. Distorted
 - 2. Eye catching
 - 3. Comfortable
 - 4. Active

Question ID : 264330121871
Status : Answered
Chosen Option : 4

Q.8 Select the most appropriate option that can substitute the underlined segment in the given sentence.

The family is neither interested in selling the house or rebuilding it.

- Ans
- 1. nor rebuilding
 - 2. but also rebuilding
 - 3. not only rebuilding
 - 4. yet rebuilding

Question ID : 26433081320
Status : Answered
Chosen Option : 1

Q.9 Select the most appropriate meaning of the given idiom.
Taking a bull by the horns

- Ans
- 1. To decapitate a bull for beef
 - 2. To make a stupid decision thinking it to be daring
 - 3. Wearing a skull cap
 - 4. To deal with a difficult situation in a very direct or confident way

Question ID : 26433088819
Status : Answered
Chosen Option : 4

Q.10 The given sentence has some words with incorrect spellings. Select the most appropriate option that corrects the spellings.

Being a millionaire, he is leading a luxurius life.

- Ans
- 1. Being a millionaire, he is leeding a luxurious life.
 - 2. Being a millionaire, he is leading a luxrious life.
 - 3. Being a millinaire, he is leading a luxurious life.
 - 4. Being a millionaire, he is leading a luxurious life.

Question ID : 26433092088
Status : Answered
Chosen Option : 4

Q.11 Select the most appropriate option that can substitute the underlined segment in the given sentence. If there is no need to substitute it, select 'No substitution'.
Neither John nor Simon are coming to the meeting.

- Ans
- 1. are coming to meeting
 - 2. No substitution
 - 3. is coming to the meeting
 - 4. were coming to the meeting

Question ID : 26433092941
Status : Answered
Chosen Option : 3

Q.12 Select the most appropriate ANTONYM of the underlined word in the given sentence to fill in the blank.
We usually had _____ visitors dropping by, but now we have very less visitors.

- Ans
- 1. slighter
 - 2. insufficient
 - 3. umpteen
 - 4. a handful of

Question ID : 264330145557
Status : Answered
Chosen Option : 3

Q.13 Select the option that can be used as a one-word substitute for the given phrase.

Waver between different opinions or actions

- Ans
- 1. Sway
 - 2. Thrifty
 - 3. Viaduct
 - 4. Vacillate

Question ID : 26433073748
Status : Answered
Chosen Option : 4

Q.14 Select the most appropriate ANTONYM of the underlined word.
He was quite violent in his behaviour.

- Ans
- 1. Crazy
 - 2. Gentle
 - 3. Savage
 - 4. Aggressive

Question ID : 264330121050
Status : Answered
Chosen Option : 2

Q.15 Select the option that express the given sentence in active voice.
Was the beggar not being beaten by her?

- Ans
- 1. Was not she beating the beggar?
 - 2. Was she not beating the beggar?
 - 3. Was she beating the beggar?
 - 4. Was the beggar beaten by her?

Question ID : 264330141142
Status : Answered
Chosen Option : 2



Q.16 Select the most appropriate option to fill in the blank.

I find that students nowadays are not interested in _____ letters by hand.

- Ans
- 1. rating
 - 2. writing
 - 3. righting
 - 4. rioting

Question ID : 264330145561
Status : Answered
Chosen Option : 2

Q.17 Select the option that expresses the given sentence in active voice.
Was the conference not attended by them?

- Ans
- 1. Does they not attend the conference?
 - 2. Did they not attend the conference?
 - 3. Do they not attend the conference?
 - 4. Do they attend the conference?

Question ID : 264330141138
Status : Answered
Chosen Option : 2

Q.18 Select the most appropriate option that can substitute the underlined segment in the given sentence.

The man was convicted for murder by the jury but he is not committed it.

- Ans
- 1. had not committed it
 - 2. have not committed it
 - 3. am not committed it
 - 4. has not committed it

Question ID : 26433081304
Status : Answered
Chosen Option : 1

Q.19 Select the option that can be used as a one-word substitute for the given group of words.

Someone who dishonestly pretends to deceive under an assumed character

- Ans
- 1. Explorer
 - 2. Imposter
 - 3. Imbecile
 - 4. Imitator

Question ID : 26433086514
Status : Answered
Chosen Option : 2

Q.20 Select the most appropriate synonym for the underlined word in the given sentence.

She had the temerity to call her teacher a liar.

- Ans
- 1. taciturn
 - 2. tedious
 - 3. impudence
 - 4. trenchant

Question ID : 26433073756

Status : Answered

Chosen Option : 3

Comprehension:

In the following passage, some words have been deleted. Read the passage carefully and select the most appropriate option to fill in each blank.

The (1) _____ of climate change is one of the most pressing issues facing the world today. Rising temperatures, extreme weather events and melting ice caps are just a few of the (2) _____ of a changing climate. To combat this, many countries have pledged to reduce their greenhouse gas emissions, but progress has been slow. In addition, some people are still sceptical of the (3) _____ of climate change or believe that it's a natural occurrence that humans can't do much about. However, scientists agree that urgent action is needed to prevent the worst impacts of climate change. This includes not only reducing emissions but also adapting to the changes that have already (4) _____. This might involve building sea walls to protect against rising sea levels, planting drought-resistant crops or developing new technologies to remove carbon from the atmosphere. Ultimately, addressing climate change will require a (5) _____ effort from individuals, governments and businesses around the world.

SubQuestion No : 21

Q.21 Select the most appropriate option to fill in blank no. 1.

- Ans
- 1. advantage
 - 2. solution
 - 3. challenge
 - 4. aspect

Question ID : 264330139241

Status : Answered

Chosen Option : 3

Comprehension:

In the following passage, some words have been deleted. Read the passage carefully and select the most appropriate option to fill in each blank.

The (1) _____ of climate change is one of the most pressing issues facing the world today. Rising temperatures, extreme weather events and melting ice caps are just a few of the (2) _____ of a changing climate. To combat this, many countries have pledged to reduce their greenhouse gas emissions, but progress has been slow. In addition, some people are still sceptical of the (3) _____ of climate change or believe that it's a natural occurrence that humans can't do much about. However, scientists agree that urgent action is needed to prevent the worst impacts of climate change. This includes not only reducing emissions but also adapting to the changes that have already (4) _____. This might involve building sea walls to protect against rising sea levels, planting drought-resistant crops or developing new technologies to remove carbon from the atmosphere. Ultimately, addressing climate change will require a (5) _____ effort from individuals, governments and businesses around the world.

SubQuestion No : 22

Q.22 Select the most appropriate option to fill in blank no. 2.

- Ans
- 1. advancements
 - 2. consequences
 - 3. improvements
 - 4. benefits

Question ID : 264330139242

Status : Answered

Chosen Option : 2

Comprehension:

In the following passage, some words have been deleted. Read the passage carefully and select the most appropriate option to fill in each blank.

The (1) _____ of climate change is one of the most pressing issues facing the world today. Rising temperatures, extreme weather events and melting ice caps are just a few of the (2) _____ of a changing climate. To combat this, many countries have pledged to reduce their greenhouse gas emissions, but progress has been slow. In addition, some people are still sceptical of the (3) _____ of climate change or believe that it's a natural occurrence that humans can't do much about. However, scientists agree that urgent action is needed to prevent the worst impacts of climate change. This includes not only reducing emissions but also adapting to the changes that have already (4) _____. This might involve building sea walls to protect against rising sea levels, planting drought-resistant crops or developing new technologies to remove carbon from the atmosphere. Ultimately, addressing climate change will require a (5) _____ effort from individuals, governments and businesses around the world.

SubQuestion No : 23

Q.23 Select the most appropriate option to fill in blank no. 3.

- Ans 1. fiction
 2. deception
 3. reality
 4. myth

Question ID : 264330139243

Status : Answered

Chosen Option : 3

Comprehension:

In the following passage, some words have been deleted. Read the passage carefully and select the most appropriate option to fill in each blank.

The (1) _____ of climate change is one of the most pressing issues facing the world today. Rising temperatures, extreme weather events and melting ice caps are just a few of the (2) _____ of a changing climate. To combat this, many countries have pledged to reduce their greenhouse gas emissions, but progress has been slow. In addition, some people are still sceptical of the (3) _____ of climate change or believe that it's a natural occurrence that humans can't do much about. However, scientists agree that urgent action is needed to prevent the worst impacts of climate change. This includes not only reducing emissions but also adapting to the changes that have already (4) _____. This might involve building sea walls to protect against rising sea levels, planting drought-resistant crops or developing new technologies to remove carbon from the atmosphere. Ultimately, addressing climate change will require a (5) _____ effort from individuals, governments and businesses around the world.

SubQuestion No : 24

Q.24 Select the most appropriate option to fill in blank no. 4.

- Ans 1. reversing
 2. occurred
 3. stabilising
 4. ceasing

Question ID : 264330139244

Status : Answered


Chosen Option : 2



Download SSC CGL, CHSL E-BOOKS

[CLICK HERE](#)

कर्मचारी चयन आयोग (CGL) परीक्षा अध्ययन सामग्री



FREE SHIPPING

- ▶ 100% Syllabus Covered
- ▶ 9 Books, 1000+ Pages - PRINT COPY
- ▶ 3000+ MCQs - PRINT COPY
- ▶ 08 Year Solved Papers & Mock Tests (PDF Copy)
- ▶ One Year Current Affairs (PDF Copy)

हिन्दी माध्यम

50% OFF

SSCPORTAL.IN

SSC CGL HINDI PDF NOTES

100% Syllabus | 1,000+ Pages



CLICK HERE

<https://sscportal.in/study-kit/cgl/tier-1-hindi>

Comprehension:

In the following passage, some words have been deleted. Read the passage carefully and select the most appropriate option to fill in each blank.

The (1) _____ of climate change is one of the most pressing issues facing the world today. Rising temperatures, extreme weather events and melting ice caps are just a few of the (2) _____ of a changing climate. To combat this, many countries have pledged to reduce their greenhouse gas emissions, but progress has been slow. In addition, some people are still sceptical of the (3) _____ of climate change or believe that it's a natural occurrence that humans can't do much about. However, scientists agree that urgent action is needed to prevent the worst impacts of climate change. This includes not only reducing emissions but also adapting to the changes that have already (4) _____. This might involve building sea walls to protect against rising sea levels, planting drought-resistant crops or developing new technologies to remove carbon from the atmosphere. Ultimately, addressing climate change will require a (5) _____ effort from individuals, governments and businesses around the world.

SubQuestion No : 25

Q.25 Select the most appropriate option to fill in blank no. 5.

Ans 1. individual

2. joint

3. solitary

4. separate

Question ID : **264330139245**

Status : **Answered**

Chosen Option : **2**



Download SSC CGL, CHSL E-BOOKS

[CLICK HERE](#)