

Combined Graduate level Examination 2023 Tier I

Roll Number	
Candidate Name	
Venue Name	
Exam Date	18/07/2023
Exam Time	2:30 PM - 3:30 PM
Subject	Combined Graduate Level Examination Tier I 2023

Section : General Intelligence and Reasoning

Q.1 उस आकृति का चयन कीजिए, जो नीचे दी गई आकृति शृंखला में प्रश्न-चिह्न (?) को प्रतिस्थापित करेगी।

6	☆	☆	L	□	☆	☆	V	
D	V	L	□	6	S	D	L	V
□	S	D	V	6	S	D	L	?

Ans

✗ 1.

V	S
D	☆
6	□

✗ 2.

□	☆
D	V
L	S

✓ 3.

6	☆
D	V
□	S

✗ 4.

L	S
D	V
6	☆

Question ID : 264330143847

Status : Answered

Chosen Option : 3



Download SSC CGL, CHSL E-BOOKS

CLICK HERE

Q.2 D, P, W, Y और M का एक परिवार एक-दूसरे से मिलने के लिए यात्रा कर रहा है। W अपनी पुत्रियों D और P के साथ यात्रा कर रहा है। M अपनी नानी Y के साथ यात्रा कर रहा है। D, M की माता है। Y, P से किस प्रकार संबंधित है?

- Ans**
- 1. बहन
 - 2. दादी/नानी
 - 3. पुत्री
 - 4. माता

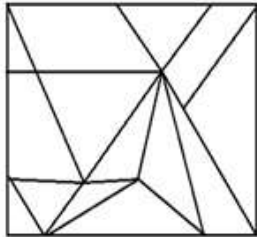
Question ID : 264330118671
 Status : Answered
 Chosen Option : 4

Q.3 उस विकल्प आकृति का चयन करें जिसमें प्रश्न में दी गई आकृति निहित है (घुमाने की अनुमति नहीं है)।

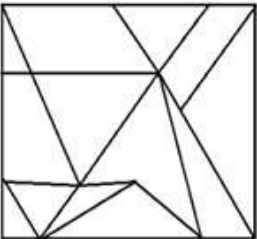


Ans

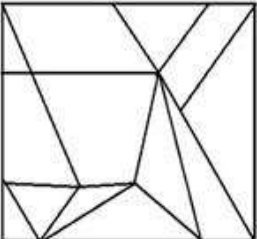
1.



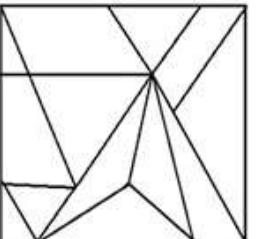
2.



3.



4.



Question ID : 26433067427
 Status : Answered
 Chosen Option : 1

Q.4 उस विकल्प का चयन करें जो पाँचवें अक्षर-समूह से उसी प्रकार संबंधित है जिस प्रकार दूसरा अक्षर-समूह पहले अक्षर-समूह से संबंधित है और चौथा अक्षर-समूह तीसरे अक्षर-समूह से संबंधित है।
BPX : ENB :: KUW : NSA :: FOY : ?

- Ans
- 1. CQU
 - 2. IMC
 - 3. IMB
 - 4. CQW

Question ID : 264330104099
Status : Answered
Chosen Option : 2

Q.5 उस विकल्प का चयन करें जो पाँचवें अक्षर-समूह से उसी प्रकार संबंधित है जिस प्रकार दूसरा अक्षर-समूह पहले अक्षर-समूह से संबंधित है और चौथा अक्षर-समूह तीसरे अक्षर-समूह से संबंधित है।
LIGHT : ORTSG :: FANCY : UZMxB :: WATCH : ?

- Ans
- 1. DZGXT
 - 2. DZHXS
 - 3. DZGYS
 - 4. DZGXS

Question ID : 26433086974
Status : Answered
Chosen Option : 4

Q.6 उस विकल्प का चयन करें जो पाँचवीं संख्या से उसी प्रकार संबंधित है जिस प्रकार दूसरी संख्या पहली संख्या से संबंधित है और चौथी संख्या तीसरी संख्या से संबंधित है।
17 : 189 :: 13 : 69 :: 18 : ?

- Ans
- 1. 241
 - 2. 224
 - 3. 214
 - 4. 242

Question ID : 264330143712
Status : Answered
Chosen Option : 2

Q.7 एक निश्चित कोड भाषा में 'PUBLIC' को 'TIEIUY' के रूप में लिखा गया है और 'SERVER' को 'WEUSEN' के रूप में लिखा गया है। उसी भाषा में 'DIRECT' को किस प्रकार लिखा जाएगा?

- Ans
- 1. HCUBIP
 - 2. HICBUP
 - 3. PCUBIH
 - 4. PICBUH

Question ID : 26433055921
Status : Answered
Chosen Option : 1



Q.8 * चिह्नों को क्रमिक रूप से बदलने और दिए गए समीकरण को संतुलित करने के लिए गणितीय चिह्नों के सही संयोजन का चयन कीजिए।

$$17 * 21 * 7 * 5 * 4 * 34$$

Ans 1. -, +, +, x, =

2. +, -, +, x, =

3. x, -, +, +, =

4. +, x, +, -, =

Question ID : 26433056940

Status : Answered

Chosen Option : 1

Q.9 एक लड़की की तस्वीर को देखकर वेरोनिका ने कहा, "वह मेरे पति के भाई की बेटी की माँ है।" तस्वीर में दिख रही लड़की से वेरोनिका किस प्रकार संबंधित है?

Ans 1. मौसी

2. देवराणी/जेठानी

3. माता

4. चचेरी बहन

Question ID : 26433092751

Status : Answered

Chosen Option : 2

Q.10 नीचे तीन कथन और उनके बाद तीन निष्कर्ष I, II और III दिए गए हैं। कथनों को सत्य मानते हुए, भले ही वे सर्वज्ञात तथ्यों से भिन्न प्रतीत होते हों, निर्धारित करें कि कौन-सा/से निष्कर्ष कथनों का तार्किक रूप से अनुसरण करता है/करते हैं।

कथन:

सभी पुरुष लड़के हैं।

कुछ शिक्षक लड़के हैं।

सभी छात्र शिक्षक हैं।

निष्कर्ष:

I. कुछ लड़के पुरुष हैं।

II. कुछ शिक्षक छात्र हैं।

III. सभी पुरुष छात्र हैं।

Ans 1. केवल निष्कर्ष II और III अनुसरण करते हैं

2. सभी निष्कर्ष अनुसरण करते हैं

3. केवल निष्कर्ष I और III अनुसरण करते हैं

4. केवल निष्कर्ष I और II अनुसरण करते हैं

Question ID : 264330143721

Status : Answered

Chosen Option : 4



Download SSC CGL, CHSL E-BOOKS

[CLICK HERE](#)

Q.11 विकल्पों में से उस समुच्चय का चयन कीजिए जिसमें संख्याएँ उसी प्रकार संबंधित हैं जिस प्रकार निम्नलिखित समुच्चयों की संख्याएँ संबंधित हैं।
(नोट: संख्याओं को उनके घटक अंकों में विभाजित किए बिना, सभी संक्रियाएँ पूर्ण संख्याओं पर की जानी चाहिए। उदाहरण के लिए 13; इसमें 13 पर जोड़ने / घटाने / गुणा करने आदि जैसी संक्रियाओं को 13 पर ही किया जा सकता है। 13 को 1 और 3 में विभाजित करने और फिर 1 और 3 पर गणितीय संक्रियाएँ करने की अनुमति नहीं है)
(12, 40, 14)
(15, 33, 9)

- Ans 1. (21, 91, 35)
 2. (21, 35, 41)
 3. (11, 105, 42)
 4. (21, 95, 35)

Question ID : 264330130208
Status : Answered
Chosen Option : 1

Q.12 तीन कथनों के बाद तीन निष्कर्ष I, II और III दिए गए हैं। कथनों को सत्य मानते हुए, भले ही वे सामान्य रूप से ज्ञात तथ्यों से भिन्न प्रतीत होते हों, निर्णय लीजिए कि कौन सा/से निष्कर्ष कथनों का तार्किक रूप से अनुसरण करता है/करते हैं।
कथन:
सभी पर्दे, डोरमैट हैं।
कुछ डोरमैट, तकिए हैं।
कुछ तकिए, बेडशीट हैं।

निष्कर्ष:
I. कुछ बेडशीट, डोरमैट हैं।
II. कुछ बेडशीट, पर्दे हैं।
III. कुछ तकिए, डोरमैट हैं।

- Ans 1. सभी निष्कर्ष अनुसरण करते हैं।
 2. केवल निष्कर्ष III अनुसरण करता है।
 3. केवल निष्कर्ष II अनुसरण करता है।
 4. केवल निष्कर्ष I अनुसरण करता है।

Question ID : 26433093153
Status : Answered
Chosen Option : 2

Q.13 दिए गए समीकरण को संतुलित करने के लिए किन दो चिह्नों को आपस में बदला जाना चाहिए?
 $1664 \div 4 \times 2 + 712 - 316 = 436$

- Ans 1. - और +
 2. + और +
 3. + और ×
 4. + और -

Question ID : 264330132499
Status : Answered
Chosen Option : 1


Q.14 उस विकल्प का चयन करें जो उन अक्षरों का प्रतिनिधित्व करता है, जिन्हें नीचे दिए गए रिक्त स्थानों में क्रमिक रूप से बाएं से दाएं रखे जाने पर अक्षर श्रृंखला पूर्ण हो जाएगी।
_ _ BFGDM _ _ G _ MBF _ D _ B _ G

- Ans 1. DFBMDGMF
 2. DMFBDMGF
 3. DMBFDGMF
 4. DMBFGDFM

Question ID : 26433090010
Status : Answered
Chosen Option : 3



कर्मचारी चयन आयोग (CGL) परीक्षा अध्ययन सामग्री



FREE SHIPPING

- ▶ 100% Syllabus Covered
- ▶ 9 Books, 1000+ Pages - PRINT COPY
- ▶ 3000+ MCQs - PRINT COPY
- ▶ 08 Year Solved Papers & Mock Tests (PDF Copy)
- ▶ One Year Current Affairs (PDF Copy)

हिन्दी माध्यम

50% OFF

SSCPORTAL.IN

SSC CGL HINDI PDF NOTES

100% Syllabus | 1,000+ Pages



CLICK HERE

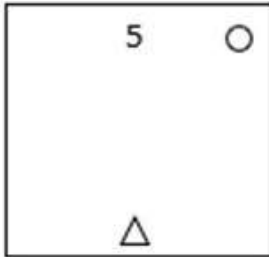
<https://sscportal.in/study-kit/cgl/tier-1-hindi>

Q.15 निम्नलिखित विकल्पों में से उस आकृति का चयन कीजिए जो प्रश्नवाचक चिह्न (?) को प्रतिस्थापित करते हुए दिए गए पैटर्न को पूरा करेगी।

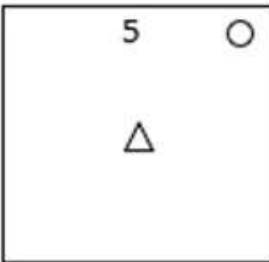
5 △ ○	2 ○ △	○ △ 5	2 ○ △	?
-------------	-------------	-------	----------	---

Ans

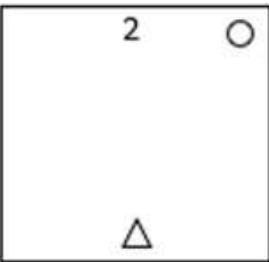
✓ 1.



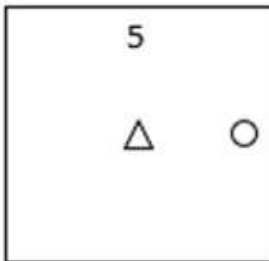
✗ 2.



✗ 3.



✗ 4.



Question ID : 26433085786

Status : Answered

Chosen Option : 1



Download SSC CGL, CHSL E-BOOKS

CLICK HERE

Q.16 उस समुच्चय का चयन कीजिए जिसमें संख्याएँ उसी तरह संबंधित हैं जिस प्रकार दिए गए समुच्चय की संख्याएँ संबंधित हैं।
(नोट: संख्याओं को उनके घटक अंकों में विभाजित किए बिना, पूर्ण संख्याओं पर गणितीय संक्रियाएं की जानी चाहिए। उदाहरण के लिए 13 – 13 पर विभिन्न गणितीय संक्रियाएं जैसे 13 को जोड़ना / घटाना / गुणा करना आदि की जा सकती हैं। 13 को 1 और 3 में तोड़ने और फिर 1 और 3 पर गणितीय संक्रियाएँ करने की अनुमति नहीं है।)
(54, 32, 66)
(49, 31, 54)

- Ans 1. (68, 49, 55)
 2. (39, 18, 63)
 3. (55, 30, 70)
 4. (44, 28, 52)

Question ID : 264330134929

Status : **Not Attempted and Marked For Review**

Chosen Option : --

Q.17 उस विकल्प का चयन करें जो दिए गए शब्दों को सही-सही उसी क्रम में दर्शाता है जिस क्रम में ये अंग्रेजी शब्दकोश में दिखाई देंगे।

1. Significant
2. Sinful
3. Signed
4. Singing
5. Simplify

- Ans 1. 3,5,1,2,4
 2. 3,1,5,2,4
 3. 3,1,2,5,4
 4. 3,2,1,5,4

Question ID : 264330130704

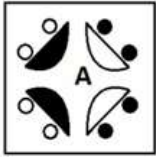
Status : **Answered**

Chosen Option : 2



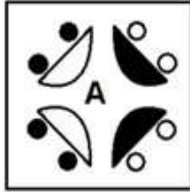
Q.18 जब दर्पण को दाहिनी ओर रखा जाता है, तो कौन-सी उत्तर आकृति दी गई प्रश्न आकृति का सटीक दर्पण प्रतिबिम्ब होगी?

प्रश्न आकृति:



Ans

✓ 1.



✗ 2.



✗ 3.



✗ 4.



Question ID : 26433067408

Status : Answered

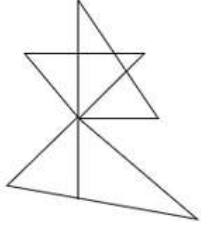
Chosen Option : 1



Download SSC CGL, CHSL E-BOOKS

CLICK HERE

Q.19 उस विकल्प आकृति का चयन कीजिए जो दी गई आकृति में सन्नहित है (घूर्णन की अनुमति नहीं है)।

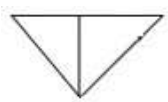


Ans

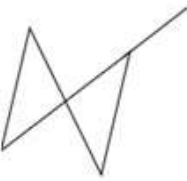
✗ 1.



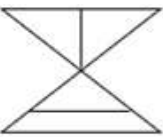
✓ 2.



✗ 3.



✗ 4.



Question ID : 26433097266

Status : Answered

Chosen Option : 2

Q.20 उस विकल्प का चयन करें जो उन अक्षरों का प्रतिनिधित्व करता है, जिन्हें निम्नलिखित रिक्त स्थानों में बाएँ से दाएँ रखे जाने पर अक्षर-श्रृंखला पूरी हो जाएगी।

M N B _ C M _ _ W C M N B _ _ M _ _ Y C

Ans ✗ 1. W N B Y D N B

✓ 2. V N B X C N B

✗ 3. V N B Y D N B

✗ 4. W Y Y Y C N B

Question ID : 264330143744

Status : Answered

Chosen Option : 2

Q.21 दिए गए संख्या-युग्मों में दूसरी संख्या, पहली संख्या पर कुछ गणितीय संक्रियाएँ करके प्राप्त की जाती है। एक संख्या-युग्म को छोड़कर शेष सभी संख्या-युग्मों में समान संक्रिया(ओं) का पालन किया जाता है। वह असंगत संख्या-युग्म ज्ञात कीजिए।

Ans ✗ 1. (24, 195)

✓ 2. (25, 200)

✗ 3. (26, 211)

✗ 4. (36, 291)

Question ID : 264330143691

Status : Answered

Chosen Option : 2



Download SSC CGL, CHSL E-BOOKS

CLICK HERE

Q.22 उस समुच्चय का चयन कीजिए जिसमें संख्याएँ एक-दूसरे से उसी प्रकार संबंधित हों, जैसे निम्नलिखित समुच्चयों की संख्याएँ एक-दूसरे से संबंधित हैं।
(नोट: संख्याओं को उसके घटक अंकों में तोड़े बिना, पूर्ण संख्याओं पर संक्रियाएँ की जानी चाहिए। उदाहरणार्थ 13 को लें – 13 पर की जाने वाली संक्रियाएँ जैसे कि जोड़ना/घटाना/गुणा करना आदि को 13 में किया जा सकता है। 13 को 1 और 3 में तोड़ना और फिर 1 और 3 पर गणितीय संक्रियाएँ करना अनुमत्त नहीं है)
(36, 6, 18)
(35, 5, 21)

- Ans** 1. (49, 7, 21)
 2. (100, 5, 40)
 3. (63, 7, 98)
 4. (76, 13, 5)

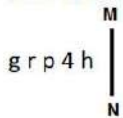
Question ID : 26433089576
Status : Answered
Chosen Option : 1

Q.23 यदि ठीक 1 वर्ष और 2 दिन बाद मंगलवार है, तो आज कौन-सा दिन है? यह लीप वर्ष नहीं है।

- Ans** 1. सोमवार
 2. मंगलवार
 3. रविवार
 4. शनिवार

Question ID : 26433057673
Status : Answered
Chosen Option : 4

Q.24 दर्पण को चित्र में दिखाए अनुसार रेखा MN पर रखे जाने पर, दिए गए संयोजन के सही दर्पण प्रतिबिंब का चयन करें।



- Ans** 1.
 2.
 3.
 4.

Question ID : 26433068190
Status : Answered
Chosen Option : 1

Q.25 दिए गए विकल्पों में से उस संख्या का चयन करें जो निम्नलिखित श्रृंखला में प्रश्न चिह्न (?) के स्थान पर आ सकती है।
4, 11, 20, 31, 44, ?

- Ans** 1. 61
 2. 59
 3. 57
 4. 63

Question ID : 264330106285
Status : Answered
Chosen Option : 2

Q.1 'वी हेव विंग्स (We have wings)' निम्नलिखित में से किस खेल आयोजन से संबंधित है?

- Ans 1. शीतकालीन ओलंपिक 2020
 2. पैरालंपिक 2020
 3. ओलंपिक 2016
 4. ओलंपिक 2020

Question ID : 264330109675

Status : Answered

Chosen Option : 2

Q.2 जिम्नोस्पर्म के बारे में गलत कथन का चयन कीजिए।

- Ans 1. जिम्नोस्पर्म काष्ठीय झाड़ियों (woody shrubs), पेड़ों या लिआनास के रूप में पाए जाते हैं और इनमें कोई वास्तविक जलीय शामिल नहीं होता है और कुछ एपिफाइट्स (epiphytes) शामिल होते हैं।
 2. जिम्नोस्पर्म बीज रहित फूल वाले पौधे हैं।
 3. जिम्नोस्पर्म आमतौर पर प्रजनन के मामले में धीमे होते हैं; परागण और निषेचन के बीच एक वर्ष तक का समय लग सकता है और बीज की परिपक्वता के लिए 3 वर्ष की आवश्यकता हो सकती है।
 4. जिम्नोस्पर्म शंकु या स्ट्रोबिली और अनावृत्त बीज प्रदर्शित करते हैं, लेकिन फूल नहीं।

Question ID : 264330112814

Status : Not Answered

Chosen Option : --

Q.3 17 से 22 जनवरी 2023 तक _____ में द्विवार्षिक त्रि-सेवा उभयचर अभ्यास, एम्फेक्स (AMPHEX) 2023 आयोजित किया गया था।

- Ans 1. ओडिशा
 2. बिहार
 3. आंध्र प्रदेश
 4. तेलंगाना

Question ID : 264330132590

Status : Answered

Chosen Option : 3

Q.4 मेवाड़ के सिसोदिया राजपूत शासक, अमर सिंह ने _____ के शासनकाल के दौरान मुगलों की सेवा को स्वीकार किया था।

- Ans 1. औरंगजेब
 2. अकबर
 3. बाबर
 4. जहांगीर

Question ID : 264330114092

Status : Answered

Chosen Option : 2

Q.5 बिहार में 1857 के विद्रोह का नेतृत्व किसने किया था?

- Ans 1. बख्त खान
 2. मौलवी अहमदुल्लाह
 3. वीर कुंवर सिंह
 4. अजीमुल्लाह

Question ID : 264330109038

Status : Answered

Chosen Option : 3



Q.6 औद्योगिक नीति संकल्प में उद्योगों को _____ श्रेणियों में वर्गीकृत किया गया है।

- Ans
- 1. चार
 - 2. तीन
 - 3. पाँच
 - 4. दो

Question ID : 264330112529

Status : Answered

Chosen Option : 2

Q.7 संगीत वाद्ययंत्रों के उनकी संबंधित शस्त्रियतों के दिए गए अनुक्रम के अनुसार सही क्रम का चयन करें:
उस्ताद अल्ला रक्खा, तोताराम शर्मा, टी.एच. विनायकम।

- Ans
- 1. घटम, पखावज, तबला
 - 2. तबला, घटम, पखावज
 - 3. पखावज, तबला, घटम
 - 4. तबला, पखावज, घटम

Question ID : 264330130503

Status : Not Answered

Chosen Option : --

Q.8 _____ बौद्ध धर्म में भिक्षुणी बनने वाली प्रथम महिला थीं।

- Ans
- 1. महाप्रजापति गौतमी
 - 2. सुजाता
 - 3. संघमिता
 - 4. धम्मनंद भिक्षुणी

Question ID : 264330114061

Status : Answered

Chosen Option : 1

Q.9 खेलों को प्रोत्साहन देने वाले सर्वोच्च निकाय, भारतीय खेल प्राधिकरण की स्थापना किस वर्ष में की गयी थी?

- Ans
- 1. 1961 में
 - 2. 1990 में
 - 3. 1982 में
 - 4. 1984 में

Question ID : 264330110350

Status : Not Answered

Chosen Option : --

Q.10 थबल चोंगबा भारत के किस राज्य का लोकनृत्य है?

- Ans
- 1. मिजोरम
 - 2. पश्चिम बंगाल
 - 3. मणिपुर
 - 4. गोवा

Question ID : 264330109593

Status : Answered

Chosen Option : 3



Download SSC CGL, CHSL E-BOOKS

[CLICK HERE](#)

Q.11 एक गैर-एस.आई. (non-SI) इकाई जिसे 'निट (nit)' कहा जाता है, निम्नलिखित में से किस प्रकाशमिति राशि की इकाई है, जिसका उपयोग प्रकाश की तीव्रता की बहुलता को मापने के लिए किया जाता है?

- Ans
- 1. चमक (ल्यूमिनोसिटी)
 - 2. ज्योतिर्मयता (ल्यूमिनेंस)
 - 3. ल्यूमिनस उत्सर्जन
 - 4. चमकदार एक्सपोजर

Question ID : 264330110043
Status : Answered
Chosen Option : 2

Q.12 सूर्य और चंद्रमा के आकर्षण के कारण, समुद्र का पानी एक दिन में कितनी बार ऊपर चढ़ता और नीचे उतरता है?

- Ans
- 1. चार
 - 2. दो
 - 3. एक
 - 4. तीन

Question ID : 264330111562
Status : Answered
Chosen Option : 2

Q.13 दीवाली हिंदू कैलेंडर के निम्नलिखित में से किस महीने में आती है?

- Ans
- 1. ज्येष्ठ
 - 2. आषाढ़
 - 3. कार्तिक
 - 4. भाद्रपद

Question ID : 26433064320
Status : Not Answered
Chosen Option : --

Q.14 किसी राज्य में मंत्रिपरिषद में मुख्यमंत्री सहित मंत्रियों की कुल संख्या उस राज्य की विधान सभा के सदस्यों की कुल संख्या के _____ से अधिक नहीं होगी।

- Ans
- 1. पच्चीस प्रतिशत
 - 2. पंद्रह प्रतिशत
 - 3. बीस प्रतिशत
 - 4. दस प्रतिशत

Question ID : 264330134576
Status : Answered
Chosen Option : 2

Q.15 निम्नलिखित में से कौन-सी भारत में स्थित मीठे पानी की झील नहीं है?

- Ans
- 1. नैनीताल
 - 2. पुलिकट
 - 3. भीमताल
 - 4. लोकटक

Question ID : 264330113283
Status : Answered
Chosen Option : 2



Q.16 ट्रांसजेंडर समुदाय और भीख मांगने के कार्य में लगे व्यक्तियों के कल्याण के उपायों के लिए, वर्ष 2022 में शुरू की गई योजना का नाम क्या है?

- Ans
- 1. SHINE (शाइन)
 - 2. RISE (राइज़)
 - 3. SMILE (स्माइल)
 - 4. SHRI (श्री)

Question ID : 264330132968
Status : Answered
Chosen Option : 3

Q.17 एंटोन वान ल्यूवेनहॉक ने _____ में एकल-कोशिका वाले जीवन रूपों की खोज की थी।

- Ans
- 1. 1837
 - 2. 1674
 - 3. 1774
 - 4. 1884

Question ID : 26433055792
Status : Not Answered
Chosen Option : --

Q.18 राज्य के नीति निर्देशक तत्वों की उत्पत्ति निम्नलिखित में से किसमें खोजी जा सकती है?

- Ans
- 1. पूना पैक्ट
 - 2. दूसरा गोलमेज सम्मेलन
 - 3. गांधी इरविन समझौता
 - 4. कराची प्रस्ताव

Question ID : 264330110582
Status : Answered
Chosen Option : 4

Q.19 भारत के निम्नलिखित पड़ोसी देशों को उनकी राजभाषाओं के साथ सुमेलित कीजिए।

देश	राजभाषा
1. श्रीलंका	a. जोंगखा
2. भूटान	b. बर्मी
3. म्यांमार	c. सिंहली

- Ans
- 1. 1-b, 2-a, 3-c
 - 2. 1-c, 2-a, 3-b
 - 3. 1-a, 2-b, 3-c
 - 4. 1-a, 2-c, 3-b

Question ID : 264330132765
Status : Answered
Chosen Option : 2



SSC MTS (Non Technical) EXAM STUDY KIT



FREE SHIPPING 

- ▶ 100% SSC MTS Exam Syllabus Covered
- ▶ PRINTED Notes
- ▶ 8 Books, 700+ Pages
- ▶ 2500+ MCQs
- ▶ Practice Papers
- ▶ 1 Year Current Affairs

50% OFF

 **SSCPORTAL.IN**

SSC MTS PDF NOTES

100% Syllabus Covered



**50%
OFF**

CLICK HERE

<https://sscpportal.in/study-kit/mts>

Q.20 आर.जी. भंडारकर किस सुधारवादी संस्था के लोकप्रिय नेता थे?

- Ans
- 1. थियोसॉफिकल सोसाइटी
 - 2. प्रार्थना समाज
 - 3. ब्रह्म समाज
 - 4. आर्य समाज

Question ID : 264330132690

Status : Answered

Chosen Option : 2

Q.21 पद्मजा रेड्डी, जिन्हें 2022 में पद्म श्री से सम्मानित किया गया था, निम्नलिखित में से किस नृत्य शैली के लिए प्रसिद्ध हैं?

- Ans
- 1. ओडिसी
 - 2. कुचिपुड़ी
 - 3. भरतनाट्यम
 - 4. कथक

Question ID : 26433055409

Status : Not Attempted and Marked For Review

Chosen Option : --

Q.22 जी.डी.पी. अपस्फीतिकारक (GDP डिफ्लेटर) = _____

- Ans
- 1. (सांकेतिक जी.डी.पी. (GDP) × वास्तविक जी.डी.पी. (GDP)) × 100
 - 2. (सांकेतिक जी.डी.पी. (GDP) / वास्तविक जी.डी.पी. (GDP)) × 100
 - 3. (सांकेतिक जी.डी.पी. (GDP) + वास्तविक जी.डी.पी. (GDP)) × 100
 - 4. (सांकेतिक जी.डी.पी. (GDP) - वास्तविक जी.डी.पी. (GDP)) × 100

Question ID : 264330109097

Status : Answered

Chosen Option : 2

Q.23 बच्चों को स्कूल के लिए तैयार करने के उद्देश्य से, 29 जुलाई 2021 को भारत सरकार ने _____ के विद्यार्थियों के लिए एक प्री-स्कूल तैयारी कार्यक्रम, विद्या प्रवेश का शुभारंभ किया।

- Ans
- 1. नर्सरी
 - 2. किंडरगार्टन
 - 3. पहली कक्षा
 - 4. प्री-नर्सरी

Question ID : 26433061797

Status : Not Answered

Chosen Option : --

Q.24 उस अनुप्रयोग की पहचान करें जिसमें सौर सेल का उपयोग नहीं किया जाता है।

- Ans
- 1. लिफ्ट प्रणाली
 - 2. अंतरिक्ष शोध यान
 - 3. कृत्रिम उपग्रह
 - 4. रेडियो

Question ID : 26433097104

Status : Answered

Chosen Option : 1



Q.25 भारत में बाबा बुदन पहाड़ियों पर _____ की खेती शुरू की गई थी।

- Ans
- 1. इलायची
 - 2. कॉफी
 - 3. रेशम
 - 4. चाय

Question ID : 264330110632
 Status : Answered
 Chosen Option : 1

Section : Quantitative Aptitude

Q.1 ΔPQR एक वृत्त में उत्कीर्णित एक समबाहु त्रिभुज है। S चाप QR पर कोई बिंदु है। $\angle PSQ$ का माप ज्ञात कीजिए।

- Ans
- 1. 60°
 - 2. 30°
 - 3. 90°
 - 4. 45°

Question ID : 26433058431
 Status : Answered
 Chosen Option : 2

Q.2 1500 m की रेस में, X, Y को 100 m से और Z को 240 m से हराता है। उसी रेस में Y, Z को कितनी दूरी से हराएगा?

- Ans
- 1. 150 m
 - 2. 140 m
 - 3. 200 m
 - 4. 160 m

Question ID : 264330143464
 Status : Not Attempted and Marked For Review
 Chosen Option : --

Q.3 निम्नलिखित का मान ज्ञात करें:

$$51 \div \{25 + (25 \text{ of } 12 \div 30) - (5^4 \div 5 \text{ of } 125)\}$$

- Ans
- 1. $\frac{2}{3}$
 - 2. $-\frac{3}{2}$
 - 3. $\frac{3}{2}$
 - 4. $-\frac{2}{3}$

Question ID : 264330143509
 Status : Answered
 Chosen Option : 3

Q.4 वह सबसे छोटी संख्या ज्ञात कीजिए जिसे 888 में जोड़ने पर प्राप्त संख्या 35 से पूरी तरह विभाज्य होगी।

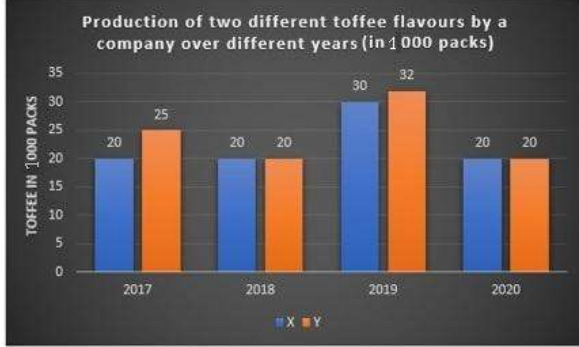
- Ans** 1. 22
 2. 21
 3. 23
 4. 20

Question ID : 264330130903

Status : Answered

Chosen Option : 1

Q.5 एक टॉफी कंपनी दो अलग-अलग फ्लेवर X और Y की टॉफी तैयार करती है। 4 वर्ष की अवधि में दो फ्लेवर का उत्पादन नीचे दिए गए बार-ग्राफ में दर्शाया गया है।



Production of two different toffee flavours by a company over different years (in 1000 packs) - एक कंपनी द्वारा अलग-अलग वर्षों में दो भिन्न टॉफी फ्लेवर का उत्पादन (1000 पैक में) - Toffee in 1000 packs - 1000 पैक में टॉफी
 2017 और 2018 में फ्लेवर X के औसत उत्पादन और 2019 और 2020 में फ्लेवर Y के औसत उत्पादन के बीच कितना अंतर है?

- Ans** 1. 6000 पैक
 2. 6400 पैक
 3. 7500 पैक
 4. 7000 पैक

Question ID : 264330130412

Status : Not Attempted and Marked For Review

Chosen Option : --

Q.6 निम्नलिखित व्यंजक का मान ज्ञात करें।
 $12(\sin^4 \theta + \cos^4 \theta) + 18(\sin^6 \theta + \cos^6 \theta) + 78\sin^2 \theta \cos^2 \theta$

- Ans** 1. 10
 2. 20
 3. 40
 4. 30

Question ID : 264330143552

Status : Answered

Chosen Option : 4

Q.7 यदि 120 m कपड़े का मूल्य ₹9,600 है, तो उस कपड़े के 147 m का मूल्य ज्ञात करें।

- Ans 1. ₹17,160
 2. ₹11,760
 3. ₹11,670
 4. ₹16,170

Question ID : 264330103410

Status : Answered

Chosen Option : 2

Q.8 एक कैनवास से 6 इकाई त्रिज्या और 8 इकाई ऊंचाई वाला एक शंकाकार तम्बू बनाया जाना है। तम्बू बनाने के लिए कितने कैनवास की आवश्यकता होगी? (दो दशमलव स्थान तक पूर्णांकित)

- Ans 1. 177.55 इकाई
 2. 166.57 इकाई
 3. 188.57 इकाई
 4. 155.87 इकाई

Question ID : 26433081744

Status : Answered

Chosen Option : 3

Q.9 एक घड़ी को ₹2,000 में बेचने पर एक दुकानदार को 20% की हानि होती है। इसे ₹3,000 में बेचने पर उसे कितना लाभ या हानि होगी?

- Ans 1. 25% हानि
 2. 25% लाभ
 3. 15% हानि
 4. 20% लाभ

Question ID : 26433091536

Status : Answered

Chosen Option : 4

Q.10 एक निर्वाचन क्षेत्र की निर्वाचक नामावली में शामिल कुल लोगों में से 85% ने चुनाव के दौरान अपने मत डाले। डाले गए मतों में से 10% अवैध घोषित कर दिए गए। यदि मतदाता सूची में 3,00,000 लोग शामिल थे, और धरम ने 1,37,700 वैध मत प्राप्त किए, तो धरम को वैध मतों की कुल संख्या के कितने प्रतिशत मत प्राप्त हुए?

- Ans 1. 50.5%
 2. 70.2%
 3. 45.9%
 4. 60.0%

Question ID : 264330103252

Status : Answered

Chosen Option : 4



Q.11 एक ट्रेन 70 km/h की चाल से चल रही है और समान दिशा में 34 km/h की चाल से चल रही दूसरी ट्रेन को 25 सेकंड में पार कर लेती है। दोनों ट्रेनों की संयुक्त लंबाई (m में) ज्ञात करें।

- Ans**
- 1. 325
 - 2. 225
 - 3. 250
 - 4. 500

Question ID : **264330126586**
Status : **Answered**
Chosen Option : **3**

Q.12 किन्हीं दो प्राकृत संख्याओं के अंतर का वर्ग 324 है, जबकि दी गई दोनों संख्याओं का गुणनफल 144 है। दी गई इन दोनों संख्याओं के वर्गों का धनात्मक अंतर ज्ञात कीजिए।

- Ans**
- 1. 630
 - 2. 360
 - 3. 540
 - 4. 450

Question ID : **264330101348**
Status : **Answered**
Chosen Option : **3**

Q.13 D और E, $\triangle ABC$ की भुजाओं AB और AC पर बिंदु इस प्रकार हैं कि DE, BC के समांतर हैं और $AD : DB = 7 : 9$ है। यदि CD और BE एक दूसरे को F पर प्रतिच्छेद करती हैं, तो $\triangle DEF$ और $\triangle CBF$ के क्षेत्रफलों का अनुपात ज्ञात कीजिए।

- Ans**
- 1. 256 : 49
 - 2. 49 : 144
 - 3. 49 : 81
 - 4. 49 : 256

Question ID : **26433075538**
Status : **Answered**
Chosen Option : **3**

Q.14 निम्नलिखित में से कौन-सा कथन असत्य है?

- Ans**
- 1. $\operatorname{cosec}^2 A - 1 = \cot^2 A$
 - 2. $\cos A \times \sec A = 1$
 - 3. $\tan^2 A = 1 - \sec^2 A$
 - 4. $\sin A = \tan A \times \cos A$

Question ID : **264330130047**
Status : **Answered**
Chosen Option : **3**

Q.15 यदि $\triangle XYZ$ में, $XY = 4$ और $XZ = 5$ cm, और Q, YZ पर एक ऐसा बिंदु है कि $XQ \perp X$ को समद्विभाजित करता है, तो $YQ : QZ$ क्या है?

- Ans**
- 1. 4 : 5
 - 2. 2 : 3
 - 3. 3 : 2
 - 4. 5 : 4

Question ID : **26433083003**
Status : **Answered**
Chosen Option : **1**

Q.16 एक सीलिंग फैन का अंकित मूल्य ₹4,200 है और दुकानदार इस पर 5% की छूट देता है। यदि उसका लाभ 14% है, तो पंखे का क्रय मूल्य _____ है।

- Ans
- 1. ₹3,200
 - 2. ₹3,000
 - 3. ₹3,500
 - 4. ₹3,800

Question ID : 264330103717
Status : Answered
Chosen Option : 3

Q.17 ₹9,500 की राशि पर साधारण ब्याज की 8% वार्षिक दर से कितने वर्षों में प्राप्त मिश्रधन ₹11,780 होगा?

- Ans
- 1. 5
 - 2. 4
 - 3. 3
 - 4. 2

Question ID : 264330112220
Status : Answered
Chosen Option : 3

Q.18 A और B किसी कार्य को 10 दिनों में पूरा कर सकते हैं, B और C उस कार्य को 12 दिनों में पूरा कर सकते हैं और C और A इसे 6 दिनों में पूरा कर सकते हैं। A अकेले इस कार्य को कितने दिनों में पूरा कर सकता है?

- Ans
- 1. $\frac{120}{9}$
 - 2. $\frac{121}{12}$
 - 3. $\frac{120}{11}$
 - 4. 12

Question ID : 264330112116
Status : Answered
Chosen Option : 3

Q.19 यदि $(x + \frac{1}{x}) = 5$ और $x > 1$ है, तो $(x^8 - \frac{1}{x^8})$ का मान क्या होगा?

- Ans
- 1. $60705\sqrt{21}$
 - 2. $60615\sqrt{21}$
 - 3. $60725\sqrt{21}$
 - 4. $60605\sqrt{21}$

Question ID : 264330101372
Status : Answered
Chosen Option : 4

Q.20 A अकेले किसी कार्य को 15 दिनों में पूरा कर सकता है और वह केवल पहले दो दिन और आखिरी दो दिन के दौरान कार्य करता है। शेष कार्य B द्वारा किया जाता है और कार्य 20 दिनों में पूरा होता है। A और B मिलकर उस कार्य को कितने दिनों में पूरा कर सकते हैं?

- Ans**
- ✓ 1. $\frac{80}{9}$
 - ✗ 2. $\frac{90}{8}$
 - ✗ 3. $\frac{70}{8}$
 - ✗ 4. $\frac{80}{7}$

Question ID : **264330112118**
 Status : **Answered**
 Chosen Option : 1

Q.21 दी गई तालिका एक स्कूल में पाँच अलग-अलग विषयों में पाँच छात्रों द्वारा प्राप्त अंकों के प्रतिशत को दर्शाती है।

	अंग्रेजी (100)	विज्ञान (150)	गणित (100)	हिंदी (100)	कंप्यूटर (100)
हितांश	67	70	64	55	75
अक्षरा	75	88	95	60	75
पिहु	69	72	89	64	77
श्रेया	71	66	80	68	72
राहुल	59	64	59	67	90

परीक्षा में हितांश का कुल प्रतिशत (2 दशमलव स्थानों तक) कितना है?

- Ans**
- ✗ 1. 64.89%
 - ✗ 2. 75.11%
 - ✓ 3. 66.55%
 - ✗ 4. 65.31%

Question ID : **26433082727**
 Status : **Answered**
 Chosen Option : 3

Q.22 A और B समान रूप से कार्यकुशल हैं और यदि किसी ने कोई अवकाश नहीं लिया तो प्रत्येक व्यक्तिगत रूप से 30 दिन में एक कार्य पूरा कर सकता है। A और B ने इस कार्य पर एक साथ कार्य करना शुरू किया, लेकिन A ने हर चार दिन कार्य करने के बाद एक दिन का अवकाश लिया जबकि B ने हर पाँच दिन कार्य करने के बाद एक दिन का अवकाश लिया। यदि दोनों ने 01 अगस्त 2022 को कार्य करना प्रारम्भ किया था तो कार्य किस तिथि को पूर्ण हुआ?

- Ans**
- ✗ 1. 16 अगस्त 2022
 - ✓ 2. 18 अगस्त 2022
 - ✗ 3. 19 अगस्त 2022
 - ✗ 4. 17 अगस्त 2022

Question ID : **264330114523**
 Status : **Not Attempted and Marked For Review**
 Chosen Option : --

Q.23 राघव के अनुसार उसका वजन 64 kg से ज्यादा लेकिन 74 kg से कम है। उसकी बहन, राघव की बात से सहमत नहीं है और वह सोचती है कि उसका वजन 60 kg से ज्यादा है लेकिन 69 kg से कम है। उसकी माँ का मानना है कि उसका वजन 68 kg से ज्यादा नहीं हो सकता। उसके पिता का मानना है कि उसका वजन 67 kg से ज्यादा नहीं हो सकता। यदि वे सभी अपने अनुमान में सही हैं, तो राघव के मापे गए विभिन्न संभावित वजनों का औसत (kg में) क्या है?

- Ans**
- 1. 68
 - 2. 66
 - 3. 65
 - 4. 67

Question ID : 264330131346
Status : Answered
Chosen Option : 2

Q.24 यदि $a^2 + b^2 + c^2 = ab + bc + ac$ है, तो $\frac{11a^4 + 13b^4 + 17c^4}{17a^2b^2 + 9b^2c^2 + 15c^2a^2}$ का मान ज्ञात कीजिए।

- Ans**
- 1. 4
 - 2. 11
 - 3. 2
 - 4. 1

Question ID : 264330126227
Status : Answered
Chosen Option : 4

Q.25 यदि $\sin(5x - 25^\circ) = \cos(5y + 25^\circ)$ है, जहाँ $5x - 25^\circ$ और $5y + 25^\circ$ न्यूनकोण हैं, तो $(x + y)$ का मान क्या होगा?

- Ans**
- 1. 50°
 - 2. 16°
 - 3. 18°
 - 4. 40°

Question ID : 26433083079
Status : Answered
Chosen Option : 3

Section : English Comprehension

Q.1 Select the most appropriate meaning of the given idiom.

Through thick and thin

- Ans**
- 1. Hope during trying times
 - 2. Only assist during good times
 - 3. Weak and lonely
 - 4. In good times and in bad times

Question ID : 26433088776
Status : Answered
Chosen Option : 4

Q.2 Select the most appropriate synonym of the given word.

Unbiased

- Ans 1. Definitive
 2. Objective
 3. Subjective
 4. Organisational

Question ID : 26433091815
Status : Answered
Chosen Option : 2

Q.3 Select the option that can be used as a one-word substitute for the given group of words.

Being careful that every detail of something is correct

- Ans 1. Squeamish
 2. Fastidious
 3. Impregnable
 4. Stubborn

Question ID : 26433088192
Status : Answered
Chosen Option : 2

Q.4 Select the most appropriate synonym of the underlined word.

The committee wanted us to explain this in detail.

- Ans 1. Collect
 2. Elaborate
 3. Keen
 4. Trouble

Question ID : 26433094732
Status : Answered
Chosen Option : 2

Q.5 Sentences of a paragraph are given below in jumbled order. Arrange the sentences in the correct order to form a meaningful and coherent paragraph.

- A. But, while the court's action solved one problem, it created another and because of the closure, many workers lost their jobs.
B. For instance, the courts directed industries in residential areas in Delhi to close down or shift out of the city.
C. In recent years, while the courts have come out with strong orders on environmental issues, these have sometimes affected people's livelihoods adversely.
D. Several of these industries were polluting the neighbourhood and discharge from these industries were polluting the river Yamuna because they had been set up without following the rules.

- Ans 1. BDCA
 2. CBDA
 3. BCAD
 4. CDAB

Question ID : 264330143863
Status : Answered
Chosen Option : 2

Q.6 The following sentence has been divided into parts. One of them may contain an error. Select the part that contains the error from the given options. If you don't find any error, mark 'No error' as your answer.

The present-century threats to our environment, / which include interfering species, ailments, pollution and / a boiling temperature, were putting wildlife populations at peril.

- Ans**
- 1. No error
 - 2. The present-century threats to our environment
 - 3. which include interfering species, ailments, pollution, and
 - 4. a boiling temperature, were putting wildlife populations at peril

Question ID : 26433073771
Status : Answered
Chosen Option : 1

Q.7 Select the most appropriate synonym for the highlighted word.
The government's utilitarian stance was appreciated by all.

- Ans**
- 1. fanciful
 - 2. useful
 - 3. thrust
 - 4. distasteful

Question ID : 264330120718
Status : Answered
Chosen Option : 2

Q.8 Select the most appropriate synonym of the given word.

Consequence

- Ans**
- 1. Outcome
 - 2. Begin
 - 3. Origin
 - 4. Start

Question ID : 26433092063
Status : Answered
Chosen Option : 1

Q.9 Select the most appropriate option to substitute the underlined segment in the given sentence.

I don't wear the sunglasses at the moment.

- Ans**
- 1. I didn't wear
 - 2. I was wearing
 - 3. I wore
 - 4. I'm not wearing

Question ID : 26433099061
Status : Answered
Chosen Option : 4

Q.10 The following sentence has been divided into three segments, A, B, C. One of them may contain a grammatical error. Select the segment that contains the error, from the given options. If you don't find any error, mark 'No error' as your answer.

Aniket lives (A) / in the small apartment (B) / in the suburbs (C).

- Ans
- 1. No error
 - 2. B
 - 3. C
 - 4. A

Question ID : 26433074027
Status : Answered
Chosen Option : 2

Q.11 Select the most appropriate option that can substitute the underlined segment in the given sentence.

Her hopes for building her own house were beaten when she lost her jewellery box.

- Ans
- 1. house were dashed when
 - 2. house were relieved when
 - 3. house were defeated when
 - 4. house were frustrated when

Question ID : 26433084630
Status : Answered
Chosen Option : 1

Q.12 Select the most appropriate synonym of the underlined word.

The outcome document of the Rio+20 Conference, the Future We Want, underscores climate change as "an inevitable and urgent global challenge with long-term implications for the sustainable development of all countries". Through the document, Member States express their concern about the continuous rising of emissions of greenhouse gases and the vulnerability of all countries, particularly developing countries, to the adverse impacts of climate change.

- Ans
- 1. escapable
 - 2. immemorable
 - 3. undeniable
 - 4. adventurous

Question ID : 26433090780
Status : Answered
Chosen Option : 3

Q.13 Select the option that can be used as a one-word substitute for the given group of words.

A person who draws or produces maps

- Ans
- 1. Chauffeur
 - 2. Choreographer
 - 3. Calligrapher
 - 4. Cartographer

Question ID : 26433073678
Status : Answered
Chosen Option : 4

Q.14 Select the most appropriate option to fill in the blank.
There are rows of chairs on either side of the _____.

- Ans 1. aisle
 2. isle
 3. l'll
 4. ail

Question ID : 264330121279
Status : Answered
Chosen Option : 1

Q.15 Select the most appropriate option that can substitute the underlined segment in the given sentence.
I have not seen you for last year.

- Ans 1. you for last years
 2. me for last year
 3. you since last year
 4. you about last year

Question ID : 26433084625
Status : Answered
Chosen Option : 3

Q.16 Select the INCORRECTLY spelt word.

- Ans 1. Aristocrate
 2. Preference
 3. Occurrence
 4. Advertise

Question ID : 26433089085
Status : Answered
Chosen Option : 1

Q.17 Select the INCORRECTLY spelt word in the given sentence.

It is wierd to overreact on the consequences like this, it didn't even matter at the end of the day.

- Ans 1. Matter
 2. Wierd
 3. Consequences
 4. Overreact

Question ID : 26433096201
Status : Answered
Chosen Option : 2

Q.18 Describe how you will tell your friends that Mr. Ram uses multimedia for teaching the children in passive voice.

- Ans 1. Multimedia is used by Mr. Ram for teaching the children.
 2. Multimedia is used for teach the children by Mr. Ram.
 3. Multimedia is using for teaching the children.
 4. Mr. Ram use multimedia for teaching the children.

Question ID : 264330122769
Status : Answered
Chosen Option : 1



Q.19 Select the most appropriate meaning of the given idiom.

It turns out to be a blessing in disguise.

- Ans
- 1. When things get better and better when least expecting it
 - 2. Has a very good effect on a situation or a thing
 - 3. When a simple solution solves a problem very well
 - 4. Has a good effect even though at first it seemed it would be bad

Question ID : 26433090799

Status : Answered

Chosen Option : 4

Q.20 Describe how you will tell everyone that Mr. Akhil opened the gate in passive voice.

- Ans
- 1. Mr.Akhil open the gate.
 - 2. The gate was opened by Mr.Akhil.
 - 3. The gate opened by Mr.Akhil.
 - 4. The gate been open by Mr.Akhil.

Question ID : 264330122772

Status : Answered

Chosen Option : 2

Comprehension:

In the following passage, some words have been deleted. Read the passage carefully and select the most appropriate option to fill in each blank.

Socrates is flying. No, he is (1) _____. The wings behind him beat in a calming rhythm (2) _____ the cool air rushes past. His wings are all that matter, (3) _____ at the rushing wind like the sails of some great sea vessel, the feathery appendages all he is and all he will ever want to be. His back muscles flex with the (4) _____ that takes him high above the ground. He feels the effort, of course, but sweeping into the sky does not require much of one. The (5) _____ is pleasurable, even exhilarating. With flight there is freedom beyond description, an ecstasy bordering on emotional.

SubQuestion No : 21

Q.21 Select the most appropriate option to fill in blank no. 1.

- Ans
- 1. redundant
 - 2. sluggish
 - 3. pertinent
 - 4. soaring

Question ID : 264330136467

Status : Answered

Chosen Option : 4



Comprehension:

In the following passage, some words have been deleted. Read the passage carefully and select the most appropriate option to fill in each blank.

Socrates is flying. No, he is (1) _____. The wings behind him beat in a calming rhythm (2) _____ the cool air rushes past. His wings are all that matter, (3) _____ at the rushing wind like the sails of some great sea vessel, the feathery appendages all he is and all he will ever want to be. His back muscles flex with the (4) _____ that takes him high above the ground. He feels the effort, of course, but sweeping into the sky does not require much of one. The (5) _____ is pleasurable, even exhilarating. With flight there is freedom beyond description, an ecstasy bordering on emotional.

SubQuestion No : 22

Q.22 Select the most appropriate option to fill in blank no. 2.

- Ans
- 1. unless
 - 2. much
 - 3. while
 - 4. since

Question ID : 264330136468

Status : Answered

Chosen Option : 3

Comprehension:

In the following passage, some words have been deleted. Read the passage carefully and select the most appropriate option to fill in each blank.

Socrates is flying. No, he is (1) _____. The wings behind him beat in a calming rhythm (2) _____ the cool air rushes past. His wings are all that matter, (3) _____ at the rushing wind like the sails of some great sea vessel, the feathery appendages all he is and all he will ever want to be. His back muscles flex with the (4) _____ that takes him high above the ground. He feels the effort, of course, but sweeping into the sky does not require much of one. The (5) _____ is pleasurable, even exhilarating. With flight there is freedom beyond description, an ecstasy bordering on emotional.

SubQuestion No : 23

Q.23 Select the most appropriate option to fill in blank no. 3.

- Ans
- 1. snapping
 - 2. cleaning
 - 3. losing
 - 4. limiting


Question ID : 264330136469

Status : Answered

Chosen Option : 1



कर्मचारी चयन आयोग (CGL) परीक्षा अध्ययन सामग्री



FREE SHIPPING

- ▶ 100% Syllabus Covered
- ▶ 9 Books, 1000+ Pages - PRINT COPY
- ▶ 3000+ MCQs - PRINT COPY
- ▶ 08 Year Solved Papers & Mock Tests (PDF Copy)
- ▶ One Year Current Affairs (PDF Copy)

हिन्दी माध्यम

50% OFF

SSCPORTAL.IN

SSC CGL HINDI PDF NOTES

100% Syllabus | 1,000+ Pages



CLICK HERE

<https://sscportal.in/study-kit/cgl/tier-1-hindi>

Comprehension:

In the following passage, some words have been deleted. Read the passage carefully and select the most appropriate option to fill in each blank.

Socrates is flying. No, he is (1) _____. The wings behind him beat in a calming rhythm (2) _____ the cool air rushes past. His wings are all that matter, (3) _____ at the rushing wind like the sails of some great sea vessel, the feathery appendages all he is and all he will ever want to be. His back muscles flex with the (4) _____ that takes him high above the ground. He feels the effort, of course, but sweeping into the sky does not require much of one. The (5) _____ is pleasurable, even exhilarating. With flight there is freedom beyond description, an ecstasy bordering on emotional.

SubQuestion No : 24

Q.24 Select the most appropriate option to fill in blank no. 4.

- Ans
- 1. litigation
 - 2. affection
 - 3. manipulation
 - 4. effort

Question ID : 264330136470

Status : Answered

Chosen Option : 4

Comprehension:

In the following passage, some words have been deleted. Read the passage carefully and select the most appropriate option to fill in each blank.

Socrates is flying. No, he is (1) _____. The wings behind him beat in a calming rhythm (2) _____ the cool air rushes past. His wings are all that matter, (3) _____ at the rushing wind like the sails of some great sea vessel, the feathery appendages all he is and all he will ever want to be. His back muscles flex with the (4) _____ that takes him high above the ground. He feels the effort, of course, but sweeping into the sky does not require much of one. The (5) _____ is pleasurable, even exhilarating. With flight there is freedom beyond description, an ecstasy bordering on emotional.

SubQuestion No : 25

Q.25 Select the most appropriate option to fill in blank no. 5.

- Ans
- 1. sensation
 - 2. indignation
 - 3. perversion
 - 4. lamination

Question ID : 264330136471

Status : Answered

Chosen Option : 1