

Combined Graduate level Examination 2023 Tier I

Roll Number	
Candidate Name	
Venue Name	
Exam Date	18/07/2023
Exam Time	9:00 AM - 10:00 AM
Subject	Combined Graduate Level Examination Tier I 2023

Section : **General Intelligence and Reasoning**

Q.1 उस विकल्प का चयन करें जो पांचवें अक्षर-समूह से उसी प्रकार संबंधित है जिस प्रकार दूसरा अक्षर-समूह पहले अक्षर-समूह से और चौथा अक्षर-समूह तीसरे अक्षर-समूह से संबंधित है।
BEAUTY : ZVXEJH :: FRAGILE : FNLKFXM :: BEYOND : ?

- Ans**
- 1. EOPZFC
 - 2. DNOYEB
 - 3. EPRCJH
 - 4. EPRCEB

Question ID : **26433090017**
Status : **Answered**
Chosen Option : **3**

Q.2 शब्द "CAPSULE" में प्रत्येक स्वर को अंग्रेजी वर्णमाला क्रम में उसके पहले आने वाले अक्षर से बदल दिया जाता है और प्रत्येक व्यंजन को अंग्रेजी वर्णमाला क्रम में उसके बाद आने वाले अक्षर से बदल दिया जाता है। इस प्रकार बने नये शब्द में बाएं से तीसरे अक्षर और दाएं से तीसरे अक्षर के बीच अंग्रेजी वर्णमाला क्रम में कितने अक्षर हैं?

- Ans**
- 1. दो
 - 2. एक
 - 3. तीन
 - 4. चार

Question ID : **264330132070**
Status : **Answered**
Chosen Option : **1**

Q.3 निम्नलिखित विकल्पों में से कौन-सा अक्षर-समूह दी गई श्रृंखला में प्रश्नवाचक चिह्न (?) की जगह पर आएगा ताकि यह श्रृंखला तार्किक रूप से पूर्ण बन सके?
CXW, EVU, GTS, IRQ, ?

- Ans**
- 1. NOL
 - 2. MNO
 - 3. ONM
 - 4. KPO

Question ID : **26433069529**
Status : **Answered**
Chosen Option : **4**



Q.4 कुत्ते का 'लैब्राडोर' से वही संबंध है, जो 'सब्जी' का '_____ ' से है।

- Ans
- 1. केला
 - 2. अचार
 - 3. सेब
 - 4. शिमला मिर्च

Question ID : 264330101126

Status : Answered

Chosen Option : 4

Q.5 निम्नलिखित चार अक्षर-समूहों में से तीन किसी तरीके से समान हैं और एक भिन्न है। भिन्न को चुनें।

PTXB
GKOS
HKNQ
MQUY

- Ans
- 1. GKOS
 - 2. HKNQ
 - 3. MQUY
 - 4. PTXB

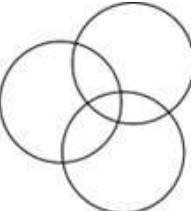
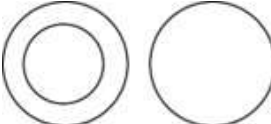
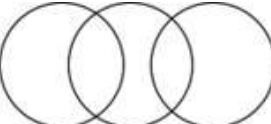
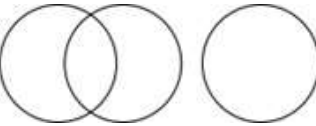
Question ID : 26433092612

Status : Answered

Chosen Option : 2

Q.6 निम्नलिखित श्रेणियों के बीच के संबंध को सर्वोत्तम तरीके से दिखाने वाले वेन डायग्राम का चयन करें।
दुबई, एशिया, अफ्रीका

Ans

- 1. 
- 2. 
- 3. 
- 4. 

Question ID : 264330130729

Status : Answered

Chosen Option : 2



Download SSC CGL, CHSL E-BOOKS

[CLICK HERE](#)

Q.7 उस समुच्चय का चयन कीजिए जिसमें संख्याएँ उसी तरह संबंधित हैं जिस प्रकार दिए गए समुच्चय की संख्याएँ संबंधित हैं।
(नोट: संख्याओं को उनके घटक अंकों में विभाजित किए बिना, पूर्ण संख्याओं पर गणितीय संक्रियाएं की जानी चाहिए। उदाहरण के लिए 13 – 13 पर विभिन्न गणितीय संक्रिया जैसे 13 को जोड़ना / घटाना / गुणा करना आदि की जा सकती हैं। 13 को 1 और 3 में तोड़ने और फिर 1 और 3 पर गणितीय संक्रियाएँ करने की अनुमति नहीं है।)
(36, 21, 35)
(43, 19, 53)

- Ans**
- 1. (44, 20, 54)
 - 2. (35, 22, 34)
 - 3. (48, 37, 25)
 - 4. (51, 34, 39)

Question ID : **264330134927**
Status : **Not Answered**
Chosen Option : --

Q.8 एक निश्चित कूट भाषा में 'FRISK' को 'THLIQ' लिखा जाता है और 'MOADS' को 'QODQB' लिखा जाता है। उस भाषा में 'WAGER' को किस प्रकार लिखा जाएगा?

- Ans**
- 1. CUJBC
 - 2. CYJBD
 - 3. CYJPC
 - 4. CUJPG

Question ID : **264330131614**
Status : **Answered**
Chosen Option : 3

Q.9 दीवार पर लगे चित्र को देखते हुए उसने कहा "मेरी भाभी S के पति Q के पुत्र N की एक बहन R थी"। S, R से किस प्रकार संबंधित है?

- Ans**
- 1. पुत्रवधू
 - 2. सास
 - 3. पुत्री
 - 4. माता

Question ID : **264330122392**
Status : **Answered**
Chosen Option : 4

Q.10 उस विकल्प का चयन करें जो उन अक्षरों को निरूपित करता है, जिन्हें नीचे दिए गए रिक्त स्थान में बाएं से दाएं क्रमिक रूप से रखे जाने पर अक्षर श्रृंखला पूर्ण हो जाएगी।
BRU_TLP_RUI_LPBR_ITLPB_UIT__

- Ans**
- 1. IBTUPLR
 - 2. IBTRUPL
 - 3. IBTURLP
 - 4. IBRUTLP

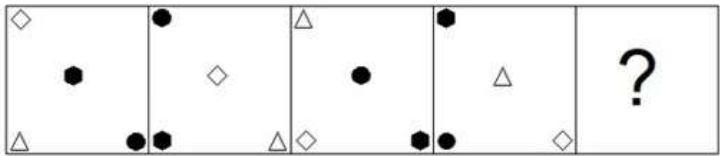
Question ID : **264330131038**
Status : **Answered**
Chosen Option : 3

Q.11 एक निश्चित कूट भाषा में, यदि 'CBVQ' को '652520' के रूप में लिखा जाता है और 'FRJT' को '9211323' के रूप में लिखा जाता है, तो उसी कूट भाषा में 'EHLP' को किस प्रकार लिखा जाएगा?

- Ans
- 1. 80121421
 - 2. 8012514
 - 3. 8111519
 - 4. 7910520

Question ID : 264330126654
 Status : Answered
 Chosen Option : 3

Q.12 दिए गए विकल्पों में से उस आकृति का चयन कीजिए जो निम्नलिखित श्रृंखला में प्रश्न चिह्न (?) के स्थान पर आ सकती है।

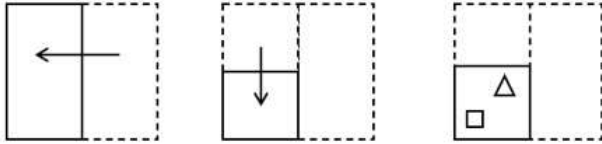


Ans

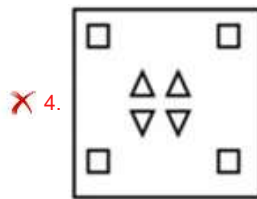
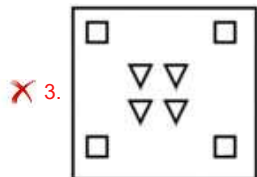
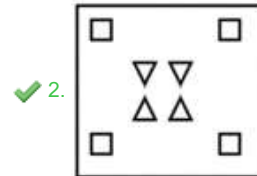
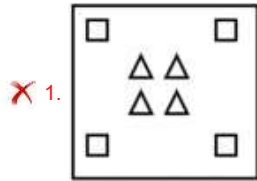
- 1.
- 2.
- 3.
- 4.

Question ID : 264330103133
 Status : Answered
 Chosen Option : 2

Q.13 एक कागज को नीचे दिखाए गए अनुसार मोड़ा और काटा जाता है। खोले जाने पर यह कैसा दिखाई देगा?



Ans



Question ID : 264330101179

Status : Answered

Chosen Option : 2

Q.14 गणितीय चिह्नों के निम्नलिखित संयोजनों में से सही संयोजन को चुनें, जिसे निम्नलिखित समीकरण को संतुलित करने के लिए क्रमिक रूप से भरा जा सकता है।

28 4 3 9 42 12

Ans ✗ 1. +, ×, -, =, ×

✗ 2. ÷, ×, =, +, +

✗ 3. +, =, ÷, ×, +

✓ 4. ÷, ×, +, =, -

Question ID : 264330122243

Status : Answered


Chosen Option : 4



Download SSC CGL, CHSL E-BOOKS

CLICK HERE

कर्मचारी चयन आयोग (CGL) परीक्षा अध्ययन सामग्री



FREE SHIPPING

- ▶ 100% Syllabus Covered
- ▶ 9 Books, 1000+ Pages - PRINT COPY
- ▶ 3000+ MCQs - PRINT COPY
- ▶ 08 Year Solved Papers & Mock Tests (PDF Copy)
- ▶ One Year Current Affairs (PDF Copy)

हिन्दी माध्यम

50% OFF

SSCPORTAL.IN

SSC CGL HINDI PDF NOTES

100% Syllabus | 1,000+ Pages

50%
OFF

CLICK HERE

<https://sscportal.in/study-kit/cgl/tier-1-hindi>

Q.15 दिए गए समीकरण को सही बनाने (संतुलित करने) के लिए किन दो गणितीय चिह्नों को आपस में बदलना होगा?

$$10 - 4 + 13 \div 15 \times 3 = 71$$

- Ans
- ✓ 1. \div और \times
 - ✗ 2. $-$ और $+$
 - ✗ 3. $+$ और \times
 - ✗ 4. $-$ और \times

Question ID : 264330120856

Status : Answered

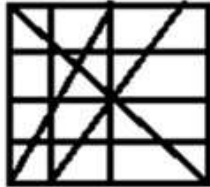
Chosen Option : 1

Q.16 उस विकल्प आकृति का चयन करें जिसमें प्रश्न में दी गई आकृति निहित है (घुमाने की अनुमति नहीं है)।

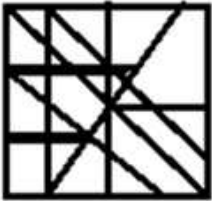


Ans

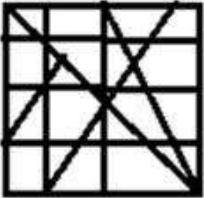
✓ 1.



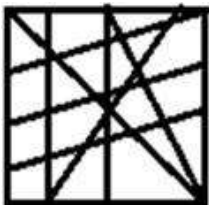
✗ 2.



✗ 3.



✗ 4.



Question ID : 26433067434

Status : Answered

Chosen Option : 1



Download SSC CGL, CHSL E-BOOKS

CLICK HERE

Q.17 उस समुच्चय का चयन कीजिए, जिसमें संख्याएँ उसी प्रकार संबंधित हैं, जिस प्रकार दिए गए समुच्चय की संख्याएँ आपस में संबंधित हैं।
(नोट: संख्याओं को उसके घटक अंकों में विभाजित किए बिना, पूर्ण संख्याओं पर गणितीय संक्रियाएँ की जा सकती है। उदाहरण के लिए 13 - संख्या 13 पर गणितीय संक्रियाएँ जैसे कि जोड़ना/घटाना/गुणा करना आदि को 13 पर ही किया जा सकता है। 13 को 1 और 3 में विभाजित करने और फिर 1 और 3 पर गणितीय संक्रियाएँ करने की अनुमति नहीं है।)
(16, 32, 54)
(29, 58, 80)

- Ans 1. (17, 35, 59)
 2. (24, 48, 70)
 3. (23, 46, 62)
 4. (25, 50, 62)

Question ID : 26433057071

Status : Answered

Chosen Option : 2

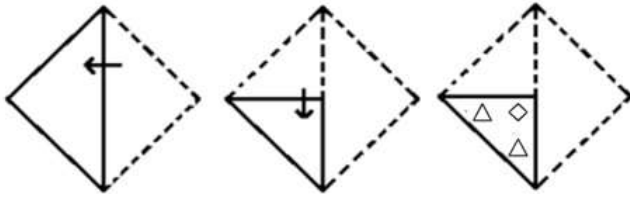


Download SSC CGL, CHSL E-BOOKS

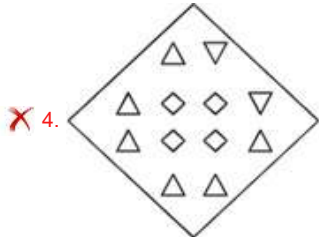
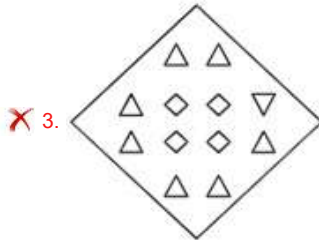
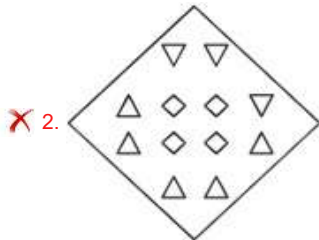
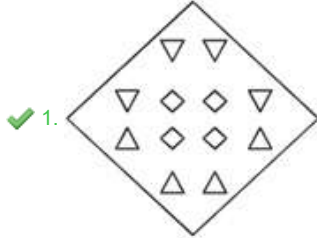
[CLICK HERE](#)

Q.18 एक कागज को नीचे दिखाए अनुसार मोड़ा और काटा जाता है। कागज को खोलने

पर यह कैसा दिखाई देगा?



Ans



Question ID : 26433080544

Status : Answered

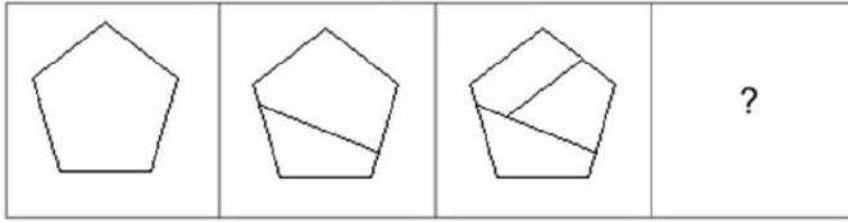
Chosen Option : 1



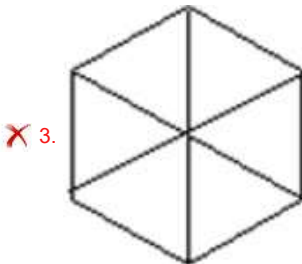
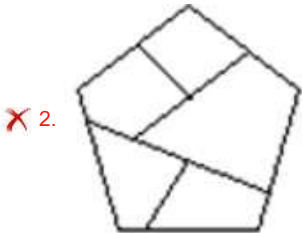
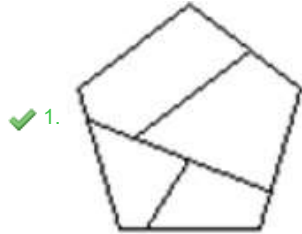
Download SSC CGL, CHSL E-BOOKS

CLICK HERE

Q.19 उस आकृति का चयन कीजिए, जो निम्नलिखित आकृति श्रृंखला में अगले स्थान पर आएगी।



Ans



Question ID : 26433083102

Status : Answered

Chosen Option : 1

Q.20 निम्नलिखित में से कौन-सी संख्या दी गई श्रृंखला में प्रश्न चिह्न (?) का स्थान लेगी?
108, 99, 88, ?, 60, 43

Ans ✗ 1. 76

✗ 2. 78

✗ 3. 77

✓ 4. 75

Question ID : 26433090926

Status : Answered

Chosen Option : 4



Download SSC CGL, CHSL E-BOOKS

CLICK HERE

Q.21 उस समुच्चय का चयन करें जिसमें दी गई संख्याएँ आपस में उसी प्रकार संबंधित हैं जिस प्रकार निम्नलिखित समुच्चयों की संख्याएँ आपस में संबंधित हैं।
(ध्यान दें: संख्याओं को उनके घटक अंकों में विभाजित किए बिना, पूर्ण संख्याओं पर संक्रियाएं की जानी चाहिए। उदाहरण के लिए संख्या 13 - 13 पर विभिन्न गणितीय संक्रियाएं जैसे 13 को जोड़ना / घटाना / गुणा करना आदि किया जा सकता है। 13 को 1 और 3 में तोड़ने और फिर 1 और 3 पर गणितीय संक्रियाएँ करने की अनुमति नहीं है।)
(5,32,7)
(4,30,14)

- Ans**
- 1. (6, 65, 13)
 - 2. (8, 60, 9)
 - 3. (7, 50, 21)
 - 4. (7, 60, 11)

Question ID : 264330117294

Status : Answered

Chosen Option : 4

Q.22 नीचे तीन कथन और उनके बाद तीन निष्कर्ष I, II और III दिए गए हैं। कथनों को सत्य मानते हुए, भले ही वे सर्वज्ञात तथ्यों से भिन्न प्रतीत होते हों, निर्धारित करें कि कौन-सा/से निष्कर्ष कथनों का तार्किक रूप से अनुसरण करता है/करते हैं।

कथन:

सभी धातुएं स्वर्ण हैं।
सभी ज्वैलरी स्वर्ण हैं।
सभी स्वर्ण आभूषण हैं।

निष्कर्ष:

- i. कुछ आभूषण ज्वैलरी हैं।
- ii. कुछ धातुएं ज्वैलरी हैं।
- iii. सभी ज्वैलरी आभूषण हैं।

- Ans**
- 1. केवल निष्कर्ष I और III अनुसरण करते हैं
 - 2. सभी निष्कर्ष अनुसरण करते हैं
 - 3. केवल निष्कर्ष II और III अनुसरण करते हैं
 - 4. केवल निष्कर्ष I और II अनुसरण करते हैं

Question ID : 26433090911

Status : Answered

Chosen Option : 1

Q.23 उस समुच्चय का चयन करें जिसमें संख्याएं आपस में उसी तरह से संबंधित हैं जैसे निम्न समुच्चयों की संख्याएं आपस में संबंधित हैं।
(टिप्पणी: संक्रियाएं संख्याओं को उनके घटक अंकों में विभाजित किए बिना, पूर्ण संख्याओं पर की जानी चाहिए। उदाहरण के लिए 13 को 1 - 13 पर की जाने वाली संक्रियाएं जैसे कि जोड़ना/घटाना/गुणा करना आदि केवल 13 पर की जा सकती हैं। 13 को 1 और 3 में तोड़ना और फिर 1 और 3 पर गणितीय संक्रियाएं करने की अनुमति नहीं है।)

(9, 6, 25)
(14, 5, 29)

- Ans**
- 1. (13, 9, 32)
 - 2. (27, 8, 29)
 - 3. (18, 4, 42)
 - 4. (12, 8, 20)

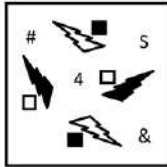
Question ID : 264330131290

Status : Answered

Chosen Option : 1




Q.24 जब दर्पण को दी गई आकृति के दाईं ओर रखा जाता है, तब निम्नलिखित विकल्पों में से सही दर्पण प्रतिबिंब का चयन करें।

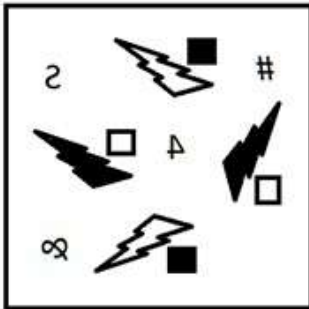


Ans

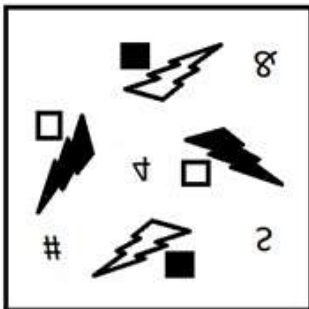
✗ 1.



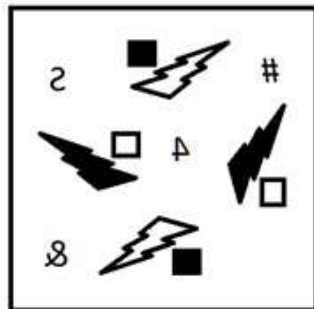
✗ 2.



✗ 3.



✓ 4.



Question ID : 264330103202

Status : Answered

Chosen Option : 4



Download SSC CGL, CHSL E-BOOKS

CLICK HERE

Q.25 दिए गए संख्या-युग्मों में दूसरी संख्या पहली संख्या पर कुछ गणितीय संक्रिया/संक्रियाएं करके प्राप्त की गई है। एक संख्या-युग्म को छोड़कर सभी संख्या-युग्मों में समान संक्रिया/संक्रियाओं का अनुसरण किया गया है। वह असंगत संख्या-युग्म ज्ञात कीजिए।

- Ans
- 1. (16, 272)
 - 2. (11, 132)
 - 3. (15, 240)
 - 4. (13, 180)

Question ID : 264330143679
Status : Answered
Chosen Option : 4

Section : General Awareness

Q.1 फर्न, हॉसटेल और लाइकोफाइड्स निम्नलिखित में से किस समूह से संबंधित हैं?

- Ans
- 1. कवक
 - 2. ब्रायोफाइटा
 - 3. शैवाल
 - 4. टेरिडोफाइटा

Question ID : 26433082206
Status : Not Answered
Chosen Option : --

Q.2 संघ लोक सेवा आयोग के संबंध में निम्नलिखित में से कौन-सा/से कथन सत्य है/हैं?

- A. संसद के पास आयोग के अध्यक्ष, सदस्यों और कर्मचारियों की सेवा की शर्तों के रूप में नियम बनाने की शक्ति है।
B. भारत सरकार अधिनियम, 1935 में संघ के लिए एक लोक सेवा आयोग और प्रत्येक प्रांत या प्रांतों के समूह के लिए एक प्रांतीय लोक सेवा आयोग की परिकल्पना की गई थी।
C. संघीय लोक सेवा आयोग को 1950 में संविधान के अनुच्छेद 378 के खंड (1) के आधार पर संघ लोक सेवा आयोग के नाम से जाना जाने लगा।

- Ans
- 1. केवल A और B
 - 2. केवल B और C
 - 3. केवल A और C
 - 4. A, B और C

Question ID : 264330114770
Status : Not Answered
Chosen Option : --

Q.3 दक्कन में मुगलों का विरोध करने वाला मलिक अंबर किस राज्य का कुशल प्रशासक था?

- Ans
- 1. बीदर
 - 2. अहमदनगर
 - 3. बीजापुर
 - 4. गोलकुंडा

Question ID : 264330110202
Status : Not Answered
Chosen Option : --

Q.4 ओलंपिक पदक जीतने वाली पहली भारतीय महिला कौन हैं?

- Ans
- 1. PV सिंधु
 - 2. मीराबाई चानू
 - 3. कर्णम मल्लेश्वरी
 - 4. साइना नेहवाल

Question ID : 26433055189
Status : Answered
Chosen Option : 3

Q.5 निम्नलिखित में से किस खिलाड़ी को छत्तीसगढ़ वीरनी पुरस्कार 2021 से सम्मानित किया गया?

- Ans
- 1. बजरंग पुनिया
 - 2. दुती चंद
 - 3. शिखर धवन
 - 4. पी.वी. सिंधु

Question ID : 26433082839
Status : Answered
Chosen Option : 2

Q.6 यह त्योहार नागालैंड सरकार ने वर्ष 2000 में जनजातियों के बीच संवाद को प्रोत्साहित करने और राज्य की सांस्कृतिक विरासत को बढ़ावा देने के लिए शुरू किया था। इस त्योहार का नाम क्या है?

- Ans
- 1. नुआखाई उत्सव
 - 2. गान-नगाई उत्सव
 - 3. हॉर्नबिल उत्सव
 - 4. नाजू उत्सव

Question ID : 264330111138
Status : Answered
Chosen Option : 3

Q.7 मई 2022 में सफलतापूर्वक प्रशिक्षण पूरा करने के बाद आर्मी विमानन दल में लड़ाकू वायुयान चालक के रूप में शामिल होने वाली पहली महिला अधिकारी कौन हैं?

- Ans
- 1. कैप्टन मंजू शर्मा
 - 2. कैप्टन शिवा चौहान
 - 3. कैप्टन अभिलाषा बराक
 - 4. कैप्टन गुरसिमरन कौर

Question ID : 264330132599
Status : Not Answered
Chosen Option : --

Q.8 राष्ट्रपति राम नाथ कोविंद ने 2021 में जोगती नृत्य के लिए माथा बी. मंजम्मा को कौन-सा पुरस्कार प्रदान किया?

- Ans
- 1. संगीत नाटक अकादमी
 - 2. पद्म श्री
 - 3. पद्म विभूषण
 - 4. पद्म भूषण

Question ID : 26433055423
Status : Answered
Chosen Option : 4



Q.9 भारतीय संविधान का कौन-सा अनुच्छेद 'उपाधि के समापन' से संबंधित है?

- Ans 1. अनुच्छेद 18
 2. अनुच्छेद 19
 3. अनुच्छेद 20
 4. अनुच्छेद 17

Question ID : 264330144219
Status : Answered
Chosen Option : 1

Q.10 निम्नलिखित में से भारत के काली मिट्टी क्षेत्र की पहचान कीजिए।

- Ans 1. उत्तरी मैदान
 2. तटीय मैदान
 3. डेक्कन ट्रैप
 4. हिमालयी क्षेत्र

Question ID : 264330119232
Status : Answered
Chosen Option : 3

Q.11 निम्नलिखित में से पृष्ठीय तनाव के संबंध में कौन-सा कथन सही नहीं है?

- Ans 1. जल की बूँद का आकार पृष्ठीय तनाव के कारण गोलाकार होता है।
 2. कमरे के तापमान पर जल का पृष्ठीय तनाव एथिल अल्कोहल से कम होता है।
 3. तरल अणुओं के बीच संसजक बल पृष्ठीय तनाव के रूप में जानी जाने वाली परिघटना के लिए उत्तरदायी हैं।
 4. पृष्ठीय तनाव को आमतौर पर डाइन/सेमी (dynes/cm) में मापा जाता है।

Question ID : 264330131766
Status : Not Answered
Chosen Option : --

Q.12 निम्नलिखित में से कौन, वाद्य यंत्र सुरबहार से संबंधित है?

- Ans 1. शिव कुमार शर्मा
 2. अन्नपूर्णा देवी
 3. शरण रानी
 4. भजन सोपारी

Question ID : 264330131306
Status : Answered
Chosen Option : 2

Q.13 पाणिनि की अष्टाध्यायी _____ पर लिखी गई एक प्रसिद्ध कृति है।

- Ans 1. मौर्य प्रशासन
 2. संस्कृत व्याकरण
 3. वैद्यक-शास्त्र
 4. गुप्तकाल में प्रशासन

Question ID : 264330114060
Status : Answered
Chosen Option : 2



SSC MTS (Non Technical) EXAM STUDY KIT



FREE SHIPPING 

- ▶ 100% SSC MTS Exam Syllabus Covered
- ▶ PRINTED Notes
- ▶ 8 Books, 700+ Pages
- ▶ 2500+ MCQs
- ▶ Practice Papers
- ▶ 1 Year Current Affairs

50% OFF

 **SSCPORTAL.IN**
India's largest online community for SSC, CDS, Railways

SSC MTS PDF NOTES

100% Syllabus Covered



CLICK HERE

<https://sscpportal.in/study-kit/mts>

Q.14 पृथुकृमि (प्लेटिहेल्मिन्थीज) में परासरण नियमन में कौन-सी कोशिकाएँ मदद करती हैं?

- Ans 1. ज्वाला कोशिकाएँ
 2. हुक्स
 3. गुच्छिका
 4. तंत्रिका कोशिकाएँ

Question ID : 264330134873
 Status : Not Answered
 Chosen Option : --

Q.15 ब्रिटिश भारत में देशी प्रेस अधिनियम किस वर्ष लागू किया गया था?

- Ans 1. 1874
 2. 1872
 3. 1878
 4. 1876

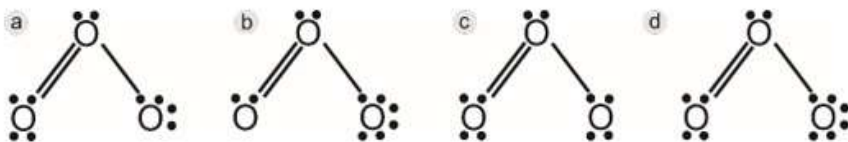
Question ID : 264330106608
 Status : Answered
 Chosen Option : 3

Q.16 भारत ने किस ओलम्पिक खेलों में पहली बार स्वर्ण पदक जीता था?

- Ans 1. 1936 बर्लिन
 2. 1928 एम्स्टर्डम
 3. 1968 मेक्सिको
 4. 1952 हेलसिंकी

Question ID : 264330110344
 Status : Answered
 Chosen Option : 2

Q.17 निम्नलिखित में से कौन सी O_3 की सही लुईस संरचना है?



- Ans 1. b
 2. c
 3. a
 4. d

Question ID : 26433066639
 Status : Not Answered
 Chosen Option : --

Q.18 दिसंबर 2021 में सर्वोच्च न्यायालय ने निम्नलिखित में से किस राज्य में स्थानीय निकाय चुनावों के लिए ओबीसी (OBC) कोटा निलंबित कर दिया था?

- Ans 1. बिहार और उत्तर प्रदेश
 2. पश्चिम बंगाल और ओडिशा
 3. महाराष्ट्र और मध्य प्रदेश
 4. आंध्र प्रदेश और कर्नाटक

Question ID : 26433074184
 Status : Not Answered
 Chosen Option : --



Q.19 उस विकल्प का चयन कीजिए, जो भारत के निम्नलिखित पड़ोसी देशों की रैंकिंग को मानव विकास सूचकांक (HDI) 2021-22 के अनुसार आरोही क्रम में व्यवस्थित करता है।

- a) श्रीलंका
- b) मालदीव
- c) भूटान
- d) बांग्लादेश

Ans 1. a-b-c-d

2. a-b-d-c

3. b-a-d-c

4. b-a-c-d

Question ID : 264330109523

Status : Answered

Chosen Option : 4

Q.20 M_2 मुद्रा आपूर्ति का एक मापक है। $M_2 = M_1 + ?$

Ans 1. मांग जमा

2. डाकघर में जमा बचत

3. राष्ट्रीय बचत प्रमाणपत्र

4. सिक्के और करेंसी नोट

Question ID : 26433066576

Status : Not Answered

Chosen Option : --

Q.21 आसनसोल, हावड़ा, मालदा और सियालदह मंडल भारत के किस रेलवे ज़ोन के अंतर्गत आते हैं?

Ans 1. पश्चिम मध्य रेलवे

2. उत्तर रेलवे

3. पूर्व रेलवे

4. मध्य रेलवे

Question ID : 264330111321

Status : Answered

Chosen Option : 3

Q.22 औद्योगिक नीति, 1956 की अनुसूची A में कितने उद्योगों को सूचीबद्ध किया गया था?

Ans 1. 10

2. 17

3. 16

4. 12

Question ID : 264330109391

Status : Answered

Chosen Option : 1

Q.23 आर्द्रता क्या है?

Ans 1. जब जल में वायु उपस्थित होती है

2. जब जलवाष्प वायु से जल में स्थानांतरित होती है

3. जब अन्य गैसों हवा में स्थानांतरित होती हैं

4. जब वायु में जलवाष्प उपस्थित होती है

Question ID : 264330111564

Status : Not Answered

Chosen Option : --



Download SSC CGL, CHSL E-BOOKS

CLICK HERE

Q.24 किस देश के अधिकारियों ने भारतीयों को ले जा रहे जहाज कोमागाटा मारू को प्रवेश की अनुमति देने से इनकार कर दिया?

- Ans**
- 1. न्यूजीलैंड
 - 2. ऑस्ट्रेलिया
 - 3. कनाडा
 - 4. अमेरिका

Question ID : **264330132671**
 Status : **Not Answered**
 Chosen Option : --

Q.25 गरबा किस त्योहार के दौरान किया जाता है?

- Ans**
- 1. बिहू
 - 2. पोंगल
 - 3. दिवाली
 - 4. नवरात्रि

Question ID : **264330109280**
 Status : **Answered**
 Chosen Option : 4

Section : Quantitative Aptitude

Q.1 यदि $\tan \frac{A}{2} = x$ है, तो x का मान ज्ञात कीजिए।

- Ans**
- 1. $\frac{\sqrt{1 - \cos A}}{\sqrt{1 + \cos A}}$
 - 2. $\frac{\sqrt{1 + \cos A}}{\sqrt{1 - \cos A}}$
 - 3. $\frac{\sqrt{\cos A - 1}}{\sqrt{1 + \cos A}}$
 - 4. $\frac{\sqrt{1 - \sin A}}{\sqrt{1 + \cos A}}$

Question ID : **264330122105**
 Status : **Answered**
 Chosen Option : 1

Q.2 20 लोगों की एक टीम का औसत भार 59.8 kg परिकल्पित किया गया और बाद में पता चला कि एक भार को गलती से 77 kg के बजाय 68 kg पढ़ लिया गया है। सही औसत भार क्या है?

- Ans**
- 1. 70.25 kg
 - 2. 61.25 kg
 - 3. 60.50 kg
 - 4. 60.25 kg

Question ID : **264330130911**
 Status : **Answered**
 Chosen Option : 4

Q.3 त्रिकोणमितीय सूत्रों का उपयोग करके $\left(\frac{\sin(x-y)}{\sin(x+y)}\right)\left(\frac{\tan x + \tan y}{\tan x - \tan y}\right)$ का मान ज्ञात करें।

- Ans**
- 1. 0
 - 2. 2
 - 3. 1
 - 4. -2

Question ID : 26433075780
Status : Not Answered
Chosen Option : --

Q.4 30 पुरुष एक काम को 12 दिन में पूरा कर सकते हैं। 6 दिन के बाद, 24 और पुरुष उनके साथ जुड़ गए। शेष काम को पूरा करने में उन्हें अब कितने दिन लगेंगे?

- Ans**
- 1. $3\frac{1}{3}$ दिन
 - 2. $3\frac{2}{3}$ दिन
 - 3. $2\frac{1}{3}$ दिन
 - 4. $3\frac{1}{2}$ दिन

Question ID : 264330143491
Status : Answered
Chosen Option : 1

Q.5 10 cm और 5 cm त्रिज्या के दो वृत्त एक दूसरे को एक बिंदु A पर बाह्य रूप से स्पर्श करते हैं। PQ, क्रमशः O_1 और O_2 केन्द्र वाले उन दो वृत्तों की सीधी उभयनिष्ठ स्पर्शरेखा (उभयनिष्ठ अनुस्पर्शरेखा) है। PQ की लंबाई क्या होगी?

- Ans**
- 1. $9\sqrt{2}$ cm
 - 2. $8\sqrt{2}$ cm
 - 3. $6\sqrt{2}$ cm
 - 4. $10\sqrt{2}$ cm

Question ID : 264330143546
Status : Answered
Chosen Option : 4

Q.6 एक पुलिसकर्मी को 400m की दूरी पर एक चोर दिखता है। जब पुलिसकर्मी पीछा करने लगता है तो चोर भी भागने लगता है। यदि चोर की चाल 32 km/h है और पुलिसकर्मी की चाल 40 km/h है, तो पुलिसकर्मी द्वारा पकड़े जाने से पहले तक चोर कितनी दूर तक भाग चुका होगा?

- Ans**
- 1. 1000m
 - 2. 1200m
 - 3. 1600m
 - 4. 1500m

Question ID : 264330103426
Status : Answered
Chosen Option : 3

Q.7 निम्नलिखित में से कौन-सी संख्या $4^{12} + 4^{13} + 4^{14} + 4^{15}$ को पूर्णतः विभाजित करेगी?

- Ans** 1. 17
 2. 3
 3. 7
 4. 11

Question ID : **264330145552**
 Status : **Answered**
 Chosen Option : 1

Q.8 मान लीजिए कि A, B, C एक ΔPQR की क्रमशः PQ, QR, PR भुजाओं के मध्य-बिंदु हैं। यदि ΔPQR का क्षेत्रफल 32 cm^2 है, तो ΔABC का क्षेत्रफल ज्ञात कीजिए।

- Ans** 1. 8 cm^2
 2. 32 cm^2
 3. 16 cm^2
 4. 24 cm^2

Question ID : **264330143528**
 Status : **Answered**
 Chosen Option : 1

Q.9 $(x^2 - y^2)$ और $(x - y)$ का तृतीयानुपाती ज्ञात करें।

- Ans** 1. $\frac{x + y}{x - y}$
 2. $\frac{x - y}{x + y}$
 3. $(x - y)$
 4. $(x + y)$

Question ID : **264330104515**
 Status : **Answered**
 Chosen Option : 2

Q.10 ₹10,000 मूल्य की वस्तुएं खरीदने पर एक दुकानदार अपने ग्राहकों को ₹500 की फ्लैट छूट प्रदान करता है। इसके अलावा, क्रेडिट कार्ड का उपयोग करके खरीदारी करने पर, वह 7% की अतिरिक्त छूट देता है। यदि कोई ग्राहक क्रेडिट कार्ड का उपयोग कर ₹10000 का सामान खरीदता है, तो उसे कितना भुगतान करना होगा?

- Ans** 1. ₹8,835
 2. ₹9,000
 3. ₹9,300
 4. ₹8,815

Question ID : **26433091540**
 Status : **Answered**
 Chosen Option : 1

Q.11 एक दुकानदार नीचे दी गई दो छूट संबंधी योजनाओं की पेशकश करता है।

- A) 10% और 15% की दो क्रमिक छूट।
B) 5 वस्तुओं की खरीद पर 2 वस्तु मुफ्त पाएं।
किस योजना में छूट प्रतिशत अधिकतम है?

- Ans 1. A और B दोनों योजनाओं में छूट प्रतिशत समान है
 2. B
 3. A
 4. योजना B में कोई छूट नहीं दी गई है

Question ID : 264330104249

Status : Answered

Chosen Option : 2

Q.12 दिए गए व्यंजक का सरलीकरण करें।

$$\frac{(326 + 222)^2 - (326 - 222)^2}{(326 \times 222)}$$

- Ans 1. 1
 2. 4
 3. 2
 4. 3

Question ID : 264330126540

Status : Answered

Chosen Option : 2

Q.13 निम्नलिखित में से कौन-सी संख्या 24 से विभाज्य है?

- Ans 1. 49512
 2. 64760
 3. 26968
 4. 52668

Question ID : 264330131114

Status : Answered

Chosen Option : 1

Q.14 किन्हीं दो प्राकृत संख्याओं के अंतर का घन 1728 है, जबकि दी गई इन दोनों संख्याओं का गुणनफल 108 है। दी गई इन दोनों संख्याओं के घनों का धनात्मक अंतर ज्ञात कीजिए।

- Ans 1. 5616
 2. 5626
 3. 2160
 4. 4104

Question ID : 264330101346

Status : Answered

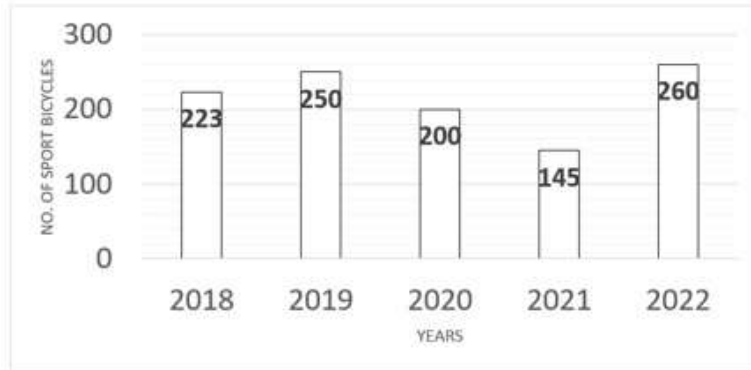
Chosen Option : 1

Q.15 दी गई दो प्राकृतिक संख्याओं के अंतर का घन 1728 है, जबकि दी गई इन दोनों संख्याओं का गुणनफल 108 है। दी गई इन दोनों संख्याओं के घनों का योग ज्ञात करें।

- Ans 1. 5616
 2. 6048
 3. 5832
 4. 6024

Question ID : 264330114558
 Status : Answered
 Chosen Option : 1

Q.16 निम्नांकित बार-ग्राफ में एक दुकानदार द्वारा पांच वर्षों में बेची गई स्पोर्ट्स साइकिलों की संख्या को दर्शाया गया है।



NUMBER OF SPORT BICYCLES = स्पोर्ट्स साइकिलों की संख्या
 YEARS = वर्ष

वर्ष 2021 में स्पोर्ट्स साइकिलों की बिक्री में पिछले वर्ष की तुलना में कितने प्रतिशत की कमी आई है?

- Ans 1. 26.5%
 2. 27.5%
 3. 27.0%
 4. 26.0%

Question ID : 264330131482
 Status : Answered
 Chosen Option : 2

Q.17 निम्नलिखित तालिका का अध्ययन करें और नीचे दिए गए प्रश्न का उत्तर दें।

स्कूल का नाम	नामांकित विद्यार्थियों की कुल संख्या	जीवविज्ञान का चयन करने वाले नामांकित विद्यार्थियों का प्रतिशत	जीवविज्ञान का चयन करने वाले छात्रों और छात्राओं का अनुपात
A	900	30%	7:8
B	400	38%	9:10
C	1000	24%	5:19
D	800	18%	5:7

स्कूल A और D को साथ मिलाकर उनमें जीवविज्ञान का चयन करने वाले कुल छात्रों और कुल छात्राओं का अनुपात क्या है?

- Ans 1. 31:38
 2. 31:28
 3. 21:38
 4. 38:31

Question ID : 264330103828
 Status : Answered
 Chosen Option : 1

Q.18 क्रमशः 320 m और 540 m की लंबाई वाली दो ट्रेनें P और Q समानांतर पटरियों पर क्रमशः 108 km/h और 144 km/h की चाल से एक ही दिशा में चल रही हैं। ट्रेनें एक दूसरे को पूरी तरह से पार करने में कितना समय लेंगी?

- Ans** 1. 68 s
 2. 54 s
 3. 32 s
 4. 86 s

Question ID : 26433097579
 Status : Answered
 Chosen Option : 4

Q.19 10 पुरुष किसी कार्य को 25 दिन में पूरा कर सकते हैं। 12 दिन तक कार्य करने के बाद 3 और पुरुषों को इस कार्य को पूरा करने के लिए लगाया जाता है। शेष कार्य कितने दिन में पूरा होगा?

- Ans** 1. 10
 2. 6
 3. 12
 4. 8

Question ID : 264330129450
 Status : Answered
 Chosen Option : 1

Q.20 राज की आय ₹45,000 है और उसका व्यय ₹33,000 है। यदि उसकी आय में 20% और व्यय में 12% की वृद्धि कर दी जाए, तो बचत में कितने प्रतिशत की वृद्धि होगी?

- Ans** 1. 56%
 2. 42%
 3. 48%
 4. 36%

Question ID : 264330126566
 Status : Answered
 Chosen Option : 2

Q.21 यदि 5 वर्ष का साधारण ब्याज मूलधन के 25% के बराबर है, तो कितने वर्षों बाद ब्याज मूलधन के बराबर होगा?

- Ans** 1. 30
 2. 25
 3. 22
 4. 20

Question ID : 264330108887
 Status : Answered
 Chosen Option : 4

Q.22 A एक काम को 20 दिनों में पूरा कर सकता है और B उसी काम को 15 दिनों में पूरा कर सकता है। B ने 9 दिनों तक काम किया और फिर काम छोड़ दिया। बचे हुए काम को पूरा करने में A को अकेले कितने दिनों का समय लगेगा?

- Ans** 1. 7 दिन
 2. 9 दिन
 3. 8 दिन
 4. 10 दिन

Question ID : 264330126591
 Status : Answered
 Chosen Option : 3



Q.23 15 cm और 13 cm त्रिज्या वाले दो संकेंद्रित वृत्त दिए गए हैं। बड़े वृत्त की उस जीवा की लंबाई ज्ञात करें, जो छोटे वृत्त को स्पर्श करती है।

- Ans**
- 1. $22\sqrt{7}$
 - 2. $12\sqrt{7}$
 - 3. $8\sqrt{14}$
 - 4. $4\sqrt{14}$

Question ID : 26433076407
Status : Not Answered
Chosen Option : --

Q.24 यदि $\cot A = \frac{12}{5}$ है, तो $(\sin A + \cos A) \times \operatorname{cosec} A$ का मान क्या है?

- Ans**
- 1. $\frac{14}{5}$
 - 2. 1
 - 3. $\frac{13}{5}$
 - 4. $\frac{17}{5}$

Question ID : 264330143567
Status : Answered
Chosen Option : 4

Q.25 एक कंपनी द्वारा एक पार्क में 10m ऊंचाई और 48m के आधार व्यास का एक शंकाकार तम्बू लगाया गया था। तम्बू का वक्र पृष्ठीय क्षेत्रफल (m^2 में) ज्ञात कीजिए।

- Ans**
- 1. 1248π
 - 2. 624π
 - 3. 1152π
 - 4. 576π

Question ID : 264330103436
Status : Answered
Chosen Option : 2

Section : English Comprehension

Q.1 Select the sentences that contains no spelling errors.

- Ans**
- 1. The mall road of our city is always teeming with street vendors.
 - 2. The mall road of our city is always teyming with street vendors.
 - 3. The mall road of our city is always tyiming with street vendors.
 - 4. The mall road of our city is always tiiming with street vendors.

Question ID : 26433070697
Status : Answered
Chosen Option : 4

Q.2 Select the word with the correct spelling from the options given below to fill in the blank.

They saw the beautiful _____ of the Gods in the Temples.

- Ans
- 1. Idles
 - 2. Ideals
 - 3. Idoles
 - 4. Idols

Question ID : 264330100242
Status : Answered
Chosen Option : 4

Q.3 Select the most appropriate ANTONYM of the given word.
Eloquent

- Ans
- 1. Crucial
 - 2. Humble
 - 3. Modest
 - 4. Impotent

Question ID : 264330132803
Status : Answered
Chosen Option : 3

Q.4 Select the most appropriate option that can substitute the underlined word in the given sentence.

Last week's rain ravaged the whole city.

- Ans
- 1. rescinded
 - 2. retracted
 - 3. reaffirmed
 - 4. ruined

Question ID : 26433092067
Status : Answered
Chosen Option : 4

Q.5 Select the most appropriate synonym of the underlined word in the following sentence.

I always enjoy the company of respectful teachers.

- Ans
- 1. derogatory
 - 2. admiring
 - 3. dutiful
 - 4. insolent

Question ID : 26433066419
Status : Answered
Chosen Option : 2

Q.6 The following sentence has been divided into parts. One of them may contain an error. Select the part that contains the error from the given options. If you don't find any error, mark 'No error' as your answer.

Sajni had / interfere in / this matter.

- Ans** 1. interfere in
 2. this matter
 3. Sajni had
 4. No error

Question ID : 26433073529
Status : Answered
Chosen Option : 1

Q.7 Select the most appropriate synonym of the given word.
Intriguing

- Ans** 1. Stunning
 2. Glorifying
 3. Interesting
 4. Ravishing

Question ID : 26433091738
Status : Answered
Chosen Option : 1

Q.8 Select the option that can be used as a one-word substitute for the given group of words.

A sentimental memory of the past

- Ans** 1. Euphoria
 2. Hysteria
 3. Mania
 4. Nostalgia

Question ID : 26433073967
Status : Answered
Chosen Option : 4

Q.9 Select the option that expresses the given sentence in passive voice.
He does not buy shirts.

- Ans** 1. Shirts were not been bought by him.
 2. Shirts are not bought by him.
 3. Shirts were not bought by him.
 4. Shirts are not brought by him.

Question ID : 264330121856
Status : Answered
Chosen Option : 2

Q.10 Select the most appropriate option to fill in the blanks.

As cattle are to herd so are birds to _____.

- Ans 1. flock
 2. pack
 3. litter
 4. streak

Question ID : 26433073260
Status : Answered
Chosen Option : 1

Q.11 Select the most appropriate synonym of the word given in brackets to fill in the blank.
He became _____(verbose) after a few drinks.

- Ans 1. decisive
 2. talkative
 3. exhaustive
 4. aggressive

Question ID : 264330141153
Status : Answered
Chosen Option : 2

Q.12 Select the most appropriate synonym of the underlined word.

The company was engaged in spurious trade practices.

- Ans 1. Spacious
 2. Fraudulent
 3. Effective
 4. Trendy

Question ID : 26433091816
Status : Answered
Chosen Option : 2

Q.13 Select the most appropriate idiom or phrase to fill in the blank in the given sentence.

Sweety has been _____ since her painting won first prize.

- Ans 1. walking on air
 2. walking into the lion's den
 3. walking on eggshells
 4. waiting in the wings

Question ID : 26433092311
Status : Answered
Chosen Option : 1

Q.14 Select the most appropriate option that can substitute the underlined words in the given sentence.
The traffic sergeant proved through the test that Raj was under the influence of drugs and alcohol.

- Ans
- 1. pocked
 - 2. inebriated
 - 3. simonised
 - 4. ponied

Question ID : 26433086503
Status : Answered
Chosen Option : 2

Q.15 Select the option that expresses the given sentence in passive voice.
She is building a new house.

- Ans
- 1. She has built a new house.
 - 2. A new house is being built by her.
 - 3. She had built a new house.
 - 4. A new house has been built by her.

Question ID : 264330133297
Status : Answered
Chosen Option : 2

Q.16 Select the option that can be used as a one-word substitute for the given group of words.

A large number of fish swimming together

- Ans
- 1. String
 - 2. Sheaf
 - 3. Shoal
 - 4. Stream

Question ID : 26433074038
Status : Answered
Chosen Option : 3

Q.17 Identify the sentence that correctly uses the indefinite article.

- Ans
- 1. She purchased apple in the market with me.
 - 2. She purchased an apple in the market with me.
 - 3. She purchase a apple in the market with me.
 - 4. She purchased a apple in the market with me.

Question ID : 26433072038
Status : Answered
Chosen Option : 2

Q.18 Select the most appropriate option that can substitute the underlined segment in the given sentence.

National development is defined as an improvement in people's daily arrangements, the provision of fundamental necessities to citizens such as food, education, social services, medical help, and so on, as well as an increase in per capita income.

- Ans
- 1. existing calamities
 - 2. living conditions
 - 3. dining categories
 - 4. diving techniques

Question ID : 26433098912
Status : Answered
Chosen Option : 2

Q.19 Select the most appropriate meaning of the given idiom.

Bad iron

- Ans
- 1. Not hot
 - 2. Bad behaviour
 - 3. No steam
 - 4. Bad luck

Question ID : 26433089730
Status : Answered
Chosen Option : 4

Q.20 Sentences of a paragraph are given below. While the first and the last sentences (S1 and S6) are in the correct order, the sentences in between are jumbled up and named P, Q, R, S. Arrange the sentences in the correct order to form a meaningful and coherent paragraph.

(S1) Today, the world has become a much smaller place, thanks to the adventures and miracles of science.

(P) We are slowly realising that the world is a single cooperative group.

(Q) Other religions have become forces with which we have to reckon, and we are seeking for ways and means by which we can live together in peace and harmony.

(R) Mingling of population is bringing about interchange of thought.

(S) Foreign nations have become our next-door neighbours.

(S6) We cannot have religious unity and peace so long as we assert that we are in possession of the light and all others are groping in the darkness.

- Ans
- 1. S, R, Q, P
 - 2. P, Q, R, S
 - 3. S, R, P, Q
 - 4. Q, R, S, P

Question ID : 26433073268
Status : Not Answered
Chosen Option : --

Comprehension:

In the following passage some words have been deleted. Fill in the blanks with the help of the alternatives given. Select the most appropriate option for each number.

All state universities and colleges in Uttar Pradesh, one of the (1) _____ in India, will now (2) _____ a “save water” ritual named ‘Jal Bharo’ in place of ‘lamp lighting’ to inaugurate their annual convocations. The governor of the state, who is also chancellor of state universities, instructed that every university and college in the state should install rainwater harvesting plants on its campus. ‘Jal Bharo’ signifies (3) _____ the vision of ‘Jal Shakti’. This ceremony symbolises the (4) _____ importance of water conservation, whereas the lamp lighting ceremony symbolised removing darkness through education and spreading the light of learning. It is really a (5) _____ initiative. Every educational institute in India should ensure to save and recharge groundwater by installing rainwater harvesting plants. These kinds of initiatives provide awareness of using and saving water, the elixir of life.

SubQuestion No : 21

Q.21 Select the most appropriate option to fill in blank no. 1.

- Ans 1. big state
 2. biggest states
 3. bigger state
 4. more big states

Question ID : 264330139162

Status : Answered

Chosen Option : 2

Comprehension:

In the following passage some words have been deleted. Fill in the blanks with the help of the alternatives given. Select the most appropriate option for each number.

All state universities and colleges in Uttar Pradesh, one of the (1) _____ in India, will now (2) _____ a “save water” ritual named ‘Jal Bharo’ in place of ‘lamp lighting’ to inaugurate their annual convocations. The governor of the state, who is also chancellor of state universities, instructed that every university and college in the state should install rainwater harvesting plants on its campus. ‘Jal Bharo’ signifies (3) _____ the vision of ‘Jal Shakti’. This ceremony symbolises the (4) _____ importance of water conservation, whereas the lamp lighting ceremony symbolised removing darkness through education and spreading the light of learning. It is really a (5) _____ initiative. Every educational institute in India should ensure to save and recharge groundwater by installing rainwater harvesting plants. These kinds of initiatives provide awareness of using and saving water, the elixir of life.

SubQuestion No : 22

Q.22 Select the most appropriate option to fill in blank no. 2.

- Ans 1. organise
 2. have managed
 3. managing
 4. organising

Question ID : 264330139163

Status : Answered

Chosen Option : 4

Comprehension:

In the following passage some words have been deleted. Fill in the blanks with the help of the alternatives given. Select the most appropriate option for each number.

All state universities and colleges in Uttar Pradesh, one of the (1) _____ in India, will now (2) _____ a "save water" ritual named 'Jal Bharo' in place of 'lamp lighting' to inaugurate their annual convocations. The governor of the state, who is also chancellor of state universities, instructed that every university and college in the state should install rainwater harvesting plants on its campus. 'Jal Bharo' signifies (3) _____ the vision of 'Jal Shakti'. This ceremony symbolises the (4) _____ importance of water conservation, whereas the lamp lighting ceremony symbolised removing darkness through education and spreading the light of learning. It is really a (5) _____ initiative. Every educational institute in India should ensure to save and recharge groundwater by installing rainwater harvesting plants. These kinds of initiatives provide awareness of using and saving water, the elixir of life.

SubQuestion No : 23

Q.23 Select the most appropriate option to fill in blank no. 3.

- Ans 1. holding
 2. strengthening
 3. moving
 4. proceeding

Question ID : 264330139164

Status : Answered

Chosen Option : 2

Comprehension:

In the following passage some words have been deleted. Fill in the blanks with the help of the alternatives given. Select the most appropriate option for each number.

All state universities and colleges in Uttar Pradesh, one of the (1) _____ in India, will now (2) _____ a "save water" ritual named 'Jal Bharo' in place of 'lamp lighting' to inaugurate their annual convocations. The governor of the state, who is also chancellor of state universities, instructed that every university and college in the state should install rainwater harvesting plants on its campus. 'Jal Bharo' signifies (3) _____ the vision of 'Jal Shakti'. This ceremony symbolises the (4) _____ importance of water conservation, whereas the lamp lighting ceremony symbolised removing darkness through education and spreading the light of learning. It is really a (5) _____ initiative. Every educational institute in India should ensure to save and recharge groundwater by installing rainwater harvesting plants. These kinds of initiatives provide awareness of using and saving water, the elixir of life.

SubQuestion No : 24

Q.24 Select the most appropriate option to fill in blank no. 4.

- Ans 1. immense
 2. total
 3. sheer
 4. complete


Question ID : 264330139165

Status : Answered

Chosen Option : 4



कर्मचारी चयन आयोग (CGL) परीक्षा अध्ययन सामग्री



FREE SHIPPING

- ▶ 100% Syllabus Covered
- ▶ 9 Books, 1000+ Pages - PRINT COPY
- ▶ 3000+ MCQs - PRINT COPY
- ▶ 08 Year Solved Papers & Mock Tests (PDF Copy)
- ▶ One Year Current Affairs (PDF Copy)

हिन्दी माध्यम

50% OFF

SSCPORTAL.IN

SSC CGL HINDI PDF NOTES

100% Syllabus | 1,000+ Pages

50%
OFF

CLICK HERE

<https://sscportal.in/study-kit/cgl/tier-1-hindi>

Comprehension:

In the following passage some words have been deleted. Fill in the blanks with the help of the alternatives given. Select the most appropriate option for each number.

All state universities and colleges in Uttar Pradesh, one of the (1) _____ in India, will now (2) _____ a “save water” ritual named ‘Jal Bharo’ in place of ‘lamp lighting’ to inaugurate their annual convocations. The governor of the state, who is also chancellor of state universities, instructed that every university and college in the state should install rainwater harvesting plants on its campus. ‘Jal Bharo’ signifies (3) _____ the vision of ‘Jal Shakti’. This ceremony symbolises the (4) _____ importance of water conservation, whereas the lamp lighting ceremony symbolised removing darkness through education and spreading the light of learning. It is really a (5) _____ initiative. Every educational institute in India should ensure to save and recharge groundwater by installing rainwater harvesting plants. These kinds of initiatives provide awareness of using and saving water, the elixir of life.

SubQuestion No : 25

Q.25 Select the most appropriate option to fill in blank no. 5.

- Ans** 1. laudable
 2. louder
 3. lower
 4. labelled

Question ID : **264330139166**

Status : **Answered**

Chosen Option : **1**

