

Combined Graduate Level Examination 2020 Tier-I

Roll Number	
Candidate Name	
Venue Name	Jaipur Engineering College
Exam Date	20/08/2021
Exam Time	3:00 PM - 4:00 PM
Subject	Combined Graduate Level Examination 2020 Tier 1

Section : General Intelligence and Reasoning

Q.1 दिए गए विकल्पों में से वह संख्या चुनें जो निम्नलिखित श्रृंखला में प्रश्नचिह्न (?) के स्थान पर आएगी?

13, 26, 52, 104, ?

Ans ☒ 1. 152

☒ 2. 230

☒ 3. 208

☒ 4. 196

Question ID : 81616112516

Status : Answered

Chosen Option : 3

Q.2 दिए गए पैटर्न का ध्यानपूर्वक अध्ययन करें और वह संख्या चुनें जो इसमें प्रश्नचिह्न (?) के स्थान पर आ सकती है?

3 6 8
5 32 60
18 ? 238

Ans ☒ 1. 124

☒ 2. 128

☒ 3. 126

☒ 4. 122

Question ID : 81616113226

Status : Not Attempted and
Marked For Review

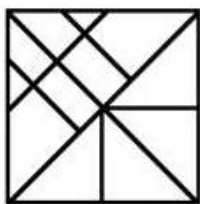
Chosen Option : --



Download SSC CGL, CHSL E-BOOKS

[CLICK HERE](#)

Q.3 दी गई आकृति में त्रिभुजों की संख्या बताइए।



- Ans
- ✓ 1. 19
 - ✗ 2. 17
 - ✗ 3. 21
 - ✗ 4. 23

Question ID : 81616113130

Status : Answered

Chosen Option : 2

Q.4 दिए गए कथनों और निष्कर्षों को ध्यान से पढ़ें। कथनों में दी गई जानकारी को सत्य मानते हुए, भले ही वह सामान्य रूप से ज्ञात तथ्यों से भिन्न प्रतीत हो, निर्धारित करें कि कौन से निष्कर्ष दिए गए कथनों का तार्किक रूप से पालन करते हैं।

कथन:

कोई भी अंतर्मुखी, बहिर्मुखी नहीं है।
सभी बहिर्मुखी, उभयमुखी हैं।

निष्कर्ष:

- I. कोई भी अंतर्मुखी, उभयमुखी नहीं है।
- II. कोई भी उभयमुखी, अंतर्मुखी नहीं है।
- III. कुछ उभयमुखी, बहिर्मुखी हैं।
- IV. सभी उभयमुखी, बहिर्मुखी हैं।

- Ans
- ✓ 1. केवल निष्कर्ष III पालन करता है
 - ✗ 2. निष्कर्ष I और IV दोनों पालन करते हैं
 - ✗ 3. निष्कर्ष I और II दोनों पालन करते हैं
 - ✗ 4. केवल निष्कर्ष I पालन करता है

Question ID : 81616113222

Status : Answered

Chosen Option : 1

Q.5 अक्षरों के उस संयोजन का चयन करें जो दी गई श्रृंखला में रिक्त स्थानों में क्रमिक रूप से रखे जाने पर श्रृंखला को पूर्ण करेगा।

b _ e _ d k _ _ c e m _ k k b c _ m _ k k

- Ans
- ✓ 1. c, m, k, b, d, e, d
 - ✗ 2. c, m, k, b, c, c, d
 - ✗ 3. c, k, k, b, d, e, d
 - ✗ 4. c, k, m, b, d, e, d

Question ID : 81616113927

Status : Answered

Chosen Option : 1



Download SSC CGL, CHSL E-BOOKS

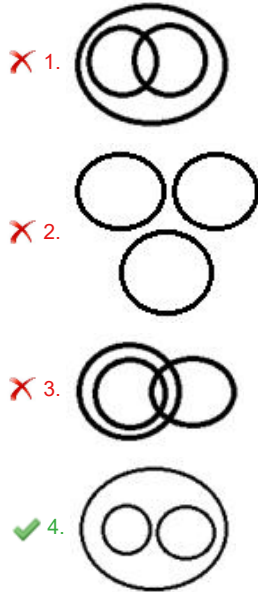
CLICK HERE

Get SSC CGL TIER-1 Study Note at : <https://sscportal.in/notes>

Q.6 वह वेन आरेख चुनें जो निम्न श्रेणियों के बीच के संबंध का सबसे अच्छा निरूपण करता है।

हाइलाइटर, स्टेशनरी, इरेज़र

Ans



Question ID : 81616113236

Status : Answered

Chosen Option : 4

Q.7 नीचे चार शब्द दिए गए हैं जिनमें से तीन किसी संदर्भ में एक समान हैं और उनमें से एक असंगत है। उस असंगत शब्द का चयन करें।

- Ans ✗ 1. नायरा
- ✓ 2. पिट
- ✗ 3. लोटी
- ✗ 4. यूरो

Question ID : 81616113114

Status : Not Answered

Chosen Option : --

Q.8 दिए गए विकल्पों में से वह वर्ण-समूह चुनें जो निम्नलिखित श्रृंखला में प्रश्नचिह्न (?) के स्थान पर आएगा?

CUPBOARD, DVPBOARD, DVQCOARD, ?, DVQCPBSE

- Ans ✗ 1. DVPBPBRD
- ✓ 2. DVQCPBRD
- ✗ 3. DVQCPBSD
- ✗ 4. DVQCOASE

Question ID : 81616113919

Status : Answered

Chosen Option : 2



Download SSC CGL, CHSL E-BOOKS

CLICK HERE

Get SSC CGL TIER-1 Study Note at : <https://sscportal.in/notes>

Q.9 वह विकल्प चुनें जिसमें दी गई आकृति सन्निहित है (आकृति को घुमाना नहीं है)।



Ans

✗ 1.



✓ 2.



✗ 3.



✗ 4.



Question ID : 81616113940

Status : Answered

Chosen Option : 2

Q.10 वह विकल्प चुनें जो तीसरी संख्या से उसी प्रकार संबंधित है, जिस प्रकार दूसरी संख्या पहली संख्या से संबंधित है।

14 : 112 :: 18 : ?

Ans ✗ 1. 181

✗ 2. 183

✓ 3. 180

✗ 4. 184

Question ID : 81616113224

Status : Answered

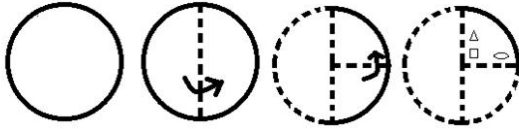
Chosen Option : 3



Download SSC CGL, CHSL E-BOOKS

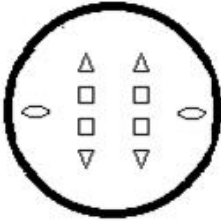
CLICK HERE

Q.11 नीचे दी गई आकृति में कागज के एक टुकड़े को मोड़ने का क्रम और उस मुड़े हुए कागज को काटने का तरीका दर्शाया गया है। इस कागज को खोलने पर यह कैसा दिखेगा?

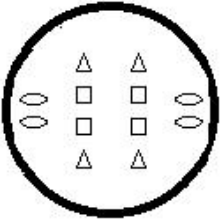


Ans

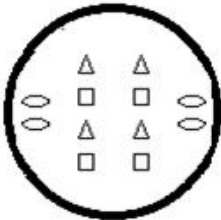
✗ 1.



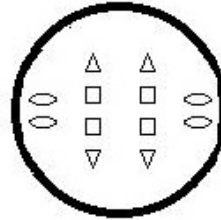
✗ 2.



✗ 3.



✓ 4.



Question ID : 81616113942

Status : Answered

Chosen Option : 4

Q.12 किसी कूटभाषा में 'INHALE' को 'CNYJLK' के रूप में लिखा जाता है। तो उसी भाषा में 'GUILTY' को कैसे लिखा जाएगा?

Ans ✓ 1. WVJKSI

✗ 2. IJKSVW

✗ 3. WRNKSE

✗ 4. ARNGWE

Question ID : 81616113218

Status : Answered

Chosen Option : 1



Download SSC CGL, CHSL E-BOOKS

CLICK HERE

Get SSC CGL TIER-1 Study Note at : <https://sscportal.in/notes>

Q.13 सुमित की ओर इशारा करते हुए अनुज ने कहा, “वह मेरी माँ के पिताजी के बेटे के भाई का बेटा है।”
यदि विनीता, जिसकी शादी कार्तिक से हुई है, अनुज की माँ है तो विनीता का सुमित से क्या संबंध है?

- Ans
- ☒ 1. माँ
 - ☒ 2. बहन
 - ☒ 3. माँ की बहन
 - ☒ 4. पिता की बहन

Question ID : 81616113928

Status : Answered

Chosen Option : 4

Q.14 यदि दर्पण को MN पर रखा जाता है तो दिए गए संयोजन का सही दर्पण प्रतिबिंब चयनित कीजिए?

H G J Y T E K

M
|
N

- Ans
- ☒ 1. K E T Y L G H
 - ☒ 2. K E T Y L G H
 - ☒ 3. K E T Y L G H
 - ☒ 4. K E T Y L G H

Question ID : 81616113941

Status : Answered

Chosen Option : 4

Q.15 वह विकल्प चुनें जिसमें संख्याएँ एक दूसरे से उसी तरह संबंधित हैं जैसे नीचे दिए गए सेट की संख्याएँ एक दूसरे से संबंधित हैं।

(3, 2, 3)

- Ans
- ☒ 1. (12, 136, 204)
 - ☒ 2. (4, 9, 12)
 - ☒ 3. (5, 18, 27)
 - ☒ 4. (7, 44, 66)

Question ID : 81616113126

Status : Not Attempted and
Marked For Review

Chosen Option : --



Download SSC CGL, CHSL E-BOOKS

CLICK HERE

Get SSC CGL TIER-1 Study Note at : <https://sscportal.in/notes>

Q.16 किसी विशिष्ट कूटभाषा में, 'LIBERTY' को '4221824364050' के रूप में कूटबद्ध किया गया है, तो उसी भाषा में 'SLAVERY' को कैसे कूटबद्ध किया जाएगा?

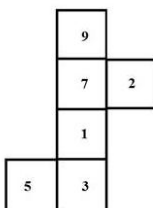
- Ans
- ☒ 1. 22242636384050
 - ☒ 2. 22262438365040
 - ☒ 3. 26224233684540
 - ☒ 4. 26222436384450

Question ID : 81616113118

Status : Answered

Chosen Option : 4

Q.17 दी गई शीट को मोड़कर एक घन (क्यूब) बनाया गया है। इस निर्मित घन पर, '3' अंक वाले फलक के विपरीत फलक पर कौन-सा अंक आएगा?



- Ans
- ☒ 1. 9
 - ☒ 2. 7
 - ☒ 3. 5
 - ☒ 4. 1

Question ID : 81616113131

Status : Answered

Chosen Option : 2

Q.18 प्रिया, काव्या, गौरवी और शालिनी नाम की चार सहेलियों के पास अलग-अलग धनराशि है। यदि प्रिया ₹88 की धनराशि काव्या से लेती है तो उसके पास गौरवी के बराबर धनराशि हो जाएगी। शालिनी और काव्या दोनों के पास मिलाकर ₹550 की धनराशि है। यदि गौरवी ₹25 की धनराशि शालिनी से लेती है तो उसके पास काव्या के बराबर धनराशि हो जाएगी। यदि शालिनी, काव्या और गौरवी तीनों के पास मिलाकर ₹840 की धनराशि है, तो प्रिया के पास कितनी धनराशि है?

- Ans
- ☒ 1. ₹202
 - ☒ 2. ₹224
 - ☒ 3. ₹280
 - ☒ 4. ₹315

Question ID : 81616113936

Status : Not Attempted and Marked For Review

Chosen Option : --



Download SSC CGL, CHSL E-BOOKS

CLICK HERE

Get SSC CGL TIER-1 Study Note at : <https://sscportal.in/notes>

Q.19 नीचे चार संख्या-युग्म दिए गए हैं जिनमें से तीन किसी संदर्भ में एक समान हैं और उनमें से एक असंगत है। उस असंगत संख्या-युग्म का चयन करें।

- Ans ☒ 1. 68 : 196
☐ 2. 54 : 152
☐ 3. 36 : 98
☐ 4. 82 : 236

Question ID : 81616113124

Status : Answered

Chosen Option : 1

Q.20 वह विकल्प चुनें जो तीसरे शब्द से उसी प्रकार संबंधित है, जिस प्रकार दूसरा शब्द पहले शब्द से संबंधित है।

मुर्गी : मुर्गा :: बत्तख : ?

- Ans ☐ 1. मोंक
☒ 2. नर बत्तख
☐ 3. भंवरा
☐ 4. हिरन

Question ID : 81616112509

Status : Answered

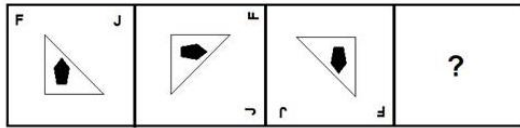
Chosen Option : 2



Download SSC CGL, CHSL E-BOOKS

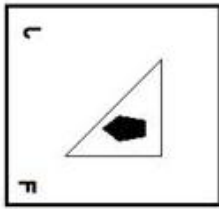
[CLICK HERE](#)

Q.21 दिए गए विकल्पों में से वह आकृति चुनें जो निम्नलिखित श्रृंखला में प्रश्नचिह्न (?) के स्थान पर आएगी।

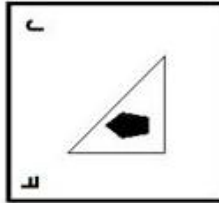


Ans

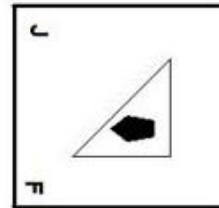
✗ 1.



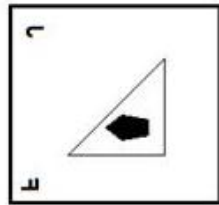
✗ 2.



✓ 3.



✗ 4.



Question ID : 81616112523

Status : Answered

Chosen Option : 3

Q.22 उस विकल्प का चयन कीजिए जिसके शब्दों के मध्य वही संबंध है, जो दिए गए शब्द-युग्म के शब्दों के मध्य है।

बिजली : टेलीविज़न

Ans ✗ 1. फसल : किसान

✓ 2. पेट्रोल : कार

✗ 3. तापमान : प्रीज़

✗ 4. डीजल : ईंधन

Question ID : 81616113924

Status : Answered

Chosen Option : 2



Download SSC CGL, CHSL E-BOOKS

[CLICK HERE](#)

Get SSC CGL TIER-1 Study Note at : <https://sscportal.in/notes>

Q.23 गणितीय चिह्नों का वह सही संयोजन चुनें जिसे क्रमिक रूप से * चिह्नों के स्थान पर रखने से समीकरण संतुलित हो जाएगा।

$$5 * 468 * 18 * 70 * 180 * 4 * 5$$

- Ans ☐ 1. ×, ÷, +, =, -, ×
☐ 2. ×, ÷, -, +, =, ×
☐ 3. ÷, ×, +, -, =, ×
☒ 4. ×, ÷, +, -, =, ×

Question ID : 81616113127

Status : Answered

Chosen Option : 4

Q.24 वह सही विकल्प चुनें जो दिए गए शब्दों के उस क्रम को दर्शाता है जिस क्रम में वे अंग्रेजी शब्दकोश में आते हैं।

1. Illegitimate
2. Illegality
3. Illuminate
4. Illiterate
5. Illegible

- Ans ☐ 1. 1, 2, 3, 4, 5
☒ 2. 2, 5, 1, 4, 3
☐ 3. 3, 5, 2, 4, 1
☐ 4. 3, 5, 1, 2, 4

Question ID : 81616112506

Status : Answered

Chosen Option : 2

Q.25 नीचे चार वर्ण-समूह दिए गए हैं जिनमें से तीन किसी संदर्भ में एक समान हैं और उनमें से एक असंगत है। उस असंगत वर्ण-समूह का चयन करें।

- Ans ☐ 1. LNQ
☐ 2. SUX
☒ 3. JLP
☐ 4. CEH

Question ID : 81616112507

Status : Answered

Chosen Option : 3



Download SSC CGL, CHSL E-BOOKS

CLICK HERE