

Combined Graduate Level Examination 2020 Tier-I

Roll Number	
Candidate Name	
Venue Name	Yagyavalkya Institute of Technology
Exam Date	20/08/2021
Exam Time	9:00 AM - 10:00 AM
Subject	Combined Graduate Level Examination 2020 Tier 1

Section : General Intelligence and Reasoning

Q.1 वह विकल्प चुनें जो चौथी संख्या से उसी प्रकार संबंधित है, जिस प्रकार दूसरी संख्या से पहली संख्या और छठी संख्या से पाँचवीं संख्या संबंधित है।

11 : 81 :: ? : 121 :: 8 : 36

- Ans**
- 1. 10
 - 2. 18
 - 3. 13
 - 4. 12

Question ID : 81616113325
Status : Answered
Chosen Option : 3

Q.2 दिए गए विकल्पों में से वह आकृति चुनें जो निम्नलिखित श्रृंखला में प्रश्नचिह्न (?) के स्थान पर आएगी।



Ans

- 1.
- 2.
- 3.
- 4.

Question ID : 81616112422
Status : Answered
Chosen Option : 1



Download SSC CGL, CHSL E-BOOKS

[CLICK HERE](#)

Get SSC CGL TIER-1 Study Note at : <https://sscportal.in/notes>

Q.3 नीचे चार संख्या-युग्म दिए गए हैं जिनमें से तीन किसी संदर्भ में एक समान हैं और उनमें से एक असंगत है। उस असंगत संख्या-युग्म का चयन करें।

- Ans
- 1. (812, 121)
 - 2. (723, 144)
 - 3. (546, 225)
 - 4. (547, 258)

Question ID : 81616112316

Status : Answered

Chosen Option : 4

Q.4 दिए गए विकल्पों में से वह वर्ण-समूह चुनें जो निम्नलिखित श्रृंखला में प्रश्नचिह्न (?) के स्थान पर आएगा?

MCN, NCO, OCP, PCQ, ?

- Ans
- 1. PQR
 - 2. OCQ
 - 3. PCS
 - 4. QCR

Question ID : 81616113414

Status : Answered

Chosen Option : 4

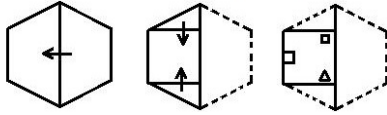


Download SSC CGL, CHSL E-BOOKS

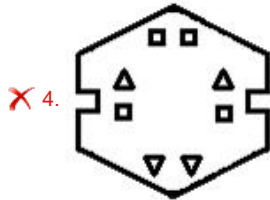
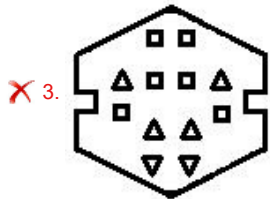
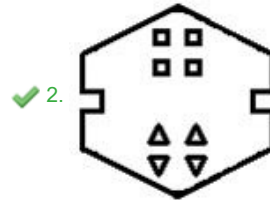
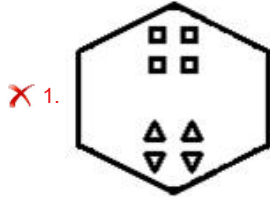
[CLICK HERE](#)

Get SSC CGL TIER-1 Study Note at : <https://sscportal.in/notes>

Q.5 नीचे दी गई आकृति में कागज के एक टुकड़े को मोड़ने का क्रम और उस मुड़े हुए कागज को काटने का तरीका दर्शाया गया है। इस कागज को खोलने पर यह कैसा दिखेगा?



Ans



Question ID : 81616113437
 Status : Answered
 Chosen Option : 3

Q.6 एक ही पासे की दो अलग-अलग स्थितियाँ दर्शाई गई हैं, जिनके फलकों पर अक्षर F, G, H, I, J और K अंकित किए गए हैं। वह अक्षर चुनें जो अक्षर 'F' वाले फलक के विपरीत फलक पर आएगा।



Ans

- ✓ 1. G
- ✗ 2. H
- ✗ 3. I
- ✗ 4. J

Question ID : 81616112323
 Status : Answered
 Chosen Option : 1

FREE! Download SSC CGL, CHSL E-BOOKS [CLICK HERE](#)

Get SSC CGL TIER-1 Study Note at : <https://sscportal.in/notes>

Q.7 वह विकल्प चुनें जो तीसरे शब्द से उसी प्रकार संबंधित है, जिस प्रकार दूसरा शब्द पहले शब्द से संबंधित है।

वाराणसी : गंगा : : मथुरा : ?

- Ans
- 1. नर्मदा
 - 2. गंगा
 - 3. गोदावरी
 - 4. यमुना

Question ID : 81616112408
Status : Answered
Chosen Option : 4

Q.8 गणितीय चिह्नों का वह सही संयोजन चुनें जिसे क्रमिक रूप से * चिह्नों के स्थान पर रखने से समीकरण संतुलित हो जाएगा।

$45 * 24 * 72 * 20 * 12 * 7$

- Ans
- 1. +, +, -, =, *
 - 2. +, x, +, -, =
 - 3. x, +, =, -, +
 - 4. =, x, +, +, -

Question ID : 81616112319
Status : Not Answered
Chosen Option : --

Q.9 अक्षरों के उस संयोजन का चयन करें जो दी गई श्रृंखला में रिक्त स्थानों में क्रमिक रूप से रखे जाने पर श्रृंखला को पूर्ण करेगा।

JL_N_J_PND_NP_DJ_P_D

- Ans
- 1. P, D, M, J, N, O, N
 - 2. P, M, D, N, J, O, N
 - 3. M, D, P, N, J, N, O
 - 4. M, D, N, P, N, J, O

Question ID : 81616113422
Status : Answered
Chosen Option : 1

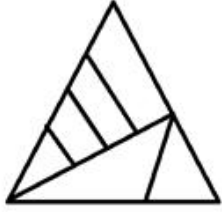


Download SSC CGL, CHSL E-BOOKS

[CLICK HERE](#)

Get SSC CGL TIER-1 Study Note at : <https://sscportal.in/notes>

Q.10 दी गई आकृति में कितने त्रिभुज हैं?



- Ans
- ✓ 1. 8
 - ✗ 2. 10
 - ✗ 3. 7
 - ✗ 4. 9

Question ID : 81616112322
Status : Answered
Chosen Option : 1

Q.11 वह विकल्प आकृति चुनें जो दी गई आकृति में सन्निकित है (आकृति को घुमाना नहीं है)।



- Ans
- ✓ 1.
 - ✗ 2.
 - ✗ 3.
 - ✗ 4.

Question ID : 81616113435
Status : Answered
Chosen Option : 1




Download SSC CGL, CHSL E-BOOKS

[CLICK HERE](#)

Get SSC CGL TIER-1 Study Note at : <https://sscportal.in/notes>

Q.12 Select the set of classes, the relationship among which is best illustrated by the following Venn diagram.



- Ans**
- 1. Stationery, Stapler, Erasers
 - 2. Extroverts, Men, Handsome
 - 3. Doctors, Fathers, Sisters
 - 4. Bureaucrats, Men, Women

Question ID : **81616113337**
Status : **Answered**
Chosen Option : **2**

Q.13 किसी विशिष्ट कूटभाषा में 'RAJ' को '87' के रूप में और 'GITA' को '148' के रूप में लिखा जाता है। तो उसी भाषा में 'VARUN' को कैसे लिखा जाएगा?

- Ans**
- 1. 403
 - 2. 234
 - 3. 176
 - 4. 380

Question ID : **81616112310**
Status : **Answered**
Chosen Option : **4**

Q.14 वह विकल्प चुनें जिसमें संख्याएँ एक दूसरे से उसी तरह से संबंधित हैं जैसे नीचे दिए गए सेट की संख्याएँ एक दूसरे से संबंधित हैं।

(12, 121, 169)

- Ans**
- 1. (14, 196, 225)
 - 2. (11, 144, 196)
 - 3. (17, 256, 324)
 - 4. (16, 161, 256)

Question ID : **81616112318**
Status : **Answered**
Chosen Option : **3**

Q.15 नीचे चार वर्ण-समूह दिए गए हैं जिनमें से तीन किसी संदर्भ में एक समान हैं और उनमें से एक असंगत है। उस असंगत वर्ण-समूह का चयन करें।

- Ans**
- 1. QL
 - 2. KP
 - 3. MN
 - 4. GT

Question ID : **81616112406**
Status : **Answered**
Chosen Option : **1**



Download SSC CGL, CHSL E-BOOKS

CLICK HERE

Get SSC CGL TIER-1 Study Note at : <https://sscportal.in/notes>

Q.16 दिए गए पैटर्न का ध्यानपूर्वक अध्ययन करें और वह संख्या चुनें जो प्रश्नचिह्न (?) के स्थान पर आ सकती है?

12 34 110
6 13 35
9 ? 60

- Ans 1. 19
 2. 23
 3. 18
 4. 21

Question ID : 81616113327

Status : Not Answered

Chosen Option : --

Q.17 अंकित, संजय और रोशन नामक तीन क्रिकेटरों की विभिन्न स्रोतों से मासिक आय 12 : 9 : 7 के अनुपात में है, और उनका व्यय 15 : 9 : 8 के अनुपात में है। यदि अंकित भविष्य में निवेश के लिए अपनी 25% आय की बचत करता है, तो अंकित, संजय और रोशन की बचत का अनुपात क्या है?

- Ans 1. 15 : 18 : 11
 2. 25 : 16 : 13
 3. 23 : 18 : 11
 4. 5 : 8 : 7

Question ID : 81616113431

Status : Not Answered

Chosen Option : --

Q.18 यदि दर्पण को चित्र के अनुसार 'PQ' पर रखा जाता है तो दिए गए संयोजन का सही दर्पण प्रतिबिंब चयनित कीजिए?

A p 6 9 D q M t $\left| \begin{array}{c} P \\ Q \end{array} \right.$

- Ans 1. j M p D e d q A
 2. j M p D e d q A
 3. v b d e D p M t
 4. v b e d D p M t

Question ID : 81616113436

Status : Answered

Chosen Option : 2



Download SSC CGL, CHSL E-BOOKS

[CLICK HERE](#)

Get SSC CGL TIER-1 Study Note at : <https://sscportal.in/notes>

Q.19 किसी विशिष्ट कूटभाषा में 'INHALE' को 'REEDIH' के रूप में लिखा जाता है। तो उसी भाषा में 'MIGHTY' को कैसे लिखा जाएगा?

- Ans**
- 1. MCLICP
 - 2. CCILMP
 - 3. MILCCP
 - 4. IMCLCP

Question ID : **81616113319**
Status : **Not Answered**
Chosen Option : --

Q.20 उस विकल्प का चयन कीजिए जिसके शब्दों के मध्य वही संबंध है, जो दिए गए शब्द-युग्म के शब्दों के मध्य है।

पल्मोनोलॉजिस्ट : फेफड़ा

- Ans**
- 1. हड्डी : आर्थोपेडिक
 - 2. ऑपथैल्मोलॉजिस्ट : कान
 - 3. नेफ्रोलॉजिस्ट : तंत्रिका
 - 4. एंडोक्राइनोलॉजिस्ट : ग्रंथियाँ

Question ID : **81616113419**
Status : **Answered**
Chosen Option : 1

Q.21 There are two couples in a family. Komali has two children. Madhurima is the wife of Omprakash, who is the brother of Mani. Pinki is the daughter of Komali. Urmila is the sister of Sanju, who is the son of Omprakash. Tarun is the son of Mani, who is a male.

How is Madhurima is related to Komali?

- Ans**
- 1. Aunt
 - 2. Sister-in-law
 - 3. Sister
 - 4. Mother

Question ID : **81616113423**
Status : **Answered**
Chosen Option : 2

Q.22 नीचे चार शब्द दिए गए हैं जिनमें से तीन किसी संदर्भ में एक समान हैं और उनमें से एक असंगत है। उस असंगत शब्द का चयन करें।

- Ans**
- 1. घेंघा
 - 2. स्कर्वी
 - 3. डायरिया
 - 4. रक्ताल्पता

Question ID : **81616112306**
Status : **Answered**
Chosen Option : 3

Get SSC CGL TIER-1 Study Note at : <https://sscportal.in/notes>

Q.23 Read the given statements and conclusions carefully. Assuming that the information given in the statements is true, even if it appears to be at variance with commonly known facts, decide which of the given conclusions logically follows from the statements.

Statements:

All lockets are chains.
100% medals are lockets.
Some rings are chains.

Conclusions:

I. All chains are medals.
II. All medals being rings is a possibility.

- Ans
- 1. Neither conclusion I nor II follows
 - 2. Both conclusions I and II follow
 - 3. Only conclusion II follows
 - 4. Only conclusion I follows

Question ID : 81616113323

Status : Answered

Chosen Option : 3

Q.24 वह सही विकल्प चुनें जो दिए गए शब्दों को उस क्रम में दर्शाता है जिस क्रम में वे अंग्रेजी शब्दकोश में आते हैं।

1. Hypodermic
2. Hypocrite
3. Hysterical
4. Hypothermia
5. Hypotenuse

- Ans
- 1. 4, 3, 5, 1, 2
 - 2. 3, 5, 1, 2, 4
 - 3. 2, 1, 5, 4, 3
 - 4. 1, 2, 3, 4, 5

Question ID : 81616112405

Status : Answered

Chosen Option : 3

Q.25 दिए गए विकल्पों में से वह संख्या चुनें जो निम्नलिखित श्रृंखला में प्रश्नचिह्न (?) के स्थान पर आएगी?

121, 169, 225, 289, ?

- Ans
- 1. 398
 - 2. 361
 - 3. 305
 - 4. 410

Question ID : 81616112415

Status : Answered

Chosen Option : 2



Download SSC CGL, CHSL E-BOOKS

[CLICK HERE](#)