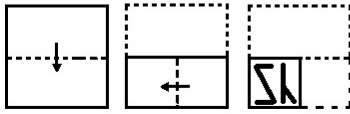


## Combined Graduate Level Examination 2020 Tier-I

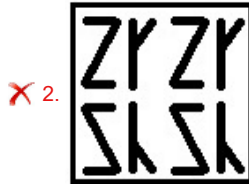
Roll Number	
Candidate Name	
Venue Name	DD College
Exam Date	18/08/2021
Exam Time	3:00 PM - 4:00 PM
Subject	Combined Graduate Level Examination 2020 Tier 1

### Section : General Intelligence and Reasoning

Q.1 नीचे आकृति में कागज के एक टुकड़े को मोड़ने का क्रम और उस मुड़े हुए कागज को काटने का तरीका दर्शाया गया है। इस कागज को खोलने पर यह कैसा दिखेगा?



Ans



Question ID : 81616112629

Status : Answered

Chosen Option : 3



Download SSC CGL, CHSL E-BOOKS

[CLICK HERE](#)

## Get SSC CGL TIER-1 Study Note at : <https://sscportal.in/notes>

**Q.2** किसी खास कूटभाषा में, 'REFUSAL' को '2101239103' और 'POETRY' को '1067927' के रूप में कूटबद्ध किया गया है, तो उसी भाषा में 'PROFIT' को कैसे कूटबद्ध किया जाएगा?

- Ans**
- 1. 18216972
  - 2. 81217629
  - 3. 21671829
  - 4. 12186792

Question ID : **81616112916**  
Status : **Not Answered**  
Chosen Option : --

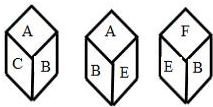
**Q.3** दिए गए विकल्पों में से वह वर्ण-समूह चुनें जो निम्नलिखित श्रृंखला में प्रश्नचिह्न (?) के स्थान पर आएगा?

CUH, HQK, MMN, RIQ, ?

- Ans**
- 1. UDS
  - 2. WET
  - 3. XFS
  - 4. VGT

Question ID : **81616112606**  
Status : **Answered**  
Chosen Option : 2

**Q.4** एक पासे की तीन अलग-अलग स्थितियाँ दिखाई गई हैं, जिनके फलकों पर A, B, C, D, E और F अक्षर अंकित किए गए हैं। वह अक्षर चुनें जो 'D' अक्षर वाले फलक के विपरीत फलक पर आएगा।



- Ans**
- 1. A
  - 2. B
  - 3. F
  - 4. C

Question ID : **81616112929**  
Status : **Answered**  
Chosen Option : 2

**Q.5** वह विकल्प चुनें जो तीसरी संख्या से उसी प्रकार संबंधित है, जिस प्रकार दूसरी संख्या, पहली संख्या से और छठी संख्या, पाँचवीं संख्या से संबंधित है।

16 : 8 :: 21 : ? :: 11 : 6

- Ans**
- 1. 11
  - 2. 9
  - 3. 10
  - 4. 14

Question ID : **81616113123**  
Status : **Marked For Review**  
Chosen Option : 2



## Get SSC CGL TIER-1 Study Note at : <https://sscportal.in/notes>

**Q.6** उस विकल्प का चयन कीजिए जिसके शब्दों के मध्य वही संबंध है, जो दिए गए शब्द-युग्म के शब्दों के मध्य है।

झारखंड : रांची

- Ans**  1. मेघालय : शिलांग  
 2. असम : जोरहाट  
 3. मिजोरम : कोहिमा  
 4. सिक्किम : ईटानगर

Question ID : **81616112611**  
 Status : **Answered**  
 Chosen Option : 1

**Q.7** रानी, पीयूष की बहन और कमल की बेटी है। कमल, गौरव का बेटा और आर्यन का भाई है। आर्यन, रजनीश का पिता है। आर्यन का पीयूष से क्या संबंध है?

- Ans**  1. चाचा  
 2. पिता  
 3. दादा  
 4. भाई

Question ID : **81616112615**  
 Status : **Answered**  
 Chosen Option : 1

**Q.8** दिए गए विकल्पों में से वह अक्षर चुनें जो निम्नलिखित श्रृंखला में प्रश्नचिह्न (?) के स्थान पर आएगा?

H, Q, I, T, K, ?, N

- Ans**  1. U  
 2. J  
 3. Y  
 4. A

Question ID : **81616112614**  
 Status : **Marked For Review**  
 Chosen Option : 3

**Q.9** दिए गए पैटर्न का ध्यानपूर्वक अध्ययन करें और वह संख्या चुनें जो इसमें प्रश्नचिह्न (?) के स्थान पर आ सकती है?

3 13 4  
 6 67 31  
 5 ? 20

- Ans**  1. 40  
 2. 55  
 3. 50  
 4. 45

Question ID : **81616113125**  
 Status : **Answered**  
 Chosen Option : 4



Download SSC CGL, CHSL E-BOOKS

CLICK HERE

Get SSC CGL TIER-1 Study Note at : <https://sscportal.in/notes>

Q.10 दिए गए विकल्पों में से वह संख्या चुनें जो निम्नलिखित श्रृंखला में प्रश्नचिह्न (?) के स्थान पर आएगी?

6, 6, 8, 24, 28, 140, ?

Ans ✓ 1. 146

✗ 2. 145

✗ 3. 148

✗ 4. 144

Question ID : 81616113324

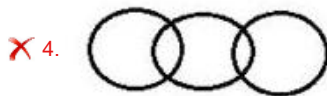
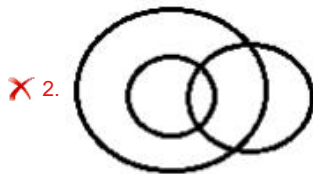
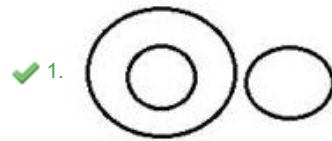
Status : Marked For Review

Chosen Option : 3

Q.11 वह वेन आरेख चुनें जो निम्न श्रेणियों के बीच के संबंध का सबसे अच्छा निरूपण करता है।

वरुण, ग्रह, चंद्रमा

Ans



Question ID : 81616113135

Status : Answered

Chosen Option : 1

Q.12 रमेश की वर्तमान आयु उसकी पत्नी संगीता की वर्तमान आयु से 7 वर्ष अधिक है। 6 वर्षों के बाद, रमेश की आयु उसके बेटे मयंक से तीन गुनी हो जाएगी। यदि मयंक की वर्तमान आयु 10 वर्ष है, तो संगीता की वर्तमान आयु कितनी है?

Ans ✗ 1. 48 वर्ष

✗ 2. 30 वर्ष

✗ 3. 42 वर्ष

✓ 4. 35 वर्ष

Question ID : 81616112623

Status : Answered

Chosen Option : 4



Download SSC CGL, CHSL E-BOOKS

CLICK HERE

Get SSC CGL TIER-1 Study Note at : <https://sscportal.in/notes>

Q.13 किसी विशिष्ट कूटभाषा में 'VIRTUE' को 'DBZBNX' के रूप में लिखा जाता है। तो उसी भाषा में 'OMINOUS' को कैसे लिखा जाएगा?

- Ans  1. HUBVHNA  
 2. HBUVHNA  
 3. IUBHMBA  
 4. IBUHABM

Question ID : 81616113117  
Status : Not Answered  
Chosen Option : --




Download SSC CGL, CHSL E-BOOKS

[CLICK HERE](#)

Get SSC CGL TIER-1 Study Note at : <https://sscportal.in/notes>

**Q.14** यदि दर्पण को दिए गए चित्र के अनुसार 'AB' पर रखा जाता है तो दी गई आकृति का सही दर्पण प्रतिबिंब चयनित कीजिए।




**Ans**

✗ 1.



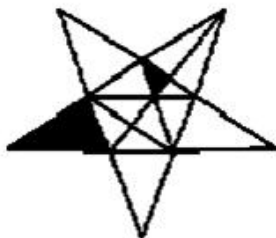
✓ 2.



✗ 3.



✗ 4.



Question ID : 81616112628

Status : Answered

Chosen Option : 2



Download SSC CGL, CHSL E-BOOKS

[CLICK HERE](#)

**Get SSC CGL TIER-1 Study Note at : <https://sscportal.in/notes>**

**Q.15** नीचे चार वर्ण-समूह दिए गए हैं जिनमें से तीन किसी संदर्भ में एक समान हैं और उनमें से एक असंगत है। उस असंगत वर्ण-समूह का चयन करें।

- Ans**  1. XZTB  
 2. TVQX  
 3. BDYF  
 4. NPKR

Question ID : **81616113315**  
Status : **Answered**  
Chosen Option : **4**

**Q.16** नीचे चार संख्या-युग्म दिए गए हैं जिनमें से तीन किसी संदर्भ में एक समान हैं और उनमें से एक असंगत है। उस असंगत संख्या-युग्म का चयन करें। (अंकों में कोई भी हेरफेर नहीं करना है)

- Ans**  1. 308 : 101  
 2. 326 : 107  
 3. 197 : 66  
 4. 239 : 78

Question ID : **81616112922**  
Status : **Answered**  
Chosen Option : **3**

**Q.17** Four words have been given, out of which three are alike in some manner and one is different. Select the word that is different.

- Ans**  1. Devotion  
 2. Fury  
 3. Vision  
 4. Zeal

Question ID : **81616112912**  
Status : **Answered**  
Chosen Option : **2**



**Download SSC CGL, CHSL E-BOOKS**

[CLICK HERE](#)

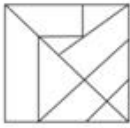
Get SSC CGL TIER-1 Study Note at : <https://sscportal.in/notes>

Q.18 वह विकल्प चुनें जिसमें दी गई आकृति सन्निहित है (आकृति को घुमाना नहीं है)।

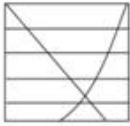


Ans

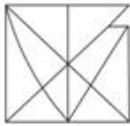
✗ 1.




✗ 2.



✓ 3.



✗ 4.



Question ID : 81616112627

Status : Answered

Chosen Option : 3

Q.19 दिए गए कथनों और निष्कर्षों को ध्यान से पढ़ें। कथनों में दी गई जानकारी को सत्य मानते हुए, भले ही वह सामान्य रूप से ज्ञात तथ्यों से भिन्न प्रतीत हो, निर्धारित करें कि कौन से निष्कर्ष दिए गए कथनों का तार्किक रूप से अनुसरण करते हैं।

कथन:

कुछ चटाई, गलीचे हैं।

कुछ गलीचे, कंबल हैं।

कोई भी कंबल, रजाई नहीं है।

निष्कर्ष:

I. कोई भी रजाई, गलीचा नहीं है।

II. कोई भी कंबल, चटाई नहीं है।

III. कुछ गलीचे, चटाई हैं।

Ans ✗ 1. निष्कर्ष I और III दोनों अनुसरण करते हैं

✗ 2. केवल निष्कर्ष I अनुसरण करता है

✗ 3. केवल निष्कर्ष II अनुसरण करता है

✓ 4. केवल निष्कर्ष III अनुसरण करता है

Question ID : 81616113121

Status : Answered

Chosen Option : 1



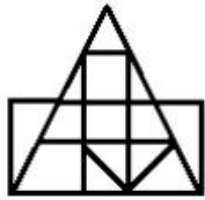
Download SSC CGL, CHSL E-BOOKS

CLICK HERE



Get SSC CGL TIER-1 Study Note at : <https://sscportal.in/notes>

Q.20 दी गई आकृति में त्रिभुजों की संख्या बताइए।



- Ans
- 1. 18
  - 2. 16
  - 3. 14
  - 4. 20

Question ID : 81616112928  
Status : Answered  
Chosen Option : 2

Q.21 वह सही विकल्प चुनें जो दिए गए शब्दों को उस क्रम में दर्शाता है जिसमें वे अंग्रेजी शब्दकोश में आते हैं।

1. Gravity
2. Glycogen
3. Gestation
4. Glycerine
5. Gesture

- Ans
- 1. 3, 5, 2, 4, 1
  - 2. 3, 1, 2, 4, 5
  - 3. 3, 2, 5, 1, 4
  - 4. 3, 5, 4, 2, 1

Question ID : 81616113314  
Status : Answered  
Chosen Option : 4

Q.22 वह विकल्प चुनें जो तीसरे शब्द से उसी प्रकार संबंधित है, जिस प्रकार दूसरा शब्द पहले शब्द से संबंधित है।

वृत्त : चाप :: पौधा :

- Ans
- 1. प्लाज्मा
  - 2. क्लोरोफिल
  - 3. पेड़
  - 4. तना

Question ID : 81616113317  
Status : Answered  
Chosen Option : 4



Download SSC CGL, CHSL E-BOOKS

CLICK HERE

Get SSC CGL TIER-1 Study Note at : <https://sscportal.in/notes>

Q.23 गणितीय चिह्नों का वह सही संयोजन चुनें जिसे क्रमिक रूप से \* चिह्नों के स्थान पर रखने से समीकरण संतुलित हो जाएगा।

$$483 * 23 * 93 * 16 * 4 * 50$$


- Ans
- ✗ 1. +, +, -, ×, =
  - ✗ 2. +, -, +, ×, =
  - ✓ 3. +, +, -, ×, =
  - ✗ 4. +, +, -, =, ×

Question ID : 81616112925

Status : Answered

Chosen Option : 3

Q.24 दिए गए विकल्पों में से वह आकृति चुनें जो निम्नलिखित शृंखला में प्रश्नचिह्न (?) के स्थान पर आएगी।



Ans

- ✓ 1.
- ✗ 2.
- ✗ 3.
- ✗ 4.

Question ID : 81616113331

Status : Answered

Chosen Option : 1



Download SSC CGL, CHSL E-BOOKS

CLICK HERE

Get SSC CGL TIER-1 Study Note at : <https://sscportal.in/notes>

Q.25 वह विकल्प चुनें जिसमें संख्याएँ एक दूसरे से उसी तरह से संबंधित हैं जैसे नीचे दिए गए सेट की संख्याएँ एक दूसरे से संबंधित हैं।

(4, 10, 53)

- Ans  1. (7, 19, 98)  
 2. (8, 20, 103)  
 3. (5, 13, 62)  
 4. (11, 31, 152)

Question ID : 81616112924

Status : Answered

Chosen Option : 2



Download SSC CGL, CHSL E-BOOKS

[CLICK HERE](#)