

Combined Graduate Level Examination 2020 Tier-I

Roll Number	
Candidate Name	
Venue Name	iON Digital Zone iDZ 1 Patliputra
Exam Date	17/08/2021
Exam Time	3:00 PM - 4:00 PM
Subject	Combined Graduate Level Examination 2020 Tier 1

Section : General Intelligence and Reasoning

Q.1 नीचे चार शब्द दिए गए हैं जिनमें से तीन किसी संदर्भ में एक समान हैं और उनमें से एक असंगत है। उस असंगत शब्द का चयन करें।

- Ans
- 1. अनुदेशक (इंस्ट्रक्टर)
 - 2. अध्यापिका (मिस्ट्रेस)
 - 3. परामर्शदाता (मेंटर)
 - 4. मार्गदर्शक (गाइड)

Question ID : 81616112407
Status : Answered
Chosen Option : 2

Q.2 दी गई आकृति में कितने आयत हैं?



- Ans
- 1. 12
 - 2. 8
 - 3. 10
 - 4. 14

Question ID : 81616112423
Status : Answered
Chosen Option : 4

Q.3 दिए गए विकल्पों में से वह वर्ण-समूह चुनें जो निम्नलिखित श्रृंखला में प्रश्नचिह्न (?) के स्थान पर आएगा?

ABD, CEI, EHN, ?

- Ans
- 1. GHJ
 - 2. FJR
 - 3. GIM
 - 4. GKS

Question ID : 81616112202
Status : Answered
Chosen Option : 4



Download SSC CGL, CHSL E-BOOKS

[CLICK HERE](#)

Get SSC CGL TIER-1 Study Note at : <https://sscportal.in/notes>

Q.4 गणितीय चिह्नों का वह सही संयोजन चुनें जिसे क्रमिक रूप से * चिह्नों के स्थान पर रखने से समीकरण संतुलित हो जाएगा।

$$48 * 12 * 8 * 15 * 3 * 44$$

- Ans**
- 1. ×, ÷, =, -, +
 - 2. =, ×, +, ÷, -
 - 3. +, ÷, -, =, ×
 - 4. ÷, ×, +, -, =

Question ID : **81616112420**

Status : **Answered**

Chosen Option : **4**

Q.5 वह विकल्प चुनें जिसमें संख्याएँ एक दूसरे से उस तरह से संबंधित नहीं हैं जैसे नीचे दिए गए सेट की संख्याएँ एक दूसरे से संबंधित हैं।

(7, 51, 22)

- Ans**
- 1. (11, 123, 26)
 - 2. (3, 11, 18)
 - 3. (4, 18, 19)
 - 4. (6, 38, 22)

Question ID : **81616112419**

Status : **Not Attempted and Marked For Review**

Chosen Option : --

Q.6 नीचे चार संख्या-युग्म दिए गए हैं जिनमें से तीन किसी संदर्भ में एक समान हैं और उनमें से एक असंगत है। उस असंगत संख्या-युग्म का चयन करें।

- Ans**
- 1. (18, 128)
 - 2. (17, 119)
 - 3. (16, 112)
 - 4. (15, 105)

Question ID : **81616112417**

Status : **Answered**

Chosen Option : **1**

Q.7 किसी विशिष्ट कूटभाषा में 'PLIGHT' को 'JMQUIH' के रूप में लिखा जाता है। तो उसी भाषा में 'CANDLE' को कैसे लिखा जाएगा?

- Ans**
- 1. ODBFME
 - 2. ODBFME
 - 3. ODBFEM
 - 4. BODMFE

Question ID : **81616113925**

Status : **Answered**

Chosen Option : **1**



Download SSC CGL, CHSL E-BOOKS

[CLICK HERE](#)

Get SSC CGL TIER-1 Study Note at : <https://sscportal.in/notes>

Q.8 अक्षरों का वह संयोजन चुनें जो दी गई श्रृंखला में रिक्त स्थानों पर क्रमिक रूप से रखे जाने पर श्रृंखला को पूरा करेगा।

_ Q _ S P _ R _ _ Q _ _ P _ R _

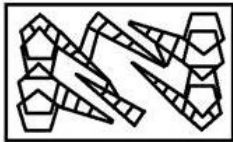
- Ans 1. P, R, Q, S, P, R, S, Q, S
 2. P, R, Q, S, P, R, R, P, Q
 3. P, R, Q, S, Q, S, P, R, S
 4. S, P, R, S, P, R, Q, Q, S

Question ID : 81616112210

Status : Answered

Chosen Option : 1

Q.9 वह विकल्प चुनें जो दी गई आकृति में सन्निहित है (आकृति को घुमाना नहीं है)।



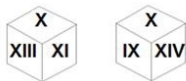
- Ans 1.
 2.
 3.
 4.

Question ID : 81616112223

Status : Answered

Chosen Option : 2

Q.10 एक ही पासे की दो अलग-अलग स्थितियाँ दर्शाई गई हैं, जिनके फलकों पर संख्याएँ IX, X, XI, XII, XIII और XIV अंकित की गई हैं। वह संख्या चुनें जो 'XIV' वाले फलक के विपरीत फलक पर आएगी।



- Ans 1. X
 2. XII
 3. XI
 4. IX

Question ID : 81616112424

Status : Answered

Chosen Option : 3



Download SSC CGL, CHSL E-BOOKS

[CLICK HERE](#)

Get SSC CGL TIER-1 Study Note at : <https://sscportal.in/notes>

Q.11 वह विकल्प चुनें जो चौथी संख्या से उसी प्रकार संबंधित है, जिस प्रकार दूसरी संख्या से पहली संख्या और छठी संख्या से पाँचवीं संख्या संबंधित है।

396 : 24 :: ? : 28 :: 672 : 30

- Ans**
- 1. 588
 - 2. 536
 - 3. 504
 - 4. 572

Question ID : **81616113931**
 Status : **Marked For Review**
 Chosen Option : **4**

Q.12 वह विकल्प चुनें जिसमें संख्याएँ एक दूसरे से उसी तरह से संबंधित हैं जैसे नीचे दिए गए सेट की संख्याएँ एक दूसरे से संबंधित हैं।

(4, 8, 16)

- Ans**
- 1. (18, 6, 15)
 - 2. (11, 16, 51)
 - 3. (20, 24, 16)
 - 4. (24, 15, 44)

Question ID : **81616113933**
 Status : **Marked For Review**
 Chosen Option : **3**

Q.13 नीचे चार वर्ण-समूह दिए गए हैं जिनमें से तीन किसी संदर्भ में एक समान हैं और उनमें से एक असंगत है। उस असंगत वर्ण-समूह का चयन करें।

- Ans**
- 1. PSV
 - 2. QTV
 - 3. NQT
 - 4. MPS

Question ID : **81616112305**
 Status : **Answered**
 Chosen Option : **2**

Q.14 वह विकल्प चुनें जो तीसरे शब्द से उसी प्रकार संबंधित है, जिस प्रकार दूसरा शब्द पहले शब्द से संबंधित है।

भेड़ : मेमना :: तिलचट्टा : ?

- Ans**
- 1. निम्फ (Nymph)
 - 2. इल्ली (Caterpillar)
 - 3. लार्वा (Larva)
 - 4. बछेड़ी (Filly)

Question ID : **81616112307**
 Status : **Answered**
 Chosen Option : **1**



Download SSC CGL, CHSL E-BOOKS

[CLICK HERE](#)

Get SSC CGL TIER-1 Study Note at : <https://sscportal.in/notes>

Q.15 Select the option in which the words share the same relationship as that shared by the given pair of words.

Flower : Floriculture

Ans ✓ 1. Earthworm : Vermiculture

✗ 2. Silk : Silviculture

✗ 3. Honey : Horticulture

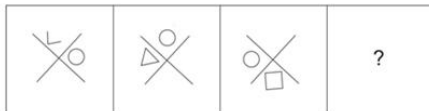
✗ 4. Mushroom : Viticulture

Question ID : 81616112207

Status : Answered

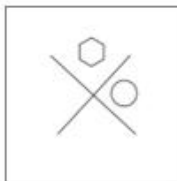
Chosen Option : 1

Q.16 दिए गए विकल्पों में से वह आकृति चुनें जो निम्नलिखित श्रृंखला में प्रश्नचिह्न (?) के स्थान पर आएगी।



Ans

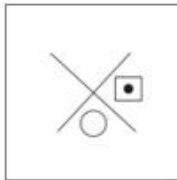
✗ 1.



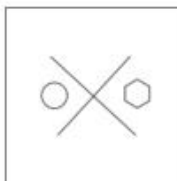
✓ 2.



✗ 3.



✗ 4.



Question ID : 81616112321

Status : Answered

Chosen Option : 2



Download SSC CGL, CHSL E-BOOKS

[CLICK HERE](#)

Get SSC CGL TIER-1 Study Note at : <https://sscportal.in/notes>

Q.17 एक प्रेस सम्मेलन में 28 व्यक्ति मौजूद हैं। सम्मेलन के बाद सभी व्यक्ति एक-दूसरे से हाथ मिलाते हैं। यदि उनमें से 7 व्यक्ति हाथ मिलाने से मना कर देते हैं, तो कुल मिलाकर कितने हाथ मिलाए जाएंगे?

- Ans**
- 1. 231
 - 2. 378
 - 3. 210
 - 4. 420

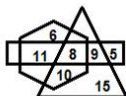
Question ID : **81616112219**
Status : **Answered**
Chosen Option : 1

Q.18 किसी विशिष्ट कूटभाषा में 'MANGO' को '13-2-42-28-75' के रूप में और 'GRAPE' को '7-36-3-64-25' के रूप में लिखा जाता है। तो उसी भाषा में 'APPLE' को कैसे लिखा जाएगा?

- Ans**
- 1. 1-32-48-48-25
 - 2. 2-16-48-21-25
 - 3. 1-32-24-21-30
 - 4. 2-32-48-24-28

Question ID : **81616112411**
Status : **Answered**
Chosen Option : 1

Q.19 निम्नलिखित वेन आरेख में, विभुज 'खिलाड़ियों' को निरूपित करता है, षट्भुज 'भारतीयों' को निरूपित करता है और आयत 'लड़कों' को निरूपित करता है। दी गई संख्याएँ उस विशेष श्रेणी के व्यक्तियों की संख्या को दर्शाती हैं।



बताएँ कि कितने 'भारतीय' 'खिलाड़ी' हैं लेकिन 'लड़के' नहीं हैं?

- Ans**
- 1. 11
 - 2. 9
 - 3. 8
 - 4. 10

Question ID : **81616113943**
Status : **Answered**
Chosen Option : 4

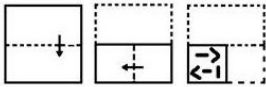


Download SSC CGL, CHSL E-BOOKS

CLICK HERE

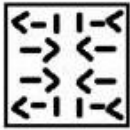
Get SSC CGL TIER-1 Study Note at : <https://sscportal.in/notes>

Q.20 नीचे आकृति में कागज के एक टुकड़े को मोड़ने का क्रम और उस मुड़े हुए कागज को काटने का तरीका दर्शाया गया है। इस कागज को खोलने पर यह कैसा दिखेगा?

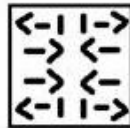


Ans


✗ 1.



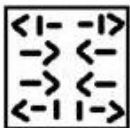
✓ 2.



✗ 3.



✗ 4.



Question ID : 81616112225

Status : Answered

Chosen Option : 2

Q.21 दिए गए कथनों और निष्कर्षों को ध्यान से पढ़ें। कथनों में दी गई जानकारी को सत्य मानते हुए, भले ही वह सामान्य रूप से ज्ञात तथ्यों से भिन्न प्रतीत हो, निर्धारित करें कि कौन से निष्कर्ष दिए गए कथनों का तार्किक रूप से अनुसरण करते हैं।

कथन:

कोई भी अतिथि, प्रशिक्षित नहीं है।

सभी प्रशिक्षित, कर्मचारी हैं।

कुछ कर्मचारी, लंबे हैं।

निष्कर्ष:

I. कुछ लंबे, प्रशिक्षित हैं।

II. कुछ कर्मचारी, प्रशिक्षित हैं।

III. कोई भी लंबा, अतिथि नहीं है।

Ans

✓ 1. केवल निष्कर्ष II अनुसरण करता है

✗ 2. सभी निष्कर्ष अनुसरण करते हैं

✗ 3. केवल निष्कर्ष I और II अनुसरण करते हैं

✗ 4. केवल निष्कर्ष I अनुसरण करता है

Question ID : 81616113929

Status : Answered

Chosen Option : 1



Download SSC CGL, CHSL E-BOOKS

CLICK HERE

Get SSC CGL TIER-1 Study Note at : <https://sscportal.in/notes>

Q.22 वह सही विकल्प चुनें जो दिए गए शब्द-विन्यास को उस क्रम में दर्शाता है जिसमें वे अंग्रेजी शब्दकोश में आते हैं।

1. Hygienic
2. Hydroplane
3. Hydroelectric
4. Hydroxide
5. Hydrology

Ans 1. 3, 5, 2, 4, 1

2. 3, 5, 1, 2, 4

3. 3, 5, 1, 4, 2

4. 1, 2, 3, 4, 5

Question ID : 81616112304

Status : Answered

Chosen Option : 1

Q.23 दिए गए विकल्पों में से वह संख्या चुनें जो निम्नलिखित श्रृंखला में प्रश्नचिह्न (?) के स्थान पर आएगी?

215, 231, 256, 292, ?

Ans 1. 328

2. 341

3. 402

4. 369

Question ID : 81616112314

Status : Answered

Chosen Option : 2

Q.24 कविता के तीन बेटे हैं- राम, रजत और रमेश। मुकुल, राम का बेटा है। मुकुल के दादा जय हैं। जय की एक बेटी है, जिसका नाम निकिता है। रजत के बेटे 'अभिराम' की शादी रानी से हुई है जिनकी बेटी इना है। निर्मला, निकिता की बेटी है। तो बताएँ कि जय का इना से क्या संबंध है?

Ans 1. ससुर

2. दादा

3. चाचा

4. परदादा

Question ID : 81616112211

Status : Answered

Chosen Option : 2



Download SSC CGL, CHSL E-BOOKS

[CLICK HERE](#)

Get SSC CGL TIER-1 Study Note at : <https://sscportal.in/notes>

Q.25 यदि दर्पण को दी गई आकृति के दाईं ओर रखा जाता है तो आकृति का सही दर्पण प्रतिबिंब चयनित कीजिए।



Ans

✗ 1.



✗ 2.



✓ 3.



✗ 4.



Question ID : 81616112224
Status : Answered
Chosen Option : 3



Download SSC CGL, CHSL E-BOOKS

[CLICK HERE](#)