

Combined Graduate Level Examination 2020 Tier-I

Roll Number	
Candidate Name	
Venue Name	iON Digital Zone iDZ 2 GT Karnal Road
Exam Date	17/08/2021
Exam Time	12:00 PM - 1:00 PM
Subject	Combined Graduate Level Examination 2020 Tier 1

Section : General Intelligence and Reasoning

Q.1 दिए गए कथनों और निष्कर्षों को ध्यान से पढ़ें। कथनों में दी गई जानकारी को सत्य मानते हुए, भले ही वह सामान्य रूप से ज्ञात तथ्यों से भिन्न प्रतीत हो, निर्धारित करें कि कौन से निष्कर्ष दिए गए कथनों का तार्किक रूप से अनुसरण करते हैं।

कथन:

सभी ऊँट, चमगादड़ हैं।
कोई भी चमगादड़, तोता नहीं है।
कुछ ऊँट, शेर हैं।

निष्कर्ष:

I. कुछ चमगादड़, शेर हैं।
II. कोई भी तोता, ऊँट नहीं है।
III. कोई भी तोता, शेर नहीं है।

- Ans
- 1. निष्कर्ष I और III दोनों अनुसरण करते हैं
 - 2. केवल निष्कर्ष I अनुसरण करता है
 - 3. केवल निष्कर्ष II अनुसरण करता है
 - 4. निष्कर्ष I और II दोनों अनुसरण करते हैं

Question ID : 81616113424

Status : Answered

Chosen Option : 4

Q.2 किसी विशिष्ट कूटभाषा में, 'PAYMENT' को '6101814111520' और 'JUSTIFY' को '11141519151620' के रूप में कूटबद्ध किया गया है, तो उसी भाषा में 'COMPARE' को कैसे कूटबद्ध किया जाएगा?

- Ans
- 1. 680113111103
 - 2. 681013101113
 - 3. 601811031131
 - 4. 613101113801

Question ID : 81616112714

Status : Not Attempted and Marked For Review

Chosen Option : --



Download SSC CGL, CHSL E-BOOKS

[CLICK HERE](#)

Q.3 स्टेडियम में एक खिलाड़ी की ओर संकेत करते हुए संजना ने कहा, "वह मेरी दादी के इकलौते बेटे के इकलौते दामाद का इकलौता बेटा है।" उस खिलाड़ी के पिता का संजना से क्या संबंध है?

- Ans
- 1. कज़िन
 - 2. चाचा
 - 3. पति
 - 4. भाई

Question ID : 81616113120
Status : Answered
Chosen Option : 3

Q.4 वह सही विकल्प चुनें जो दिए गए शब्दों को उस क्रम में दर्शाता है जिस क्रम में वे अंग्रेजी शब्दकोश में आते हैं।

1. Ecology
2. Enormous
3. Electric
4. Exterior
5. Ecliptic

- Ans
- 1. 5, 1, 3, 2, 4
 - 2. 1, 5, 4, 3, 2
 - 3. 5, 1, 2, 3, 4
 - 4. 1, 5, 2, 3, 4

Question ID : 81616113617
Status : Answered
Chosen Option : 1

Q.5 नीचे चार शब्द दिए गए हैं जिनमें से तीन किसी संदर्भ में एक समान हैं और उनमें से एक असंगत है। उस असंगत शब्द का चयन करें।

- Ans
- 1. प्रोजेक्टर
 - 2. जॉयस्टिक
 - 3. की-बोर्ड
 - 4. माइक्रोफोन

Question ID : 81616112710
Status : Answered
Chosen Option : 4

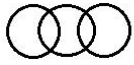
Q.6 नीचे चार वर्ण-समूह दिए गए हैं जिनमें से तीन किसी संदर्भ में एक समान हैं और उनमें से एक असंगत है। उस असंगत वर्ण-समूह का चयन करें।

- Ans
- 1. KPSH
 - 2. DWZA
 - 3. SHLO
 - 4. JQTG

Question ID : 81616113618
Status : Answered
Chosen Option : 3



Q.7 वर्गों के उस समूह का चयन करें, जिनके बीच के संबंध को निम्न वेन आरेख द्वारा सर्वोत्तम ढंग से दर्शाया गया है।



Ans

- ✗ 1. यमुना, नदियाँ, कावेरी
- ✗ 2. शाकाहारी, महिला, बहनें
- ✓ 3. लड़कियाँ, बुद्धिमान, लड़के
- ✗ 4. स्टेशनरी, पेंसिल, स्टेपलर

Question ID : 81616113438

Status : Answered

Chosen Option : 1

Q.8 वह विकल्प आकृति चुनें जिसमें दी गई आकृति सन्निहित है (आकृति को घुमाना नहीं है)।



Ans

- ✗ 1.
- ✓ 2.
- ✗ 3.
- ✗ 4.

Question ID : 81616113132

Status : Answered

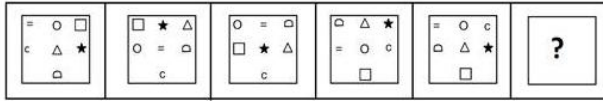
Chosen Option : 2



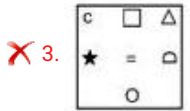
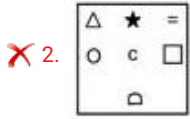
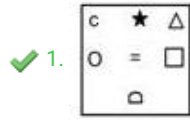
Download SSC CGL, CHSL E-BOOKS

[CLICK HERE](#)

Q.9 दिए गए विकल्पों में से वह आकृति चुनें जो निम्न शृंखला में प्रश्नचिह्न (?) के स्थान पर आएगी।



Ans



Question ID : 81616113634

Status : Answered

Chosen Option : 1

Q.10 किसी विशिष्ट कूटभाषा में 'PERMIT' को 'GRNIVK' के रूप में लिखा जाता है। तो उसी भाषा में 'CONDUCE' को कैसे लिखा जाएगा?

Ans ✗ 1. VFXMWXL

✓ 2. VXFWMXL

✗ 3. XLMWFXV

✗ 4. VXFMWLX

Question ID : 81616113420

Status : Not Attempted and Marked For Review

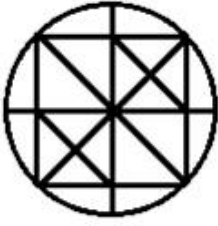
Chosen Option : --



Download SSC CGL, CHSL E-BOOKS

[CLICK HERE](#)

Q.11 दी गई आकृति में त्रिभुजों की संख्या बताइए।



- Ans
- ✗ 1. 24
 - ✗ 2. 30
 - ✓ 3. 28
 - ✗ 4. 26

Question ID : 81616112726
Status : Answered
Chosen Option : 4

Q.12 वह विकल्प चुनें जिसमें संख्याएँ एक दूसरे से उसी तरह से संबंधित हैं जैसे नीचे दिए गए सेट की संख्याएँ एक दूसरे से संबंधित हैं।

(9, 21, 124)

- Ans
- ✗ 1. (14, 58, 112)
 - ✗ 2. (5, 16, 220)
 - ✗ 3. (11, 64, 131)
 - ✓ 4. (17, 37, 220)

Question ID : 81616112722
Status : Not Attempted and Marked For Review
Chosen Option : --

Q.13 यदि दर्पण को चित्र के अनुसार 'PQ' पर रखा जाता है, तो दिए गए संयोजन का सही दर्पण प्रतिबिंब चयनित कीजिए।

PORTABLE^P_Q

- Ans
- ✗ 1. ЪОКѲЛВГЕ
 - ✓ 2. ЕЛѲАТЯОР
 - ✗ 3. ЪОКЛѲВГЕ
 - ✗ 4. ЕЛѲЛГЕ

Question ID : 81616113133
Status : Answered
Chosen Option : 4



Q.14 दिए गए विकल्पों में से वह वर्ण-समूह चुनें जो निम्नलिखित शृंखला में प्रश्नचिह्न (?) के स्थान पर आएगा?

TALT, YAGT, YFGO, DFBO, DKBJ, ?

- Ans
- 1. DPBE
 - 2. IKWJ
 - 3. IJKW
 - 4. BDEP

Question ID : 81616113111

Status : Answered

Chosen Option : 2

Q.15 अक्षरों के उस संयोजन को चुनें जो दी गई शृंखला में रिक्त स्थानों पर क्रमिक रूप से रखे जाने पर शृंखला को पूरा करेगा।

pq_dh_qmd_p_m_h_q_dh

- Ans
- 1. d, h, m, m, p, p, q
 - 2. m, p, h, q, d, p, m
 - 3. d, m, m, p, p, h, q
 - 4. m, p, q, h, d, p, m

Question ID : 81616113119

Status : Answered

Chosen Option : 2

Q.16 गौतम की वर्तमान आयु, 15 साल पहले उसके पिता की आयु के 20% के बराबर है, और गौरव (गौतम का भाई) की वर्तमान आयु, 10 साल पहले उसके पिता की आयु की 60% है। यदि गौतम की वर्तमान आयु और गौरव की वर्तमान आयु का योग 31 है, तो उसके पिता की वर्तमान आयु बताएँ।

- Ans
- 1. 50 वर्ष
 - 2. 55 वर्ष
 - 3. 40 वर्ष
 - 4. 45 वर्ष

Question ID : 81616113128

Status : Not Attempted and Marked For Review

Chosen Option : --

Q.17 उस विकल्प का चयन कीजिए जिसके शब्दों के मध्य वही संबंध है, जो दिए गए शब्द-युग्म के शब्दों के मध्य है।

सहानुभूति : अनुरक्ति

- Ans
- 1. उजाला : अंधेरा
 - 2. शांतचित्त : धीर
 - 3. अहंकारी : विनम्र
 - 4. सौम्य : रूक्ष

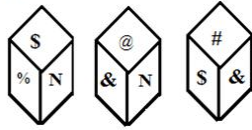
Question ID : 81616113116

Status : Not Attempted and Marked For Review

Chosen Option : --



Q.18 एक पासे की तीन अलग-अलग स्थितियाँ दर्शाई गई हैं। वह प्रतीक चुनें जो 'N' अक्षर वाले फलक के विपरीत फलक पर आएगा।



- Ans
- 1. %
 - 2. #
 - 3. @
 - 4. &

Question ID : 81616112727

Status : Answered

Chosen Option : 2

Q.19 दिए गए विकल्पों में से वह संख्या चुनें जो निम्नलिखित शृंखला में प्रश्नचिह्न (?) के स्थान पर आएगी?

5, 11, 25, 55, 117, 243, ?

- Ans
- 1. 497
 - 2. 479
 - 3. 473
 - 4. 437

Question ID : 81616113627

Status : Answered

Chosen Option : 1

Q.20 दिए गए पैटर्न का ध्यानपूर्वक अध्ययन करें और वह संख्या चुनें जो प्रश्नचिह्न (?) के स्थान पर आ सकती है?

3 11 2
5 11 7
13 ? 18

- Ans
- 1. 33
 - 2. 27
 - 3. 29
 - 4. 31

Question ID : 81616113428

Status : Not Attempted and Marked For Review

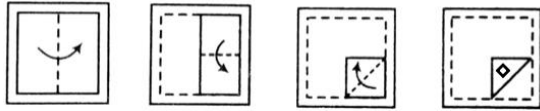
Chosen Option : --



Download SSC CGL, CHSL E-BOOKS


[CLICK HERE](#)

Q.21 नीचे आकृति में कागज के एक टुकड़े को मोड़ने का क्रम और उस मुड़े हुए कागज को काटने का तरीका दर्शाया गया है। इस कागज को खोलने पर यह कैसा दिखेगा?



Ans


✗ 1.




✗ 2.



✓ 3.



✗ 4.



Question ID : 81616113134

Status : Answered

Chosen Option : 3

Q.22 Select the option that is related to the third word in the same way as the second word is related to the first word.

Dermatologist : Skin : Neonatologist : ?

Ans ✗ 1. Liver

✓ 2. Infants

✗ 3. Immunity

✗ 4. Hormones

Question ID : 81616113620

Status : Not Attempted and Marked For Review

Chosen Option : --

Q.23 निम्नलिखित चार संख्या-युग्मों में से तीन एक निश्चित तरीके से समान हैं और इनमें से एक असंगत है। उस असंगत संख्या-युग्म का चयन करें।

- Ans
- 1. 78 : 127
 - 2. 25 : 89
 - 3. 61 : 97
 - 4. 56 : 136

Question ID : 81616112720
Status : Not Answered
Chosen Option : --

Q.24 वह विकल्प चुनें जो चौथी संख्या से उसी प्रकार संबंधित है, जिस प्रकार दूसरी संख्या से पहली संख्या और छठी संख्या से पाँचवीं संख्या संबंधित है।

12 : 136 :: ? : 188 :: 24 : 568

- Ans
- 1. 32
 - 2. 41
 - 3. 26
 - 4. 14

Question ID : 81616113426
Status : Answered
Chosen Option : 4

Q.25 गणितीय चिह्नों का वह सही संयोजन चुनें जिसे क्रमिक रूप से * चिह्नों के स्थान पर रखने से समीकरण संतुलित हो जाएगा।

18 * 12 * 4 * 5 * 6 * 53

- Ans
- 1. ×, ÷, =, +, -
 - 2. ×, ÷, -, +, =
 - 3. ×, ÷, +, =, -
 - 4. ×, ÷, +, -, =

Question ID : 81616112723
Status : Answered
Chosen Option : 4

