

Combined Graduate Level Examination 2020 Tier-I

Roll Number	
Candidate Name	
Venue Name	Skymoon IT Point Pvt. Ltd
Exam Date	16/08/2021
Exam Time	12:00 PM - 1:00 PM
Subject	Combined Graduate Level Examination 2020 Tier 1

Section : General Intelligence and Reasoning

Q.1 नीचे चार वर्ण-समूह दिए गए हैं जिनमें से तीन किसी संदर्भ में एक समान हैं और उनमें से एक असंगत है। उस असंगत वर्ण-समूह का चयन करें।

- Ans
- 1. EMNK
 - 2. BTGN
 - 3. FJQL
 - 4. IDWG

Question ID : 81616113113
Status : Answered
Chosen Option : 2

Q.2 दिए गए विकल्पों में से वह अक्षर चुनें जो निम्नलिखित श्रृंखला में प्रश्नचिह्न (?) के स्थान पर आएगा?

B, E, G, J, L, ?

- Ans
- 1. N
 - 2. Q
 - 3. O
 - 4. P

Question ID : 81616112513
Status : Answered
Chosen Option : 3

Q.3 दिए गए पैटर्न का ध्यानपूर्वक अध्ययन करें और वह संख्या चुनें जो इसमें प्रश्नचिह्न (?) के स्थान पर आ सकती है?

22 32 7
18 24 5
32 40 ?

- Ans
- 1. 4
 - 2. 12
 - 3. 10
 - 4. 8

Question ID : 81616112923
Status : Not Answered
Chosen Option : --

Q.4 नीचे चार संख्या-युग्म दिए गए हैं जिनमें से तीन किसी संदर्भ में एक समान हैं और उनमें से एक असंगत है। उस असंगत संख्या-युग्म का चयन करें।

- Ans
- 1. 256 : 61
 - 2. 169 : 55
 - 3. 324 : 64
 - 4. 289 : 70

Question ID : 81616112215

Status : Not Answered

Chosen Option : --

Q.5 वह सही विकल्प चुनें जो दिए गए शब्दों के उस क्रम को दर्शाता है जिस क्रम में वे अंग्रेजी शब्दकोश में आते हैं।

1. Umbilical
2. Urgent
3. Unaltered
4. Umbrella
5. Unanimous

- Ans
- 1. 1, 4, 2, 3, 5
 - 2. 4, 1, 5, 3, 2
 - 3. 1, 4, 3, 5, 2
 - 4. 4, 1, 3, 5, 2

Question ID : 81616113112

Status : Answered

Chosen Option : 3

Q.6 गणितीय चिह्नों का वह सही अनुक्रम चुनें जिसे क्रमिक रूप से * चिह्नों के स्थान पर रखे जाने पर समीकरण संतुलित हो जाएगा।

$$6 * 10 * 55 * 162 * 9 = 23$$

- Ans
- 1. x, +, -, +
 - 2. x, -, +, +
 - 3. +, -, +, x
 - 4. +, +, x, -

Question ID : 81616112218

Status : Answered

Chosen Option : 2

Q.7 दिए गए विकल्पों में से वह संख्या चुनें जो निम्नलिखित श्रृंखला में प्रश्नचिह्न (?) के स्थान पर आएगी?

5, 13, 22, 34, 51, 75, 108, 152, ?

- Ans
- 1. 290
 - 2. 209
 - 3. 203
 - 4. 230

Question ID : 81616113122

Status : Answered

Chosen Option : 2

Q.8 उस विकल्प का चयन कीजिए जिसके शब्दों के मध्य वही संबंध है, जो दिए गए शब्द-युग्म के शब्दों के मध्य है।

राजघाट : महात्मा गाँधी

- Ans 1. वीर भूमि : इंदिरा गाँधी
 2. विजय घाट : लाल बहादुर शास्त्री
 3. शांति वन : राजीव गाँधी
 4. शक्ति स्थल : संजय गाँधी

Question ID : 81616112510

Status : Answered

Chosen Option : 2

Q.9 किसी विशिष्ट कूटभाषा में 'ALPINE' को '171' के रूप में और 'SPRING' को '83' के रूप में कूटबद्ध किया जाता है। तो उसी भाषा में 'CAPITAL' को कैसे कूटबद्ध किया जाएगा?

- Ans 1. 93
 2. 186
 3. 62
 4. 124

Question ID : 81616112209

Status : Answered

Chosen Option : 2

Q.10 दिए गए कथनों और निष्कर्षों को ध्यान से पढ़ें। कथनों में दी गई जानकारी को सत्य मानते हुए, भले ही वह सामान्य रूप से ज्ञात तथ्यों से भिन्न प्रतीत हो, निर्धारित करें कि कौन से निष्कर्ष दिए गए कथनों का तार्किक रूप से अनुसरण करते हैं।

कथन:

सभी कंप्यूटर, लैपटॉप हैं।

सभी हार्डडिस्क, पेन-ड्राइव हैं।

कोई भी पेन-ड्राइव, कुंजीपटल नहीं है।

कोई भी कंप्यूटर, हार्डडिस्क नहीं है।

निष्कर्ष:

I. कुछ पेन-ड्राइव, लैपटॉप नहीं हैं।

II. कोई भी कुंजीपटल, कंप्यूटर नहीं है।

III. कोई भी हार्डडिस्क, लैपटॉप नहीं है।

IV. सभी पेन-ड्राइव, कुंजीपटल नहीं हैं।

- Ans 1. केवल निष्कर्ष II अनुसरण करता है
 2. केवल निष्कर्ष III अनुसरण करता है
 3. केवल निष्कर्ष I अनुसरण करता है
 4. केवल निष्कर्ष IV अनुसरण करता है

Question ID : 81616112919

Status : Answered

Chosen Option : 4

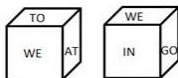
Q.11 दिए गए पैटर्न का ध्यानपूर्वक अध्ययन करें और वह संख्या चुनें जो प्रश्नचिह्न (?) के स्थान पर आ सकती है?

6 11 14
8 3 ?
62 47 89

- Ans
- 1. 4
 - 2. 6
 - 3. 15
 - 4. 5

Question ID : 81616112217
Status : Answered
Chosen Option : 4

Q.12 एक ही पासे की दो अलग-अलग स्थितियाँ दर्शाई गई हैं, जिनके छह फलकों पर 'AT', 'IN', 'SO', 'WE', 'GO' और 'TO' अंकित किया गया है। वह शब्द चुनें जो शब्द 'TO' वाले फलक के विपरीत फलक पर आएगा।



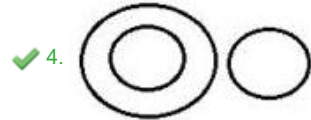

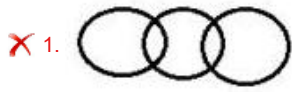
- Ans
- 1. IN
 - 2. GO
 - 3. SO
 - 4. AT

Question ID : 81616112222
Status : Answered
Chosen Option : 2

Q.13 वह वेन आरेख चुनें जो निम्न श्रेणियों के बीच के संबंध का सबसे अच्छा निरूपण करता है।

फेटनी, बर्तन, हँसुआ

Ans



Question ID : 81616112933

Status : Answered

Chosen Option : 3

Q.14 किसी विशिष्ट कूटभाषा में 'MORBID' को 'THGMID' के रूप में लिखा जाता है। तो उसी भाषा में 'OBTAIN' को कैसे लिखा जाएगा?

Ans ✗ 1. JOFGSD

✗ 2. JGOFDS

✓ 3. GJFOSD

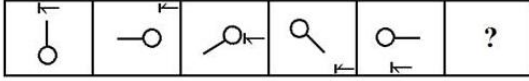
✗ 4. GFOJDS

Question ID : 81616112915

Status : Not Answered

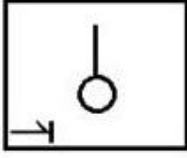
Chosen Option : --

Q.15 दिए गए विकल्पों में से वह आकृति चुनें जो निम्नलिखित श्रृंखला में प्रश्नचिह्न (?) के स्थान पर आएगी।

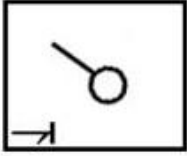


Ans

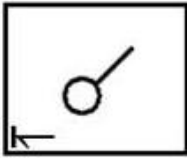
✗ 1.



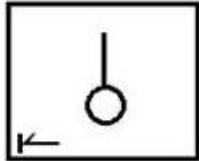
✗ 2.



✗ 3.



✓ 4.



Question ID : 81616113129

Status : Answered

Chosen Option : 4

Q.16 दिए गए विकल्पों में से वह वर्ण-समूह चुनें जो निम्नलिखित श्रृंखला में प्रश्नचिह्न (?) के स्थान पर आएगा?

GCB, JHE, MMH, PRK, ?

Ans ✗ 1. SXM

✓ 2. SWN

✗ 3. TXO

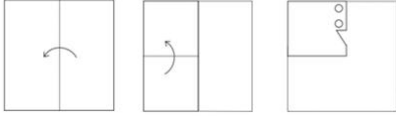
✗ 4. RVM

Question ID : 81616112505

Status : Answered

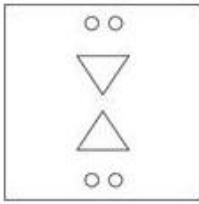
Chosen Option : 2

Q.17 नीचे आकृति में कागज के एक टुकड़े को मोड़ने का क्रम और उस मुड़े हुए कागज को काटने का तरीका दर्शाया गया है। इस कागज को खोलने पर यह कैसा दिखेगा?

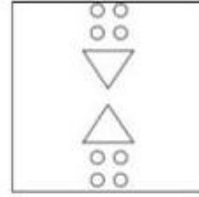


Ans

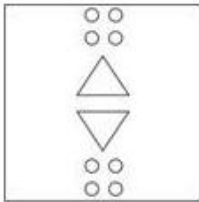
✗ 1.



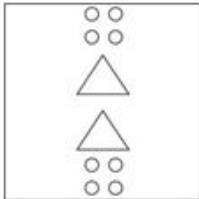
✓ 2.



✗ 3.



✗ 4.



Question ID : 81616112528

Status : Answered

Chosen Option : 2

Q.18 पिता की वर्तमान आयु उसके बड़े पुत्र से तीन गुनी है। चार वर्षों के बाद, पिता की आयु, उसके छोटे पुत्र से चार गुनी हो जाएगी। यदि बड़े पुत्र और छोटे पुत्र की वर्तमान आयु का अंतर 6 वर्ष है, तो पिता की वर्तमान आयु कितनी है?

Ans ✗ 1. 32 वर्ष

✗ 2. 38 वर्ष

✓ 3. 36 वर्ष

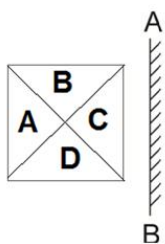
✗ 4. 42 वर्ष

Question ID : 81616112522

Status : Answered

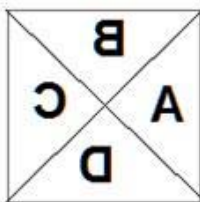
Chosen Option : 3

Q.19 यदि दर्पण को दी गई आकृति में 'AB' पर रखा जाता है तो आकृति का सही दर्पण प्रतिबिंब चयनित कीजिए।

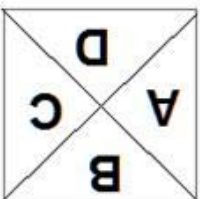


Ans

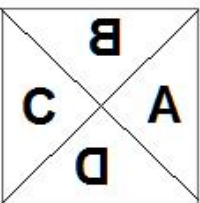
✓ 1.



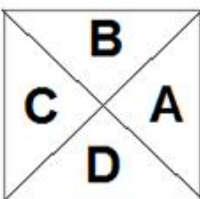
✗ 2.



✗ 3.



✗ 4.

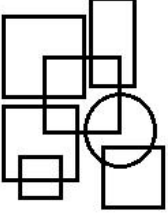


Question ID : 81616112527

Status : Answered

Chosen Option : 1

Q.20 दी गई आकृति में वर्गों की संख्या ज्ञात कीजिए। (आयतों को शामिल नहीं करना है)



- Ans
- 1. 16
 - 2. 7
 - 3. 9
 - 4. 5

Question ID : 81616112221
Status : Answered
Chosen Option : 2

Q.21 वह विकल्प चुनें जो तीसरे शब्द से उसी प्रकार संबंधित है, जिस प्रकार दूसरा शब्द पहले शब्द से संबंधित है।

चूजा : झंड :: भालू : ?

- Ans
- 1. रेवड़
 - 2. टोहिया
 - 3. हलचल
 - 4. ताक

Question ID : 81616113115
Status : Not Answered
Chosen Option : --

Q.22 नीचे चार शब्द दिए गए हैं जिनमें से तीन किसी संदर्भ में एक समान हैं और उनमें से एक असंगत है। उस असंगत शब्द का चयन करें।

- Ans
- 1. चीखना
 - 2. गरजना
 - 3. तलाशना
 - 4. चिल्लाना

Question ID : 81616112205
Status : Answered
Chosen Option : 3

Q.23 एक अतिथि से रजत का परिचय करवाते हुए अजय ने कहा, "वह मेरे पिता की बहू का इकलौता पुत्र है।"
अजय का रजत से क्या संबंध है?

- Ans
- 1. नाना
 - 2. भाई
 - 3. या तो पिता, या चाचा
 - 4. दादा

Question ID : 81616112514

Status : Answered

Chosen Option : 3

Q.24 वह विकल्प चुनें जो तीसरी संख्या से उसी प्रकार संबंधित है, जिस प्रकार दूसरी संख्या, पहली संख्या से और छठी संख्या, पाँचवीं संख्या से संबंधित है।

15 : 135 :: 16 : ? :: 18 : 189

- Ans
- 1. 121
 - 2. 131
 - 3. 141
 - 4. 152

Question ID : 81616112921

Status : Answered

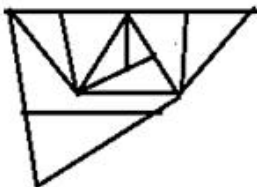
Chosen Option : 4

Q.25 वह विकल्प चुनें जिसमें दी गई आकृति सन्निहित है (आकृति को घुमाना नहीं है)।

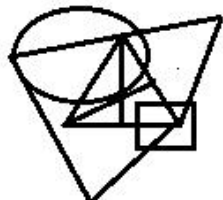


Ans

✗ 1.



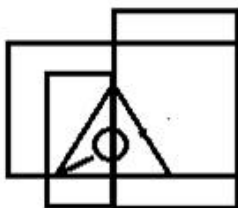
✓ 2.



✗ 3.



✗ 4.



Question ID : 81616112526

Status : Answered

Chosen Option : 2