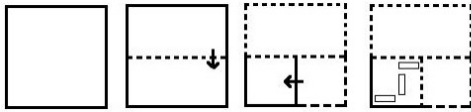


## Combined Graduate Level Examination 2020 Tier-I

Roll Number	
Candidate Name	
Venue Name	Modern Institute of Technology and Research Centre
Exam Date	16/08/2021
Exam Time	9:00 AM - 10:00 AM
Subject	Combined Graduate Level Examination 2020 Tier 1

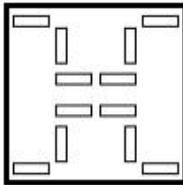
### Section : General Intelligence and Reasoning

**Q.1** नीचे आकृति में कागज के एक टुकड़े को मोड़ने का क्रम और उस मुड़े हुए कागज को काटने का तरीका दर्शाया गया है। इस कागज को खोलने पर यह कैसा दिखेगा?

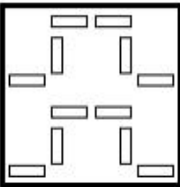


Ans

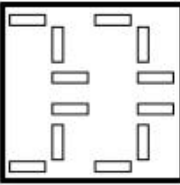
✓ 1.



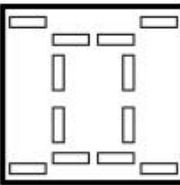
✗ 2.



✗ 3.



✗ 4.



Question ID : 81616114245

Status : Answered

Chosen Option : 1



Download SSC CGL, CHSL E-BOOKS

[CLICK HERE](#)

## Get SSC CGL TIER-1 Study Note at : <https://sscportal.in/notes>

**Q.2** दिए गए विकल्पों में से वह वर्ण-समूह चुनें जो निम्नलिखित श्रृंखला में प्रश्नचिह्न (?) के स्थान पर आएगा?

THME, WKJB, ZNGY, CQDV, ?

- Ans**
- 1. FTBS
  - 2. FUAS
  - 3. FTAR
  - 4. FTAS

Question ID : **81616114222**  
Status : **Answered**  
Chosen Option : **4**

**Q.3** किसी विशिष्ट कूटभाषा में 'PRINT' को 'YMNIU' के रूप में लिखा जाता है। तो उसी भाषा में 'MAGIC' को कैसे लिखा जाएगा?

- Ans**
- 1. HDLVR
  - 2. HRLRZ
  - 3. HRLZR
  - 4. HLDVR

Question ID : **81616112713**  
Status : **Answered**  
Chosen Option : **3**

**Q.4** अक्षरों के उस संयोजन का चयन करें जो दी गई श्रृंखला में रिक्त स्थानों में क्रमिक रूप से रखे जाने पर श्रृंखला को पूर्ण करेगा।

U A \_ B \_ T U \_ C B D \_ \_ A C B \_ T U A C \_ \_ T

- Ans**
- 1. C, D, A, U, U, D, B, D
  - 2. C, D, A, T, U, D, B, D
  - 3. C, D, A, T, U, D, C, D
  - 4. D, C, A, T, U, D, D, B

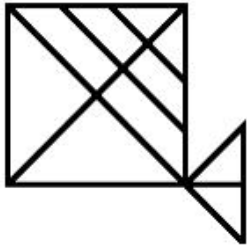
Question ID : **81616114230**  
Status : **Answered**  
Chosen Option : **2**



Download SSC CGL, CHSL E-BOOKS

CLICK HERE

Q.5 दी गई आकृति में कितने त्रिभुज हैं?



- Ans
- 1. 16
  - 2. 15
  - 3. 18
  - 4. 17

Question ID : 81616113736  
Status : Answered  
Chosen Option : 4

Q.6 किन दो संख्याओं का स्थान परस्पर बदलने से दिया गया समीकरण सही हो जाएगा?

$$36 \times 81 \div 9 - (88 \div 4) + 14 + (22 + 7) = 169$$

- Ans
- 1. 14 और 22
  - 2. 81 और 36
  - 3. 36 और 14
  - 4. 9 और 36

Question ID : 81616113733  
Status : Answered  
Chosen Option : 3

Q.7 'A # B' का अर्थ है कि 'B का बेटा A है'।  
'A @ B' का अर्थ है कि 'B की माँ A है'।  
'A & B' का अर्थ है कि 'B की पत्नी A है'।  
'A % B' का अर्थ है कि 'B की बहन A है'।

यदि 'M @R %K#G#N&T' है, तो निम्न में से कौन-सा कथन सत्य नहीं है?

- Ans
- 1. R, G की बेटी है।
  - 2. N, K की दादी है।
  - 3. T, M का दादा है।
  - 4. M, K की माँ है।

Question ID : 81616114231  
Status : Marked For Review  
Chosen Option : 1



Download SSC CGL, CHSL E-BOOKS

[CLICK HERE](#)

## Get SSC CGL TIER-1 Study Note at : <https://sscportal.in/notes>

**Q.8** Four words have been given, out of which three are alike in some manner and one is different. Select the word that is different.

- Ans**
- 1. Hatred
  - 2. Empathy
  - 3. Jealousy
  - 4. Envy

Question ID : **81616113720**  
 Status : **Answered**  
 Chosen Option : **2**

**Q.9** वह सही विकल्प चुनें जो दिए गए शब्दों के उस क्रम में दर्शाता है जिस क्रम में वे अंग्रेजी शब्दकोश में आते हैं।

1. Sorting
2. Solitary
3. Solution
4. Sophisticate
5. Solvent

- Ans**
- 1. 2, 3, 5, 4, 1
  - 2. 2, 5, 3, 4, 1
  - 3. 2, 4, 1, 3, 5
  - 4. 2, 3, 1, 4, 5

Question ID : **81616113213**  
 Status : **Answered**  
 Chosen Option : **1**

**Q.10** दिए गए विकल्पों में से वह संख्या चुनें जो निम्नलिखित श्रृंखला में प्रश्नचिह्न (?) के स्थान पर आएगी?

10, 22, 35, 40, 72, 40, ?

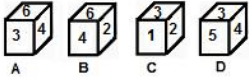
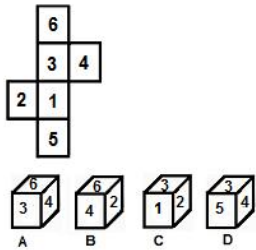
- Ans**
- 1. 143
  - 2. 131
  - 3. 134
  - 4. 133

Question ID : **81616113223**  
 Status : **Not Attempted and Marked For Review**  
 Chosen Option : --



Get SSC CGL TIER-1 Study Note at : <https://sscportal.in/notes>

Q.11 उन बॉक्सों का चयन करें जिन्हें दी गई शीट को लाइनों पर मोड़कर बनाया जा सकता है।



Ans

- ✗ 1. केवल C और D  
 ✗ 2. केवल A, C और D  
 ✗ 3. केवल B और C  
 ✓ 4. केवल A और C

Question ID : 81616113737

Status : Answered

Chosen Option : 4

Q.12 नीचे चार वर्ण-समूह दिए गए हैं जिनमें से तीन किसी संदर्भ में एक समान हैं और उनमें से एक असंगत है। उस असंगत वर्ण-समूह का चयन करें।

Ans

- ✗ 1. LNJI  
 ✗ 2. RTPO  
 ✓ 3. FHDB  
 ✗ 4. DFBA

Question ID : 81616113214

Status : Answered

Chosen Option : 3

Q.13 वह विकल्प चुनें जो तीसरी संख्या से उसी प्रकार संबंधित है, जिस प्रकार दूसरी संख्या पहली संख्या से संबंधित है।

16 : 144 :: 28 : ?

Ans

- ✗ 1. 544  
 ✗ 2. 364  
 ✗ 3. 263  
 ✓ 4. 420

Question ID : 81616112719

Status : Not Attempted and Marked For Review

Chosen Option : --



Download SSC CGL, CHSL E-BOOKS

CLICK HERE

Get SSC CGL TIER-1 Study Note at : <https://sscportal.in/notes>

Q.14 यदि दर्पण को MN पर रखा जाता है तो दिए गए संयोजन का सही दर्पण प्रतिबिंब चयनित कीजिए?

Q e 1 f P 5 4 N

M  
|  
N

Ans

- ✓ 1. N 4 2 P 1 1 e Q
- ✗ 2. N 4 2 P 1 1 e Q
- ✗ 3. N 4 5 P 1 1 e Q
- ✗ 4. N 4 2 P 1 1 e Q

Question ID : 81616114244

Status : Answered

Chosen Option : 1

Q.15 उस विकल्प का चयन कीजिए जिसके शब्दों के मध्य वही संबंध है, जो दिए गए शब्द-युग्म के शब्दों के मध्य है।

क्रोध : भावना

Ans

- ✗ 1. साइकिल : सड़क
- ✗ 2. गद्दा : बिस्तर
- ✗ 3. टेलीविजन : मनोरंजन
- ✓ 4. अनार : फल

Question ID : 81616114227

Status : Answered

Chosen Option : 4

Q.16 वह विकल्प चुनें जिसमें संख्याएँ एक दूसरे से उसी तरह से संबंधित हैं जैसे नीचे दिए गए सेट की संख्याएँ एक दूसरे से संबंधित हैं।

(6, 9, 45)

Ans

- ✗ 1. (6, 8, 60)
- ✗ 2. (2, 8, 46)
- ✓ 3. (8, 10, 36)
- ✗ 4. (7, 4, 48)

Question ID : 81616113732

Status : Answered

Chosen Option : 3

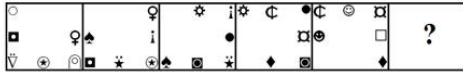


Download SSC CGL, CHSL E-BOOKS


[CLICK HERE](#)

## Get SSC CGL TIER-1 Study Note at : <https://sscportal.in/notes>

Q.17 दिए गए विकल्पों में से वह आकृति चुनें जो निम्नलिखित श्रृंखला में प्रश्नचिह्न (?) के स्थान पर आएगी।



Ans



Question ID : 81616113230

Status : **Not Attempted and Marked For Review**

Chosen Option : --

Q.18 दिए गए कथनों और निष्कर्षों को ध्यान से पढ़ें। कथनों में दी गई जानकारी को सत्य मानते हुए, भले ही वह सामान्यतः ज्ञात तथ्यों से भिन्न प्रतीत हो, निर्धारित करें कि कौन से निष्कर्ष प्रदत्त कथनों का तार्किक रूप से अनुसरण करते हैं।

कथन:

कोई भी बैंक, कार्यालय नहीं है।  
सभी कार्यालय, स्टॉल हैं।

निष्कर्ष:

- I. कोई भी बैंक, स्टॉल नहीं है।
- II. कोई भी स्टॉल, बैंक नहीं है।
- III. कुछ स्टॉल, कार्यालय हैं।
- IV. सभी स्टॉल, कार्यालय हैं।

- Ans
- ✗ 1. केवल निष्कर्ष I अनुसरण करता है
- ✓ 2. केवल निष्कर्ष III अनुसरण करता है
- ✗ 3. निष्कर्ष I और II दोनों अनुसरण करते हैं
- ✗ 4. निष्कर्ष I और IV दोनों अनुसरण करते हैं

Question ID : 81616112717

Status : **Answered**

Chosen Option : 2



### Download SSC CGL, CHSL E-BOOKS

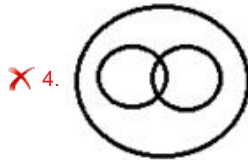
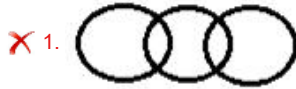
CLICK HERE

Get SSC CGL TIER-1 Study Note at : <https://sscportal.in/notes>

Q.19 वह वेन आरेख चुनें जो निम्न श्रेणियों के बीच के संबंध का सबसे अच्छा निरूपण करता है।

धनिया, मसाले, दालचीनी

Ans



Question ID : 81616112731

Status : Answered

Chosen Option : 2

Q.20 नीचे चार संख्या-युग्म दिए गए हैं जिनमें से तीन किसी संदर्भ में एक समान हैं और उनमें से एक असंगत है। उस असंगत संख्या-युग्म का चयन करें।

Ans ✗ 1. 21 : 139

✗ 2. 25 : 167

✗ 3. 27 : 181

✓ 4. 15 : 197

Question ID : 81616113730

Status : Not Attempted and  
Marked For Review

Chosen Option : --

Q.21 दिए गए पैटर्न का ध्यानपूर्वक अध्ययन करें और वह संख्या चुनें जो इसमें प्रश्नचिह्न (?) के स्थान पर आ सकती है?

14 16 13

18 6 ?

12 21 17

Ans ✗ 1. 7

✗ 2. 8

✗ 3. 6

✓ 4. 5

Question ID : 81616112721

Status : Not Attempted and  
Marked For Review

Chosen Option : --



Download SSC CGL, CHSL E-BOOKS

[CLICK HERE](#)



Get SSC CGL TIER-1 Study Note at : <https://sscportal.in/notes>

Q.22 किसी विशिष्ट कूटभाषा में, 'FRENCH' को '114' और 'LOSS' को '47' के रूप में कूटबद्ध किया गया है, तो उसी भाषा में 'COURSE' को कैसे कूटबद्ध किया जाएगा?

- Ans  1. 87  
 2. 81  
 3. 103  
 4. 120

Question ID : 81616113724  
 Status : Answered  
 Chosen Option : 1

Q.23 Select the option that is related to the third word in the same way as the second word is related to the first word.

Leaves : Rustle :: Owl : ?

- Ans  1. Quack  
 2. Grunt  
 3. Hoot  
 4. Chirp

Question ID : 81616113216  
 Status : Answered  
 Chosen Option : 4

Q.24 वह विकल्प चुनें जो दी गई आकृति में सन्निहित है (आकृति को घुमाना नहीं है)।



- Ans  1.   
 2.   
 3.   
 4.

Question ID : 81616114243  
 Status : Answered  
 Chosen Option : 4



Download SSC CGL, CHSL E-BOOKS

[CLICK HERE](#)

Get SSC CGL TIER-1 Study Note at : <https://sscportal.in/notes>

Q.25 17 अप्रैल 2014 को सप्ताह का कौन-सा दिन था?

- Ans  1. गुरुवार  
 2. शनिवार  
 3. शुक्रवार  
 4. बुधवार

Question ID : 81616114239  
Status : Answered  
Chosen Option : 1



Download SSC CGL, CHSL E-BOOKS

[CLICK HERE](#)