

## Combined Graduate Level Examination 2020 Tier-I

Roll Number	
Candidate Name	
Venue Name	iON Digital Zone iDZ Green Park
Exam Date	13/08/2021
Exam Time	3:00 PM - 4:00 PM
Subject	Combined Graduate Level Examination 2020 Tier 1

Section : **General Intelligence and Reasoning**

Q.1 दिए गए पैटर्न का ध्यानपूर्वक अध्ययन करें और वह संख्या चुनें जो इसमें प्रश्नचिह्न (?) के स्थान पर आ सकती है?

25 64 81  
23 41 38  
18 33 ?

Ans  1. 19  
 2. 27  
 3. 29  
 4. 17

Question ID : 81616112822  
Status : Not Answered  
Chosen Option : --

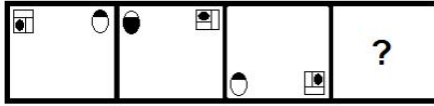


Download SSC CGL, CHSL E-BOOKS

[CLICK HERE](#)

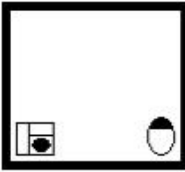
Get SSC CGL TIER-1 Study Note at : <https://sscportal.in/notes>

Q.2 दिए गए विकल्पों में से वह आकृति चुनें जो निम्नलिखित श्रृंखला में प्रश्नचिह्न (?) के स्थान पर आएगी।

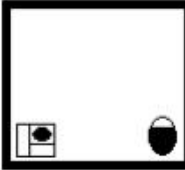


Ans

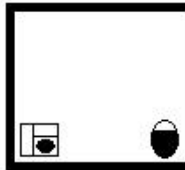
✗ 1.



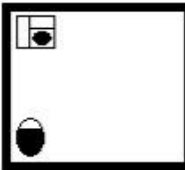
✗ 2.



✓ 3.



✗ 4.

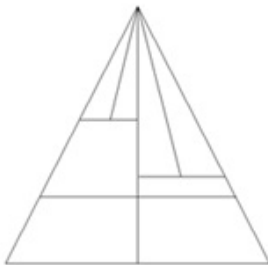


Question ID : 81616114240

Status : Answered

Chosen Option : 3

Q.3 दी गई आकृति में कितने त्रिभुज हैं?



Ans

✗ 1. 8

✗ 2. 11

✓ 3. 12

✗ 4. 15

Question ID : 81616112625

Status : Answered

Chosen Option : 4

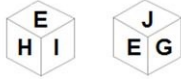


Download SSC CGL, CHSL E-BOOKS

[CLICK HERE](#)

## Get SSC CGL TIER-1 Study Note at : <https://sscportal.in/notes>

**Q.4** एक ही पासे की दो अलग-अलग स्थितियाँ दर्शाई गई हैं, जिनके फलकों पर अक्षर E, F, G, H, I और J अंकित किए गए हैं। वह अक्षर चुनें जो 'J' अक्षर वाले फलक के विपरीत फलक पर आएगा।



- Ans**
- 1. E
  - 2. I
  - 3. G
  - 4. F

Question ID : **81616112626**  
 Status : **Answered**  
 Chosen Option : **2**

**Q.5** वह सही विकल्प चुनें जो दिए गए शब्दों को उस क्रम में दर्शाता है जिसमें वे अंग्रेजी शब्दकोश में आते हैं।

1. Terminal
2. Terminology
3. Temperature
4. Tamarind
5. Tame
6. Tertiary

- Ans**
- 1. 4, 5, 1, 3, 2, 6
  - 2. 4, 5, 3, 1, 2, 6
  - 3. 4, 5, 3, 2, 1, 6
  - 4. 4, 5, 3, 1, 6, 2

Question ID : **81616114223**  
 Status : **Answered**  
 Chosen Option : **2**

**Q.6** नीचे चार वर्ण-समूह दिए गए हैं जिनमें से तीन किसी संदर्भ में एक समान हैं और उनमें से एक असंगत है। उस असंगत वर्ण-समूह का चयन करें।

- Ans**
- 1. TYDI
  - 2. HMRW
  - 3. ZEJP
  - 4. NSXC

Question ID : **81616114224**  
 Status : **Answered**  
 Chosen Option : **3**

Get SSC CGL TIER-1 Study Note at : <https://sscportal.in/notes>

Q.7 वह विकल्प चुनें जो तीसरी संख्या से उसी प्रकार संबंधित है, जिस प्रकार पहली संख्या से दूसरी संख्या और पाँचवीं संख्या से छठी संख्या संबंधित है।

13 : 4 :: 19 : ? :: 16 : 5

Ans  1. 6

2. 3

3. 5

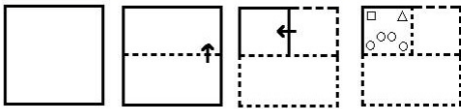
4. 2

Question ID : 81616112820

Status : Answered

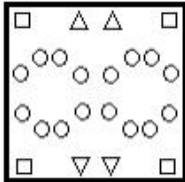
Chosen Option : 1

Q.8 नीचे दी गई आकृति में कागज के एक टुकड़े को मोड़ने का क्रम और उस मुड़े हुए कागज को काटने का तरीका दर्शाया गया है। इस कागज को खोलने पर यह कैसा दिखेगा?

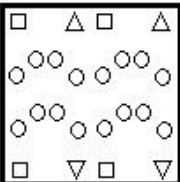


Ans

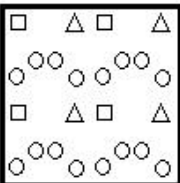
1.



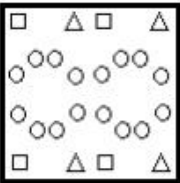
2.



3.



4.



Question ID : 81616113841

Status : Answered

Chosen Option : 1



Download SSC CGL, CHSL E-BOOKS

[CLICK HERE](#)

Get SSC CGL TIER-1 Study Note at : <https://sscportal.in/notes>

Q.9 गणितीय चिह्नों का वह सही संयोजन चुनें जिसे क्रमिक रूप से \* चिह्नों के स्थान पर रखने से समीकरण संतुलित हो जाएगा।

68 \* 138 \* 23 \* 54 \* 20

- Ans
- 1. ×, +, =, ÷
  - 2. ×, +, -, =
  - 3. +, ÷, -, =
  - 4. =, ×, +, ÷

Question ID : 81616112622

Status : Answered

Chosen Option : 3

Q.10 किसी विशिष्ट कूटभाषा में 'COUNTRY' को 'BOWKXLF' के रूप में लिखा जाता है। तो उसी भाषा में 'DESPAIR' को कैसे लिखा जाएगा?

- Ans
- 1. UFDMMVBG
  - 2. ULDSVHG
  - 3. GBVMDFU
  - 4. GBPSXIO

Question ID : 81616112814

Status : Not Answered

Chosen Option : --

Q.11 दिए गए कथनों और निष्कर्षों को ध्यान से पढ़ें। कथनों में दी गई जानकारी को सत्य मानते हुए, भले ही वह सामान्य रूप से ज्ञात तथ्यों से भिन्न प्रतीत हो, निर्धारित करें कि कौन से निष्कर्ष दिए गए कथनों का तार्किक रूप से अनुसरण करते हैं।

कथन:

1. सभी कालीन, कंबल हैं।
2. सभी कंबल, तकिया हैं।
3. कुछ कंबल, फ्रेम हैं।

निष्कर्ष:

- I. सभी तकिया, कालीन हैं।
- II. कुछ तकिया, कालीन हैं।
- III. सभी कालीन, फ्रेम हैं।

- Ans
- 1. न तो निष्कर्ष II और न ही III अनुसरण करता है
  - 2. निष्कर्ष I और III दोनों अनुसरण करते हैं
  - 3. केवल निष्कर्ष II अनुसरण करता है
  - 4. या तो निष्कर्ष I या III अनुसरण करता है

Question ID : 81616112818

Status : Answered

Chosen Option : 3



Download SSC CGL, CHSL E-BOOKS

CLICK HERE

Get SSC CGL TIER-1 Study Note at : <https://sscportal.in/notes>

Q.12 वह संख्या-युग्म चुनें, जिसकी दोनों संख्याओं के मध्य वह संबंध नहीं है, जो शेष तीनों संख्या-युग्मों की दोनों संख्याओं के मध्य है।


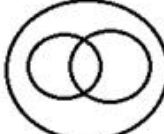


- Ans
- ✓ 1. (178, 308)
  - ✗ 2. (215, 338)
  - ✗ 3. (11, 134)
  - ✗ 4. (169, 292)

Question ID : 81616112619  
Status : Not Answered  
Chosen Option : --

Q.13 वह वेन आरेख चुनें जो निम्न श्रेणियों के बीच के संबंध का सबसे अच्छा निरूपण करता है।

महिला, सास, गृहिणी

Ans

- ✗ 1. 
- ✓ 2. 
- ✗ 3. 
- ✗ 4. 

Question ID : 81616112832  
Status : Answered  
Chosen Option : 2

Q.14 एक प्रशिक्षण शिविर में, तीन खेलों हॉकी, क्रिकेट और बैडमिंटन का प्रशिक्षण दिया गया। कुल छात्रों में से 14% ने क्रिकेट का प्रशिक्षण लिया। शेष छात्रों में से 22% ने हॉकी का प्रशिक्षण लिया। शेष छात्रों में से आधे छात्रों ने बैडमिंटन का प्रशिक्षण लिया। उन छात्रों का प्रतिशत कितना है जिन्होंने इनमें से किसी भी खेल का प्रशिक्षण नहीं लिया?

- Ans
- ✗ 1. 24.52%
  - ✗ 2. 67.52%
  - ✗ 3. 32.56%
  - ✓ 4. 33.54%

Question ID : 81616113835  
Status : Answered  
Chosen Option : 4



Download SSC CGL, CHSL E-BOOKS

[CLICK HERE](#)

Get SSC CGL TIER-1 Study Note at : <https://sscportal.in/notes>

Q.15 अक्षरों के उस संयोजन का चयन करें जो दी गई श्रृंखला में रिक्त स्थानों में क्रमिक रूप से रखे जाने पर श्रृंखला को पूर्ण करेगा।

Q \_ A D \_ R \_ K A D P \_ Q K A \_ P R Q K \_ D \_ R

- Ans  1. K, P, Q, R, D, A, Q  
 2. K, P, Q, R, D, A, P  
 3. K, P, Q, R, A, D, P  
 4. K, P, R, Q, D, A, P

Question ID : 81616113826  
 Status : Answered  
 Chosen Option : 2

Q.16 वह विकल्प चुनें जिसमें संख्याएँ एक दूसरे से ठीक उसी तरह से संबंधित हैं जिस तरह से नीचे दिए गए समुच्चय की संख्याएँ एक दूसरे से संबंधित हैं।

(7, 52, 346)

- Ans  1. (6, 39, 217)  
 2. (4, 19, 70)  
 3. (5, 25, 128)  
 4. (8, 67, 515)

Question ID : 81616112621  
 Status : Answered  
 Chosen Option : 1

Q.17 यदि दर्पण को MN पर रखा जाता है तो दिए गए संयोजन का सही दर्पण प्रतिबिंब चयनित कीजिए?

4 9 X d v g P 

- Ans  1. 9 p v b X e P  
 2. 9 p ^ b X e P  
 3. d p v P X e P  
 4. 9 6 v b X 6 P

Question ID : 81616113840  
 Status : Answered  
 Chosen Option : 1



Download SSC CGL, CHSL E-BOOKS

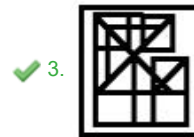
[CLICK HERE](#)

Get SSC CGL TIER-1 Study Note at : <https://sscportal.in/notes>

Q.18 वह विकल्प चुनें जिसमें दी गई आकृति सन्निहित है (आकृति को घुमाना नहीं है)।



Ans



Question ID : 81616113839

Status : Answered

Chosen Option : 3

Q.19 'A + B' का अर्थ है कि 'B का पति A है'।  
'A % B' का अर्थ है कि 'B का पिता A है'।  
'A \$ B' का अर्थ है कि 'B की माँ A है'।

यदि 'Y + Z \$ H % C \$ D + S' है, तो निम्नलिखित में से कौन-सा कथन असत्य है?

Ans ✗ 1. H, D का नाना है।

✓ 2. Z, C की नानी है।

✗ 3. C, S की सास है।

✗ 4. H, Y का बेटा है।

Question ID : 81616113827

Status : Answered

Chosen Option : 3

Q.20 वह विकल्प चुनें जो तीसरे शब्द से उसी प्रकार संबंधित है, जिस प्रकार दूसरा शब्द पहले शब्द से संबंधित है।

नवजात : नवोदित :: अनुलग्नक : ?

Ans ✗ 1. विरुद्ध

✗ 2. दृढ़

✓ 3. समर्थित

✗ 4. कार्यात्मक

Question ID : 81616114226

Status : Answered

Chosen Option : 2



Download SSC CGL, CHSL E-BOOKS

CLICK HERE



Get SSC CGL TIER-1 Study Note at : <https://sscportal.in/notes>

Q.21 किसी विशिष्ट कूटभाषा में 'CROW' को '64' के रूप में और 'EAGLE' को '125' के रूप में लिखा जाता है। तो उसी भाषा में 'PARROT' को कैसे लिखा जाएगा?

- Ans
- 1. 88
  - 2. 249
  - 3. 216
  - 4. 232

Question ID : 81616112613  
Status : Not Answered  
Chosen Option : --

Q.22 दिए गए विकल्पों में से वह संख्या चुनें जो निम्नलिखित श्रृंखला में प्रश्नचिह्न (?) के स्थान पर आएगी?

27, 30, 37, 50, ?, 98

- Ans
- 1. 82
  - 2. 69
  - 3. 78
  - 4. 62

Question ID : 81616114233  
Status : Answered  
Chosen Option : 2

Q.23 नीचे चार शब्द दिए गए हैं जिनमें से तीन किसी संदर्भ में एक समान हैं और उनमें से एक असंगत है। उस असंगत शब्द का चयन करें।

- Ans
- 1. रांची
  - 2. रायपुर
  - 3. मुंबई
  - 4. अहमदाबाद

Question ID : 81616112609  
Status : Answered  
Chosen Option : 4

Q.24 दिए गए विकल्पों में से वह वर्ण-समूह चुनें जो निम्नलिखित श्रृंखला में प्रश्नचिह्न (?) के स्थान पर आएगा?

UTMD, QXIH, MBEL, IFAP, ?

- Ans
- 1. EKXT
  - 2. DJVT
  - 3. EKWU
  - 4. EJWT

Question ID : 81616113818  
Status : Answered  
Chosen Option : 4



Download SSC CGL, CHSL E-BOOKS

CLICK HERE

Q.25 उस विकल्प का चयन कीजिए जिसके शब्दों के मध्य वही संबंध है, जो दिए गए शब्द-युग्म के शब्दों के मध्य है।

हस्तलेख : ग्राफोलॉजी

- Ans
- 1. भूकंप : पोलिमोलॉजी
  - 2. मृदा : ऑर्निथोलॉजी
  - 3. जीवाश्म : पेडोलॉजी
  - 4. पदार्थ : भौतिकी

Question ID : 81616113823

Status : Answered

Chosen Option : 3



Download SSC CGL, CHSL E-BOOKS

[CLICK HERE](#)