

## Combined Graduate Level Examination 2020 Tier-I

Roll Number	
Candidate Name	
Venue Name	M D Infotech
Exam Date	13/08/2021
Exam Time	9:00 AM - 10:00 AM
Subject	Combined Graduate Level Examination 2020 Tier 1

Section : **General Intelligence and Reasoning**

Q.1 गणितीय चिह्नों का वह सही संयोजन चुनें जिसे क्रमिक रूप से \* चिह्नों के स्थान पर रखने से समीकरण संतुलित हो जाएगा।

42 \* 7 \* 64 \* 11 \* 6 \* 4

Ans  1. +, +, -, x, =

2. x, +, -, +, =

3. x, -, +, +, =

4. +, -, +, x, =

Question ID : 81616113935

Status : **Answered**

Chosen Option : 1

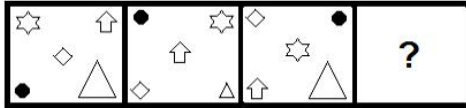


**Download SSC CGL, CHSL E-BOOKS**

[CLICK HERE](#)

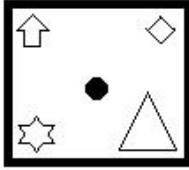
Get SSC CGL TIER-1 Study Note at : <https://sscportal.in/notes>

Q.2 दिए गए विकल्पों में से वह आकृति चुनें जो निम्न श्रृंखला में प्रश्नचिह्न (?) के स्थान पर आएगी।

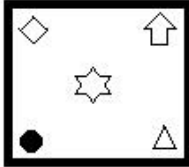


Ans

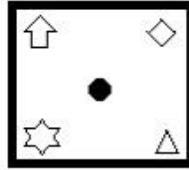
✗ 1.



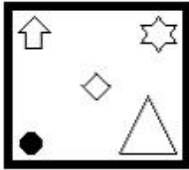
✗ 2.



✓ 3.



✗ 4.



Question ID : 81616113836

Status : Answered

Chosen Option : 3

Q.3 अक्षरों के उस संयोजन का चयन करें जो दी गई श्रृंखला में रिक्त स्थानों में क्रमिक रूप से रखे जाने पर श्रृंखला को पूर्ण करेगा।

L\_UA\_Z\_N\_AP\_L\_U\_PZ

Ans ✗ 1. P, N, L, Z, U, A, N

✗ 2. P, L, U, Z, N, A, N

✗ 3. N, L, P, A, N, U, Z

✓ 4. N, P, L, U, Z, N, A

Question ID : 81616113321

Status : Answered

Chosen Option : 4



Download SSC CGL, CHSL E-BOOKS

[CLICK HERE](#)

Get SSC CGL TIER-1 Study Note at : <https://sscportal.in/notes>

Q.4 वह विकल्प चुनें जिसमें संख्याएँ एक दूसरे से उसी तरह से संबंधित हैं जैसे नीचे दिए गए सेट की संख्याएँ एक दूसरे से संबंधित हैं।

(25, 18, 225)

- Ans  1. (15, 34, 190)  
 2. (9, 16, 170)  
 3. (17, 15, 220)  
 4. (24, 22, 264)

Question ID : 81616113934

Status : Answered

Chosen Option : 4

Q.5 यदि दर्पण को 'PQ' पर रखा जाता है तो दिए गए संयोजन का सही दर्पण प्रतिबिंब चयनित कीजिए।

M y 7 0 Q F j |  
P  
Q

- Ans  1. M λ Δ 0 6 E !  
 2. j F 0 0 7 v M  
 3. M λ Δ 0 6 E !  
 4. j F 0 0 7 v M

Question ID : 81616113335

Status : Answered

Chosen Option : 2

Q.6 नीचे चार वर्ण-समूह दिए गए हैं जिनमें से तीन किसी संदर्भ में एक समान हैं और उनमें से एक असंगत है। उस असंगत वर्ण-समूह का चयन करें।

- Ans  1. FBXT  
 2. NJFA  
 3. CYUQ  
 4. TPLH

Question ID : 81616113820

Status : Answered

Chosen Option : 2



Download SSC CGL, CHSL E-BOOKS

[CLICK HERE](#)

Get SSC CGL TIER-1 Study Note at : <https://sscportal.in/notes>

Q.7 वह विकल्प चुनें जो तीसरी संख्या से उसी प्रकार संबंधित है, जिस प्रकार दूसरी संख्या पहली संख्या से संबंधित है।

12 : 60 :: 16 : ?

- Ans
- 1. 201
  - 2. 112
  - 3. 121
  - 4. 210

Question ID : 81616113022


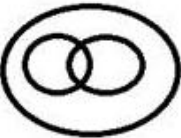


Status : Not Answered

Chosen Option : --

Q.8 वह वेन आरेख चुनें जो निम्न श्रेणियों के बीच के संबंध का सबसे अच्छा निरूपण करता है।

महिलाएं, शोधकर्ता, अंतर्मुखी

Ans

- 1. 
- 2. 
- 3. 
- 4. 

Question ID : 81616113034

Status : Answered

Chosen Option : 3

Q.9 कुल खिलाड़ियों में से, 100/3 % होटल X में और शेष खिलाड़ी होटल Y में ठहरे हुए हैं। यदि होटल Y के 20 खिलाड़ियों को होटल X में स्थानांतरित किया जाता है, तो होटल X में ठहरे हुए खिलाड़ियों की संख्या, कुल खिलाड़ियों की संख्या की 50% हो जाती है। यदि होटल X के 20 खिलाड़ियों को होटल Y में स्थानांतरित कर दिया जाता है, तो होटल X में ठहरे हुए खिलाड़ियों की संख्या, खिलाड़ियों की कुल संख्या की कितने प्रतिशत हो जाएगी?

- Ans
- 1. 20.67%
  - 2. 16.67%
  - 3. 26.34%
  - 4. 12.75%

Question ID : 81616113330

Status : Not Answered

Chosen Option : --



Download SSC CGL, CHSL E-BOOKS

CLICK HERE

## Get SSC CGL TIER-1 Study Note at : <https://sscportal.in/notes>

**Q.10** दिए गए कथनों और निष्कर्षों को ध्यान से पढ़ें। कथनों में दी गई जानकारी को सत्य मानते हुए, भले ही वह सामान्य रूप से ज्ञात तथ्यों से भिन्न प्रतीत हो, निर्धारित करें कि कौन से निष्कर्ष दिए गए कथनों का तार्किक रूप से अनुसरण करते हैं।

**कथन:**

सभी बहुभुज, कोण हैं।  
सभी कोण, विकर्ण हैं।  
सभी शंकु, घन हैं।  
सभी घन, दसभुज हैं।  
कोई भी विकर्ण, घन नहीं है।

**निष्कर्ष:**

I. कुछ विकर्ण, बहुभुज हैं।  
II. सभी विकर्ण, दसभुज हैं।  
III. कोई भी बहुभुज, शंकु नहीं है।  
IV. कुछ घन, कोण हैं।

**Ans**  1. केवल निष्कर्ष I अनुसरण करता है  
 2. निष्कर्ष II और IV दोनों अनुसरण करते हैं  
 3. निष्कर्ष I और III दोनों अनुसरण करते हैं  
 4. निष्कर्ष I और II दोनों अनुसरण करते हैं

Question ID : 81616113020

Status : Answered

Chosen Option : 1

**Q.11** वह सही विकल्प चुनें जो दिए गए शब्दों को उस क्रम में दर्शाता है जिसमें वे अंग्रेजी शब्दकोश में आते हैं।

1. Freeze  
2. Freedom  
3. Fryer  
4. Frozen  
5. Fraud  
6. Fringe

**Ans**  1. 5, 6, 2, 1, 4, 3  
 2. 5, 2, 1, 6, 4, 3  
 3. 5, 2, 1, 6, 3, 4  
 4. 5, 1, 2, 6, 4, 3

Question ID : 81616113819

Status : Answered

Chosen Option : 2

**Q.12** दिए गए विकल्पों में से वह संख्या चुनें जो निम्नलिखित श्रृंखला में प्रश्नचिह्न (?) के स्थान पर आएगी?

24, 35, 51, 73, 102, ?

**Ans**  1. 139  
 2. 151  
 3. 149  
 4. 131

Question ID : 81616113829

Status : Answered

Chosen Option : 1



Download SSC CGL, CHSL E-BOOKS

CLICK HERE

Get SSC CGL TIER-1 Study Note at : <https://sscportal.in/notes>

Q.13 वह विकल्प आकृति चुनें जो दी गई आकृति में सन्नहित है (आकृति को घुमाना नहीं है)।



Ans

✗ 1.



✗ 2.



✓ 3.



✗ 4.



Question ID : 81616113334

Status : Answered

Chosen Option : 3

Q.14 Four words have been given, out of which three are alike in some manner and one is different. Select the word that is different.

Ans

✗ 1. Aptitude

✓ 2. Weight

✗ 3. Memory

✗ 4. Intelligence

Question ID : 81616113922

Status : Answered

Chosen Option : 2

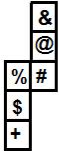


Download SSC CGL, CHSL E-BOOKS

[CLICK HERE](#)

## Get SSC CGL TIER-1 Study Note at : <https://sscportal.in/notes>

**Q.15** दी गई शीट को मोड़कर एक घन बनाया गया है। इस निर्मित घन पर, # प्रतीक वाले फलक के विपरीत फलक पर कौन-सा प्रतीक होगा?



- Ans**
- 1. &
  - 2. %
  - 3. +
  - 4. \$

Question ID : **81616113939**  
Status : **Answered**  
Chosen Option : **1**

**Q.16** Select the option that is related to the third word in the same way as the second word is related to the first word.

**Depression : Mood :: Insomnia : ?**

- Ans**
- 1. Sleep
  - 2. Night
  - 3. Dreams
  - 4. Thinking

Question ID : **81616113822**  
Status : **Answered**  
Chosen Option : **1**

**Q.17** नीचे चार संख्या-युग्म दिए गए हैं जिनमें से तीन किसी संदर्भ में एक समान हैं और उनमें से एक असंगत है। उस असंगत संख्या-युग्म का चयन करें।

- Ans**
- 1. 12 : 156
  - 2. 14 : 210
  - 3. 17 : 307
  - 4. 18 : 342

Question ID : **81616113932**  
Status : **Answered**  
Chosen Option : **3**

**Q.18** किसी विशिष्ट कूटभाषा में 'PERMIT' को 'VVLNOG' के रूप में लिखा जाता है। तो उसी भाषा में 'INERTIA' को कैसे लिखा जाएगा?

- Ans**
- 1. XYOHBCU
  - 2. OHYZZCU
  - 3. OMYIZRU
  - 4. XOYHCZU

Question ID : **81616113016**  
Status : **Answered**  
Chosen Option : **3**



Download SSC CGL, CHSL E-BOOKS

CLICK HERE

**Get SSC CGL TIER-1 Study Note at : <https://sscportal.in/notes>**

**Q.19** दिए गए पैटर्न का ध्यानपूर्वक अध्ययन करें और वह संख्या चुनें जो इसमें प्रश्नचिह्न (?) के स्थान पर आ सकती है?

4 7 6  
15 ? 21  
44 68 60

- Ans**  1. 24  
 2. 19  
 3. 18  
 4. 20

Question ID : **81616113024**  
Status : **Not Answered**  
Chosen Option : --

**Q.20** किसी विशिष्ट कूटभाषा में, 'AROUND' को '52182412144' और 'FIX' को '63624' के रूप में कूटबद्ध किया गया है, तो उसी भाषा में 'PLASTIC' को कैसे कूटबद्ध किया जाएगा?

- Ans**  1. 1612521920363  
 2. 1812521920383  
 3. 1612261920183  
 4. 1612522021363

Question ID : **81616113926**  
Status : **Answered**  
Chosen Option : **3**

**Q.21** P, L, T, B, N और D एक कारोबारी परिवार के छह सदस्य हैं। N, B का बेटा है, जो कि N की माँ नहीं है। L, B का भाई है। D और B विवाहित जोड़ा है। T, उस D की बेटी है जो P की बहन है। तो N का T से क्या संबंध है?

- Ans**  1. माँ  
 2. पिता  
 3. भाई  
 4. बहन

Question ID : **81616113322**  
Status : **Answered**  
Chosen Option : **3**

**Q.22** दिए गए विकल्पों में से वह वर्ण-समूह चुनें जो निम्नलिखित श्रृंखला में प्रश्नचिह्न (?) के स्थान पर आएगा?

PNNA, RPPE, TRRI, VTTO, ?

- Ans**  1. YVVU  
 2. XWWU  
 3. XVVU  
 4. YUUV

Question ID : **81616113313**  
Status : **Answered**  
Chosen Option : **3**



**Download SSC CGL, CHSL E-BOOKS**

[CLICK HERE](#)



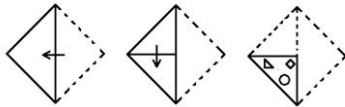
Q.23 दी गई आकृति में कितने त्रिभुज हैं?



- Ans
- ✓ 1. 11
  - ✗ 2. 12
  - ✗ 3. 13
  - ✗ 4. 10

Question ID : 81616113938  
 Status : Answered  
 Chosen Option : 1

Q.24 नीचे दी गई आकृति में कागज के एक टुकड़े को मोड़ने का क्रम और उस मुड़े हुए कागज को काटने का तरीका दर्शाया गया है। इस कागज को खोलने पर यह कैसा दिखेगा?



Ans

- ✗ 1.
- ✓ 2.
- ✗ 3.
- ✗ 4.

Question ID : 81616113336  
 Status : Answered  
 Chosen Option : 2



Download SSC CGL, CHSL E-BOOKS

[CLICK HERE](#)

Get SSC CGL TIER-1 Study Note at : <https://sscportal.in/notes>

Q.25 उस विकल्प का चयन कीजिए जिसके शब्दों के मध्य वही संबंध है, जो दिए गए शब्द-युग्म के शब्दों के मध्य है।

घोड़ा : हिनहिनाना

- Ans
- 1. तोता : रेंकना
  - 2. बत्तख : कै-कै करना
  - 3. खरगोश : गरजना
  - 4. सुअर : भिनभिनाना

Question ID : 81616113318

Status : Answered

Chosen Option : 2



Download SSC CGL, CHSL E-BOOKS

CLICK HERE