

## CGLE- Combined Graduate Level Tier-I, 2018 Examination


### Section : General Intelligence and Reasoning

Q.1 निम्नलिखित समीकरण को ठीक करने के लिए किन दो चिहनों को आपस में बदला जाना चाहिए:

$$24 \div 12 - 6 \times 6 + 2 = 18$$

- Ans
- ✓ 1. + और ÷
  - ✗ 2. + और -
  - ✗ 3. ÷ और ×
  - ✗ 4. × और +

Q.2 उस विकल्प का चयन कीजिए जो तीसरी संख्या से उसी प्रकार संबंधित है जिस प्रकार पहली संख्या दूसरी संख्या से संबंधित है।

$$7 : 344 :: 11 : ?$$

- Ans
- ✗ 1. 121
  - ✓ 2. 1332
  - ✗ 3. 122
  - ✗ 4. 1331

Q.3 'A + B' का अर्थ है 'A, B का भाई है।'  
'A - B' का अर्थ है 'A, B की पत्नी है।'  
'A × B' का अर्थ है 'A, B की पुत्री है।'  
'A ÷ B' का अर्थ है 'A, B का पिता है।'

यदि  $P + S \times Q \times R - T \div V \div U$  है, तो T का P से क्या संबंध है?

- Ans
- ✗ 1. नानी
  - ✗ 2. दादी
  - ✓ 3. नाना

✗ 4. दादा

Q.4 दिए गए विकल्पों में से लुप्त संख्या का चयन कीजिए।

8 27 ?

7 2 3

9 5 7

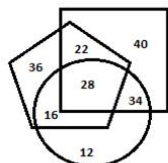
Ans ✗ 1. 16

✗ 2. 36

✗ 3. 25

✓ 4. 64

Q.5 नीचे दिए गए वेन आरेख में, पंचभुज 'क्रिकेटर्स' का प्रतिनिधित्व करता है, वर्ग 'शतरंज खिलाड़ियों' का प्रतिनिधित्व करता है और वृत्त 'क्लर्कों' का प्रतिनिधित्व करता है। आरेख में दी गई संख्याएं उस श्रेणी-विशिष्ट में व्यक्तियों की संख्या का प्रतिनिधित्व करती हैं।



कितने क्रिकेटर शतरंज खिलाड़ी तो हैं लेकिन क्लर्क नहीं हैं?

Ans ✗ 1. 36

✗ 2. 34

✓ 3. 22

✗ 4. 40

Q.6 किसी कूट भाषा में, INFORMATIVE को ROFNILEVITA लिखा जाता है। उसी कूट भाषा में SUPERFICIAL को क्या लिखा जाएगा?

Ans ✗ 1. REPUSGLAICI

✗ 2. USEPRFICAIL

✓ 3. REPUSELAICI

✗ 4. LAICIGREPUS

Q.7 नीचे दी गई शृंखला में प्रश्न चिह्न (?) के स्थान पर कौन-सी संख्या आएगी?

118, 129, 141, 154, 168, ?

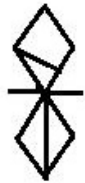
Ans ✗ 1. 184

✗ 2. 181

✗ 3. 182

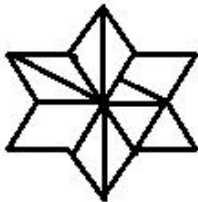
✓ 4. 183

Q.8 उस आकृति का चयन कीजिए जिसमें नीचे दी गई आकृति छिपी हुई है।  
(आकृति को घूमने की अनुमति नहीं है।)

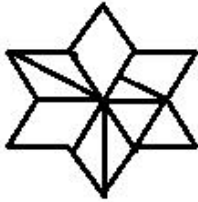


Ans

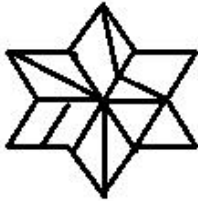
✗ 1.



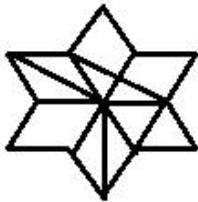
✗ 2.



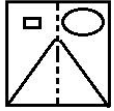
✗ 3.



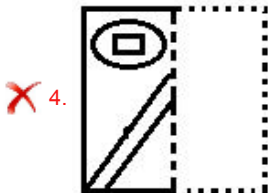
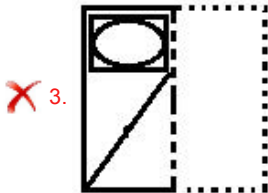
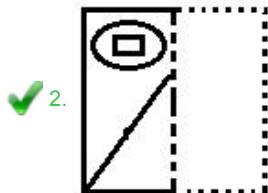
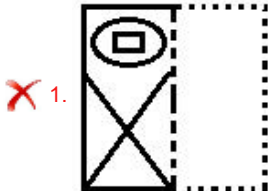
✓ 4.



Q.9 यदि पारदर्शी कागज की शीट को बिंदु रेखा से मोड़ा जाए तो शीट निम्नलिखित विकल्पों में से किस प्रकार दिखाई देगी?



Ans




Q.10 दिए गए विकल्पों में से लुप्त संख्या का चयन कीजिए।

64    49    ?

12    17    4

20    24    8

Ans

✓ 1. 16

✗ 2. 36

✗ 3. 12

✗ 4. 25

Q.11 निम्नलिखित विकल्पों में से उस शब्द युग्म का चयन कीजिए जिसके दोनों शब्द आपस में उसी प्रकार संबंधित हैं जिस प्रकार नीचे दिए गए शब्द युग्म के दोनों शब्द परस्पर संबंधित हैं।

त्वचाविज्ञान : त्वचा

Ans ✓ 1. ऑर्थोपैडिक्स : हड्डियाँ

✗ 2. हृदयरोग विज्ञान: एंजियोग्राफी

✗ 3. दवाई : उपचार

✗ 4. बालचिकित्सा : फेफड़े

Q.12 एक ही पासे की तीन भिन्न स्थितियों को दर्शाया गया है। चिह्न '&' के विपरीत फलक पर कौन-सा चिह्न दिखाई देगा?



Ans ✗ 1. \$

✗ 2. +

✓ 3. #

✗ 4. ^

Q.13 निम्नलिखित शृंखला में प्रश्न चिह्न (?) के स्थान पर कौन-सा अक्षर आएगा?

P, U, R, W, T, ?, V, A, X

Ans ✗ 1. W

✓ 2. Y

✗ 3. X

✗ 4. Z

Q.14

# कर्मचारी चयन आयोग (CGL) परीक्षा अध्ययन सामग्री



- 100% Syllabus Covered
- 4 Books, 900+ Pages
- 2500+ MCQs
- 08 Year Solved Papers & Mock Tests (PDF Copy)
- 1 year Current Affairs (PDF Copy)

**50% OFF**

~~₹ 4,200/-~~  
**₹ 2,100/-**

FREE SHIPPING 

for Exam Help Call Us at: +91 8800734161

 SSCPOTAL.IN

## आप क्या प्राप्त करेंगे?

- माध्यम: हिन्दी
- 100% पाठ्यक्रम
- कुल 4 पुस्तिकायें, 900 से अधिक पृष्ठ
- 2,500 से अधिक वस्तुनिष्ठ प्रश्न (MCQ)
- 8 Year Solved Papers (PDF Copy)
- Five Practice Papers (PDF Copy)
- हमारे विशेषज्ञों द्वारा मार्गदर्शन और सहायता

Price of the Kit:

Rs. 4,200

**Rs. 2,100/-**

(Limited time Offer)

 Buy Online

Net Banking

**Order Online (100% Safe)**

[Click here for Other Payment Options \(Cash/NEFT/etc\)](#)

[FOR MORE DETAILS CLICK HERE](#)

**50% OFF**

यदि नीचे दी गई आकृति के दाएं ओर दर्पण रखा जाए तो बनने वाले सही दर्पण प्रतिबिंब का चयन कीजिए।



Ans

✗ 1.



✗ 2.



✗ 3.



✓ 4.



Q.15 निम्नलिखित शब्दों को तार्किक एवं अर्थपूर्ण क्रम में व्यवस्थित कीजिए:

1. भूख
2. रोना
3. स्तनपान
4. बच्चा
5. नींद
6. माँ

Ans

✗ 1. 4, 5, 2, 6, 3, 1

✗ 2. 4, 1, 2, 3, 5, 6

✗ 3. 4, 1, 3, 6, 5, 2

✓ 4. 4, 1, 2, 6, 3, 5

Q.16 जिस प्रकार 'मूल्यवान' का संबंध 'कीमती' से है, उसी प्रकार 'सूखा' का संबंध '\_\_\_\_\_' से है।

- Ans
- 1. खुरदरा
  - 2. नम
  - 3. खेत
  - 4. निर्जल

Q.17 नीचे दी गई शृंखला में प्रश्न चिह्न (?) के स्थान पर आने वाले अक्षर-समूह का चयन कीजिए।

PRT, TVX, ?, BDF, FHJ

- Ans
- 1. XZC
  - 2. XZB
  - 3. YZB
  - 4. XAB

Q.18 किसी कूट भाषा में, ARDOUS को 1184152119 लिखा जाता है। उसी कूट भाषा में SYSTEM को क्या लिखा जाएगा?

- Ans
- 1. 18251820513
  - 2. 19251921513
  - 3. 19251920514
  - 4. 19251920513

Q.19 नीचे दो कथन दिए गए हैं और उसके बाद निष्कर्ष I, II और III दिए गए हैं। आपको कथन को सत्य मानते हुए, चाहे वह सामान्यतः ज्ञात तथ्यों से भिन्न प्रतीत होते हों, आपको यह निर्णय करना है कि दिए गए कथनों से कौन-सा निष्कर्ष तर्कसंगत रूप से निकलता है।

कथन:

सभी पोस्टकार्ड लिफाफे हैं।  
कोई भी लिफाफा कागज नहीं है।

निष्कर्ष:

I. कुछ लिफाफे, पोस्टकार्ड हैं।  
II कोई भी कागज, लिफाफा नहीं है।  
III कोई भी पोस्टकार्ड, कागज नहीं है।

- Ans
- 1. केवल निष्कर्ष I और II निकलते हैं।

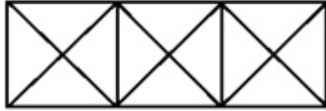


- ✗ 2. केवल निष्कर्ष II और III निकलते हैं।  
✗ 3. केवल निष्कर्ष I और III निकलते हैं।  
✓ 4. निष्कर्ष I, II और III (सभी) निकलते हैं।

Q.20 निम्नलिखित चार-अक्षर समूहों में से तीन अक्षर-समूह किसी प्रकार से एकसमान हैं और एक असमान है। असमान अक्षर-समूह का चयन कीजिए।

- Ans ✗ 1. SUXBG  
✓ 2. JLKRW  
✗ 3. OQTXC  
✗ 4. BDGKP

Q.21 नीचे दी गई आकृति में कितने त्रिभुज हैं?



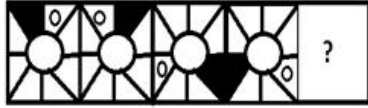
- Ans ✗ 1. 30  
✗ 2. 24  
✓ 3. 28  
✗ 4. 26

Q.22 निम्नलिखित चार संख्या-युग्मों में से तीन युग्म किसी प्रकार एकसमान हैं और एक युग्म असमान है। असमान संख्या युग्म का चयन कीजिए।

- Ans ✗ 1. 8 : 66  
✗ 2. 13 : 171  
✗ 3. 7 : 51  
✓ 4. 10 : 98

Q.23

निम्नलिखित आकृति शृंखला में आने वाली अगली आकृति का चयन कीजिए।



Ans

- 1.
- 2.
- 3.
- 4.

Q.24 निम्नलिखित चार शब्दों में से तीन शब्द किसी प्रकार से एकसमान हैं और एक शब्द असमान है। असमान शब्द का चयन कीजिए।

- Ans
- 1. कान
  - 2. आँखें
  - 3. गला
  - 4. नाक

Q.25 आस्मा और उसके दादा की वर्तमान आयु का योग 80 वर्ष है। 10 वर्ष बाद, आस्मा की उम्र अपने दादा की उम्र से एक-चौथाई होगी। आस्मा की वर्तमान आयु कितनी है?

- Ans
- 1. 10 वर्ष
  - 2. 12 वर्ष
  - 3. 20 वर्ष
  - 4. 16 वर्ष



# SSC EXAMS PRINTED STUDY NOTES

<a href="#">Study Material for SSC CGL (Tier-1) Examination</a>	<a href="#">English</a>	<a href="#">CLICK HERE</a>
<a href="#">Study Kit for SSC CGL (Tier-2) Exam</a>	<a href="#">English</a>	<a href="#">CLICK HERE</a>
<a href="#">Study Kit for SSC CHSL (10+2) Examination</a>	<a href="#">English</a>	<a href="#">CLICK HERE</a>
<a href="#">Study Kit for SSC Stenographers (Grade 'C' &amp; 'D')</a>	<a href="#">English</a>	<a href="#">CLICK HERE</a>
<a href="#">Study Kit for Multitasking (Non-Technical) - MTS</a>	<a href="#">English</a>	<a href="#">CLICK HERE</a>
<a href="#">Study Kit for SSC Constables (GD) Exam</a>	<a href="#">English</a>	<a href="#">CLICK HERE</a>
<a href="#">Study Kit For SSC Sub-Inspectors in Delhi Police, CAPFs, CISF</a>	<a href="#">English</a>	<a href="#">CLICK HERE</a>
<a href="#">Study Kit for SSC Junior Engineer Exam (Paper-1)</a>	<a href="#">English</a>	<a href="#">CLICK HERE</a>
<b>IAS EXAMS STUDY MATERIALS</b>		
<a href="#">Study Kit for IAS (Pre) GENERAL STUDIES Paper-1 (GS)</a>	<a href="#">English</a>	<a href="#">CLICK HERE</a>
<a href="#">Study Kit for IAS (Pre) CSAT Paper-2(Aptitude)</a>	<a href="#">English</a>	<a href="#">CLICK HERE</a>
<a href="#">सामान्य अध्ययन (GS) प्रारंभिक परीक्षा (Pre) पेपर-1</a>	<a href="#">हिन्दी</a>	<a href="#">CLICK HERE</a>
<a href="#">आई. ए. एस. (सी-सैट) प्रारंभिक परीक्षा पेपर -2</a>	<a href="#">हिन्दी</a>	<a href="#">CLICK HERE</a>
<a href="#">Gist of NCERT Study Kit For UPSC Exams</a>	<a href="#">English</a>	<a href="#">CLICK HERE</a>
<a href="#">यूपीएससी परीक्षा के लिए एनसीईआरटी अध्ययन सामग्री</a>	<a href="#">हिन्दी</a>	<a href="#">CLICK HERE</a>