

## CGLE- Combined Graduate Level Tier-I, 2018 Examination


### Section : General Intelligence and Reasoning

**Q.1** निम्नलिखित चार संख्या-युग्मों में से तीन युग्म किसी प्रकार एकसमान हैं और एक युग्म असमान है। असमान संख्या-युग्म का चयन कीजिए।

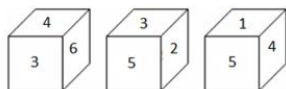
Ans ✗ 1. 65-101

✗ 2. 17-37

✓ 3. 49-82

✗ 4. 26-50

**Q.2** एक ही पासे की तीन भिन्न स्थितियों को दर्शाया गया है। संख्या 6 के विपरीत फलक पर कौन-सी संख्या दिखाई देगी?



Ans ✗ 1. 4

✗ 2. 1

✓ 3. 5

✗ 4. 2

**Q.3** नीचे दो कथन दिए गए हैं और उसके बाद निष्कर्ष I और II दिए गए हैं। आपको कथन को सत्य मानते हुए, चाहे वह सामान्यतः ज्ञात तथ्यों से भिन्न प्रतीत होते हों, आपको यह निर्णय करना है कि दिए गए कथनों से कौन-सा निष्कर्ष तर्कसंगत रूप से निकलता है।

**कथन:**

सभी शिक्षक चित्रकार हैं।

कुछ चित्रकार अमीर हैं।

**निष्कर्ष:**

I. सभी चित्रकार शिक्षक हैं।

II. कुछ अमीर चित्रकार नहीं हैं।

Ans ✓ 1.

न तो निष्कर्ष I निकलता है और न ही निष्कर्ष II निकलता है।

2. केवल निष्कर्ष । निकलता है।  
 3. केवल निष्कर्ष ॥ निकलता है।  
 4. या तो निष्कर्ष । या फिर निष्कर्ष ॥ निकलता है।

Q.4 किसी कूट भाषा में, NEEDLE को MFDEKF लिखा जाता है। उसी कूट भाषा में HAMMER को क्या लिखा जाएगा?

- Ans  1. GALNDS  
 2. GBLNFT  
 3. IBLNDS  
 4. GBLNDS

Q.5 उस विकल्प का चयन कीजिए, जो तीसरी संख्या से उसी प्रकार संबंधित है जिस प्रकार पहली संख्या दूसरी संख्या से संबंधित है।

2139 : 3246 :: 4262 : \_\_\_\_\_.

- Ans  1. 1461  
 2. 2371  
 3. 2471  
 4. 2483

Q.6 जिस प्रकार 'प्रसन्न' का संबंध "उदास" से है, उसी प्रकार 'उदार' का संबंध \_\_\_\_\_ से है।

- Ans  1. बुद्धिमान  
 2. निराश  
 3. स्वार्थी  
 4. दयालु

Q.7 यदि नीचे दी गई आकृति के दाएं ओर दर्पण रखा जाए तो बनने वाले सही दर्पण प्रतिबिंब का चयन कीजिए।

R 7 M P

Ans

✗ 1.

PM7R

✓ 2.

PMVR

✗ 3.

RVMP

✗ 4.

PMVR

Q.8 नीचे दिए गए विकल्पों में से लुप्त संख्या का चयन कीजिए।

17 22 37

23 28 43

16 ? 36

Ans

✓ 1. 21

✗ 2. 34

✗ 3. 32

✗ 4. 12

Q.9 निम्नलिखित श्रृंखला में आने वाली अगली संख्या का चयन कीजिए:

57, 62, 31, 36, 18, ?

Ans

✗ 1. 19

✗ 2. 34

✓ 3. 23

✗ 4. 36

Q.10 निम्नलिखित शृंखला में आने वाले अगले विकल्प का चयन कीजिए:

OBE, PDH, QFK, RHN, ?

- Ans
- 1. SJP
  - 2. RJQ
  - 3. SJQ
  - 4. SKQ

Q.11 एक पार्टी में, लड़कों की तुलना में लड़कियों की संख्या आधी है। एक घंटे के बाद, पाँच लड़के पार्टी छोड़कर चले जाते हैं और तीन लड़कियां पार्टी में शामिल हो जाती हैं। एक घंटे पहले पार्टी में कितने लोग उपस्थित थे?

- Ans
- 1. 24
  - 2. 22
  - 3. 8
  - 4. 16

Q.12 नीचे दिए गए विकल्पों में से लुप्त संख्या का चयन कीजिए।

4 3 19

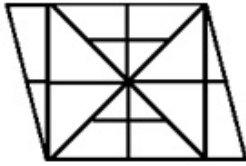
6 4 40

9 9 ?

- Ans
- 1. 100
  - 2. 80
  - 3. 72
  - 4. 90

Q.13

निम्नलिखित आकृति में कितने त्रिभुज हैं?



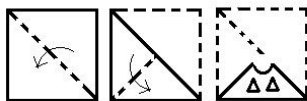
- Ans
- 1. 22
  - 2. 32
  - 3. 16
  - 4. 30

Q.14 निम्नलिखित समीकरण को सही करने के लिए किन दो चिह्नों को आपस में बदला जाना चाहिए?

$$24 \div 8 - 5 \times 5 + 3 = 13$$

- Ans
- 1.  $\div$  और  $+$
  - 2.  $\times$  और  $-$
  - 3.  $\div$  और  $\times$
  - 4.  $\times$  और  $+$

Q.15 एक वर्गाकार कागज को मोड़ा गया और नीचे दर्शाए गए अनुसार काटा गया है। खोलने पर वह कागज कैसा दिखाई देगा?



- Ans
- 1.
  - 2.

# कर्मचारी चयन आयोग (CGL) परीक्षा अध्ययन सामग्री



- 100% Syllabus Covered
- 4 Books, 900+ Pages
- 2500+ MCQs
- 08 Year Solved Papers & Mock Tests (PDF Copy)
- 1 year Current Affairs (PDF Copy)

**50% OFF**

~~₹ 4,200/-~~  
**₹ 2,100/-**

FREE SHIPPING 

for Exam Help Call Us at: +91 8800734161

 SSCPOTAL.IN

## आप क्या प्राप्त करेंगे?

- माध्यम: हिन्दी
- 100% पाठ्यक्रम
- कुल 4 पुस्तिकायें, 900 से अधिक पृष्ठ
- 2,500 से अधिक वस्तुनिष्ठ प्रश्न (MCQ)
- 8 Year Solved Papers (PDF Copy)
- Five Practice Papers (PDF Copy)
- हमारे विशेषज्ञों द्वारा मार्गदर्शन और सहायता

Price of the Kit:

Rs. 4,200

**Rs. 2,100/-**  
(Limited time Offer)

 Buy Online

Net Banking

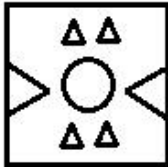
**Order Online (100% Safe)**

[Click here for Other Payment Options \(Cash/NEFT/etc\)](#)

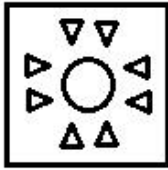
[FOR MORE DETAILS CLICK HERE](#)

**50% OFF**

✗ 3.



✓ 4.




Q.16 निम्नलिखित शृंखला में प्रश्न चिह्न (?) के स्थान पर कौन-से अक्षर आएंगे?

Z, X, V, ?, R, P, ?

Ans

✗ 1. S, O

✗ 2. T, O

✓ 3. T, N

✗ 4. S, N

Q.17 यदि AU = 21 और EGG = 245 है, तो आप BAKE को किस प्रकार कोडबद्ध करेंगे?

Ans

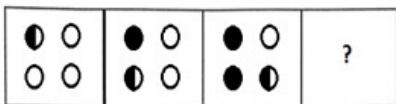
✓ 1. 110

✗ 2. 19

✗ 3. 75


✗ 4. 155

Q.18 निम्नलिखित आकृति शृंखला में आने वाली अगली आकृति का चयन कीजिए:




Ans


✗ 1.




✓ 2.



✗ 3.



✗ 4.



Q.19 प्रियांक, अक्षय का भाई है। सोनिया, सक्षम की बहन है। अक्षय, सोनिया का पुत्र है। प्रियांक, सोनिया से किस प्रकार संबंधित है?

- Ans
- ✗ 1. पिता
  - ✗ 2. भतीजा
  - ✗ 3. भाई
  - ✓ 4. पुत्र

Q.20 निम्नलिखित चार-अक्षर समूहों में से तीन अक्षर-समूह किसी प्रकार से एकसमान हैं और एक असमान है। असमान अक्षर-समूह का चयन कीजिए।

- Ans
- ✗ 1. KLJ
  - ✗ 2. YZX
  - ✓ 3. NOR
  - ✗ 4. FGE

Q.21



निम्नलिखित शब्दों को एक तार्किक एवं अर्थपूर्ण क्रम में व्यवस्थित कीजिए:

1. लेखन
2. प्रकाशन
3. लेखक
4. पाठक
5. विक्रय

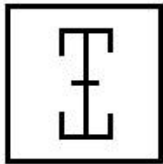
- Ans
- ✗ 1. 4, 3, 1, 2, 5
  - ✓ 2. 3, 1, 2, 5, 4
  - ✗ 3. 3, 2, 1, 5, 4
  - ✗ 4. 1, 3, 2, 5, 4

Q.22 दिए गए विकल्पों में से उस शब्द युग्म का चयन कीजिए जिसके दोनों शब्द आपस में उसी प्रकार संबंधित हैं, जिस प्रकार नीचे लिखे गए शब्द युग्म के दोनों शब्द परस्पर संबंधित हैं।

पीतल : तांबा


- Ans
- ✗ 1. निकेल : लोहा
  - ✗ 2. कांस्य : सोना
  - ✓ 3. टांका (Solder) : टिन
  - ✗ 4. क्रोमियम : चाँदी

Q.23 उस आकृति का चयन कीजिए जिसमें दी गई आकृति छिपी हुई है :

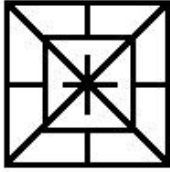


Ans


✗ 1.



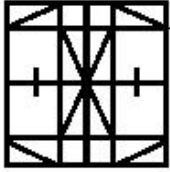
✗ 2.



✗ 3.



✓ 4.

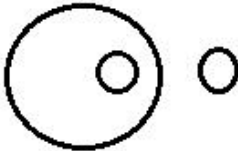


Q.24 दी गई श्रेणियों के बीच सर्वश्रेष्ठ संबंध को दर्शाने वाले वेन आरेख का चयन कीजिए।

गेहूँ, सरसों, गोभी

Ans

✗ 1.




✗ 2.



✓ 3.



✗ 4.



Q.25 निम्नलिखित चार शब्दों में से तीन शब्द किसी प्रकार से एकसमान हैं और एक शब्द असमान है। असमान शब्द का चयन कीजिए।

Ans

✗ 1. थोरियम

✗ 2. रेडियम

✓ 3. सोडियम

✗ 4. यूरेनियम

<a href="#">Study Material for SSC CGL (Tier-1) Examination</a>	<a href="#">English</a>	
<a href="#">Study Kit for SSC CGL (Tier-2) Exam</a>	<a href="#">English</a>	
<a href="#">Study Kit for SSC CHSL (10+2) Examination</a>	<a href="#">English</a>	
<a href="#">Study Kit for SSC Stenographers (Grade 'C' &amp; 'D')</a>	<a href="#">English</a>	
<a href="#">Study Kit for Multitasking (Non-Technical) - MTS</a>	<a href="#">English</a>	
<a href="#">Study Kit for SSC Constables (GD) Exam</a>	<a href="#">English</a>	
<a href="#">Study Kit For SSC Sub-Inspectors in Delhi Police, CAPFs, CISF</a>	<a href="#">English</a>	
<a href="#">Study Kit for SSC Junior Engineer Exam (Paper-1)</a>	<a href="#">English</a>	
<b>IAS EXAMS STUDY MATERIALS</b>		
<a href="#">Study Kit for IAS (Pre) GENERAL STUDIES Paper-1 (GS)</a>	<a href="#">English</a>	
<a href="#">Study Kit for IAS (Pre) CSAT Paper-2(Aptitude)</a>	<a href="#">English</a>	
<a href="#">सामान्य अध्ययन (GS) प्रारंभिक परीक्षा (Pre) पेपर-1</a>	<a href="#">हिन्दी</a>	
<a href="#">आई. ए. एस. (सी-सैट) प्रारंभिक परीक्षा पेपर -2</a>	<a href="#">हिन्दी</a>	
<a href="#">Gist of NCERT Study Kit For UPSC Exams</a>	<a href="#">English</a>	
<a href="#">यूपीएससी परीक्षा के लिए एनसीईआरटी अध्ययन सामग्री</a>	<a href="#">हिन्दी</a>	