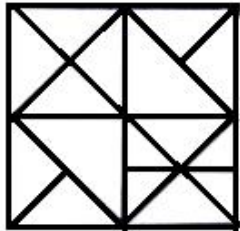


✗ 3. 29

✓ 4. 58

Q.4 नीचे दी गई आकृति में कितने त्रिभुज हैं?



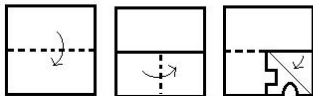
Ans ✗ 1. 36

✗ 2. 32

✗ 3. 24

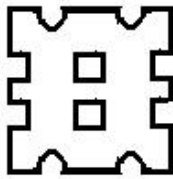
✓ 4. 34

Q.5 एक वर्गाकार कागज को मोड़ा गया और नीचे दर्शाए गए अनुसार काटा गया है। इसे खोलने पर यह कैसा दिखाई देगा?

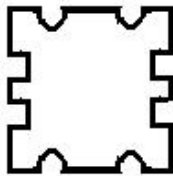


Ans

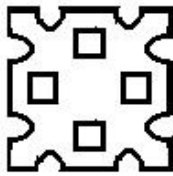
✗ 1.



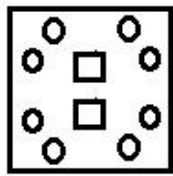
✗ 2.



✓ 3.



✗ 4.



Created with

 **nitro**PDF[®] professional

download the free trial online at nitropdf.com/professional

Q.6 नीचे दिए गए विकल्पों में से लुप्त संख्या का चयन कीजिए:

12 7 95

14 8 132

16 9 ?

Ans 1. 185

2. 154

3. 175

4. 164

Q.7 नीचे दो कथन दिए गए हैं और उसके बाद निष्कर्ष I और II दिए गए हैं। आपको कथन को सत्य मानते हुए, चाहे वह सामान्यतः ज्ञात तथ्यों से भिन्न प्रतीत होते हों, आपको यह निर्णय करना है कि दिए गए कथनों से कौन-सा निष्कर्ष तर्कसंगत रूप से निकलता है।

कथन:

कुछ शिक्षक दार्शनिक हैं।

कुछ दार्शनिक लेखक हैं।

निष्कर्ष:

I. कुछ लेखक शिक्षक हैं।

II कोई भी लेखक शिक्षक नहीं है।

Ans 1. केवल निष्कर्ष I निकलता है।

2.

या तो निष्कर्ष I निकलता है या फिर निष्कर्ष II निकलता है।

3.

न तो निष्कर्ष I निकलता है और न ही निष्कर्ष II निकलता है।

4. केवल निष्कर्ष II निकलता है।

Q.8 नीचे दी गई श्रृंखला में आने वाली अगली संख्या का चयन कीजिए:

3, 4, 5, 6, 9, 10, 11, 12, 15, ?

Ans

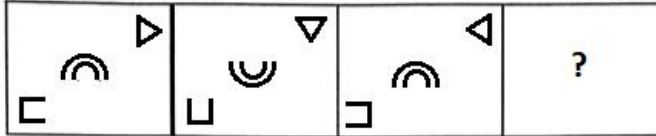
Created with

 nitroPDF[®] professional

download the free trial online at nitropdf.com/professional

- ✗ 1. 18
 ✗ 2. 17
 ✓ 3. 16
 ✗ 4. 14


Q.9 नीचे दी गई आकृति शृंखला में आने वाली अगली आकृति का चयन कीजिए।



Ans

- ✗ 1.
 ✗ 2.
 ✓ 3.
 ✗ 4.

Q.10 उस आकृति का चयन कीजिए जिसमें दी गई आकृति छिपी हुई है।



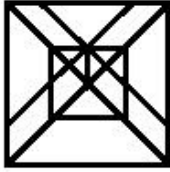
Ans

Created with

nitroPDF professional

download the free trial online at nitropdf.com/professional

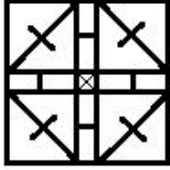
✓ 1.




✗ 2.



✗ 3.



✗ 4.



Q.11 जिस तरह 'चीन' का संबंध "यूआन" से है, उसी तरह 'जापान' का संबंध _____ से है।

- Ans
- ✗ 1. लीरा
 - ✗ 2. सुशी
 - ✗ 3. रैण्ड
 - ✓ 4. येन

Q.12 उस विकल्प का चयन कीजिए जो तीसरी संख्या से उसी प्रकार संबंधित है, जिस प्रकार पहली संख्या दूसरी संख्या से संबंधित है।

12 : 68 :: 21 : ?

- Ans
- ✗ 1. 79
 - ✓ 2. 119
 - ✗ 3. 49
 - ✗ 4. 117

Question ID : 98958013786
 Created with Status : Answered
 Chosen Option : 2

Q.13

निम्नलिखित चार-अक्षर समूहों में से तीन अक्षर-समूह किसी प्रकार से एकसमान हैं और एक असमान है। असमान अक्षर-समूह का चयन कीजिए:

- Ans
- ✓ 1. POWZ
 - ✗ 2. FILO
 - ✗ 3. KNQT
 - ✗ 4. QTWZ

Q.14 यदि EAGER को 51759 के रूप में कूटबद्ध किया जाता है तो CADET को किस रूप में कूटबद्ध किया जाएगा?

- Ans
- ✗ 1. 31547
 - ✗ 2. 31450
 - ✓ 3. 31457
 - ✗ 4. 34157

Q.15 निम्नलिखित चार शब्दों में से तीन शब्द किसी प्रकार से एकसमान हैं और एक शब्द असमान है। असमान शब्द का चयन कीजिए।

- Ans
- ✓ 1. बड़ा
 - ✗ 2. मूल्यवान
 - ✗ 3. कीमती
 - ✗ 4. महंगा

Q.16 किसी कूट भाषा में, COMPUTER को IVGFKNLX लिखा जाता है। उसी कूट भाषा में TELEPHONE को क्या लिखा जाएगा?

- Ans
- ✗ 1. GVOVKSLMV
 - ✗ 2. VMNSKVOVG
 - ✓ 3. VMLSKVOVG
 - ✗ 4. VMLSKUOVG

Q.17 दिए गए विकल्पों में से उस शब्द युग्म का चयन कीजिए जिसके दोनों शब्द आपस में उसी प्रकार संबंधित हैं जिस प्रकार नीचे लिखे गए शब्द युग्म के शब्द आपस में संबंधित हैं:

मौसम : शीत

Ans

- ✗ 1. वर्ष : शताब्दी
 ✓ 2. माह : अप्रैल
 ✗ 3. ग्रीष्म : पतझड़
 ✗ 4. सप्ताह : कैलेण्डर

Q.18 निम्नलिखित शृंखला में से प्रश्न चिन्ह (?) के स्थान पर कौन-सा अक्षर आएगा?

A, B, E, J, Q, ?

Ans

- ✗ 1. A
 ✗ 2. Y
 ✓ 3. Z
 ✗ 4. X

Q.19 निम्नलिखित समीकरण को सही करने के लिए किन दो चिह्नों को आपस में बदला जाना चाहिए?

$$8 \times 2 + 5 - 16 \div 4 = 14$$



Ans

- ✗ 1. ÷ और +
 ✓ 2. × और +
 ✗ 3. ÷ और ×
 ✗ 4. × और -

Q.20 दी गई श्रेणियों के बीच सर्वश्रेष्ठ संबंध को दर्शाने वाले वेन आरेख का चयन कीजिए।

विद्यार्थी, शिक्षक, विद्यालय

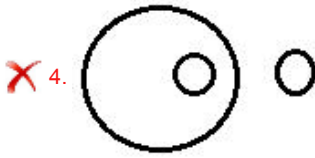
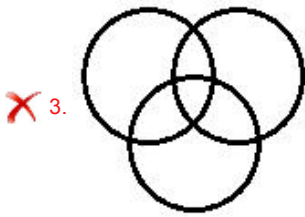
Ans

- ✓ 1. 
 ✗ 2. 

Created with

 **nitro**PDF[®] professional

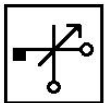
download the free trial online at nitropdf.com/professional



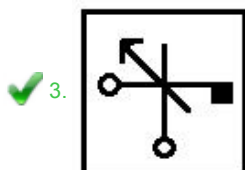
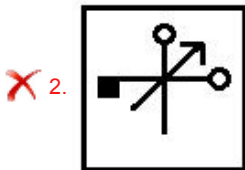
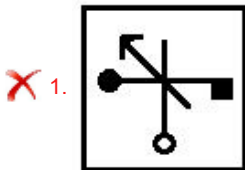
Q.21 सक्षम ने अपने मित्र से निधि का परिचय कराते हुए कहा, "वह मेरे पिता की पत्नी के एकमात्र पुत्र की पुत्री है।" सक्षम का निधि से क्या संबंध है?

- Ans
- ✗ 1. पुत्र
 - ✗ 2. भाई
 - ✓ 3. पिता
 - ✗ 4. चचेरा/ममेरा भाई (Cousin)

Q.22 यदि नीचे दी गई आकृति के दाएं ओर दर्पण रखा जाए तो बनने वाले सही दर्पण प्रतिबिंब का चयन कीजिए:



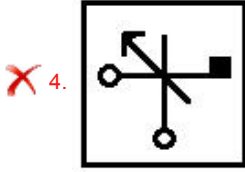
Ans



Created with

nitroPDF professional

download the free trial online at nitropdf.com/professional



Q.23 निम्नलिखित शृंखला में आने वाले अगले विकल्प का चयन कीजिए:

BOP, DPN, FQL, HRJ, ?

- Ans
- ✗ 1. ITI
 - ✗ 2. ISH
 - ✗ 3. JSI
 - ✓ 4. JSH

Q.24 निशा और दीपक एक विवाहित युगल हैं और उनकी एक पुत्री है, जिसका नाम तान्या है। वर्तमान में, दीपक निशा से 5 वर्ष बड़ा है और निशा तान्या की आयु से तीन गुना बड़ी है। यदि तान्या की आयु 10 वर्ष है तो उसके पिता की आयु उस समय क्या थी जब उसकी पुत्री का जन्म हुआ था?

- Ans
- ✓ 1. 25 वर्ष
 - ✗ 2. 35 वर्ष
 - ✗ 3. 30 वर्ष
 - ✗ 4. 20 वर्ष

Q.25 निम्नलिखित शब्दों को एक तार्किक एवं अर्थपूर्ण क्रम में व्यवस्थित कीजिए:

1. मिस्र
2. अफ्रीका
3. ग्रेट पिरामिड
4. विश्व
5. गीज़ा

- Ans
- ✓ 1. 3, 5, 1, 2, 4
 - ✗ 2. 3, 5, 2, 1, 4
 - ✗ 3. 5, 3, 1, 2, 4
 - ✗ 4. 5, 3, 1, 4, 2

Created with

 **nitro**PDF[®] professional

download the free trial online at nitropdf.com/professional