

**Comprehension:**

In the following passage, some words have been deleted. Fill in the blanks with the help of the options given. Select the most appropriate option for each blank.

Recently, there was a news report about a man who tried to catch a robber but suffered a hip (1)\_\_\_\_\_ in the process. The victim was a plumber and he was (2)\_\_\_\_\_ in the hall outside the bedroom. He had left the bedroom door open for better ventilation. (3)\_\_\_\_\_ two hours after midnight, he heard some noise from the bedroom. When he went in to check, he found a man (4)\_\_\_\_\_ open the cupboard and taking away jewellery and cash. On seeing him, the robber tried to escape and jumped from the second floor. The plumber (5)\_\_\_\_\_ the robber and jumped after him. Unfortunately, he hit a concrete wall and broke his hip; he was rushed to a nearby hospital. The robber managed to escape.

**SubQuestion No : 25**

**Q.25** Select the most appropriate option to fill in blank no. 5.

- Ans  1. darted  
 2. ran  
 3. dashed  
 4. chased

Question ID : 65497817531  
 Chosen Option : 2

Section : **General Intelligence and Reasoning**

**Q.1** दिए गए समीकरण को संतुलित करने के लिए, इनमें से किन दो चिह्नों को एक-दूसरे से प्रतिस्थापित करना होगा?

$$45 \times 10 - 125 \div 25 + 5 = 30$$

- Ans  1. ÷ और -  
 2. × और +  
 3. - और +  
 4. × और -

Question ID : 65497818355  
 Chosen Option : 2

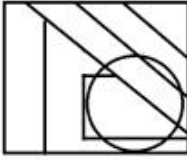


Q.2 उस विकल्प का चयन करें, जिसमें दी गई आकृति अंतःस्थापित है (घुमाने की अनुमति नहीं है)।

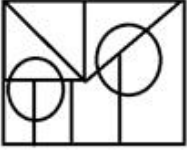


Ans

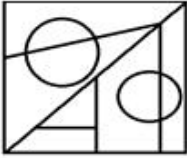
✗ 1.



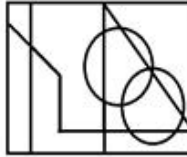
✗ 2.



✗ 3.



✓ 4.



Question ID : 65497818376

Chosen Option : 4

Q.3 आदित्य, हर्ष, श्रव्या, निधि, करुण, प्रेम और उमेश सात दोस्त उत्तर की ओर मुंह किए पंक्ति में बैठे हैं और थिएटर में फिल्म देख रहे हैं, लेकिन जरूरी नहीं कि इसी क्रम में हों। प्रेम या तो दाईं ओर या तो बाईं ओर से दूसरे स्थान पर बैठा है। निधि और प्रेम के बीच दो व्यक्ति बैठे हैं। श्रव्या, करुण के बाईं ओर चौथे स्थान पर बैठी है। उमेश, निधि के ठीक बाईं ओर बैठा है। हर्ष, श्रव्या के दाईं ओर तीसरे स्थान पर बैठा है। श्रव्या किसी भी छोर पर नहीं बैठी है।

प्रेम के ठीक दाईं ओर कौन बैठा है?

Ans ✗ 1. आदित्य

✗ 2. निधि

✓ 3. श्रव्या

✗ 4. करुण

Question ID : 65497818372

Chosen Option : 3

Q.4 चार कथनों के बाद तीन निष्कर्ष I, II और III दिए गए हैं। यह मानते हुए कि कथनों में दी गई जानकारी सत्य है, भले ही यह सामान्य रूप से ज्ञात तथ्यों से भिन्न प्रतीत हो, निर्धारित करें कि कौन से निष्कर्ष कथनों का तार्किक रूप से अनुसरण करते हैं?

कथन:

1. सभी धूल, प्रकृति हैं।
2. कोई प्रकृति, नदी नहीं है।
3. सभी जल, नदियां हैं।
4. कुछ तरल, जल हैं।

निष्कर्ष:

- I. कुछ प्रकृति, जल हैं।
- II. सभी प्रकृति, धूल हैं।
- III. सभी नदियां, तरल हैं।

- Ans
- 1. केवल निष्कर्ष III अनुसरण करता है।
  - 2. निष्कर्ष I और II, दोनों अनुसरण करते हैं।
  - 3. कोई भी निष्कर्ष अनुसरण नहीं करता है।
  - 4. निष्कर्ष I, II और III, सभी अनुसरण करते हैं।

Question ID : 65497818370  
Chosen Option : 3

Q.5 उस विकल्प का चयन करें, जो तीसरी संख्या से उसी प्रकार संबंधित है, जिस प्रकार दूसरी संख्या पहली संख्या से संबंधित है।

13 : 182 :: 18 : ?

- Ans
- 1. 342
  - 2. 324
  - 3. 306
  - 4. 338

Question ID : 65497818357  
Chosen Option : 1

Q.6 किसी कंपनी के सात कर्मचारी- चंदन, अय्यप्पन, सुकेश, रेखा, अंकित, माधवी, साध्वी वृत्ताकार सम्मेलन मेज के चारों ओर केंद्राभिमुख होकर बैठे हैं।

1. चंदन, अय्यप्पन और सुकेश के बीच बैठा है।
  2. रेखा, जो सुकेश के दाईं ओर दूसरे स्थान पर बैठी है, अंकित और माधवी के बीच बैठी है।
  3. अंकित, साध्वी के बगल में नहीं बैठा है।
- निम्न में से कौन-सा कथन गलत है?

- Ans
- 1. माधवी, सुकेश के दाईं ओर तीसरे स्थान पर बैठी है।
  - 2. अंकित, रेखा के ठीक बाईं ओर बैठा है।
  - 3. साध्वी, अंकित के दाईं ओर तीसरे स्थान पर बैठी है।
  - 4. रेखा, माधवी के ठीक दाईं ओर बैठी है।

Question ID : 65497818371  
Chosen Option : 4



Q.7 उस संख्या को चुनें, जो निम्न श्रेणी में प्रश्नवाचक चिह्न (?) के स्थान पर आ सकती है?

?, 7, 14, 42, 168

- Ans  1. 1  
 2. 7  
 3. 3  
 4. 4

Question ID : 65497818359  
 Chosen Option : 2

Q.8 उस विकल्प का चयन करें, जो तीसरे शब्द से ठीक उसी प्रकार संबंधित है, जिस प्रकार दूसरा शब्द पहले शब्द से संबंधित है।

दर्पण : परावर्तन :: प्रिज्म : ?

- Ans  1. परावर्तन  
 2. परिक्षेपण  
 3. प्रकीर्णन  
 4. उल्लमण

Question ID : 65497818366  
 Chosen Option : 2

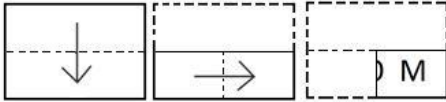
Q.9 चार अक्षर-समूह दिए गए हैं, जिनमें से तीन किसी प्रकार समान हैं और एक असंगत है। उस असंगत अक्षर-समूह का चयन करें।

- Ans  1. GHN  
 2. CDI  
 3. ABG  
 4. EFK

Question ID : 65497818368  
 Chosen Option : 1




Q.10 एक कागज को निम्नानुसार मोड़कर काटा जाता है। इसे खोलने पर यह कैसा दिखेगा?

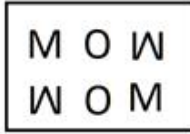


Ans

✗ 1.



✗ 2.



✓ 3.



✗ 4.



Question ID : 65497818378

Chosen Option : 3

Q.11 किसी निश्चित कूट भाषा में, 'MOLE' को 'ELOM' लिखा जाता है। इसी कूट भाषा में, 'DRIVE' को क्या लिखा जाएगा?

Ans ✓ 1. EVIRD

✗ 2. EVIDR

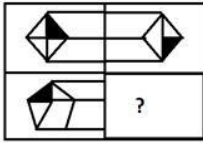
✗ 3. ERIVD

✗ 4. ERIDV

Question ID : 65497818361

Chosen Option : 1

Q.12 दिए गए विकल्पों में से सही विकल्प चुनकर, दिए गए पैटर्न के अनुपस्थित भाग को पूरा करें।

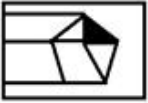


Ans

✓ 1.



✗ 2.



✗ 3.



✗ 4.



Question ID : 65497818375

Chosen Option : 2

Q.13 किसी निश्चित कूट भाषा में, 'ROMAN' को 'ILNZM' लिखा जाता है। इसी कूट भाषा में, 'FRANCE' को क्या लिखा जाएगा?

Ans ✗ 1. XIZMVU

✓ 2. UIZMXV

✗ 3. UIZMVX

✗ 4. VIZMUX

Question ID : 65497818362

Chosen Option : 2

Q.14 किसी निश्चित कूट भाषा में, 'ZEAL' को B21N के रूप में तथा 'PLACE' को RN1E2 के रूप में कूटबद्ध किया जाता है। इसी कूट भाषा में, 'MORNING' को किस रूप में कूटबद्ध किया जाएगा?

Ans ✗ 1. O4TQ3QI

✓ 2. O4TP3PI

✗ 3. P5UQ9QJ

✗ 4. 44TP3P3

Question ID : 65497818364

Chosen Option : 2

Q.15 दो कथनों के बाद दो निष्कर्ष I और II दिए गए हैं। यह मानते हुए कि कथनों में दी गई जानकारी सत्य है, भले ही यह सामान्य रूप से ज्ञात तथ्यों से भिन्न प्रतीत हो, निर्धारित करें कि कौन से निष्कर्ष कथनों का तार्किक रूप से अनुसरण करते हैं?

कथन:

1. कुछ पेड़ शाखाएं हैं।
2. सभी लकड़ियां शाखाएं हैं।

निष्कर्ष:

- I. सभी पेड़ लकड़ियां हैं।
- II. सभी शाखाएं लकड़ियां हैं।

- Ans  1. न तो निष्कर्ष I और ना ही II अनुसरण करता है।  
 2. केवल निष्कर्ष I अनुसरण करता है।  
 3. निष्कर्ष I और II, दोनों अनुसरण करते हैं।  
 4. केवल निष्कर्ष II अनुसरण करता है।

Question ID : 65497818369

Chosen Option : 1

Q.16 उस विकल्प का चयन करें, जो तीसरे अक्षर-समूह से ठीक उसी प्रकार संबंधित है, जिस प्रकार दूसरा अक्षर-समूह पहले अक्षर-समूह से संबंधित है।

FOCUS : OQLWB :: MINOR : ?

- Ans  1. WKVQB  
 2. VKWQA  
 3. VJVQA  
 4. VKWPB

Question ID : 65497818365

Chosen Option : 2

Q.17 किसी निश्चित कूट भाषा में, 'TRY' को 21 के रूप में तथा 'SAGE' को 8 के रूप में कूटबद्ध किया जाता है। इसी कूट भाषा में, 'COURAGE' को किस रूप में कूटबद्ध किया जाएगा?

- Ans  1. 7  
 2. 17  
 3. 70  
 4. 10

Question ID : 65497818363

Chosen Option : 4

Q.18 गणितीय चिह्नों के उस सही क्रम का चयन करें, जिन्हें दिए गए समीकरण में क्रमिक रूप से \* चिह्नों के स्थान पर रखने पर समीकरण संतुलित हो जाएगा।

$$16 * 280 * 6 * 84 * 4 = 0$$

- Ans  1. ÷, +, -, ×  
 2. -, ×, ÷, +  
 3. -, ×, +, ÷  
 4. ×, -, ÷, +

Question ID : 65497818356

Chosen Option : 2



Q.19 'अध्याय' का 'पुस्तक' से वही संबंध है, जो 'बोगी' का '\_\_\_\_\_' से है।

- Ans
- 1. इंजन
  - 2. पहिया
  - 3. रेलगाड़ी
  - 4. रेल की पटरी

Question ID : 65497818367  
Chosen Option : 3

Q.20 दिए गए पैटर्न का ध्यानपूर्वक अध्ययन करें, तथा उस विकल्प का चयन करें, जो इसमें X के मान को निरूपित कर सकता है।

1 3 5 7 11  
2 11 28 X 126

- Ans
- 1. 41
  - 2. 35
  - 3. 49
  - 4. 53

Question ID : 65497818360  
Chosen Option : 4

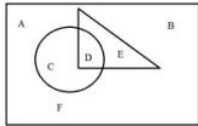
Q.21 दिए गए पैटर्न का सावधानीपूर्वक अध्ययन करें और उस संख्या को चुनें, जो प्रश्नवाचक चिह्न (?) के स्थान पर आ सकती है?

3 4 343  
6 8 2744  
9 ? 1331

- Ans
- 1. 11
  - 2. 12
  - 3. 2
  - 4. 8

Question ID : 65497818358  
Chosen Option : 3

Q.22 दी गई आकृति में, वृत्त 'बच्चों' को दर्शाता है, त्रिभुज 'लड़कियों' को दर्शाता है और आयत 'मनुष्यों' को दर्शाता है। कौन सा भाग उन मनुष्यों को दर्शाता है, जो लड़कियाँ हैं पर 'बच्चे' नहीं हैं?



- Ans
- 1. E
  - 2. B
  - 3. D
  - 4. C

Question ID : 65497818379  
Chosen Option : 1



Q.23 उस विकल्प का चयन करें जो दिए गए शब्दों का वह क्रम दर्शाता है जिस क्रम में वे अंग्रेजी शब्दकोश आते हैं?

1. Calibrate
2. California
3. Caliphate
4. Calicut
5. Caliber

Ans  1. 5, 1, 4, 2, 6, 3

2. 5, 1, 2, 4, 3, 6

3. 4, 1, 5, 6, 3, 2

4. 1, 5, 4, 2, 6, 3

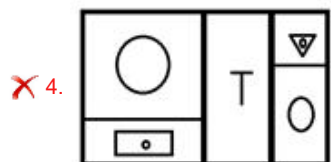
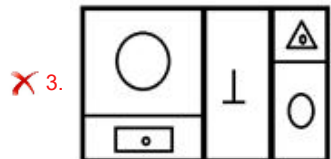
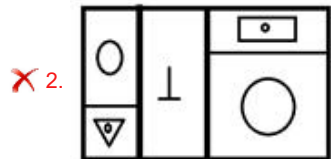
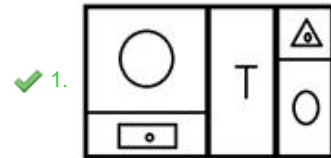
Question ID : 65497818373

Chosen Option : 1

Q.24 यदि दर्पण को दी गई आकृति के दाईं ओर रखा जाए, तो आकृति के दर्पण में निर्मित सही प्रतिबिंब का चयन कीजिए।



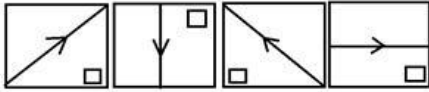
Ans



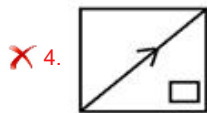
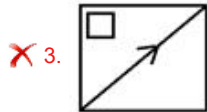
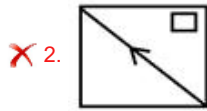
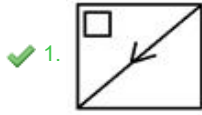
Question ID : 65497818377

Chosen Option : 1

Q.25 उस आकृति का चयन करें, जो निम्न आकृति श्रेणी में अगले स्थान पर आएगी।



Ans



Question ID : 65497818374

Chosen Option : 1

Section : Numerical Aptitude

Q.1 किसी बेलन की विज्या में 20% की वृद्धि होती है और उसकी ऊंचाई में 45% की कमी होती है। बेलन के आयतन में हुई प्रतिशत वृद्धि/कमी ज्ञात करें।

Ans

✓ 1. कमी, 20.8%

✗ 2. वृद्धि, 20.8%

✗ 3. वृद्धि, 25%

✗ 4. कमी, 25%

Question ID : 65497814765

Chosen Option : 1

Q.2 कोई वस्तु  $13\frac{1}{4}\%$  के लाभ पर बेची जाती है। यदि इस वस्तु को ₹76.70 अधिक में बेचा जाता है, तो प्राप्त लाभ  $16\frac{1}{5}\%$  होता है। वस्तु का क्रय मूल्य ज्ञात करें।

Ans

✗ 1. ₹2,500

✓ 2. ₹2,600

✗ 3. ₹3,600

✗ 4. ₹3,400

Question ID : 65497815359

Chosen Option : 2

