

Q.1 एक परिसर में M, N, O, P, Q, R और S नामक घर एक पंक्ति में हैं, लेकिन वे अनिवार्य रूप से इसी क्रम में नहीं हैं। P किसी भी छोर पर नहीं है। R, P के ठीक दाएं पड़ोस में है। S, बाएं से तीसरा है। O एकदम बाएं छोर पर है। M दाईं ओर से दूसरा है। O, N के पड़ोस में नहीं है। N की स्थिति क्या है?

- Ans
- 1. दाएं से तीसरा
 - 2. दाएं से चौथा
 - 3. दाएं छोर पर
 - 4. बाएं से दूसरा

Question ID : 65497817059
Chosen Option : 3

Q.2 यदि दर्पण को दी गई आकृति के दाईं ओर रखा जाए, तो आकृति के दर्पण में निर्मित सही प्रतिबिंब का चयन कीजिए।



Ans

- 1.
- 2.
- 3.
- 4.

Question ID : 65497817064
Chosen Option : 2

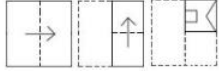
Q.3 अक्षरों के उस सही संयोजन का चयन करें, जिन्हें क्रमिक रूप से दी गई अक्षर श्रेणी में रिक्त स्थानों पर रखने पर श्रेणी पूर्ण हो जाएगी।

e _ _ c _ j f _ _ fce

- Ans
- 1. jfejce
 - 2. jcefje
 - 3. fecjej
 - 4. jfecej

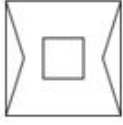
Question ID : 65497817055
Chosen Option : 4

Q.4 एक कागज को बिंदीदार रेखाओं पर मोड़ा जाता है, जैसा कि पहले दो आकृतियों में दिखाया गया है। और इसे तीसरी आकृति के अनुसार काटा जाता है। जब इसे खोला जाएगा, तो यह कैसा दिखेगा?



Ans

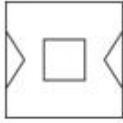
✗ 1.



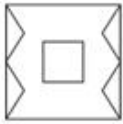
✓ 2.



✗ 3.



✗ 4.



Question ID : 65497817065

Chosen Option : 2

Q.5 दी गई संख्या श्रेणी को पूर्ण करें।

500, 450, 405, 365, _____

Ans ✗ 1. 320

✓ 2. 330

✗ 3. 350

✗ 4. 340

Question ID : 65497817046

Chosen Option : 2

Q.6 दो कथनों के बाद तीन निष्कर्ष दिए गए हैं। यह मानते हुए कि कथन सत्य हैं, भले ही वे सामान्य रूप से ज्ञात तथ्यों से भिन्न प्रतीत होते हों, बताएं कि कौन से निष्कर्ष दिए गए कथनों का तार्किक रूप से अनुसरण करते हैं?

कथन:

1. सभी पुस्तकें लाल हैं।
2. कोई कॉपी लाल नहीं है।

निष्कर्ष:

- I. कुछ पुस्तकें कॉपियां हैं।
- II. कोई पुस्तक कॉपी नहीं है।
- III. सभी कॉपियां पुस्तकें हैं।

Ans ✗ 1. निष्कर्ष II और III, दोनों अनुसरण करते हैं।

✓ 2. केवल निष्कर्ष II अनुसरण करता है।

✗ 3. निष्कर्ष I और II, दोनों अनुसरण करते हैं।

✗ 4. केवल निष्कर्ष I अनुसरण करता है।

Question ID : 65497817057

Chosen Option : 2

Q.7 उस विकल्प का चयन करें, जो तीसरे पद से ठीक उसी प्रकार संबंधित है, जिस प्रकार दूसरा पद पहले पद से संबंधित है।

NICE : OGFA :: COLD : _____

- Ans
- 1. FMIH
 - 2. FMOA
 - 3. DKIZ
 - 4. DMOZ

Question ID : 65497817052

Chosen Option : 4

Q.8 गणितीय चिह्नों के उस सही संयोजन का चयन करें, जिन्हें क्रमिक रूप से * चिह्नों के स्थान पर रखने पर समीकरण संतुलित हो जाएगा।

8 * 4 * 7 * 8 * 2 * 35

- Ans
- 1. +, -, ×, ÷, =
 - 2. ×, +, -, ÷, =
 - 3. -, ×, +, ÷, =
 - 4. ×, -, ÷, +, =

Question ID : 65497817043

Chosen Option : 2

Q.9 किसी निश्चित कूट भाषा में '274' का अर्थ 'God is great' है, '137' का अर्थ 'I worship God' है और '752' का अर्थ 'God is omnipotent' है। इसी भाषा में निम्न में से किस संख्या का अर्थ 'worship' होगा?

- Ans
- 1. 5
 - 2. 7
 - 3. 2
 - 4. 3

Question ID : 65497817051

Chosen Option : 4

Q.10 यदि किसी कूट भाषा में 'HOOK' को 'SLLP' लिखा जाता है, तो इसी कूट भाषा में 'HOPE' को क्या लिखा जाएगा?

- Ans
- 1. SZZL
 - 2. SZZT
 - 3. SLKV
 - 4. HLZT

Question ID : 65497817049

Chosen Option : 3



Q.11 उस विकल्प का चयन करें, जो तीसरे शब्द से ठीक उसी प्रकार संबंधित है, जिस प्रकार दूसरा शब्द पहले शब्द से संबंधित है।

धूप : अंधा :: शोर : _____

- Ans
- 1. मौन
 - 2. शांति
 - 3. गुंगा
 - 4. बहरा

Question ID : 65497817054
Chosen Option : 4

Q.12 किसी निश्चित कूट भाषा में '893' का अर्थ 'Shahid likes cakes' है, '137' का अर्थ 'cakes are delicious' है और '274' का अर्थ 'we are girls' है। इसी भाषा में निम्न में से किस संख्या का अर्थ 'delicious' होगा?

- Ans
- 1. 7
 - 2. 1
 - 3. 9
 - 4. 8

Question ID : 65497817050
Chosen Option : 2

Q.13 दो कथनों के बाद दो निष्कर्ष दिए गए हैं। यह मानते हुए कि कथन सत्य हैं, भले ही वे सामान्य रूप से ज्ञात तथ्यों से भिन्न प्रतीत होते हों, बताएं कि कौन से निष्कर्ष दिए गए कथनों का तार्किक रूप से अनुसरण करते हैं?

कथन:

1. सभी माताएं महिलाएं हैं।
2. कुछ महिलाएं डॉक्टर हैं।

निष्कर्ष:

- I. कोई माता डॉक्टर नहीं है।
- II. कुछ माताएं डॉक्टर हैं।

- Ans
- 1. या तो निष्कर्ष I या II अनुसरण करता है।
 - 2. केवल निष्कर्ष I अनुसरण करता है।
 - 3. निष्कर्ष I और II, दोनों अनुसरण करते हैं।
 - 4. केवल निष्कर्ष II अनुसरण करता है।

Question ID : 65497817056
Chosen Option : 1

Q.14 उस संख्या का चयन करें, जो दी गई संख्या श्रेणी से संबंधित नहीं है।

140, 91, 56, 30, 14, 5, 1

- Ans
- 1. 1
 - 2. 56
 - 3. 14
 - 4. 91

Question ID : 65497817047
Chosen Option : 2






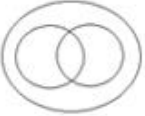
Q.15 उस विकल्प का चयन करें, जो तीसरे शब्द से ठीक उसी प्रकार संबंधित है, जिस प्रकार दूसरा शब्द पहले शब्द से संबंधित है।

साइकिल : पहिए :: पक्षी : _____

- Ans
- ✗ 1. नदी
 - ✗ 2. आकाश
 - ✗ 3. भूमि
 - ✓ 4. पंख

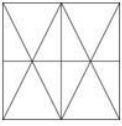
Question ID : 65497817053
Chosen Option : 4

Q.16 उस वेन-आरेख का चयन करें, जो बहुभुज, त्रिभुज और समचतुर्भुज के बीच संबंध को सही ढंग से निरूपित करता है।

- Ans
- ✗ 1. 
 - ✗ 2. 
 - ✓ 3. 
 - ✗ 4. 

Question ID : 65497817066
Chosen Option : 3

Q.17 उस आकृति का चयन करें, जो दी गई आकृति में अंतःस्थापित है (घुमाने की अनुमति नहीं है)।



Ans

✗ 1.



✓ 2.



✗ 3.



✗ 4.



Question ID : 65497817063

Chosen Option : 2

Q.18 दिए गए विकल्पों में से, संख्याओं के उस समुच्चय का चयन करें, जो दिए गए समुच्चय के समान है।

(437, 909, 279)

Ans ✗ 1. (189, 654, 501)

✗ 2. (218, 930, 550)

✓ 3. (516, 189, 628)

✗ 4. (718, 990, 546)

Question ID : 65497817045

Chosen Option : 3

Q.19 छः छात्र A, B, C, D, E और F उत्तर की ओर अभिमुख होकर खड़े हैं, लेकिन वे अनिवार्य रूप से इसी क्रम में नहीं खड़े हैं। A एक छोर पर खड़ा है और F उसके पड़ोस में है। B, E के एकदम दाएं पड़ोस में है। B, दाएं छोर से दूसरे स्थान पर है। C, F के पड़ोस में नहीं है। इनमें से कौन बाएं से तीसरे स्थान पर खड़ा है?

Ans ✓ 1. D

✗ 2. E

✗ 3. C

✗ 4. F

Question ID : 65497817058

Chosen Option : 1



Q.20 यदि किसी कूट भाषा में 'BEAM' को 'EKJY' लिखा जाता है, तो इसी कूट भाषा में 'HOLE' को क्या लिखा जाएगा?

- Ans
- 1. EUOK
 - 2. KUUB
 - 3. KROK
 - 4. KUUQ

Question ID : 65497817048

Chosen Option : 4

Q.21 उस विकल्प का चयन करें, जिसमें संख्या-युग्म की संख्याएं एक-दूसरे से ठीक उसी प्रकार संबंधित नहीं हैं, जिस प्रकार दिए गए युग्म की संख्याएं एक-दूसरे से संबंधित हैं।

9 : 734

- Ans
- 1. 6 : 221
 - 2. 8 : 517
 - 3. 4 : 71
 - 4. 7 : 348

Question ID : 65497817044

Chosen Option : 3

Q.22 निम्न को एक तार्किक और सार्थक क्रम में व्यवस्थित करें।

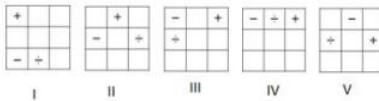
I. सिंचाई II. कृषि भूमि III. फसल कटाई IV. बीज

- Ans
- 1. IV, II, III, I
 - 2. III, II, IV, I
 - 3. II, IV, I, III
 - 4. I, II, IV, III

Question ID : 65497817060

Chosen Option : 3

Q.23 बताएं कि किस आकृति को निकाल दिया जाए, ताकि I से शुरू करके सभी आकृतियां एक पैटर्न में फिट हो सकें।



- Ans
- 1. II
 - 2. V
 - 3. IV
 - 4. III

Question ID : 65497817061

Chosen Option : 4



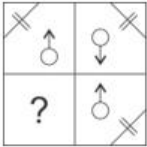
Q.24 उस विकल्प का चयन करें, जिसमें दिए गए चिह्नों को एक-दूसरे से प्रतिस्थापित करने पर दिया गया समीकरण संतुलित हो जाएगा।

$$11 + 4 - 3 \div 3 \times 7 = 8$$

- Ans
- 1. + और +
 - 2. \times और +
 - 3. - और \times
 - 4. + और \times

Question ID : 65497817042
Chosen Option : 3

Q.25 सही विकल्प का चयन करके, दिए गए पैटर्न के अनुपस्थित भाग को पूरा करें।



- Ans
- 1.
 - 2.
 - 3.
 - 4.

Question ID : 65497817062
Chosen Option : 2

Section : Numerical Aptitude

Q.1 $4\frac{2}{5} \div \left\{ \left(1\frac{1}{2} - 3\frac{1}{5} \right) \div 3\frac{2}{5} + \left(2\frac{1}{5} \div 1\frac{1}{2} + 4\frac{2}{5} \right) + \frac{1}{2} \right\}$ का मान ज्ञात करें।

- Ans
- 1. $\frac{4}{7}$
 - 2. $\frac{3}{7}$
 - 3. $\frac{3}{5}$
 - 4. $\frac{3}{4}$

Question ID : 65497815674
Chosen Option : 4