

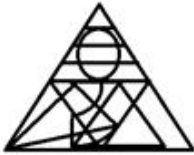
Section : General Intelligence and Reasoning

Q.1 उस विकल्प का चयन करें, जिसमें दी गई आकृति अन्तःस्थापित है। (घुमाने की अनुमति नहीं है)

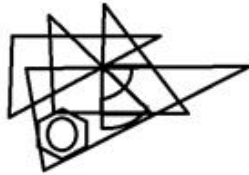


Ans

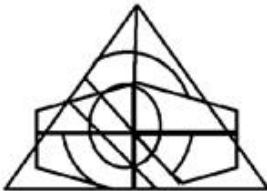
✗ 1.



✓ 2.



✗ 3.



✗ 4.



Question ID : 65497817265  
Chosen Option : 2

Q.2 उस विकल्प का चयन करें, जो तीसरे पद से ठीक उसी प्रकार संबंधित है, जिस प्रकार दूसरा पद पहले पद से संबंधित है।

PENCIL : QJOHNM :: ALBUM : ?

- Ans
- 1. EMDZS
  - 2. ENCYR
  - 3. FNBZS
  - 4. FMCZR

Question ID : 65497817254  
Chosen Option : 4

Q.3 उस संख्या का चयन करें, जो निम्न श्रेणी में प्रश्नवाचक चिह्न (?) के स्थान पर आएगी?

15, 30, 44, 57, 69, ?

- Ans
- 1. 80
  - 2. 91
  - 3. 85
  - 4. 78

Question ID : 65497817248  
Chosen Option : 1

Q.4 किसी निश्चित कूट भाषा में, JOHN को 60 और RANI को 72 लिखा जाता है। उसी कूट भाषा में YUVAAN को क्या लिखा जाएगा?

- Ans
- 1. 66
  - 2. 21
  - 3. 63
  - 4. 69

Question ID : 65497817253  
Chosen Option : 4

Q.5 उस सही विकल्प का चयन करें जो निम्न इकाइयों के तार्किक और सार्थक क्रम को निरूपित करता है।

1. बाइट
2. मेगाबाइट
3. टेराबाइट
4. गीगाबाइट
5. किलोबाइट

- Ans
- 1. 1, 5, 2, 4, 3
  - 2. 1, 5, 4, 2, 3
  - 3. 3, 1, 2, 4, 5
  - 4. 1, 5, 2, 3, 4

Question ID : 65497817262  
Chosen Option : 1

Q.6 किसी निश्चित कूट भाषा में, MALE को RGSM लिखा जाता है। उसी कूट भाषा में, SEAM को किस प्रकार लिखा जाएगा?

- Ans
- 1. LGMR
  - 2. TJGW
  - 3. XKHU
  - 4. WJGT

Question ID : 65497817250  
Chosen Option : 3

Q.7 दिए गए पैटर्न का ध्यानपूर्वक अध्ययन करें और उस संख्या का चयन करें, जो इसमें प्रश्नवाचक चिह्न (?) के स्थान पर आएगी?

5 7 12  
3 6 9  
12 ? 99

- Ans
- 1. 78
  - 2. 36
  - 3. 09
  - 4. 32

Question ID : 65497817247  
Chosen Option : 2

Q.8 छः कर्मचारी (A, B, C, D, E, F) आठ कुर्सियों वाले गोल मेज पर बैठे हैं। उनमें से दो एक दूसरे के ठीक सामने नहीं बैठे हैं। एक व्यक्ति के निकट कोई भी नहीं बैठा है। E, F के दाईं ओर तीसरे स्थान पर बैठा है। B ठीक A के सामने बैठा है। D ठीक E के सामने बैठा है, जो कि E के दाईं ओर दूसरे स्थान पर बैठा है। C ठीक A और E के बीच में बैठा है।

यदि बाँस प्रत्येक किनारे में खाली कुर्सी के निकट बैठा है, तो उनमें से बाँस कौन है?

- Ans
- 1. A
  - 2. B
  - 3. D
  - 4. F

Question ID : 65497817261  
Chosen Option : 2

Q.9 उस विकल्प का चयन करें, जो तीसरे पद से ठीक उसी प्रकार संबंधित है, जिस प्रकार दूसरा पद पहले पद से संबंधित है।

बोतल : कैप :: जार : ?

- Ans
- 1. मास्क
  - 2. प्लास्टिक
  - 3. ढक्कन
  - 4. शील्ड

Question ID : 65497817255  
Chosen Option : 3



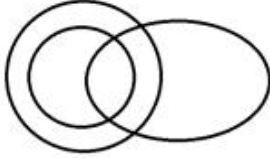
Q.10 उस वेन-आरेख का चयन करें, जो निम्न वर्गों के बीच संबंध को सर्वोत्तम ढंग से निरूपित करता है।  
चारकोल, काला रंग, क्लासरूम बोर्ड

Ans

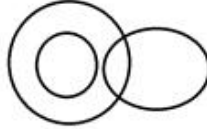
✗ 1.



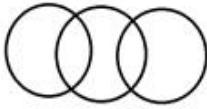
✗ 2.



✓ 3.



✗ 4.



Question ID : 65497817268

Chosen Option : 3

Q.11 तीन कथनों के बाद तीन निष्कर्ष I, II और III दिए गए हैं। यह मानते हुए कि कथनों में दी गई जानकारी सत्य है, भले ही ये सामान्य रूप से ज्ञात तथ्यों से भिन्न प्रतीत होती हों, निर्धारित करें कि कौन-सा/से निष्कर्ष कथनों का तार्किक रूप से अनुसरण करता है/करते हैं।

कथन:

1. कुछ पनीर, बटर हैं।
2. सभी तेल, बटर हैं।
3. कोई भी बटर, द्रव नहीं है।

निष्कर्ष:

- I. कोई भी तेल, द्रव नहीं है।
- II. कुछ बटर, पनीर हैं।
- III. सभी बटर, तेल हैं।

Ans ✗ 1. I, II और III सभी निष्कर्ष अनुसरण करते हैं।

✗ 2. कोई भी निष्कर्ष अनुसरण नहीं करता है।

✓ 3. निष्कर्ष I और II दोनों अनुसरण करते हैं।

✗ 4. निष्कर्ष II और III दोनों अनुसरण करते हैं।

Question ID : 65497817259

Chosen Option : 3

Q.12 यदि गणितीय चिह्नों को निम्नानुसार प्रतिस्थापित किया जाता है, तो उस विकल्प का चयन करें, जो सही समीकरण को निरूपित करता है।

× का अर्थ + है,  
- का अर्थ × है,  
+ का अर्थ ÷ है,  
÷ का अर्थ - है।

- Ans  1.  $18 \times 25 + 30 \div 7 \times 11 = 19$   
 2.  $18 + 25 - 30 \div 7 \times 11 = 30$   
 3.  $18 \div 25 + 30 - 7 \times 11 = 31$   
 4.  $18 + 25 - 30 \times 7 \div 11 = 14$

Question ID : 65497817245  
Chosen Option : --

Q.13 यदि गणितीय चिह्नों को निम्नानुसार प्रतिस्थापित किया जाता है, ÷ का अर्थ × है; × अर्थ - है; + का अर्थ ÷ है और - का अर्थ + है, तो उस विकल्प का चयन करें, जो दिए गए समीकरण के अंतिम मान को निरूपित करता है।

$$39 + 3 \div 4 - 1 \times 3$$

- Ans  1. 51  
 2. 50  
 3. 53  
 4. 46

Question ID : 65497817244  
Chosen Option : 2

Q.14 छः कर्मचारी (A, B, C, D, E, F) आठ कुर्सियों वाले गोल मेज पर बैठे हैं। उनमें से दो एक दूसरे के ठीक सामने नहीं बैठे हैं। एक व्यक्ति के निकट कोई भी नहीं बैठा है। E, F के दाईं ओर तीसरे स्थान पर बैठा है। B ठीक A के सामने बैठा है। D ठीक E के सामने बैठा है, जो कि E के दाईं ओर दूसरे स्थान पर बैठा है। C ठीक A और E के बीच में बैठा है।

C के सन्दर्भ में F की स्थिति ज्ञात करें।

- Ans  1. बाईं ओर पहले स्थान पर  
 2. दाईं ओर पहले स्थान पर  
 3. बाईं ओर दूसरे स्थान पर  
 4. दाईं ओर दूसरे स्थान पर

Question ID : 65497817260  
Chosen Option : 3

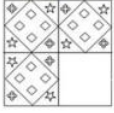
Q.15 किसी निश्चित कूट भाषा में, ANKLE को BBVXJ लिखा जाता है। उसी कूट भाषा में, THIGH को किस प्रकार लिखा जाएगा?

- Ans  1. MRPNP  
 2. NPRNP  
 3. NRPMP  
 4. NPRMP

Question ID : 65497817251  
Chosen Option : 2



Q.16 उस विकल्प आकृति का चयन करें, जिसको दी गई प्रश्न आकृति के रिक्त स्थान में रखने पर पैटर्न पूरा हो जाएगा।



Ans

✗ 1.



✓ 2.



✗ 3.



✗ 4.



Question ID : 65497817264

Chosen Option : 2

Q.17 दो कथनों के बाद दो निष्कर्ष I और II दिए गए हैं। यह मानते हुए कि कथनों में दी गई जानकारी सत्य है, भले ही ये सामान्य रूप से ज्ञात तथ्यों से भिन्न प्रतीत होती हों, निर्धारित करें कि कौन-सा/से निष्कर्ष कथनों का तार्किक रूप से अनुसरण करता है/करते हैं।

कथन:

1. कुछ संतरे, पीले हैं।
2. कुछ पीले, अंगूर हैं।

निष्कर्ष:

- I. कुछ संतरे, अंगूर हैं।
- II. सभी अंगूर, पीले हैं।

Ans

✗ 1. केवल निष्कर्ष I अनुसरण करता है।

✗ 2. केवल निष्कर्ष II अनुसरण करता है।

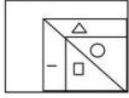
✗ 3. निष्कर्ष I और II दोनों अनुसरण करते हैं।

✓ 4. न तो निष्कर्ष I और न ही II अनुसरण करता है।

Question ID : 65497817258

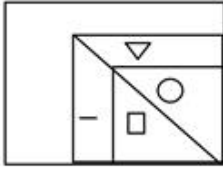
Chosen Option : 4

Q.18 यदि दर्पण को दी गई आकृति के दाईं ओर रखा जाए, तो आकृति के दर्पण में निर्मित सही प्रतिबिंब का चयन कीजिए।

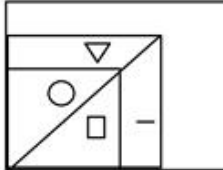


Ans

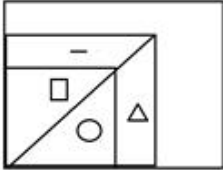
✗ 1.



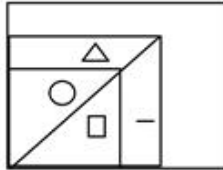
✗ 2.



✗ 3.



✓ 4.



Question ID : 65497817266  
Chosen Option : 4

Q.19 लोकेश सरीसृप और उभयचरों के अध्ययन का विशेषज्ञ है। लोकेश, \_\_\_\_\_ है।

- Ans
- ✓ 1. हर्पेटोलॉजिस्ट (herpetologist)
  - ✗ 2. ओर्नीथोलॉजिस्ट (ornithologist)
  - ✗ 3. एन्टोमोलॉजिस्ट (entomologist)
  - ✗ 4. डर्मटोलॉजिस्ट (dermatologist)

Question ID : 65497817256  
Chosen Option : 1

Q.20 चार अक्षर-समूह दिए गए हैं, जिनमें से तीन किसी प्रकार समान हैं, जबकि एक असंगत है। उस असंगत अक्षर-समूह का चयन करें।

- Ans
- ✗ 1. CGI
  - ✗ 2. LPR
  - ✗ 3. DHJ
  - ✓ 4. INP

Question ID : 65497817257  
Chosen Option : 4

Q.21 उस संख्या का चयन करें, जो निम्न श्रेणी में प्रश्नवाचक चिह्न (?) के स्थान पर आएगी?

11 , 23, ? ,95, 191

- Ans  1. 39  
 2. 51  
 3. 33  
 4. 47

Question ID : 65497817249  
Chosen Option : 4

Q.22 किसी निश्चित कूट भाषा में, ADDRESS का कोड 25 है और BOLT का कोड 13 है। उसी कूट भाषा में, CASTE का क्या कोड होगा?

- Ans  1. 28  
 2. 19  
 3. 14  
 4. 23

Question ID : 65497817252  
Chosen Option : 3

Q.23 उस विकल्प का चयन करें, जो तीसरी संख्या से ठीक उसी प्रकार संबंधित है, जिस प्रकार दूसरी संख्या पहली संख्या से संबंधित है।

125 : 343 :: 1331 : ?

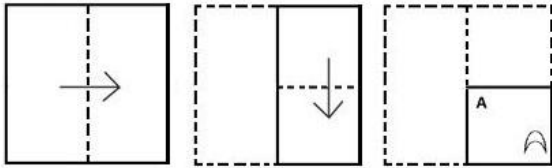
- Ans  1. 729  
 2. 3375  
 3. 1728  
 4. 2197

Question ID : 65497817246  
Chosen Option : 4

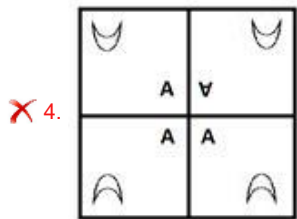
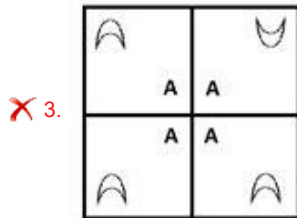
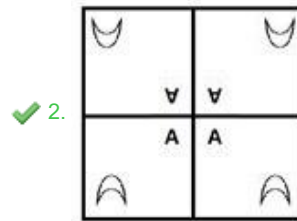
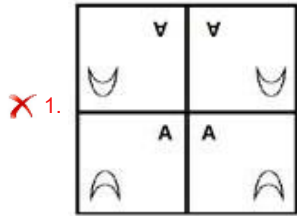




Q.24 किसी कागज़ को निम्नानुसार मोड़ा और काटा जाता है। खोलने पर यह कैसा दिखेगा?

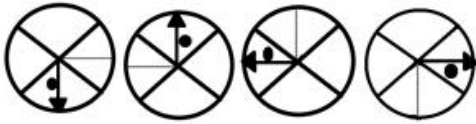


Ans



Question ID : 65497817267  
Chosen Option : 2

Q.25 उस आकृति का चयन करें, जो निम्न श्रेणी में अगले स्थान पर आएगी।



Ans

✓ 1.



✗ 2.



✗ 3.



✗ 4.



Question ID : 65497817263  
Chosen Option : 1