

Q.1 यदि किसी कूट भाषा में 'ROSE' को 'ILHV' लिखा जाता है, तो इसी कूट भाषा में 'HAND' को क्या लिखा जाएगा?

- Ans 1. SZWM
 2. SZMW
 3. XQCW
 4. QXWC

Question ID : 65497816847

Chosen Option : 2

Q.2 तीन कथन और उसके बाद दो निष्कर्ष दिए गए हैं। यह मानते हुए कि कथन सत्य हैं, भले ही वे सामान्य रूप से ज्ञात तथ्यों से भिन्न प्रतीत होते हों, बताएं कि कौन से निष्कर्ष दिए गए कथनों का तार्किक रूप से अनुसरण करते हैं?

कथन:

1. कुछ भारतीय डॉक्टर हैं।
2. सभी पुरुष भारतीय हैं।
3. सभी इंजिनियर पुरुष हैं।

निष्कर्ष:

- I. कुछ पुरुष डॉक्टर हैं।
- II. सभी इंजिनियर भारतीय हैं।

- Ans 1. निष्कर्ष I और II, दोनों अनुसरण करते हैं।
 2. केवल निष्कर्ष I अनुसरण करता है।
 3. न तो निष्कर्ष I और न ही II अनुसरण करता है।
 4. केवल निष्कर्ष II अनुसरण करता है।

Question ID : 65497816854

Chosen Option : 4

Q.3 निम्न को एक तार्किक और सार्थक क्रम में व्यवस्थित करें।

- I. पुलिस अधीक्षक (SP)
- II. थाना प्रभारी (SHO)
- III. महानिरीक्षक (IG)
- IV. पुलिस उपाधीक्षक (DSP)

- Ans 1. II, IV, I, III
 2. IV, III, II, I
 3. II, III, I, IV
 4. III, IV, II, I

Question ID : 65497816858

Chosen Option : 1

Q.4 उस संख्या का चयन करें, जो दी गई संख्या श्रेणी में प्रश्नवाचक चिह्न (?) के स्थान पर आएगी?

24, 60, 120, 210, 336, ?

- Ans 1. 504
 2. 390
 3. 490
 4. 428

Question ID : 65497816844

Chosen Option : 1



Q.5 दिए गए समीकरण को संतुलित करने के लिए, इनमें से किन दो चिह्नों को एक-दूसरे से प्रतिस्थापित करना होगा?

$$7 \div 2 \times 5 - 4 + 2 = 15$$

- Ans
- 1. \div और +
 - 2. \times और \div
 - 3. + और -
 - 4. - और \div

Question ID : 65497816840

Chosen Option : 1


Q.6 किसी निश्चित कूट भाषा में '137' का अर्थ 'who are you' है, '274' का अर्थ 'we are girls' है और '893' का अर्थ 'you have toys' है। इसी भाषा में निम्न में से किस संख्या का अर्थ 'girls' होगा?

- Ans
- 1. 8
 - 2. 3
 - 3. 4
 - 4. 7

Question ID : 65497816849

Chosen Option : 3

Q.7 सही विकल्प का चयन करके, पैटर्न के अनुपस्थित भाग को पूरा करें।



Ans

- 1.
- 2.
- 3.
- 4.

Question ID : 65497816860

Chosen Option : 2

Q.8 उस विकल्प का चयन करें, जो तीसरे शब्द से ठीक उसी प्रकार संबंधित है, जिस प्रकार दूसरा शब्द पहले शब्द से संबंधित है।

डेसीबल : ध्वनि :: एम्पियर : ?

- Ans
- 1. दबाव
 - 2. आयतन
 - 3. विद्युत धारा
 - 4. तापमान

Question ID : 65497816852
Chosen Option : 3

Q.9 यदि दर्पण को दी गई आकृति के दाईं ओर रखा जाए, तो आकृति के दर्पण में निर्मित सही प्रतिबिंब का चयन कीजिए।



Ans

- 1.
- 2.
- 3.
- 4.

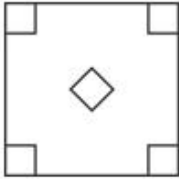
Question ID : 65497816862
Chosen Option : 3

Q.10 एक कागज को बिंदीदार रेखाओं पर मोड़ा जाता है, जैसा कि पहली दो आकृतियों में दिखाया गया है। और इसे तीसरी आकृति के अनुसार काटा जाता है। जब इसे खोला जाएगा, तो यह कैसा दिखेगा?

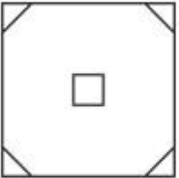


Ans

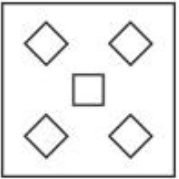
✓ 1.



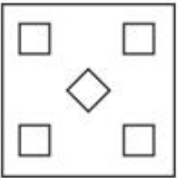
✗ 2.



✗ 3.



✗ 4.



Question ID : 65497816863
Chosen Option : 1

Q.11 उस विकल्प आकृति का चयन करें, जो दी गई आकृति में अंतःस्थापित नहीं है (घुमाने की अनुमति नहीं है)।



Ans

✓ 1.



✗ 2.



✗ 3.



✗ 4.



Question ID : 65497816861
Chosen Option : 1

Q.12 अक्षरों के उस सही संयोजन का चयन करें, जिन्हें क्रमिक रूप से दी गई अक्षर श्रेणी में रिक्त स्थानों पर रखने पर श्रेणी पूर्ण हो जाएगी।

P _ _ N _ OM _ _ _ MNP

- Ans
- 1. MONPNP
 - 2. NPOMPO
 - 3. OMPNPO
 - 4. OPMNPO

Question ID : 65497816853

Chosen Option : 3

Q.13 गणितीय चिह्नों के उस सही संयोजन का चयन करें, जिन्हें क्रमिक रूप से * चिह्नों के स्थान पर रखने पर समीकरण संतुलित हो जाएगा।

3 * 6 * 2 * 8 * 4 * 5 * 36

- Ans
- 1. +, x, -, x, +, =
 - 2. x, +, +, x, -, =
 - 3. -, x, +, +, x, =
 - 4. +, x, +, x, -, =

Question ID : 65497816841

Chosen Option : 2

Q.14 उस विकल्प का चयन करें, जो तीसरे अक्षर-समूह से ठीक उसी प्रकार संबंधित है, जिस प्रकार दूसरा अक्षर-समूह पहले अक्षर-समूह से संबंधित है।

STRAW : HGIZD :: NORTH : ?

- Ans
- 1. MLIGS
 - 2. CBISD
 - 3. CBISL
 - 4. MLGSI

Question ID : 65497816850

Chosen Option : 1

Q.15 एक परिसर में M, N, O, P, Q, R और S नामक सात घर एक पंक्ति में बने हैं, लेकिन जरूरी नहीं कि वे इसी क्रम में हों। P किसी भी छोर पर नहीं है। R, P के ठीक दाएं पड़ोस में है। S, बायें से तीसरा है। O एकदम बाएं छोर पर है। M दाईं ओर से दूसरा है। O, N के पड़ोस में नहीं है। P कहां स्थित है?

- Ans
- 1. बाईं ओर से दूसरा
 - 2. बाएं से तीसरा
 - 3. S के पड़ोस में
 - 4. दाएं छोर पर

Question ID : 65497816857

Chosen Option : 3



Q.16 उस विकल्प का चयन करें, जो तीसरे शब्द से ठीक उसी प्रकार संबंधित है, जिस प्रकार दूसरा शब्द पहले शब्द से संबंधित है।

क्रिकेट : ग्यारह :: वॉलीबॉल : ?

- Ans
- 1. नौ
 - 2. सात
 - 3. आठ
 - 4. छह

Question ID : 65497816851
Chosen Option : 1

Q.17 यदि किसी कूट भाषा में 'SOLO' को 'TMOK' लिखा जाता है, तो इसी कूट भाषा में 'ROSE' को क्या लिखा जाएगा?

- Ans
- 1. SMTF
 - 2. SKTA
 - 3. SKTF
 - 4. SMVA

Question ID : 65497816846
Chosen Option : 4

Q.18 छः छात्र A, B, C, D, E और F उत्तर की ओर अभिमुख होकर खड़े हैं, लेकिन जरूरी नहीं कि वे इसी क्रम में खड़े हों। A एक छोर पर खड़ा है और F उसके पड़ोस में है। B, E के एकदम दाएं पड़ोस में है। B, दाएं छोर से दूसरे स्थान पर है। C, F के पड़ोस में नहीं है। बाएं छोर पर कौन खड़ा है?

- Ans
- 1. A
 - 2. F
 - 3. E
 - 4. C

Question ID : 65497816856
Chosen Option : 1

Q.19 किसी निश्चित कूट भाषा में '137' का अर्थ 'Mary went Jammu' है, '274' का अर्थ 'I like Mary' और '893' का अर्थ 'you went Goa' है। इसी भाषा में निम्न में से किस संख्या का अर्थ 'Jammu' होगा?

- Ans
- 1. 2
 - 2. 8
 - 3. 9
 - 4. 1

Question ID : 65497816848
Chosen Option : 4



Q.20 उस विकल्प का चयन करें, जिसमें संख्या-युग्म के मध्य वही संबंध है, जो दिए गए युग्म की संख्याओं के मध्य है।

115 : 163

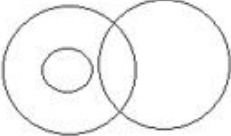
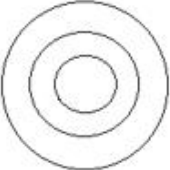
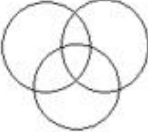
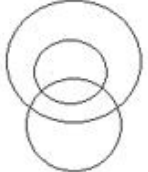
- Ans
- 1. 75 : 110
 - 2. 163 : 99
 - 3. 48 : 78
 - 4. 43 : 75

Question ID : 65497816842

Chosen Option : 4

Q.21 उस वेन-आरेख का चयन करें, जो महिलाओं, माताओं और नर्तकों के बीच संबंध को सर्वश्रेष्ठ ढंग से निरूपित करता है।

Ans

- 1. 
- 2. 
- 3. 
- 4. 

Question ID : 65497816864

Chosen Option : 4

Q.22 दिए गए विकल्पों में से, संख्याओं के उस समुच्चय का चयन करें, जो दिए गए समुच्चय के समान नहीं है।

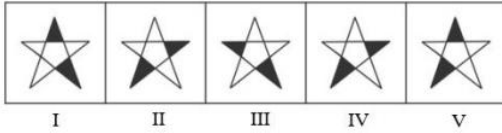
(15, 112, 13)

- Ans
- 1. (11, 76, 8)
 - 2. (17, 102, 9)
 - 3. (13, 96, 11)
 - 4. (12, 72, 6)

Question ID : 65497816843

Chosen Option : 1

Q.23 बताएं कि किस आकृति को निकाल दिया जाए, ताकि I से शुरू करके सभी आकृतियां एक पैटर्न में फिट हो सकें।



- Ans
- 1. III
 - 2. II
 - 3. V
 - 4. IV

Question ID : 65497816859

Chosen Option : 4

Q.24 तीन कथनों के बाद तीन निष्कर्ष दिए गए हैं। यह मानते हुए कि कथन सत्य हैं, भले ही वे सामान्य रूप से ज्ञात तथ्यों से भिन्न प्रतीत होते हों, बताएं कि कौन से निष्कर्ष दिए गए कथनों का तार्किक रूप से अनुसरण करते हैं?

कथन:

1. सभी लड़कियां नर्तक हैं।
2. कुछ नर्तक लड़के हैं।
3. कोई लड़का खिलाड़ी नहीं है।

निष्कर्ष:

- I. कुछ नर्तक लड़कियां हैं।
- II. कुछ खिलाड़ी लड़के हैं।
- III. कुछ नर्तक खिलाड़ी हैं।

- Ans
- 1. निष्कर्ष II और III, दोनों अनुसरण करते हैं।
 - 2. केवल निष्कर्ष I अनुसरण करता है।
 - 3. केवल निष्कर्ष III अनुसरण करता है।
 - 4. निष्कर्ष I और II, दोनों अनुसरण करते हैं।

Question ID : 65497816855

Chosen Option : 2

Q.25 उस संख्या का चयन करें, जो दी गई संख्या-श्रेणी में प्रश्नवाचक चिह्न (?) के स्थान पर आएगी?

5, 9, 16, 29, ?, 103

- Ans
- 1. 78
 - 2. 54
 - 3. 92
 - 4. 86

Question ID : 65497816845

Chosen Option : 2

Section : Numerical Aptitude