

Comprehension:

In the following passage, some words have been deleted. Fill in the blanks with the help of the alternatives given. Select the most appropriate option for each blank.

According to a news report, a former captain of the Indian wheelchair cricket team has now been forced to (1)_____ as a labourer to support his family. In the context of the Covid-19 pandemic and lockdown, the children he used to (2)_____ earlier have stopped coming to him for a few months. Their parents said there was no money to pay for their (3)_____. Before the lockdown, he was giving coaching to wheelchair-bound children who were (4)_____ in playing cricket. The coach has now returned to his village where his old parents live. He said to the reporter who interviewed him, "These are difficult times, but I know I will be able to (5)_____ them," with a smile on his face.

SubQuestion No : 25

Q.25 Select the most appropriate option to fill in blank no. 5.

- Ans**
- 1. excel
 - 2. lose
 - 3. win
 - 4. overcome

Question ID : **65497817733**
Chosen Option : 4

Section : **General Intelligence and Reasoning**

Q.1 उस विकल्प का चयन कीजिए जिसका तीसरे शब्द से वही संबंध है, जो दूसरे शब्द का पहले शब्द से है।

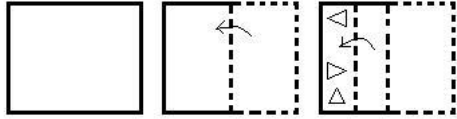
मोतियाबिंद : आंख :: एक्जिमा : ?

- Ans**
- 1. एलर्जी
 - 2. खुजली
 - 3. जोड़
 - 4. त्वचा

Question ID : **65497815236**
Chosen Option : --

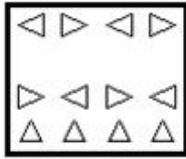


Q.2 एक कागज को निम्नानुसार मोड़ा और काटा गया है। इसे खोलने पर यह कैसा दिखेगा?

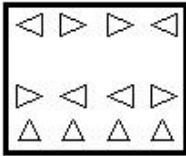


Ans

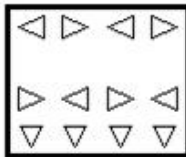
✓ 1.



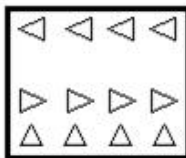
✗ 2.



✗ 3.



✗ 4.



Question ID : 65497815247
Chosen Option : 1

Q.3 उस विकल्प आकृति का चयन कीजिए जो निम्नांकित आकृति श्रृंखला में प्रश्नवाचक चिह्न (?) के स्थान पर आएगी और पैटर्न को पूरा करेगी।



Ans

✓ 1.



✗ 2.



✗ 3.



✗ 4.



Question ID : 65497815244

Chosen Option : 1

Q.4 छः विद्यार्थी एक मेज के परितः उसके केंद्र की ओर अभिमुख होकर बैठे हैं। इकबाल और अमन के बीच में पुनीत बैठा है। जोया, इकबाल के दाएं दूसरे स्थान पर बैठी है। प्रतीक्षा, अमन के बाएं तीसरे स्थान पर बैठी है। जोया और अमन के बीच में अनामिका बैठी है। पुनीत और अनामिका के बीच में कौन बैठा है?

Ans ✗ 1. प्रतीक्षा

✓ 2. अमन

✗ 3. इकबाल

✗ 4. जोया

Question ID : 65497815240

Chosen Option : 2

Q.5 एक निश्चित कूट भाषा में, यदि 'FORCE' को '641832' और 'MIST' को '1331920' लिखा जाता है, तो उसी कूट भाषा में, 'URANUS' को क्या लिखा जाएगा?

- Ans
- 1. 618114618
 - 2. 218132119
 - 3. 518113519
 - 4. 518114519

Question ID : 65497815233

Chosen Option : 4

Q.6 दो कथन और उसके बाद 3 निष्कर्ष I, II और III दिए गए हैं। यह मानते हुए कि कथन सत्य हैं, भले ही वे सामान्य रूप से ज्ञात तथ्यों से भिन्न प्रतीत होते हों, बताएं कि कौन से निष्कर्ष दिए गए कथनों का तार्किक रूप से अनुसरण करते हैं?

कथन:

सभी दुकानें पार्क हैं।
कुछ दुकानें स्कूल हैं।

निष्कर्ष:

- I. कुछ पार्क स्कूल हैं।
- II. कोई स्कूल पार्क नहीं है।
- III. कुछ पार्क दुकानें हैं।

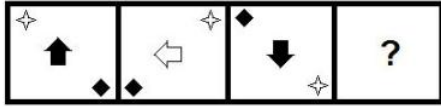
- Ans
- 1. केवल निष्कर्ष I और III अनुसरण करते हैं
 - 2. केवल निष्कर्ष II और III अनुसरण करते हैं
 - 3. सभी निष्कर्ष अनुसरण करते हैं
 - 4. केवल निष्कर्ष I और II अनुसरण करते हैं

Question ID : 65497815239

Chosen Option : 1

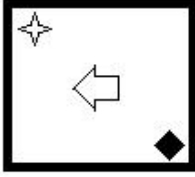


Q.7 उस आकृति का चयन कीजिए जो निम्नांकित आकृति श्रृंखला में प्रश्नवाचक चिह्न (?) के स्थान पर आएगी।

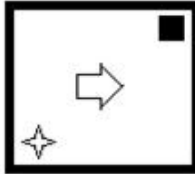


Ans


✗ 1.



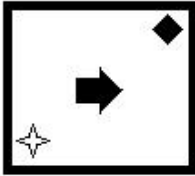
✗ 2.



✓ 3.



✗ 4.



Question ID : 65497815243

Chosen Option : 3

Q.8 दिए गए पैटर्न का ध्यानपूर्वक अध्ययन कीजिए और उस संख्या का चयन कीजिए जो इसमें प्रश्नवाचक चिह्न (?) के स्थान पर आ सकती है।

15 14 220

20 18 290

11 40 ?

Ans ✓ 1. 310

✗ 2. 340

✗ 3. 320

✗ 4. 390

Question ID : 65497815227

Chosen Option : 1

Q.9 निम्न श्रेणी में प्रश्नवाचक चिह्न (?) के स्थान पर कौन सी संख्या आएगी?

42, 41, 45, 36, 52, 27, ?

- Ans
- 1. 49
 - 2. 81
 - 3. 91
 - 4. 63

Question ID : 65497815229
Chosen Option : 4

Q.10 यदि A 'जोड़', B 'गुणा', C 'घटाना', और D 'भाग' को निर्दिष्ट करता है, तो निम्न व्यंजक का मान कितना होगा?

14 B (18 D 3) A 5 B 7 C 12 B (24 D 4)

- Ans
- 1. 41
 - 2. 53
 - 3. 77
 - 4. 47

Question ID : 65497815224
Chosen Option : 4

Q.11 छः मित्र K, L, M, N, O और P दो पंक्तियों में बैठे हैं; दोनों पंक्तियां उत्तर दिशा की ओर अभिमुख हैं। पहली पंक्ति में चार मित्र हैं, जबकि दूसरी पंक्ति में दो मित्र हैं। O और P के मध्य में L बैठा है। M ठीक O के पीछे बैठा है। N ठीक L के पीछे बैठा है। किनारों पर बैठे हुए K और P के पीछे कोई नहीं बैठा है। इनमें से कौन-कौन पहली पंक्ति में बैठे हैं?

- Ans
- 1. M, N, L और P
 - 2. K, L, P और M
 - 3. K, L, O और P
 - 4. P, L, N और K

Question ID : 65497815241
Chosen Option : 3

Q.12 एक निश्चित कूट भाषा में, यदि 'FUTILE' को 'UFITEL' लिखा जाता है, तो उसी कूट भाषा में 'OCTAVE' को क्या लिखा जाएगा?

- Ans
- 1. COATEV
 - 2. PDUBWF
 - 3. LXGRWG
 - 4. COTAEV

Question ID : 65497815230
Chosen Option : 1



Q.13 यदि दर्पण को चित्रानुसार MN पर रखा जाए, तो दी गई आकृति के दर्पण में निर्मित सही प्रतिबिंब का चयन कीजिए।



Ans

✗ 1.



✗ 2.



✓ 3.



✗ 4.



Question ID : 65497815246

Chosen Option : 3

Q.14 निम्न श्रेणी में प्रश्नवाचक चिह्न (?) के स्थान पर कौन सी संख्या आएगी?

15, 15, 17, 51, 55, ?

Ans ✓ 1. 275

✗ 2. 165

✗ 3. 255

✗ 4. 110

Question ID : 65497815228

Chosen Option : 1

Q.15 उस विकल्प का चयन कीजिए जिसका तीसरी संख्या से वही संबंध है, जो दूसरी संख्या का पहली संख्या से है।

9 : 90 :: 15 : ?

Ans ✗ 1. 95

✗ 2. 120

✓ 3. 240

✗ 4. 135

Question ID : 65497815226

Chosen Option : 3

Q.16 उस विकल्प का चयन कीजिए जिसमें दी गई आकृति (X) इसके भाग के रूप में अंतर्निहित है (घुमाने की अनुमति नहीं है)।



Ans

✗ 1.



✓ 2.



✗ 3.



✗ 4.



Question ID : 65497815245

Chosen Option : 2

Q.17 एक निश्चित कूट भाषा में, यदि 'CRECH' को 'DTHGM' लिखा जाता है, तो उसी कूट भाषा में 'FETCH' को क्या लिखा जाएगा?

Ans ✗ 1. GHVHM

✓ 2. GGWGM

✗ 3. GGWHN

✗ 4. GHXGM

Question ID : 65497815231

Chosen Option : 2

Q.18 उस विकल्प का चयन कीजिए जिसका तीसरे अक्षर-समूह से वही संबंध है, जो दूसरे अक्षर-समूह का पहले अक्षर-समूह से है।

TEMPO : TPOME :: DOLPHIN : ?

Ans ✓ 1. PONLIHD

✗ 2. ROMLIKD

✗ 3. PNOILHD

✗ 4. EPMQIJO

Question ID : 65497815234

Chosen Option : 1

Q.19 निम्न समीकरण को संतुलित करने के लिए किन दो संख्याओं को परस्पर बदला जाना चाहिए?

$$14 + 32 - 56 \div 28 \times 5 = 40$$

- Ans
- 1. 14 और 32
 - 2. 5 और 14
 - 3. 28 और 32
 - 4. 28 और 14

Question ID : 65497815225
Chosen Option : 4

Q.20 उस विकल्प का चयन कीजिए जिसका तीसरे शब्द से वही संबंध है, जो दूसरे शब्द का पहले शब्द से है।

ईधन : डीजल :: बर्तन : ?

- Ans
- 1. लोहा
 - 2. रसोई
 - 3. स्टील
 - 4. चम्मच

Question ID : 65497815235
Chosen Option : 4

Q.21 दो कथन और उसके बाद दो निष्कर्ष। और II दिए गए हैं। यह मानते हुए कि कथन सत्य हैं, भले ही वे सामान्य रूप से ज्ञात तथ्यों से भिन्न प्रतीत होते हों, बताएं कि कौन सा/से निष्कर्ष दिए गए कथनों का तार्किक रूप से अनुसरण करता है / करते हैं?

कथन:

कुछ डायरी पुस्तकें हैं।
कुछ पुस्तकें रजिस्टर हैं।

निष्कर्ष:

कुछ रजिस्टर डायरी हैं।
सभी रजिस्टर डायरी हैं।

- Ans
- 1. निष्कर्ष I और II दोनों अनुसरण करते हैं
 - 2. न तो निष्कर्ष I और न ही II अनुसरण करता है
 - 3. केवल निष्कर्ष I अनुसरण करता है
 - 4. केवल निष्कर्ष II अनुसरण करता है

Question ID : 65497815238
Chosen Option : 2

Q.22 उस विकल्प का चयन कीजिए जो अक्षर-समूह की निम्न श्रृंखला में प्रश्नवाचक चिह्न (?) के स्थान पर आएगा।

LOK, JMI, HKG, FIE, ?

- Ans
- 1. DGC
 - 2. EGD
 - 3. DGD
 - 4. DHG

Question ID : 65497815237
Chosen Option : 1



Q.23 सात मित्रों A, B, C, D, E, F और G, में से B केवल चार अन्य मित्रों से लंबा है। C, D से लंबा है। A, F से लंबा है। E केवल एक व्यक्ति G से लंबा है, जिसकी लंबाई इन सब मित्रों में सबसे कम है। B, A से लंबा है। इन सब में सबसे लंबा कौन है?

Ans 1. B

2. A

3. C

4. E

Question ID : 65497815242

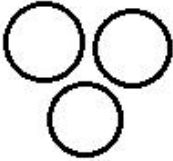
Chosen Option : 3

Q.24 Select the Venn diagram that best illustrates the relationship between the following classes.

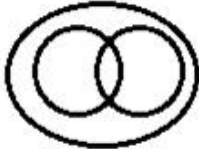
Animals, Lizards, Octopuses

Ans


1.



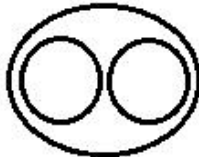
2.



3.



4.



Question ID : 65497815248

Chosen Option : 4

Q.25 एक निश्चित कूट भाषा में, यदि 'FRY' को '147' लिखा जाता है, तो उसी कूट भाषा में 'SEIZE' को क्या लिखा जाएगा?

Ans 1. 210

2. 254

3. 236

4. 320

Question ID : 65497815232

Chosen Option : 4

Section : Numerical Aptitude