

Q.1 उस विकल्प का चयन करें, जिसमें निम्न आकृति अन्तःस्थापित है। (घुमाने की अनुमति नहीं है)



Ans

✗ 1.



✗ 2.



✗ 3.



✓ 4.



Question ID : 65497814235

Chosen Option : 4

Q.2 रितिक, अपनी कक्षा में शीर्ष से छठे स्थान पर है, जबकि अक्षय नीचे से 18वें स्थान पर है। यदि उनकी स्थितियों को प्रतिस्थापित किया जाता है, तो अक्षय का स्थान नीचे से 15वां हो जाता है। कक्षा में छात्रों की संख्या कितनी है?

Ans ✓ 1. 20

✗ 2. 23

✗ 3. 21

✗ 4. 32

Question ID : 65497814230

Chosen Option : 1

Q.3 निम्न शब्दों के सार्थक क्रम विन्यास दर्शाने वाले सही विकल्प का चयन करें।

1. हृदय (Heart)
2. कूल्हा (Pelvis)
3. कॉर्निया (Cornea)
4. यकृत (Kidney)
5. कर्णपल्लव (Pinna)

Ans ✓ 1. 3 - 5 - 1 - 4 - 2

✗ 2. 2 - 1 - 4 - 3 - 5

✗ 3. 3 - 5 - 4 - 1 - 2

✗ 4. 5 - 3 - 1 - 4 - 2

Question ID : 65497814232

Chosen Option : 4

Q.4 कौन-सी संख्या निम्न संख्या-श्रेणी में प्रश्नवाचक चिह्न (?) के स्थान पर आएगी?

12, 24, 36, 46, 56, ?, 72

- Ans
- 1. 62
  - 2. 66
  - 3. 64
  - 4. 65

Question ID : 65497814218  
Chosen Option : 1

Q.5 इनमें से किन दो अंकों को एक-दूसरे से और किन दो चिह्नों को एक-दूसरे से प्रतिस्थापित करने से दिया गया समीकरण संतुलित हो सकता है?

$$46 \times 6 + 32 - 12 \div 8 = - 34$$

- Ans
- 1. 4 और 6; + और +
  - 2. 3 और 2; × और -
  - 3. 8 और 6; + और ×
  - 4. 6 और 2; + और ×

Question ID : 65497814215  
Chosen Option : 3

Q.6 दो कथनों के बाद दो निष्कर्ष I और II दिए गए हैं। कथनों को सत्य मानते हुए, भले ही ये सामान्य रूप से ज्ञात तथ्यों से भिन्न प्रतीत होते हों, निर्धारित करें कि कौन सा/से निष्कर्ष कथनों का तार्किक रूप से अनुसरण करता/करते है/हैं?

कथन:

कुछ किताबें, उपन्यास हैं।  
सभी उपन्यास, ग्रंथ हैं।

निष्कर्ष:

- I. सभी ग्रंथ, उपन्यास हैं।
- II. कुछ किताबें, ग्रंथ हैं।

- Ans
- 1. केवल निष्कर्ष II अनुसरण करता है।
  - 2. न तो निष्कर्ष I और न ही II अनुसरण करता है।
  - 3. निष्कर्ष I और II दोनों अनुसरण करते हैं।
  - 4. केवल निष्कर्ष I अनुसरण करता है।

Question ID : 65497814229  
Chosen Option : 1

Q.7 उस विकल्प का चयन करें, जो तीसरे अक्षर-समूह से ठीक उसी प्रकार संबंधित है, जिस प्रकार दूसरा अक्षर-समूह पहले अक्षर-समूह से संबंधित है।

GOVERN : VRONGE :: MOCKERY : \_\_\_\_\_.

- Ans
- 1. YROMKEC
  - 2. YROMEKC
  - 3. YREKCOM
  - 4. YRKECOM

Question ID : 65497814224  
Chosen Option : 1



Q.8 यदि दर्पण को आकृति के दाईं ओर रखा गया हो, तो दी गई आकृति के सही दर्पण प्रतिबिंब का चयन करें।

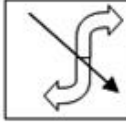


Ans

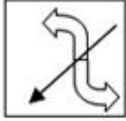
✗ 1.



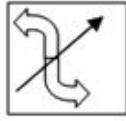
✗ 2.



✗ 3.



✓ 4.



Question ID : 65497814236

Chosen Option : 4

Q.9 यदि ÷ को + के साथ प्रतिस्थापित किया जाता है और × को - के साथ प्रतिस्थापित किया जाता है, तो निम्न में से कौन-सा समीकरण सही है?

Ans ✓ 1.  $24 \times 84 + 12 \div 16 - 7 = 129$

✗ 2.  $24 - 84 \div 12 \times 16 + 7 = 129$

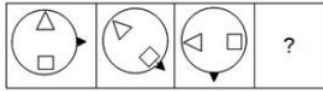
✗ 3.  $24 + 84 \div 12 - 16 \times 7 = 129$

✗ 4.  $24 - 84 \div 12 + 16 \times 7 = 129$

Question ID : 65497814214

Chosen Option : 1

Q.10 उस विकल्प आकृति का चयन करें, जो निम्न आकृति श्रेणी में प्रश्नवाचक चिह्न (?) के स्थान पर आएगी।

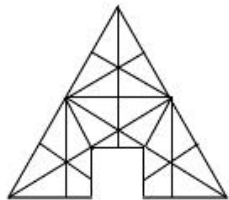


Ans

- ✗ 1.
- ✗ 2.
- ✗ 3.
- ✓ 4.

Question ID : 65497814233  
Chosen Option : 4

Q.11 उस विकल्प आकृति का चयन करें, जो दिए गए पैटर्न को पूरा करेगी।



Ans

- ✓ 1.
- ✗ 2.
- ✗ 3.
- ✗ 4.

Question ID : 65497814234  
Chosen Option : 1

Q.12 उस विकल्प का चयन करें, जिसमें संख्याएं एक-दूसरे से ठीक उसी प्रकार संबंधित हैं, जिस प्रकार दिए गए समुच्चय की संख्याएं एक-दूसरे से संबंधित हैं।

56 : 90 : 132

- Ans  1. 72 : 110 : 156  
 2. 88 : 102 : 120  
 3. 76 : 95 : 116  
 4. 89 : 110 : 131

Question ID : 65497814217  
 Chosen Option : 1

Q.13 किसी निश्चित कूट भाषा में, यदि SIBLING को YOHROTМ लिखा जाता है, तो उसी कूट भाषा में OFFICER को किस प्रकार लिखा जाएगा?

- Ans  1. VLLOIЈX  
 2. CIFFORE  
 3. UMМОIKX  
 4. ULLOIKX

Question ID : 65497814220  
 Chosen Option : 4

Q.14 यदि किसी निश्चित कूट भाषा में, DAYCARE को 54 और JOURNEY को 105 के रूप में कूटबद्ध किया जाता है, तो उसी कूट भाषा में FURTHER को किस रूप में कूटबद्ध किया जाएगा?

- Ans  1. 98  
 2. 99  
 3. 93  
 4. 96

Question ID : 65497814222  
 Chosen Option : 3

Q.15 उस विकल्प का चयन करें, जिसमें संख्या-युग्म की संख्याएं एक-दूसरे से ठीक उसी प्रकार संबंधित हैं, जिस प्रकार दिए गए संख्या-युग्म की संख्याएं एक-दूसरे से संबंधित हैं।

96 : 81

- Ans  1. 84 : 75  
 2. 104 : 96  
 3. 92 : 80  
 4. 72 : 63

Question ID : 65497814216  
 Chosen Option : 4



Q.16 कौन-सी संख्या निम्न संख्या-श्रेणी में प्रश्नवाचक चिह्न (?) के स्थान पर आएगी?

48, 32, 23, 19, ?

- Ans  1. 20  
 2. 19  
 3. 18  
 4. 17

Question ID : 65497814219  
 Chosen Option : 3

Q.17 यदि किसी निश्चित कूट भाषा में, CHARITY को 107 और DAYTIME को 89 के रूप में कूटबद्ध किया जाता है, तो उसी कूट भाषा में PENALIZE को किस रूप में कूटबद्ध किया जाएगा?

- Ans  1. 126  
 2. 130  
 3. 88  
 4. 90

Question ID : 65497814223  
 Chosen Option : --

Q.18 कौन-सा अक्षर-समूह, निम्न अक्षर-श्रेणी में प्रश्नवाचक चिह्न (?) के स्थान पर आएगा?

WAS, YCU, AEW, ?

- Ans  1. GKC  
 2. CGY  
 3. FJB  
 4. HLD

Question ID : 65497814227  
 Chosen Option : 2

Q.19 जिस प्रकार 'सिलाई', 'धागे' से संबंधित है, उसी प्रकार 'लेखन', '\_\_\_\_\_' से संबंधित है।

- Ans  1. कागज़  
 2. निब  
 3. स्याही  
 4. कलम

Question ID : 65497814225  
 Chosen Option : 3



Q.20 दो कथनों के बाद दो निष्कर्ष I और II दिए गए हैं। कथनों को सत्य मानते हुए, भले ही ये सामान्य रूप से ज्ञात तथ्यों से भिन्न प्रतीत होते हों, निर्धारित करें कि कौन सा/से निष्कर्ष कथनों का तार्किक रूप से अनुसरण करता/करते है/हैं?

कथन:

सभी कंप्यूटर, बॉक्स हैं।

सभी बॉक्स, प्रिंटर हैं।

निष्कर्ष:

I. सभी प्रिंटर, कंप्यूटर हैं।

II. सभी कंप्यूटर, प्रिंटर हैं।

Ans  1. न तो निष्कर्ष I और न ही II अनुसरण करता है।

2. केवल निष्कर्ष II अनुसरण करता है।

3. केवल निष्कर्ष I अनुसरण करता है।

4. निष्कर्ष I और II दोनों अनुसरण करते हैं।

Question ID : 65497814228

Chosen Option : 2

Q.21 उस वेन-आरेख का चयन करें, जो निम्न वर्गों के बीच के संबंध को सर्वोत्तम ढंग से निरूपित करता है।

पुरुष, टेनिस खिलाड़ी, महिलाएं

Ans

1. 

2. 

3. 

4. 

Question ID : 65497814238

Chosen Option : 2

Q.22 P, Q, R, S और T पांच व्यक्ति, पंचभुजीय मेज के चारों ओर केंद्र की ओर मुंह करके बैठे हैं। T, उस R के बाईं ओर पड़ोस में बैठा है, जो कि P के दाईं ओर दूसरे स्थान पर बैठा है। Q, उस S के बाईं ओर पड़ोस में बैठा है, जो कि P के बाईं ओर पड़ोस में बैठा है। P के दाईं ओर पड़ोस में कौन बैठा है?

Ans  1. T

2. R

3. Q

4. S

Question ID : 65497814231

Chosen Option : 1

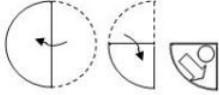
Q.23 किसी निश्चित कूट भाषा में, यदि MULTIPLE को EILLMPTU लिखा जाता है, तो उसी कूट भाषा में RAVENING को किस प्रकार लिखा जाएगा?

- Ans
- 1. AREVINGN
  - 2. AEIGNNVR
  - 3. EVARGNIN
  - 4. AEGINNRV

Question ID : 65497814221

Chosen Option : 4

Q.24 एक कागज़ को निम्न आकृतियों के अनुसार मोड़ा और काटा गया। यह कागज़ खोलने पर कैसा दिखेगा?



Ans

 1. 2. 3. 4.

Question ID : 65497814237

Chosen Option : 4

Q.25 उस विकल्प का चयन करें, जो तीसरे शब्द से ठीक उसी प्रकार संबंधित है, जिस प्रकार दूसरा शब्द पहले शब्द से संबंधित है।

महासागर : समुद्र :: प्रसन्नता : \_\_\_\_\_।

- Ans
- 1. हर्ष
  - 2. आशावान
  - 3. शांति
  - 4. समृद्धि

Question ID : 65497814226

Chosen Option : 1

Section : Numerical Aptitude



Download SSC CGL, CHSL E-BOOKS

CLICK HERE