

## Section : General Intelligence and Reasoning

Q.1 उस विकल्प का चयन करें जो निम्न शब्दों का वह क्रम दर्शाता है जिस क्रम में वे अंग्रेजी शब्दकोश में आते हैं।

1. Identify
2. Identifier
3. Identifiable
4. Identikit
5. Identity

- Ans
- 1. 5-4-3-2-1
  - 2. 2-1-3-5-4
  - 3. 3-2-1-4-5
  - 4. 2-3-1-4-5

Question ID : 65497814434  
Chosen Option : 3

Q.2 यदि दर्पण को आकृति के दाईं ओर रखा गया हो, तो दी गई आकृति के सही दर्पण प्रतिबिंब का चयन करें।

β&Q@£

- Ans
- 1. β&Q@£
  - 2. β&Q@£
  - 3. £@Q&β
  - 4. £@Q&β

Question ID : 65497814438  
Chosen Option : 3

Q.3 विकल्पों में से कौन-सा अक्षर-समूह निम्न अक्षर श्रेणी में प्रश्नवाचक चिह्न (?) के स्थान पर आएगा?

TQN, JGD, ZWT, ?

- Ans
- 1. PMJ
  - 2. QNK
  - 3. OLI
  - 4. QMK

Question ID : 65497814429  
Chosen Option : 1

Q.4 दो कथनों के बाद दो निष्कर्ष I और II दिए गए हैं। कथनों को सत्य मानते हुए, भले ही ये सामान्य रूप से ज्ञात तथ्यों से भिन्न प्रतीत होते हों, निर्धारित करें कि कौन सा/से निष्कर्ष कथनों का तार्किक रूप से अनुसरण करता/करते है/हैं।

कथन:  
कुछ गौरैया, चील हैं।  
सभी चील, कौवे हैं।

निष्कर्ष:  
I. सभी गौरैया, कौवे हैं।  
II. कुछ कौवे, गौरैया हैं।

- Ans
- 1. केवल निष्कर्ष I अनुसरण करता है।
  - 2. न तो निष्कर्ष I और न ही II अनुसरण करता है।
  - 3. केवल निष्कर्ष II अनुसरण करता है।
  - 4. निष्कर्ष I और II दोनों अनुसरण करते हैं।

Question ID : 65497814430  
Chosen Option : 3

Q.5 किसी निश्चित कूट भाषा में, यदि COMMITAL को ACILMMOT लिखा जाता है, तो उसी कूट भाषा में, INTEGRAL को किस प्रकार लिखा जाएगा?

- Ans
- 1. LARGETNI
  - 2. AEIGLNTR
  - 3. INETGRLA
  - 4. AEGILNRT

Question ID : 65497814422  
Chosen Option : 2

Q.6 उस संख्या त्रिक का चयन करें जो दिए गए त्रिकों के सदृश (analogous) है।

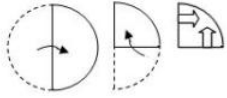
(7, 40, 9), (11, 108, 13)

- Ans
- 1. (8, 58, 6)
  - 2. (4, 12, 5)
  - 3. (9, 67, 10)
  - 4. (13, 123, 24)

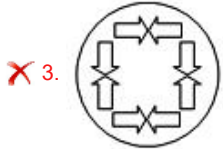
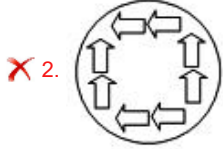
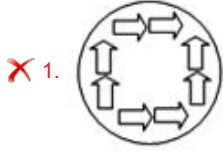
Question ID : 65497814419  
Chosen Option : 1



Q.7 एक कागज़ को निम्न आकृति के अनुसार मोड़ा और काटा गया है। यह कागज़ खोलने पर कैसा दिखेगा?



Ans



Question ID : 65497814439

Chosen Option : 4

Q.8 दो कथनों के बाद दो निष्कर्ष I और II दिए गए हैं। कथनों को सत्य मानते हुए, भले ही ये सामान्य रूप से ज्ञात तथ्यों से भिन्न प्रतीत होते हों, निर्धारित करें कि कौन सा/से निष्कर्ष कथनों का तार्किक रूप से अनुसरण करता/करते है/हैं।

कथन:

सभी टेलीविज़न, रेडियो हैं।

कुछ रेडियो, ट्रांजिस्टर हैं।

निष्कर्ष:

I. सभी रेडियो, टेलीविज़न हैं।

II. कुछ टेलीविज़न, ट्रांजिस्टर हैं।

Ans ✗ 1. निष्कर्ष I और II दोनों अनुसरण करते हैं।

✗ 2. केवल निष्कर्ष II अनुसरण करता है।

✓ 3. न तो निष्कर्ष I और न ही II अनुसरण करता है।

✗ 4. केवल निष्कर्ष I अनुसरण करता है।

Question ID : 65497814431

Chosen Option : 3

Q.9 गणितीय चिह्नों के उस सही क्रम का चयन करें, जिन्हें क्रमिक रूप से \* चिह्नों के स्थान पर रखने पर दिया गया समीकरण संतुलित हो जाएगा।

$$78 * 26 * 4 * 13 * 28 = 58$$

- Ans
- 1. - + + \*
  - 2. + \* + -
  - 3. + + \* +
  - 4. + + \* -

Question ID : 65497814417

Chosen Option : 2

Q.10 किसी टैक्सी में छः सीटें हैं, तीन आगे की पंक्ति में और तीन पीछे की पंक्ति में। जो लोग कार में पहले सवार होते हैं, वे पीछे की सीट पर जाते हैं और पहले आओ पहले पाओ के आधार पर सीट ग्रहण करते हैं। Y कार में सबसे पहले सवार होता है और U सबसे अंत में सवार होता है। Z कार में सवार होने वाला दूसरा अंतिम व्यक्ति है और V के सामने बैठा है। यदि W, V के बाईं ओर बैठा है, तो X का कार में सवार होने का क्रम बताइए।

- Ans
- 1. पांचवां
  - 2. चौथा
  - 3. दूसरा
  - 4. तीसरा

Question ID : 65497814433

Chosen Option : 2

Q.11 Five persons, A, B, C, D, and E are sitting on a bench all facing the park. D is second left of C but immediate right of B. If E is on the extreme left of the bench and sitting adjacent to B, what is the exact location of A?

- Ans
- 1. Left of C
  - 2. Left of D
  - 3. Right of C
  - 4. Right of E

Question ID : 65497814432

Chosen Option : 1

Q.12 किसी निश्चित कूट भाषा में, यदि POWERCUT को TRAHVFYW लिखा जाता है, तो उसी कूट भाषा में TRACKING को किस प्रकार लिखा जाएगा?

- Ans
- 1. RTCAIKGN
  - 2. XUEFOLRT
  - 3. XVEGOMRU
  - 4. WUDFNLQT

Question ID : 65497814423

Chosen Option : 2



Q.13 उस विकल्प का चयन करें, जो तीसरे अक्षर-समूह से ठीक उसी प्रकार संबंधित है, जिस प्रकार दूसरा अक्षर-समूह पहले अक्षर-समूह से संबंधित है।

LATITUDE : OZGRGFVW :: DUSTMITE : \_\_\_\_\_.

- Ans
- 1. VFGGMRFV
  - 2. WFHGNGRV
  - 3. WGHNSGW
  - 4. XGIHOSHW

Question ID : 65497814426  
Chosen Option : 2

Q.14 विकल्पों में से कौन-सी संख्या, निम्न संख्या श्रेणी में प्रश्नवाचक चिह्न (?) के स्थान पर आएगी?

8, 18, 26, 32, 36, ?

- Ans
- 1. 42
  - 2. 38
  - 3. 36
  - 4. 40

Question ID : 65497814420  
Chosen Option : 2

Q.15 उस विकल्प आकृति का चयन करें, जो निम्न आकृति-श्रेणी में प्रश्नवाचक चिह्न (?) के स्थान पर आएगी।



Ans

- 1.
- 2.
- 3.
- 4.

Question ID : 65497814435  
Chosen Option : 3

Q.16 इनमें से कौन-सी दो संख्याओं और कौन से दो चिह्नों को एक-दूसरे से प्रतिस्थापित करने से दिया गया समीकरण संतुलित हो जाएगा?

$$18 \times 7 \div 36 + 78 - 14 = 86$$

- Ans
- 1. 1 और 4;  $\times$  और  $+$
  - 2. 6 और 4;  $-$  और  $+$
  - 3. 4 और 3;  $+$  और  $-$
  - 4. 3 और 4;  $\times$  और  $+$

Question ID : 65497814416  
Chosen Option : 3

Q.17 यदि किसी निश्चित कूट भाषा में, TEACHER को 4235726 के रूप में और STRENGTH को 8462947 के रूप में कूटबद्ध किया जाता है, तो उसी कूट भाषा में ENTRENCH को किस रूप में कूटबद्ध किया जाएगा?

- Ans
- 1. 29462957
  - 2. 24922457
  - 3. 29642965
  - 4. 46294675

Question ID : 65497814424  
Chosen Option : 1

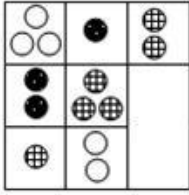
Q.18 यदि किसी निश्चित कूट भाषा में, NUISANCE को 134 के रूप में और ERASURE को 106 के रूप में कूटबद्ध किया जाता है, तो उसी कूट भाषा में PHILLIPS को किस रूप में कूटबद्ध किया जाएगा?

- Ans
- 1. 115
  - 2. 99
  - 3. 119
  - 4. 95

Question ID : 65497814425  
Chosen Option : --

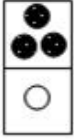


Q.19 उस विकल्प आकृति का चयन करें, जो निम्न पैटर्न को पूरा करेगी।




Ans

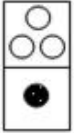
✗ 1.




✓ 2.



✗ 3.



✗ 4.



Question ID : 65497814436  
Chosen Option : 2

Q.20 उस वेन-आरेख का चयन करें, जो निम्न वर्गों के बीच संबंध को सर्वोत्तम ढंग से निरूपित करता है।

सेब, फल, गाजर

Ans

✓ 1.



✗ 2.



✗ 3.



✗ 4.



Question ID : 65497814440  
Chosen Option : 1

Q.21 जिस प्रकार 'सुई', 'तुरपन' से संबंधित है, उसी प्रकार 'कलम', ' \_\_\_\_\_ ' से संबंधित है।

- Ans
- 1. कागज़
  - 2. निब
  - 3. स्याही
  - 4. लेखन

Question ID : 65497814428  
Chosen Option : 4

Q.22 विकल्पों में से कौन-सी संख्या, निम्न संख्या श्रेणी में प्रश्नवाचक चिह्न (?) के स्थान पर आएगी?

26, 28, 24, 30, 22, ?

- Ans
- 1. 28
  - 2. 32
  - 3. 26
  - 4. 30

Question ID : 65497814421  
Chosen Option : 2

Q.23 उस विकल्प का चयन करें, जो तीसरे शब्द से ठीक उसी प्रकार संबंधित है, जिस प्रकार दूसरा शब्द पहले शब्द से संबंधित है।

मुर्गी : चूजा :: कुत्ता : \_\_\_\_\_.

- Ans
- 1. बछड़ा
  - 2. पिल्ला
  - 3. शिशु
  - 4. शावक

Question ID : 65497814427  
Chosen Option : 2

Q.24 उस विकल्प का चयन करें, जिसमें संख्या-युग्म की संख्याएं एक-दूसरे से ठीक उसी प्रकार संबंधित हैं, जिस प्रकार दिए गए संख्या-युग्म की संख्याएं एक-दूसरे से संबंधित हैं।

18 : 38

- Ans
- 1. 46 : 68
  - 2. 51 : 83
  - 3. 28 : 60
  - 4. 38 : 70

Question ID : 65497814418  
Chosen Option : 3



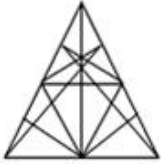


Q.25 उस विकल्प का चयन करें, जिसमें निम्न आकृति अन्तःस्थापित है। (घुमाने की अनुमति नहीं है)



Ans

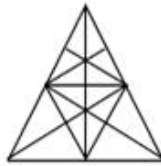
✗ 1.



✗ 2.



✓ 3.



✗ 4.

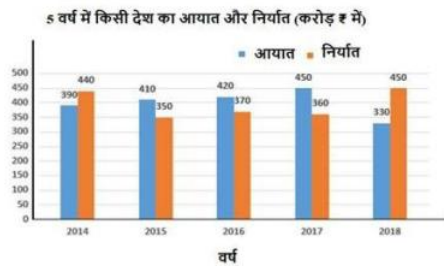


Question ID : 65497814437

Chosen Option : 3

Section : Numerical Aptitude

Q.1 दिए गए ग्राफ का अध्ययन करें और नीचे दिए गए प्रश्न का उत्तर दें।



2014, 2016 और 2018 में देश का कुल निर्यात, 2015 और 2017 में कुल आयात से कितने प्रतिशत अधिक है?  
(दशमलव के एक स्थान तक सही)

Ans ✗ 1. 44.2%

✗ 2. 32.4%

✗ 3. 30.6%

✓ 4. 46.5%

Question ID : 65497815172

Chosen Option : 4